



## در این شماره می‌خوانید:

۲	حرف اول / چند توصیه کلیدی	سردبیر
۳	مسئله چیست و چگونه می‌توان مسئله را حل کرد؟	محمد هاشم رستمی
۸	معادله‌های مثلثاتی	احمد قندهاری
۱۲	ترسیمات هندسی	غلامرضا یاسی پور
۱۶	سهمی	سید محمدرضا هاشمی موسوی
۲۱	وبگاه‌های ریاضی جهان	
۲۲	خیاط در کوزه	غلامرضا یاسی پور
۲۶	تابع	حمیدرضا امیری
۲۹	ریاضیات در سینمای جهان	احسان یارمحمدی
۳۰	کاربرد هندسه در فیزیک	هوشنگ شرقی
۳۳	آهنگ آبی و کمیت‌های وابسته	سیمین اکبری زاده
۳۸	بسته نرم‌افزاری متمتیکا	دکتر محمدعلی فریبرزوی عراقی
۴۳	رسم نمودار تابع $f(x) = \frac{ax+b}{cx+d}$	احسان یارمحمدی
۴۷	۲۹ روش برای حل معادله درجه دوم و کاربردهای آن‌ها	سیدمحمدرضا هاشمی موسوی
۵۲	مسائل برای حل	
۵۵	پاسخ مسائل برای حل	

♦ دوره بیست و یکم ♦ شماره ۲ ♦ زمستان ۱۳۹۰

♦ مدیر مسئول: محمدناصری

♦ سردبیر: حمیدرضا امیری

♦ مدیر داخلی: میرشهرام صدر

♦ طراح گرافیک: شاهرخ خره‌غانی

♦ هیئت تحریریه: حمیدرضا امیری، محمدهاشم رستمی، احمدقندهاری،

میرشهرام صدر، هوشنگ شرقی، سید محمدرضا هاشمی موسوی،

غلامرضا یاسی پور و با تشکر از همکاری ارزنده استاد پرویز شهریاری

♦ ویراستار ادبی: مرتضی حاج‌علی فرد

♦ وبگاه: [www.roshdmag.ir](http://www.roshdmag.ir)

♦ پیام‌نگار: [borhan@roshdmag.ir](mailto:borhan@roshdmag.ir)

♦ پیام‌گیر نشریات رشد: ۰۲۱ - ۸۸۳۰۱۴۸۲

♦ نشانی دفتر مجله: تهران، صندوق پستی ۱۵۸۷۵/۶۵۸۵

♦ تلفن دفتر مجله: ۰۲۱ - ۸۸۳۰۵۸۶۲

♦ تلفن امور مشترکین: ۰۲۱ - ۷۷۳۳۶۶۵۵ ۷۷۳۳۶۶۵۶

♦ شمارگان: ۱۱/۰۰۰ نسخه

♦ چاپ: شرکت افست (سهامی عام)

مجله رشد برهان متوسطه، از همه دبیران ریاضی و دانش آموزان عزیز، در زمینه‌های زیر به همکاری دعوت می‌کند:

- نگارش مقاله‌های کمک‌درسی (شرح و بسط و رفع مشکلات مباحث کتاب‌های ریاضی دوره متوسطه)
- طرح مسائل کلیدی به همراه حل آن‌ها برای دانش آموزان • طرح مسائل مسابقه‌ای به همراه حل آن‌ها برای دانش آموزان • طرح معماهای ریاضی
- نگارش یا ترجمه مقاله‌های عمومی ریاضی مانند تاریخ ریاضیات، زندگینامه علمی و اجتماعی ریاضی‌دانان، نکته‌های تازه و لطیف ریاضیات، آموزش رایانه و...

- مجله در حکم، اصلاح، حذف و اضافه مقاله‌ها آزاد است. • مقاله‌های دریافتی، باید خوانا و تا حد امکان، کوتاه باشد.
- مقاله‌های رسیده، مسترد نمی‌شود. • استفاده از مطالب مجله در کتاب‌ها یا مجله‌های دیگر، با ذکر دقیق مأخذ مانعی ندارد.

# حرفاؤل

## چند توصیه کليدی

در ریاضیات دبیرستانی که شما در کتاب‌های درسی مطالعه می‌کنید، شامل مباحث و موضوعات متنوعی است. هر کدام از این شافه‌ها در سطوح بالاتر، بسیار تخصصی می‌شود تا جایی که در یک شافه از ریاضیات، مثلاً هندسه یا آنالیز، آن هم در بخش خاصی از آن، درجهٔ دکتری

البته در سطح دبیرستان، ریاضیاتی که شما بررسی کرده و یاد می‌گیرید، بیشتر ریاضیات عمومی است و آن شامل شافه‌ها و موضوعاتی همچون هندسه، مثلثات، جبر قطبی، احتمال، ریاضیات گسسته، هندسه تحلیلی، حساب، دیفرانسیل و انتگرال و... می‌باشد. بعضی از این موضوعات، اصلی و بعضی فرعی محسوب می‌شوند. در هر حال، هر کدام از این موضوع‌ها و مباحث ریاضی، ویژگی‌ها و سافت‌های خاص خود را دارند. قطعاً توجه به این تفاوت‌های سافتاری، بسیار مفید خواهد بود؛ زیرا این تفاوت سافتاری، در نوع مطالعه و یادگیری، تمرین کردن و حتی چگونگی حضور در کلاس

در این تفاوت‌های سافتاری، بسیار مفید خواهد بود؛ زیرا این تفاوت سافتاری، در نوع مطالعه و یادگیری، تمرین کردن و حتی چگونگی حضور در کلاس، تأثیرگذار خواهد بود و شاید حتی در نوع پاسخ‌گویی به سؤالات امتحانی نیز تأثیر داشته باشد. بعضی از موضوعات ریاضی، کاملاً مفهومی و بعضی دیگر بیشتر تکنیکی اند. بنابراین، وقتی می‌فهمید یک درس مفهومی را، که بیشتر با مفاهیم سروکار دارد، مطالعه کنید و یاد بگیرید، باید با دقت بیشتر و هواس جمع‌تر به درس گوش بدهید و هر کجا که مفهومی را متوجه نشدید، بلافاصله سؤال کنید تا اشکال شما به قسمت‌های بعدی منتقل نشود.

این‌گونه تصور نکنید که اگر مفهومی را متوجه نشدید، با حل چند تمرین، این مفهوم برای شما جا می‌افتد و آن را یاد می‌گیرید. در نقطهٔ مقابل این‌گونه مباحث، موضوعاتی هستند که برای یادگیری آن‌ها و بقصودن برای حل مسائل مربوط آن‌ها، به یادگیری روش‌ها و فرمول‌های ریاضی نیاز است. بنابراین هر قدر بیشتر مسئله حل کنید و از این روش‌ها و فرمول‌ها بیشتر استفاده کنید، مطالب برای شما راحت‌تر و قابل فهم‌تر خواهد بود و پیشرفت سریع‌تری در آن خواهید داشت.

بعضی از موضوع‌های ریاضی، مانند هندسه و هندسه تحلیلی، جزو هر دو گروه هستند و اصطلاحاً مفهومی-تکنیکی (روش) می‌باشند و این دو، تا حد زیادی به هم وابسته‌اند؛ یعنی برای یادگیری این دروس، هم باید مفاهیم را بفهمی درک کنید و هم باید با روش‌های متفاوت در حل مسائل به‌فهمی آشنا شوید. موضوع‌هایی همچون احتمال، ترکیبیات و نظریه اعداد، مباحث مفهومی‌اند و موضوع‌هایی چون حساب، مثلثات و تا حدود ۷۰ درصد حسابان، از جمله دروس تکنیکی می‌باشند.

اما توصیه‌هایی که به همهٔ شما دانش‌آموزان عزیز دارم و امیدوارم به آن‌ها عمل کنید، در ۳ بخش خلاصه می‌شود:

۱. از کتاب درسی فاصله بگیرید و سعی کنید روی همهٔ مطالب، مثال‌های حل شده، کار در کلاس‌ها و کار در منزل و تمرین‌های کتاب‌های درسی خود تسلط داشته باشید. هر کدام را در جای خود، به‌طور کامل انجام دهید و از دبیران معتمد خود نیز بخواهید همهٔ مطالب کتاب درسی را برایتان هوشگافانه بررسی کنند.
۲. ریاضی خواندن موقوف است؛ ریاضی را باید بنویسید تا خوب آن را درک کنید. تا ملکهٔ ذهن شود و بتوانید مطالب آن را بفهمی به ذهن بسپارید. یک بار نوشتن ریاضی خواندن موقوف است؛ ریاضی را باید بنویسید تا خوب آن را درک کنید. تا ملکهٔ ذهن شود و بتوانید مطالب آن را بفهمی به ذهن بسپارید. پس تا آنجا که

۳. شاید مهم‌ترین توصیه من به شما این باشد که: شما برای یادگیری و علاقه‌مند شدن به ریاضیات، نیاز به تمرکز و هواس جمع کردن و بیشتر از همه، آرامش ذهنی دارید. ان شاء الله با پیروی از کلام فراوند تبارک و تعالی که فرمودند: «الا بذكر الله تطمئن القلوب»، به این آرامش، دست خواهید یافت.

سر دبیر



ساز



محمد هاشم رستمی

# مسئله چیست و چگونه می‌توان مسئله را حل کرد ؟

اشاره

انسان همواره با مسئله‌های گوناگون مواجه بوده و تلاش کرده است تا راه‌هایی برای حل این مسئله‌ها پیدا کند. با توسعه دانش بشری و پیدایش متفکران و دانشمندان از عهد باستان تا کنون، این دانشمندان توانسته‌اند روش‌هایی برای حل مسئله‌ها بیابند. برخی از این روش‌ها قانونمندان و برخی روش‌ها چنین نیستند.

در آموزش ریاضی نیز از دیر زمان، روش‌هایی برای حل مسئله‌های ریاضی ارائه شده است که برخی از آن‌ها روش‌های کلی حل مسئله‌های ریاضی است و برخی دیگر، روش‌های حل مسئله ریاضی در شاخه‌ای خاص از ریاضی مانند روش حل مسئله‌های هندسی است.

یکی از شاخص‌ترین روش‌های کلی حل مسئله‌های ریاضی روش جورج پولیا ریاضی‌دان و آموزش‌گر برجسته ریاضی قرن بیستم است. او در کتاب چگونه مسئله را حل کنیم، مسئله‌ها را به دو دسته یافتنی و ثابت‌کردنی تقسیم کرده و برای حل هر دو دسته مسئله روش چهار مرحله‌ای زیر را ارائه کرده است.

- مرحله اول. فهمیدن مسئله
- مرحله دوم. طرح نقشه
- مرحله سوم. اجرای نقشه
- مرحله چهارم. نگاه به عقب

شرح بیشتر این چهار مرحله را در مجله برهان شماره ۷۰ آورده‌ایم.

اکنون این سؤال مطرح است که:

آیا ریاضی‌دانان دیگری نیز بوده‌اند که روش‌های حل مسئله‌های ریاضی را ارائه داده باشند؟ پاسخ به این سؤال مثبت است. با تحقیق و بررسی آثار ریاضی‌دانان از عهد باستان تا کنون، پی می‌بریم که بسیاری از این ریاضی‌دانان برای انتقال تجربه‌های خود در زمینه روش‌های حل مسئله‌های ریاضی، این روش‌ها را به صورت قانونمند منتشر کرده‌اند. تعدادی از این آثار تاکنون کشف شده و تعداد زیادی هنوز کشف نشده است و احتمالاً در کتابخانه‌های ملی یا شخصی در سراسر دنیا نگهداری می‌شوند. یکی از این ریاضی‌دانان عبدالجلیل سجزی ریاضی‌دان ایرانی قرن چهارم هجری (حدود ۱۰۰۰ سال پیش) است که دانش خود

## کلیدواژه‌ها:

- حل مسئله،
- آموزش ریاضی،
- جورج پولیا،
- عبدالجلیل سجزی،
- حل مسائل هندسی،
- قضایا، مقدمات، مثلث،
- زاویه خارجی،
- زاویه داخلی،
- نسبت تقسیم مثلث‌ها،
- تحلیل،
- ساختار استنتاجی،
- اقلیدس،
- ترسیم پنج ضلعی
- متساوی‌الاضلاع، مربع،
- قائمة، نیم‌دایره.

- در زمینه
- حل مسئله‌های هندسه
- را در رساله سجزی در روش‌های حل مسائل هندسی منتشر کرده است.
- این اثر پس از حدود ۱۰۰۰ سال کشف و به همت دکتر هوخنداک به انگلیسی ترجمه شد و آقای محمد باقری آن را به فارسی ترجمه و انتشارات فاطمی چاپ کرد.
- به یقین ریاضی‌دانان دیگری نیز در جهان بوده‌اند که آثار ارزشمندی در زمینه آموزش ریاضی نوشته‌اند.
- سجزی در کتاب خود هفت مرحله برای حل یک مسئله هندسه ارائه می‌دهد که عبارت‌اند از:
- ۱. مهارت و تیزهوشی و توجه به شرایطی که نظم مناسب ایجاد می‌کند؛
- ۲. تسلط عمیق بر قضایا و مقدمات (مرتبط با شکل)؛
- ۳. بهره گرفتن از هوش و شگردها؛
- ۴. آگاهی از وجوه مشترک شکل‌ها؛
- ۵. نقل؛
- ۶. تحلیل؛
- ۷. استفاده از شگردها.

نکته مهم و در خور توجه آن است که روش حل مسئله‌های هندسه سجزی که هزار سال پیش تألیف شده، با روش حل مسئله جورج پولیا که در قرن بیستم انتشار یافته است مشابهت‌های بسیار دارد و این امر، تبحر، تیزهوشی و تسلط فراوان او بر ریاضیات، از جمله هندسه را نشان می‌دهد. برای نشان دادن کار ارزشمند عبدالجلیل سجزی، نمونه‌های دیگری از مثال‌هایی را که سجزی در رساله خود آورده است، با حفظ امانت در متن، در زیر می‌آوریم. در شماره‌های آینده مجله ریاضی برهان دبیرستان، نمونه‌هایی از مثال‌هایی را که جورج پولیا برای حل مسئله‌ها آورده است، خواهیم آورد.

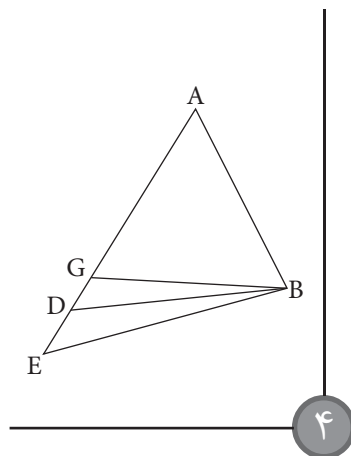




اکنون باید بررسی کنیم که آیا این زیاد و کم شدن‌ها به‌طور طبیعی با هم متعادل‌اند، یعنی یکدیگر را جبران می‌کنند و آنچه در یک طرف اضافه می‌شود به همان اندازه از طرف دیگر کم می‌شود یا نه. اگر وضع بدین قرار یافته شد، ویژگی خاصی از مثلث‌های کلی را یافته‌ایم، یعنی این که (مجموع) سه زاویه آن‌ها با هم برابرند.

حال متساوی بودن (احتمالی) آن‌ها (مجموع‌ها) را از چه طریقی بررسی کنیم؟ ابتدا، طبق معمول فرض می‌کنیم که (مجموع) دو زاویه  $ABG$  و  $AGB$  با (مجموع) دو زاویه  $ABD$ ،  $ABD$  برابر است، زیرا در آغاز کتاب قرار گذاشتیم این شیوه را در پیش بگیریم. اگر وضع چنین باشد که فرض کردیم، لازم است دو زاویه  $GBD$  و  $GDB$  (مجموعاً) با زاویه  $AGB$  برابر باشند، زیرا اگر چنین باشد، دو زاویه  $AGB$  (و مجموع زوایای)  $GBD$  و  $GDB$  چنان‌اند که دو زاویه  $ABG$  به آن‌ها افزوده می‌شود.

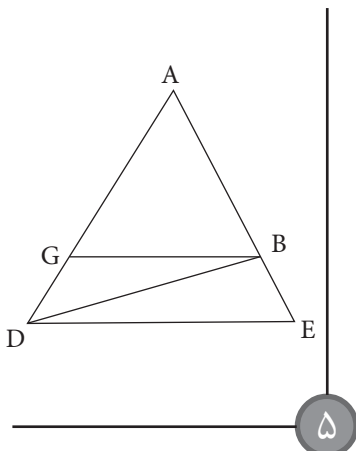
پس در این جا مسئله ما چنین است. اگر راه‌های (یعنی استدلال‌های) خود را درست دنبال کنیم و به نتیجه‌ای درست نه غیرممکن برسیم، در این صورت آنچه فرض کردیم درست است. اگر امر متناقض یا ناممکن نتیجه شود، پس زاویه‌های مثلث  $ABG$  با زاویه‌های مثلث  $ABD$  و با زاویه‌های (هیچ) مثلث دیگری برابر نیستند مگر (مثلث‌های) متشابه با آن.



#### مثال ۱: دربارهٔ جست‌وجوی ویژگی‌های خاص

چون هوشمندی در کشف ویژگی‌های خاص بیش از هر چیز در ترسیم‌ها مفید است، مثالی در مورد جست‌وجوی ویژگی‌های خاص شکل‌ها می‌آوریم. مثلث  $ABG$  را در نظر می‌گیریم و ویژگی خاصی را در زاویه‌هایش جست‌وجو می‌کنیم، بدین قرار که مجموع هر سه (زاویه) برابر است با مجموع زاویه‌های یک مثلث معلوم، پیش از آنکه بدانیم (مجموعاً) با دو قائمه برابرند. راه جست‌وجوی ما در مرحلهٔ اول چنین است که یک زاویهٔ آن را در وضع خود (ثابت) می‌گیریم، و اضلاعش را تغییر می‌دهیم تا بر ما آشکار شود که آیا دو زاویهٔ دیگر (مجموعاً) از (مجموع) دو زاویهٔ اصلی بزرگ‌ترند یا کوچک‌ترند یا با آن برابرند.

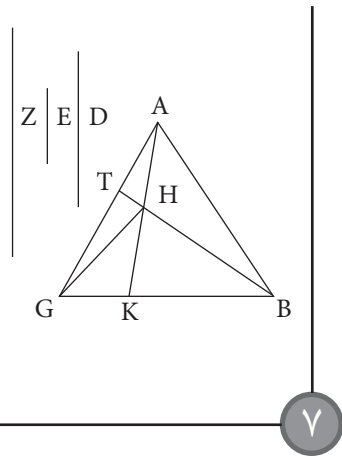
شکل ۴ زاویهٔ  $A$  را برخلاف زاویه‌های دیگر (ثابت) فرض کرده‌ایم با در نظر داشتن اینکه: اگر فرض کنیم دو زاویه از مثلث مفروضی با دو زاویه از مثلث مفروض دیگر برابر باشند، به‌طوری که هر کدام با نظیر خود برابر باشد، ناچار باید زاویهٔ باقی‌مانده (از یک مثلث)، برابر با زاویهٔ باقی‌مانده (از مثلث دیگر) باشد، که به این ترتیب آنچه را می‌خواستیم بدانیم حاصل نمی‌شود.



$AG$  را تا  $D$  امتداد می‌دهیم و  $BD$  را وصل می‌کنیم. زاویهٔ  $ADB$  کوچک‌تر از زاویهٔ  $AGB$  می‌شود. سپس به زاویه‌های  $ABG$  و  $ABD$  نگاه می‌کنیم. زاویهٔ  $ABD$  از زاویهٔ  $ABG$  بزرگ‌تر است. این کار را تکرار می‌کنیم. ضلع  $AD$  را تا  $E$  امتداد می‌دهیم و  $BE$  را وصل می‌کنیم. در این صورت زاویهٔ  $ADB$  کوچک‌تر از زاویهٔ  $ABE$  و زاویهٔ  $ABE$  بزرگ‌تر از زاویهٔ  $ABD$  است. این کار را مرتباً تکرار می‌کنیم. به این ترتیب زاویه‌هایی را که [رأس آن‌ها] بر ضلع  $AG$  واقع می‌شوند کوچک‌تر و زاویه‌های مجاور به ضلع  $AB$  در نقطهٔ  $B$  را از آنچه قبلاً بوده بزرگ‌تر می‌کنیم.

## مثال ۲: دربارهٔ تحلیل

اکنون مثال دیگری مربوط به مسئلهٔ دیگری می‌آوریم تا جویندهٔ این فن با آن تمرین کند و مسائلی که برایش مبهم است بر او روشن شود. [مسئله] این است: چگونه مثلث مفروضی را به نسبت مفروضی به سه قسمت تقسیم کنیم؟



شکل ۷ مثلث  $ABG$  و نسبت  $D$  (به)  $E$  (به)  $Z$  را در نظر می‌گیریم. تقسیم شکل باید با سه خط دیگر که در وسط مثلث به هم می‌رسند صورت گیرد. پس فرض می‌کنیم مثلث همان‌طور که خواسته‌ایم تقسیم شده است یعنی (به) مثلث‌های  $ABH$ ،  $AGH$  و  $BGH$ ، چنان‌که نسبت (مساحت) مثلث  $ABH$  به مثلث  $AGH$  نسبت  $D$  به  $E$  است و نسبت مثلث  $AGH$  به مثلث  $BGH$  مثل نسبت  $E$  به  $Z$  است. سپس دربارهٔ جست‌وجوی ترسیمی فکر می‌کنیم که در این مسئله مفید باشد.  $BH$  را تا  $T$  امتداد می‌دهیم چنان‌که بر ما روشن شود نسبت مثلث  $ABH$  به مثلث  $BGH$  مثل نسبت  $AT$  به  $GT$  است. پس اگر ضلع  $AG$  را به نسبت  $D$  به  $Z$  تقسیم کنیم، تقسیم دو مثلث باید بر خط  $BT$  منطبق شود. پس  $AG$  را در  $T$  به نسبت  $D$  به  $Z$  تقسیم و  $BT$  را وصل می‌کنیم. پس لازم می‌آید که نقطهٔ تقسیم و ایجاد زاویهٔ مثلث مجاور به خط  $AG$ ، بر خط  $BT$  باشد. پس باید یک مثلث ( $AHG$ ) از ضلع  $AG$  و دو خط خارج شده از نقاط  $A$

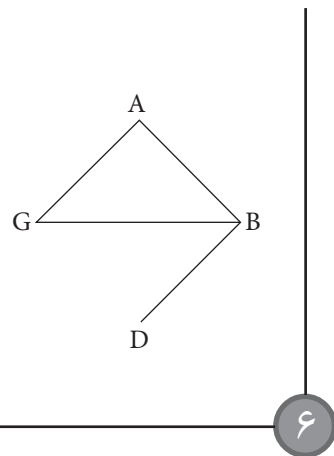
این مقیاس باید از جنس آن‌ها باشد و آن زاویهٔ قائمه است. پس باید مثلثی را فرض کنیم و زاویه‌های آن را قائمه قرار دهیم، زیرا اگر دو زاویهٔ آن را قائمه قرار دهیم، از این ترسیم مثلث به وجود نمی‌آید، بلکه دو ضلع آن متوازی می‌شوند و یکدیگر را قطع نمی‌کنند، در حالی‌که مثلث از برخورد سه ضلعش ایجاد می‌شود. پس فرض می‌کنیم که دو ضلع طرفین زاویهٔ قائمه برابرند (شکل ۶). مثلث  $ABG$  را قائم‌الزاویهٔ متساوی‌الساقین فرض می‌کنیم و زاویهٔ قائمه، زاویهٔ  $A$  است. سپس خط موازی را به‌کار می‌بریم، زیرا تناسب آن با این وضعیت از خطوط دیگر بیشتر است. از نقطهٔ  $B$  خط  $BD$  را موازی با  $AG$  رسم می‌کنیم. زاویه‌های ایجاد می‌شود که خواص آنرا جست‌وجو می‌کنیم، زاویهٔ  $DBG$  را مساوی با زاویهٔ  $BGA$  یافته‌ایم، ولی زاویهٔ  $BGA$  را با  $ABG$  مساوی گرفته بودیم. پس زاویه‌های  $ABG$  و  $DBG$  برابرند، اما مجموع آن‌ها با زاویهٔ  $BAG$  برابر است. پس لازم می‌آید که (مجموع) سه زاویهٔ مثلث  $ABG$  برابر با دو قائمه باشد.

اما این ویژگی خاصی است که در مثلث مشخصی یافتیم، یعنی مثلثی که یک زاویه‌اش قائمه است و دو ضلع طرفین آن برابرند. اما گفته‌ایم که (مجموع) زاویه‌های مثلث‌های مشخص و کلی (نامشخص) با هم برابرند. پس معلوم می‌شود که (مجموع) سه زاویهٔ هر مثلث با دو زاویهٔ قائمه برابر است. این همان چیزی است که می‌خواستیم نشان دهیم.

این یکی از راه‌های جست‌وجوی ویژگی‌های خاص است. پس لازم است فهم و ذهن خود را در این فهم اصلاح کنی. در این طریق، یعنی کشف شکل‌ها، اصلاح فهم و باز بودن ذهن مفیدتر از خواندن کتاب‌های هندسه است که پیشینیان تجویز می‌کردند، چرا که قصد آن‌ها از این کار خواندن کتاب‌های هندسه به عنوان مدخلی بر سایر کتاب‌های فلسفهٔ ریاضی و پرورش ذهن بود.

به شکلی نیاز داریم که برای آن (مسئله) مناسب‌تر باشد، یعنی شباهت بیشتری با آن داشته باشد یا از جنسی مرتبط‌تر با آن باشد. پس (شکل ۵)  $DE$  را موازی با  $BG$  می‌کشیم و  $AE$  را وصل می‌کنیم تا دو مثلث متشابه شوند و زوایای مساوی پدید آید، چنان‌که به هم برسند بر اساس نتیجه‌ای که از اینجا به‌دست می‌آید صحت یا سقم فرض اولیهٔ ما روشن می‌شود.

اما زاویهٔ  $BDE$  با زاویهٔ  $DBG$  برابر است و (مجموع) زاویه‌های  $EDB$  و  $BDG$  با زاویهٔ  $EDG$  برابر است. پس مجموع زاویه‌های  $BDG$  و  $DBG$  با زاویهٔ  $BGA$  برابر است. پس آنچه در جست‌وجویش بودیم حاصل شد، ولی ما در جست‌وجوی تساوی زاویه‌های مثلث  $ABG$  با زاویه‌های مثلث  $ABD$  بودیم. پس ویژگی خاصی از مثلث، بلکه دو ویژگی خاص آن را یافتیم، زیرا در پایان مطلب دریافته‌ایم که اگر یکی از ضلع‌های مثلثی را امتداد دهیم زاویه‌های خارجی ایجاد می‌شود که برابر است با (مجموع) دو زاویهٔ داخلی روبه‌روی آن در مثلث.

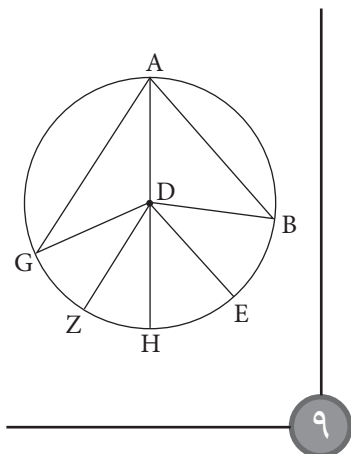


اکنون پس از آنکه برایمان روشن شد که مجموع زوایای هر مثلث با مجموع زوایای [هر مثلث] دیگر برابر است، ویژگی خاص دیگری از آن را جست‌وجو می‌کنیم، آن‌هم اینکه مقدار (مجموع) این زوایا را می‌طلبیم. در اینجا لازم است مقیاسی برای اندازه‌گیری زاویه‌ها داشته باشیم.

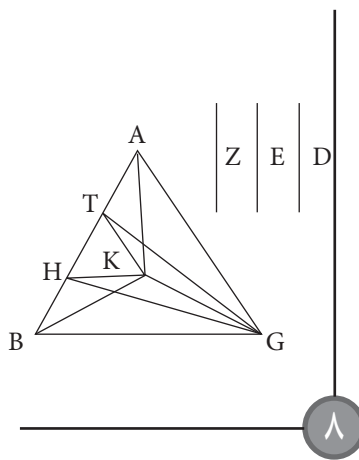
سه مثلث رسم شده به هم می‌رسند (یعنی نقطه K را) جست‌وجو می‌کنیم. پس TK را موازی با AB رسم می‌کنیم، زیرا می‌دانیم که رأس هر مثلث مساوی با مثلث ATG و به قاعده AG بر خط موازی با AG قرار دارد. به همین ترتیب HK را موازی با BG می‌کشیم، بنا به دلیلی که قبلاً ذکر کردیم، در نقطه K به هم می‌رسند، سپس BK، AK و GK را رسم می‌کنیم و می‌گوییم تقسیم به نسبت‌های موردنظر انجام شده است. این (روش) یکی از راه‌های (حل) آن است، ولی آن را به تمامی شرح نداده‌ایم. روش دیگری برای این حکم وجود دارد، ولی به این دو روشی که ذکر کردیم منتهی می‌شود، بنابراین آن را حذف کرده‌ایم.

### مثال ۳: درباره ساختار استنتاجی

چنان‌که قبلاً گفتیم «اگر مقدمه یا قضیه‌ای از مقدمات و قضایا را داشته باشیم و آن مقدمه یا قضیه هم مقدمه‌ای داشته باشد و بر آن مقدمه با هم مقدمه‌ای باشد، آن مقدمه یا قضیه را می‌توان به کمک مقدمه مقدمه‌اش اثبات کرد» (شکل ۹) دایره AB را به مرکز نقطه D فرض می‌کنیم. زاویه BAG بر کمان BAG واقع است. پاره‌خط‌های BD و GD را رسم می‌کنیم. می‌گوییم که زاویه BDG دو برابر زاویه BAG است. اقلیدس این را با استفاده از ویژگی خاص زاویه خارجی مثلثی که یک ضلعش



معلوم است، زیرا فرض همین بود. اما نسبت ضمن جست‌وجو تقسیم شده است. پس باید یکی از خط‌های متناسب را به (همان) نسبت‌های تقسیم دو مثلث AHT و HTG تقسیم کنیم. پس E را به دو قسمت می‌کنیم چنان‌که نسبت یکی از آن‌ها به دیگری مثل D به Z باشد. نسبت BH به HT را چون نسبت D به یکی از قسمت‌های E قرار می‌دهیم. AH و GH را وصل می‌کنیم. پس نسبت مثلث ABH به مثلث AHT مثل نسبت D به یکی از اجزای E است، و نسبت مثلث AHT به مثلث HTG مثل نسبت یکی از اجزای E به جزء باقی‌مانده آن است. پس نسبت مثلث ABH به مثلث AHG مثل نسبت D به E است. اما نشان دادیم که نسبت مثلث ABH به باقی‌مانده مثلث BGH مثل نسبت D به Z است. این چیزی است که می‌خواستیم نشان دهیم.



روش دیگری برای ترسیم این شکل وجود دارد که چنین است (شکل ۸): ضلع AB را در نقاط H و T به نسبت‌های E و D، و Z تقسیم می‌کنیم و خط‌های GH و GT را می‌کشیم. روشن است که هر یک از مثلث‌های مطلوب (AGK، BGK و ABK در شکل ۸) با یکی از این سه مثلث (AGT، TGH و HGB) برابر است. در سپس می‌اندیشیم و نقطه‌ای را که خطوط اضلاع سه مثلث (مطلوب) مساوی با این

G و (رأس) زاویه‌ای که بر خط BT قرار می‌گیرد رسم کنیم، ولی نسبت آن به یکی از مثلث‌های باقی‌مانده مثل نسبت E به D یا به Z است. ترسیم اول را به عنوان مقدمه آن به کار می‌بریم، زیرا روش درستی است. روی ضلع BG همان ترسیمی را که روی AG کردیم انجام می‌دهیم، یعنی ضلع BG را در نقطه K به نسبت D به E تقسیم و AK را وصل می‌کنیم. پس روشن است که نسبت مثلث AHB به مثلث AGH مثل نسبت D به E است. نشان داده‌ایم که نسبت هر دو مثلثی که دو ضلعشان از نقاط A و G خارج می‌شوند و روی BT به هم می‌رسند مثل نسبت مثلث‌های ABT و BTG است. پس سه مثلث رسم شده در مثلث ABG به نسبت مفروض هستند. این چیزی است که می‌خواستیم نشان دهیم.

روش دیگر: فرض می‌کنیم که سه مثلث رسم شده‌اند و BH را تا T امتداد می‌دهیم (شکل ۷). اکنون باید مثلث AHB را جست‌وجو کنیم، اما چنان‌که در یافتن شکل‌ها به روش تحلیل معمول است، فرض می‌کنیم که ترسیم شده است. پس به شیوه ریاضی در آن می‌اندیشیم و راهی برای آن جست‌وجو می‌کنیم که شیوه آن به شیوه نخست نزدیک باشد، چنان‌که در پی می‌آید. اگر BT را در نقطه H چنان تقسیم کنیم که نسبت مثلث ABH به مثلث AHT معلوم باشد، نسبت مثلث AHT به مثلث GTH بر ما معلوم است، اما کل مثلث‌های AGB و AHB را نداریم. اگر بتوانیم نسبت‌ها را معلوم کنیم، آنگاه چنانچه بعضی از آن‌ها را ترکیب کنیم، (مثلث ABG) تقسیم شده به نسبت‌های مفروض به دست می‌آید. پس از آنکه نسبت هر دو مثلثی را که مثلث‌های ABH و GBH هستند، دانستیم، پس با این روش جست‌وجو می‌کنیم تا ببینیم به جواب می‌رسیم یا نه. اگر (به فرض) نسبت BH به HT و نسبت AT به TG به ما معلوم باشد، پس از ترسیم مثلث، نسبت مثلث‌های AHB و AGH

امتداد یافته باشد، ثابت کرده است. این قضیه (شکل) سی و دوم مقاله اول او درباره اصول است، ولی قضایای بیست و نهم و سی و یکم، مقدمات این قضیه‌اند. پس لازم است بررسی شود که آیا این (ویژگی خاص دایره) را می‌توان از آن دو یا یکی از آن‌ها به دست آورد یا نه. پس، از نقطه D خط DE را موازی با BA و DZ را موازی با AG رسم می‌کنیم و AD را تا H امتداد می‌دهیم. این کاربرد قضیه سی و یکم است که وی آن را مقدمه‌ای بر مقدمه‌اش قرار داده است. اما زاویه خارجی EDH برابر است با زاویه داخلی BAD و زاویه EDB برابر است با زاویه متبادل DBA. زاویه DBA (نیز) با زاویه BAD برابر است. تساوی دو ضلع که در این شکل ظاهر می‌شود مقدمه نیست، بلکه ویژگی خاصی از شکل است که او (اقلیدس) به شکل اضافه کرده است، پس آن را به همین صورت نگاه می‌داریم.

پس هر یک از دو زاویه BDE و EDH با زاویه BAD برابر است. بنابراین زاویه BDH دو برابر زاویه BAD است. همچنین روشن است که به همین ترتیب زاویه HDG دو برابر زاویه DAG است. بنابراین کل زاویه BDG دو برابر کل زاویه BAG است. این کاربرد قضیه بیست و نهم است. پس ما مقدمات آن را به کار برده‌ایم و توانستیم آن را ثابت کنیم. این چیزی بود که می‌خواستیم نشان دهیم.

### مثال ۴: درباره ویژگی‌های مشترک شکل‌های مختلف

مثالی دربارهٔ وجوه مشترک شکل‌ها می‌آوریم، با استفاده از شکل‌های مرکب از تقسیم خط به نسبت ذات وسط و طرفین. به‌طور کلی حکم‌هایی که مرکب از آن (تقسیم باشند) متضمن (عدد) پنج هستند. مثلاً ترسیم پنج‌ضلعی متساوی‌الاضلاع شامل تقسیم خطی به نسبت ذات وسط و طرفین است.

از کنار هم (بر یک خط مستقیم) گذاشتن شعاع (دایره) و ضلع ده ضلعی

منتظم (مخاطی) که به علت دربرداشتن نصف کمان پنج ضلعی، با ضلع پنج ضلعی مرتبط است، خطی حاصل می‌شود که به نسبت ذات وسط و طرفین تقسیم شده است. دو وتری که در دایره پنج ضلعی واقع می‌شوند، یعنی وترهایی که از رأس‌های پنج ضلعی (مخاط) در دایره خارج می‌شوند، یکدیگر را به نسبت ذات وسط و طرفین تقسیم می‌کنند.

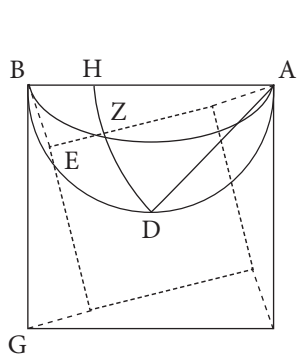
> اگر خطی به نسبت ذات وسط و طرفین تقسیم شود < و به بخش بزرگ‌تر، نصف کل خط افزوده شود، مربع آن پنج برابر مربع نصف خط خواهد بود.

هرگاه خطی با این نسبت به دو بخش تقسیم شود، مربع کل خط، پنج برابر بخش اول خواهد بود. اگر خطی به نسبت ذات وسط و طرفین تقسیم شود و اگر به بخش کوتاه‌تر خطی برابر با نصف بخش بلندتر افزوده شود، مربع آن (مجموع) پنج برابر مربع نصف بخش بلندتر است.

از افزایش و کاهش ضلع‌های یک شکل مربع که به پنج بخش مساوی تقسیم شده باشد می‌توان خط تقسیم شده به نسبت ذات وسط و طرفین به‌دست آورد. منظورم از این افزایش، افزودن قسمت‌هایی از خطوط به خط‌های دیگر و وصل کردن آن‌هاست، چنان‌که حاصل خطی راست باشد و منظورم از کاهش این است که خط بلندتر به دو بخش تقسیم شود چنان‌که یکی از این بخش‌ها با خط کوتاه‌تر برابر باشد.

مثال: (شکل ۱۰) مربع AG را در نظر می‌گیریم، ولی زاویه E قائمه است پس (مجموع) مربع‌های AE و EB با مربع AB برابر است. خط دیگر AD را چنان می‌یابیم که دو برابر مربع آن مساوی با مربع AB و خود آن مساوی با AZ باشد. یافتن خط AD آسان است: نیم‌دایره ADB را می‌کشیم و آن را در D نصف می‌کنیم و AD را وصل می‌کنیم. حال دو برابر مربع AD با مربع AB برابر است. اکنون باید خط AE را چنان بیابیم که اگر EB رسم شود، EB با EZ مساوی باشد و ZA با

AD، تا به مقصود خود برسیم.



برای یافتن آن، وضعیتی را تصور می‌کنیم که این خط به‌دست آمده است، یعنی ZE برابر با EB است. روشن است که اگر AE را رسم کنیم و در نقطه B از خط EB زاویه نیم‌قائمه‌ای بسازیم و BZ را وصل کنیم، خط ZE با خط EB برابر خواهد بود. سپس باید در پی تساوی AZ و AD کنیم، خط ZE با خط EB برابر خواهد بود. سپس باید در پی تساوی باشیم. باید خط AE را در حال حرکت حول نقطه A تجسم کنیم، بنابراین به مرکز A و به شعاع AD دایره DZ را می‌کشیم. این خط الزاماً باید دایره DZ را قطع کند. پس باید کمانی در خور زاویه یک و نیم برابر زاویه قائمه مثل کمان AZB رسم کنیم، زیرا اگر دایره DZ آن را قطع کند و AZ تا E ادامه یابد و BZ وصل شود، زاویه خارجی AZB برابر است با دو زاویه داخلی E و B. اما بر ما روشن است که زاویه E قائمه است، پس نتیجه می‌گیریم که زاویه B [در مثلث BEZ] با نصف زاویه قائمه برابر است. از اینجا نتیجه می‌شود که در مثلث ZEB، زاویه B و زاویه Z با هم برابرند، پس خط EZ با خط EB برابر است و خط AZ با خط AD. پس AE چنان‌که می‌خواستیم تقسیم شده است. اما بر اساس نقل، اگر ZH را موازی با EB رسم کنیم، AB چنان‌که می‌خواستیم تقسیم شده است. برهان آن آسان است. این چیزی بود که می‌خواستیم نشان دهیم.



- منابع.....
۱. مقاله‌های آموزش ریاضی.
  ۲. رسالهٔ سجزی در روش‌های حل مسائل هندسی.

# مثلتای های معادله

۱

برای دانش آموزان سال سوم متوسطه

احمد قندهاری

$$\tan x = \tan \frac{\pi}{4} \Rightarrow x = k\pi + \frac{\pi}{4}, k \in Z$$

$$۴) \cot x = \cot \alpha \Rightarrow x = k\pi + \alpha, k \in Z$$

$$\cot x = \cot \frac{\pi}{6} \Rightarrow x = k\pi + \frac{\pi}{6}, k \in Z$$

حالت خاص در معادله‌های مثلثاتی

$$۱) \begin{cases} \sin x = 0 \\ \text{یا} \\ \tan x = 0 \end{cases} \Rightarrow x = k\pi, k \in Z$$

$$۲) \begin{cases} \cos x = 0 \\ \text{یا} \\ \cot x = 0 \end{cases} \Rightarrow x = k\pi + \frac{\pi}{2}, k \in Z$$

$$۳) \sin x = 1 \Rightarrow x = 2k\pi + \frac{\pi}{2}, k \in Z$$

همه ریشه‌ها مضاعف است.

$$۴) \sin x = -1 \Rightarrow x = 2k\pi - \frac{\pi}{2}, k \in Z$$

همه ریشه‌ها مضاعف است.

**مثال:** معادله  $2x^2 - 18 = 0$  یک معادله جبری است. منظور از حل معادله جبری، یافتن تمام  $x$ هایی است که در آن معادله صدق کند. معادله‌هایی نظیر  $2\cos x - 1 = 0$ ،  $\tan x = \sqrt{3}$  و  $\sin^2 x - \sin x = 0$  را معادله‌های مثلثاتی گوئیم. منظور از حل

معادله مثلثاتی، یافتن تمام  $x$ هایی است که در آن معادله صدق می‌کند.

فرمول‌های کلی حل معادله‌های مثلثاتی

$$۱) \sin x = \sin \alpha \Rightarrow \begin{cases} x = 2k\pi + \alpha, k \in Z \\ x = 2k\pi + (\pi - \alpha), k \in Z \end{cases}$$

**مثال:**

$$\sin x = \sin \frac{\pi}{6} \Rightarrow \begin{cases} x = 2k\pi + \frac{\pi}{6}, k \in Z \\ x = 2k\pi + (\pi - \frac{\pi}{6}), k \in Z \end{cases}$$

$$۲) \cos x = \cos \alpha \Rightarrow x = 2k\pi \pm \alpha, k \in Z$$

**مثال:**

$$\cos x = \cos \frac{\pi}{3} \Rightarrow 2k\pi \pm \frac{\pi}{3}, k \in Z$$

$$۳) \tan x = \tan \alpha \Rightarrow x = k\pi + \alpha, k \in Z$$

کلیدواژه‌ها:

معادله،

معادله جبری،

معادله‌های مثلثاتی،

ریشه مضاعف،

فاکتورگیری،

معادله درجه دوم.



برای حل هر معادلهٔ مثلثاتی به صورت  $a\sin x + b\cos x = 0$  دو طرف معادله را بر  $\sin x$  یا  $\cos x$  تقسیم می‌کنیم

**حل:**  $\tan^2 x + \sqrt{3} \tan x = 0 \Rightarrow \tan x (\tan x + \sqrt{3}) = 0$

الف)  $\tan x = 0 \Rightarrow x = k\pi, k \in Z$

ب)  $\tan x + \sqrt{3} = 0 \Rightarrow \tan x = -\sqrt{3} \Rightarrow \tan x = -\tan \frac{\pi}{3}$   
 $\Rightarrow \tan x = \tan(-\frac{\pi}{3}) \Rightarrow x = k\pi + (-\frac{\pi}{3}), k \in Z$

**مثال ۴:** معادلهٔ  $3\cot^2 x - \sqrt{3}\cot x = 0$  را حل کنید و جواب‌های کلی آن را بیابید.

**حل:**  $3\cot^2 x - \sqrt{3}\cot x = 0 \Rightarrow 3\cot x (\cot x - \frac{\sqrt{3}}{3}) = 0$

الف)  $\cot x = 0 \Rightarrow x = k\pi + \frac{\pi}{2}, k \in Z$

ب)  $\cot x - \frac{\sqrt{3}}{3} = 0 \Rightarrow \cot x = \frac{\sqrt{3}}{3}$

$\cot x = \cot \frac{\pi}{3} \Rightarrow x = k\pi + \frac{\pi}{3}, k \in Z$

### چند نکته دربارهٔ معادله‌های مثلثاتی

۱) برای حل هر معادلهٔ مثلثاتی به صورت  $a\sin x + b\cos x = 0$  دو طرف معادله را بر  $\sin x$  یا  $\cos x$  تقسیم می‌کنیم.

**مثال:** معادلهٔ  $3\sin \delta x - \sqrt{3}\cos \delta x = 0$  را حل کنید و جواب‌های کلی آن را بیابید.

**حل:**  $3\sin \delta x - \sqrt{3}\cos \delta x = 0$

دو طرف معادله را بر  $\cos \delta x \neq 0$  تقسیم می‌کنیم.

**سؤال:** چرا  $\cos \delta x$  مخالف صفر است؟

جواب: اگر  $\cos \delta x$  مساوی صفر باشد، آنگاه  $\sin \delta x$  برابر ۱ است، اگر این مورد را در معادله بررسی کنیم خواهیم داشت  $3(1) - \sqrt{3}(0) = 0$  یا  $3 = 0$  که غیرممکن است.

حال حل معادله را پی می‌گیریم.

$\frac{3\sin \delta x}{\cos \delta x} - \frac{\sqrt{3}\cos \delta x}{\cos \delta x} = 0$

$\Rightarrow 3 \tan \delta x - \sqrt{3} = 0 \Rightarrow 3 \tan \delta x = \sqrt{3} \Rightarrow \tan \delta x = \frac{\sqrt{3}}{3}$

$\Rightarrow \tan \delta x = \tan \frac{\pi}{6} \Rightarrow \delta x = k\pi + \frac{\pi}{6}, k \in Z$

$\Rightarrow x = \frac{k\pi}{5} + \frac{\pi}{30}, k \in Z$

۲) معادله‌هایی که دو طرف آن‌ها به دو نسبت مثلثاتی همانام تبدیل می‌شوند.

۵)  $\cos x = 1 \Rightarrow x = 2k\pi, k \in Z$

همهٔ ریشه‌ها مضاعف است.

۶)  $\cos x = -1 \Rightarrow x = 2k\pi + \pi, k \in Z$

همهٔ ریشه‌ها مضاعف است.

۷)  $\begin{cases} \tan x = 1 \\ \cot x = 1 \end{cases} \Rightarrow x = k\pi + \frac{\pi}{4}, k \in Z$  یا

۸)  $\begin{cases} \tan x = -1 \\ \cot x = -1 \end{cases} \Rightarrow x = k\pi - \frac{\pi}{4}, k \in Z$

**مثال ۱:** معادلهٔ  $2\sin^2 x - \sqrt{2}\sin x = 0$  را حل کنید و جواب‌های کلی آن را بیابید.

**حل:**

$2\sin^2 x - \sqrt{2}\sin x = 0$

$2\sin x (\sin x - \frac{\sqrt{2}}{2}) = 0$

الف)  $\sin x = 0 \Rightarrow x = k\pi, k \in Z$

ب)  $\sin x - \frac{\sqrt{2}}{2} = 0$

$\sin x = \frac{\sqrt{2}}{2} \Rightarrow \sin x = \sin \frac{\pi}{4}$

$\Rightarrow \begin{cases} x = 2k\pi + \frac{\pi}{4}, k \in Z \\ x = 2k\pi + (\pi - \frac{\pi}{4}), k \in Z \end{cases}$

**مثال ۲:** معادلهٔ  $2\cos^2 x + \cos x = 0$  را حل کنید و جواب‌های کلی آن را بیابید.

**حل:**

$2\cos^2 x + \cos x = 0$

$2\cos x (\cos x + \frac{1}{2}) = 0$

الف)  $\cos x = 0 \Rightarrow x = k\pi + \frac{\pi}{2}, k \in Z$

ب)  $\cos x + \frac{1}{2} = 0 \Rightarrow \cos x = -\frac{1}{2} \Rightarrow \cos x = -\cos \frac{\pi}{3}$

$\Rightarrow \cos x = \cos(\pi - \frac{\pi}{3})$

$\cos x = \cos \frac{2\pi}{3} \Rightarrow x = 2k\pi \pm \frac{2\pi}{3}, k \in Z$

**مثال ۳:** معادلهٔ  $\tan^2 x + \sqrt{3}\tan x = 0$  را حل کنید و جواب‌های کلی آن را بیابید.

مثال: معادله  $\cos(4x + \frac{\pi}{4}) + \sin 2x = 0$  را حل کنید و جواب‌های کلی آن را بیابید.

حل:  $\cos(4x + \frac{\pi}{4}) = -\sin 2x$   
 حال باید  $(-\sin 2x)$  را به کسینوس کمانی تبدیل کنیم؛ داریم:

مثال ۱: معادله  $\cos 2x + 5\sin x - 4 = 0$  را حل کنید و جواب‌های کلی آن را بیابید.

حل:  $\cos(\frac{\pi}{2} + \alpha) = -\sin \alpha \Rightarrow \cos(\frac{\pi}{2} + 2x) = -\sin 2x$   
 در معادله قرار می‌دهیم.

حل:  $\cos 2x = 1 - 2\sin^2 x$   
 $\cos 2x + 5\sin x - 4 = 0$   
 $\Rightarrow 1 - 2\sin^2 x + 5\sin x - 4 = 0$   
 $-2\sin^2 x + 5\sin x - 3 = 0$  یا  $+2\sin^2 x - 5\sin x + 3 = 0$

$\cos(\underbrace{4x + \frac{\pi}{4}}_X) = \cos(\underbrace{\frac{\pi}{2} + 2x}_\alpha)$   
 الف)  $X = 2k\pi + \alpha \Rightarrow 4x + \frac{\pi}{4} = 2k\pi + \frac{\pi}{2} + 2x$   
 $\Rightarrow 2x = 2k\pi + \frac{\pi}{2} - \frac{\pi}{4} \Rightarrow 2x = 2k\pi + \frac{\pi}{4}$   
 $\Rightarrow x = k\pi + \frac{\pi}{8}, k \in Z$

حال فرض می‌کنیم  $y = \sin x$ ، مسلماً:  $-1 \leq y \leq 1$

$\Rightarrow 2y^2 - 5y + 3 = 0$   $\begin{cases} a = 2 \\ b = -5 \\ c = 3 \end{cases}$   $a + b + c = 0$

ب)  $X = 2k\pi - \alpha \Rightarrow 4x + \frac{\pi}{4} = 2k\pi - \frac{\pi}{2} - 2x$   
 $\Rightarrow 6x = 2k\pi - \frac{\pi}{2} - \frac{\pi}{4} \Rightarrow 6x = 2k\pi - \frac{3\pi}{4}$   
 $\Rightarrow x = \frac{k\pi}{3} - \frac{\pi}{8}, k \in Z$

در این معادله درجه دوم، مجموع ضرایب صفر است، پس یک ریشه این معادله عدد ۱ و ریشه دیگر برابر  $(\frac{c}{a})$  است.

$\Rightarrow \begin{cases} y = 1 \\ y = \frac{c}{a} = \frac{3}{2} \end{cases}$

مثال ۳: معادله‌هایی که به کمک فاکتورگیری از راه دسته‌بندی قابل حل‌اند.

با توجه به شرط  $-1 \leq y \leq 1$ ، پس  $y = \frac{3}{2}$  غیرممکن است. بنابراین جواب قابل قبول  $y = 1$  است.

$y = 1 \Rightarrow \sin x = 1 \Rightarrow x = 2k\pi + \frac{\pi}{2}, k \in Z$

مثال: معادله  $4\sin x \cos x - 2\sqrt{2}\cos x - 2\sin x + \sqrt{2} = 0$  را حل کنید و جواب‌های کلی آن را بیابید.

مثال ۲: معادله  $4\cos^2 x - 2(\sqrt{2} + 1)\cos x + \sqrt{2} = 0$  را حل کنید و جواب‌های کلی آن را بیابید.

حل:  $4\sin x \cos x - 2\sqrt{2}\cos x - 2\sin x + \sqrt{2} = 0$   
 $2\cos x(2\sin x - \sqrt{2}) - (2\sin x - \sqrt{2}) = 0$   
 $(2\sin x - \sqrt{2})(2\cos x - 1) = 0$

حل: فرض می‌کنیم  $y = \cos x$ ، مسلماً  $-1 \leq y \leq 1$

$\Rightarrow 4y^2 - 2(\sqrt{2} + 1)y + \sqrt{2} = 0$

الف)  $2\sin x - \sqrt{2} = 0 \Rightarrow 2\sin x = \sqrt{2} \Rightarrow \sin x = \frac{\sqrt{2}}{2}$   
 $\Rightarrow \sin x = \sin \frac{\pi}{4} \Rightarrow \begin{cases} x = 2k\pi + \frac{\pi}{4}, k \in Z \\ x = 2k\pi + (\pi - \frac{\pi}{4}), k \in Z \end{cases}$

$\begin{cases} a = 6 \\ b = -2(\sqrt{2} + 1), b' = -(\sqrt{2} + 1) \\ c = \sqrt{2} \end{cases}$

$\Delta' = b'^2 - ac = (\sqrt{2} + 1)^2 - 4\sqrt{2}$

ب)  $2\cos x - 1 = 0 \Rightarrow 2\cos x = 1 \Rightarrow \cos x = \frac{1}{2}$   
 $\Rightarrow \cos x = \cos \frac{\pi}{3} \Rightarrow x = 2k\pi \pm \frac{\pi}{3}, k \in Z$

$\Delta' = 2 + 1 + 2\sqrt{2} - 4\sqrt{2} = 2 + 1 - 2\sqrt{2} = (\sqrt{2} - 1)^2$

$y = \frac{-b' \pm \sqrt{\Delta'}}{a} = \frac{(\sqrt{2} + 1) \pm \sqrt{(\sqrt{2} - 1)^2}}{4} = \frac{\sqrt{2} + 1 \pm (\sqrt{2} - 1)}{4}$

معادله‌هایی که  
کمان‌های متمم  
دارند، قابل حل‌اند:  
یعنی: معادله‌های  
مثلثاتی که  
شامل سینوس  
و کسینوس یا  
شامل تانژانت و  
کتانژانت باشند و  
مجموع کمان‌های  
آن‌ها برابر  $\frac{\pi}{2}$   
باشد، قابل حل‌اند

$$\sin\left(x - \frac{\pi}{12}\right) = 1 \Rightarrow x - \frac{\pi}{12} = 2k\pi + \frac{\pi}{2}, k \in \mathbb{Z}$$

$$\Rightarrow x = 2k\pi + \frac{\pi}{2} + \frac{\pi}{12} \Rightarrow x = 2k\pi + \frac{7\pi}{12}, k \in \mathbb{Z}$$

۶) معادله‌هایی که به کمک فرمول‌های تبدیل مجموع به حاصل ضرب قابل حل‌اند.

مثال: معادله  $\sin \Delta x - \sin 3x + \sin x = 0$  را حل کنید و جواب‌های کلی آن را بیابید.

حل: داریم:

$$\begin{aligned} \sin p + \sin q &= 2 \sin \frac{p+q}{2} \cos \frac{p-q}{2} \\ \Rightarrow \sin \Delta x + \sin x &= 2 \sin \frac{\Delta x + x}{2} \cdot \cos \frac{\Delta x - x}{2} \\ &= 2 \sin 2x \cdot \cos 2x \end{aligned}$$

$$\sin \Delta x + \sin x - \sin 3x = 0$$

$$2 \sin 2x \cdot \cos 2x - \sin 3x = 0$$

$$\sin 3x (2 \cos 2x - 1) = 0$$

$$\text{الف) } \sin 3x = 0 \Rightarrow 3x = k\pi \Rightarrow x = \frac{k\pi}{3}, k \in \mathbb{Z}$$

$$\text{ب) } 2 \cos 2x - 1 = 0 \Rightarrow \cos 2x = \frac{1}{2}$$

$$\cos 2x = \cos \frac{\pi}{3} \Rightarrow 2x = 2k\pi \pm \frac{\pi}{3}$$

$$\Rightarrow x = k\pi \pm \frac{\pi}{6}, k \in \mathbb{Z}$$

۷) معادله‌هایی که به کمک تبدیل حاصل ضرب به حاصل جمع قابل حل‌اند.

مثال: معادله  $2 \sin \frac{\Delta x}{2} \cdot \cos \frac{x}{2} = \sin 2x$  را حل کنید و جواب‌های کلی آن را بیابید.

حل: داریم:

$$2 \sin \alpha \cdot \cos \beta = \sin(\alpha + \beta) + \sin(\alpha - \beta)$$

$$\Rightarrow 2 \sin \frac{\Delta x}{2} \cdot \cos \frac{x}{2} = \sin\left(\frac{\Delta x}{2} + \frac{x}{2}\right) + \sin\left(\frac{\Delta x}{2} - \frac{x}{2}\right)$$

$$2 \sin \frac{\Delta x}{2} \cdot \cos \frac{x}{2} = \sin 2x + \sin 2x$$

در معادله قرار می‌دهیم:

$$2 \sin \frac{\Delta x}{2} \cdot \cos \frac{x}{2} = \sin 2x$$

$$\sin 3x + \sin 2x = \sin 2x$$

$$\Rightarrow \sin 3x = 0 \Rightarrow 3x = k\pi \Rightarrow x = \frac{k\pi}{3}, k \in \mathbb{Z}$$

$$\text{الف) } y_1 = \frac{\sqrt{2}+1+\sqrt{2}-1}{4} = \frac{2\sqrt{2}}{4} = \frac{\sqrt{2}}{2}$$

$$\text{ب) } y_2 = \frac{\sqrt{2}+1-(\sqrt{2}-1)}{4} = \frac{\sqrt{2}+1-\sqrt{2}+1}{4} = \frac{2}{4} = \frac{1}{2}$$

در نتیجه:

$$\begin{cases} \cos x = y_1 = \frac{\sqrt{2}}{2} \\ \cos x = \frac{\sqrt{2}}{2} \Rightarrow \cos x = \cos \frac{\pi}{4} \Rightarrow x = 2k\pi \pm \frac{\pi}{4}, k \in \mathbb{Z} \end{cases}$$

$$\text{و } \cos x = y_2 = \frac{1}{2} \Rightarrow \cos x = \cos \frac{\pi}{3}$$

$$\Rightarrow x = 2k\pi \pm \frac{\pi}{3}, k \in \mathbb{Z}$$

۵) معادله‌هایی که کمان‌های متمم دارند، قابل حل‌اند:

یعنی: معادله‌های مثلثاتی که شامل سینوس و کسینوس یا شامل تانژانت و کتانژانت باشند و مجموع کمان‌های آن‌ها برابر  $\frac{\pi}{2}$  باشد، قابل حل‌اند.

مثال: معادله  $\sin^2\left(x - \frac{\pi}{12}\right) + 2 \cos\left(\frac{7\pi}{12} - x\right) - 3 = 0$  را حل کنید و جواب‌های کلی آن را بیابید.

حل:

$$\left(x - \frac{\pi}{12}\right) + \left(\frac{7\pi}{12} - x\right) = \frac{7\pi}{12} - \frac{\pi}{12} = \frac{6\pi}{12} = \frac{\pi}{2}$$

پس دو کمان  $\left(x - \frac{\pi}{12}\right)$  و  $\left(\frac{7\pi}{12} - x\right)$  متمم یکدیگرند و

سینوس یکی برابر کسینوس دیگری است. پس:

$$\sin^2\left(x - \frac{\pi}{12}\right) + 2 \cos\left(\frac{7\pi}{12} - x\right) - 3 = 0$$

$$\sin^2\left(x - \frac{\pi}{12}\right) + 2 \sin\left[\frac{\pi}{2} - \left(\frac{7\pi}{12} - x\right)\right] - 3 = 0$$

$$\sin^2\left(x - \frac{\pi}{12}\right) + 2 \sin\left(x - \frac{\pi}{12}\right) - 3 = 0$$

فرض می‌کنیم  $y = \sin\left(x - \frac{\pi}{12}\right)$ ، مسلماً  $-1 \leq y \leq 1$

$$y^2 + 2y - 3 = 0 \quad \begin{cases} a = 1 \\ b = 2 \\ c = -3 \end{cases}$$

در این معادله درجه دوم، مجموع ضرایب صفر است، پس:

$$\begin{cases} y_1 = 1 \Rightarrow \sin\left(x - \frac{\pi}{12}\right) = 1 \\ y_2 = -3 \quad \text{که غیرممکن است} \end{cases}$$

# تربیحات هندسی

نویسنده: تونی کربلی<sup>۱</sup>  
مترجم: غلامرضا یاسی پور

## اشاره

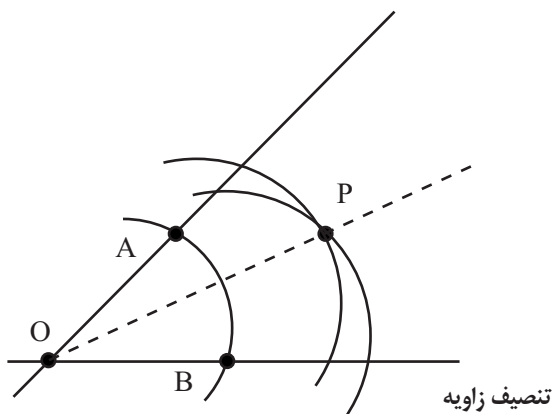
اثبات منفی اغلب مشکل است، اما پاره‌ای از بزرگ‌ترین موفقیت‌ها در ریاضیات درست از همین روش ناشی شده‌اند. این بدان معناست که اثبات کردن مطلبی امکان‌پذیر نیست. تربیع دایره کاری ناممکن است، اما چگونه می‌توان آن را ثابت کرد؟

## کلیدواژه‌ها:

تثلیث زاویه،  
تضعیف مکعب،  
تربیع دایره،  
کثیرالاضلاع.

## تثلیث زاویه

برای تقسیم یک زاویه به دو زاویه کوچک‌تر مساوی، یا به عبارت دیگر، تنصیف یا نصف کردن آن به طریق زیر عمل می‌کنیم. ابتدا نوک پرگار را در  $O$  می‌گذاریم، و با شعاع دلخواه  $OA$  و  $OB$  را مشخص می‌کنیم. با قراردادن نوک پرگار در  $A$ ، قسمتی از یک دایره را رسم می‌کنیم. همین کار را در  $B$  انجام می‌دهیم. نقطه تقاطع این دوایر را با  $P$  مشخص می‌کنیم و با لبه مستقیم (یعنی خط کش نامدرج)  $O$  را به  $P$  وصل می‌کنیم. مثلث‌های  $AOP$  و  $BOP$  در شکل حاصل هم‌نهشتند، بنابراین زوایای  $A\hat{O}P$  و  $B\hat{O}P$  مساوی می‌شوند. در این صورت، خط  $OP$  نیمساز مطلوب است و زاویه را به دو زاویه مساوی تقسیم می‌کند.



یونانیان باستان، چهار مسئله ترسیمی مهم داشتند:


- تثلیث زاویه<sup>۲</sup> (یعنی تقسیم یک زاویه به سه زاویه کوچک‌تر برابر)؛
- تضعیف مکعب<sup>۳</sup> (یعنی ساختن مکعبی با دو برابر حجم مکعب اول)؛
- تربیع دایره<sup>۴</sup> (یعنی ایجاد مربعی با مساحت برابر با سطح دایره‌ای معین)؛
- ترسیم کثیرالاضلاع‌ها<sup>۵</sup> (یعنی ساختن اشکال منتظم با اضلاع و زوایای مساوی).

آن‌ها برای انجام این امور، تنها از دو وسیله اساسی استفاده می‌کردند:

- خط کش نامدرج، برای ترسیم خطوط مستقیم (و به‌طور قطع نه برای اندازه‌گیری طول‌ها)؛
- پرگار، برای ترسیم دوایر.

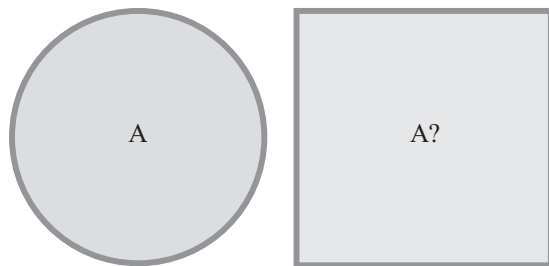
اگر شما مایل به کوهنوردی، بدون طناب، اکسیژن، تلفن همراه و سایر ملزومات باشید، بی‌شک، این مسائل دارای جاذبه خواهند شد، زیرا بدون تجهیزات اندازه‌گیری مدرن، روش‌های لازم برای اثبات این نتایج پیچیده بودند و مسائل ترسیمی کلاسیک باستانی مزبور، تنها در قرن نوزدهم و با استفاده از روش‌های آنالیز مدرن<sup>۶</sup> و جبر مجرد<sup>۷</sup> حل شدند.





مستقیم و پرگار، بی توجه به اینکه چه مقدار خلاقیت و ابتکار در مورد ساختمان جدید به کار می‌برند، غیرممکن است.

**تربیع دایره** ○□○□○□○□○□○□○  
این مسئله اندکی متفاوت است و معروف‌ترین مسئله ترسیماتی به‌شمار می‌رود. این مسئله با موضوع زیر معادل است:  
ساختن مربعی که سطح آن برابر سطح دایره‌ای مفروض باشد.



تربیع دایره

عبارت تربیع دایره عموماً برای بیان غیرممکن بودن به کار می‌رود. معادله جبری  $x^2 - 2 = 0$  دارای جواب‌های مشخص  $x = \sqrt{2}$  و  $x = -\sqrt{2}$  است. این اعداد، اعدادی گنگ‌اند (یعنی نمی‌توانند به صورت کسر نوشته شوند)، اما نشان دادن اینکه دایره نمی‌تواند تربیع شود به نشان دادن این مطلب می‌انجامد که  $\pi$  نمی‌تواند جواب هیچ معادله جبری باشد. اعداد گنگ با این ویژگی، اعداد متعالی<sup>۱۲</sup> نامیده می‌شوند، زیرا گنگی «بالا تر»ی از عموزاده‌های گنگشان نظیر  $\sqrt{2}$  دارند.

ریاضی‌دان‌ها عموماً عقیده داشتند که  $\pi$  متعالی است، اما اثبات این «معمای روزگاران» تا زمانی که فردیناند فون لیندمان<sup>۱۳</sup> تعدیلی از تکنیک پیشرفته شارل هرمیت<sup>۱۴</sup> را به کار نبرد، مشکل به نظر می‌رسید.

اما آیا می‌توانیم عملیات مشابه آن را انجام دهیم و زاویه‌ای دلخواه را به سه زاویه مساوی تقسیم کنیم؟ این همان مسئله تثلیث زاویه است.

اگر زاویه‌مان ۹۰ درجه، یعنی زاویه قائمه باشد، مشکلی وجود نخواهد داشت، زیرا زاویه ۳۰ درجه را می‌توان ترسیم کرد. اما اگر برای نمونه زاویه ۶۰ درجه را اختیار کنیم، این زاویه را نمی‌توان به سه قسمت مساوی تقسیم کرد. در این مورد، گرچه می‌دانیم پاسخ ۲۰ درجه است، اما هیچ طریقی برای رسم این زاویه، تنها به کمک لبه مستقیم و پرگار، موجود نیست. بنابراین به‌طور خلاصه:

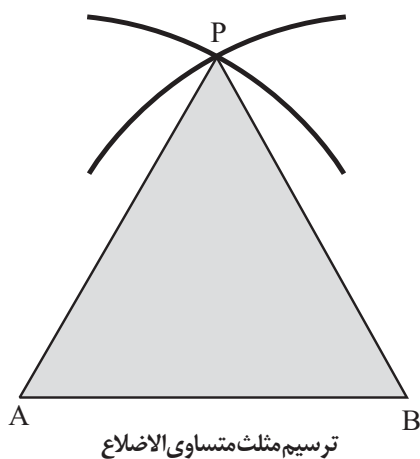
- می‌توان همه زوایا را در همه احوال نصف کرد.
- می‌توان پاره‌ای از زوایا را در همه احوال به سه قسمت مساوی تقسیم کرد، اما
- هیچ‌گاه نمی‌توان پاره‌ای از زوایا را تثلیث کرد.

تضعیف مکعب، مسئله‌ای مشابه، معروف به مسئله دلیان<sup>۱۵</sup> است. داستان به بومیان دلسوس<sup>۱۶</sup> در یونان برمی‌گردد که با اوراکل<sup>۱۷</sup> پیشگوی معبد، درباره طاعونی که به آن مبتلا بودند، رأی زدند. به آن‌ها گفته شد محرابی با حجمی دو برابر محراب موجود بسازند.

فرض می‌کنیم محراب دلیان به صورت مکعبی با جميع اضلاع برابر در طول مثلاً  $a$  بنا شده باشد. بنابراین، آن‌ها نیاز به ساختن مکعبی دیگر به طول  $b$  با حجمی دو برابر حجم آن دارند. حجم هر یک از آن‌ها  $a^3$  و  $b^3$  است، که با  $b^3 = 2a^3$  یا  $b = \sqrt[3]{2} \times a$  مرتبط است. در این رابطه  $\sqrt[3]{2}$  عددی است که چون سه بار در خودش ضرب شود ۲ را به دست می‌دهد (ریشه سوم یا کعب<sup>۱۸</sup>). در صورتی که ضلع مکعب اصلی  $a = 1$  می‌بود، بومیان دلیان مجبور بودند طول  $\sqrt[3]{2}$  را روی یک خط مشخص کنند. متأسفانه از لحاظ ایشان، این کار با لبه

می‌توان پاره‌ای از زوایا را در همه احوال به سه قسمت مساوی تقسیم کرد


ترسیم سه ضلعی منتظم، که معمولاً مثلث متساوی الاضلاع نامیده می‌شود، به‌خصوص، آسان است. اندازه‌های را که برای مثلثتان می‌خواهید بر نقطه  $A$  و سپس  $B$ ، با فاصله مطلوب در بین آن‌ها مشخص کنید. نوک پرگار را در  $A$  قرار دهید و قسمتی از دایره به شعاع  $AB$  را رسم کنید. این کار را با قرار دادن نوک پرگار در  $B$  و به‌کار بردن همان شعاع، تکرار کنید. نقطه تقاطع این دو کمان در  $P$  است. از آنجا که  $AP=AB$  و  $BP=AB$ ، هر سه ضلع مثلث  $APB$  برابرند. در این صورت، مثلث با وصل  $AP$ ،  $AB$ ، با استفاده از لبه مستقیم، کامل می‌شود.



اگر در این فکری که داشتن لبه مستقیم، وسیله‌ای تجملی به نظر می‌رسد، در این اندیشه تنها نیستید؛ دین گئورگ مور<sup>۱۶</sup> نیز چنین می‌اندیشید:

زیرا مثلث متساوی الاضلاع مورد بحث، با یافتن نقطه  $P$  رسم شده است و برای این نقطه تنها به پرگار نیاز داریم. لبه مستقیم تنها برای آنکه به‌طور عینی<sup>۱۷</sup> نقاط را به هم وصل کند، به‌کار رفته است. مور نشان داد که هر ترسیم به‌دست‌آمدنی از لبه مستقیم و پرگار را می‌توان با پرگار تنها به دست آورد. لورنزو ماچرونی<sup>۱۸</sup> ایتالیایی نیز، ۱۲۵ سال بعد، همین نتایج را به اثبات رساند. ویژگی جالب کتاب ۱۷۹۷ وی به نام هندسه پرگاری<sup>۱۹</sup>، که به ناپلئون تقدیم شده بود، در این است که آن را به نظم نوشته است.

در مسئله عمومی، به‌خصوص چندضلعی‌های  $p$  ضلع، که در آن  $p$  عددی اول است، دارای اهمیت‌اند. قبلاً<sup>۳</sup> ضلعی منتظم را رسم کردیم. اقلیدس نیز ۵ ضلعی منتظم را رسم کرد، اما نتوانست ۷ ضلعی منتظم را رسم کند. کارل فردریش گاوس<sup>۲۰</sup>، ۱۷ ساله، در تحقیق این مسئله، راه‌حل منفی آن را اثبات کرد، یعنی نتیجه گرفت که ترسیم



تکنیک مزبور را هرمیت برای اثبات آسان‌تر این موضوع به‌کار برده بود که پایه یا مبنای لگاریتم‌های طبیعی، یعنی  $e$ ، متعالی است.

بعد از دست‌آورد لیندمن، ممکن است فکر کنیم که جریان مقالات گروه تزلزل‌ناپذیر «دایره - مربعیان» بند آمد. اما اصلاً این‌طور نشد، زیرا هنوز افرادی آویزان در حاشیه ریاضیات بودند که از قبول منطق اثبات مزبور کراهت داشتند و نیز کسانی که هرگز سخنی درباره آن به گوششان نخورده بود.

### ترسیم کثیرالاضلاع‌ها

مسئله چگونگی رسم کثیرالاضلاع یا چندضلعی منتظم را اقلیدس مطرح کرد. این چندضلعی، شکلی متقارن مانند مربع یا پنج‌ضلعی منتظم است که در آن، طول تمام ضلع‌ها با هم برابر است و اضلاع مجاور، زوایای برابر با یکدیگر می‌سازند. اقلیدس در اثر مشهورش، مقدمات<sup>۱۵</sup> (کتاب ۴) نشان می‌دهد که چگونه می‌توان ۳، ۴، ۵ و ۶ ضلعی منتظم را تنها با دو ابزار مبنایی مورد بحث ترسیم کرد.



## سهمی

برای دانش آموزان سال  
دوم و سوم متوسطه

سیدمحمد رضا هاشمی موسوی

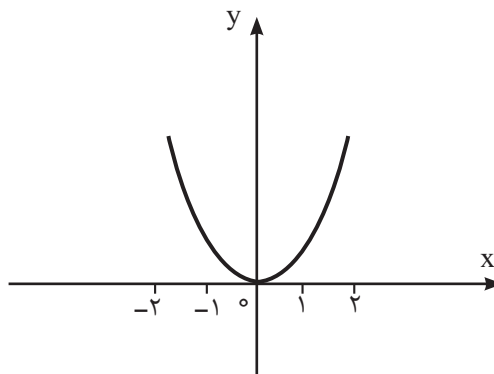
بارسم نمودار  $y = a(x - x_0)^2 + y_0$  به روش نقطه یابی آشنا  
هستید. در این جا برای یادآوری این مطلب چند مثال می آوریم.

**مثال ۱:** نمودار  $y = x^2$  را رسم کنید.

**حل:** برای رسم نمودار، جدول زیر را تشکیل می دهیم:

x	...	-2	-1	0	1	2	3	...
$y = x^2$	...	4	1	0	1	4	9	...

همان طور که ملاحظه می کنید به X مقادیر مختلفی داده شده  
و برای Y (یا  $x^2$ ) به ترتیب مقادیری به دست آمده است که هر نقطه  
مانند  $(x_1, y_1)$ ، مشخص کننده یک نقطه از منحنی  $y = x^2$  است. در  
صورتی که نقاط بیش تری را مشخص کنیم، از وصل این نقاط، نمودار  
منحنی مطابق شکل زیر رسم می شود (دستگاه مختصات):



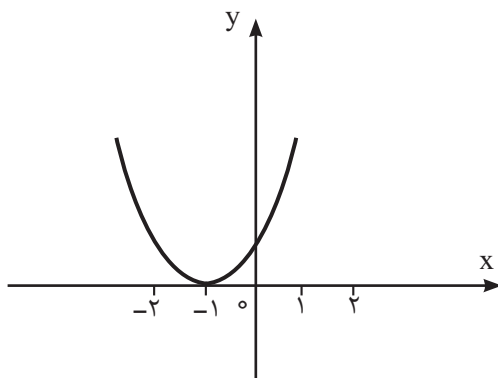
**توجه:** نمودار  $y = x^2$ ، یک سهمی را مشخص می کند که  
نسبت به محور لایها متقارن است، یعنی خط  $x = 0$ ، محور  
تقارن نمودار است.

**مثال ۲:** نمودار  $y = (x + 1)^2$  را رسم کنید.

**حل:** برای رسم نمودار، جدول زیر را تشکیل می دهیم.

x	...	-2	-1	0	1	2	...
$y = (x + 1)^2$	...	1	0	1	4	9	...

با توجه به جدول و مقادیر مختلف دیگری که به X می دهیم،  
نمودار منحنی مطابق شکل زیر رسم خواهد شد.



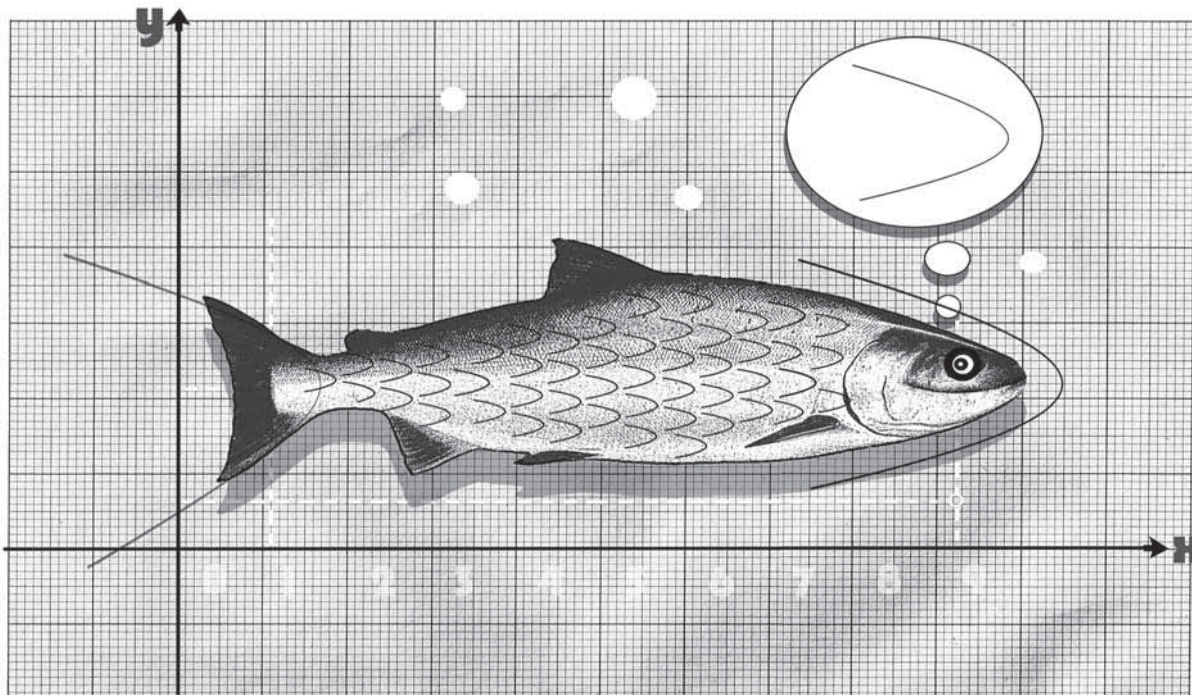
همان طور که مشاهده می شود، این نمودار، نظیر نمودار  $y = x^2$   
است. این نوع نمودارها را **سهمی** می نامند.

در نمودار (۱) نقطه  $(0, 0)$  و در نمودار (۲) نقطه  
 $(-1, 0)$  را **رأس سهمی** می نامند. با توجه به نمودارها، ملاحظه  
می شود که این نمودارها به ترتیب در  $(0, 0)$  و  $(-1, 0)$  بر محور

## کلیدواژه ها:

سهمی، نقطه یابی،  
جدول متغیرها،  
دستگاه مختصات،  
خط، محور تقارن،  
نمودار منحنی،  
رأس سهمی،  
نقطه ماکزیمم،  
نقطه می نیمم،  
ریشه معادله،  
نقطه تماس،  
مختصات نقطه،  
سهمی قائم،  
سهمی افقی.





$x=2$  (محور تقارن) و  $S(2,1)$  (رأس سهمی) در این جا، با توجه به مثال (۳)، رسم نمودار سهمی به معادله عمومی زیر را مورد بررسی قرار می دهیم:

$$y = (x - \alpha)^2 + \beta \quad (1)$$

برای رسم نمودار منحنی به معادله (۱) یا  $y - \beta = (x - \alpha)^2$ ، فرض

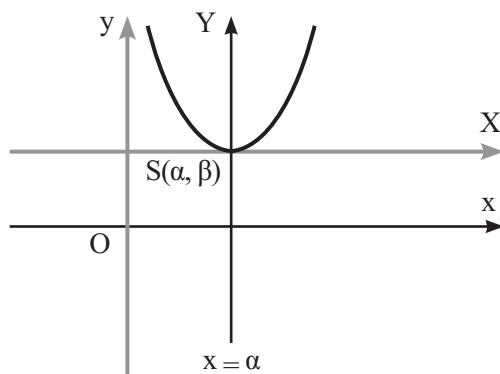
می کنیم:

$$X = x - \alpha, Y = y - \beta \quad (2)$$

بنابراین، معادله (۱) را می توان به صورت ساده تر نوشت:

$$Y = X^2 \quad (3)$$

در نتیجه اگر مبدأ دستگاه  $xOy$  را به نقطه  $S(\alpha, \beta)$  منتقل کنیم، در دستگاه جدید، کافی است منحنی به معادله (۳) را که نمودار آن مشخص است، رسم کنیم:



با توجه به نمودار (۴)، رأس سهمی و محور تقارن آن به سادگی تعیین می شود:

$$x = \alpha \text{ (محور تقارن) و } S(\alpha, \beta) \text{ (رأس سهمی)}$$

گفتنی است که رأس سهمی  $S$  در نمودار (۴) از نظر عرض کمترین مقدار را دارد. نقطه  $S$  می نیمم سهمی است.

$x$ ها مماس اند. واضح است که خط  $x=-1$ ، محور تقارن نمودار  $y = (x+1)^2$  است. بدیهی است که با تعیین محور تقارن سهمی  $y = ax^2 + bx + c$  و دو نقطه متقارن دیگر (نسبت به محور تقارن) می توان نمودار را مشخص کرد.

مثال ۳: نمودار سهمی  $y = x^2 - 4x + 5$  را رسم کنید.

حل: برای رسم نمودار سهمی، ابتدا محور تقارن منحنی را تعیین می کنیم:

$$y = x^2 - 4x + 5 = (x^2 - 4x + 4) + 1 = (x - 2)^2 + 1; \quad (1)$$

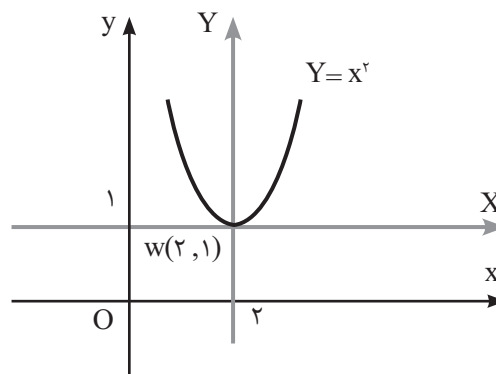
$$y - 1 = (x - 2)^2$$

در این جا، با فرض  $X = x - 2$  و  $Y = y - 1$ :

$$Y = X^2 \quad (2)$$

بنابراین اگر مبدأ دستگاه  $xOy$  را به نقطه  $w(2, 1)$  منتقل کنیم،

در دستگاه جدید، کافی است منحنی  $Y = X^2$  را که بسیار ساده و مشخص است، رسم کنیم:

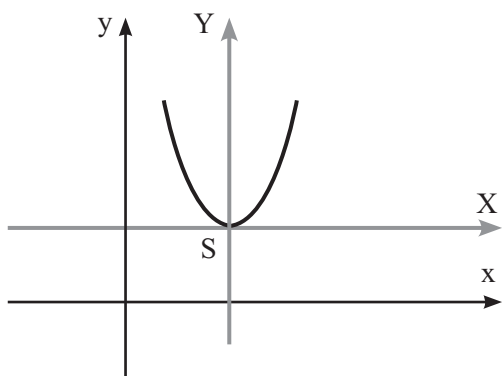


با توجه به نمودار (۳)، رأس سهمی و محور تقارن آن به سادگی

تعیین می شوند:

چون  $a > 0$  فرض شده است، بنابراین نقطه  $S(\alpha, \beta)$  می‌نیمم سهمی است.

با فرض  $Y = y - \beta$  و  $X = x - \alpha$

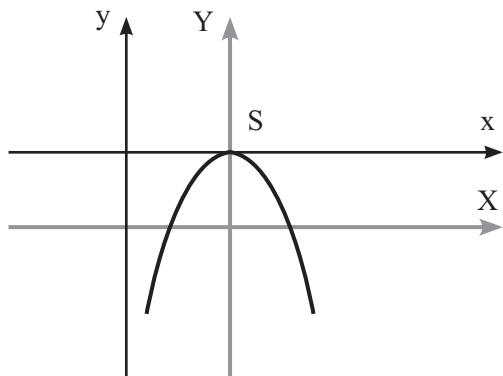


در این جا ضریب  $a$  فقط دو شاخه سهمی را به هم نزدیک یا از هم دور می‌کند.

**حالت ۲)  $a < 0$ :**

چون  $a < 0$  فرض شده است، بنابراین نقطه  $S(\alpha, \beta)$ ، ماکزیمم سهمی است.

**نکته:** برای رسم نمودار (۱) ابتدا رأس سهمی (نقطه  $S$ ) را تعیین می‌کنیم. سپس محور تقارن ( $x = \alpha$ ) آن را تعیین و حداقل دو نقطه متقارن نسبت به این خط را معین می‌کنیم.



در این جا با توجه به مطالب اخیر، نمودار سهمی به معادله عمومی زیر را در حالت کلی مورد بررسی قرار می‌دهیم:

$$y = ax^2 + bx + c \quad (1)$$

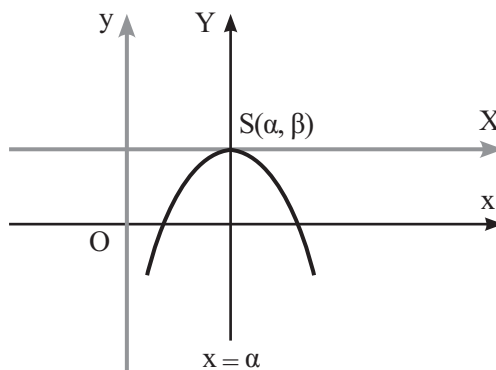
برای بررسی سهمی به معادله (۱)، ابتدا معادله آن را به صورت استاندارد:

$$y - \beta = k(x - \alpha)^2 \quad (2)$$

تبدیل می‌کنیم:

$$y = ax^2 + bx + c = a\left(x^2 + \frac{b}{a}x + \frac{c}{a}\right)$$

به همین ترتیب، رسم نمودار سهمی به معادله عمومی  $y = -(x - \alpha)^2 + \beta$  به صورت زیر است:



$x = \alpha$  (محور تقارن) و  $S(\alpha, \beta)$  (رأس سهمی)

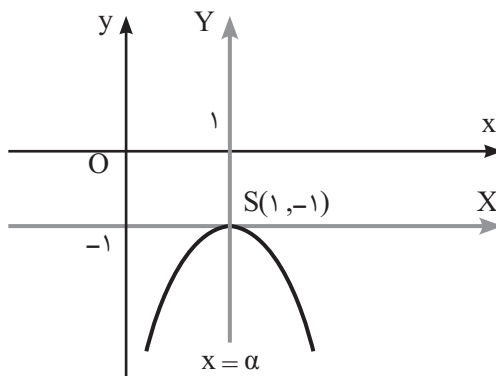
در نمودار (۵)، واضح است که رأس سهمی ( $S$ ) از نظر عرض بیشترین مقدار را دارد. نقطه  $S$  ماکزیمم سهمی است.

**مثال ۴:** نمودار سهمی  $y = -x^2 + 2x - 2$  را رسم کنید.

**حل:** ابتدا معادله استاندارد سهمی را می‌نویسیم:

$$y = -x^2 + 2x - 2 = -(x^2 - 2x + 1) - 1 = -(x - 1)^2 - 1;$$

$$y + 1 = -(x - 1)^2, \quad S(1, -1)$$



حال نمودار سهمی به معادله عمومی زیر را مورد بررسی قرار می‌دهیم:

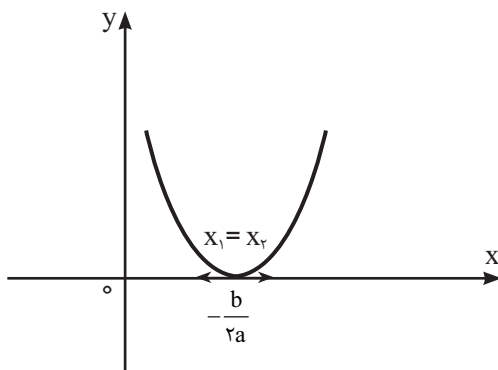
$$y = a(x - \alpha)^2 + \beta \quad (1)$$

برای بررسی نمودار (۱)، دو حالت در نظر می‌گیریم.

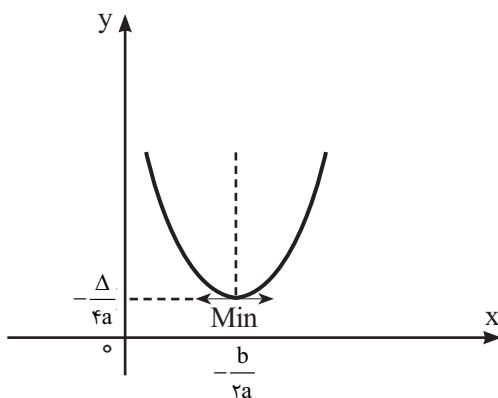
**حالت ۱)  $a > 0$ :**

$$y = a(x - \alpha)^2 + \beta, \quad y - \beta = a(x - \alpha)^2 \quad (2)$$

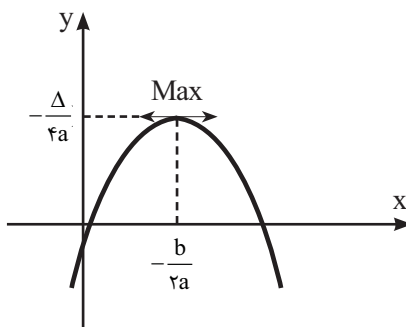
نمودار آن مانند شکل زیر است:



(۳)  $a > 0$  و  $\Delta < 0$ : در این حالت می‌نیم سهمی (S) بالای محور  $x$ ‌ها قرار دارد، معادله  $y=0$  ریشه حقیقی ندارد و نمودار آن مانند شکل زیر است:



(۴)  $a < 0$  و  $\Delta > 0$ : در این حالت سهمی دارای ماکزیمم S است. و محور  $x$ ‌ها را در دو نقطه  $x_1$  و  $x_2$  که ریشه‌های معادله  $y=0$  است، قطع می‌کند و نمودار آن مانند شکل زیر است:



(۵)  $a < 0$  و  $\Delta = 0$ : در این حالت ماکزیمم سهمی (S) بر محور  $x$ ‌ها مماس است. و طول نقطه تماس از معادله  $y=0$  به دست می‌آید و

$$= a \left[ \left(x + \frac{b}{2a}\right)^2 - \frac{b^2}{4a^2} + \frac{c}{a} \right]$$

$$= a \left[ \left(x + \frac{b}{2a}\right)^2 - \frac{b^2 - 4ac}{4a^2} \right]$$

$$= a \left(x + \frac{b}{2a}\right)^2 - \frac{b^2 - 4ac}{4a}$$

بنابراین:

$$y + \frac{b^2 - 4ac}{4a} = a \left(x + \frac{b}{2a}\right)^2 \quad (۳)$$

در این جا به کمک معادله (۳)، رأس و محور تقارن سهمی به معادله (۱) را می‌نویسیم:

$$x = -\frac{b}{2a} \text{ (محور تقارن) و } S\left(-\frac{b}{2a}, -\frac{b^2 - 4ac}{4a}\right) \text{ (رأس سهمی)}$$

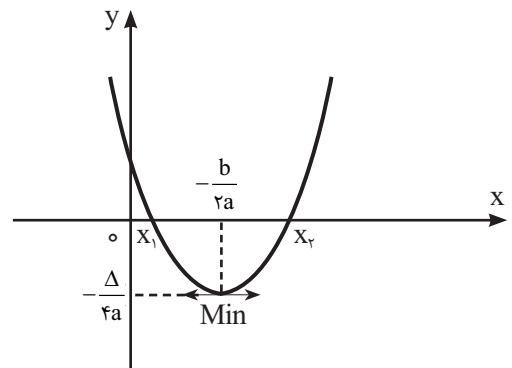
برای سادگی، عبارت  $b^2 - 4ac$  را به  $\Delta$  نشان می‌دهیم:

$$\Delta = b^2 - 4ac$$

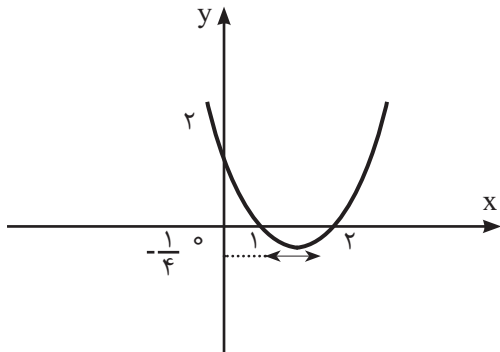
حال برای رسم نمودار (۱) یا (۳)، باید شش حالت کلی ممکن

را در نظر گرفت:

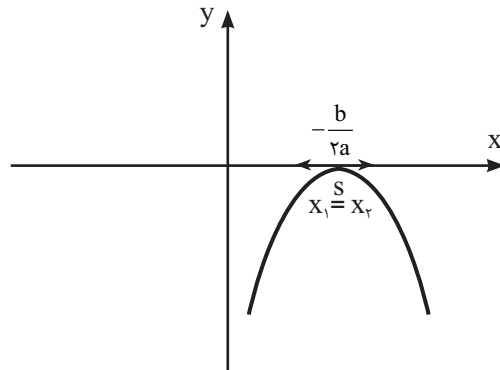
(۱)  $a > 0$  و  $\Delta > 0$ : در این حالت سهمی دارای می‌نیمم S است. و محور  $x$ ‌ها را در دو نقطه  $x_1$  و  $x_2$  که ریشه‌های معادله  $ax^2 + bx + c = 0$  است، قطع می‌کند و نمودار آن مانند شکل زیر است:



(۲)  $a > 0$  و  $\Delta = 0$ : در این حالت می‌نیم سهمی (S) بر محور  $x$ ‌ها مماس است و طول نقطه تماس از معادله  $y=0$  به دست می‌آید و



نمودار آن مانند شکل زیر است:



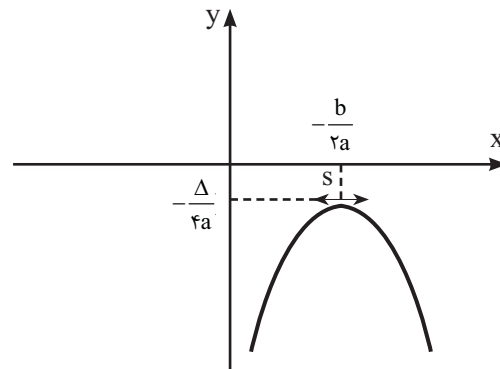
**مثال ۶:** نمودار سهمی به معادله  $y = -4x^2 + 8x - 4$  را رسم کنید.

**حل:** چون  $a = -4 < 0$  و  $\Delta = b^2 - 4ac = 64 - 64 = 0$  بنابراین سهمی دارای ماکزیمم  $S$  است و نقطه  $S$  بر محور  $x$  مماس

(۶)  $a < 0$  و  $\Delta < 0$ : در این حالت ماکزیمم سهمی ( $S$ ) پایین محور  $x$ ها قرار دارد و معادله  $y = 0$  ریشه حقیقی ندارد و نمودار آن مانند شکل زیر است:

است، یعنی معادله  $y = 0$  دارای ریشه مضاعف است:

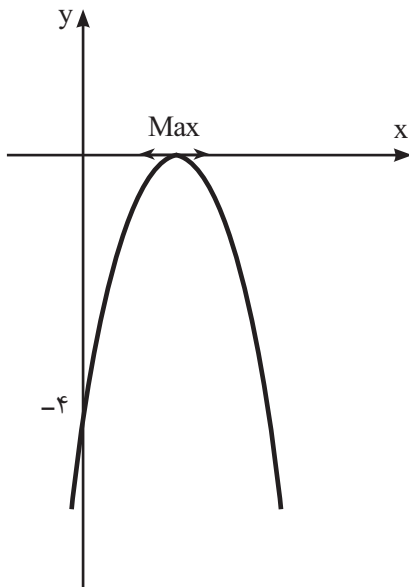
$x = 1$  (محور تقارن) و  $S(-\frac{b}{2a}, -\frac{\Delta}{4a})$  (رأس سهمی)  
 $x = 0: y = -4(0)^2 + 8(0) - 4 = -4; A(0, -4)$   
 (نقطه برخورد سهمی با محور  $y$ ها)



$y = 0: -4x^2 + 8x - 4 = 0; -4(x-1)^2 = 0; x_1 = x_2 = 1$

حال با معلومات به دست آمده، نمودار سهمی را رسم می‌کنیم:

**مثال ۵:** نمودار سهمی  $y = x^2 - 3x + 2$  را رسم کنید.



**حل:** چون  $a = 1 > 0$  و  $\Delta = b^2 - 4ac = 9 - 8 = 1 > 0$

بنابراین سهمی دارای می‌نیمم  $S$  است:  
 $x = \frac{3}{2}$  (محور تقارن) و  $S(\frac{3}{2}, -\frac{1}{4})$ ;  $S(-\frac{b}{2a}, -\frac{\Delta}{4a})$  (رأس سهمی)

با در دست داشتن رأس سهمی و محور تقارن آن، به سادگی می‌توان نمودار سهمی مورد نظر را رسم کرد. برای دقت بیشتر در رسم نمودار، نقاط برخورد سهمی با **محورهای مختصات** را تعیین می‌کنیم:

$x = 0: y = (0)^2 - 3(0) + 2 = 2; A(0, 2)$   
 (نقطه برخورد سهمی با محور  $y$ ها)

$y = 0: x^2 - 3x + 2 = 0; (x-1)(x-2) = 0 \Rightarrow x = 1; x = 2$

**مثال ۷:** رأس یک سهمی نقطه  $S(-1, 1)$  و مختصات یک نقطه آن

نقاط برخورد سهمی با محور  $x$ ها:  $B(1, 0), C(2, 0)$

$A(1, 2)$  است. سهمی را مشخص کنید.

**حل:** معادله سهمی در حالت عمومی به صورت  $y = ax^2 + bx + c$  است.

در این جا با معلومات به دست آمده، به سادگی می‌توان نمودار سهمی را رسم کرد:



بنابراین:

$$S\left(-\frac{b}{2a}, -\frac{b^2 - 4ac}{4a}\right), S(-1, 1): \begin{cases} -\frac{b}{2a} = -1 \\ -\frac{b^2 - 4ac}{4a} = 1 \end{cases};$$

$$\begin{cases} b = 2a \\ c - \frac{b^2}{4a} = 1 \end{cases}; \begin{cases} b^2 = 4a^2 \\ c = \frac{b^2}{4a} + 1 \end{cases} \Rightarrow b = 2a(1), c = a + 1 \quad (2)$$

مختصات نقطه A در معادله سهمی صدق می‌کند:

$$A(1, 2): 2 = a(1)^2 + b(1) + c; a + b + c = 2$$

با توجه به رابطه‌های (1)، (2) و (3):

$$b = 2a, \quad c = a + 1: \quad a + b + c = a + 2a + a + 1 = 2;$$

$$4a + 1 = 2; \quad 4a = 1; \quad a = \frac{1}{4};$$

پس:

$$a = \frac{1}{4}, \quad b = \frac{1}{2}, \quad c = \frac{5}{4}: \quad y = \frac{1}{4}x^2 + \frac{1}{2}x + \frac{5}{4}$$

(معادله مطلوب)

**مثال ۸:** در سهمی  $y = 2x^2 - k^3x + k$  عدد  $k$  را چنان تعیین

کنید که خط  $x=2$  محور تقارن آن باشد.

**حل:** محور تقارن سهمی  $y = ax^2 + bx + c$  به صورت زیر

$$x = -\frac{b}{2a}$$

است:

بنابراین، محور تقارن سهمی مورد نظر چنین است:

$$x = -\frac{b}{2a} = -\frac{-k^3}{2(2)} = 2; \quad k^3 = 8; \quad \boxed{k = 2}$$

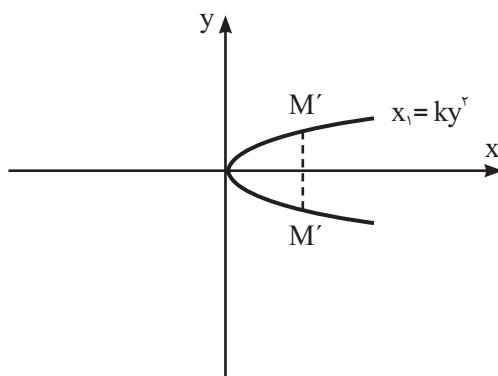
$$k = 2: \quad y = 2x^2 - 8x + 2 \quad (\text{معادله مطلوب})$$

**تبصره ۱:** به هر سهمی که محور تقارن آن موازی محور  $y$ ها باشد، سهمی قائم و هر سهمی که محور تقارن آن موازی  $x$ ها باشد، سهمی افقی گویند.

**تبصره ۲:** منحنی‌ها به معادله‌های  $x = ky^2$ ،  $x = y^2$ ،  $x - \alpha = -(y - \beta)^2$ ،  $x - \alpha = (y - \beta)^2$ ،

$x = ay^2 + by + c$  و در حالت عمومی  $x - \alpha = k(y - \beta)^2$  همگی یک سهمی افقی را مشخص می‌کنند که به طور مثال

منحنی به معادله  $x = ky^2$  چنین است:



بحث و بررسی روی سهمی افقی نیز به طور کامل مانند سهمی

قائم است که آن را به عنوان تمرین می‌گذاریم.

## اسم وبگاه: Math Guide

نشانی وبگاه: <http://www.mathguide.com>

این وبگاه می‌تواند منبع خوبی برای ارائه راهنمایی‌های لازم در زمینه ریاضیات به ریاضی‌آموزان، معلمان و مدرسان ریاضی و نیز علاقه‌مندان به این شاخه از علم باشد. صفحه اصلی این وبگاه دارای سه قسمت عمده به همراه زیر عنوان‌هایی به شرح زیر است:

- مدرسان
- برگه‌های تمرین
- پژوهش
- منبع
- آزمون‌های استاندارد شده
- دانش‌آموزان
- چرا ریاضی یاد می‌گیرید؟
- ماشین حساب‌ها
- پروژه‌ها
- معماها
- خدمات ویژه
- مرکز کمک‌رسانی
- رایانامه سریع‌السیر
- پیوندها



کوزه  
در  
خیاط

## تاریخچه مبطله ریاضی برهان

غلامرضا یاسی پور

## کلیدواژه‌ها:

مجموعه‌ها، مجله  
ریاضی برهان،  
معادله درجه ۳،  
اصل حجره‌ها، توابع  
گزاره‌ای  
و سورها.

در شماره پانزدهم برهان و در همان صفحات اولیه، به این ادب ریاضی برمی‌خوریم که از کتاب احصاء العلوم فارابی است:

علم حیل [مکانیک] عبارت است از شناختن راه تدبیری که انسان با آن بتواند تمام مفاهیمی را که وجود آن‌ها در ریاضیات با برهان ثابت شده است بر اجسام خارجی منطبق سازد و به ایجاد و وضع آن‌ها در اجسام خارجی فعلیت بخشد. توضیح آن‌که در علوم ریاضی خطوط و سطوح و مجسمات و اعداد و دیگر مفاهیم ریاضی (تنها از لحاظ عقلی و جدا از اجسام خارجی) بررسی می‌شوند، ولی ما هنگام ایجاد این مفاهیم ریاضی در خارج (یعنی در اجسام طبیعی و محسوسات به طریق ارادی و به وسیله صنعت) به نیرویی نیاز داریم که راه و تدبیر تحقق بخشیدن به مفاهیم ریاضی را روشن سازد و مطابق آن‌ها را بر مواد و اجسام خارجی ممکن کند، زیرا مواد و اجسام خارجی دارای احوال و کیفیاتی هستند که آن احوال مانع می‌شوند از این‌که مفاهیم ثابت شده در ریاضیات به آسانی و به هر

صورت ممکن بر این اجسام منطبق شود، پس نیرویی لازم است که بتواند اجسام طبیعی را آن‌چنان آماده کند

که این صورت‌های ذهنی و مفاهیم ریاضی را در خود پذیرا شوند و در برطرف ساختن موانع، رام دست باشد. علم حیل همان علمی است که راه‌های شناخت این تدابیر و شیوه‌های دقیق عملی کردن این مفاهیم را به وسیله صنعت مشخص می‌کند و نشان می‌دهد که چگونه می‌توان مفاهیم عقلی ریاضی را در اجسام طبیعی محسوس آشکار کرد.

در مقالات کوتاه از مجلات ریاضی معتبر جهان، مسئله زیر مطرح شده است: آیا یک عدد به حاصل ضرب عوامل یکتا تجزیه می‌شود؟

باز در ادب ریاضی این شماره و باز هم از کتاب احصاء العلوم فارابی چنین آمده است:

کتاب منسوب به اقلیدس فیثاغوری شامل اصول هندسه و عدد است. این کتاب به نام اُسْطَقْسَات معروف شده و مطالعه در این اصول از دو راه است: راه تحلیل؛ راه ترکیب. دانشمندان پیشین این رشته (غیر از

اقلیدس) در کتاب‌های خود، راه تحلیل و ترکیب را با هم آورده‌اند، اما اقلیدس مطالب کتاب خود را تنها براساس راه ترکیب، تألیف کرده است. این ادب ریاضی نیز از همین کتاب آورده شده است:

کسی که به تحصیل حکمت می‌پردازد (حکمت نظری به سه قسمت الهیات، ریاضیات و طبیعیات تقسیم می‌شده است.) باید جوان و تندرست باشد، آداب اختیار را از دست ندهد، علوم شرع و قرآن و لغت را پیش از آن آموخته باشد، عقیف و راستگو باشد، غدار و خائن نباشد، به گرم کردن بازار خود و حیل و مکر نپردازد، مصالح زندگانی را فراهم آورد، وظایف شرعی را انجام دهد، هیچیک از آداب و ارکان شریعت را ترک نگوید، علم و علما را بزرگ دارد، جز علم و علما را محترم نشمارد و حکمت را حرفه نکند. هر که برخلاف این صفات باشد، حکیم دروغین است.

در مقاله تاریخچه مجلات ریاضی ایران که همچنان به مجله یکان پرداخته است در مورد ادعای ارشمیدس که نقطه

اتکایی می‌خواست تا زمین را از جای بلند کند، چنین آمده است که:

بدون شک اگر ارشمیدس از تودهٔ عظیم زمین اطلاع داشت هرگز چنین سخنی نمی‌گفت. حال فرض کنیم که ارشمیدس روی سیارهٔ دیگری قرار داشت و اهرم دراز مورد لزوم در اختیارش بود. آیا می‌توانید حدس بزنید که چه زمانی طول می‌کشید تا ارشمیدس زمین را فقط یک سانتیمتر بلند کند؟

در مقالهٔ «دلیل محسوس» در کنار «برهان» از دکتر احمد شرف‌الدین در مورد دلایل محسوس چنین آمده است:

این‌گونه دلیل‌ها با وجود آن‌که به نظر برهان می‌آیند، ولی برهان نیستند، اما علاوه بر آن‌که در تشریح و تفهیم مطلب نقش مهمی دارند، دارای جاذبهٔ خاصی هستند و شایسته است در کنار برهان ذکر شوند.

در مقالهٔ طرح و حل مسائل اساسی ریاضی به روش‌های مقدماتی به این مسئله که حل آن از یاکوب اشتینر است، برمی‌خوریم:

با  $n$  برش مستقیم کارد پیتزا بری روی یک پیتزا، شخص می‌تواند چند تکه پیتزا به‌دست آورد؟ یا به‌صورت عالمانه‌تر آن: بیش‌ترین تعداد ( $L_n$ ) نواحی تعریف شده با  $n$  خط واقع در صفحه چیست؟ بعضی از مقالات دیگر این شماره به شرح زیرند:

صحبت تقارن: احمد قندهاری  
آموزش ترجمهٔ متون ریاضی:  
حمیدرضا امیری

مکان هندسی: محمد هاشم رستمی  
بردارها: سیدمحمد رضا هاشمی موسوی  
\*\*\*

شمارهٔ شانزدهم مجله در پنجمین سال انتشار آن با بهای ۲۰۰۰ ریال در زمستان ۱۳۷۴ منتشر شد.

در این شماره نیز سرآغاز مقالات مجله، مقالهٔ مسلسل شما هم می‌توانید در درس ریاضیات خود موفق باشید است.

در ادب ریاضی این شماره، این مطلب از احصاء العلوم فارابی به چشم می‌خورد:

منطق قوانینی را به دست می‌دهد که انسان را از اشتباه و لغزش و خطا در معقولات بازمی‌دارد؛ قوانینی که به‌وسیلهٔ آن‌ها میزان خطای خطاکننده در معقولات سنجیده می‌شود، زیرا در مورد برخی از معقولات هرگز امکان اشتباه وجود ندارد؛ همان معقولاتی که آدمی گویی بنا بر فطرت می‌تواند آن‌ها را بشناسد و دربارهٔ آن‌ها یقین حاصل کند، مانند این‌که کل بزرگ‌تر از جزء است یا عدد سه فرد است. اما در امور دیگر ممکن است خطا کند و در راه رسیدن به حقیقت به اشتباه بیفتد. این‌گونه امور باید با فکر و اندیشه و از طریق قیاس و استدلال فهمیده شود. در این دسته از امور انسان (نه در آن دستهٔ اول) که هر کس خواستار دست یافتن به حقیقت یقینی امور مطلوب باشد، به قوانین منطق نیاز خواهد داشت.

باز در ادب ریاضی دیگر این شماره مطلبی می‌خوانیم از تاریخ حبیب‌السیر اثر خواند میر در ذکر فیثاغورس صوری، که در آن چنین آمده است:

هنوز در صغر سن بود که اهل صور را به سبب استیلا اعداد صورت جلا روی نمود و پدر فیثاغورس او را به ساموس و از ساموس به انطاکیه برد و حاکم انطاکیه فیثاغورس را فرزندخوانده، به معلم سپرد و فیثاغورس به تحصیل علم لغت و موسیقی سعی فرموده، در آن فن مهارت کامل حاصل نمود، چنان‌چه گویند اکثر سازها اختراع اوست؛ و فیثاغورس در سن شش‌سالگی به تعلیم هندسه و نجوم پرداخت، آن‌گاه به مصر شتافت، مطالعهٔ علم حکمی را پیشنهاد همت ساخت و از آن‌جا به شهر ساموس بازگشته، به درس حکمت و تألیف مسائل آن فن، اوقات شریف مصروف داشت و دویست و هشتاد رساله در علوم مختلفه تصنیف نمود و خلق بسیار از طالبان فضل و کمال به ملازمت آن حکیم عظیم‌المثال می‌رفتند و در مقام استفاده بوده، از افادهٔ طبع وقادش بهره می‌گرفتند و بعضی از ملوک اطراف به زیارت آن قُدوة

اشراف می‌شتافتند و از نصایح سودمندش و مواظب دلبندش بهره و حظی تمام می‌یافتند و فیثاغورس همواره فِرَقِ اَنام را به تحصیل معرفت طبایع اشیا و دست‌بازداشتن از ارتکاب مآثم و خطایا ترغیب نمودی و بر مواظبت جهاد و اکتار صیام و مداومت قرائت کتب امر فرمودی و به بقای نفس بعد از مفارقت بدن و ادراک لذت و الم و ثواب و عقاب اعتراف داشت و علی التّوام همت بر سیاحت و احراز فضایل و اکتساب کمالات می‌گماشت.

در مطلب «مقالات کوتاه از مجله‌های ریاضی معتبر جهان»، مطلبی آمده است دربارهٔ یک مجمع تاریخی که به سال ۱۹۰۰ میلادی در پاریس برپا شد. در این مقاله که به هیلبرت و ۲۳ مسئلهٔ مفروض اشاره شده است، چنین می‌خوانیم:

در اوت ۱۹۰۰ بهترین ریاضی‌دان‌های جهان برای دومین کنگرهٔ بین‌المللی ریاضی‌دانان در پاریس گرد آمدند (واقعه‌ای که جز در دوران جنگ به برقرار شدن در هر چهار سال یکبار در یکی از حوزه‌های دارای صلاحیت دنیا ادامه داده است). دیوید هیلبرت، استاد ۳۸ سالهٔ دانشگاه گوتینگن از میان این ریاضی‌دان‌ها بود. قرار بر این بود که هیلبرت به‌عنوان یکی از سردمداران ریاضی آن زمان یکی از نطق‌های مهم همایش مزبور را انجام دهد. روزی که برای این کار در نظر گرفته بودند هشتم اوت بود.

از آن‌جا که همایش مورد بحث در اولین سال قرن بیستم انجام می‌گرفت (درواقع برای نیل به این منظور یک سال جلوتر آورده شده بود)، هیلبرت در سخنرانی‌اش نه به بررسی بعضی از کارهای متأخر (که قالب معمول صحبت‌هایی چنین بود)، بلکه اشاره به کارهای آینده پرداخت.

وی چنین فریاد زد: «این ندای دائمی را در درون خود می‌شنویم که: «این همان مسئله است، علتش را جست‌وجو کن. می‌توانی آن را با برهان بیایی، زیرا در ریاضیات لادری (نمی‌دانم) وجود ندارد.» و برای تأیید این ندا به همایش مزبور، نه یکی

فرض کنیم که ارشمیدس روی سیارهٔ دیگری قرار داشت و اهرم دراز مورد لزوم در اختیارش بود. آیا می‌توانید حدس بزنید که چه زمانی طول می‌کشید تا ارشمیدس زمین را فقط یک سانتیمتر بلند کند؟





هم چنان که به مقالات مجله نگاه می‌کنیم، چشمانمان به ادب ریاضی این شماره می‌خورد که در آن از قول ابن سینا در **اشارات و تنبیهات** چنین آمده است:

چون پیدا و دانسته برابر ناپیدا و نادانسته است، پس همان‌گونه که گاهی تصور ساده و بدون حکم پیدا و دانسته است، مانند شناخت ما به نام مثلث؛ و زمانی هم تصویری که تصدیق به همراه دارد پیداست، مانند باور ما به این که سه زاویه مثلث با دو زاویه قائمه برابر است؛ هم‌چنین گاهی یک چیز از جهت تصور ناپیدا و ناشناخته است در این صورت معنای آن به ذهن نمی‌آید مگر آن که شناخته شود، مانند «ذی‌الاسمین» و «منفصل» و مانند آن‌دو؛ و زمانی یک چیزی از تصدیق ناپیدا و نامعلوم است تا دانسته شود، مانند قوی بودن (برابر بودن) قطر دایره نسبت به دو ضلع زاویه قائمه‌ای که همان قطر، وتر آن زاویه واقع شده است. پس آن‌چه در علوم و نظایر آن مطلوب ماست یا به سوی تصور ناپیدا و مجهول یا به سوی تصدیق ناپیدا و مطلوب است، که باید به‌دست آید.

در مقاله مشاهیر ریاضی جهان، مطلبی موجود است از **فرهنگ فشرده ریاضی آکسفورد** در شرح حال **دداکینند**، ریاضی‌دان آلمانی، که در آن چنین می‌خوانیم:

**دداکینند**، (۱۸۳۱-۱۹۱۶)، ریاضی‌دان آلمانی، چند سالی را در دانشگاه **گوتینگن** گذراند و بیش‌تر باقی‌مانده عمرش را در یک دانشکده فنی تدریس کرد. شهرتش به علت برش دداکینند است. این برش رجوع به ساخت صوری دستگاه عدد حقیقی‌اش از اعداد گویا دارد. این کار قدم مهمی در خصوص تنظیمی از ریاضیات است که در این قرن با آن مواجه شده‌ایم؛ تنظیمی که ۲۰۰۰ سال پیش‌تر، **اودوکسوس** آن را پیش‌بینی کرده بود. در این مورد، خواننده را به روایت بسیار خواندنی

دداکینند از کارش در مقاله **پیوستگی و اعداد گنگ** ارجاع می‌دهیم.

این شماره گزارشی دارد از بیست و ششمین کنفرانس ریاضی کشور، که در آن چنین آمده است:

دانشگاه شهید باهنر کرمان در روزهای ۸ تا ۱۱ فروردین ۱۳۷۴ میزبان بیست و ششمین کنفرانس ریاضی کشور بود. این کنفرانس با همکاری انجمن ریاضی ایران و با پشتیبانی مسئولان عالی‌رتبه کشور، وزارتخانه‌ها و استانداری کرمان برگزار شد. در این کنفرانس بیش از ۱۰۰۰ نفر از جمله عده‌ای از ریاضی‌دانان خارجی و ریاضی‌دانان ایرانی مقیم خارج از کشور شرکت داشتند، سخنرانی‌ها در دو زمینه عمومی و تخصصی ارائه شد و در این کنفرانس برای دومین بار شاهد فعالیت کارگاه‌های آموزش ریاضی، آنالیز عددی، هندسه و ریاضیات فازی بودیم که استقبال دبیران ریاضی کشور از این کارگاه آموزش ریاضی، چشمگیر بود. اقدام شایسته کمیته اجرایی کنفرانس، انتشار کتاب‌های کارگاه‌ها و ارائه آن به شرکت‌کنندگان بود. در کنار کنفرانس میزگرد نظام جدید و مجمع عمومی انجمن ریاضی ایران و هم‌چنین مسابقه ریاضی دانشجویی برگزار شد. علاوه بر این، نمایشگاه کتاب‌های ریاضی خارجی و نمایشگاه و فروشگاه کتاب‌های علوم پایه فارسی و اجرای تئاتر و تورهای مسافرتی ماهان و بسم از فعالیت‌های جنبی و مفید این کنفرانس بود.

صف‌های طویل شرکت‌کنندگان کنفرانس برای رزرو بلیط تورهای مسافرتی ماهان و بسم، حاکی از جذابیت آثار تاریخی استان کرمان و استقبال شرکت‌کنندگان از این برنامه‌ها بود.

میزگرد نظام جدید آموزش متوسطه نیز با استقبال گرم دبیران ریاضی کشور همراه بود. در این میزگرد، مهندس علاقه‌مندان، تنی چند از اساتید دانشگاه و دبیران شرکت داشتند. هدف‌های نظام جدید و مقایسه آن

با نظام فعلی را برای حاضران تشریح کردند. سپس اساتید دانشگاه، هریک مزایا و مشکلات نظام جدید را مورد بحث و بررسی قرار دادند. در پایان میزگرد بر این نکته تأکید شد که تمام دست‌اندرکاران، اساتید و دبیران محترم باید در پیاده کردن نظام جدید همکاری نزدیک و بیش‌تری داشته باشند.

یکی از تصمیم‌های خوب کنفرانس تجلیل از چهار استاد و پژوهشگر ریاضیات بود. در جلسه عمومی کنفرانس، پیش از ظهر هشتم فروردین، آقایان دکتر جواد بهبودیان، دکتر ابوالقاسم قربانی، دکتر هادی شفیعیها و پرویز شهریاری، به‌عنوان پیش‌کسوتان ریاضی کشور به شرکت‌کنندگان معرفی شدند و هدیه‌هایی دریافت کردند.

حرف آخر این که تلاش شبانه‌روزی کمیته اجرایی کنفرانس، دبیر کنفرانس، دانشجویان دانشگاه شهید باهنر، کادر خدماتی و مقامات مؤسسه‌های مختلف استان کرمان در هر چه بهتر برگزار کردن کنفرانس، قابل تقدیر و ستودنی بود که به حق در تحقق این هدف موفق و سرافراز شدند.

مقالات دیگر این شماره عبارت‌اند از:

**حد: احمد قندهاری**  
**تبدیل: حمیدرضا امیری**  
**داستان شیر و موش در هندسه: دکتر احمد شرف‌الدین**  
**توان: سیدمحمد رضا هاشمی موسوی**  
**کاربرد ترمینان: سیامک جعفری**  
**آموزش ترجمه متون ریاضی: حمیدرضا امیری**  
**طرح و حل مسائل اساسی ریاضی به روش‌های مقدماتی: غلامرضا یاسی پور**  
**اثبات نامساوی‌ها: محمدعلی سلحشور**  
**خط‌های راست و صفحه‌های عمود برهم در فضا: پرویز شهریاری**

یکی از تصمیم‌های خوب کنفرانس تجلیل از چهار استاد و پژوهشگر ریاضیات بود. در جلسه عمومی کنفرانس، پیش از ظهر هشتم فروردین، آقایان دکتر جواد بهبودیان، دکتر ابوالقاسم قربانی، دکتر هادی شفیعیها و پرویز شهریاری، به‌عنوان پیش‌کسوتان ریاضی کشور به شرکت‌کنندگان معرفی شدند



## برای دانش آموزان سال دوم متوسطه

حمیدرضا امیری

## تابع

## چکیده:

در شماره قبل با مفاهیم زوج مرتب، رابطه و تابع آشنا شدید. همچنین وارون یک رابطه و تابع یک به یک را بررسی کردیم. اینک در ادامه آن، مطالبی دیگر از تابع را می آوریم.

## تابع معکوس.....

تابع یک به یک  $f = \{(1, 4), (2, 6), (3, 7)\}$  را در نظر می گیریم. می دانیم:

$$f \text{ دامنه} = \{1, 2, 3\}$$

$$f \text{ برد} = \{4, 6, 7\}$$

حال، تابع  $g$  را با تعویض مؤلفه های زوج های  $f$  در نظر

می گیریم، یعنی:

$$g = \{(4, 1), (6, 2), (7, 3)\}$$

$$g \text{ دامنه} = \{4, 6, 7\}$$

$$g \text{ برد} = \{1, 2, 3\}$$

تابع  $g$  را تابع معکوس تابع  $f$  می نامیم و آن را با  $f^{-1}$  نشان

می دهیم. از گفته های بالا چند نتیجه گرفته می شود:

**اول:** این که تابع  $f$  باید یک به یک باشد تا تابع معکوس وجود

داشته باشد. چنان چه تابع  $f$  یک به یک نباشد و جای مؤلفه های

داخل زوجها را عوض کنیم، تابعی به دست نمی آید. برای مثال، اگر

## کلیدواژه ها:

زوج مرتب، تابع، تابع خطی، وارون رابطه، قرینه، تابع معکوس، تابع یک به یک، بازه.

$g = \{(2, 1), (5, 2), (2, 3)\}$  آن گاه  $f = \{(1, 2), (2, 5), (3, 2)\}$  تابع نیست، زیرا عدد ۲ هم به ۱ مربوط شده است، هم به ۳.

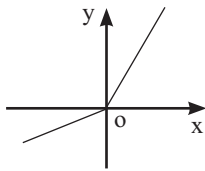
**دوم:** این که اگر دو تابع  $f$  و  $g$  معکوس یکدیگر باشند، آن گاه دامنه  $f$  مساوی برد  $g$  و برد  $f$  مساوی دامنه  $g$  است (توجه داشته باشیم که عکس این مطلب درست نیست)؛ یعنی اگر در دو تابع  $f$  و  $g$  داشته باشیم و دامنه  $f$  مساوی برد  $g$  و برد  $f$  مساوی دامنه  $g$  باشد، ممکن است دو تابع معکوس یکدیگر نباشند، مانند دو تابع  $g(x) = x + 1$  و  $f(x) = x$  که  $g: \mathbb{R} \rightarrow \mathbb{R}$  و  $f: \mathbb{R} \rightarrow \mathbb{R}$

**سوم:** اگر به زوج های مرتب تابع  $f = \{(1, 4), (2, 6), (3, 7)\}$  و به زوج های مرتب تابع  $g = \{(4, 1), (6, 2), (7, 3)\}$  دقت کنیم، ملاحظه می کنیم:

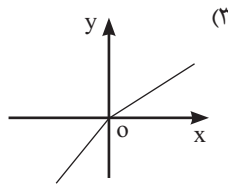
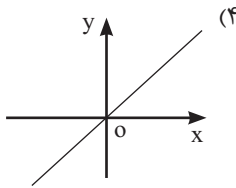
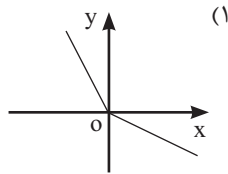
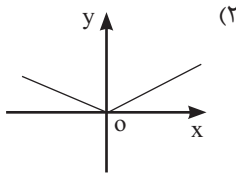
$$\left. \begin{array}{l} 1 \\ 4 \end{array} \right\} A \text{ در تابع } f \text{ است و } \left. \begin{array}{l} 4 \\ 1 \end{array} \right\} A' \text{ در تابع } g \text{ است.}$$

$$\left. \begin{array}{l} 2 \\ 6 \end{array} \right\} B \text{ در تابع } f \text{ است و } \left. \begin{array}{l} 6 \\ 2 \end{array} \right\} B' \text{ در تابع } g \text{ است.}$$

$$\left. \begin{array}{l} 3 \\ 7 \end{array} \right\} C \text{ در تابع } f \text{ است و } \left. \begin{array}{l} 7 \\ 3 \end{array} \right\} C' \text{ در تابع } g \text{ است.}$$



**مثال:** در شکل روبه‌رو تابع  $f$  رسم شده است. نمودار تابع  $f^{-1}$  کدام است؟



**حل:** اگر خط  $y=x$  را رسم کنیم، به کمک رسم قرینه شکل نسبت به خط  $y=x$ ، به‌سادگی نمودار (۳) به‌دست می‌آید.

**مثال:** تابع  $f$  با ضابطه  $f: \mathbb{R} \rightarrow \mathbb{R}$   
 $y = f(x) = 2x + 6$  را در نظر می‌گیریم.

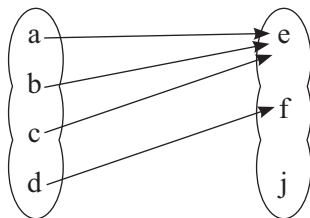
می‌دانیم  $f$  تابعی یک‌به‌یک است، زیرا: اگر  $x_1, x_2 \in \mathbb{R}$  و اگر  $f(x_1) = f(x_2)$   
 $\Rightarrow 2x_1 + 6 = 2x_2 + 6 \Rightarrow 2x_1 = 2x_2 \Rightarrow x_1 = x_2$

$f$  یک‌به‌یک است



۱. تابع  $f$  در صورتی یک‌به‌یک است که:

**الف)** اگر نمودار پیکانی آن را رسم کنیم به هر عضو از مجموعه دوم حداکثر یک عضو از مجموعه اول مربوط باشد.



این تابع یک‌به‌یک نیست، زیرا به عضو  $e$  از  $B$  دو عضو از  $A$  مربوط است (دو به یک است!).

از این نوشته‌ها نتیجه می‌گیریم که نقاط تابع  $g$  قرینه نقاط تابع  $f$  نسبت به خط نیمساز ربع اول و سوم است.

به‌طور کلی، اگر  $f = \{(x, y) | (x, y) \in f\}$  و  $g = \{(y, x) | (x, y) \in f\}$  آن‌گاه دو تابع  $f$  و  $g$  را معکوس یکدیگر گوئیم و نمودارهای دو تابع  $f$  و  $g$  نسبت به خط  $y=x$  قرینه یکدیگرند.

**چهارم:** تعویض جای  $x$  و  $y$  را در معادله تابع نیز می‌توان انجام داد تا معادله تابع معکوس به‌دست آید.

**تعریف:** اگر  $f$  یک تابع باشد و وارون آن یعنی  $f^{-1}$  نیز تابع باشد، در این صورت  $f$  را وارون‌پذیر (معکوس‌پذیر) می‌نامیم.

**مثال:** تابع  $f = \{(2, 3), (4, 3), (5, 1)\}$  وارون‌پذیر نیست، زیرا وارون آن یعنی  $f^{-1} = \{(3, 2), (3, 4), (1, 5)\}$  تابع نیست.

**مثال:** اگر  $f: \mathbb{R} \rightarrow \mathbb{R}$   
 $y = f(x) = 2x - 4$  آن‌گاه معادله تابع معکوس  $f^{-1}$  چنین به‌دست می‌آید:

جای  $x$  و  $y$  را عوض می‌کنیم.  
 $y = 2x - 4 \Rightarrow x = 2y - 4 \Rightarrow 2y = x + 4$

ضابطه  $f^{-1}$   $\Rightarrow y = \frac{x}{2} + 2$

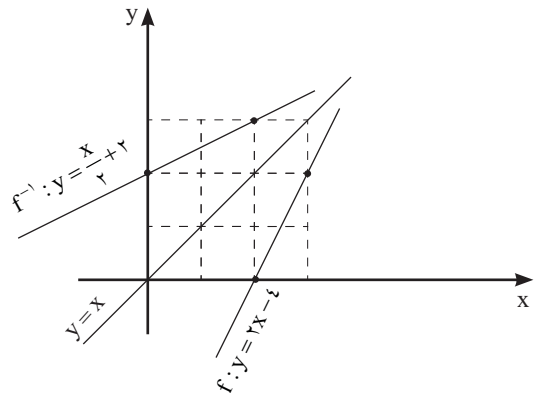
حال این دو تابع را در یک دستگاه محورهای مختصات رسم می‌کنیم:

$f: y = 2x - 4$

$f^{-1}: y = \frac{x}{2} + 2$

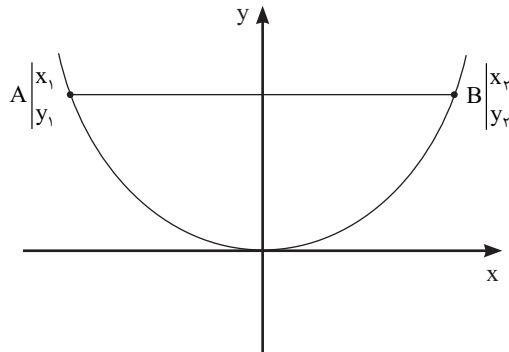
x	y
3	2
2	0

x	y
2	3
0	2



به‌طوری که در این شکل ملاحظه می‌کنید، نمودارهای دو تابع  $f$  و  $f^{-1}$  نسبت به خط  $y=x$  قرینه یکدیگرند.

ب) اگر نمودار مختصاتی تابع  $f$ ، و دسته خطوطی موازی محور  $x$ ها رسم شود و نمودار تابع در بیش از یک نقطه قطع نشود، نمودار تابع  $f$  یک به یک نیست.



۲. شرط لازم و کافی برای آن که تابع  $f$  وارون پذیر باشد  $f^{-1}$  تابع باشد آن است که  $f$  یک به یک باشد، یعنی: اگر  $f$  یک به یک باشد، آن گاه وارون پذیر است و اگر  $f$  وارون پذیر باشد، آن گاه یک به یک است.

### بازه (فاصله) در اعداد حقیقی

مجموعه همه اعداد حقیقی بین دو عدد  $a$  و  $b$  را که شامل خود  $a$  و خود  $b$  نباشند، با نماد  $(a, b)$  نمایش می دهیم و آن را فاصله یا بازه باز می نامیم.

$$(a, b) = \{x \in \mathbb{R} \mid a < x < b\}$$

و به همین ترتیب بازه ها در حالت های مختلف (باز، نیم باز و بسته) به صورت های زیر تعریف می شوند:

$$[a, b) = \{x \in \mathbb{R} \mid a \leq x < b\}$$

$$[2, 9) = \{x \in \mathbb{R} \mid 2 \leq x < 9\}$$

$$(-3, 5] = \{x \in \mathbb{R} \mid -3 < x \leq 5\}$$

$$[-2, 11] = \{x \in \mathbb{R} \mid -2 \leq x \leq 11\}$$

$$(-\infty, 5] = \{x \in \mathbb{R} \mid x \leq 5\}$$

$$(4, +\infty) = \{x \in \mathbb{R} \mid x > 4\}$$

### مقدار تابع در یک نقطه

اگر  $f = \{(1, 2), (2, 3), (3, 4), \dots\}$  یک تابع باشد، واضح است که  $D_f = \mathbb{N} - \{1\}$  و  $R_f = \mathbb{N}$ . اگر بخواهیم برای  $f$  ضابطه تعریف کنیم، خواهیم داشت:  $y = f(x) = x + 1$ . همان طور که ملاحظه می کنید  $(1, 2) \in f$  یا  $f(1) = 2$  یا هم چنین  $f(2) = 3$ .

$$f(3) = 4 \text{ و } \dots \text{ و } f(x) = x + 1.$$

نمایش ضابطه ای یا جبری تابع  $f$  به صورت  $f(x) = x + 1$  است و مقدار تابع  $f$  در نقطه  $1$  یعنی  $f(1)$  برابر با  $2$  است و مقدار تابع در نقطه  $k$  برابر با  $f(k)$  یا  $(k+1)$  خواهد بود.

**مثال:** اگر تابع  $f$  با ضابطه  $f(x) = 2x^2 - 1$  مفروض باشد و  $D_f = \mathbb{R}$  در نظر گرفته شود، در این صورت مقدار تابع  $f$  را در نقاط  $x = a^2, x = k, x = \sqrt{2}, x = \frac{1}{2}, x = 1, x = -1, x = 2$  و  $x = 2a - 1$  به دست آورید.

**حل:**

$$f(2) = 2 \times 2^2 - 1 = 7$$

$$f(-1) = 2 \times (-1)^2 - 1 = 1, f(1) = 2 \times 1^2 - 1 = 1$$

$$f\left(\frac{1}{2}\right) = 2 \times \left(\frac{1}{2}\right)^2 - 1 = -\frac{1}{2}$$

$$f(\sqrt{2}) = 2 \times (\sqrt{2})^2 - 1 = 3$$

$$f(k) = 2k^2 - 1, f(a^2) = 2(a^2)^2 - 1 = 2a^4 - 1$$

$$f(2a - 1) = 2 \times (2a - 1)^2 - 1 = 2(4a^2 - 4a + 1) - 1 = 8a^2 - 8a + 1$$

**مثال:** اگر  $f(x) = 2x - 1$  و  $g(x) = x^2 + 2$  در این صورت مطلوب است  $f(g(x))$  و  $f(g(2))$ ،  $f(5) + g(5)$

$$f(5) = 2 \times 5 - 1 = 9, g(5) = 5^2 + 2 = 27,$$

$$f(5) + g(5) = 9 + 27 = 36$$

$$(f + g)(x) = 2x - 1 + x^2 + 2 = x^2 + 2x + 1,$$

$$(f + g)(5) = 5^2 + 2 \times 5 + 1 = 36$$

$$g(2) = 2^2 + 2 = 6, f(g(2)) = f(6) = 2 \times 6 - 1 = 11$$

$$f(g(x)) = 2 \left( \frac{x^2 + 2}{g(x)} \right) - 1 = 2x^2 + 3$$

**مثال:** اگر  $f$  تابعی خطی باشد و  $f(1) = -1$  و  $f(2) = 1$ ، در این صورت ضابطه تابع  $f$  را بیابید.

**حل:** چون تابع  $f$  خطی است، پس داریم:  $f(x) = ax + b$

و در نتیجه:

$$f(1) = -1 \Rightarrow -1 = a \times 1 + b \Rightarrow a + b = -1$$

$$f(2) = 1 \Rightarrow 1 = a \times 2 + b \Rightarrow 2a + b = 1$$


$$\begin{cases} a + b = -1 \\ 2a + b = 1 \end{cases} \Rightarrow a = 2, b = -3 \Rightarrow f(x) = 2x - 3$$

# ریاضیات در سینمای جهان

اسم فیلم: اثبات<sup>۱</sup>

احسان یارمحمدی

ریاضیات  
در سینما



کارگردان: جان مَدِن<sup>۲</sup>

تهیه‌کنندگان: آلیسون اون<sup>۴</sup> و جف شارپ<sup>۵</sup>

نویسندگان: دیوید آوِرن<sup>۷</sup> و ربکا میلر<sup>۷</sup>

بازیگران: گینس پالترو<sup>۸</sup>، آنتونی هاپکینز<sup>۹</sup>، جیک گیلنهال<sup>۱۰</sup> و هاپ دیویس<sup>۱۱</sup>

مدت فیلم: ۱۰۰ دقیقه

زبان: انگلیسی<sup>۱۲</sup>

بی‌نویست.....

1. proof
2. Director
3. John Madden
4. Alison Owen
5. Jeff Sharp
6. David Auburn
7. Rebecca Miller
8. Gwyneth Paltrow
9. Anthony Hopkins
10. Jake Gyllenhaal
11. Hope Davis
12. English
13. Catherine
14. Robert
15. Harold
16. Claire

ادعا می‌کند که خودش روی این قضیه کار کرده است و ارائه اثبات برای این قضیه مهم ریاضی را به خودش نسبت می‌دهد، ولی هنگامی که دست خط ارائه شده، برای اثبات قضیه ظاهر می‌شود، حکایت از این دارد که دست خط مزبور به پدر کاترین، یعنی روبرت متعلق است. در این موقع است که همه افراد، حتی خود کاترین به سلامت عقل وی شک می‌برند.

علمی از دفترچه یادداشت پدرش سرقت علمی انجام دهد، ظنن و بدگمان می‌شود. خواهر کاترین، کلیر<sup>۱۶</sup>، که از نیویورک رسیده است به سلامت عقل کاترین شک می‌کند. کاترین به ایجاد ارتباط با هارولد می‌پردازد و به او کلید میز تحریر پدرش را می‌دهد. هارولد در میز تحریر روبرت دفترچه یادداشتی را پیدا می‌کند که در آن اثباتی از یک قضیه مهم ریاضی وجود دارد. اما کاترین

کاترین<sup>۱۳</sup> (گینس پالترو) از پدرش، روبرت<sup>۴</sup> (آنتونی هاپکینز) که ریاضی‌دانی نابغه است و چندین سال قبل دیوانه شده، مراقبت می‌کند. هنگامی که پدر او می‌میرد یکی از شاگردان سابقش به نام هارولد<sup>۱۵</sup> (جیک گیلنهال) به سراغ دفترچه یادداشت روبرت به امید کشف موضوعی می‌رود. کاترین به هارولد برای این که ممکن است وی قصد داشته باشد برای کسب اعتبار و امتیاز



# کاربرد هندسه در فیزیک

## بررسی یک مسئله زیبا

هوشنگ شرقی

اشاره

کلیدواژه‌ها:  
هندسه، فیزیک،  
تابش نور.

در باره کاربردهای مختلف ریاضیات در شاخه‌های گوناگون علوم دیگر بسیار گفته و نوشته‌اند. در این نوشتار قصد داریم نمونه‌ای از کاربرد قضایا و قوانین هندسه در فیزیک نور را نشان دهیم. خوانندگانی که در زمینه فیزیک نور و قوانین آن مطالعه کرده‌اند، حتماً به این نکته واقف‌اند که قواعد هندسه تا چه حد در این بحث مورد استفاده قرار می‌گیرند. قوانین بازتابش نور در آینه‌ها، قوانین شکست نور، منشورها و عدسی‌های محدب و مقعر و آینه‌های محدب و مقعر و مسائل کاربردی و ترکیبی آن‌ها سرشار از مسائل هندسی ناب هستند.

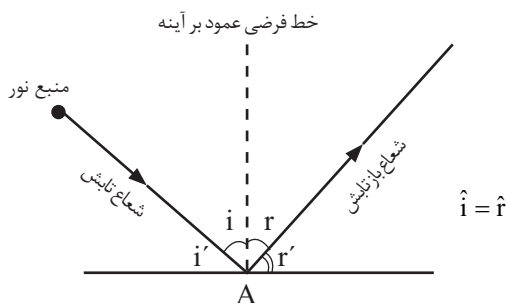
مسئله ما در اینجا مطالعه رفتار شعاع‌های تابش و بازتابش روی دو آینه عمود بر هم است، وقتی که آینه‌ها حول فصل مشترکشان دوران می‌کنند. منبع مسئله یک کتاب قدیمی فیزیک بود که یکی از همکارانم این مسئله را از آن اقتباس کرد و در اختیار این جانب قرار داد و متأسفانه نام کتاب و نویسنده آن را به خاطر نداشت. مسئله ماهیتی کاملاً هندسی دارد و در واقع یک مسئله خالص هندسی است. امید است از مطالعه آن لذت ببرید و از کاربردهای ریاضی بیش از پیش آگاهی پیدا کنید.

مسئله: دو آینه مسطح  $OM$  و  $OM'$  در نقطه  $O$  بر یکدیگر عمودند. صفحه‌ای مانند  $E$  که سوراخ کوچکی مانند  $S$  در آن تعبیه شده است، در مقابل دو آینه قرار دارد. از درون  $S$  یک شعاع نورانی عمود بر صفحه  $E$  خارج می‌شود و بعد از دو انعکاس روی دو آینه به طرف صفحه


$E$  بازمی‌گردد و روی آن لکه روشنی مانند  $S'$  می‌سازد. اکنون فرض کنید مجموعه دو آینه را حول نقطه  $O$  به اندازه زاویه متغیر  $\theta$  دوران دهیم (بدون آن که وضع دو آینه را تغییر دهیم).

**الف)** نشان دهید با این دوران جای  $S'$  تغییر نمی‌کند و در نتیجه  $SS'$  ثابت می‌ماند.

**ب)** مکان هندسی نقطه برخورد دو عمودی را که در هر حالت بر سطح دو آینه در نقطه تابش رسم می‌شوند، به دست آورید. پیش از آنکه حل مسئله و پاسخ آن را آغاز کنیم، یادآور می‌شویم که شعاع‌های تابش و بازتابش زاویه‌هایی را با خط عمود بر آینه (در نقطه تابش نور) می‌سازند که به زوایای تابش و بازتابش معروف‌اند و اندازه‌های این دو زاویه با یکدیگر برابرند:







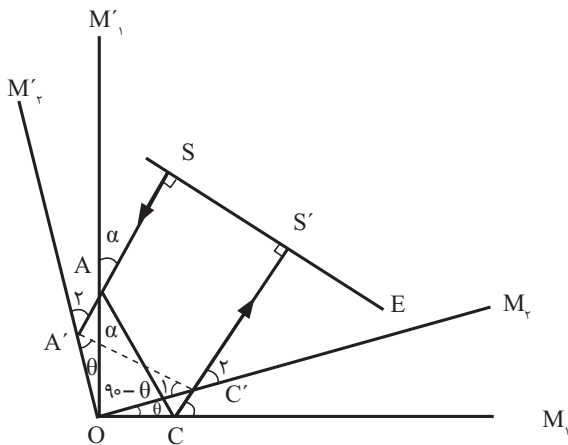
$$\widehat{S\hat{A}M'} = \widehat{C\hat{A}O} = \widehat{O\hat{A}B} = \alpha \Rightarrow \widehat{B} = 90^\circ - \alpha$$

$$\widehat{C}_r = \widehat{C}_l = 90^\circ - \alpha \Rightarrow \widehat{B} = \widehat{C}_r \Rightarrow CS' \parallel BS$$

$$\Rightarrow CS' \parallel SA \Rightarrow CS' \perp E$$

و این نتیجه برای هر وضعی که دو آینه داشته باشند (به شرطی که بر هم عمود باشند) صادق است.

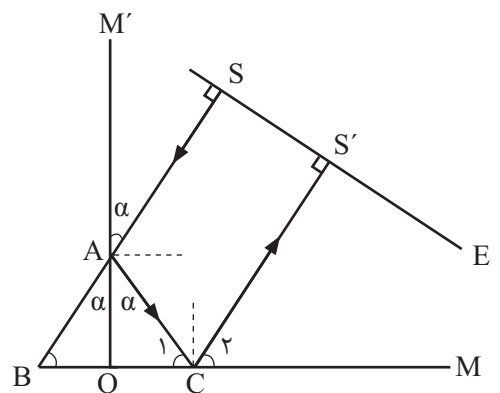
حال مجموعه دو آینه را به اندازه زاویه  $\theta$  حول O دوران می‌دهیم. شکل زیر حاصل می‌شود:



اکنون با توجه به تغییر وضع آینه‌ها، شعاع نوری SA، در همان راستا و در نقطه A' به آینه اول برخورد می‌کند و بقیه مسیر آن را فعلاً نمی‌دانیم. اما با توجه به آن چه صورت مسئله می‌گوید، می‌توانیم حدس بزنیم که باید مسیر آن A'C'S باشد (C' نقطه برخورد CS'، شعاع بازتابش قبلی، با آینه دوم در وضع جدید است)، اما اگر بخواهیم این حدس اثبات شود، باید نشان دهیم که:

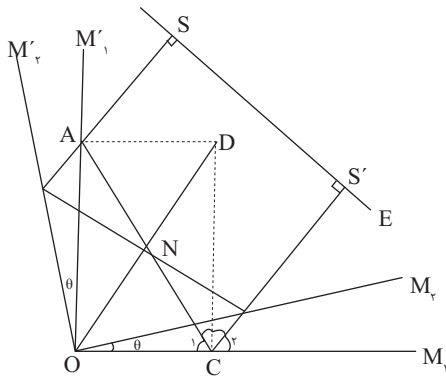
بدیهی است که در این صورت متمم‌های دو زاویه  $\hat{i}$  و  $\hat{i}'$  یعنی  $\hat{i}'$  و  $\hat{i}$  نیز با هم برابرند. این قانونی است که به قانون بازتابش نور از آینه‌های تخت معروف است و خود اثباتی هندسی دارد که در انتهای این بحث آن را می‌آوریم.

با توجه به موضوع فوق، نخستین چیزی که در این مسئله به سادگی می‌توان آن را اثبات کرد، آن است که شعاع بازتابش آخر (که به E برمی‌گردد) با شعاع تابش نخست موازی است و هر دو بر صفحه E عمودند. این موضوع در شکل زیر به سادگی دیده می‌شود:



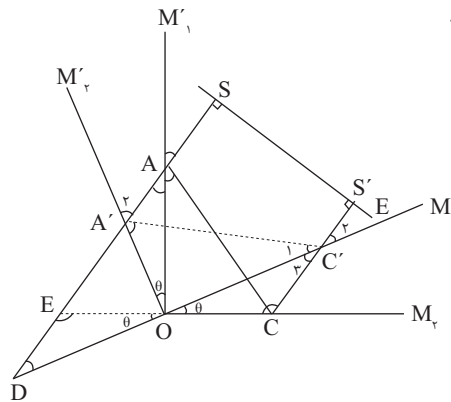
شعاع تابش SA در نقطه A به آینه OM' برخورد می‌کند و شعاع بازتابش AC از آن خارج می‌شود و در نقطه C به آینه OM و شعاع بازتابش آن در نقطه S' به صفحه E برخورد می‌کند. امتدادهای SA و OM یکدیگر را در نقطه B قطع می‌کنند. بدیهی است که با توجه به ویژگی بازتابش داریم:

و با توجه به برابری فوق، برابری  $\hat{A}' = \hat{A}'_1$  نیز نتیجه می‌شود و در نتیجه مسیر شعاع نوری پس از دوران آینه به اندازه دلخواه  $\theta$  در بازتابش نهایی بر مسیر  $CS'$  منطبق است و لذا  $SS'$  تغییر نمی‌کند. اکنون به قسمت ب می‌پردازیم:



مطابق شکل نقطه برخورد دو خط عمود بر دو آینه در دو نقطه تابش A و C را نقطه D می‌نامیم. در مستطیل OCDA، قطرهای با یکدیگر برابرند و همدیگر را نصف می‌کنند، پس  $ON=NC$  و در نتیجه:  $\hat{C}_1 = \hat{NOC}$ ؛ و چون  $\hat{C}_1 = \hat{C}_2$ ، بنابراین:  $\hat{NOC} = \hat{C}_2$  و از آنجا نتیجه می‌شود:  $OD \parallel CS'$ . دقیقاً به همین استدلال می‌توان نشان داد که همه این مستطیل‌ها در رأس O مشترک‌اند و از برخورد خطوط عمود بر نقاط تابش دو آینه تشکیل می‌شوند، پس قطر مستطیل موازی  $CS'$  و در نتیجه موازی  $AS$  و عمود بر راستای صفحه E است. لذا با تغییر مکان آینه‌ها و در نتیجه تغییر مکان D، روی خط راستی در راستای عمود بر E و گذرنده از O تغییر مکان می‌دهد و مکان هندسی آن همین خط راست است.

$\hat{A}' = \hat{A}'_1$  و  $\hat{C}'_1 = \hat{C}'_2$ ؛ و نکته جالب آن است که این دو تساوی معادل یکدیگرند، زیرا:  $\hat{A}'_1 + \hat{C}'_2 = 90^\circ$  و  $\hat{A}' + \hat{C}'_1 = 90^\circ$ ؛ بنابراین:  $\hat{A}'_1 = \hat{A}' \Leftrightarrow \hat{C}'_1 = \hat{C}'_2$  (چرا؟) پس کافی است درستی یکی از این دو تساوی را نشان دهیم. برای مثال، نشان دهیم که  $\hat{C}'_1 = \hat{C}'_2$ . برای اثبات این برابری از یک ابتکار جالب هندسی کمک می‌گیریم: امتدادهای  $SA'$  و  $OC'$  همدیگر را در نقطه D و امتداد  $OC$  نیز  $A'D$  را در نقطه E قطع می‌کنند.



حال با توجه به شکل می‌توان نوشت:

$$\left. \begin{aligned} O\hat{A}E = O\hat{A}C = \alpha \\ AOC = AOE = 90^\circ \\ AO = AO \end{aligned} \right\} \begin{aligned} & \text{(ض.ز)} \\ & \Rightarrow \Delta AOE \cong \Delta AOC \Rightarrow OC = OE \\ & \end{aligned}$$

$$CS' \perp E, DS \perp E \Rightarrow CS' \parallel DS \Rightarrow CC' \parallel DE$$

$$\Rightarrow C'\hat{C}O = D\hat{E}O, E\hat{O}D = C'\hat{O}C = \theta, OC = OE$$

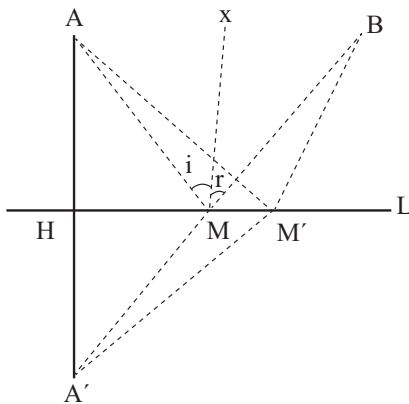
$$\Rightarrow \Delta OCC' \cong \Delta ODE \text{ (ض.ز)} \Rightarrow \hat{C}'_1 = \hat{D}, \hat{C}'_2 = \hat{C}'_1$$

$$\Rightarrow \hat{C}'_1 = \hat{D}, OC' = OD$$

$$OC' = OD, A'\hat{O}C' = A'\hat{O}D = 90^\circ, A'O = A'O \Rightarrow$$

$$\Delta A'OD \cong \Delta A'OC' \text{ (ض.ض)} \Rightarrow \hat{C}'_1 = \hat{D}, \hat{C}'_2 = \hat{D} \Rightarrow \hat{C}'_1 = \hat{C}'_2$$

### پی‌نوشت:



اثبات قانون بازتابش نور از آینه‌های تخت؛ اثبات برابری زوایای تابش و بازتابش در بازتابش نور از آینه‌های تخت براساس این اصل فیزیکی انجام می‌گیرد که:  
 «نور در طی مسیر خود همواره از مسیری می‌گذرد که شامل کمترین زمان ممکن باشد.» در این‌جا چون سرعت نور ثابت است (شعاع‌های تابش و بازتابش در یک محیط قرار دارند)، پس کم‌ترین زمان ممکن وقتی به‌دست می‌آید که نور کوتاه‌ترین مسیر را طی کند. حال مسئله ما این است:  
 یک شعاع نوری از نقطه A خارج شده و پس از برخورد با آینه در نقطه M، از نقطه B خارج شده است. شرط این که  $MA+MB$  مینیمم شود، چیست؟ برای پاسخ به این پرسش، بازتاب A نسبت به آینه، یعنی نقطه A' را می‌یابیم. حال اگر A'B را رسم کنیم و نقطه برخورد آن را با آینه M بنامیم، این همان نقطه مطلوب است، زیرا با توجه به اینکه L عمود منصف AA' است، داریم:  
 $MA = MA' \Rightarrow MA + MB = MA' + MB = A'B$   
 و برای هر نقطه دلخواه دیگر M' روی L داریم:  
 $A'M' = AM' \Rightarrow AM' + M'B = A'M' + M'B > A'B$   
 پس نقطه M همان جایی است که شعاع تابش به آینه برخورد می‌کند و در نتیجه داریم:  
 $Mx \parallel AA' \Rightarrow \hat{i} = \hat{A}, \hat{r} = \hat{A}', \hat{A} = \hat{A}' \Rightarrow \hat{i} = \hat{r}$

# آهنگ آبی و کمیت‌های وابسته

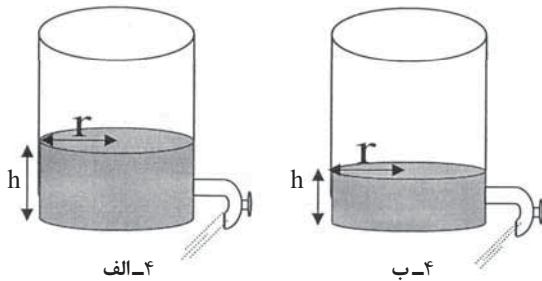
برای دانش آموزان سال  
سوم و چهارم متوسطه

سیمین اکبری زاده  
دبیر ریاضی ناحیه یک اراک

اشاره

در شماره قبل آهنگ لحظه‌ای کمیت  $A$  به کمیت  $r$  در  $r=20$  با ذکر مثال‌هایی مورد بررسی قرار گرفت، همچنین کمیت‌های وابسته با مثال‌هایی بررسی شد، اینک در پی ادامه مثال‌های کمیت‌های وابسته را می‌آوریم.

**مثال ۵:** بشکه‌ای به شکل استوانه و به شعاع قاعده ۵۰ سانتی‌متر پر از آب است. اگر شیر بشکه باز باشد و آب با سرعت  $2/5\pi$  سانتی‌متر مکعب در ثانیه در حال خارج شدن باشد، ارتفاع آب با چه سرعتی تغییر می‌کند؟



**حل:** با خارج شدن آب از بشکه، وضعیت بشکه از شکل ۴-الف به شکل ۴-ب تبدیل می‌شود و همان‌طور که از مقایسه شکل‌ها مشخص است، شعاع سطح قاعده بشکه ( $r$ ) در هر دو ثابت است؛ لذا داریم:

$$\left\{ \begin{array}{l} v: \text{حجم آب موجود در استوانه} \\ h: \text{ارتفاع آب موجود در استوانه} \\ t: \text{زمان} \end{array} \right. \text{ متغیرها} ; \left\{ \begin{array}{l} r: \text{ثابت} = 50 = \text{شعاع سطح قاعده استوانه} \\ v'(t) = -2/5\pi \text{ Cm}^3/\text{s} \end{array} \right. \text{ مفروضات} ; h'(t) = ? \text{ مجهول}$$

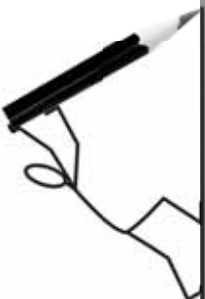
**سؤال:** فکر می‌کنید حاصل  $h'(t)$  مثبت است یا منفی؟ بله درست حدس زدید، چون با گذشت زمان،  $h$  کم شده، یعنی  $h$  بر حسب  $t$  تابع نزولی است، پس  $h'(t)$  منفی به دست می‌آید. می‌دانیم  $V = \pi r^2 h$  و چون  $r$  ثابت و  $50 \text{ cm}$  است، می‌توانیم قبل از مشتق‌گیری آن را جاگذاری کنیم، پس خواهیم داشت:

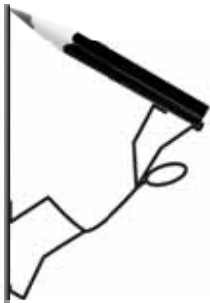
$$\text{جاگذاری} \quad \text{مشتق نسبت به } t \quad v = 2500\pi h \Rightarrow v'(t) = 2500\pi h'(t) \Rightarrow -2/5\pi = 2500\pi h'(t) \Rightarrow h'(t) = \frac{-1}{1000}$$

یعنی پس از گذشت ۱ ثانیه، ارتفاع آب موجود در بشکه  $\frac{1}{1000}$  سانتی‌متر کم می‌شود.

کلیدواژه‌ها:

آهنگ آبی،  
آهنگ تغییرات،  
مشتق و کمیت‌های  
وابسته.





(البته می توانستیم  $r=50$  را قبل از مشتق گیری وارد نکنیم، ولی در هنگام مشتق گیری نسبت به  $t$ ، با توجه به آن که  $\pi r^2$  عدد ثابت بود، داشته باشیم:  $v'(t) = \pi r^2 h'(t)$  و سپس جاگذاری کنیم).

**مثال ۶:** شن با سرعت  $10$  متر مکعب در دقیقه روی یک کپه مخروطی شکل می ریزد. شعاع قاعده این کپه همواره نصف ارتفاع آن است. سرعت ازدیاد ارتفاع این کپه را هنگامی که این ارتفاع  $5$  متر باشد، پیدا کنید.

**حل:**

$$\left. \begin{array}{l} \text{زمان: } t \\ \text{شعاع قاعده کپه مخروطی: } r \\ \text{ارتفاع کپه مخروطی: } h \\ \text{حجم کپه مخروطی: } v \end{array} \right\} \text{متغیرها} \quad \left. \begin{array}{l} \text{مفروضات: } r = \frac{h}{2} \quad \text{همواره} \\ h = 5 \text{ m} \quad \text{در لحظه خاص} \end{array} \right\} \text{مجهول: } h'(t) = ?$$

$$v = \frac{1}{3} \pi r^2 h = \frac{1}{3} \pi \left(\frac{h}{2}\right)^2 h \Rightarrow (h \text{ و } v \text{ بین}) : v = \frac{\pi}{12} h^3 \Rightarrow v'(t) = \frac{\pi}{12} (3h^2 h'(t))$$

مشتق نسبت به  $t$

$$\Rightarrow v'(t) = \frac{\pi}{4} h^2 h'(t) \xrightarrow{\text{جاگذاری}} 10 = \frac{\pi}{4} (5)^2 h'(t) \Rightarrow h'(t) = \frac{8}{5\pi} \frac{\text{m}}{\text{min t}}$$

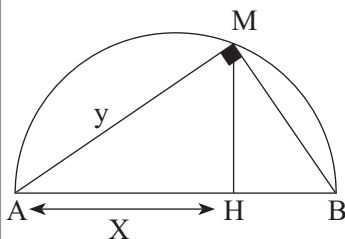
**مثال ۷:** فرض کنید  $v$  حجم و  $s$  مساحت رویه کل استوانه مستدیر قائمی باشد که ارتفاع آن  $5$  و شعاعش  $r$  متر است. مطلوب است  $\frac{dv}{ds}$  به ازای  $r=3$ .

**حل:**  $V'(S)$  مجهول است و چون نوشتن  $v$  بر حسب  $s$  مشکل است، از قضیه مشتق تابع مرکب و فرمول  $v'(s) = \frac{v'(t)}{s'(t)}$  استفاده می کنیم.

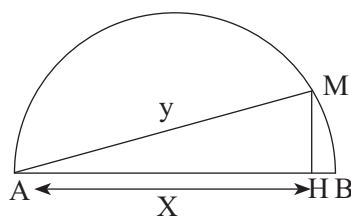
$$v = \pi r^2 h \xrightarrow{h=5 \text{ ثابت}} v = 5\pi r^2 \xrightarrow{\text{مشتق نسبت به } t} v'(t) = 10\pi r'(t) \Rightarrow v'(t) = 30\pi r'(t)$$

$$s = 2\pi r^2 + 2\pi r h \xrightarrow{h=5 \text{ ثابت}} s = 2\pi r^2 + 10\pi r \xrightarrow{\text{مشتق نسبت به } t} s'(t) = 4\pi r r'(t) + 10\pi r'(t) \Rightarrow s'(t) = 22\pi r'(t)$$

$$v'(s) = \frac{v'(t)}{s'(t)} = \frac{30\pi r'(t)}{22\pi r'(t)} = \frac{15}{11}$$



۵- الف



۵- ب

**مثال ۸:** نقطه  $M$  بر روی نیم دایره ای به قطر  $AB=9$  در حرکت است. تصویر نقطه  $M$  بر قطر  $AB$  با سرعت ثابت  $0.5$  واحد در ثانیه از نقطه  $A$  دور می شود. در لحظه ای که این فاصله  $6/25$  واحد است، سرعت افزایش طول وتر  $AM$  را بیابید.

حل: وقتی نقطه M حرکت می کند، وضعیت آن از شکل ۵-الف به شکل ۵-ب تبدیل می شود.

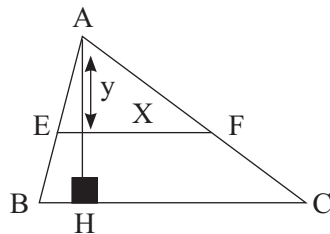
$$\left\{ \begin{array}{l} \text{متغیرها} \\ t: \text{ زمان} \\ y: \text{ فاصله نقطه M تا نقطه A} \\ x: \text{ فاصله تصویر نقطه M بر AB تا نقطه A} \end{array} \right. ; \text{ مفروضات: } \left\{ \begin{array}{l} |AB| = 9 = \text{ عدد ثابت} \\ x'(t) = +\frac{5}{100} \\ y'(t) = ? \text{ مجهول} \\ \text{در لحظه خاص } x = 6/25 \end{array} \right.$$

می دانیم مثلث AMB قائم الزاویه است و در مثلث قائم الزاویه، مربع هر ضلع زاویه قائمه برابر است با حاصل ضرب وتر در تصویر آن ضلع بر وتر، یعنی  $|AM|^2 = |AB||AH|$ ؛ پس داریم:

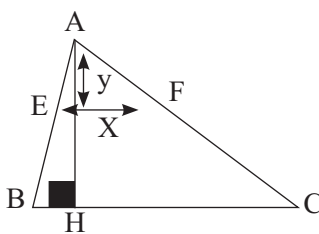
جاگذاری و \* مشتق نسبت به t

$$(y^2 = 10x \Rightarrow 2yy'(t) = 10x'(t) \Rightarrow 2(7/5)y'(t) = 10(5/100) \Rightarrow y'(t) = 0.3$$

(\*) در لحظه خاص  $y^2 = 10x \Rightarrow y^2 = 10(6/25) \Rightarrow y = 7/5$



۶-الف



۶-ب

مثال ۹: در مثلثی به طول قاعده ۳۲ و ارتفاع ۲۸ واحد، خطی موازی قاعده با سرعت ۰/۰۲ واحد در ثانیه به رأس مقابل آن نزدیک می شود و با دو ضلع دیگر این مثلث، مثلث های متشابه می سازد. در لحظه ای که فاصله این خط تا رأس مقابل ۷ واحد است، سرعت کاهش مساحت مثلث را بیابید.

حل: وقتی پاره خط EF به رأس A نزدیک می شود، وضعیت مثلث از شکل ۶-الف به ۶-ب تبدیل می شود و همان طور که از مقایسه دو شکل معلوم است، داریم:

$$\left\{ \begin{array}{l} \text{متغیرها} \\ t: \text{ زمان} \\ x: \text{ طول خط موازی قاعده (طول EF)} \\ y: \text{ فاصله خط موازی قاعده تا رأس مقابل} \\ s: \text{ مساحت مثلث بالا (مثلث AEF)} \end{array} \right. ; \text{ مفروضات: } \left\{ \begin{array}{l} y'(t) = -\frac{2}{100} \\ S'(t) = ? \text{ مجهول} \\ y = 7 \end{array} \right.$$

$$\left. \begin{array}{l} \text{مساحت مثلث بالا } S = \frac{xy}{2} \\ \Delta AEF \sim \Delta ABC \Rightarrow \frac{x}{32} = \frac{y}{28} \Rightarrow x = \frac{8}{7}y \end{array} \right\} \Rightarrow \text{مشتق نسبت به t} \Rightarrow S = \frac{8}{14}y^2 \Rightarrow s'(t) = \frac{16}{14}yy'(t) \Rightarrow s(t) = \frac{8}{7}y^2$$

جاگذاری

$$\Rightarrow s'(t) = \frac{8}{7} \times 7 \times \frac{-2}{100} = \frac{-16}{100}$$

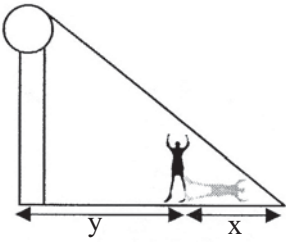
یعنی پس از گذشت ۱ ثانیه، مساحت مثلث بالا  $\frac{16}{100}$  واحد مربع کاهش می یابد.

سخنی برای گوش شنوا: اگر از طرفین فرمول  $S = \frac{xy}{2}$  نسبت به t مشتق بگیریم، در هنگام جاگذاری با مشکل مواجه می شویم، چون با  $X'(t)$  مواجه خواهیم شد که در فرض مسئله داده نشده است؛ لذا به کمک فرمول دیگری، x را از این فرمول حذف کردیم.

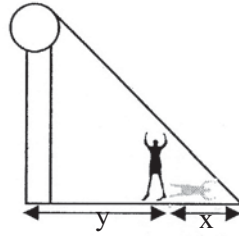
مثال ۱۰: پسری به قد ۱/۵ متر با سرعت ۱/۲۵ متر بر ثانیه به طرف چراغی که در ارتفاع ۴ متری بالای زمین نصب شده است، حرکت می کند. وقتی که او در ۲/۵ متری پایه چراغ واقع می شود، الف) سرعت تغییرات طول سایه پسر را بیابید.







الف-۷



ب-۷

ب) انتهای سایه پسر با چه سرعتی به پایه چراغ نزدیک می شود؟

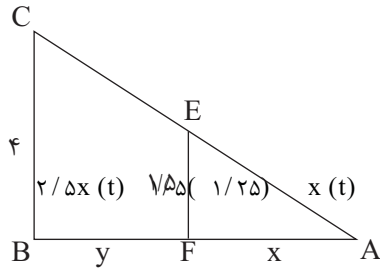
حل: الف) وقتی فرد به طرف تیر چراغ برق حرکت می کند وضعیت از شکل ۷-الف به ۷-ب تبدیل می شود و همان طور که از مقایسه دو شکل معلوم می شود، داریم:

$$\begin{cases} \text{زمان: } t \\ \text{متغیرها: } \begin{cases} \text{طول سایه پسر: } x \\ \text{فاصله پسر تا تیر چراغ برق: } y \end{cases} \end{cases} ; \begin{cases} \text{مفروضات: } \begin{cases} y'(t) = -1/25 \frac{m}{s} \\ \text{مجهول: } \begin{cases} \text{الف: } x'(t) = ? \\ \text{ب: } x'(t) + y'(t) = ? \end{cases} \end{cases} \end{cases}$$

$$\text{الف) } ABC \sim AEF \Rightarrow \frac{4}{1/5} = \frac{x+y}{x} \Rightarrow 4x = 1/5x + 1/5y$$

$$\Rightarrow \frac{2}{5}x = 1/5y \quad \text{مشتق نسبت به } t \Rightarrow 2/5x'(t) = 1/5y'(t)$$

$$\text{جاگذاری} \Rightarrow 2/5x'(t) = 1/5(-1/25) \Rightarrow x'(t) = -0.75 \frac{m}{s}$$

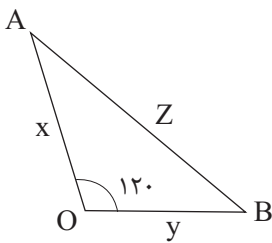


یعنی پس از گذشت ۱ ثانیه، سایه فرد ۰/۷۵ متر کمتر می شود.

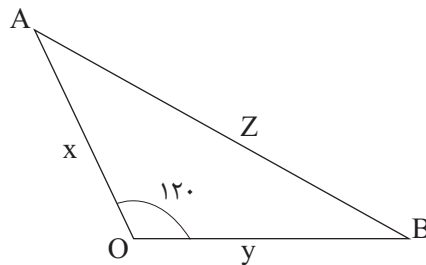
$$\text{ب) } x'(t) + y'(t) = -1/25 - 0.75 = -2 \frac{m}{s}$$

مثال ۱۱: دو کشتی A و B روی دو خط که با هم زاویه ۱۲۰° می سازند در حال دور شدن از نقطه O هستند هرگاه در لحظه معین OA=۸km و OB=۶km و سرعت کشتی A برابر ۲۰ کیلومتر در ساعت و سرعت کشتی B برابر ۳۰ کیلومتر در ساعت باشد، فاصله بین دو کشتی با چه سرعتی زیاد می شود؟

حل:




الف-۸



ب-۸

وقتی دو کشتی از نقطه O دور می شوند، وضعیت آن ها از شکل ۸-الف به ۸-ب تبدیل می شود. با مقایسه شکل ها داریم:

$$\begin{cases} \text{زمان: } t \\ \text{متغیرها: } \begin{cases} \text{فاصله کشتی A از نقطه O: } x \\ \text{فاصله کشتی B از نقطه O: } y \\ \text{فاصله دو کشتی: } z \end{cases} \end{cases} ; \begin{cases} \text{مفروضات: } \begin{cases} x'(t) = +20 \cdot \frac{km}{h} \\ y'(t) = +30 \cdot \frac{km}{h} \\ \text{مجهول: } z'(t) = ? \end{cases} \\ \text{در لحظه خاص } x = 8km \\ \text{در لحظه خاص } y = 6km \end{cases}$$





$\Delta$   
 $OAB$  قضیه کسینوس ها در  $z^2 = x^2 + y^2 - 2xy \cos 120^\circ \Rightarrow$  (ارتباط بین  $x$  و  $y$  و  $z$ )  
 $z^2 = x^2 + y^2 + xy$

مشتق نسبت به  $t$

$$\Rightarrow 2zz'(t) = 2xx'(t) + 2yy'(t) + x'(t)y + y'(t)x$$

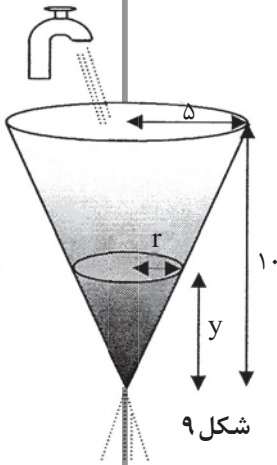
جاگذاری و\*

$$\Rightarrow 2(2\sqrt{37})z'(t) = 2(6)(30) + 2(8)(20) + 30(8) + 20(6) \Rightarrow z'(t) = \frac{260}{\sqrt{37}}$$

$$z^2 = x^2 + y^2 + xy \xrightarrow[x=8]{y=6} z^2 = 36 + 64 + 48 \Rightarrow z^2 = 148 \Rightarrow z = 2\sqrt{37} (*)$$

**مثال ۱۲.** ظرف مخروطی شکلی به ارتفاع ۱۰ متر و شعاع قاعده ۵ متر مفروض است. سوراخی در رأس ظرف تعبیه شده است و آب در لحظه‌ای که عمقش  $y$  است با سرعت  $0.8\sqrt{y}$  متر مکعب در دقیقه از طرف خارج می‌شود. از طرف دیگر آب با سرعت ثابت  $C$  متر مکعب در دقیقه وارد مخزن می‌شود. در لحظه‌ای که عمق آب  $\frac{1}{4}$  متر است، مشاهده می‌شود که عمق آن با سرعت  $0.2$  متر در دقیقه افزایش می‌یابد. آیا با این شرایط مخزن پر خواهد شد؟ چرا؟

**حل:** وقتی آب موجود در ظرف تغییر می‌کند، خواهیم داشت:



$$\left\{ \begin{array}{l} \text{زمان: } t \\ \text{متغیرها: } y \\ \text{عمق آب موجود در ظرف: } y \\ \text{شعاع سطح قاعده آب موجود در ظرف: } r \\ \text{حجم آب موجود در ظرف: } v \end{array} \right. ; \text{ مفروضات: } \left\{ \begin{array}{l} \text{در لحظه خاص } y = \frac{25}{4} \\ y'(t) = +\frac{2}{100} \end{array} \right.$$

برای یافتن جواب سؤال، اولاً با توجه به فرض، تغییر خالص حجم برای عمق  $y$  عبارت است از:

$$v'(t) = C - 0.8\sqrt{y} \quad ; \quad \text{پس برای } y = \frac{25}{4} \text{ داریم: } v'(t) = C - \frac{1}{5}$$

$$\text{ثانیاً: } v = \frac{1}{3}\pi r^2 y \text{ و با توجه به تشابه مثلث‌ها: } \left( \begin{array}{c} 5 \\ \hline r \\ \hline y \\ \hline 10 \end{array} \right) \Rightarrow r = \frac{1}{2}y \text{ پس } \frac{r}{5} = \frac{y}{10} \text{ داریم:}$$

و از این دو ارتباط بین  $V$  و  $y$  (آنچه آهنگ تغییرش نسبت به  $t$  مجهول است یا داده شده است) به دست می‌آید.

جاگذاری  
 مشتق نسبت به  $t$   
 $(y \text{ و } V \text{ ارتباط بین } v = \frac{\pi}{12}y^3 \Rightarrow v'(t) = \frac{\pi}{12}y^2 y'(t) \Rightarrow v'(t) = \frac{\pi}{12}(\frac{25}{4})^2(\frac{2}{100}) = \frac{25\pi}{128}$

یعنی در لحظه‌ای که  $y = \frac{25}{4}$ ، طبق فرض ۴ مسئله داریم:  $v'(t) = \frac{25\pi}{128}$ . طبق فرض ۲ و ۳ مسئله نیز برای  $y = \frac{25}{4}$  به دست آوردیم  $v'(t) = C - \frac{1}{5}$  پس باید  $C - \frac{1}{5} = \frac{25\pi}{128}$  در نتیجه  $C = \frac{25\pi}{128} + \frac{1}{5} \approx 0.8$  باشد. لذا برای عمق  $y$  داریم:  $v'(t) = 0.8 - 0.8\sqrt{y}$  و چون برای  $0 \leq y \leq 10$  همواره  $v'(t) > 0$  برقرار است، بنابراین مخزن پر خواهد شد.

**منابع**

۱. حساب دیفرانسیل و انتگرال و هندسه تحلیلی، جلد اول جورج توماس، راس
۲. فیزی، ترجمه: مهدی بهزاد، سیامک کاظمی، علی کافی
۳. جورج ب. توماس، ترجمه: علی اکبر جعفریان، ابوالقاسم میامنی
۴. لیت هولد، ترجمه: دکتر علی اکبر عالم‌زاده

# بسته نرم افزاری متمتیکا

دکتر محمدعلی فریبرزی عراقی

عضو هیات علمی گروه ریاضی

دانشگاه آزاد اسلامی واحد تهران مرکزی

مقدمه

یکی از مباحث مهم و اساسی در نظریه حساب دیفرانسیل و انتگرال، مفهوم مشتق یک تابع است که در کتب حسابان سال سوم متوسطه و ریاضی دوره پیش دانشگاهی روی آن بحث شده است. اهمیت مشتق به دلیل کاربردهای زیاد آن در علمی چون فیزیک و مکانیک است. در این قسمت، خوانندگان گرامی را با دستورالعمل‌های محاسبه مشتق یک تابع در محیط بسته نرم افزاری متمتیکا آشنا می‌کنیم. متمتیکا می‌تواند عملیات مربوط به محاسبه مشتقات متوالی یک تابع را (در صورت وجود) به شکلی ساده انجام دهد. در متمتیکا چندین راه برای محاسبه مشتق وجود دارد که می‌توان هر یک را که مناسب‌تر بود برای انجام اعمال مشتق‌گیری استفاده کرد.

## ۲. دستورالعمل D

این دستورالعمل که به صورت زیر تعریف می‌شود، مشتق تابع  $f$  را نسبت به متغیر  $x$  به دست می‌آورد:

$$D[f(x), x]$$

**مثال ۲:** مشتق تابع  $f$  با ضابطه  $f(x) = \sqrt{x}$  به صورت زیر به دست می‌آید:

$$D[\sqrt{x}, x]$$

$$\frac{1}{2\sqrt{x}}$$

همچنین برای محاسبه مشتق مرتبه  $n$  تابع  $f$  ( $n \in \mathbb{N}$ ) نسبت به متغیر  $x$  از دستور  $D$  به صورت زیر استفاده می‌کنیم:

$$D[f(x), \{x, n\}]$$

**مثال ۳:** در این مثال، مشتق اول و سوم تابع  $f$  با ضابطه  $f(x) = \frac{1}{x}$  محاسبه شده است. توجه شود که چون ابتدا ضابطه تابع جداگانه معرفی شده، باید ابتدا با فشار همزمان دکمه‌های Shift+Enter پس از تایپ ضابطه  $f$  و علامت «؛» این تابع را در متمتیکا معرفی کرد و سپس دستورالعمل‌های  $D$  را برای محاسبه مشتق‌های  $f$  به کار برد.

$f(x) = \frac{1}{x}$

$$f[x-] = \frac{1}{x};$$

## ۱. دستورالعمل‌های $f'$ ، $f''$ و ...

به منظور محاسبه مشتقات متوالی تابع مفروض  $f$  می‌توان ابتدا ضابطه این تابع را در متمتیکا تعریف و سپس دستورالعمل  $f'[x]$ ،  $f''[x]$  و ... را برای محاسبه مشتق اول، مشتق دوم و ... اجرا کرد. با فشار همزمان دکمه‌های Shift+Enter هر یک از مشتق‌ها جداگانه حساب می‌شوند:

ضابطه تابع  $f[x-]$ ;

$$f'[x]$$

$$f''[x]$$

$$f'''[x]$$

**مثال ۱:** در این مثال، مشتقات اول تا سوم تابع  $f$  با ضابطه  $f(x) = x^5 - 4x + 7x^2 - 6x^3 + 2x^4$  محاسبه شده‌اند.

$$f[x-] = x^5 - 4x + 7x^2 - 6x^3 + 2x^4;$$

$$f'[x]$$

$$-4 + 7x - 18x^2 + 8x^3 + 5x^4$$

$$f''[x]$$

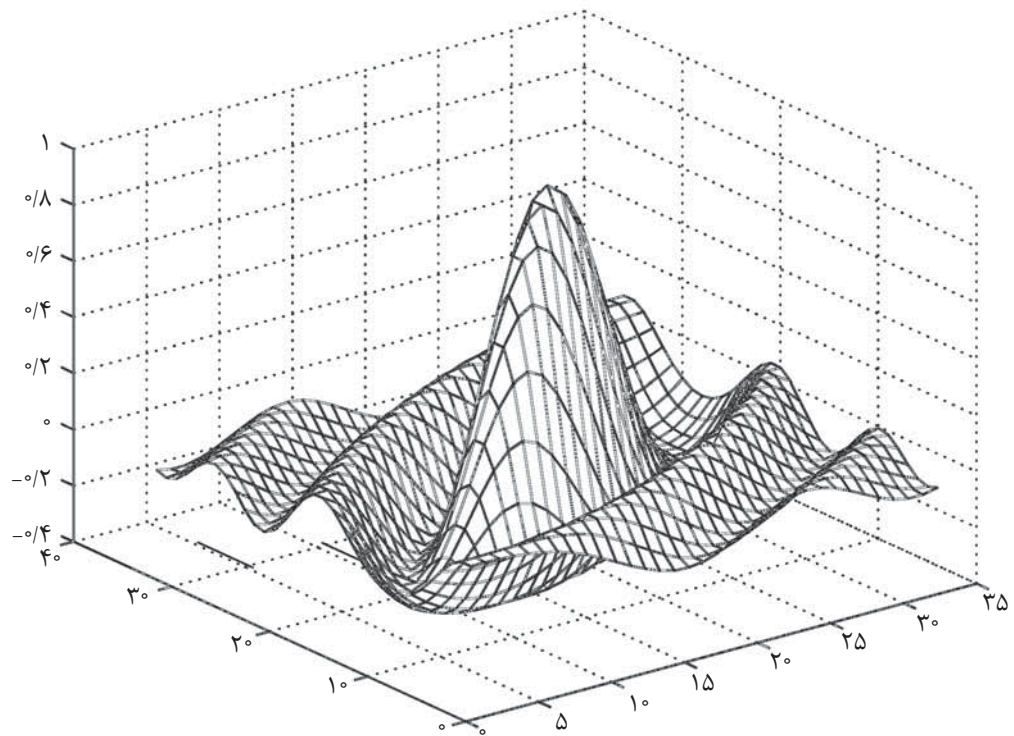
$$7 - 36x + 24x^2 + 20x^3$$

$$f'''[x]$$

$$-36 + 48x + 60x^2$$

## کلیدواژه‌ها:

مشتق، دستورالعمل  $D$ ، مشتق راست و چپ، دستورالعمل Derivative



$$\frac{1}{x}$$

$$D[\text{Log}[x], \{x, 2\}]$$

$$-\frac{1}{x^2}$$

**نکته:** می‌دانیم  $f'(a) = \lim_{h \rightarrow 0} \frac{f(a+h) - f(a)}{h}$ . به عبارت

دیگر اگر حد کسر  $\frac{f(a+h) - f(a)}{h}$  وقتی  $h$  به سمت صفر

میل می‌کند، وجود داشته باشد، آنگاه مقدار این حد مشتق تابع

$f$  در  $x=a$  است. با استفاده از دستور Limit می‌توان مطابق

تعریف مشتق، حاصل مشتق تابع مفروض  $f$  را در نقطه  $x=a$

یافت.

**مثال ۶:** فرض کنید  $f(x) = e^x$  مطلوب است  $f'(a)$  با استفاده از تعریف مشتق.

**حل:**

$$f[x] = e^x;$$

$$\text{Limit} \left[ \frac{f[a+h] - f[a]}{h}, h \rightarrow 0 \right]$$

$$e^a$$

$$f'(a) = e^a$$

بنابراین  $f'(a) = e^a$  گفتنی است برای ورود عدد نپر در صفحه متمتیکا کافی است

در پنجره Basic Math Input روی نماد  $(\mathbb{E})$  کلیک کنیم. در این

$$D[f(x), x]$$

$$-\frac{1}{x^2}$$

$$D[f(x), \{x, 3\}]$$

$$-\frac{6}{x^4}$$

**مثال ۴:** فرض کنید  $f(x) = \text{Sin}x$  در زیر مشتقات اول تا چهارم تابع  $f$

با به‌کارگیری دستورالعمل D محاسبه شده‌اند. در این مثال، ضابطه  $f$

جداگانه تعریف نشده و در داخل دستور D مطرح شده است.

$$D[\text{Sin}[x], x]$$

$$\text{Cos}[x]$$

$$D[\text{Sin}[x], \{x, 2\}]$$

$$-\text{Sin}[x]$$

$$D[\text{Sin}[x], \{x, 3\}]$$

$$-\text{Cos}[x]$$

$$D[\text{Sin}[x], \{x, 4\}]$$

$$\text{Sin}[x]$$

**مثال ۵:** در این مثال مشتقات اول و دوم تابع  $f$  با ضابطه  $f(x) = \text{Ln}x$

به دست آمده‌اند. توجه شود که در متمتیکا این تابع به صورت

$\text{Log}[x]$  تعریف می‌شود (یعنی لگاریتم در مبنای عدد نپر).

$$D[\text{Log}[x], x]$$

**نکته:** با به کارگیری دستورالعمل  $D$  به صورت زیر می توان فرمول های مشتق های جمع (یا تفریق)، ضرب و تقسیم دو تابع مفروض  $f$  و  $g$  را یافت. در مورد مشتق عمل تقسیم، می توان با به کارگیری دستورالعمل Simplify عبارت خروجی را ساده کرد. همچنین مشتق ترکیب این دو تابع به صورت  $(fog)'(x)$  نیز با این دستور قابل محاسبه است که در زیر نتیجه به شکل  $f'(g(x)).g'(x)$  به دست آمده است.

$$D[f[x]+g[x], x]$$

$$f'[x] + g'[x]$$

$$D[f[x] g[x], x]$$

$$g[x] f'[x] + f'[x] g'[x]$$

$$D[f[x] / g[x], x]$$

$$\frac{f'[x] g[x] - f[x] g'[x]}{g[x]^2}$$

$$D[f[g[x]], x]$$

$$f'[g[x]] g'[x]$$

**مثال ۹:** فرض کنید  $f(x) = \tan x$  و  $g(x) = \cos x$ ، مطلوب است  $(f+g)'(n)$  و  $(f \times g)'(x)$  و مشتق  $\ln(f(x)+g(x))$  در  $x=\pi$ .

**حل:** ابتدا ضابطه های  $f$  و  $g$  را جداگانه در دو سطر مختلف تعریف و بعد از هر کدام علامت «» را تایپ و هر سطر را با فشار دکمه های Shift+Enter اجرا می کنیم تا این توابع در حافظه ذخیره شوند. سپس با به کارگیری دستور  $D$  به صورت زیر، نتایج موردنظر را به دست می آوریم:

$$f[x-] = \tan[x];$$

$$g[x-] = \cos[x];$$

$$D[f[x]+g[x], x]$$

$$\sec[x]^2 - \sin[x]$$

$$D[f[x] g[x], x]$$

$$\cos[x]$$

$$D[\log[f[x]+g[x]], x] / . x \rightarrow \pi$$

-۱

**مثال ۱۰:** فرض کنید  $f(x) = x^2 + 1$  و  $g(x) = \sqrt{x}$ ، مطلوب است  $(g.f)'(0)$ .

**نکته:** می دانیم  $f'(a) = \lim_{h \rightarrow 0} \frac{f(a+h) - f(a)}{h}$ . به عبارت دیگر اگر حد کسر  $\frac{f(a+h) - f(a)}{h}$  وقتی  $h$  به سمت صفر میل می کند، وجود داشته باشد، آنگاه مقدار این حد مشتق تابع  $f$  در  $x=a$  است

پنجره تمام نمادهای معروف ریاضی وجود دارد و به راحتی با کلیک روی هر یک از آنها نماد موردنظر روی صفحه ظاهر می شود. البته چون می خواهیم  $e^x$  را تایپ کنیم، باید ابتدا در این پنجره روی نماد توانرسانی  $\square^{\square}$  کلیک و سپس روی نماد عدد نپر  $\text{⓪}$  کلیک کنیم و سپس با فشار دکمه Tab به مربع بالایی رویم و  $x$  را در آن تایپ کنیم. تأکید می شود که اگر حرف  $e$  را در صفحه تایپ کنید، متمتیکا آن را به عنوان عدد نپر در نظر نمی گیرد.

**مثال ۷:** فرض کنید  $f[x] = \sqrt[3]{x}$ ، مطلوب است  $f'(a)$ .

**حل:** با توجه به تعریف مشتق

$$f[x-] = \sqrt[3]{x}; \quad f[x] = \sqrt[3]{x};$$

$$\text{Limit} \left[ \frac{f[a] - f[a-h]}{h}, h \rightarrow 0 \right]$$

$$\frac{1}{3a^{2/3}}$$

$$\text{لذا } f'(a) = \frac{1}{3a^{2/3}}$$

**نکته:** در صورتی که بخواهیم مقدار مشتق تابع  $f$  را در نقطه  $x=a$  از دامنه تابع  $f$  به دست آوریم می توانیم از دستورالعمل  $D$  به صورت زیر استفاده کنیم:

$$D[f[x], x] / . x \rightarrow a$$

**مثال ۸:** گیریم  $f(x) = \sin \sqrt{x}$ ، مطلوب است  $f'(1)$ .

**حل:**

$$f[x-] = \sin[\sqrt{x}];$$

$$D[f[x], x] / . x \rightarrow 1$$

$$\frac{2 \cos[1]}{3}$$

$$\text{بنابراین } f'(1) = \frac{2}{3} \cos 1$$



حل:

$$f[x-] = x^2 + 1;$$

$$g[x-] = \sqrt{x};$$

$$D[g[f[x]], x] /. x \rightarrow \bullet$$

بنابراین:  $(g.f)'(0) = 0$ .

مثال ۱۱: گیریم  $f(x) = (\sqrt{1+x^2} - x)^v$  و

$$g(x) = (\sqrt{1+x^2} + x)^v \text{، مطلوب است } (f \times g)'(x)$$

حل:

$$f[x-] = (\sqrt{1+x^2} - x)^v;$$

$$g[x-] = (\sqrt{1+x^2} + x)^v;$$

$$\text{Simplify } [D[f[x] g[x], x]]$$

بنابراین  $(f \times g)'(x) = 0$ . توجه شود که اگر دستورالعمل

Simplify استفاده نشود، حاصل  $(f \times g)'(x)$  بدون ساده شدن و به شکل یک عبارت طولانی که نتیجه مشتق  $f \times g$  است مشخص می‌شود. لذا به‌کارگیری این دستور برای ملاحظه شکل ساده شده مشتق توصیه می‌شود.

مثال ۱۲: مطلوب است مشتق تابع  $f$  با ضابطه  $f(x) = x^2 \sqrt{x^2 + 1}$

حل:

$$\text{Simplify } [D[x^2 \sqrt{x^2 + 1}, x]]$$

$$\frac{2x(3 + 4x^2)}{3(1 + x^2)^{2/3}}$$

در این مثال نیز از دستور Simplify برای ساده کردن حاصل مشتق تابع  $f$  استفاده شده است.

**نکته:** می‌دانیم تابع  $f$  در  $x=a$  وقتی مشتق پذیر است که مقادیر مشتقات راست و چپ این تابع در  $x=a$  وجود داشته و برابر باشند. با استفاده از تعریف مشتق راست و چپ و دستورالعمل Limit می‌توان به بررسی مشتق پذیری تابع  $f$  در یک نقطه پی برد.

مثال ۱۳: آیا تابع  $f$  با ضابطه  $f(x) = |x|$  در  $x=0$  مشتق پذیر است؟

در صورتی که بخواهیم مقدار مشتق تابع  $f$  را در نقطه  $x=a$  از دامنه تابع  $f$  به دست آوریم می‌توانیم از دستورالعمل D به صورت زیر استفاده کنیم:

$$D[f[x], x] /. x \rightarrow a$$

حل:

$$f[x-] = \text{Abs}[x];$$

$$\text{Limit} \left[ \frac{f[x]-f[0]}{x}, x \rightarrow \bullet, \text{Direction} \rightarrow 1 \right]$$

-۱

$$\text{Limit} \left[ \frac{f[x]-f[0]}{x}, x \rightarrow \bullet, \text{Direction} \rightarrow -1 \right]$$

۱

بنابراین چون مقادیر مشتق‌های راست و چپ به تعریف ۱ و -۱ شده و این مقادیر برابر نیستند، این تابع در  $x=0$  مشتق پذیر نیست.

### ۳) دستور $\partial_x$ (یا $\partial_{x,x}$ ):

صورت کلی این دستور عبارت است از:

$$\partial_{\square} (f \text{ ضابطه تابع } f)$$

$$\partial_{\square\square} (f \text{ ضابطه تابع } f)$$

نماد  $\partial_{\square}$  (یا  $\partial_{\square\square}$ ) در پنجره Basic Math Input وجود دارد و با کلیک روی این نماد می‌توان آن را در صفحه متمتیکا وارد و درون  $\square$  متغیر موردنظر را تایپ و سپس ضابطه تابع  $f$  را درون پرانتز تایپ کرد. نماد  $\partial_x$  به معنای مشتق نسبت به متغیر  $x$  و نماد  $\partial_a$  به معنای مشتق نسبت به متغیر  $a$  است.

مثال ۱۴: در این مثال مشتق توابع با ضابطه‌های  $x^0 + 3x^1 + \sin x$ ،  $\tan x$  و  $\sin(ax+b)$  نسبت به متغیر  $x$  به ترتیب محاسبه شده‌اند:

$$\partial_x (x^0 + 3x^1)$$

$$12x^3 + 5x^4$$

$$\partial_{x,x} (\text{Tan}[x])$$

$$2 \text{Sec}[x]^2 \text{Tan}[x]$$

$$\partial_x (\text{Sin}[x]^2)$$

$$2 \text{Cos}[x] \text{Sin}[x]$$

$$\partial_{x,x} (\text{Sin}[ax + b]^2)$$

$$2a^2 \text{Cos}[b + ax]^2 \text{Sin}[b + ax] - 2a^2 \text{Sin}[b + ax]^2$$

در آخر، برای مرور دستورالعمل‌های  $\partial$  و  $D$  مشتق چند تابع به دست آمده است.

مثال ۱۸:

(الف) مطلوب است مشتق تابع با ضابطه  $\frac{1}{\cos x} + \tan x$  در  $x = \frac{\pi}{3}$

(ب) مطلوب است مشتق تابع با ضابطه  $\sqrt{\cos x}$

(ج) مطلوب است مشتق تابع با ضابطه  $2^x$

(د) مطلوب است مشتق تابع  $f$  با ضابطه  $f(x) = \frac{e^{2x} + e^x + 1}{e^x + 1}$

حل: (الف)

$$\partial_x \left( \frac{1}{\cos[x]} + \tan[x] \right) / x \rightarrow \frac{\pi}{3}$$

$$4 + 2\sqrt{3}$$

(ب)

$$D \left[ \sqrt{\cos[x]}, x \right]$$

$$-\frac{\sin[x]}{2\cos[x]^{3/2}}$$

(ج)

$$D[2^x, x]$$

$$2^x \log[2]$$

(د)

$$f[x] = \frac{e^{2x} + e^x + 1}{e^x + 1}$$

Simplify  $[D[f[x], x]]$

$$\frac{e^{2x}(2+e^x)}{(1+e^x)^2}$$

به خوانندگان گرامی پیشنهاد می‌شود مسائل مبحث مشتق در کتاب حسابان یا ریاضی عمومی را با به‌کارگیری دستورالعمل‌های فوق به عنوان تمرین حل کنند تا به این دستورها مسلط شوند. در قسمت بعد روی کاربردهای مشتق با استفاده از متمتیکا می‌پردازیم.

منابع:

- کتاب درسی حسابان ۱ و ۲ سال سوم رشته ریاضی و ریاضی عمومی ۱ و ۲ دوره پیش‌دانشگاهی رشته تجربی، ۱۳۹۰.
- Mathematica, Second Edition, Eugene Don, Schaum's outline series, McGraw Hill, 2009.

به خوانندگان گرامی پیشنهاد می‌شود مسائل مبحث مشتق در کتاب حسابان یا ریاضی عمومی را با به‌کارگیری دستورالعمل‌های فوق به عنوان تمرین حل کنند تا به این دستورها مسلط شوند. در قسمت بعد روی کاربردهای مشتق با استفاده از متمتیکا می‌پردازیم.

مثال ۱۵: اگر  $f(x, a) = x^2 a + x a^2$ ، مطلوب است مشتق  $f$

نسبت به  $a$  و مشتق  $f$  نسبت به  $x$ .

حل:

$$\partial_a (x^2 a + x a^2)$$

$$2x a + x^2$$

$$\partial_x (x^2 a + x a^2)$$

$$2x a^2 + x^2$$

نکته: با استفاده از دستورالعمل  $\partial$  می‌توان به صورت زیر مشتق

مرتبه  $n \geq 1$  تابع  $f$  را یافت.

$$\partial_{\{x,n\}} (f \text{ ضابطه تابع } f)$$

مثال ۱۶: مطلوب است مشتق سوم تابع  $f$  با ضابطه

$$f(x) = (3x + 2)^5$$

حل:

$$\partial_{\{x,3\}} ((3x + 2)^5)$$

$$1620(2 + 3x)^2$$

#### ۴) دستورالعمل Derivative:

واژه Derivative به معنای مشتق است و این دستور نیز مشابه دستورالعمل‌های قبلی برای محاسبه مشتق یک تابع استفاده می‌شود.

صورت کلی این دستور عبارت است از:

$$\text{Derivative}[n][f][x]$$

با اجرای این دستور مشتق  $n$ ام ( $n \geq 1$ ) تابع مفروض  $f$  نسبت به

متغیر  $x$  به دست می‌آید.

مثال ۱۷: اگر  $f(x) = e^{3x}$ ، مطلوب است  $f'(x)$  و  $f''(x)$ .

حل:

$$f[x] = e^{3x};$$

$$\text{Derivative}[1][f][x]$$

$$3e^{3x}$$

$$\text{Derivative}[2][f][x]$$

$$9e^{3x}$$

آموزش

۲

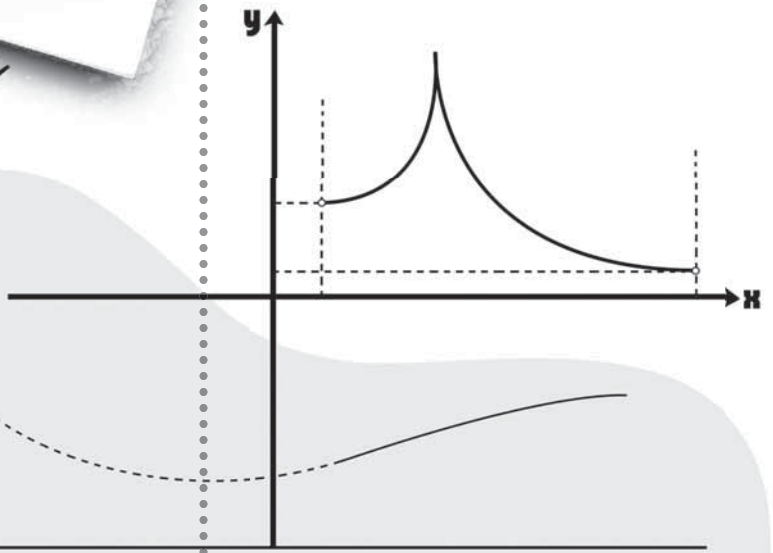
# رسم نمودار تابع

$$f(x) = \sqrt{\frac{ax+b}{cx+d}}$$

احسان یارمحمدی

## کلیدواژه‌ها:

رسم نمودار،  
مجموعه تهی،  
جدول تغییرات،  
مجانب قائم و افقی،  
مشق صعودی، دامنه.

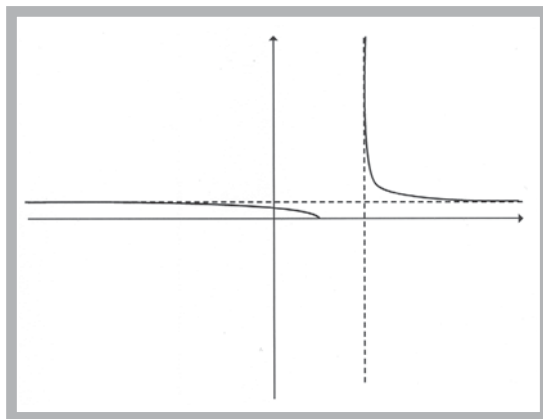
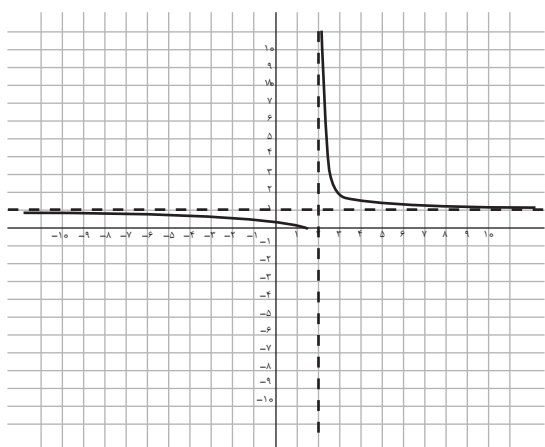


## حالت هفتم

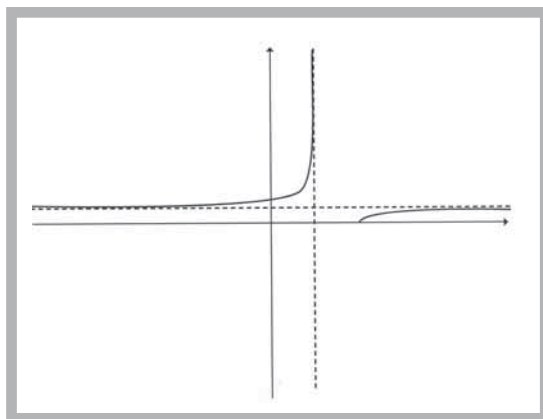
اگر در تابع  $f(x) = \sqrt{\frac{ax+b}{cx+d}}$  داشته باشیم:  
 $a > 0, b < 0, c < 0, d < 0$  یا  $a < 0, b > 0, c < 0, d > 0$  در این صورت، تابع مزبور دارای دامنه‌ی  $D_f = (-\infty, -\frac{b}{a}] \cup (-\frac{d}{c}, +\infty)$  است.  
یا  $D_f = (-\infty, -\frac{d}{c}] \cup [-\frac{b}{a}, +\infty)$  مجانب افقی  $y = \sqrt{\frac{a}{c}} > 0$  و مجانب قائم  $x = -\frac{d}{c} > 0$  است و نمودار آن شبیه یکی از منحنی‌های زیر خواهد بود:

موضوع این مقاله بحث و بررسی رسم نمودار تابع می‌دانیم که تابع  $f(x) = \sqrt{\frac{ax+b}{cx+d}}$ ،  $a, b, d \in \mathbb{R}, c \in \mathbb{R} - \{0\}$  در ضمن می‌نامند. بنابراین اگر شما ریاضی‌آموزان، آشنایی لازم و کافی را با تابع هموگرافیک و رسم نمودار آن داشته باشید، به علت تشابه‌های مشترک بین توابع هموگرافیک و  $f(x) = \sqrt{\frac{ax+b}{cx+d}}$ ،  $c \neq 0$  درک بهتر و مفیدتری از این مقاله خواهید داشت. در شماره قبل به بررسی ۶ حالت مختلف برای این پرداختیم. اینک در ادامه آن، حالت‌های دیگری را بررسی می‌کنیم.

$x$	$-\infty$	$\frac{1}{2}$	$2$	$+\infty$
$f'(x)$	—	—	—	—
$f(x)$	—	—	—	—



یا



تمرین ۷: جدول تغییرات و نمودار تابع  $f(x) = \sqrt{\frac{4x-8}{x-6}}$  را رسم کنید

### حالت هشتم

اگر در تابع  $f(x) = \sqrt{\frac{ax+b}{cx+d}}$  داشته باشیم:  $a < 0, b > 0, c > 0, d < 0$  یا  $a > 0, b < 0, c < 0, d > 0$ . در این صورت، تابع مزبور دارای دامنه  $D_f = [-\frac{b}{a}, -\frac{d}{c}]$  و مجانب قائم  $x = -\frac{d}{c} > 0$  است و مجانب افقی ندارد و نمودار آن شبیه یکی از منحنی‌های زیر خواهد بود:

مثال ۷: جدول تغییرات و نمودار تابع  $f(x) = \sqrt{\frac{1-2x}{4-2x}}$  را رسم کنید.  
 حل: دامنه‌ی تابع مزبور  $D_f = (-\infty, \frac{1}{2}] \cup (2, +\infty)$ ، مجانب افقی آن  $y = 1$  و مجانب قائم آن  $x = 2$  است.

$$f(x) = \sqrt{\frac{1-2x}{4-2x}} \Rightarrow f'(x) = \frac{-3}{(4-2x)^2} \times \sqrt{\frac{1-2x}{4-2x}} < 0 \Rightarrow f(x) \text{ نزولی}$$

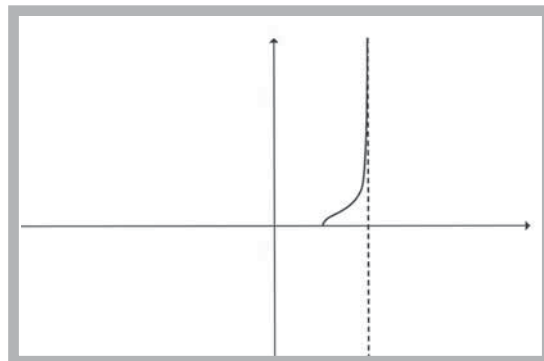


تمرین ۸: جدول تغییرات و نمودار تابع  $f(x) = \sqrt{\frac{x-6}{1-x}}$  را رسم کنید.

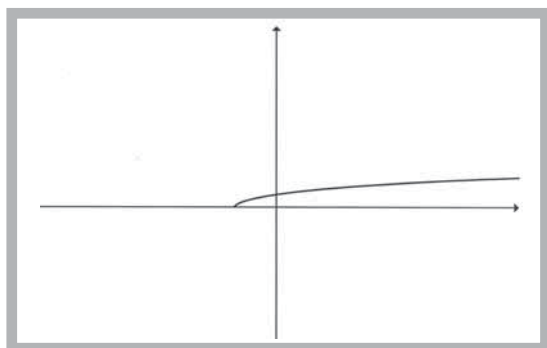
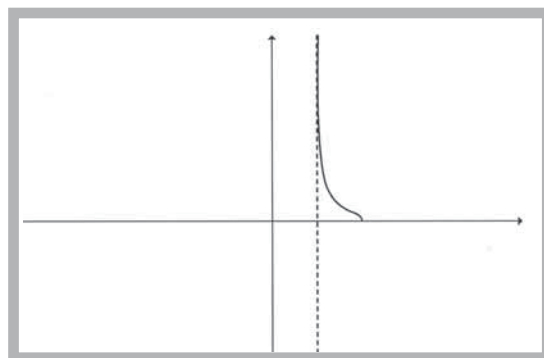
### حالت نهم

در تابع  $f(x) = \sqrt{\frac{ax+b}{cx+d}}$  اگر داشته باشیم  $c=0$  و  $a > 0, b > 0, d > 0$  یا  $a < 0, b < 0, d < 0$ ، تابع مزبور به

صورت  $f(x) = \sqrt{\frac{a}{d}x + \frac{b}{d}}$  تبدیل می‌شود و دامنه‌ی آن  $D_f = [-\frac{b}{a}, +\infty)$  است، مجانب قائم و مجانب افقی ندارد و نمودار آن شبیه شکل زیر است:



یا

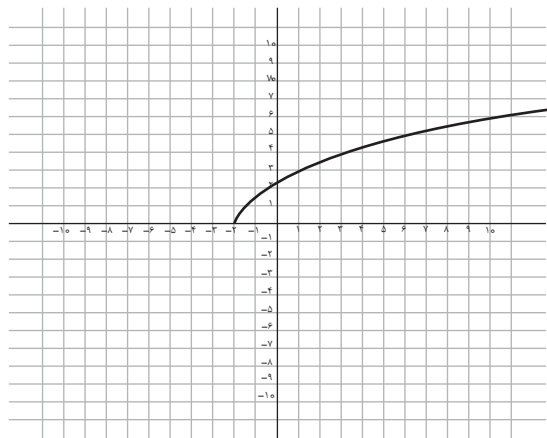


مثال ۹: جدول تغییرات و نمودار تابع  $f(x) = \sqrt{\frac{6x+12}{x}}$  را رسم کنید.

حل: دامنه‌ی تابع  $f(x) = \sqrt{\frac{6x+12}{x}} = \sqrt{3x+6}$  برابر با  $D_f = [-2, +\infty)$  است و تابع مزبور دارای مجانب افقی و مجانب قائم نیست.

$$f(x) = \sqrt{3x+6} \Rightarrow f'(x) = \frac{-3}{2\sqrt{3x+6}} > 0 \Rightarrow f(x) \text{ صعودی}$$

x	$-\infty$	$+\infty$
f'(x)		+
f(x)	o	$+\infty$

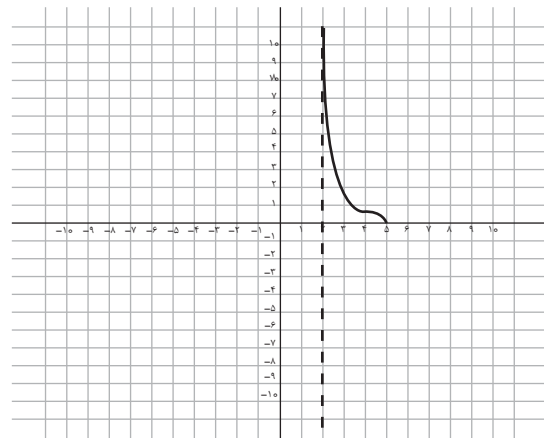


مثال ۸: جدول تغییرات و نمودار تابع  $f(x) = \sqrt{\frac{\Delta-x}{x-2}}$  را رسم کنید.

حل: دامنه‌ی تابع مزبور  $D_f = (2, \Delta]$ ، مجانب قائم آن  $x = 2$  است و مجانب افقی ندارد.

$$f(x) = \sqrt{\frac{\Delta-x}{x-2}} \Rightarrow f'(x) = \frac{-3}{2(x-2)^2 \times \sqrt{\frac{\Delta-x}{x-2}}} < 0 \Rightarrow f(x) \text{ نزولی}$$

x	$-\infty$	2	$\Delta$	$+\infty$
f'(x)		-		
f(x)		$+\infty$	o	



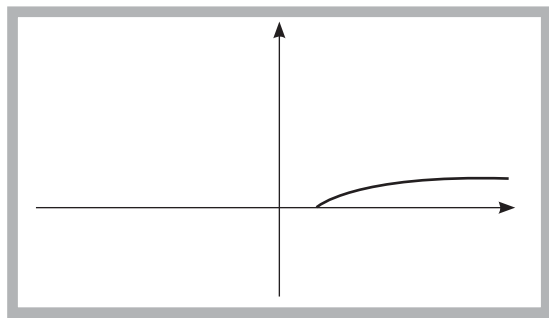


**تمرین ۱۰:** جدول تغییرات و نمودار تابع  $f(x) = \sqrt{-6x - 24}$  را رسم کنید.

**تمرین ۹:** جدول تغییرات و نمودار تابع  $f(x) = \sqrt{2x + 4}$  را رسم کنید.

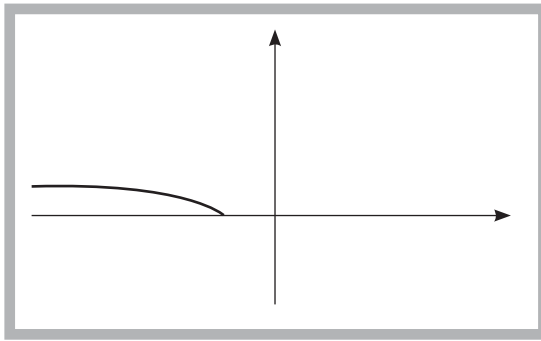
### حالت یازدهم.....

در تابع  $f(x) = \sqrt{\frac{ax+b}{cx+d}}$  اگر داشته باشیم  $c=0$  و  $a > 0, b < 0, d > 0$  یا  $a < 0, b > 0, d < 0$ ، تابع مزبور به صورت  $f(x) = \sqrt{\frac{a}{d}x + \frac{b}{d}}$  تبدیل می‌شود، دامنه‌ی آن  $D_f = [-\frac{b}{a}, +\infty)$  است و مجانب قائم و مجانب افقی ندارد و نمودار آن شبیه منحنی زیر خواهد بود:



### حالت دهم.....

در تابع  $f(x) = \sqrt{\frac{ax+b}{cx+d}}$  اگر داشته باشیم  $c=0$  و  $a > 0, b > 0, d < 0$  یا  $a < 0, b < 0, d > 0$ ، تابع مزبور به صورت  $f(x) = \sqrt{\frac{a}{d}x + \frac{b}{d}}$  تبدیل می‌شود و دامنه‌ی آن  $D_f = (-\infty, -\frac{b}{a}]$  است، مجانب قائم و مجانب افقی ندارد و نمودار آن شبیه منحنی زیر خواهد بود:



منبع

۱. حسابان (رشته‌ی ریاضی و فیزیک)، مؤلفان: بهمن اصلاح‌پذیر، ناصر پروچردیان، ابراهیم ریحانی، محمدتقی طاهری تنجانی و وحید عالمیان، ناشر: شرکت چاپ و نشر کتاب‌های درسی ایران، ۱۳۸۹.

۲. ریاضیات ۲ (رشته‌های علوم تجربی - ریاضی و فیزیک)، مؤلفان: علی ایرانمنش، محسن جمالی، حمیدرضا ربیعی، ابراهیم ریحانی، احمد ششاهورانی و وحید عالمیان، ناشر: شرکت چاپ و نشر کتاب‌های درسی ایران، ۱۳۸۹.

**مثال ۱۱:** جدول تغییرات و نمودار تابع  $f(x) = \sqrt{\frac{10x-50}{2}}$  را رسم کنید.

**مثال ۱۰:** جدول تغییرات و نمودار تابع  $f(x) = \sqrt{\frac{12x+18}{-3}}$  را رسم کنید.

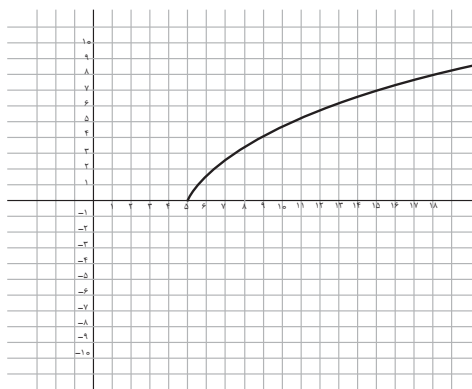
**حل:** دامنه‌ی تابع  $f(x) = \sqrt{\frac{10x-50}{2}} = \sqrt{5x-25}$  برابر با  $D_f = [5, +\infty)$  است و تابع مزبور مجانب افقی و مجانب قائم ندارد.

**حل:** دامنه‌ی تابع  $f(x) = \sqrt{\frac{12x+18}{-3}} = \sqrt{-4x-6}$  برابر با  $D_f = (-\infty, \frac{3}{4}]$  است و تابع مزبور مجانب افقی و مجانب قائم ندارد.

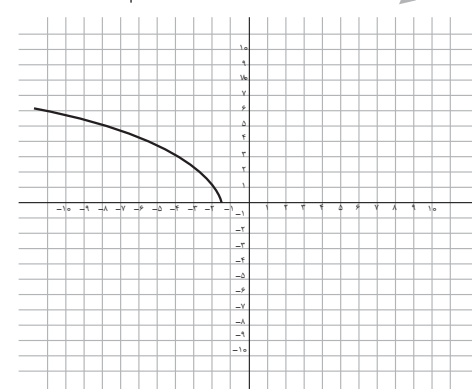
$f(x) = \sqrt{5x-25} \Rightarrow f'(x) = \frac{5}{2\sqrt{5x-25}} > 0 \Rightarrow f(x)$  صعودی

$f(x) = \sqrt{-4x-6} \Rightarrow f'(x) = \frac{-2}{\sqrt{-4x-6}} > 0 \Rightarrow f(x)$  نزولی

x	5	$+\infty$
$f'(x)$		+
$f(x)$	o	$+\infty$



x	$-\infty$	$+\infty$
$f'(x)$		-
$f(x)$	$+\infty$	o



۳. حسابان (رشته‌ی ریاضی و فیزیک)، مؤلفان: محمدحسن بیژن‌زاده، غلام علی فرشادی و یدالله ایلخانی‌پور، ناشر: شرکت چاپ و نشر کتاب‌های درسی ایران، ۱۳۸۷.

۴. حساب دیفرانسیل و انتگرال و هندسه‌ی تحلیلی جدید، مؤلف: ریچارد ا. سیلورمن، مترجم: علی اکبر عالم‌زاده، ناشر: انتشارات علمی و فنی، ۱۳۷۰.

۵. حساب و دیفرانسیل و انتگرال، مؤلف: تام.م. آپوستل، مترجم: علی‌رضا ذکایی، مهدی رضایی دلفی، علی‌اکبر عالم‌زاده و فرخ فیروزان، ناشر: مرکز نشر دانشگاهی، ۱۳۸۰.

$$ax^2 + bx + c = 0$$

سید محمدرضا هاشمی موسوی

## کلیدواژه‌ها:

حل معادله،  
معادله درجه دوم،  
معادله تقلیل یافته.

زیر هستند:

$$x = X + \beta = \frac{\pm\sqrt{\Delta} - b}{2a} - \frac{b}{2a}; \quad x = \frac{-b \pm \sqrt{\Delta}}{2a}$$

کاربرد: از این روش برای تبدیل هر معادله درجه  $n$  به

صورت عمومی زیر:

$$a_n x^n + a_{n-1} x^{n-1} + a_{n-2} x^{n-2} + \dots + a_1 x + a_0 = 0$$

به معادله ناقص زیر استفاده می‌شود:

$$x = X - \frac{b}{na}; \quad X^n + pX^{n-2} + \dots + k + s = 0$$

برای مثال، با تبدیل  $x = X - \frac{b}{3a}$ ، معادله درجه سوم

عمومی  $ax^3 + bx^2 + cx + d = 0$  به معادله درجه سوم  
کانونی  $X^3 + pX + q = 0$  تبدیل می‌شود و به جای بحث  
روی مبین معادله عمومی، بحث روی مبین معادله کانونی  
انجام می‌شود. ( $\Delta = 4p^3 + 27q^2$ )

## ۱۲) روش پارامترهای نامعین معادله تقلیل یافته (HM)

فرض می‌کنیم معادله تقلیل یافته معادله  $x^2 + px + q = 0$ 

به صورت  $x + A = B$  باشد (هر معادله به صورت عمومی (۱)  
با تقسیم معادله بر  $a \neq 0$  به صورت فوق تبدیل می‌شود). حال دو

طرف معادله تقلیل یافته را به توان ۲ می‌رسانیم:

$$x^2 + 2Ax + A^2 = B^2; \quad x^2 + 2Ax + A^2 - B^2 = 0$$

از مقایسه دو معادله، دستگاه زیر حاصل می‌شود:

$$\begin{cases} 2A = p \\ A^2 - B^2 = q \end{cases}; \quad A = \frac{p}{2}; \quad B^2 = \left(\frac{p}{2}\right)^2 - q = \frac{p^2 - 4q}{4} = \frac{\Delta}{4}; \quad B = \frac{\pm\sqrt{\Delta}}{2}$$

$$x = B - A = \frac{\pm\sqrt{\Delta}}{2} - \frac{p}{2} = \frac{-p \pm \sqrt{\Delta}}{2}; \quad x = \frac{-p \pm \sqrt{\Delta}}{2}$$

روش برای حل  
معادله درجه دوم و  
کاربردهای آنها

اشاره

در شماره ۷۰ مجله، ده روش برای حل  
معادله درجه دوم ارائه شد، اینک در ادامه، بقیه روش‌های  
حل معادله درجه دوم را می‌آوریم.

## ۱۱) روش تبدیل

در این روش کافی است که در معادله (۱)  $x$  را به  $X + \beta$ 

تبدیل کنیم:

$$ax^2 + bx + c = 0 \quad (1)$$

$$x = X + \beta: a(X + \beta)^2 + b(X + \beta) + c = 0 \quad (2)$$

پس از اختصار لازم:

$$aX^2 + (2a\beta + b)X + a\beta^2 + b\beta + c = 0 \quad (3)$$

برای حل معادله (۳) کافی است مقدار  $\beta$  را چنان تعیین کنیمکه ضریب  $X$  صفر شود (به معادله درجه دوم ناقص تبدیل شود):

(۴)

$$2a\beta + b = 0; \quad \beta = \frac{-b}{2a}; \quad aX^2 + a\left(\frac{-b}{2a}\right)^2 + b\left(\frac{-b}{2a}\right) + c = 0$$

پس از اختصار لازم به معادله درجه دوم ناقص زیر می‌رسیم:

$$aX^2 - \frac{b^2 - 4ac}{4a} = 0; \quad X^2 = \frac{b^2 - 4ac}{4a^2} = \frac{\Delta}{4a^2}; \quad X = \frac{\pm\sqrt{\Delta}}{2a}$$

بنابراین، ریشه‌های معادله درجه دوم (۱) به صورت

انجام می‌شود. برای حل معادله‌های کلاسیک فوق کافی است مزدوج معادله را به  $\Delta$  نشان دهیم و معادله‌های مزدوج را در یک دستگاه حل کنیم:

$$\begin{cases} a \tan x + b \cot x = c \\ a \tan x - b \cot x = y \end{cases} \Rightarrow \begin{cases} \sqrt{a} \tan x = c + y \\ \sqrt{a} \cot x = c - y \end{cases}; \sqrt{ab} \tan x \cot x = c^2 - y^2$$

$$y^2 = c^2 - 4ab; y = \pm \sqrt{c^2 - 4ab}; \tan x = \frac{c \pm \sqrt{c^2 - 4ab}}{\sqrt{a}}$$

$$\cot x = \frac{c \mp \sqrt{c^2 - 4ab}}{\sqrt{b}}$$

### ● روش‌های آنالیزی

#### ۱۴) روش سلسله کسرها نامتناهی (HM)

ابتدا معادله عمومی درجه دوم  $ax^2 + bx + c = 0$  یا

$$x^2 + \frac{b}{a}x + \frac{c}{a} = 0 \text{ را با تبدیل } x = \frac{-b}{c}X \text{ (یا } x = \frac{X}{M} \text{) به}$$

معادله  $X^2 - kX - k = 0$  تحویل می‌دهیم.

(در این جا برای القای روش موردنظر معادله را برای  $k=1$

حل می‌کنیم).

این معادله را به صورت زیر می‌نویسیم:

$$(X > 0) \quad X^2 = kX + k; \quad X = k + \frac{k}{X} \quad (k = \frac{-b^2}{ac})$$

در این جا معادله  $Y$  فوق را می‌توان به صورت سلسله

کسرها نامتناهی نشان داد:

پس:

$$X = k + \frac{k}{X}, \quad k=1: \quad X = 1 + \frac{1}{1 + \frac{1}{1 + \frac{1}{1 + \dots}}}$$

پس:

$$1, 1 + \frac{1}{1}, 1 + \frac{1}{1 + \frac{1}{1}}, 1 + \frac{1}{1 + \frac{1}{1 + \frac{1}{1}}}, \dots, X \rightarrow X_1 > 0$$

بنابراین، دنباله زیر به ریشه مثبت معادله اصلی می‌گراید:

$$1, 2, 1\frac{1}{2}, 1\frac{2}{3}, 1\frac{3}{5}, 1\frac{5}{8}, \dots \rightarrow X_1 = \frac{1 + \sqrt{5}}{2} \approx 1/618$$

(برای اطلاع بیش تر رجوع کنید به مجله شماره ۳۰ آشنایی

با ریاضیات)

کاربرد: هر معادله درجه  $n$  ام  $x^n + px + q = 0$  با این

روش قابل حل است.



کاربرد: هر معادله درجه زوج به صورت عمومی

$$x^{2n} + px^{2n-1} + \dots + q = 0 \text{ را می‌توان با این روش حل کرد.}$$

#### ۱۳) روش دستگاه مزدوج (HM)

برای تشکیل دستگاه مزدوج، ابتدا معادله (۱) را بر  $x$  تقسیم

$$\frac{1}{x}(ax^2 + bx + c) = 0 \text{ می‌کنیم.}$$

(چون  $c \neq 0$ , پس:  $x \neq 0$ )

$$ax + b + cx^{-1} = 0; \quad ax + cx^{-1} = -b$$

اکنون مزدوج معادله اخیر را به  $\Delta$  نمایش می‌دهیم و دستگاه

مزدوج زیر را تشکیل می‌دهیم:

$$\begin{cases} ax + cx^{-1} = -b & \text{(جمع دو معادله)} \\ ax - cx^{-1} = y & \text{(تفاضل دو معادله)} \end{cases} \Rightarrow \begin{cases} 2ax = -b + y \\ 2cx^{-1} = -b - y \end{cases}$$

$$4acxx^{-1} = b^2 - y^2 \text{ (ضرب دو معادله)}$$

$$y^2 = b^2 - 4ac = \Delta; \quad y = \pm \sqrt{\Delta}; \quad x = \frac{y - b}{2a} = \frac{-b \pm \sqrt{\Delta}}{2a}$$

کاربرد: این روش برای خطی سازی مسئله‌های درجه

دوم (یا از درجات بالاتر) به کار می‌رود. این روش هم چنین

برای حل معادله‌های کلاسیک  $a \sin x + b \cos x = c$  و یا

$a \tan x + b \cot x = c$  و غیره به سهولت و سادگی خاصی

### ۱۵) روش سلسله رادیکال‌های نامتناهی (HM)

ابتدا با توجه به روش ۱۴ معادله عمومی (۱) یا  $x^2 + \frac{b}{a}x + \frac{c}{a} = 0$  را با تبدیل  $x = \frac{-b}{a}X$  (یا  $x = \frac{X}{m}$ ) به معادله  $X^2 - X - k = 0$  تحویل می‌دهیم. (در این جا برای القای روش موردنظر، معادله را برای  $k=1$  حل می‌کنیم).

این معادله را به صورت زیر می‌نویسیم:

$$(X > 0) \quad X^2 = X + k; \quad X = \sqrt{k + X} \quad (k = \frac{-ac}{b^2})$$

در این جا، معادله فوق را می‌توان به صورت سلسله

رادیکال‌های نامتناهی نشان داد:

$$X = \sqrt{k + \sqrt{k + \sqrt{k + \dots}}}; \quad k=1: X = \sqrt{1 + \sqrt{1 + \sqrt{1 + \dots}}}$$

پس:

$$\sqrt{1}, \sqrt{1 + \sqrt{1}}, \sqrt{1 + \sqrt{1 + \sqrt{1}}}, \sqrt{1 + \sqrt{1 + \sqrt{1 + \sqrt{1}}}}, \dots \rightarrow X_1 > 0$$

بنابراین، دنباله زیر به ریشه مثبت معادله اصلی می‌گراید:

$$1, \sqrt{2}, \sqrt{1 + \sqrt{2}}, \sqrt{1 + \sqrt{1 + \sqrt{2}}}, \dots \rightarrow X_1 = \frac{1 + \sqrt{5}}{2} \approx 1.618$$

کاربرد: با این روش و روش قبل (روش ۱۴) می‌توان

معادله درجه  $n$  به صورت عمومی

$$x^n + px + q = 0$$

را حل کرد. البته این نوع روش حل، یک روش تقریبی است

که می‌توان با ادامه و تکرار عمل با هر تقریب دلخواه به ریشه‌های

معادله دست یافت (برای اطلاع بیشتر رجوع کنید به شماره ۳۰

آشنایی با ریاضیات).

### ۱۶) روش نیوتن (تکرار)

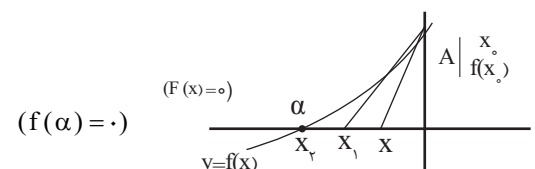
فرمول روش نیوتن را می‌توان به دو طریق به دست آورد:

الف) روش هندسی (ترسیم مماس)

ب) روش تقریبی (با استفاده از بسط تیلور)

در این جا تعبیر مختصری از روش هندسی (ترسیم مماس)

به این صورت است که با توجه به نمودار زیر:



اگر  $X$  تقریبی از  $\alpha$  (ریشه معادله) باشد، از نقطه  $A$  واقع بر

منحنی  $y=f(x)$  به طول  $X$  مماس بر این منحنی رسم می‌کنیم و

محل تلاقی آن را با محور طول‌ها  $X_1$  می‌نامیم (مانند شکل).

اگر این عمل را تکرار کنیم (رسم مماس‌ها) بدیهی است که

به تقریب دلخواه (به ریشه معادله) نزدیک می‌شویم. اگر  $X$  معلوم

باشد، برای به دست آوردن  $X_1$  باید معادله خط مماس بر منحنی

$y=f(x)$  را در نقطه  $(X, f(X))$  بنویسیم و محل تلاقی آن را

با محور  $X$ ها تعیین کنیم. ضریب زاویه این خط  $f'(X)$  است:

(معادله خط مماس در  $X$ )  $y - f(X) = f'(X)(x - X)$

محل تلاقی این خط با محور طول‌ها را  $(X_1, 0)$  در نظر

می‌گیریم: پس:

$$0 - f(X) = f'(X)(X_1 - X)$$

با فرض  $f'(X) \neq 0$  داریم  $X_1 = X - \frac{f(X)}{f'(X)}$  و با

تکرار روش نیوتن به فرمول بازگشتی تکرار زیر می‌رسیم:

$$X_1 = X - \frac{f(X)}{f'(X)} \quad (*)$$

برای معادله درجه دوم (۱) داریم  $f'(X_n) = 2aX_n + b$  و

با تکرار عمل (\*) به ریشه معادله با تقریب دلخواه خواهیم رسید.

کاربرد: روش نیوتن برای حل هر معادله کلاسیک

یا غیر کلاسیک قابل استفاده است. (البته با داشتن شرایط

مشتق پذیری).

### ۱۷) روش استفاده از اکستریم تابع (ماکزیمم یا می‌نیمم)

#### تابع (HM)

می‌دانیم معادله درجه دوم عمومی  $ax^2 + bx + c = 0$  در واقع

طول‌های نقاط برخورد منحنی تابع با ضابطه  $y = ax^2 + bx + c$  با

محور  $X$ ها را به ما می‌دهد ( $y=0$ ).

بنابراین خاصیت‌های اساسی این تابع می‌تواند ما را به

ریشه‌های معادله نزدیک کند. طول نقاط اکستریم (ماکزیمم یا

می‌نیمم) تابع، ریشه‌های مشتق تابع هستند:

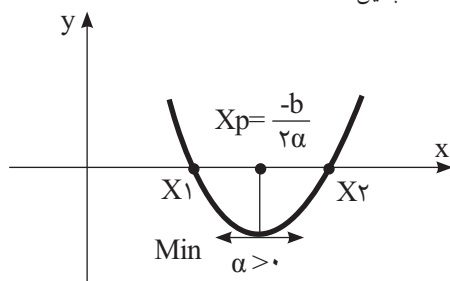
(طول اکستریم تابع)

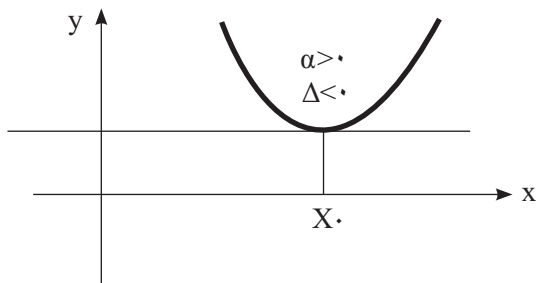
$$y' = 2ax_p + b = 0; \quad x_p = -\frac{b}{2a}$$

می‌دانیم در حالت  $a > 0$  تابع درجه دوم دارای می‌نیمم و در

حالت  $a < 0$  دارای ماکزیمم است. در واقع نمودارهای منحنی در

این دو حالت چنین است:



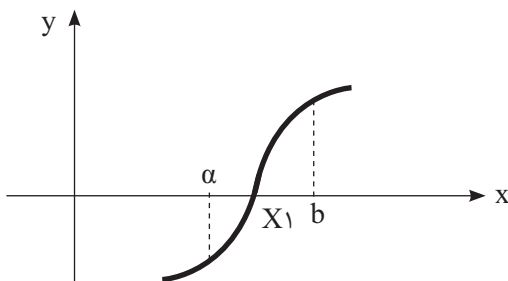


بنابراین در حالت  $\Delta < 0$  معادله درجه دوم عمومی دارای ریشه‌های حقیقی نیست.

### روش عددی (تکرار) ساده‌تر

#### 18) روش تنصیف (نصف کردن بازه)

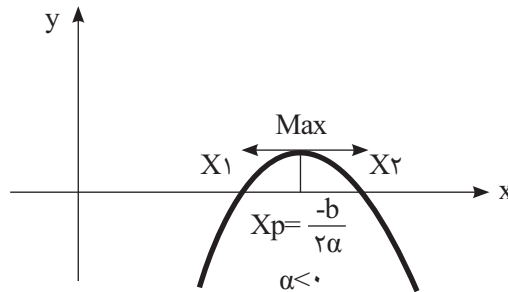
این روش را برای تعیین ریشه‌های حقیقی یا ریشه‌های تکراری معادله می‌توان به کار برد. در صورتی که تابع درجه دوم مورد نظر بر بازه  $[a, b]$  پیوسته و علامت آن در دو سر بازه مختلف باشد  $(f(a) \cdot f(b) < 0)$  بدیهی است که تابع درجه دوم مورد نظر بر  $[a, b]$  اکیداً صعودی یا اکیداً نزولی است. با این مفروضات تابع درجه دوم فوق بر بازه  $(a, b)$  تنها دارای یک ریشه حقیقی مانند  $x_1$  است. هدف در این روش ساخت دنباله‌ای مثل  $\{x_n\}$  است که به ریشه  $x_1$  همگرا باشد؛ یعنی  $\lim_{n \rightarrow \infty} x_n = x_1$  (شکل 1) (ملاحظه شود).  
 $y = ax^2 + bx + c$



به همین دلیل، بازه  $[a, b]$  را به دو بخش برابر تقسیم می‌کنیم و قرار می‌دهیم:

$$x_1 = \frac{a+b}{2} = \alpha$$

پس،  $x_1$  وسط بازه  $[a, b]$  قرار دارد و این بازه را به دو زیر بازه  $[a, x_1]$  و  $[x_1, b]$  افراز می‌کنیم (یعنی بازه مورد نظر به دو بخش یا دو بازه افراز می‌شود). اگر  $f(\alpha) = 0$ ، آن‌گاه  $x_1 = \alpha$  و در غیر این صورت ریشه  $\alpha$  در یکی از دو زیر بازه مذکور قرار دارد. با توجه به قضیه مقدار میانی، اگر  $f(\alpha) \cdot f(x_1) < 0$ ، در  $[a, x_1]$  و اگر  $f(x_1) \cdot f(b) < 0$ ، در  $[x_1, b]$  قرار دارد. برای ادامه کار بدیهی است که  $\alpha$  در هر کدام از این دو بازه قرار داشته



در صورتی که معادله دارای دو ریشه حقیقی باشد با توجه به این که خط  $x_p = \frac{-b}{2a}$  محور تقارن منحنی است؛ بنابراین ریشه‌های معادله که نسبت به این خط قرینه یکدیگرند از رابطه  $x_{1,2} = \frac{-b}{2a} \pm k$  به دست می‌آیند. از طرفی مجموع ریشه‌ها از خاصیت تقارنی به دست می‌آید.

$$x_p = \frac{-b}{2a} = \frac{x_1 + x_2}{2}; \quad x_1 + x_2 = \frac{-b}{a}$$

برای تعیین مقدار  $k$  کافی است که مقدار  $x_{1,2}$  را داخل معادله درجه دوم مورد نظر قرار دهیم:

$$x_{1,2} = \frac{-b}{2a} \pm k : a \left( \frac{-b}{2a} \pm k \right)^2 + b \left( \frac{-b}{2a} \pm k \right) + c = 0$$

پس از اختصار لازم:

$$k^2 = \frac{b^2 - 4ac}{4a^2} = \frac{\Delta}{4a^2} \quad (\Delta \geq 0) \rightarrow k = \frac{\pm \sqrt{b^2 - 4ac}}{2a}$$

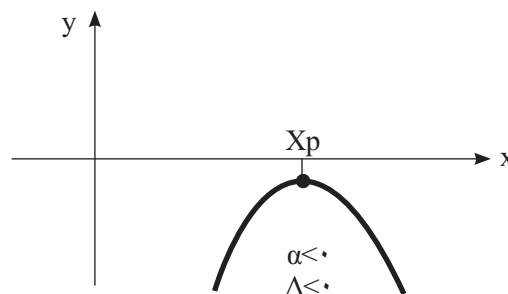
بنابراین با شرط  $\Delta \geq 0$ ، ریشه‌های حقیقی معادله از رابطه زیر قابل محاسبه هستند:

$$x_{1,2} = \frac{-b \pm \sqrt{b^2 - 4ac}}{2a} \quad (\Delta = b^2 - 4ac \text{ معادله})$$

و یا به طور اختصار، با توجه به معین معادله از فرمول زیر

$$x_{1,2} = \frac{-b \pm \sqrt{\Delta}}{2a} \quad \text{قابل محاسبه‌اند:}$$

می‌دانیم در حالت  $\Delta < 0$  منحنی تابع، محور  $x$ ها را قطع نخواهد کرد و به یکی از دو صورت زیر است:





n	a	b	$x = \frac{a+b}{2}$	f(a)	f(x)	علامت f(a).f(x)
۱	۰	۱	۰/۵	۱	-۰/۲۵	-
۲	۰	۰/۵	۰/۲۵	۱	۰/۳۱۲۵	+
۳	۰/۲۵	۰/۵	۰/۳۷۵	۰/۳۱۲۵	۰/۲۰۳۱	+
۴	۰/۳۷۵	۰/۵	۰/۴۳۷۵	۰/۲۰۳۱	-۰/۱۲۱۱	-
۵	۰/۳۷۵	۰/۴۳۷۵	۰/۴۰۶۲۵	۰/۲۰۳۱	-۰/۰۵۳۸	-
۶	۰/۳۷۵	۰/۴۰۶۳	۰/۳۹۰۶۵	۰/۲۰۳۱	-۰/۰۱۹۴	-
۷	۰/۳۷۵	۰/۳۹۰۷	۰/۳۸۲۸۵	۰/۲۰۳۱	-۰/۰۰۱۹۸	-
۸	۰/۳۷۵	۰/۳۸۲۹	۰/۳۷۸۹۵	۰/۲۰۳۱	۰/۰۰۶۷۵	+
۹	۰/۳۷۹	۰/۳۸۳	۰/۳۸۱	۰/۰۰۳۶۳	۰/۰۰۲۱۶	+
۱۰	۰/۳۸۱	۰/۳۸۳	۰/۳۸۲	۰/۰۰۲۱۶۱	-۰/۰۰۰۰۷۶	-
...	...	...	...	...	...	...

### ۱۹ روش استفاده از اعداد مختلط ( $\alpha \pm i\beta$ )

می‌دانیم در صورتی که معادله درجه دوم عمومی:

$$ax^2 + bx + c = 0 \quad (۱)$$

دارای ریشه‌های حقیقی نباشد دارای دو ریشه مختلط است.

و در صورتی که  $a, b, c$  اعدادی حقیقی باشند دو ریشه مختلط

به صورت مزدوج ظاهر می‌شوند:

(۲)

$$x_{1,2} = \alpha \pm i\beta$$

در این رابطه  $i = \sqrt{-1}$  و  $\alpha$  و  $\beta$  اعداد حقیقی هستند.

در این جا با قراردادن ریشه‌های (۲) در معادله (۱) خواهیم

داشت:

$$a(\alpha \pm i\beta)^2 + b(\alpha \pm i\beta) + c = 0;$$

$$a(\alpha^2 - \beta^2 \pm 2\alpha\beta i) + b\alpha \pm b\beta i + c = 0;$$

$$(a\alpha^2 - a\beta^2 + b\alpha + c) \pm (2\alpha\beta + b)\beta i = 0.$$

هر یک از جملات متحد با صفر است؛ بنابراین دستگاه زیر

حاصل می‌شود:

$$\begin{cases} a\alpha^2 - a\beta^2 + b\alpha + c = 0 \\ 2\alpha\beta + b = 0 \end{cases} \rightarrow \alpha = \frac{-b}{2a}$$

با قراردادن مقدار  $\alpha$  در رابطه اول دستگاه:

$$\beta^2 = \frac{4ac - b^2}{4a^2}; \beta = \pm \frac{\sqrt{4ac - b^2}}{2a} = \frac{\pm \sqrt{-(b^2 - 4ac)}}{2a}$$

$$\beta = \frac{\pm \sqrt{-1}\sqrt{\Delta}}{2a} = \pm \frac{i\sqrt{\Delta}}{2a}; x_{1,2} = \frac{-b \pm \sqrt{\Delta}}{2a} \quad (۳)$$

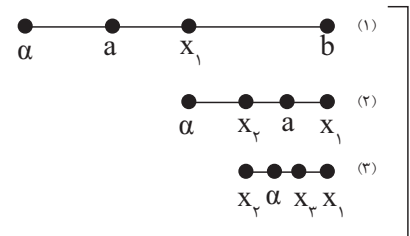
بنابراین ریشه‌های حقیقی معادله (۱) از فرمول (۳) محاسبه

می‌شوند.

ادامه دارد ...

باشد، دوباره آن بازه را به دو بخش برابر تقسیم می‌کنیم تا نقطه  $x_p = \frac{a+x_1}{2}$  یا  $x_p = \frac{x_1+b}{2}$  به دست آید. با ادامه این روند (مطابق شکل (۲)) دنباله‌ای به صورت  $x_1, x_p, x_p, \dots$  حاصل خواهد شد که هرگاه تعداد جملات دنباله بیش تر شود (به قدر کافی) به ریشه  $x_1 = \alpha$  نزدیک تر خواهد شد (با دقت دلخواه)

\* توجه: در رابطه با این روش (الگوریتم، نمودار گردشی محاسن و معایب روش و...) به تفصیل در مقاله بعدی با عنوان «۳۱ روش برای حل معادله درجه سوم» بحث خواهد شد. در این جا با این روش به تعیین ریشه‌های معادله  $x^2 - 3x + 1 = 0$  می‌پردازیم.



برای حل معادله مورد نظر تابع درجه دوم زیر را در نظر می‌گیریم:

$$f(x) = x^2 - 3x + 1$$

این تابع در بازه  $[0, 1]$  تغییر علامت می‌دهد؛ زیرا:

$$0 \leq x \leq 1, f(0)f(1) = (1)(-1) < 0.$$

از طرفی برای هر  $0 < x < 1$ :

$$f'(x) = 2x - 3 < 0.$$

بنابراین، در  $[0, 1]$  تنها یک ریشه حقیقی دارد. جدول روبه‌رو نتایج روش نصف کردن بازه (تصنیف) را تا رسیدن به دقت سه رقم اعشار نشان می‌دهد:

$$[a, b] = [0, 1] \text{ (بازه مورد نظر)}$$

با توجه به جدول بدیهی است که ریشه معادله با سه رقم اعشار درست چنین است:

$$0/381 < x_1 < 0/383; x_1 \approx 0/382 \rightarrow f(x_1) = 0/382 = 0/000076$$

ریشه دیگر معادله با توجه به روابط بین ریشه‌ها و ضرایب چنین است:

$$x_1 x_2 = 1; x_2 = \frac{1}{x_1} \approx \frac{1}{0/382} \approx 2/618$$

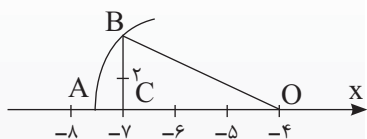
(این جا، به دو ریشه معادله، با سه رقم اعشار درست دست یافتیم.)

# ریاضیات سال اول

● فرخ فرشیان

# مسائل برای حل

۱. در شکل زیر، نقطه A نمایش چه عددی است؟



۲. هرگاه داشته باشیم:

$$A \subset \{5, 7, 8, 9, 11, 13\}$$

$$A \cap \{3, 5, 8, 11\} = \{5, 8\}$$

$$A \cup \{4, 5, 11, 13\} = \{4, 5, 7, 8, 11, 13\}$$

و  $13 \in A$  در این صورت اعضای مجموعه A را به دست آورید.

۳. مجموعه

$$B = \{x^{-2} - 2^{-x} \mid x \in \mathbb{N}, x < 4\}$$

مفروض است. اعضای مجموعه B را به دست آورید.

۴. مقدار X را بر حسب n به دست آورید.

$$(n^{n^n})^x = n^{n^{2n}}$$

۵. اگر  $x = t^{\frac{1}{t-1}}$  و  $y = t^{\frac{1}{t-1}}$  و  $t > 0$  و  $t \neq 1$  باشد چه رابطه‌ای بین X و Y برقرار است؟ (راهنمایی: t حذف شود)

۶. ابتدا مخرج کسر را ساده و سپس گویا کنید

$$\frac{4}{\sqrt{4} + \sqrt{2\sqrt{2}\sqrt{4}} + (\sqrt{2})^2 - 2\sqrt{64} - 2^{3/2}}$$

۷. اگر داشته باشیم:  $A = -m(2x-1)y$  ،  $B = 4y(1-x)m$  و  $C = mx - \frac{1}{y}$  در این صورت حاصل عبارت زیر را به دست آورید.

$$2A - \left(\frac{1}{y}B - 2C\right)$$

۸. حاصل عبارت‌های زیر را به کمک اتحادها به دست آورید.

الف)  $(3^x - 2)^2 (1 + 2^{2x})^2 (2^{2x} + 2^{x+1} + 4)^2$

ب)  $\frac{4}{x}(x-2)\left(\frac{x}{y}+1\right)\left(\frac{x^2}{y}+2\right)(x^5+16x)+2^8$

۹. عبارات زیر را تجزیه کنید.

الف)  $x^2 + 4xy + 4y^2 - 2x - 4y - 2$

ب)  $x^7 + x^5 - 16x^3 - 16$

۱۰. اگر  $x^2 - 1 = 0$  و  $x \neq 1$  باشد، در این صورت مقدار عبارت زیر را به دست آورید.

$$x^2 + 2x + \frac{2}{x} + \frac{1}{x^2}$$



# ریاضیات سال دوم

● مجتبی معارف‌وند

۱. اگر  $3^a, 4\sqrt{2}, 2^b, \dots$  یک دنباله هندسی و  $a, x, b, \dots$  یک دنباله حسابی باشند، مقدار  $x$  را بیابید.

۲. ثابت کنید اگر اندازه‌های اضلاع مثلثی را از کوچک به بزرگ مرتب کنیم و تشکیل یک دنباله هندسی بدهند، آنگاه اندازه‌های ارتفاع‌های این مثلث نیز تشکیل یک دنباله هندسی می‌دهند.

۳. الف) حاصل عبارت زیر را به دست آورید.

$$(\sqrt{3}-2)^{\frac{2}{\sqrt{5}+2}} (\sqrt{5}-2)^{\frac{2}{\sqrt{3}+2}}$$

ب) مقدار مثبت  $x$  را به گونه‌ای بیابید که تساوی زیر درست باشد.

$$x^{2\sqrt{3}} + x^{\sqrt{3}} - 20 = 0$$

۴. دامنه تابع  $f$  با ضابطه  $f(x) = \sqrt{2 - \sqrt{x^2 - 2x + 1}}$  و برد تابع  $g$  با ضابطه  $g(x) = \frac{x+1}{\sqrt{x}}$  را به دست آورید.

۵. الف) فرض کنید  $f(x) = mx + b$  یک تابع خطی باشد و داشته باشیم:  $f(2) = 5$  و  $f(x+2) = f(x) + 2$ . ضابطه تابع  $f$  را مشخص کنید.

ب) فرض کنید برای تابعی مانند  $f$  داشته باشیم:  $f(x-1) = \frac{2x+1}{x^2+6}$ ، مقدار  $f(f(1))$  را محاسبه کنید.

۶. ابتدا ثابت کنید تابع با ضابطه  $f(x) = \frac{x}{\sqrt{x^2+1}}$  وارون پذیر است. سپس ضابطه وارون آن را به دست آورید.

۷. اگر  $a > 3$ ، ثابت کنید  $a + \frac{1}{a-3} \geq 5$ .

۸. حدود  $m$  را طوری تعیین کنید که عبارت  $\frac{(m+2)x^2 + 2mx + m-1}{-x^2 + 2x - 4}$  همواره منفی باشد.

۹. مقدار  $m$  را چنان تعیین کنید که نمودار تابع با ضابطه زیر:

$$y = (2m-1)x^2 - 2(m+1)x + 2m+1$$

بالای محور  $x$ ها قرار گیرد و بر آن مماس شود.

۱۰. نمودار تابع با ضابطه  $y = \left| \left( \frac{1}{2} \right)^{x-1} - 2 \right|$  را رسم کنید.

## هندسه ۱

● هوشنگ شرقی

۱. در مثلث متساوی‌الساقین ( $AB = AC$ )  $ABC$  نیمساز زاویه  $B$ ، ضلع مقابل را در نقطه  $D$  قطع کرده است. اگر  $BD = BC$  باشد، اندازه‌های سه زاویه مثلث را به دست آورید.

۲. در متوازی‌الاضلاع  $(AB \parallel CD) ABCD$ ، اگر  $AB = 2BC$  و  $M$  وسط  $AB$  باشد، ثابت کنید:  $CM \perp MD$ .

۳. ثابت کنید هر متوازی‌الاضلاعی که قطرهای آن با هم برابر باشند، مستطیل است.

۴. مجموع اندازه‌های تعدادی زاویه برابر با  $200^\circ$  و مجموع اندازه‌های متمم‌های این زاویه‌ها مساوی  $520^\circ$  است. تعداد این زاویه‌ها را به دست آورید.

۷. در مثلث قائم‌الزاویه  $ABC$  ( $\hat{A} = 90^\circ$ ) ارتفاع  $AH$  را رسم کرده‌ایم. ثابت کنید:  $\frac{1}{AB^2} + \frac{1}{AC^2} = \frac{1}{AH^2}$

۸. در مثلث  $ABC$  از نقطه  $M$  وسط  $BC$  عمودهای  $MH$  و  $MH'$  را به ترتیب بر  $AB$  و  $AC$  وارد کرده‌ایم. ثابت کنید:  $\frac{MH}{MH'} = \frac{AC}{AB}$

۹. بدون استفاده از قضیه فیثاغورس، ثابت کنید طول قطر هر مربع  $\sqrt{2}$  برابر طول ضلع آن است.

۵. در مثلث  $ABC$ ،  $\hat{A} = 80^\circ$  و نقطه  $M$  روی  $BC$  طوری واقع است که  $MB < AB$  و  $MC < AC$  روی  $AB$  پاره‌خط  $BN$  را مساوی  $MB$  و روی  $AC$ ،  $CP$  را مساوی  $MC$  جدا می‌کنیم. اندازه زاویه  $\alpha = \hat{NMP}$  را به دست آورید.

۶. در مثلث  $ABC$ ،  $AB = AC = 10$  و  $BC = 12$ . طول ارتفاع رأس  $B$  را به دست آورید.

# حسابان

## ● مجتبی رفیعی

۷. مساحت مثلث قائم الزاویه‌ای  $20 \text{ cm}^2$  است. طول وتر این مثلث را به عنوان تابعی از محیط آن به دست آورید.

۸. اگر  $f(x) = \sqrt{1-x^2}$  و  $g(x) = \sqrt{x}$  دامنه  $(f+g)$  را به دست آورید.

۹. حاصل عبارت زیر را بیابید.

$$A = \cos^2(x+y) + \cos^2(x-y) - \cos 2x \cos 2y$$

۱۰. با شرط  $xy > -1$  ثابت کنید:

$$\tan^{-1}\left(\frac{x-y}{1+xy}\right) = \tan^{-1}(x) - \tan^{-1}(y)$$

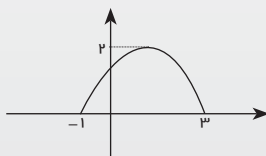
۱۱. معادله  $\sin 2x + \cos 2x = \sqrt{2}$  در بازه  $[0, 4\pi]$  چند جواب دارد؟

۱.  $x^2 - 1$  را بیابید.

۴. مقدار  $k$  را طوری به دست آورید که

$$\sqrt{x-1} + \sqrt{x-2\sqrt{x-1}} = k$$
 بی‌شمار جواب داشته باشد.

۵. با توجه به نمودار  $y = ax^2 + bx + c$  و با ذکر دلیل، تعداد ریشه‌ها و علامت ضرایب  $a$  و  $b$  و  $c$  را بنویسید.



۶. به کمک رسم نمودار مشخص کنید معادله  $|x-2| = x+2$  چند جواب دارد؟

۱. حاصل جمع عبارت زیر را به دست آورید.

$$S = 1 + 11 + 111 + \dots + \underbrace{111\dots1}_{100 \text{ تا}}$$

۲. دو تصاعد حسابی با قدر نسبت‌های  $90$  و  $66$  مفروض‌اند. می‌دانیم جمله سوم هر دو تصاعد حسابی  $47$  است. عدد بعدی یکسان در هر دو تصاعد را به دست آورید؟ این عدد یکسان جمله چندم هر تصاعد است؟

۳. اگر عبارت  $x^{2n+1} + 2x^{2n} + x^5 - 5x^2 + k$  به‌ازای هر عدد طبیعی  $n$  بر دو جمله‌ای  $x+2$  بخش پذیر باشد، آنگاه باقی‌مانده تقسیم آن بر

۸. چنانچه برای سه مجموعه  $A$  و  $B$  و  $C$  داشته باشیم:  $A \cap B = A \cap C$  و  $B - A = C - A$  ثابت کنید که  $B = C$ .

۹. با استفاده از جبر مجموعه‌ها، حکم‌های زیر را ثابت کنید:

الف)  $A - B - C = (A \cup B) - (B \cup C)$

ب)  $A' \subset B' \Rightarrow B \subset A$

ج)  $A \subset B \Leftrightarrow A \cup B = B$

د) اگر  $A \cup B = A \cap B$  آن‌گاه ثابت کنید  $A = B$

۱۰. اگر داشته باشیم

$$A = \{x^2 \mid x \in Z, |x| \leq 1\}$$

$$B = \{x \in Z \mid x^2 \leq 1\}$$

زیرمجموعه‌های  $A \times B - A^c$  را پیدا کنید.

۱۱.  $X$  و  $Y$  را طوری تعیین کنید که زوج‌های مرتب  $(xy, x^2)$  و  $(15, x^2 - y^2)$  با هم برابر باشند.

۱۲. مجموعه  $A = \{0, 3, 8, 15, 24, \dots\}$  را با نماد ریاضی نمایش دهید.

# جبر و احتمال

## ● میرشهرام صدر

الف)  $a^2 + b^2 \geq -\epsilon(a+b+2)$

ب)  $2a(b-a+1) \leq b^2 + 1$

۵. با فرض این‌که  $\sqrt{6}$  عددی گنگ است، ثابت کنید عدد  $2\sqrt{2} - \sqrt{3}$  نیز عددی گنگ است.

۶. ۶۵ رأس گاو در چهار رنگ و از چهار نژاد مختلف، متعلق به دو نفر هستند. ثابت کنید یکی از این دو نفر حداقل سه گاو هم‌رنگ و هم‌نژاد دارد.

۷. تعداد زیرمجموعه‌های سه‌عضوی یک مجموعه، ۱۴ واحد بیشتر از تعداد زیرمجموعه‌های دو‌عضوی آن است، تعداد زیرمجموعه‌های چهار‌عضوی این مجموعه را بیابید.

۱. با استفاده از اصل استقرای ریاضی برای هر عدد طبیعی  $n$ ، ثابت کنید:

$$(2n)! < 2^{2n} (n!)^2$$

۲. با استفاده از اصل استقرای تعمیم‌یافته ریاضی، ابتدا عدد مناسب  $m$  را برای برقراری حکم زیر بیابید، سپس آن را ثابت کنید:

$$\frac{1}{2} + \frac{1}{3} + \dots + \frac{1}{n} < \frac{(n-1)}{12}$$

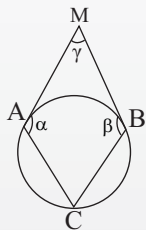
۳. با استفاده از استدلال استنتاجی ثابت کنید، هر عدد شش رقمی که از تکرار دوبار یک عدد سه رقمی حاصل می‌شود، بر عدد ۱۳ بخش پذیر است.

۴. هرگاه  $a$  و  $b$  دو عدد حقیقی باشند، حکم‌های زیر را ثابت کنید.

## هندسه ۲

### ● هوشنگ شرقی

۶. در شکل زیر از نقطه M دو مماس MA و MB بر دایره رسم شده و A و B به نقطه C روی محیط دایره وصل شده‌اند. مقدار  $\alpha + \beta + \frac{\gamma}{4}$  را به دست آورید.



۷. در مثلث ABC نیمساز داخلی AD را رسم می‌کنیم و دو دایره محیطی مثلث‌های ADC و ADB را رسم می‌کنیم. آن‌ها AC را در E و AB را در F قطع می‌کنند. ثابت کنید:  $BF=CE$ .

۸. طول مماس مشترک خارجی دو دایره مماس خارج،  $\sqrt{2}$  برابر شعاع دایره بزرگ‌تر است. شعاع دایره بزرگ‌تر چند برابر شعاع دایره کوچک‌تر است؟

۱. الف) با استفاده از استدلال استقرایی، رابطه‌ای که مجموع زاویه‌های داخلی یک n ضلعی محدب را بیان می‌کند حدس بزنید و مراحل کار را توضیح دهید.

ب) در یک n ضلعی محدب، تعداد اقطار ۴ برابر تعداد اضلاع است. مجموع زوایای داخلی این چندضلعی را پیدا کنید.

$$\frac{L_a}{h_a} + \frac{L_b}{h_b} + \frac{L_c}{h_c} = 1$$

۴. اندازه‌های سه ضلع مثلثی ۸ و ۱۲ و ۱۵ سانتی‌متر است. اندازه‌های پاره‌خط‌هایی را که نیمساز داخلی زاویه بزرگ‌تر مثلث روی ضلع مقابل به آن پدید می‌آورد، به دست آورید.

۵. مثلث ABC را با داشتن مقادیر  $BC=a$  و  $\hat{B}-\hat{C}$  و  $b-c$  رسم کنید ( $AC=b$  و  $AB=c$ ) ( $AC > AB$ )

۲. ثابت کنید اگر در مثلث ABC،  $AB > AC$  و میانه AM را رسم کنیم، اولاً  $\hat{A}MC < 90^\circ$  ثانیاً:  $\hat{M}AC > \hat{M}AB$

۳. نقطه M درون مثلث ABC، از اضلاع BC و AB و AC به ترتیب به فاصله‌های

## پاسخ ریاضیات سال اول

### ● فرخ فرشیان

و زیرمجموعه  $\{5, 7, 8, 9, 13\}$  است.

۳. می‌دانیم  $x \in \{1, 2, 3\}$  است که در آن داریم:

$$x^{-2} - 2^{-x} \Rightarrow 1^{-2} - 2^{-1} = \frac{1}{1^2} - \frac{1}{2} = \frac{1}{2}$$

$$x^{-2} - 2^{-x} \Rightarrow 2^{-2} - 2^{-2} = \frac{1}{2^2} - \frac{1}{2^2} = 0$$

$$x^{-2} - 2^{-x} \Rightarrow 3^{-2} - 2^{-3} = \frac{1}{3^2} - \frac{1}{2^3} = \frac{-1}{72}$$

بنابراین،  $B = \left\{ \frac{1}{2}, 0, \frac{-1}{72} \right\}$  است.

۴.

$$(n^n)^x = n^{n^n}$$

۱. طبق شکل در مثلث قائم‌الزاویه OBC رابطه فیثاغورس  $OB^2 = BC^2 + OC^2$  برقرار است که  $OB^2 = 2^2 + 3^2$  پس  $OB = \sqrt{13}$  و نقطه A نمایش‌دهنده نقطه  $OB = \sqrt{13}$  است.

۲. از اینکه  $A \cap \{3, 5, 8, 11\} = \{5, 8\}$  می‌توان نتیجه گرفت ۵ و ۸ عضو A هستند و از طرفی

$$A \cup \{4, 5, 11, 13\} = \{4, 5, 7, 8, 11, 13\}$$

نشان‌دهنده آن است که  $7 \in A$  و طبق

مسئله ۱۳، بنابراین

$$A = \{5, 7, 8, 13\}$$

## پاسخ مسائل برای حل





$2(x+2y) - 2(x+2y)$  درمی آید حال با استفاده از نکات بالا به صورت مسئله برمی گردیم.  
 $(x+2y)^2 - 2(x+2y) - 3$   
 و  $(x+2y)$  را جمله مشترک در نظر می گیریم و به کمک اتحاد یک جمله مشترک، آن را تجزیه می کنیم.  
 $(x+2y-3)(x+2y+1)$

ب)  $x^y + x^f - 16x^2 - 16$   
 دو جمله  $x^y + x^f$  را یک دسته فرض می کنیم و از  $x^f(x^y + 1)$  فاکتور می گیریم. بنابراین  
 $x^y + x^f = x^f(x^y + 1)$   
 و در دو جمله  $x^2 - 16$  از  $16 - 16$  فاکتور می گیریم  $(x^2 + 16)$  حال به صورت مسئله برمی گردیم.

$$= x^f(x^y + 1) - 16(x^2 + 16)$$

$$= (x^y + 1)(x^f - 16)$$

$$= (x+1)(x^y - x + 1)(x^2 - 4)(x^2 + 4)$$

$$= (x+1)(x^y - x + 1)(x-2)(x+2)(x^2 + 4)$$

۱۰.

$x^2 - 1 = 0 \Rightarrow (x-1)(x^2 + x + 1) = 0$   
 و چون طبق فرض مسئله  $x \neq 1$  است، پس  $x^2 + x + 1 = 0$  در نتیجه  
 $x^2 + x + 1 = 0 \Rightarrow x^2 + 1 = -x$   
 و اگر دو طرف تساوی را بر  $x \neq 0$  تقسیم کنیم، داریم:  
 $\frac{x^2}{x} + \frac{1}{x} = \frac{-x}{x} \Rightarrow x + \frac{1}{x} = -1$   
 و ما می خواهیم مقدار عبارت

$$x^2 + \frac{1}{x^2} + 2x + \frac{2}{x}$$

را به دست آوریم. به کمک اتحاد فرعی  
 $a^2 + b^2 = (a+b)^2 - 2ab$   
 داریم:  
 $(x + \frac{1}{x})^2 - 2(x)(\frac{1}{x}) + 2(x + \frac{1}{x})$   
 و  
 $(x + \frac{1}{x})^2 - 2 + 2(x + \frac{1}{x})$   
 و با قراردادن  $x + \frac{1}{x} = -1$  حاصل برابر است با:  
 $(-1)^2 - 2 + 2(-1) = 1 - 2 - 2 = -3$

$$2[-m(2x-1)y] - \left\{ \frac{1}{y}[4y(1-x)m] - 2(mx - \frac{1}{y}) \right\}$$

$$= (-2my)(2x-1) - [2my(1-x)] - 2(mx - \frac{1}{y})$$

$$= -4mxy + 2my - 2my + 2myx + 2mx - 1$$

$$= -2mxy + 0 + 2mx - 1$$

$$= -2mxy + 2mx - 1$$

۸.

الف)  $[(2^x - 2)(2^{2x} + 2^{x+1} + 4)(2^{3x} + 8)]^2$   
 به کمک اتحاد  
 $(a-b)(a^2 + ab + b^2) = a^3 - b^3$   
 اگر  $a = 2^x$  و  $b = 2$  باشد، داریم:  
 $(2^x - 2)(2^{2x} + 2^{x+1} + 4) = (2^x)^3 - 2^3$   
 $= 2^{3x} - 8$

در ادامه  $[(2^{3x} - 8)(2^{3x} + 8)]^2$  می شود و با کمک اتحاد مزدوج داخل کر و شنه به صورت  $[(2^{3x})^2 - 8^2]^2$  درمی آید و در نتیجه  $(2^{6x} - 64)^2$ . با استفاده از اتحاد مربع دو جمله ای خواهیم داشت:  
 $(2^{6x})^2 - 2(2^{6x})(64) + 64^2$   
 $= 2^{12x} - 128 \times 2^{6x} + 4096$

ب)  $\frac{4}{x}(x-2)(\frac{x}{y} + 1)(\frac{x^2}{y} + 2)(x^2 + 16x) + 2^8$   
 $= (x-2)(\frac{x}{y} + 1)(\frac{x^2}{y} + 2)(x)(\frac{1}{x})(x^2 + 16) + 2^8$   
 $= (x-2)(x+2)(x^2 + 4)(x^2 + 16) + 2^8$   
 که به کمک اتحاد مزدوج  
 $(x-2)(x+2) = x^2 - 4$   
 و در ادامه  $(x^2 - 4)(x^2 + 4) = (x^2)^2 - 4^2$   
 $= x^4 - 16$

و در ادامه  
 $(x^4 - 16)(x^2 + 16) = (x^4)^2 - 16^2$   
 $= x^8 - 16^2 + 2^8 = x^8$

۹.

الف)  $x^2 + 4xy + 4y^2 - 2x - 4y - 3$   
 سه جمله ای  $x^2 + 4xy + 4y^2$  را به کمک اتحاد مربع دو جمله ای به صورت  $(x+2y)^2$  تجزیه می کنیم و در عبارت  $-2x - 4y - 3$  از  $(-2)$  فاکتور می گیریم که به صورت

که طبق قانون  $(a^m)^n = a^{mn}$  داریم  
 $n^{n^x} = n^{n^n}$   
 چون پایه ها یکی است، پس نماها با هم برابر است.  
 $n^n \times x = n^{2n}$   
 بنابراین:  
 $x = \frac{n^{2n}}{n^n} \Rightarrow x = n^{2n-n}$   
 در نتیجه  $x = n^n$

۵. ابتدا دو رابطه را بر هم تقسیم می کنیم:  
 $\frac{y}{x} = \frac{t^{t-1}}{t^{t-1}} = \frac{t}{t-1} = \frac{t-1}{t-1} = t$   
 در نتیجه  $\frac{y}{x} = t$  این رابطه را (۱) می نامیم.

از رابطه  $x = t^{t-1}$  دو طرف را به توان  $t$  می رسانیم. پس  $x^t = t^{t(t-1)}$  و با توجه به فرض مسئله  $x^t = y$ .

اگر رابطه به دست آمده را به توان  $x$  برسانیم، داریم:  
 $x^{tx} = y^x$  و با توجه به رابطه (۱)  
 $x^y = y^x$  خواهیم داشت:  $x^y = y^x$ .

۶. در عبارت  $\sqrt[4]{4} = \sqrt[4]{2^2} = \sqrt{2}$   
 و همین طور  
 $\sqrt[4]{2\sqrt{2}\sqrt[4]{4}} = \sqrt[4]{\sqrt{2} \times 2 \sqrt[4]{4}} = \sqrt[4]{2^2 \sqrt[4]{4}}$   
 و در ادامه  
 $\sqrt[4]{4(\sqrt[4]{2})^4 \times 2^2} = \sqrt[4]{4^2 \times 2^2} = \sqrt[4]{2^4} = \sqrt{2}$   
 و در عبارات داریم:  
 $\sqrt[4]{4} = \sqrt[4]{2^2} = \sqrt{2}$   
 $2^{\frac{1}{2}} = \sqrt{2}$

پس مخرج کسر به صورت زیر درمی آید.  
 $\sqrt{2} + \sqrt[4]{2} + \sqrt[4]{2} - \sqrt[4]{2} - \sqrt[4]{2} = \sqrt{2}$   
 بنابراین کسر  $\frac{4}{\sqrt{2}}$  به دست می آید که عبارت را در  $\sqrt{2}$  ضرب و تقسیم می کنیم.  
 بنابراین خواهیم داشت:

$$\frac{4}{\sqrt{2}} \times \frac{\sqrt{2}}{\sqrt{2}} = \frac{4\sqrt{2}}{\sqrt{2}} = \frac{4\sqrt{2}}{2} = 2\sqrt{2}$$

۷. مقادیر  $A$  و  $B$  و  $C$  را در رابطه  $2A - (\frac{1}{2}B - 2C)$  جای گذاری می کنیم

# پاسخ ریاضیات سال دوم

## ● مجتبی معارف‌وند

$$(2-y^2)(2-y^2+2) \geq 0$$

$$\Rightarrow (-y^2)(\epsilon - y^2) \geq 0 \Rightarrow \epsilon - y^2 \leq 0$$

با توجه به جدول تعیین علامت

$p = \epsilon - y^2$  که به صورت زیر است و نیز

شرط  $y > 0$  نتیجه می‌گیریم که  $R_g = [2, +\infty)$

y	-2	2
	-	+
	o	o
	+	-
	-	+
	o	o
	-	+
	-	+
	-	+
	-	+

### ۵. الف

$$f(x+2) = f(x) + 2$$

$$\Rightarrow m(x+2) + b = (mx+b) + 2$$

$$\Rightarrow mx + 2m + b = mx + b + 2$$

$$\Rightarrow 2m = 2 \Rightarrow m = 1$$

$$f(2) = 0 \Rightarrow 2m + b = 0 \Rightarrow b = 0 - 2 = -2$$

بنابراین ضابطه تابع خطی f به صورت

$$f(x) = x + 2 \text{ است.}$$

(ب) قرار می‌دهیم  $u = x - 1$ ، در نتیجه

$$x = u + 1$$

$$f(u) = \frac{2(u+1)+1}{(u+1)^2+6} = \frac{2u+3}{u^2+2u+7}$$

به عبارت دیگر، ضابطه تابع f به صورت

$$f(x) = \frac{2x+3}{x^2+2x+7}$$

$$f(1) = \frac{2(1)+3}{1^2+2(1)+7} = \frac{1}{2}$$

$$f(f(1)) = f\left(\frac{1}{2}\right) = \frac{2\left(\frac{1}{2}\right)+3}{\left(\frac{1}{2}\right)^2+2\left(\frac{1}{2}\right)+7} = \frac{17}{33}$$

۶. یک تابع در صورتی وارون‌پذیر است

که یک‌به‌یک باشد و یک تابع در صورتی

یک‌به‌یک است که هرگاه داشته باشیم

$$f(x_1) = f(x_2) \Rightarrow x_1 = x_2$$

$$f(x_1) = f(x_2) \Rightarrow \frac{x_1}{\sqrt{x_1^2+1}} = \frac{x_2}{\sqrt{x_2^2+1}}$$

$$\Rightarrow \frac{x_1}{x_1^2+1} = \frac{x_2}{x_2^2+1}$$

$$\Rightarrow x_1^2 x_2^2 + x_1^2 = x_1^2 x_2^2 + x_2^2 \Rightarrow x_1^2 = x_2^2$$

$$\Rightarrow x_1 = \pm x_2$$

اما جواب  $x_1 = -x_2$  غیرقابل قبول

است، زیرا در تساوی  $f(x_1) = f(x_2)$  صدق

نمی‌کند، ملاحظه بفرمایید:

$$= (\sqrt{5}-\sqrt{3})^{(\sqrt{5}-2)} (\sqrt{5}+\sqrt{3})^{(\sqrt{5}-2)}$$

$$= [(\sqrt{5}-\sqrt{3})(\sqrt{5}+\sqrt{3})]^{(\sqrt{5}-2)}$$

$$= 1^{(\sqrt{5}-2)} = 1$$

(ب) قرار می‌دهیم  $y = x^{\sqrt{7}}$  در نتیجه:

$$y^2 + y - 20 = 0 \Rightarrow (y-4)(y+5) = 0$$

$$\Rightarrow y = -5 \text{ یا } y = 4$$

از آنجا که X مقداری مثبت است، پس

$x^{\sqrt{7}}$  نیز مثبت خواهد بود و در نتیجه جواب

$y = -5$  غیرقابل قبول و جواب  $y = 4$  قابل

قبول است. بنابراین خواهیم داشت:

$$x^{\sqrt{7}} = 4 \Rightarrow (x^{\sqrt{7}})^{\sqrt{7}} = 4^{\sqrt{7}} \Rightarrow x^7 = 4^{\sqrt{7}}$$

$$\Rightarrow x = \sqrt[7]{4^{\sqrt{7}}}$$

۴. از آنجا که  $x^2 - 2x + 1 = (x-1)^2$

پس  $\sqrt{x^2 - 2x + 1} = |x-1|$  و در نتیجه

$f(x) = \sqrt{2-|x-1|}$  دامنه آن به صورت

$$D_f = \{x \in \mathbb{R} \mid 2-|x-1| \geq 0\}$$

دامنه f منوط به حل نامعادله

$$2-|x-1| \geq 0 \Rightarrow |x-1| \leq 2 \Rightarrow -2 \leq x-1 \leq 2$$

$$\Rightarrow -1 \leq x \leq 3$$

در نتیجه  $D_f = [-1, 3]$

دامنه تابع g برابر  $(0, +\infty)$  است، پس

همواره  $y > 0$ .

قرار می‌دهیم:

$$y = \frac{x+1}{\sqrt{x}} \Rightarrow y^2 = \frac{(x+1)^2}{x}$$

$$\Rightarrow x^2 + 2x + 1 = xy^2$$

$$\Rightarrow x^2 + (2-y^2)x + 1 = 0$$

$$\Rightarrow x = \frac{1}{2}((2-y^2) \pm \sqrt{(2-y^2)^2 - 4})$$

اما لا مقداری از اعداد حقیقی را

می‌توانند اختیار کنند که:

$$(2-y^2)^2 - 4 \geq 0$$

برای حل نامعادله اخیر داریم:

۱. از آنجا که  $2^a, \epsilon\sqrt{2}, 2^b, \dots$  یک دنباله

هندسی با قدر نسبت r است، پس:

$$r = \frac{\epsilon\sqrt{2}}{2^a} = \frac{2^b}{\epsilon\sqrt{2}} \Rightarrow (\epsilon\sqrt{2})^2 = 2^a \times 2^b$$

$$\Rightarrow 2^2 = 2^{a+b} \Rightarrow 2^0 = 2^{a+b} \Rightarrow a+b = 0 \quad (1)$$

دنباله  $a, x, b, \dots$  یک دنباله حسابی با

قدر نسبت d است، بنابراین:

$$d = x - a = b - x \Rightarrow 2x = a + b \Rightarrow 2x = 0$$

$$\Rightarrow x = \frac{0}{2}$$

۲. فرض می‌کنیم در مثل ABC با طول

ضلع‌های a و b و c و ارتفاع‌های نظیر  $h_a$  و

$$h_b \text{ و } h_c \text{ داشته باشیم } a < b < c$$

از آنجا که c و b و a تشکیل یک دنباله

هندسی می‌دهند، پس  $\frac{b}{a} = \frac{c}{b}$  (\*)

با توجه به فرمول مساحت مثلث داریم:

$$S_{ABC} = \frac{1}{2} a \cdot h_a = \frac{1}{2} b \cdot h_b = \frac{1}{2} c \cdot h_c$$

از تساوی (۱)، تناسب  $\frac{b}{a} = \frac{h_a}{h_b}$  و

از تساوی (۲)، تناسب  $\frac{c}{b} = \frac{h_b}{h_c}$  حاصل

می‌شوند و با عنایت به تساوی (\*) خواهیم

$$\text{داشت: } \frac{h_a}{h_b} = \frac{h_b}{h_c}$$

(و البته از هندسه می‌دانیم که اگر در

مثلث ABC،  $a < b < c$  آنگاه  $h_c < h_b < h_a$ )

بنابراین  $h_a, h_b, h_c, \dots$  تشکیل یک دنباله

هندسی می‌دهند.

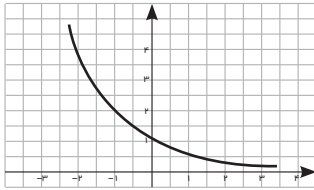
### ۳. الف) از آنجا که

$$\frac{1}{\sqrt{5+2}} = \frac{1}{\sqrt{5+2}} \times \frac{\sqrt{5-2}}{\sqrt{5-2}} = \sqrt{5-2}$$

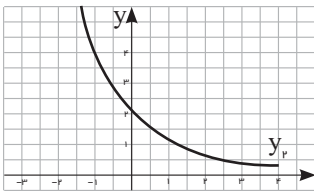
$$\text{و } (\sqrt{3}-2)^2 = 7 - \epsilon\sqrt{3} \text{ پس:}$$

$$A = (\sqrt{3}-2)^{\frac{1}{\sqrt{5+2}}} (\sqrt{5+2})^{(\sqrt{5}-2)}$$

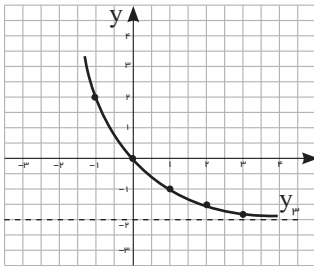
$$= [(\sqrt{3}-2)^{\frac{1}{\sqrt{5+2}}}]^{\frac{1}{\sqrt{5+2}}} (\sqrt{5+2})^{(\sqrt{5}-2)}$$



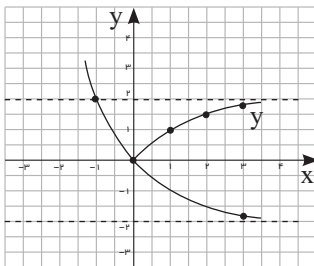
سپس نمودار تابع  $y_2 = (\frac{1}{2})^{x-1}$  را با انتقال نمودار تابع  $y_1$  در راستای محور X ها و به اندازه یک واحد به سمت راست ترسیم می‌کنیم.



اکنون برای رسم نمودار تابع  $y_2 = (\frac{1}{2})^{x-1} - 2$  کافی است نمودار  $y_2$  را در راستای محور Y ها و به اندازه 2 واحد به سمت پایین انتقال دهیم.



و در نهایت نمودار تابع  $y = |(\frac{1}{2})^{x-1} - 2|$  از قرینه کردن بخش‌هایی از نمودار تابع  $y_2$  که زیر محور X ها قرار دارند، نسبت به محور X ها حاصل می‌شود.



مقادیر حقیقی X منفی است. بنابراین مخرج کسر مذکور همواره منفی است، در نتیجه برای اینکه این کسر همواره منفی باشد، باید m را طوری بیابیم که صورت کسر همواره مثبت باشد، یعنی:

$$(m+2)x^2 + 2mx + (m-1) > 0$$

برای این منظور باید مقدار m را به گونه‌ای تعیین کنیم که  $\Delta < 0$  و  $a > 0$ .

$$\Delta = b^2 - 4ac = (2m)^2 - 4(m+2)(m-1) = -4m + 8$$

$$\Delta < 0 \Rightarrow -4m + 8 < 0 \Rightarrow m > 2 \quad (1)$$

$$a < 0 \Rightarrow m + 2 > 0 \Rightarrow m > -2 \quad (2)$$

از روابط (1) و (2) نتیجه می‌گیریم که  $m > 2$ .

۹. نمودار تابع  $y = ax^2 + bx + c$  بر محور X ها مماس است، هرگاه معادله  $ax^2 + bx + c = 0$  یک ریشه مضاعف داشته باشد. برای این منظور باید داشته باشیم  $\Delta = 0$ .

همچنین در این حالت ( $\Delta = 0$ ) نمودار تابع بالای محور X ها قرار می‌گیرد، هرگاه به ازای همه مقادیر X (به جز ریشه مضاعف)،  $y > 0$  باشد و برای این هدف نیز باید داشته باشیم  $a > 0$ .

بنابراین:

$$\Delta = b^2 - 4ac = [-2(m+1)]^2 - 4(2m-1)(2m+1) = -4(-5m^2 + 2m + 2)$$

$$\Delta = 0 \Rightarrow -5m^2 + 2m + 2 = 0$$

$$\Rightarrow m = 1 \text{ یا } m = \frac{-2}{5} \quad (1)$$

$$a > 0 \Rightarrow 2m - 1 > 0 \Rightarrow m > \frac{1}{2} \quad (2)$$

از روابط (1) و (2) نتیجه می‌گیریم که  $m = 1$ .

۱۰. ابتدا نمودار تابع  $y_1 = (\frac{1}{2})^x$  را به کمک نقطه‌یابی رسم می‌کنیم.

x	-2	-1	0	1	2
y	4	2	1	1/2	1/4

$$\frac{x_1}{\sqrt{x_1^2 + 1}} \neq \frac{-x_1}{\sqrt{x_1^2 + 1}}$$

بنابراین، جواب  $x_1 = x_2$  قابل قبول و تابع f یک‌به‌یک و در نتیجه وارون پذیر است. برای یافتن ضابطه وارون f قرار می‌دهیم.

$$y = \frac{x}{\sqrt{x^2 + 1}}$$

$$\Rightarrow y^2 = \frac{x^2}{x^2 + 1} \Rightarrow x^2 y^2 + y^2 = x^2$$

$$\Rightarrow x^2 - x^2 y^2 = y^2$$

$$\Rightarrow x^2 (1 - y^2) = y^2 \Rightarrow x^2 = \frac{y^2}{1 - y^2}$$

$$\Rightarrow x = \frac{\pm y}{\sqrt{1 - y^2}} \Rightarrow \begin{cases} f^{-1}(x) = \frac{x}{\sqrt{1 - x^2}} \\ f^{-1}(x) = \frac{-x}{\sqrt{1 - x^2}} \end{cases} \text{ یا}$$

اما جواب  $f^{-1}(x) = \frac{-x}{\sqrt{1 - x^2}}$  غیر قابل

قبول است و ضابطه تابع وارون f،

$$f^{-1}(x) = \frac{x}{\sqrt{1 - x^2}}$$

ضابطه f، یعنی  $y = \frac{x}{\sqrt{x^2 + 1}}$  مقادیر X و Y همواره هم علامت‌اند.

۷. از آنجا که  $a > 3$ ، پس  $a - 3 > 0$ . حال طرفین نامساوی حکم را در  $a - 3$  ضرب می‌کنیم

$$a + \frac{1}{a-3} \geq 0 \Leftrightarrow a(a-3) + 1 \geq 0 \Leftrightarrow a(a-3) + 1 \geq 0$$

$$\Leftrightarrow a^2 - 3a + 1 \geq 0 \Leftrightarrow 5a - 10$$

$$\Leftrightarrow a^2 - 8a + 16 \geq 0$$

$$\Leftrightarrow (a-4)^2 \geq 0$$

چون نامساوی اخیر همواره درست است و تمام اعمال انجام شده برگشت پذیرند، پس نامساوی حکم برای همه مقادیر  $a > 3$  درست خواهد بود.

۸. ابتدا سه جمله‌ای  $P = -x^2 + 2x - 4$  را تعیین علامت می‌کنیم.

$$\Delta = b^2 - 4ac = 2^2 - 4(-1)(-4) = -7$$

از آنجا که  $\Delta < 0$  و  $a = -1 < 0$ ، پس

سه جمله‌ای  $P = -x^2 + 2x - 4$  به ازای جمع

# پاسخ هندسه ۱

## هوشنگ شرقی

$$\left. \begin{aligned} CP = CM &\Rightarrow \hat{M}_1 = \hat{P}_1 = \frac{180^\circ - \hat{C}}{2} \\ BM = BN &\Rightarrow \hat{M}_r = \hat{N}_r = \frac{180^\circ - \hat{B}}{2} \end{aligned} \right\} \Rightarrow$$

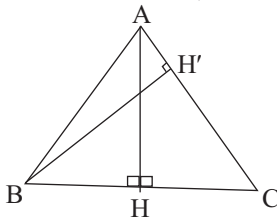
$$\hat{M}_1 + \hat{M}_r = \frac{180^\circ - \hat{C}}{2} + \frac{180^\circ - \hat{B}}{2} = \frac{360^\circ - (\hat{B} + \hat{C})}{2}$$

$$\hat{A} = 80^\circ \Rightarrow \hat{B} + \hat{C} = 100^\circ$$

$$\Rightarrow \hat{M}_1 + \hat{M}_r = \frac{360^\circ - 100^\circ}{2} = 130^\circ$$

$$\Rightarrow \hat{\alpha} = 180^\circ - (\hat{M}_1 + \hat{M}_r) = 180^\circ - 130^\circ = 50^\circ$$

۶. ارتفاع AH از مثلث متساوی الساقین ABC را رسم می‌کنیم. می‌دانیم که این ارتفاع، میانه هم هست.



بنابراین داریم:

$$BH = CH = 6, AB = 10 \Rightarrow$$

$$BH^2 + AH^2 = AB^2, 36 + AH^2 = 100$$

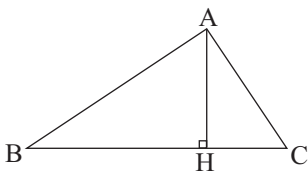
$$\Rightarrow AH = 8$$

$$\Rightarrow S_{ABC} = \frac{1}{2} AH \cdot BC = \frac{1}{2} \times 8 \times 12 = 48$$

$$S_{ABC} = \frac{1}{2} BH' \cdot AC = \frac{1}{2} \times BH' \times 10 = 48$$

$$\Rightarrow BH' = \frac{48}{5}$$

۷. به کمک دستور مساحت مثلث قائم‌الزاویه می‌توان نوشت:



$$S_{ABC} = \frac{1}{2} AB \cdot AC = \frac{1}{2} BC \cdot AH$$

$$\Rightarrow AB \cdot AC = BC \cdot AH$$

$$\Rightarrow AB^2 \cdot AC^2 = BC^2 \cdot AH^2$$

$$\Rightarrow AH^2 = \frac{AB^2 \cdot AC^2}{BC^2}$$

$$\Rightarrow \frac{1}{AH^2} = \frac{BC^2}{AB^2 \cdot AC^2} = \frac{AB^2 + AC^2}{AB^2 \cdot AC^2}$$

$$\Rightarrow \frac{1}{AH^2} = \frac{AB^2}{AB^2 \cdot AC^2} + \frac{AC^2}{AB^2 \cdot AC^2}$$

$$= \frac{1}{AC^2} + \frac{1}{AB^2}$$

(توجه کنید که چون در متوازی‌الاضلاع زوایای مجاور مکمل یکدیگرند، پس:  $(\hat{A} + \hat{B} = 180^\circ)$ )

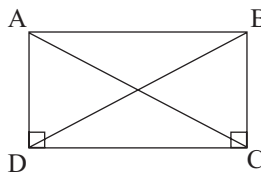
۳. مطابق شکل، فرض بر این است که ABCD متوازی‌الاضلاع است و قطرهای AC و BD با یکدیگر برابرند. در متوازی‌الاضلاع، اضلاع مقابل با یکدیگر برابرند، پس:  $AD = BC$ ، و از آن‌جا نتیجه می‌شود:

$$AD = BC, CD = CD, AC = BD$$

$$\Rightarrow \triangle ACD \cong \triangle BCD \Rightarrow \hat{C} = \hat{D}$$

$$\hat{C} + \hat{D} = 180^\circ \Rightarrow \hat{C} = \hat{D} = 90^\circ$$

در نتیجه ABCD مستطیل است.



۴. زاویه‌ها را  $\alpha_1$  و  $\alpha_2$  و ... و  $\alpha_n$  (n تعداد زاویه‌هاست) می‌گیریم. با توجه به فرض مسئله می‌نویسیم:

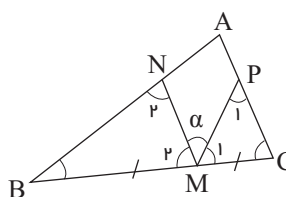
$$\alpha_1 + \alpha_2 + \dots + \alpha_n = 200^\circ$$

$$(90 - \alpha_1) + (90 - \alpha_2) + \dots + (90 - \alpha_n) = 520^\circ$$

$$\Rightarrow (90 + 90 + \dots + 90) - (\alpha_1 + \alpha_2 + \dots + \alpha_n) = 520^\circ$$

$$\Rightarrow 90 \cdot n - 200^\circ = 520^\circ \Rightarrow 90 \cdot n = 720^\circ \Rightarrow n = 8$$

۵. مطابق شکل می‌توان نوشت:

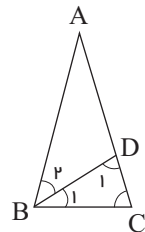


۱. مطابق شکل و با فرض  $\hat{B}_1 = \hat{B}_r = \alpha$  نتیجه می‌شود:

$$\hat{B} = 2\alpha, AB = AC \Rightarrow \hat{C} = \hat{B} = 2\alpha$$

و با فرض  $BD = BC$  نیز نتیجه می‌شود:

$$\hat{D}_1 = \hat{C} = 2\alpha$$



و مجموع زوایای داخلی مثلث BDC مساوی  $180^\circ$  است:

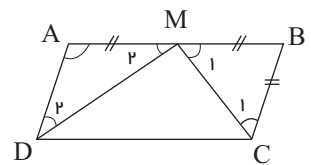
$$\hat{B}_1 + \hat{D}_1 + \hat{C} = 180^\circ \Rightarrow \alpha + 2\alpha + 2\alpha = 180^\circ$$

$$\Rightarrow 5\alpha = 180^\circ, \alpha = \frac{180^\circ}{5} = 36^\circ$$

$$\Rightarrow \hat{B} = \hat{C} = 2\alpha = 72^\circ,$$

$$\hat{A} = 180^\circ - (\hat{B} + \hat{C}) = 180^\circ - (72^\circ + 72^\circ) = 36^\circ$$

۲. مطابق شکل می‌توان نوشت:



$$AB = 2BC, MA = MB = \frac{AB}{2}$$

$$\Rightarrow BC = AD = MB = MA$$

بنابراین، مثلث‌های AMD و BMC

به ترتیب در رأس B و رأس A

متساوی الساقین اند و از آن‌جا داریم:

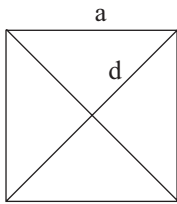
$$\hat{M}_1 = \hat{C}_1 = \frac{180^\circ - \hat{B}}{2}, \hat{M}_r = \hat{D}_r = \frac{180^\circ - \hat{A}}{2}$$

$$\Rightarrow \hat{M}_1 + \hat{M}_r = \frac{180^\circ - \hat{B}}{2} + \frac{180^\circ - \hat{A}}{2}$$

$$= \frac{360^\circ - (\hat{A} + \hat{B})}{2} = \frac{360^\circ - 180^\circ}{2} = \frac{180^\circ}{2} = 90^\circ$$

$$\Rightarrow \hat{DMC} = 90^\circ \Rightarrow CM \perp MD$$

بنابراین مساحت مربع را به کمک دستور مساحت لوزی (نصف حاصلضرب دو قطر) می‌نویسیم و با  $S = a^2$  مساوی قرار می‌دهیم:



$$\begin{cases} S = a^2 \\ S = \frac{d \times d}{2} = \frac{d^2}{2} \Rightarrow a^2 = \frac{d^2}{2} \Rightarrow d^2 = 2a^2 \\ \Rightarrow d = a\sqrt{2} \end{cases}$$

در رأس A یک ارتفاع دارند (ارتفاع AD) و چون  $MB = MC$  پس داریم:

$$S_{AMB} = \frac{1}{2} MB \cdot AD = \frac{1}{2} MC \cdot AD = S_{AMC}$$

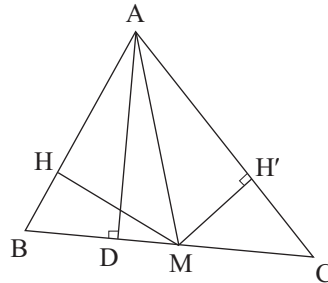
حال مساحت‌های این دو مثلث را با ارتفاع‌های MH و MH' می‌نویسیم و مساوی قرار می‌دهیم:

$$\begin{cases} S_{AMB} = \frac{1}{2} MH \cdot AB \\ S_{AMC} = \frac{1}{2} MH' \cdot AC \end{cases} \Rightarrow MH \cdot AB = MH' \cdot AC$$

$$\Rightarrow \frac{MH}{MH'} = \frac{AC}{AB}$$

۹. می‌دانیم که مربع نوعی خاصی از لوزی است (که یک زاویه  $90^\circ$  داشته باشد)،

۸. از این واقعیت استفاده می‌کنیم که در هر مثلث، هر میانه، مثلث را به دو مثلث معادل (هم مساحت) تفکیک می‌کند.



برای اثبات این موضوع کافی است توجه کنید که مثلث‌های AMB و AMC

## پاسخ حسابان

### ● مجتبی رفیعی

۱.

$$S = \frac{1}{9}(9 + 99 + 999 + \dots + \underbrace{999\dots9}_{100 \text{ تا}})$$

$$S = \frac{1}{9}[(10^1 - 1) + (10^2 - 1) + (10^3 - 1) + \dots + (10^{100} - 1)]$$

$$S = \frac{1}{9}[(10 + 10^2 + 10^3 + \dots + 10^{100}) - \underbrace{(1 + 1 + 1 + \dots + 1)}_{100 \text{ تا}}]$$

$$S = \frac{1}{9} \left[ \frac{10(10^{100} - 1)}{10 - 1} - 100 \right]$$

$$= \frac{1}{9} \left[ \frac{10}{9}(10^{100} - 1) - 100 \right]$$

$$S = \frac{1}{81}(10^{101} - 10) - \frac{1000}{9} = \frac{10^{101} - 10 - 900}{81}$$

$$= \frac{10^{101} - 910}{81}$$

$$[66, 90] = 990$$

$$c_n = 47 + (n-1)990 = 990n - 943$$

$$c_p = 990(2) - 943 = 1027$$

۲.

۴.

دومین عددی که در هر دو تصاعد

مشترک است

$$a_r = a_1 + (r-1)d \Rightarrow 47 = a_1 + 18(r-1) \Rightarrow a_1 = -13r + 18r + 47 = 5r + 47$$

$$a_n = a_1 + (n-1)d \Rightarrow 1037 = -13n + (n-1)18 \Rightarrow 1037 = -13n + 18n - 18 \Rightarrow 1055 = 5n \Rightarrow n = 211$$

$$\Rightarrow \boxed{n = 114}$$

$$b_r = b_1 + (r-1)d \Rightarrow 47 = b_1 + 18(r-1) \Rightarrow b_1 = -13r + 18r + 47 = 5r + 47$$

$$\Rightarrow b_1 = 47 - 132 = -85$$

$$b_n = b_1 + (n-1)d \Rightarrow 1037 = -85 + (n-1)18 \Rightarrow 1122 = (n-1)18 \Rightarrow 1122 = 18n - 18 \Rightarrow 1140 = 18n \Rightarrow n = 63$$

$$\Rightarrow 1037 + 85 + 66 + 66n$$

$$\Rightarrow 1122 = 66n \Rightarrow \boxed{n = 18}$$

$$f(-2) = 0 \quad \text{۳.}$$

$$\Rightarrow (-2)^{2n+1} + 2(-2)^{2n} + (-2)^5 - 5(-2)^3 + k = 0$$

$$\Rightarrow -32 + 40 + k = 0 \Rightarrow k = -8$$

$$f(x) = (x^2 - 1)Q(x) + ax + b$$

$$\Rightarrow \begin{cases} x = 1 \Rightarrow f(1) = a + b \\ x = -1 \Rightarrow f(-1) = -a + b \end{cases}$$

$$\Rightarrow \begin{cases} a + b = -9 \\ -a + b = -3 \end{cases} \Rightarrow \begin{cases} a = -3 \\ b = -6 \end{cases}$$

$$\Rightarrow R(x) = -3x - 6$$

$$\sqrt{x-1} = a \Rightarrow x = a^2 + 1$$

$$a + \sqrt{a^2 + 1 - 2a} = k \Rightarrow a + \sqrt{(a-1)^2} = k$$

$$\Rightarrow a + |a-1| = k$$

اگر  $a \geq 1$

$$|a-1| = a-1 \Rightarrow a + a-1 = k \Rightarrow 2a-1 = k$$

$$\Rightarrow 2\sqrt{x-1} - 1 = k$$

(این معادله به ازای هر مقدار k،

جواب‌های محدودی دارد)

و اگر  $a < 1$  باشد:

$$|a-1| = 1-a \Rightarrow a + 1 - a = k \Rightarrow k = 1$$

۵. چون رأس سهمی در حالت Max است،

پس  $a < 0$

$$S = -\frac{b}{a} > 0 \Rightarrow a < 0 \Rightarrow b > 0$$

$$P = \frac{c}{a} < 0 \Rightarrow a < 0 \Rightarrow c > 0$$

اگر ریشه مثبت  $X_1$  و ریشه منفی  $X_2$

باشند، آن‌گاه:



$$-\cos 2y \cos 2x$$

$$= 1 + \frac{1}{\sqrt{2}} \times 2 \cos 2x \cos 2y - \cos 2y \cos 2x = 1$$

$$\tan^{-1} x = \alpha \Rightarrow \tan \alpha = x$$

$$\tan^{-1} y = \beta \Rightarrow \tan \beta = y$$

.۱۰

$$\Rightarrow \tan(\alpha - \beta) = \frac{\tan \alpha - \tan \beta}{1 + \tan \alpha \tan \beta}$$

$$\tan(\alpha - \beta) = \frac{x - y}{1 + xy}$$

$$\Rightarrow \tan^{-1} \left( \frac{x - y}{1 + xy} \right) = \alpha - \beta$$

$$\Rightarrow \tan^{-1} \left( \frac{x - y}{1 + xy} \right) = \tan^{-1} x - \tan^{-1} y$$

.۱۱

$$\sqrt{r} \cos \left( 2x - \frac{\pi}{\xi} \right) = \sqrt{r} \Rightarrow \cos \left( 2x - \frac{\pi}{\xi} \right) = 1$$

$$\Rightarrow 2x - \frac{\pi}{\xi} = 2k\pi$$

$$\Rightarrow x = k\pi + \frac{\pi}{\lambda}$$

۴ ریشه دارد.

k	۰	۱	۲	۳
x	$\frac{\pi}{\lambda}$	$\frac{3\pi}{\lambda}$	$\frac{5\pi}{\lambda}$	$\frac{7\pi}{\lambda}$

$$c = P - (a + b) \Rightarrow c = P - \sqrt{c^2 + \lambda}$$

$$\Rightarrow P - c = \sqrt{c^2 + \lambda}$$

$$(P - c)^2 = c^2 + \lambda \Rightarrow P^2 + c^2 - 2Pc = c^2 + \lambda$$

$$\Rightarrow c = \frac{P^2 - \lambda}{2P}$$

$$D_f: 1 - x^2 \geq 0 \Rightarrow x^2 \leq 1 \Rightarrow x \in [-1, 1]$$

$$D_g: [1, +\infty)$$

$$D_{f+g} = D_f \cap D_g = [1, 1]$$

$$D_{(f+g) \circ f} = \{x \in D_f \mid f(x) \in D_{f+g}\}$$

$$\Rightarrow \{x \in [-1, 1] \mid \sqrt{1 - x^2} \in [1, 1]\}$$

$$\Rightarrow 0 \leq \sqrt{1 - x^2} \leq 1 \Rightarrow 0 \leq 1 - x^2 \leq 1$$

$$\Rightarrow -1 \leq -x^2 \leq 0$$

$$\Rightarrow 0 \leq x^2 \leq 1$$

$$\Rightarrow x^2 \leq 1$$

$$\Rightarrow -1 \leq x \leq 1$$

$$\Rightarrow D_{(f+g) \circ f} = [-1, 1]$$

$$A = \frac{1 + \cos(2x + 2y)}{2} + \frac{1 + \cos(2x - 2y)}{2}$$

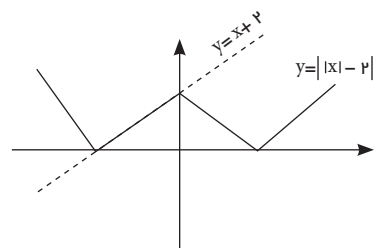
$$- \cos 2y \cos 2x$$

$$= 1 + \frac{1}{\sqrt{2}} [\cos(2x + 2y) + \cos(2x - 2y)]$$

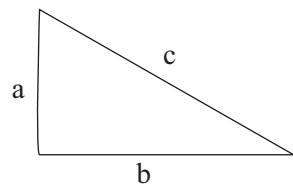
$$|x_2| < |x_1|$$

۶. بی شمار جواب دارد، زیرا:

$$\begin{cases} y = x + 2 \\ y = ||x| - 2| \end{cases}$$



.۷



$$P = a + b + c$$

$$\begin{cases} S = r \cdot \frac{1}{2} ab \Rightarrow ab = 4r \end{cases}$$

$$\begin{cases} c^2 = a^2 + b^2 \Rightarrow (a + b)^2 = c^2 + 2ab \end{cases}$$

$$\Rightarrow a + b = \sqrt{c^2 + \lambda}$$

.۹

## پاسخ جبر و احتمال

$$n = (k+1) : \frac{1}{2} + \frac{1}{3} + \dots + \frac{1}{k} + \frac{1}{k+1} < \frac{ok}{12}$$

دو طرف فرض را با  $\frac{1}{k+1}$  جمع

$$\text{می کنیم}$$

$$\frac{ok}{12} < \frac{o(k-1)}{12} + \frac{1}{k+1} \leq \frac{ok}{12}$$

$$\Rightarrow \frac{ok - o - ok}{12} \leq \frac{-1}{k+1} \Rightarrow \frac{-o}{12} \leq \frac{-1}{k+1}$$

$$\Rightarrow k+1 \geq \frac{12}{o} \rightarrow k \geq \frac{12}{o}$$

پس حکم برای هر  $n \geq 4$  برقرار است.

$$(2k+1) \times 2 \times (k+1) 2^{2k} (k!)^2 \leq 2^{2k} \times 2^2$$

$$\times (k!)^2 \times (k+1)^2$$

$$\Rightarrow 2k+1 \leq 2k+2 \rightarrow 1 \leq 2$$

پس حکم برای هر  $n \in \mathbb{N}$  برقرار است.

$$n = 2 : \frac{1}{2} < \frac{o}{12}; n = 3 : \frac{o}{6} < \frac{1o}{12};$$

$$n = 4 : \frac{13}{12} < \frac{1o}{2}$$

مناسب  $m = 4$

$$n = k : \frac{1}{2} + \frac{1}{3} + \dots + \frac{1}{k} < \frac{o(k-1)}{12}$$

$$n = 1 : 2 < 4$$

$$n = k : (2k)! < 2^{2k} (k!)^2$$

$$n = (k+1) : (2k+2)! < 2^{2k+2} [(k+1)!]^2$$

دو طرف فرض استقرای را در

$(2k+1)(2k+2)$  ضرب می کنیم:

$$(2k+1)(2k+2) \times (2k)! < (2k+1)(2k+2) \times 2^{2k} (k!)^2$$

$$\Rightarrow (2k+2)! < (2k+1)(2k+2) \times 2^{2k} (k!)^2$$

باید ثابت کنیم که:

$$(2k+1)(2k+2) \times 2^{2k} (k!)^2 \leq 2^{2k} \times 2^2 \times [(k+1)!]^2$$

.۱

.۲

۳.

$$\begin{aligned} abcabc &= 13k \\ abcabc &= a \times 10^5 + b \times 10^4 + c \times 10^3 + a \times 10^2 \\ &\quad + b \times 10 + c \\ &= a \times 10^2 (10^3 + 1) + b \times 10 (10^2 + 1) + c (10^3 + 1) \\ &= 100(a \times 10^2 + b \times 10 + c) \\ &= 13 \times 100(abc) = 13k \end{aligned}$$

۴.

الف)  $a^x + b^x + \varepsilon a + \varepsilon b + \lambda \geq 0$   
 $\Leftrightarrow (a^x + \varepsilon a + \varepsilon) + b^x + \varepsilon b + \varepsilon \geq 0$   
 $\Leftrightarrow (a + \varepsilon)^x + (b + \varepsilon)^x \geq 0$

ب)  $2ab - 2a^x + 2a \leq b^x + 1$   
 $\Leftrightarrow b^x - 2ab + a^x + a^x - 2a + 1 \geq 0$   
 $\Leftrightarrow (b^x + a^x - 2ab) + (a^x - 2a + 1) \geq 0$   
 $\Leftrightarrow (a - b)^x + (a - 1)^x \geq 0$

۵. فرض کنیم  $2\sqrt{x} - \sqrt{y} = \frac{a}{b}$  عددی گویا باشد،

داریم:

$$\begin{aligned} 2\sqrt{x} - \sqrt{y} = \frac{a}{b} \in \mathbb{Q} &\Rightarrow (2\sqrt{x} - \sqrt{y})^2 = \frac{a^2}{b^2} \\ \Rightarrow 4x + y - 4\sqrt{xy} = \frac{a^2}{b^2} &\Rightarrow -4\sqrt{xy} = \frac{a^2}{b^2} - 4x - y \\ \Rightarrow \sqrt{xy} = \frac{a^2}{4b^2} + x + \frac{y}{4} &\in \mathbb{Q} \end{aligned}$$

تناقض  $\in \mathbb{Q}$

۶. کیوترها = ۶۵

لانه‌ها =  $4 \times 4 \times 2 = 32$

$$= A \cap (A \cap B)$$

$$\Rightarrow A = A \cap B \Rightarrow A \subset B \quad (1)$$

$$A \cup B = A \cap B \Rightarrow B \cap (A \cup B) = B \cap (A \cap B)$$

$$B = A \cap B \Rightarrow B \subset A \quad (2)$$

$$(1), (2) \rightarrow A = B$$

۱۰.

$$|x| \leq 1, x \in \mathbb{Z} \Rightarrow x = -1, 0, 1$$

$$A = \left\{ \frac{1}{x}, 1, 2 \right\}$$

$$x^2 \leq 1, x \in \mathbb{Z} \Rightarrow B = \{-1, 1\}$$

$$A \times B = \left\{ \left(\frac{1}{-1}, -1\right), \left(\frac{1}{-1}, 1\right), \left(\frac{1}{1}, -1\right), \left(\frac{1}{1}, 1\right), \left(\frac{1}{2}, -1\right), \left(\frac{1}{2}, 1\right), \left(\frac{1}{2}, -1\right), \left(\frac{1}{2}, 1\right) \right\}$$

$$A^x = \left\{ \left(\frac{1}{-1}, \frac{1}{-1}\right), \left(\frac{1}{-1}, \frac{1}{1}\right), \left(\frac{1}{1}, \frac{1}{-1}\right), \left(\frac{1}{1}, \frac{1}{1}\right), \left(\frac{1}{2}, \frac{1}{-1}\right), \left(\frac{1}{2}, \frac{1}{1}\right), \left(\frac{1}{2}, \frac{1}{-1}\right), \left(\frac{1}{2}, \frac{1}{1}\right) \right\}$$

$$|A \times B - A^x| = 6 \Rightarrow 2^6 = 64 \quad \text{زیرمجموعه}$$

۱۱.

$$\begin{cases} x^2 - y^2 = 16 \\ xy = 15 \Rightarrow x = \frac{15}{y} \end{cases}$$

$$\frac{225}{y^2} - y^2 = 16 \Rightarrow y^4 + 16y^2 - 225 = 0$$

$$\Rightarrow (y^2 + 25)(y^2 - 9) = 0$$

$$\Rightarrow y = \pm 3 \Rightarrow x = \pm 5$$

۱۲.

$$A = \{n^2 - 1 | n \in \mathbb{N}\}$$

طبق اصل لانه کیوترا:  $\left[\frac{75-1}{22}\right] + 1 = 3$

$$\binom{n}{3} = 14 + \binom{n}{2} \quad \text{۷.}$$

$$\frac{n!}{(n-3)! \times 3!} = 14 + \frac{n!}{2! \times (n-2)!}$$

$$\frac{n(n-1)(n-2)}{3!} = 14 + \frac{n(n-1)}{2}$$

$$n(n-1)(n-2) - 3n(n-1) = 84$$

$$n(n-1)(n-5) = 2^2 \times 3 \times 7 \Rightarrow n = 7 \Rightarrow \binom{7}{4}$$

۸.

$$\begin{cases} A \cap B = A \cap C \\ B \cap A' = C \cap A' \end{cases}$$

$$(A \cap B) \cup (B \cap A') = (A \cap C) \cup (C \cap A')$$

$$B \cap \underbrace{(A \cup A')} = C \cap \underbrace{(A \cup A')} \Rightarrow B = C$$

۹.

الف)  $(A \cup B) \cap (B \cup C)'$   
 $= (A \cup B) \cap (B' \cap C')$   
 $= ((B' \cap C') \cap A) \cup ((B' \cap C') \cap B)$   
 $= (A \cap B') \cap C' = (A - B) - C$

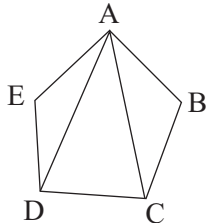
ب)  $A' \subset B' \Rightarrow A' \cup B' = B'$   
 $\Rightarrow (A \cap B)' = B'$   
 $\Rightarrow A \cap B = B \Rightarrow B \subset A$

ج) قضیه کتاب درسی

$$d) A \cup B = A \cap B \Rightarrow A \cap (A \cup B)$$

همان روش نتیجه می‌شود:

$$S_3 = 3 \times 180^\circ = 540^\circ$$



و به طریق استقرایی، جدول زیر را تنظیم می‌کنیم و فرمول کلی  $S_n$  را حدس می‌زنیم:

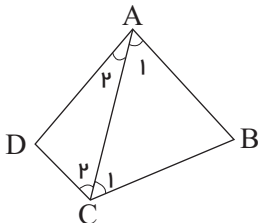
n	3	4	5	...	n
$S_n$	$180^\circ$	$360^\circ$	$540^\circ$	...	$(n-2)180^\circ$

ب) تعداد قطرهای n ضلعی محدب

## پاسخ‌هندسه ۲

● هوشنگ شرقی

$$\Rightarrow S_5 = \hat{A} + \hat{B} + \hat{C} + \hat{D} = 2 \times 180^\circ = 360^\circ$$



و به ازای  $n=5$ ، با رسم دو قطر، پنج ضلعی را به سه مثلث تفکیک می‌کنیم و با

الف) با توجه به مجموع زوایای داخلی هر مثلث، به ازای  $n=3$ ،  $S_n = 180^\circ$  و به ازای  $n=4$ ، با رسم یک قطر چهار ضلعی را به دو مثلث تفکیک می‌کنیم و مجموع زوایای داخلی آن را می‌یابیم:

$$\begin{cases} \hat{A}_1 + \hat{B} + \hat{C}_1 = 180^\circ \\ \hat{A}_1 + \hat{D} + \hat{C}_1 = 180^\circ \end{cases} \Rightarrow \hat{A}_1 + \hat{A}_1 + \hat{B} + \hat{C}_1 + \hat{C}_1 + \hat{D} = 2 \times 180^\circ$$



## جهاد اقتصادی

### برگ اشتراک مجله‌های رشد

نحوه اشتراک:

شما می‌توانید به دو صورت مشترک مجله شوید:

۱. واریز مبلغ اشتراک به شماره حساب ۲۹۶۶۲۰۰۰ بانک تجارت، شعبه سرراه آرماهش کد ۳۰۹۶ در وجه شرکت افست و تکمیل فرم اشتراک به همراه فیت مشخصات فیش واریزی در سایت مجلات رشد به آدرس: [www.roshdmag.ir](http://www.roshdmag.ir)
۲. ارسال اصل فیش بانکی به همراه برگ تکمیل شده اشتراک با پست سفارشی (فیش را نزد خود نگه دارید)

نام مجلات در خواستی:

- نام و نام خانوادگی:
- تاریخ تولد:
- تلفن:
- نشانی کامل پستی:
- استان:
- شماره پست:
- مبلغ پرداختی:
- شماره پستی:
- پلاک:

امضا:

در صورتی که قبلاً مشترک مجله بوده‌اید شماره اشتراک خود را ذکر نمایید:

۰۲۱-۹۵۰۱۱۱

نشانی: تهران - صندوق پستی اومشستر کون:

[www.roshdmag.ir](http://www.roshdmag.ir)

نشانی اینترنتی:

Email: [info@roshdmag.ir](mailto:info@roshdmag.ir)

پست الکترونیک:

اشتراک مجله: ۰۲۱-۷۷۳۳۳۱۵۶-۷۳۳۳۰۱۱-۷۳۳۳۹۷۳-۱۴

• هزینه اشتراک یکساله مجلات عمومی (۸ شماره): ۴۰۰۰ ریال

• هزینه اشتراک یکساله مجلات تخصصی (۴ شماره): ۶۰۰۰ ریال

است. بنابراین داریم:  $\frac{n(n-3)}{2}$

$$\frac{n(n-3)}{2} = \epsilon n \Rightarrow \frac{n-3}{2} = \epsilon \Rightarrow n-3 = 8 \Rightarrow n = 11$$

$$\Rightarrow S_n = (n-2) \cdot 180^\circ = 9 \times 180^\circ = 1620^\circ$$

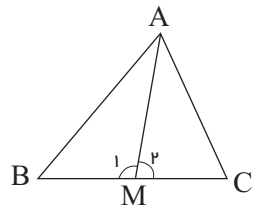
۲. به کمک عکس قضیه لولا در دو مثلث

AMB و AMC می‌نویسیم:

AM=AM و MB=MC و AB > AC

$$\Rightarrow \hat{M}_1 > \hat{M}_2 \Rightarrow \hat{M}_1 + \hat{M}_2 > 2\hat{M}_2$$

$$\Rightarrow 2\hat{A}MC < 180^\circ \Rightarrow \hat{A}MC < 90^\circ$$



و برای اثبات قسمت دوم مسئله، میانه

AM را از طرف M به اندازه خودش تا

نقطه A' امتداد می‌دهیم و از A' به B و

C وصل می‌کنیم. چون AM=A'M و

BM=MC پس در چهارضلعی ACA'B

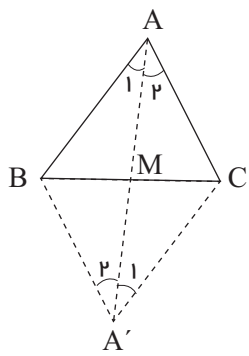
قطرها همدیگر را نصف کرده‌اند و در نتیجه

این چهارضلعی متوازی الاضلاع است،

بنابراین:

AB || A'C و A'C=AB

$$A_1 = \hat{A}'_1$$



و چون AB > AC پس A'C > AC:

و لذا در مثلث ACA' می‌توان نوشت:

$$A'C > AC \Rightarrow \hat{A}_2 > \hat{A}'_1, \hat{A}'_1 = \hat{A}_1$$

$$\Rightarrow \hat{A}_2 > \hat{A}_1 \Rightarrow \hat{M}AC > \hat{M}AB$$

۳. اگر از M به سه رأس مثلث وصل کنیم،

نتیجه می‌شود:

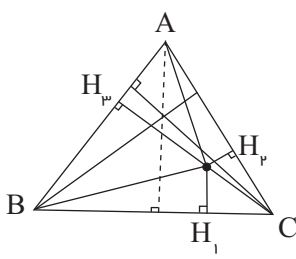
$$S_{ABC} = S_{MAB} + S_{MAC} + S_{MBC}$$

$$\Rightarrow S_{ABC} = \frac{1}{2}MH_1 \cdot BC + \frac{1}{2}MH_2 \cdot AC$$

$$+ \frac{1}{2}MH_3 \cdot AB = \frac{1}{2}a \cdot L_a + \frac{1}{2}b \cdot L_b + \frac{1}{2}c \cdot L_c$$

$$\Rightarrow \frac{1}{2}aL_a + \frac{1}{2}bL_b + \frac{1}{2}cL_c = 1$$

$$\Rightarrow \frac{aL_a}{S_{ABC}} + \frac{bL_b}{S_{ABC}} + \frac{cL_c}{S_{ABC}} = 1$$



ولی روشن است که:

$$S_{ABC} = \frac{1}{2}a \cdot h_a = \frac{1}{2}b \cdot h_b = \frac{1}{2}c \cdot h_c$$

و در نتیجه:

$$\frac{1}{2}aL_a + \frac{1}{2}bL_b + \frac{1}{2}cL_c = 1$$

$$\Rightarrow \frac{L_a}{h_a} + \frac{L_b}{h_b} + \frac{L_c}{h_c} = 1$$

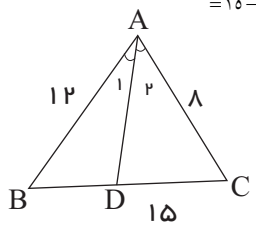
۴. به کمک قضیه نیمسازها می‌نویسیم:

$$\frac{AB}{AC} = \frac{BC}{CD} \Rightarrow \frac{AB+AC}{AC} = \frac{BD+CD}{CD}$$

$$\Rightarrow \frac{8+12}{8} = \frac{10}{CD}$$

$$\Rightarrow CD = \frac{10 \times 8}{20} = 4 \Rightarrow BD = BC - CD$$

$$= 15 - 4 = 11$$



۵. مسئله را حل شده فرض می‌کنیم. مطابق

شکل هم‌اندازه AB، AD را روی AC

جدا می‌کنیم.

بنابراین داریم:

$$AD = AB = c \Rightarrow CD = AC - AD = b - c$$

$$AD = AB \Rightarrow \hat{D}_1 = \hat{B}_1, \hat{D}_1 = \hat{C} + \hat{B}_2$$

$$\Rightarrow \hat{B}_1 = \hat{C} + \hat{B}_2, \hat{B}_1 + \hat{B}_2 = \hat{B} \Rightarrow \hat{B}_1 = \hat{B} - \hat{B}_2$$

$$\Rightarrow \hat{B} - \hat{B}_2 = \hat{C} + \hat{B}_2 \Rightarrow 2\hat{B}_2 = \hat{B} - \hat{C},$$

$$\hat{B}_2 = \frac{\hat{B} - \hat{C}}{2}$$



دفتر انتشارات کمک آموزشی

## با مجله‌های رشد آشنا شوید

مجله‌های رشد توسط دفتر انتشارات کمک آموزشی سازمان پژوهش و برنامه‌ریزی آموزشی وابسته به وزارت آموزش و پرورش تهیه و منتشر می‌شوند.

### مجله‌های دانش آموزی

(به صورت ماهنامه و ۸ شماره در هر سال تحصیلی منتشر می‌شوند):

#### رشد کوکبک

(برای دانش آموزان ابتدایی و پایه‌ی اول دوره‌ی دبستان)

#### رشد نوزاد

(برای دانش آموزان پایه‌های دوم و سوم دوره‌ی دبستان)

#### رشد دانش آموز

(برای دانش آموزان پایه‌های چهارم و پنجم دوره‌ی دبستان)

#### رشد نوجوان

(برای دانش آموزان دوره‌ی راهنمایی تحصیلی)

#### رشد جوان

(برای دانش آموزان دوره‌ی متوسطه و پیش‌دانشگاهی)

### مجله‌های بزرگسال عمومی

(به صورت ماهنامه و ۸ شماره در هر سال تحصیلی منتشر می‌شوند):

رشد آموزش ابتدایی • رشد آموزش راهنمایی تحصیلی • رشد تکنولوژی آموزشی

رشد مدرسه فردا • رشد مدیریت مدرسه • رشد معلم

### مجله‌های بزرگسال و دانش‌آموزی اختصاصی

(به صورت فصلنامه و ۴ شماره در هر سال تحصیلی منتشر می‌شوند):

رشد برهان راهنمایی (مجله ریاضی برای دانش آموزان دوره‌ی راهنمایی تحصیلی) • رشد برهان متوسطه (مجله ریاضی برای دانش آموزان دوره‌ی متوسطه) • رشد آموزش قرآن • رشد آموزش معارف اسلامی • رشد آموزش زبان و ادب فارسی • رشد آموزش هنر • رشد مشاور مدرسه • رشد آموزش تربیت بدنی • رشد آموزش علوم اجتماعی • رشد آموزش تاریخ • رشد آموزش چهار اقیانوس • رشد آموزش زبان • رشد آموزش ریاضی • رشد آموزش فیزیک • رشد آموزش شیمی • رشد آموزش زیست‌شناسی • رشد آموزش زمین‌شناسی • رشد آموزش فنی و حرفه‌ای • رشد آموزش پیش‌دبستانی

مجله‌های رشد عمومی و اختصاصی برای آموزگاران، معلمان، مدیران و کارکنان اجرایی مدارس. دانش‌جویمان مراکز تربیت معلم و رشته‌های دبیری دانشگاه‌ها و کارشناسان تعلیم و تربیت تهیه و منتشر می‌شوند.

نشانی: تهران، خیابان ایرانشهر شمالی، ساختمان شماره ۴ آموزش و پرورش، پلاک ۲۶۶، دفتر انتشارات کمک آموزشی.

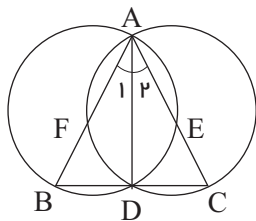
تلفن و نمابر: ۰۲۱ - ۸۸۳۰۱۴۷۸

$$\begin{aligned} &= \frac{r\widehat{AB} + r\widehat{AC} + r\widehat{BC}}{4} = \frac{r(\widehat{AB} + \widehat{AC} + \widehat{BC})}{4} \\ &= \frac{r \times 360^\circ}{4} = 27r^\circ \end{aligned}$$

۷. از قضیه خطوط قاطع در دایره می‌توان کمک گرفت:

$$CD \cdot CB = CE \cdot CA \quad \text{و} \quad BD \cdot BC = BF \cdot BA$$

و از تقسیم این دو رابطه بر یکدیگر خواهیم داشت:



$$\frac{CD \cdot CB}{BD \cdot BC} = \frac{CE \cdot CA}{BF \cdot BA} \Rightarrow \frac{CD}{BD} = \frac{CE}{BF} \cdot \frac{CA}{BA}$$

و مطابق قضیه نیمسازها داریم:

$$\frac{CD}{BD} = \frac{CA}{BA} \quad \text{در نتیجه:}$$

$$\frac{CA}{BA} = \frac{CE}{BF} \cdot \frac{CA}{BA} \Rightarrow \frac{CE}{BF} = 1 \Rightarrow CE = BF$$

۸. با توجه به دستور مربوط به محاسبه طول مماس مشترک خارجی دو دایره می‌توان نوشت:

$$\begin{aligned} L &= \sqrt{d^2 - (R - R')^2} \\ &= \sqrt{(R + R')^2 - (R - R')^2} \\ &= \sqrt{4RR'} = 2\sqrt{RR'} \quad \text{و} \quad L = \sqrt{2}R \\ \Rightarrow \sqrt{2}R &= 2\sqrt{RR'} \Rightarrow 2R^2 = 4RR' \Rightarrow R = 2R' \end{aligned}$$

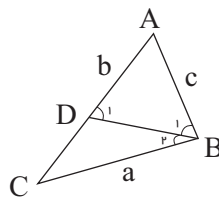
**بحث:** اگر دایره فوق در نقطه دیگری مانند  $D'$  نیز ضلع دوم زاویه  $B$  را قطع کند، در این صورت  $CD'$  عمودمنصف  $BD'$  را در پایین  $BC$  قطع می‌کند و مسئله یک جواب دیگر نیز دارد (آن را رسم کنید)؛ ولی در این مثلث  $AB > AC$  و در نتیجه:  $c > b$  و  $\hat{C} > \hat{B}$  و این جواب مورد قبول ما نیست، ولی اگر از ابتدا به جای  $b - c$  و  $\hat{B} - \hat{C}$  و  $|b - c|$  و  $|\hat{B} - \hat{C}|$  را موجود فرض می‌کردیم، این هم جواب دیگری بود.

اما اگر دایره فوق امتداد ضلع زاویه  $B$  را قطع نکند مسئله جواب ندارد.

**سؤال:** آیا ممکن است دایره فوق این ضلع را در یک نقطه قطع کند، یعنی بر آن مماس شود؟

۶. براساس قضایای مربوط به زاویه‌های ظلی و محاطی در دایره می‌توان نوشت:

$$\begin{aligned} \hat{\alpha} &= \frac{\widehat{ABC}}{2} = \frac{\widehat{AB} + \widehat{BC}}{2} \quad \text{و} \\ \hat{\beta} &= \frac{\widehat{BAC}}{2} = \frac{\widehat{AB} + \widehat{AC}}{2} \\ \hat{\gamma} &= \frac{\widehat{BCA} - \widehat{AB}}{2} = \frac{\widehat{BC} + \widehat{AC} - \widehat{AB}}{2} \\ \Rightarrow \hat{\alpha} + \hat{\beta} + \hat{\gamma} &= \frac{\widehat{AB} + \widehat{BC}}{2} + \frac{\widehat{AB} + \widehat{AC}}{2} + \frac{\widehat{BC} + \widehat{AC} - \widehat{AB}}{2} \\ &= \frac{2\widehat{AB} + 2\widehat{BC} + 2\widehat{AB} + 2\widehat{AC} + \widehat{BC} - \widehat{AB}}{2} \end{aligned}$$



پس در مثلث  $BCD$  اندازه‌های ضلع‌های  $BC = a$  و  $CD = b - c$  و زاویه  $\hat{B}_1 = \frac{\hat{B} - \hat{C}}{2}$  را داریم، لذا این مثلث قابل رسم است و از آنجا می‌توان مثلث  $ABC$  را نیز رسم کرد.

**طریقه رسم:** ابتدا پاره خط  $BC = a$  را رسم و سپس روی رأس  $B$ ، زاویه  $\hat{B}_1 = \frac{\hat{B} - \hat{C}}{2}$  را جدا می‌کنیم. حال به مرکز  $C$  و به شعاع  $b - c$  دایره‌ای می‌زنیم. محل برخورد این دایره و ضلع دیگر زاویه  $\hat{B}_1$  را  $D$  می‌نامیم.  $CD$  را از طرف  $D$  امتداد می‌دهیم و محل برخورد آن با عمودمنصف  $BD$ ، رأس  $A$  از مثلث  $ABC$  است (چرا؟) و از  $A$  به  $B$  و  $C$  وصل می‌کنیم تا مثلث  $ABC$  با شرایط مسئله رسم شود.

