




مجله ریاضی

چرخش

برای دانش آموزان دبیرستان

۲۰

سال ششم ، بهار ۱۳۷۶ شماره سوم ، بها ۲۰۰۰ ریال





- صاحب امتیاز: انتشارات مدرسه □ مدیر مسئول: محمود ابراهیمی  
 سردبیر: حمیدرضا امیری □ مدیر داخلی: سیدمحمد رضا هاشمی موسوی  
 اعضای هیئت تحریریه: آقایان: □ حمیدرضا امیری □ محمدهاشم رستمی □ احمد قندهاری □ سیدمحمد رضا هاشمی موسوی  
 □ غلامرضا یاسی پور (با تشکر از همکاری ارزنده آقای پرویز شهریاری و با تشکر از آقای حسین ابراهیمزاده قلمز در بخش کامپیوتر مجله)  
 □ مدیر فنی: هوشنگ آشتیانی □ طراح و صفحه‌آرا: احمد پیرحسینلو □ رسم: سیدجعفر طرازانی □ چاپ و صحافی: چاپخانه مدرسه

مطالب این شماره

۵۱	طرح و حل مسائل اساسی ریاضی به روشهای مقدماتی (۱۸) / غلامرضا یاسی پور	۱	حرف اول
۵۲	ریاضیات گسسته (قسمت پنجم) / غلامرضا یاسی پور	۲	شما هم می‌توانید در درس ریاضی خود موفق باشید (۲۰) / پرویز شهریاری
۵۷	سرگرمی برای اندیشه‌ورزی / حسن نصیرنیا	۸	تغییرات و انتقال منحنی‌ها / احمد قندهاری
۵۹	مکان هندسی (قسمت دهم) / محمدهاشم رستمی	۱۵	تاریخچه مجلات ریاضی ایران (۱۹) / غلامرضا یاسی پور
۶۱	مشاهیر ریاضی جهان / غلامرضا یاسی پور	۱۸	در حاشیه تابع و مفهوم تابع (قسمت دوم) / حمیدرضا امیری
۶۳	یک خاصیت مثلث قائم‌الزاویه و کاربرد آن در صنعت / دکتر احمد شرف‌الدین	۲۳	مبانی کامپیوتر و برنامه‌ریزی با BASIC (۹) / حسین ابراهیمزاده قلمز
۶۵	بررسی وضع دو دایره نسبت به هم / محمدهاشم رستمی	۳۱	آموزش ترجمه متون ریاضی (۱۶) / محمدصادق عسگری
۷۰	محاسبه مساحت دایره / سیدمحمد رضا هاشمی موسوی	۳۴	رادیکال (قسمت چهارم) / سیدمحمد رضا هاشمی موسوی
۷۱	معرفی کتاب	۴۱	مقالات کوتاه از مجلات ریاضی معتبر جهان (۱۷) / غلامرضا یاسی پور
۷۳	جواب نامه‌ها	۴۵	اصل رد و شمول / امیرمنصور خانمحمد / امیر فرزاد
۷۵	مسائل برای حل		سال ششم، بهار ۱۳۷۶ شماره سوم.
۸۱	حل مسائل برهان ۱۹		
۸۷	جوابهای تفریح اندیشه		

برگزیده تمامی دبیران محترم و دانش‌آموزان عزیز را در زمینه‌های زیر دعوت به همکاری می‌کند:

- نگارش مقالات کمک درسی (شرح و بسط و رفع مشکلات مبحث درسی کتب ریاضی راهنمایی) ۲- طرح مسائل کلیدی (برای دانش‌آموزان) به همراه حل آن ۳- طرح مسائل مسابقه‌ای (برای دانش‌آموزان) به همراه حل آن ۴- طرح معماهای ریاضی
- نگارش یا ترجمه مقالات عمومی ریاضی (مانند تاریخ ریاضیات، زندگی‌نامه علمی و اجتماعی ریاضیدانان، نکته‌های تازه و لطیف ریاضیات، آموزش مسائل کامپیوتر و ...)

- هیئت تحریریه در حکم و اصلاح و حذف و اضافه مقالات آزاد است. ■ مقالات مجله با رسم الخط انتشارات مدرسه به چاپ خواهد رسید.
- مقالات وارده باید خوانا و حتی الامکان کوتاه باشد. ■ مقالات رسیده مسترد نمی‌شود.

کد ۴۷۳/۱

هر ۳ ماه یک شماره منتشر می‌شود.

استفاده از مطالب مجله در کتب یا مجلات دیگر با ذکر دقیق مأخذ بلامانع است.

نشانی: خیابان سپهبدقزنی، پل کریمخان زند، کوچه شهیدمحمود حقیقت‌طلب، پلاک ۳۶

تلفن: ۸۸۱۰۳۲۵-۹، دورنویس (فاکس): ۸۸۲۰۵۹۹ صندوق پستی: ۱۴۱۵۵/۱۹۴۹



## حرف اول

انسان موجودی هدف‌دار و آینده‌نگر است و همواره برای تحقق بخشیدن به آرمانها و ایده‌های خویش به دنبال الگوها و بهترینها می‌باشد. این الگوبدیری در واقع معیارهای سنجش ارزشهای خوب و بد انسانها قرار می‌گیرد.

در فرهنگ اصیل و جهانشمول اسلام و کتاب عظیم آن؛ قرآن کریم، همواره این الگوها در تمامی جنبه‌ها و ابعاد معرفی شده‌اند و علاوه بر آن امامان ما (علیهم‌السلام) که آینه تمام‌نمای اسلام و قرآن هستند، بهترین الگوها و اسوه‌های بشری برای پیروان حق و حقیقت و رستگاری دنیا و آخرت هستند.

در قسمتی از آیه ۲۱ در سوره احزاب می‌خوانیم:

«رسول خدا برای شما الگویی شایسته است»

عزیزان دانش‌آموز! آیا شما از این حجت‌های آشکار و برحق الگو می‌گیرید؟ آیا تاکنون توانسته‌اید در جنبه‌های مختلف زندگی خود از جمله برای دستیابی به ارزشهای مثبت و والای انسانی از وجود پرفیض و از سرچشمه پربرکت و زلال ولایت استفاده کنید؟

بباید از همین امروز و با تمسک به معصومین علیهم‌السلام و در پناه رهنمودها و بیانات آن بزرگواران، همواره جزو بهترینها باشیم و در این مسیر ابتدا باید بهترینها را بشناسیم و توصیه‌های آنان را برای بهترین بودن به گوش جان بسپریم و -ان شاء...- به آنها عمل کنیم.

نمونه‌هایی از سخنان گهربار معصومین علیهم‌السلام را در چند مورد خاص تقدیم رهروان و عاشقان آنها می‌کنیم باشد که با تمسک به گلواژه‌های پاکان زندگی خود را از انوار الهی آنها روشن سازیم.

بهترین انسان: پیامبر اکرم صلی‌الله علیه و آله و سلم فرمودند: «بهترین انسانها، کسانی هستند که برای مردم سودمندتر و مفیدتر باشند.»

بهترین بندگان خدا: امام علی علیه‌السلام فرمودند: «بهترین بندگان خدا، کسی است که وقتی کار نیک و خوب انجام دهد، شادمان باشد و اگر مرتکب خلافی شد از خدا طلب آمرزش کند.»

بهترین یاران: از رسول اکرم (ص) سؤال شد که بهترین یاور چه کسی است؟ ایشان فرمودند: «کسی است که وقتی خدا را یاد کردی تو را کمک کند و وقتی خدا را فراموش کردی، تو را به یاد خدا بیندازد.»

بهترین برادران: پیامبر اکرم (ص) فرمودند: «بهترین برادران شما کسی است که عیبهایتان را به عنوان هدیه به شما بگوید.»  
بهترین جوان: پیامبرگرامی اسلام (ص) فرمودند: «بهترین جوانان شما کسی است که از نظر متانت و وقار و دوراندیشی مثل پیرمردان باشد.»

بهترین مردان: پیامبر اکرم (ص) فرمودند: «بهترین مردان شما کسی است که باتقوا، پرهیزکار، بخشنده و نگاهش پاک و نسبت به پدر و مادرش مهربان و نیک‌اندیش بوده و خانواده‌اش را به پناه بردن به دیگران و ندارد.»

بهترین زیور برای زنان: رسول اکرم (ص) فرمودند: «پاکدامنی زیور زنان است.» و هم ایشان در جای دیگر فرمودند: «خدا زنان مردنما و مردان زن‌نما را لعنت کند و از رحمت خویش دور سازد.»

والسلام - سردبیر

# شما هم می‌توانید در درس ریاضی خود موفق باشید (۲۰)

○ پرویز شهریاری

## نقش شکل در مسأله‌های هندسه فضایی

اگر در هندسه روی صفحه، باید مراقبت کرد تا شکل درست و دقیق رسم شود و سپس با استدلال و با پیدا کردن رابطه‌های موجود بین عنصرهای شکل (زاویه‌ها و پاره‌خط‌های راست و غیره) درستی آن را تأیید کرد، در هندسه فضایی، اغلب خود رسم شکل، دشواری به وجود می‌آورد و پیدا کردن رابطه‌هایی که ممکن است بین عنصرهای شکل وجود داشته باشد، چندان ساده نیست. رسم برخی جسم‌های فضایی، مثل مکعب مستطیل، هرم یا منشور با قاعده سه ضلعی یا چهار ضلعی چندان دشوار نیست، ولی رسم جسم‌هایی مثل هرمی با قاعده هفت ضلعی، یا پیدا کردن شکلی که از برخورد یک صفحه با جسم فضایی یا دو جسم فضایی به دست می‌آید، یا تلاش برای یافتن «سایه» یک جسم (یعنی تصویر مرکزی آن)، گاهی بسیار دشوار می‌شود. گذشته از رسم شکل، جست‌وجوی رابطه‌های لازم بین عنصرهای جسم هم اغلب سردرگمی به وجود می‌آورد.

در این جا با مثالهای مختلف، راهنمایی‌هایی برای رفع این دشواریها (تا آنجا که ممکن است) شده است، ولی تردیدی نیست، که ذهن خلاق جوانان، بهتر و بیشتر از این راهنماییها می‌تواند کارساز باشد. در آغاز برای نوع برخورد با مسأله‌های هندسه فضایی، سفرشی داریم و سپس به بحث دربارهٔ رفع

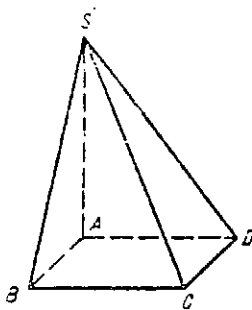
دشواریهای مختلف مربوط به رسم شکل می‌پردازیم.

۱. از شکلی که رسم کرده‌اید، چه نتیجه‌هایی می‌گیرید؟  
به این مسأله توجه کنید:

مسأله ۱. در هرم  $SABCD$  می‌دانیم:

(۱) قاعده  $ABCD$  یک مربع است؛

(۲) یال جانبی  $SA$  بر صفحهٔ قاعده است.



شکل (۱)

اگر ضلع قاعده، طولی برابر  $a$  و یال  $SA$  طولی برابر  $b$  داشته باشد، مساحت سطح جانبی هرم را پیدا کنید.

موقعیت خاصی از یک هرم در برابر شماست. پیش از هر چیز، و بدون توجه به آن چه مسأله خواسته است، تلاش کنید، هر نتیجه‌ای را که می‌توان از موقعیت این مسأله گرفت، فهرست کنید و، سپس، به اثبات درستی آنها بپردازید. با هر مسأله‌ای،

مسأله‌های ۱ و ۲)، دو مسأله مختلف نیستند و می‌توان آنها را مسأله‌های هم‌ارز نامید.  
 مسأله را به صورت دیگری هم می‌توان مطرح کرد، که باز هم با مسأله‌های ۱ و ۲ هم‌ارز است.

مسأله ۳. مطلوب است محاسبه سطح جانبی هرم SABCD، به شرطی که ABCD، مربعی با ضلع به طول  $a$  باشد، همه وجه‌های جانبی هرم، مثلث‌هایی قائم‌الزاویه باشند و ارتفاع هرم، طولی برابر  $b$  داشته باشد.

در این‌جا نتیجه گرفتن گزاره ۲ از گزاره ۹ اندکی دشوارتر است. برای برطرف کردن این دشواری، ابتدا این پرسش ساده را در برابر خود قرار می‌دهیم: آیا ممکن است دو یال جانبی هرم، بر قاعده عمود باشند؟ روشن است که، پاسخ این پرسش، منفی است: اگر دو یال جانبی هرم بر قاعده عمود باشند، آن وقت با هم موازی‌اند، در حالی که، همه یال‌های جانبی، در رأس  $S$  به هم رسیده‌اند.

سپس، فرض می‌کنیم SBC، زاویه‌ای قائمه، یعنی خط راست SB بر خط راست BC عمود باشد. به این ترتیب، (BC) بر (SB) و بر (AB) عمود است، یعنی (BC) بر صفحه SAB عمود می‌شود؛ ولی (BC) بر صفحه ABC واقع است، پس دو صفحه SAB و ABC برهم عمودند. چون بنا بر فرض، مثلث SAB قائم‌الزاویه است، دو حالت ممکن وجود دارد:

اول  $\hat{SBA} = 90^\circ$  به جز این (SB) هم بر (BC) عمود است، پس (SB) بر صفحه ABC عمود است و، به این ترتیب ثابت می‌شود، یکی از یال‌های جانبی بر صفحه قاعده عمود است.  
 دوم  $\hat{SBA} \neq 90^\circ$  و، در این صورت  $\hat{SAB} = 90^\circ$ ، یعنی  $(AB) \perp (SA)$  و چون دو صفحه SAB و ABC برهم عمودند، بنابراین (SA) بر صفحه ABC عمود می‌شود.

ممکن است پرسشی پیش آید: آیا حالت سوم وجود ندارد؟ آیا ممکن نیست زاویه ASB قائمه باشد؟ ولی اگر در یک وجه جانبی، زاویه رأس S قائمه، و بقیه راس‌ها هم، مثلث‌هایی قائم‌الزاویه باشند، آن وقت باید همه وجه‌های جانبی در راس S قائم باشند، زیرا اگر تنها یکی از یال‌های جانبی بر ضلعی از قاعده عمود باشد، آن وقت، با توجه به تجزیه و تحلیلی که از

چه در هندسه روی صفحه و چه در هندسه فضایی می‌توان به این گونه عمل کرد، ولی به ویژه در هندسه فضایی اهمیت بیشتری دارد. درباره مسأله ۱، می‌توان این ویژگی‌ها یا رابطه‌ها را نتیجه گرفت (با فرض وجود ویژگی‌های ۱ و ۲):

۳) یال SD بر ضلع CD از مربع قاعده عمود است:

۴) یال جانبی SB بر ضلع BC از قاعده عمود است:

۵) صفحه SAD بر صفحه SAB عمود است:

۶) دو صفحه SAB و ABC بر هم عمودند:

۷) مثلث‌های SAD و SAB با هم برابرند:

۸) مثلث‌های SBC و SDC با هم برابرند:

۹) همه وجه‌های جانبی هرم، مثلث‌های قائم‌الزاویه‌اند.

پیدا کردن این نتیجه‌ها، اهمیت بیشتری دارد تا اثبات آنها، زیرا اثبات آنها چندان دشوار نیست (نتیجه‌های ۳ و ۴ به یاری قضیه سه عمود: ۵ و ۶ با توجه به معیار عمود بودن دو صفحه بر هم).

این بررسی به شما کسک می‌کند که، اگر مثلاً بخواهیم از رأس S، عمودهایی بر خط‌های راست DC و BC رسم کنیم، آنها را به اشتباه، غیر از SD و SB در نظر نگیریم. بدون این بررسی قبلی، ممکن است از این‌گونه اشتباه‌ها پیش آید. درضمن، این بررسی‌ها، حل مسأله ۱ را کم و بیش حاضر و آماده در برابر ما قرار می‌دهد.

با تجزیه و تحلیل منطقی موقعیت شکل می‌توان به نتیجه‌های دیگری هم رسید. مثلاً، می‌توانیم در این‌باره بیندیشیم: آیا می‌توان جای گزاره‌های فرض را با گزاره‌های حکم عوض کرد؟ اندکی دقت نشان می‌دهد که می‌توان گزاره ۲ را از گزاره‌های ۱ و ۵ و ۶ نتیجه گرفت، یعنی فرض ۲، با دو فرض ۵ و ۶ هم‌ارز است. در این صورت مسأله ۱ را می‌توان به این صورت تغییر داد:

مسأله ۲. سطح جانبی هرم SABCD را پیدا کنید، به شرطی که قاعده ABCD مربع به ضلع برابر  $a$  باشد و وجه‌های SAB و SAD بر صفحه قاعده عمود با ارتفاعی به طول برابر  $b$  باشند.

اگر شکل را بررسی کرده باشیم، متوجه می‌شویم که

۸) مثلث‌های SAO, SBO, SCO و برابرند؛  
 ۹) همه یال‌های جانبی، نسبت به صفحه قاعده، شیبی برابر دارند؛

$$\widehat{SAO} = \widehat{SBO} = \widehat{SCO}$$

اثبات گزاره‌های (۳) تا (۹) دشوار نیست و، با توجه به آنها، مسأله ۴، به سادگی حل می‌شود. در ضمن، ساختن مسأله‌هایی هم‌ارز با مسأله ۴، چندان دشوار نیست. به عنوان نمونه:

مسأله ۵. در هرم SABC، قاعده ABC، مثلثی است قائم‌الزاویه با وتر  $|AB|=C$  و زاویه حاده  $\hat{A} = \alpha$ . در ضمن، وجه جانبی SAB بر صفحه قاعده عمود است (یا ارتفاع هرم در صفحه SAB قرار دارد، یا ارتفاع از وسط پاره‌خط راست AB، یا از مرکز دایره محیطی مثلث قاعده بگذرد و غیره) و طول یال جانبی SA برابر است با b. حجم هرم را محاسبه کنید.

می‌توان مسأله‌های هم‌ارز را با پیش‌فرض‌های (۱) و (۳) یا (۱) و (۴) یا (۱) و (۵) یا (۱) و (۶) یا (۱) و (۹) در نظر گرفت. حالت انتخاب (۴) و (۶) می‌تواند مسأله‌ای جالب باشد.

II. چگونه از یک شکل فضایی پیچیده، به شکل ساده‌تر و عملی‌تری برسیم؟ به این مسأله توجه کنید:  
 هرمی منتظم با قاعده شش ضلعی، که زاویه مسطحه رأس آن برابر  $\alpha$  است، داده شده است. مقدار زاویه دو وجهی بین دو وجه مجاور آن را پیدا کنید.

در این جا، رسم تمامی هرم، چندان ساده نیست. به جز آن، تعداد پاره‌خط‌های راست، صفحه‌ها، زاویه‌ها و زاویه‌های دو وجهی، چنان زیادند که انتخاب عنصرهای لازم را بر حل مسأله دشوار می‌کند. ولی حقیقت این است که ما، به تمامی شکل نیازی نداریم و کافی است، بخش ساده‌ای از آن را انتخاب کنیم که هم رسم آن ساده باشد و هم شامل همه عنصرهای لازم (برای حل) باشد.

هرمی با قاعده مثلثی شکل را در نظر می‌گیریم که  $\frac{1}{6}$  هرم اصلی باشد: دو رأس آن، دو انتهای ارتفاع هرم اصلی و یک

شکل کرده‌ایم، آن وقت هیچ یک از زاویه‌های قائمه مثلث‌های جانبی، در رأس هرم قرار نمی‌گیرد. از طرف دیگر، هر چهار زاویه رأس هرم، نمی‌توانند قائمه باشند، زیرا در این صورت، مجموع آنها برابر  $360^\circ$  درجه می‌شود، که ممکن نیست.

به این ترتیب، ثابت می‌شود که از گزاره‌های (۱) و (۹) می‌توان گزاره (۲) را نتیجه گرفت؛ یعنی مسأله ۳ با مسأله‌های ۱ و ۲ هم‌ارز است.

مثال دیگری از این گونه می‌آوریم.

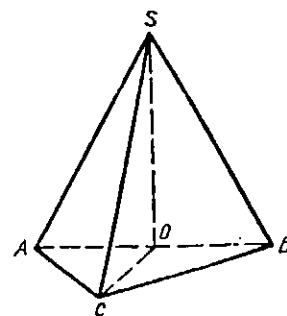
مسأله ۴. مطلوب است حجم هرم SABC، به شرطی که، در آن قاعده ABC مثلثی قائم‌الزاویه با وتر به طول c و زاویه حاده برابر  $\alpha$  باشد و در ضمن هر یال جانبی طولی برابر b داشته باشد.

بنابر فرض، در هرم SABC می‌دانیم:

(۱) ABC مثلثی قائم‌الزاویه است ( $\hat{C} = 90^\circ$ ):

(۲) یال‌های جانبی، طولی برابر دارند:  $|SA|=|SB|=|SC|$

(شکل ۲).



شکل (۲)

اکنون باید به جست‌وجوی نتیجه‌های ناشی از دو فرض برویم، سیاهه این نتیجه‌ها را در این جا داده‌ایم:  
 (۳) تصویر یال‌های جانبی بر صفحه قاعده، طولی برابر دارند؛

$$|AO|=|BO|=|CO|$$

(۴) SO، یعنی ارتفاع هرم، از نقطه O، مرکز دایره محیطی قاعده می‌گذرد؛

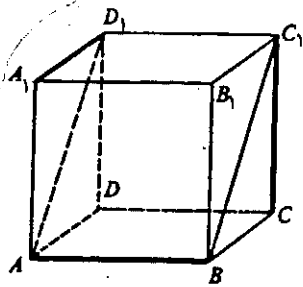
(۵) ارتفاع هرم، از وسط ضلع AB می‌گذرد؛

(۶) صفحه ASB بر صفحه ABC عمود است؛

(۷) مثلث‌های SAO, SBO, SCO قائم‌الزاویه اند؛

دو رأس آن، روی یکی از این خط‌های راست و، دو رأس دیگر آن، روی دو خط راست دیگر باشند.

مکعب  $ABCD A_1 B_1 C_1 D_1$  به ضلع واحد را به عنوان چند وجهی تکیه‌گاه در نظر می‌گیریم (شکل ۴). خط‌های راست  $AB$ ،  $CC_1$  و  $D_1 A_1$  دو به دو برهم عمودند و فاصله‌ای برابر ۱ دارند. متوازی‌الاضلاع  $ABC_1 D_1$  (که در عین حال، مستطیل است) با شرط‌های مسأله می‌سازد و مساحتی برابر  $\sqrt{2}$  دارد. هر متوازی‌الاضلاع دیگری هم که با شرط‌های مسأله در نظر بگیریم، همین مساحت را دارد (خودتان این حکم را ثابت کنید).



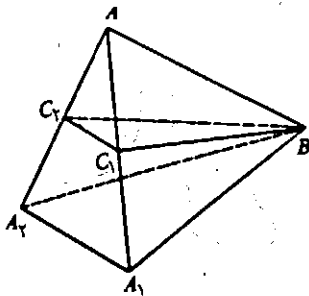
شکل (۴)

البته، همه مسأله‌ها به همین سادگی قابل تفسیر نیستند. به این

مسأله توجه کنید:

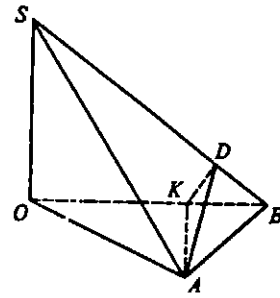
مسأله ۷. پرتو نور با زاویه  $\alpha$  بر یک آئینه مسطح تابیده است. صفحه آئینه به اندازه زاویه  $\beta$  دور تصویر پرتو بر آئینه دوران می‌کند. پرتو باز تابیده به اندازه چه زاویه‌ای منحرف می‌شود؟

اندیشه حل مسأله در این جاست، که به جای بازتاب پرتو از آئینه (یعنی به جای درک فیزیکی مسأله) به قرینه نقطه نورانی نسبت به صفحه آئینه (یعنی درک ریاضی آن) توجه کنیم. A را نقطه سرچشمه نور فرض کنید (شکل ۵). B را نقطه‌ای، که در



شکل (۵)

ضلع قاعده آن، ضلعی از قاعده هرم اصلی باشد (شکل ۳).



شکل (۳)

در این هرم (با توجه به نام گذارهای شکل ۳)

$$|OB| = |OA|, \quad \widehat{BOA} = 60^\circ, \quad \widehat{ASB} = \alpha$$

در ضمن، پاره خط راست SO بر صفحه ABC عمود است. زاویه دو وجهی بین صفحه‌های ASB و OBS (یا OAS) برابر است با نصف زاویه دو وجهی مجهول (زاویه دو وجهی مجهول را  $\varphi$  می‌نامیم).

از نقطه A، عمودهای AD و AK را به ترتیب بر BS و OB فرود می‌آوریم؛ در این صورت  $\widehat{KDA} = \frac{\varphi}{2}$ . اگر  $|OA| = |OB| = R$  خواهیم داشت:

$$|AK| = \frac{\sqrt{3}}{2} R, \quad |AB| = R, \quad |AD| = \frac{R}{\cos \frac{\alpha}{2}}$$

$$\sin \frac{\varphi}{2} = \frac{|AK|}{|AD|} = \frac{\sqrt{3}}{2} \cos \frac{\alpha}{2}$$

$$\varphi = 2 \arcsin \left( \frac{\sqrt{3}}{2} \cos \frac{\alpha}{2} \right)$$

در برخی موارد باید برعکس با اضافه کردن عنصرهایی شکل فضایی را ملموس‌تر کرده بویژه وقتی که در مسأله، تنها از خط‌ها و صفحه‌ها صحبت شده است، آنها را «بی‌پناه و سرگردان» در فضا رها نکنید و تلاش کنید یک جسم فضایی (که رسم آن ساده باشد) پیدا کنید که، این خط‌ها و صفحه‌ها وابسته به آن باشند. دو نمونه از این گونه می‌آوریم:

مسأله ۶. سه خط راست در فضا داده شده است که دوه دو بر هم عمودند و فاصله بین هر دو تا از آنها برابر واحد است. مساحت متوازی‌الاضلاعی را پیدا کنید که،

شکل ۶ موقعیت مسأله و بستگی بین عنصرهای آن را روشن می‌کند. از خط راست  $AB$  صفحه‌ای عمود بر خط راست  $CK$  می‌گذرانیم و سپس هرم را بر این صفحه تصویر می‌کنیم (شکل ۷). در این عمل، خط راست  $CK$  بر نقطه  $K'$  تصویر می‌شود، که وسط پاره خط راست  $A'B'$  است  $|A'B'| = |AB| = ۱$ . ارتفاع  $D'K'$  از مثلث  $A'B'D'$  طولی برابر طول ارتفاع هرم دارد، یعنی  $|D'K'| = \sqrt{\frac{۲}{۳}}$  وسط پاره خط راست  $D'K'$  تصویر نقطه  $M$  است. فاصله بین خط‌های راست  $CK$  و  $BM$  برابر است با فاصله از نقطه  $K'$  تا خط راست  $B'M'$  (چرا؟). با یک مسأله ساده روی صفحه سر و کار پیدا می‌کنیم. مطلوب است طول ارتفاع وارد بر وتر، در مثلث قائم الزاویه‌ای که، طول ضلع‌های مجاور به زاویه قائمه آن برابر  $\frac{۱}{۳}\sqrt{۲}$  و  $\frac{۱}{۳}$  است. و این طول (یعنی فاصله مورد نظر مسأله) برابر  $\frac{۱}{\sqrt{۱۰}}$  است.

شکل‌های فضایی، که همراه با خط‌ها و سطح‌های منحنی هستند، جای ویژه‌ای دارند. در این حالتها اغلب می‌توان (و باید) از تلاش برای رسم تمامی شکل فضایی صرف‌نظر کرد و به شکلی (که ممکن است مسطحه یا فضایی باشد) متوسل شد که شامل مرکزها، محورها، نقطه‌های اصلی، مماس‌ها و سایر عنصرهای اصلی مسأله باشد. مثلاً، اگر با چهار کره دو به دو مماس بر هم، سر و کار داشته باشیم، می‌توان یک چهار وجهی در نظر گرفت که یال‌های آن، طولی برابر قطرهای این کره‌ها داشته باشد و راس‌های آن، معرف مرکزهای این کره‌ها باشند. گاهی بهتر است شکل فضایی را در ذهن خود نگه داریم و تنها روی یک شکل ساده مسطحه (و یا حتی بدون آن) استدلال خود را ادامه دهیم، زیرا علاوه بر آن که رسم شکل اصلی دشواریهای ایجاد می‌کند، ممکن است از چارچوب صفحه کاغذ ما هم تجاوز کند و یا آن قدر شلوغ شود، که نتوان عنصرهای لازم آن را دید. به یک مسأله توجه کنیم:

مسأله ۹. چهار کره با شعاع‌های برابر بر صفحه‌ای مماس‌اند؛ در ضمن، هر کره بر دو کره مجاور خود مماس است. مخروطی را در نظر می‌گیریم که قاعده آن روی صفحه مماس بر کره‌ها باشد و ارتفاعی برابر قطر این کره‌ها

آن‌جا پرتو نوری به آینه تابیده است،  $A_1$  و  $A_2$  را قرینه‌های  $A$  به ترتیب نسبت به حالت نخستین و حالت دوران یافته آینه،  $C_1$  را وسط پاره خط راست  $AA_1$  ( $C_1$ ، تصویر  $A$  بر آینه در حالت نخستین است) و  $C_2$  را وسط  $AA_2$  می‌گیریم. چون بازتاب پرتو در امتداد پاره خط‌های راست  $A_1B$  و  $A_2B$  است، بنابراین زاویه مجهول برابر است با زاویه  $A_1BA_2$ . خط‌های راست  $AC_1$  و  $AC_2$ ، به ترتیب بر حالت نخستین آینه و بر حالت دوران یافته آن عمودند، یعنی  $A_1\hat{A}A_2 = C_1\hat{A}C_2 = \beta$  بنا به فرض  $\hat{A}BC_1 = \alpha$ . اگر  $|AB| = |A_1B| = |A_2B| = a$  فرض کنیم، آن وقت

$$|AC_1| = a \sin \alpha \quad |C_1C_2| = |AC_1| \sin \beta = a \sin \alpha \sin \beta$$

( $\hat{A}C_2C_1 = 90^\circ$ ) زیرا  $C_1C_2$  متعلق به آینه دوران یافته، و  $C_2$  تصویر  $A$  بر آن است). به این ترتیب

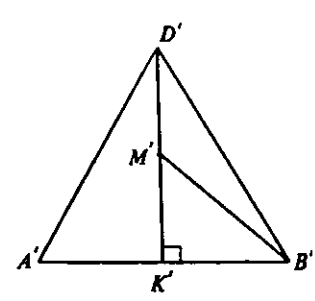
$$|A_1A_2| = 2|C_1C_2| = 2a \sin \alpha \sin \beta$$

اکنون با توجه به معلوم بودن طول ضلع‌های مثلث متساوی‌الساقین  $A_1BA_2$  می‌توان مقدار زاویه  $A_1BA_2$  را به دست آورد. این زاویه برابر است با:

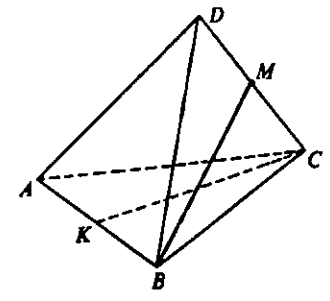
$$2 \arcsin(\sin \alpha \sin \beta)$$

گاهی شکل فضایی تنها برای روشن کردن موقعیت لازم است (و گاهی برای این منظور هم لازم نیست) و می‌توان تمامی استدلال و محاسبه را روی یک شکل واقع بر صفحه انجام داد. به این مسأله توجه کنید:

مسأله ۸. در چهار وجهی  $ABCD$ ، همه یال‌ها طولی برابر واحد دارند. نقطه‌های  $M$  و  $K$  را به ترتیب وسط پاره خط‌های راست  $AB$  و  $CD$  انتخاب کرده‌ایم. فاصله بین دو خط راست  $CK$  و  $BM$  را پیدا کنید.



شکل (۷)

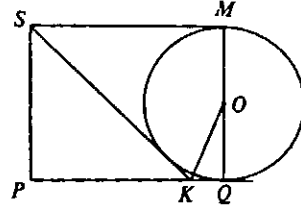


شکل (۶)



داشته باشد؛ در ضمن سطح جانبی مخروط بر هر یک از این کره‌ها مماس است. نسبت حجم‌های مخروط و کره‌ها را پیدا کنید.

اگر شعاع هر کره را برابر  $R$  بگیریم، آن وقت مرکزهای آنها، مربعی با ضلع به طول  $2R$  تشکیل می‌دهند. شکل ۸ برای حل



شکل (۸)

مساله کفایت می‌کند. در این شکل  $SP$  محور مخروط،  $MQ$  قطر یکی از کره‌ها ( $Q$  نقطه تماس کره با صفحه است) و  $SK$  مولد مخروط مماس بر کره است. روشن است که  $|SM| = R\sqrt{2}$  (نصف قطر مربع با ضلع به طول  $2R$ ). اگر  $\hat{MSO} = \varphi$ ، آن وقت  $\operatorname{tg} \varphi = \frac{1}{\sqrt{2}}$  یعنی


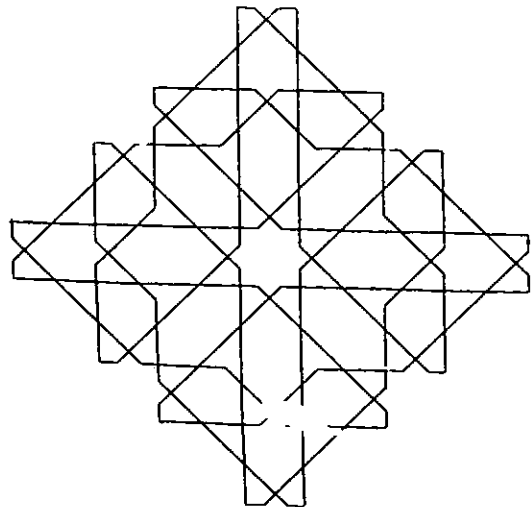
$$\hat{PSK} = 90^\circ - 2\varphi$$

$$|PK| = 2R \operatorname{tg}(90^\circ - 2\varphi) = R \frac{1 - \operatorname{tg}^2 \varphi}{\operatorname{tg} \varphi} = \frac{1}{\sqrt{2}} R$$

اکنون دیگر به سادگی نسبت مورد نظر به دست می‌آید که

$$\text{برابر است با } \frac{1}{4}.$$

تا بعد



### تفریح اندیشه ۱

#### مربع وفقی

مربع وفقی زیر ظاهر ساده، اما در واقع بسیار غیر متعارف است. چون اعداد آن را به طور قائم، افقی، یا سطری جمع کنیم حاصل ۲۶۴ است.

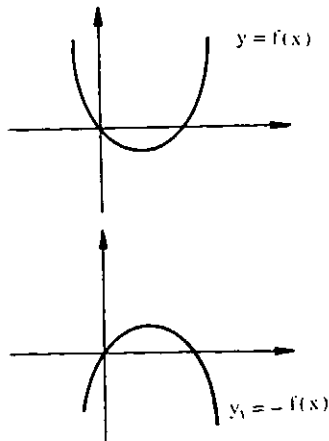
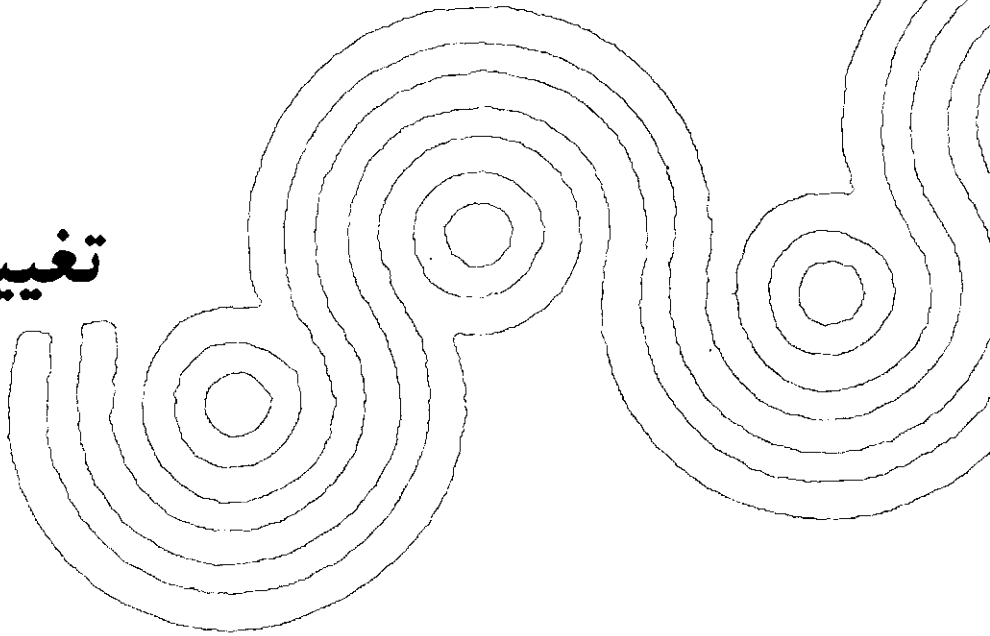
در مربع وفقی چهار در چهاری چون این مربع می‌توان انتظار داشت که چهار مربع گوشه‌ای، چهار مربع میانی، و هریک از چهار مربع موجود به مجموع وفقی یکسانی برسند. تا اینجا مطلب شگفت‌انگیزی موجود نیست.

در این صورت ویژگی جالب این مربع وفقی چیست؟ این دقیقاً همان چیزی است که باید بیابید.

۱۸	۹۹	۸۶	۶۱
۶۶	۸۱	۹۸	۱۹
۹۱	۱۶	۶۹	۸۸
۸۹	۶۸	۱۱	۹۶

# تغییرات و انتقال منحنی‌ها

● احمد قندهاری



۲- رسم تابع به معادله  $y_1 = f(-x)$

اگر نقطه  $M \left| \begin{matrix} x_0 \\ y_0 \end{matrix} \right.$  روی منحنی تابع  $f$  به معادله  $y = f(x)$  باشد، آنگاه نقطه  $M' \left| \begin{matrix} -x_0 \\ y_0 \end{matrix} \right.$  روی منحنی تابع به معادله  $y_1 = f(-x)$  است و بالعکس:

$$\text{اگر } M' \left| \begin{matrix} -x_0 \\ y_0 \end{matrix} \right. \in y_1 \Rightarrow y_0 = f(-(-x_0)) \Rightarrow y_0 = f(x_0) \Rightarrow$$

$$M \left| \begin{matrix} x_0 \\ y_0 \end{matrix} \right. \in f$$

چون نقطه  $M \left| \begin{matrix} x_0 \\ y_0 \end{matrix} \right.$  و  $M' \left| \begin{matrix} -x_0 \\ y_0 \end{matrix} \right.$  قرینه یکدیگر نسبت به محور  $y$  می‌باشند، در نتیجه برای رسم نمودار تابع به معادله  $y_1 = f(-x)$  باید قرینه نمودار تابع  $f$  به معادله  $y = f(x)$  را نسبت به محور  $y$  رسم کنیم. در شکل‌های بعد نمودارها دو تابع به معادلات  $y = f(x)$  و  $y_1 = f(-x)$  رسم شده است.

تابع  $f$  به معادله  $y = f(x)$  مفروض است.

می‌خواهیم نمودارهای تابع‌های به معادلات  $y_1 = -f(x)$

و  $y_2 = f(-x)$  و  $y_3 = f(|x|)$  و  $y_4 = |f(x)|$  و  $y_5 = f(x-a)$  و  $y_6 = b + f(x)$  و  $y_7 = b + f(x-a)$  و  $y_8 = f(kx)$  و  $y_9 = kf(x)$  نمودار رابطه  $|y_1| = f(x)$  را رسم کنیم.

همچنین اگر منحنی‌های دو تابع  $f$  و  $g$  معلوم باشد، می‌خواهیم نمودارهای تابع‌های  $f+g$  و  $f-g$  را رسم کنیم.

۱- رسم نمودار تابع به معادله  $y_1 = -f(x)$

اگر نقطه  $M \left| \begin{matrix} x_0 \\ y_0 \end{matrix} \right.$  نقطه‌ای از منحنی تابع به معادله  $y = f(x)$  باشد، آنگاه نقطه  $M' \left| \begin{matrix} x_0 \\ -y_0 \end{matrix} \right.$  نقطه‌ای از منحنی تابع به معادله  $y_1 = -f(x)$  است.

و بالعکس:

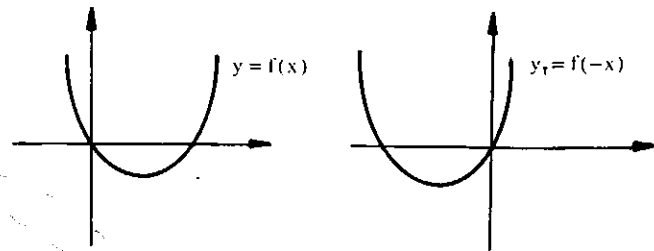
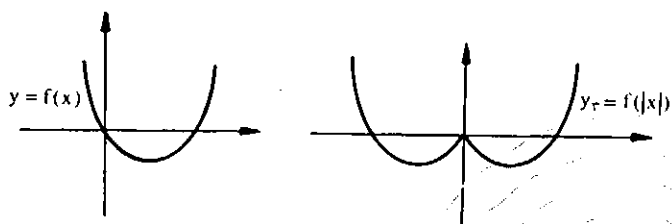
$$\text{اگر } M' \in y_1 \Rightarrow -y_0 = -f(x_0) \Rightarrow y_0 = f(x_0) \Rightarrow M \left| \begin{matrix} x_0 \\ y_0 \end{matrix} \right. \in f$$

چون دو نقطه  $M \left| \begin{matrix} x_0 \\ y_0 \end{matrix} \right.$  و  $M' \left| \begin{matrix} x_0 \\ -y_0 \end{matrix} \right.$  قرینه یکدیگر نسبت به

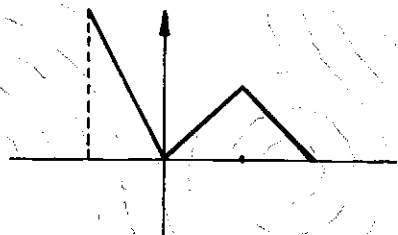
محور  $x$  می‌باشند.

در نتیجه برای رسم نمودار تابع به معادله  $y_1 = -f(x)$  باید قرینه منحنی تابع به معادله  $y = f(x)$  را نسبت به محور  $x$  رسم کنیم. در شکل‌های زیر نمودار دو تابع  $y = f(x)$  و  $y_1 = -f(x)$  نشان داده شده است.

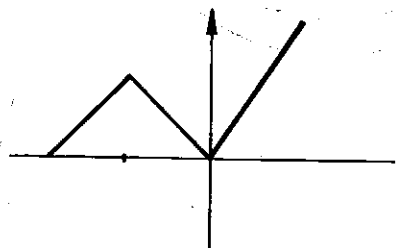
بنابراین نمودار تابع به معادله  $y_F = f(|x|)$  چنین خواهد شد.



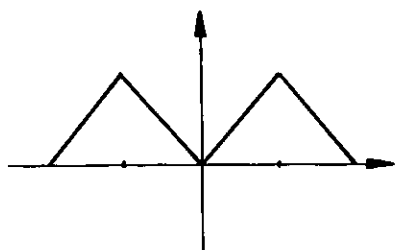
مثال: اگر نمودار تابع به معادله  $y = f(x)$  به صورت زیر باشد



آنگاه نمودار تابع به معادله  $y_F = f(-x)$  چنین است:



و نمودار تابع به معادله  $y_F = f(|x|)$  چنین است.

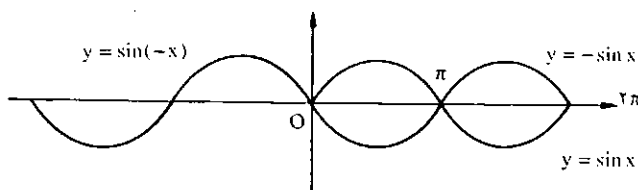


۴ - رسم تابع به معادله  $y_F = |f(x)|$

اگر نقطه  $M(x, y)$  روی منحنی تابع به معادله  $y = f(x)$  باشد، آنگاه نقطه  $M(x, |y|)$  روی منحنی تابع به معادله  $y_F = |f(x)|$  است.

چنانچه منحنی تابع  $f$  به معادله  $y = f(x)$  تماماً بالا یا روی محور  $x$  ها باشد آنگاه نمودار تابع به معادله  $y_F = |f(x)|$  نیز همان

مثال: نمودار تابع به معادله  $y = \sin x$ ،  $0 \leq x \leq 2\pi$  معلوم است. می‌خواهیم نمودارهای دو تابع به معادلات  $y_1 = -\sin x$  و  $y_2 = \sin(-x)$  را رسم کنیم.

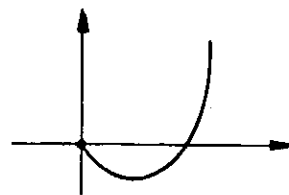


۳ - رسم تابع به معادله  $y_F = f(|x|)$

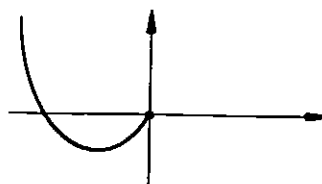
$$|x| = \begin{cases} +x, & x \geq 0 \\ -x, & x < 0 \end{cases} \quad \text{می‌دانیم}$$

$$\Rightarrow \begin{cases} y_F = f(x), & x \geq 0 \\ y_F = f(-x), & x < 0 \end{cases}$$

پس برای رسم تابع به معادله  $y_F = f(|x|)$  باید از نمودار تابع  $f$  قسمتی را انتخاب کرد، که  $x \geq 0$  یعنی این قسمت:

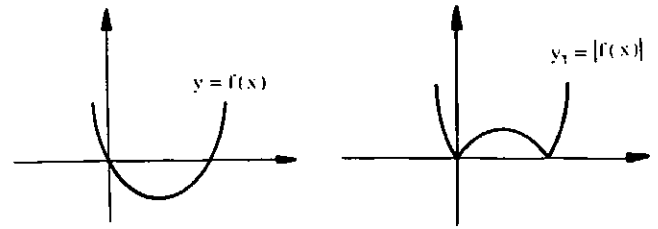
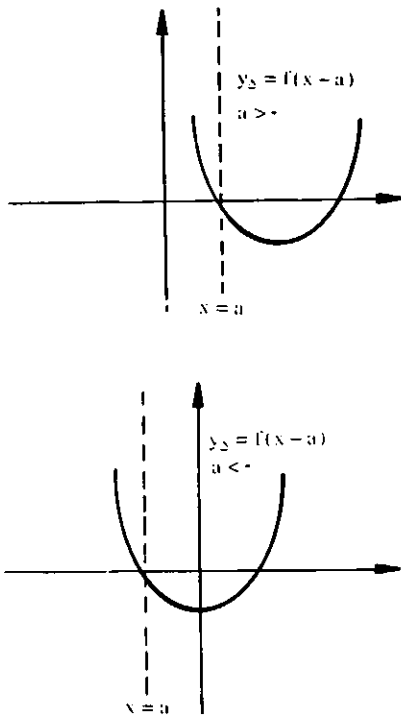


و از نمودار تابع به معادله  $y_F = f(-x)$  باید قسمتی را انتخاب کرد که  $x < 0$  یعنی این قسمت:



نمودار تابع  $f$  است.

و اگر قسمتی یا تمام منحنی تابع  $f$  در زیر محور  $x$  باشد، برای رسم تابع به معادله  $y_f = |f(x)|$  باید قرینه این قسمت از منحنی را نسبت به محور  $x$  ها رسم کنیم.



۵ - رسم تابع به معادله  $y_5 = f(x-a)$

اگر نقطه  $M \left| \begin{smallmatrix} x_0 \\ y_0 \end{smallmatrix} \right.$  روی منحنی تابع به معادله  $y = f(x)$  باشد، آنگاه نقطه  $M \left| \begin{smallmatrix} x_0+a \\ y_0 \end{smallmatrix} \right.$  روی منحنی تابع به معادله  $y_5 = f(x-a)$  است و بالعکس:

$$\text{اگر } M \left| \begin{smallmatrix} x_0+a \\ y_0 \end{smallmatrix} \right. \in y_5 \Rightarrow y_0 = f(x_0+a-a) \Rightarrow$$

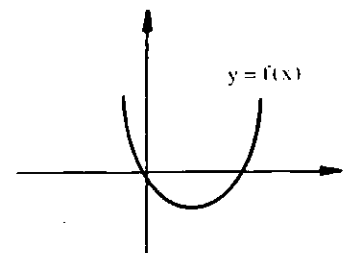
$$y_0 = f(x_0) \Rightarrow M \left| \begin{smallmatrix} x_0 \\ y_0 \end{smallmatrix} \right. \in f$$

پس می توان گفت هر نقطه به طول  $x$  واقع بر منحنی تابع  $f$  (بدون تغییر عرض) در منحنی به معادله  $y_5 = f(x-a)$  به نقطه ای به طول  $(x+a)$  تبدیل می شود.

به عبارت دیگر می توان گفت هر نقطه از منحنی تابع  $f$  با بردار انتقال  $\vec{V}(a, 0)$  به نقطه ای از منحنی به معادله  $y_5 = f(x-a)$  تبدیل می شود.

بنابراین برای رسم تابع به معادله  $y_5 = f(x-a)$  کفایت کلیه نقاط منحنی تابع  $f$  را به اندازه  $x=a$  در راستای محور  $x$  ها تغییر مکان می دهیم.

اگر  $a > 0$ ، آنگاه هر نقطه از منحنی تابع  $f$  به اندازه  $x=a$  به سمت راست محور  $x$  ها انتقال می یابد و اگر  $a < 0$ ، آنگاه هر نقطه از منحنی تابع  $f$  به اندازه  $x=a$  به سمت چپ محور  $x$  ها انتقال می یابد.



۶ - رسم تابع به معادله  $y_6 = b + f(x)$

اگر نقطه  $M \left| \begin{smallmatrix} x_0 \\ y_0 \end{smallmatrix} \right.$  روی منحنی تابع به معادله  $y = f(x)$  باشد، آنگاه نقطه  $M \left| \begin{smallmatrix} x_0 \\ y_0+b \end{smallmatrix} \right.$  روی منحنی تابع به معادله  $y_6 = b + f(x)$  است و بالعکس

$$\text{اگر } M \left| \begin{smallmatrix} x_0 \\ y_0+b \end{smallmatrix} \right. \in y_6 \Rightarrow y_0+b = b+f(x_0) \Rightarrow$$

$$y_0 = f(x_0) \Rightarrow M \left| \begin{smallmatrix} x_0 \\ y_0 \end{smallmatrix} \right. \in f$$

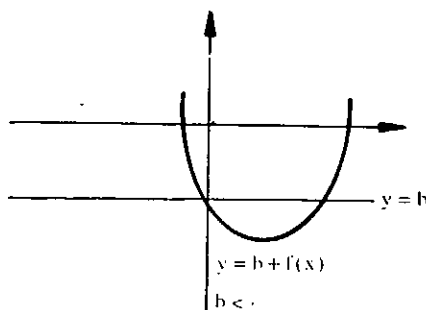
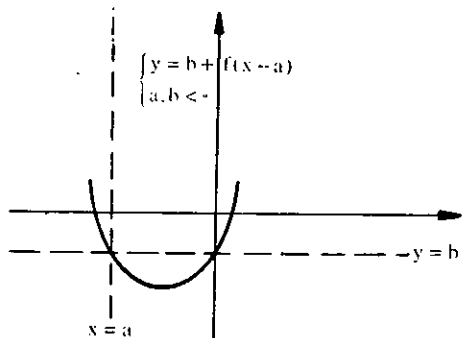
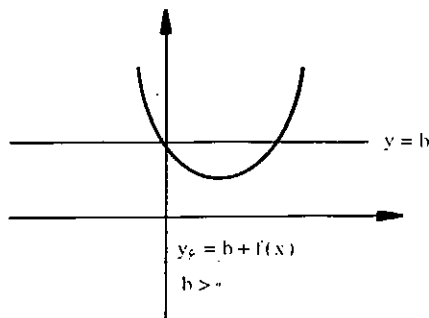
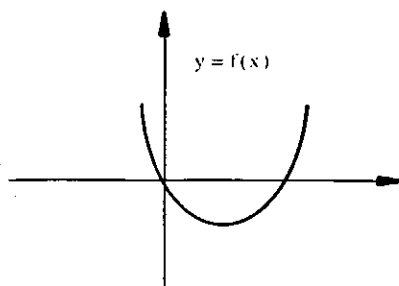
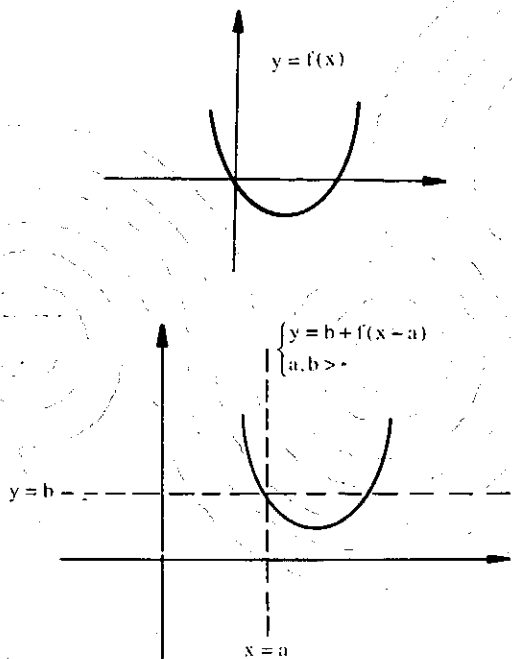
پس هر نقطه به عرض  $y_0$  واقع بر منحنی تابع  $f$  (بدون تغییر طول) در منحنی به معادله  $y_6 = b + f(x)$  به عرض  $y_0+b$  تبدیل می شود.

به عبارت دیگر می توان گفت هر نقطه منحنی تابع به معادله  $y = f(x)$  با بردار انتقال  $\vec{V}(0, b)$  به نقطه ای از منحنی به معادله  $y_6 = b + f(x)$  تبدیل می شود.

در نتیجه برای رسم تابع به معادله  $y_6 = b + f(x)$  کفایت کلیه نقاط منحنی تابع  $f$  را به اندازه  $y=b$  در راستای محور  $y$  ها تغییر مکان می دهیم.

اگر  $b > 0$ ، آنگاه هر نقطه از منحنی تابع  $f$  به اندازه  $y=b$  به طرف بالای محور  $y$  ها انتقال می یابد و اگر  $b < 0$ ، آنگاه هر نقطه از منحنی تابع  $f$  به اندازه  $y=b$  به طرف پائین محور  $y$  ها انتقال می یابد.

با بردار انتقال  $\vec{V}(a, b)$  به نقطه ای از منحنی تابع به معادله  $y_v = b + f(x - a)$  تبدیل می شود.



۷ - رسم تابع به معادله  $y_v = b + f(x - a)$

در حقیقت رسم این تابع ترکیبی از رسم دو تابع به معادلات  $y_v = b + f(x)$  و  $y_v = f(x - a)$  است.

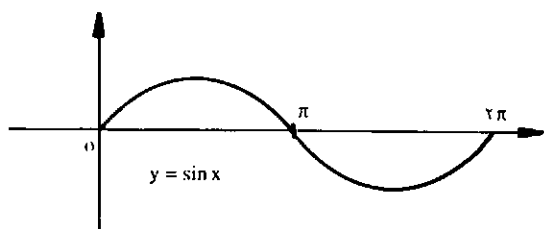
اگر نقطه  $M \left| \begin{matrix} x_v \\ y_v \end{matrix} \right.$  روی منحنی تابع  $f$  باشد، آنگاه نقطه  $M \left| \begin{matrix} x_v + a \\ y_v + b \end{matrix} \right.$  روی منحنی تابع به معادله  $y_v = b + f(x - a)$  واقع است و بالعکس.

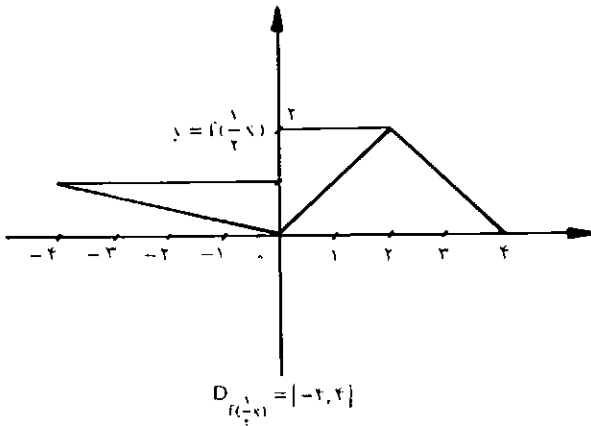
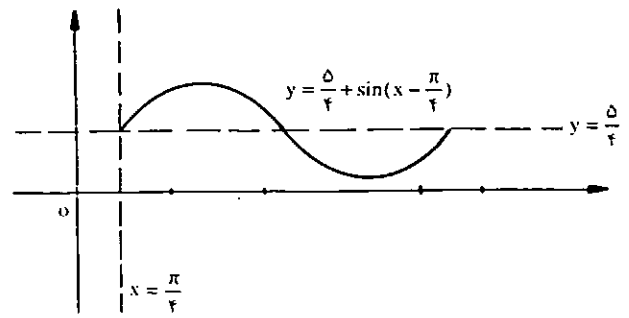
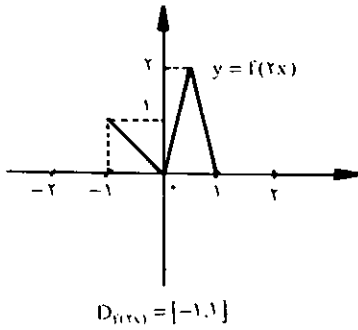
$$\text{اگر } M \left| \begin{matrix} x_v + a \\ y_v + b \end{matrix} \right. \in y_v \Rightarrow y_v + b = b + f(x_v + a - a) \Rightarrow$$

$$y_v = f(x_v) \Rightarrow M \left| \begin{matrix} x_v \\ y_v \end{matrix} \right. \in f$$

بنابراین برای رسم نمودار تابع به معادله  $y_v = b + f(x - a)$ ، هر نقطه از منحنی تابع  $f$  را به اندازه  $a$  در راستای محور  $x$  ها و به اندازه  $b$  در راستای محور  $y$  ها انتقال می دهیم. به عبارت دیگر هر نقطه منحنی تابع به معادله  $y = f(x)$

مثال: منحنی تابع به معادله  $y = \sin x$ ،  $0 \leq x \leq 2\pi$  مفروض است. نمودار تابع به معادله  $y = \frac{5}{4} + \sin(x - \frac{\pi}{4})$  را رسم کنید.





۸ - رسم تابع به معادله  $y_\lambda = f(kx)$   
 اگر نقطه  $M \left| \begin{smallmatrix} x_0 \\ y_0 \end{smallmatrix} \right.$  روی منحنی تابع  $f$  باشد، آنگاه نقطه  $M' \left| \begin{smallmatrix} \frac{x_0}{k} \\ \frac{y_0}{k} \end{smallmatrix} \right.$  روی منحنی تابع به معادله  $y_\lambda = f(kx)$  است و بالعکس  
 اگر  $M' \left| \begin{smallmatrix} \frac{x_0}{k} \\ \frac{y_0}{k} \end{smallmatrix} \right. \in y_\lambda \Rightarrow y_0 = f(k \times \frac{x_0}{k}) \Rightarrow y_0 = f(x_0) \Rightarrow M \left| \begin{smallmatrix} x_0 \\ y_0 \end{smallmatrix} \right. \in f$   
 بنابراین برای رسم تابع به معادله  $y_\lambda = f(kx)$  باید طول هر نقطه از منحنی  $f$  را (با حفظ مقدار عرض آن) بر عدد  $(k)$  تقسیم کنیم.

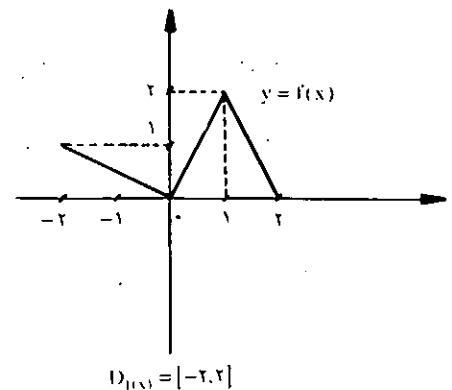
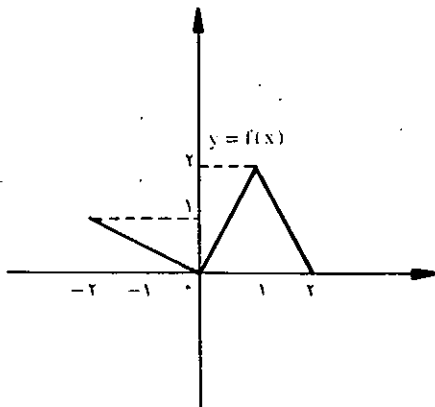
۹ - رسم نمودار تابع به معادله  $y_\lambda = kf(x)$   
 اگر نقطه  $M \left| \begin{smallmatrix} x_0 \\ y_0 \end{smallmatrix} \right.$  روی منحنی تابع به معادله  $y = f(x)$  باشد، آنگاه نقطه  $M' \left| \begin{smallmatrix} x_0 \\ ky_0 \end{smallmatrix} \right.$  روی منحنی تابع به معادله  $y_\lambda = kf(x)$  است. و بالعکس:

اگر  $M' \left| \begin{smallmatrix} x_0 \\ ky_0 \end{smallmatrix} \right. \in y_\lambda \Rightarrow ky_0 = kf(x_0) \Rightarrow y_0 = f(x_0) \Rightarrow M \left| \begin{smallmatrix} x_0 \\ y_0 \end{smallmatrix} \right. \in f$

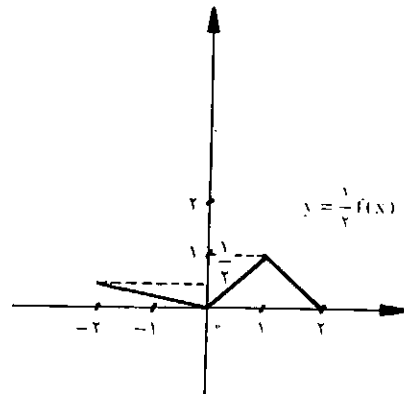
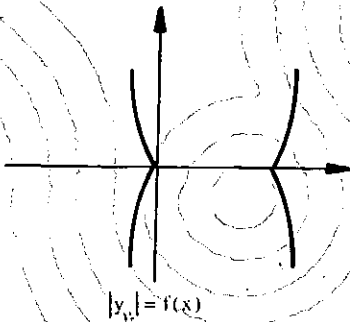
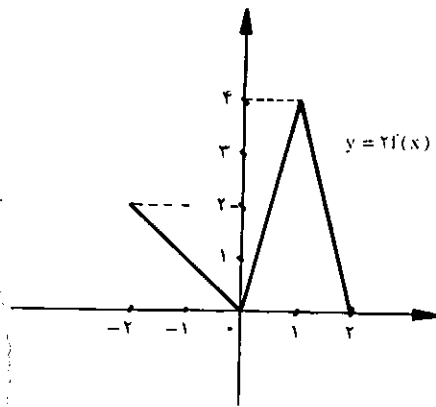
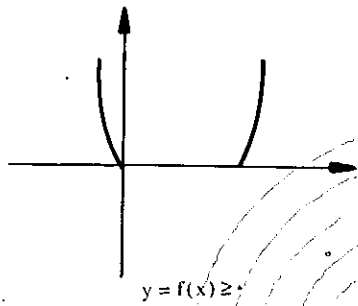
پس برای رسم تابع به معادله  $y_\lambda = kf(x)$  باید عرض هر نقطه از منحنی تابع  $f$  را (با حفظ طول آن) در عدد  $k$  ضرب کنیم.

یعنی اگر  $k = 2$ ، آنگاه نقطه  $M \left| \begin{smallmatrix} x_0 \\ y_0 \end{smallmatrix} \right.$  از منحنی تابع  $f$  به نقطه  $M' \left| \begin{smallmatrix} x_0 \\ 2y_0 \end{smallmatrix} \right.$  و اگر  $k = \frac{1}{2}$  آنگاه نقطه  $M \left| \begin{smallmatrix} x_0 \\ y_0 \end{smallmatrix} \right.$  از منحنی تابع  $f$  به نقطه  $M' \left| \begin{smallmatrix} x_0 \\ \frac{y_0}{2} \end{smallmatrix} \right.$  تبدیل می شود.

چنانچه حوزه تعریف تابع  $f$  فاصله  $[a, b] \subset \mathbb{R}$  باشد، آنگاه حوزه تعریف تابع به معادله  $y_\lambda = f(kx)$ ، فاصله  $\left[ \frac{a}{k}, \frac{b}{k} \right] \subset \mathbb{R}$  خواهد شد.







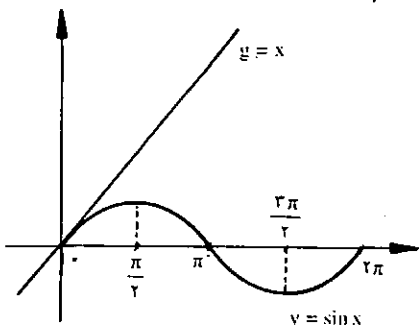
۱۱ - رسم تابع  $f+g$

فرض می‌کنیم  $y_1 = f(x)$  و  $y_2 = g(x)$  و اگر نقطه‌ای به طول  $x$  روی منحنی  $f$  و روی منحنی  $g$  باشد داریم:

نقطه  $M_1|_{f(x)}$  روی منحنی تابع  $f$  و نقطه  $M_2|_{g(x)}$  روی منحنی تابع  $g$  است در نتیجه نقطه  $M|_{f(x)+g(x)}$  روی منحنی تابع  $f+g$  است. پس برای رسم منحنی تابع به معادله  $y = f(x) + g(x)$  باید برای هر نقطه از منحنی این تابع عرضهای تقاطع هم طول روی دو منحنی  $f$  و  $g$  را با هم جمع کرد.

مثال منحنی نمایش تابع به معادله  $y = x + \sin x$  را وقتی  $0 \leq x \leq 2\pi$  رسم کنید.

توجه: اگر  $x = \frac{\pi}{2} \Rightarrow y = \frac{\pi}{2} + \sin \frac{\pi}{2} = \frac{\pi}{2} + 1 \Rightarrow M|_{\frac{\pi}{2} \frac{\pi}{2} + 1}$

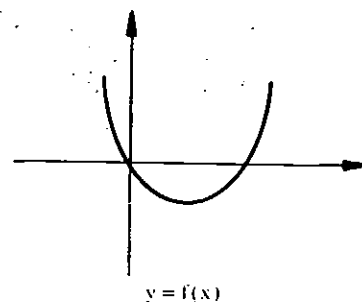


۱۰ - نمودار رابطه  $|y_1| = f(x)$

اولاً:  $f(x) \geq 0$  یعنی از منحنی تابع  $f$  باید قسمتهایی را انتخاب کرد که روی محور  $x$ ها یا بالای محور  $x$ هاست، از طرفی:

$$|y_1| = f(x) \Rightarrow y_1 = \pm f(x)$$

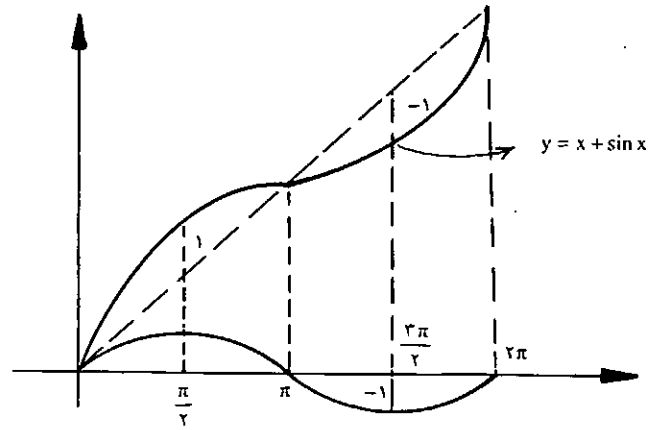
ثانیاً: باید قرینه همین قسمت از منحنی  $f$  که روی محور  $x$ ها یا بالای محور  $x$ ها قرار دارد را نسبت به محور  $x$ ها هم رسم کنیم.



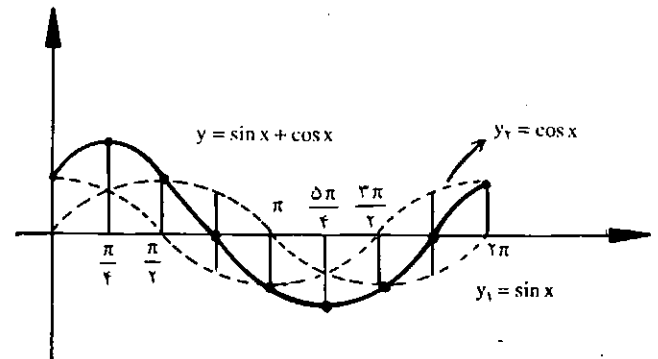
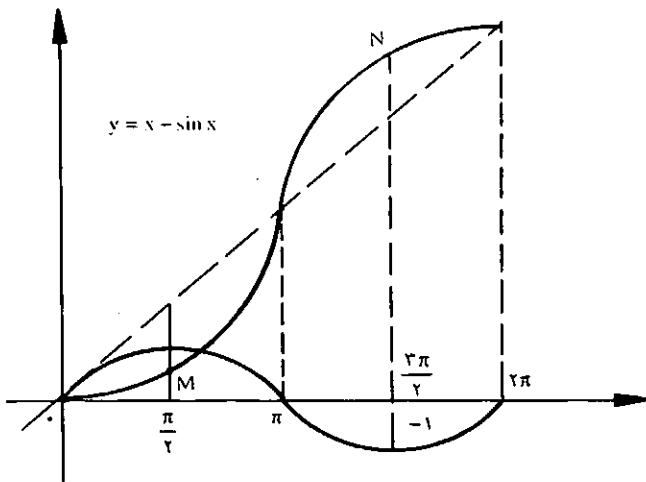
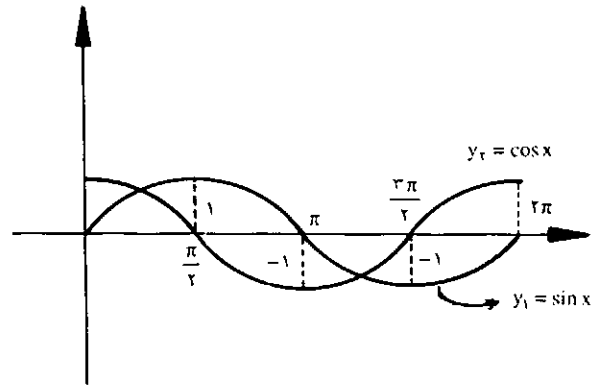
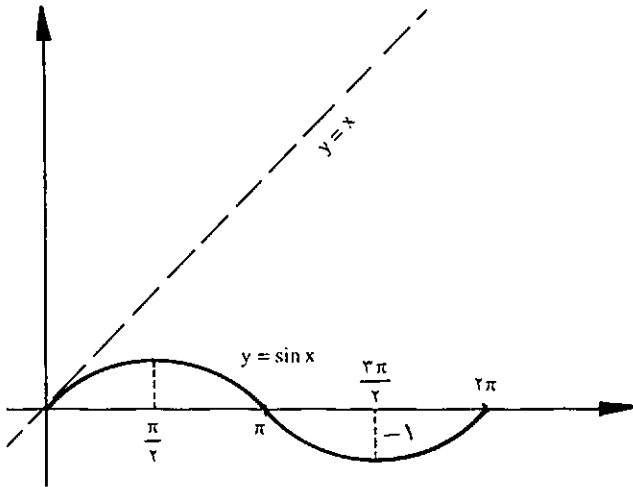
منحنی تابع  $g$  است در نتیجه نقطه  $M \Big|_{f(x)-g(x)}$  روی منحنی تابع به معادله  $y = f(x) - g(x)$  قرار دارد.

پس برای رسم منحنی تابع به معادله  $y = f(x) - g(x)$  باید برای هر نقطه از منحنی این تابع عرضهای نقاط هم طول روی دو منحنی  $f$  و  $g$  را از هم کم کرد.

مثال: منحنی نمایش تابع به معادله  $y = x - \sin x$ ،  $0 \leq x \leq 2\pi$  را رسم کنید.



مثال: با در دست داشتن منحنی های به معادله  $y_1 = \sin x$  و  $y_2 = \cos x$  و  $0 \leq x \leq \pi$  آنگاه منحنی تابع به معادله  $y = \sin x + \cos x$ ،  $0 \leq x \leq 2\pi$  را رسم کنید.



توجه:

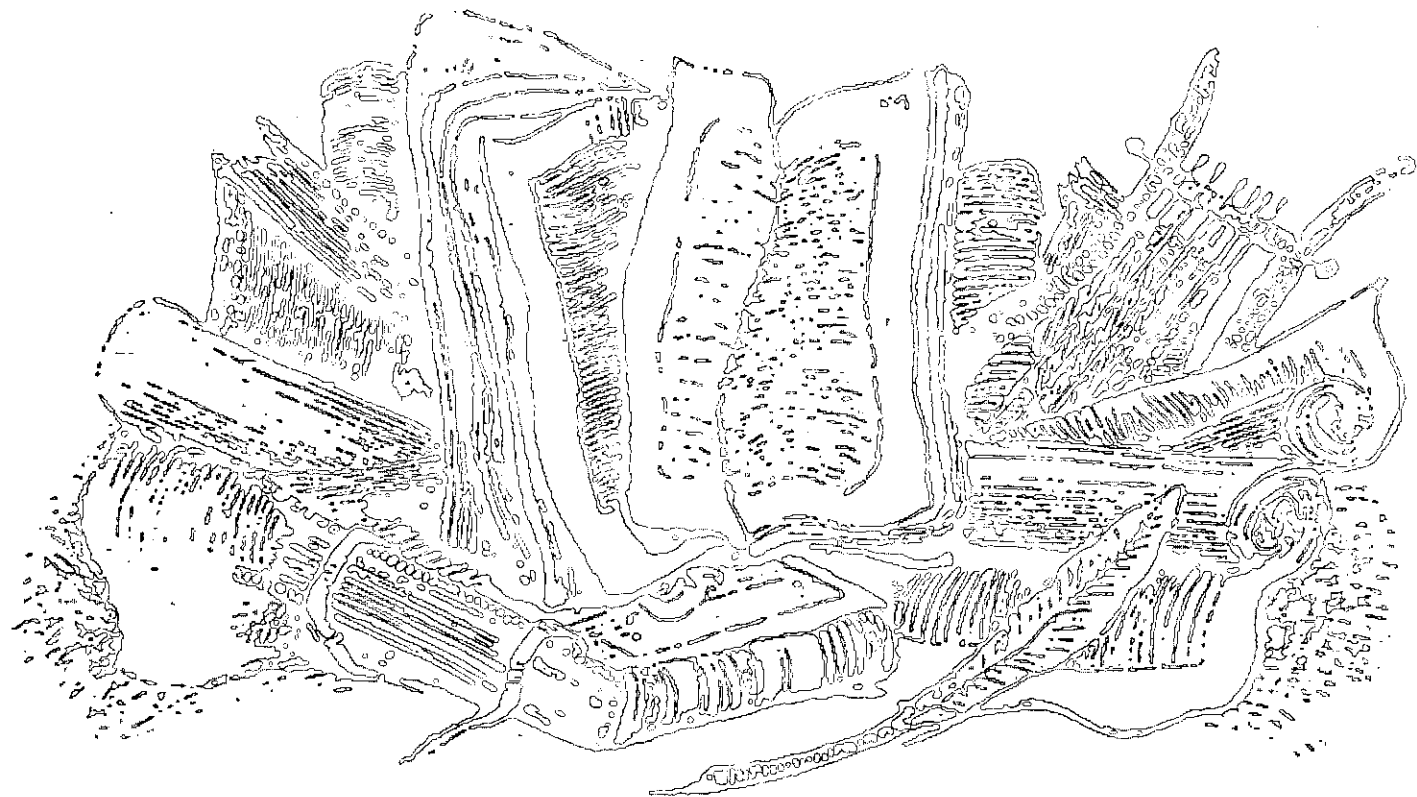
$$x = \frac{\pi}{2} \Rightarrow y = \frac{\pi}{2} - \sin \frac{\pi}{2} = \frac{\pi}{2} - 1 \Rightarrow M \Big|_{\frac{\pi}{2} - 1}$$

$$x = \frac{3\pi}{2} \Rightarrow y = \frac{3\pi}{2} - \sin \frac{3\pi}{2} = \frac{3\pi}{2} + 1 \Rightarrow N \Big|_{\frac{3\pi}{2} + 1}$$



۱۲ - رسم تابع  $f - g$

فرض می کنیم  $y_1 = f(x)$  و  $y_2 = g(x)$  و اگر نقطه ای به طول  $x$  روی منحنی های تابع های  $y_1 = f(x)$  و  $y_2 = g(x)$  باشد داریم: نقطه  $M_1 \Big|_{f(x)}$  روی منحنی تابع  $f$  و نقطه  $M_2 \Big|_{g(x)}$  روی



# تاریخچه مجلات ریاضی در ایران (۱۹)

● غلامرضا یاسی پور

در شماره ۲۲ مجله یکان و در سر مقاله آن که به مناسبت سالروز انتشار یکان نوشته شده چنین آمده است که :

سه نفر از داناتان یونان قدیم در باغ آکادمی استراحت کرده و به خواب رفته بودند : رجاله‌ای که گذارش به آنجا افتاده بود پیشانی هر کدام از آنها را با دوده سیاه کرد، بعد در اثر صدایی که از ناحیه‌ای برخاست هر سه نفر از داناتان بیدار شده هر یک، از دیدن پیشانی دو نفر دیگر، شروع به خنده کردند. اما بعد از لحظه‌ای، هر سه نفر از خنده باز ایستادند، زیرا هر کدام دریافته بودند که پیشانی خود آنها نیز سیاه است. به چه دلیل منطقی؟

اولین شماره مجله یکان در بهمن ماه دو سال قبل تقدیم علاقه‌مندان گردید. استقبالی که از این مجله صد درصد علمی به عمل آمد برای وی این امکان را فراهم ساخت، که قائم بالذات به حیات علمی خویش ادامه دهد و اتکای وی منحصرراً به خوانندگان و علاقه‌مندان خویش باشد. کوششهایی که تاکنون به عمل آمده است تنها در راه بهبود وضع مجله در جهت مطلوب آن و در جهت تمایلات خوانندگان آن انجام گرفته است و غیر از آن، حتی برای شناساندن مجله به مقامات ذی نفوذ، کوچکترین اقدامی معمول نشده است، مگر آنچه که آیین‌نامه و قانون مطبوعات ایجاب می‌نموده است.

در شماره بعد، یعنی شماره ۲۲، که در تاریخ اسفند ماه ۱۳۴۴ منتشر شده مقاله‌ای از استاد احمدپیرشک تحت عنوان توسعه طلبی ریاضی، که مقاله‌ای کوتاه اما با کیفیت است، و ما برای استفاده بیشتر خوانندگان کل این مقاله را در اینجا

در همین شماره تحت عنوان : بی‌آنکه عصبانی شوید این

می‌آوریم:

می‌دانم چه ایرادی به من خواهند گرفت، خواهند گفت: «هر دانشجوی مشتاق علوم طبیعی دارای استعداد ریاضی نیست» این مطلب درست، اما آیا در رفتار این دانشجوی مشتاق هم دقت شده است؟ در هر لحظه استدلالی از نوع ریاضی به کار می‌برد و بالاتر از آن، همان‌طور که «مسیو ژوردن» نیز می‌گفت، مجردات مفاهیم ریاضی از این دانشجو تراوش می‌کند، او سرعت رشد بچه قورباغه را از میزان دراز شدن روزانه دم آن اندازه می‌گیرد و از بین رفتن دم نتیجه می‌گیرد که استحاله نزدیک است. در حقیقت او تغییرات تابع را از روی مقدار و علامت مشتق آن نتیجه می‌گیرد. آیا می‌توان تصور کرد که این جوان به راستی نسبت به ریاضی یابی است؟

مجبور کردن او به محدود ماندن در یک تاریخ طبیعی عتیق، که روزی ارزشی داشته است، خطاست، بلکه بالاتر از خطاست. مطمئن هستم ریاضیاتی که به این آسانی بر مسائل دشوار غالب می‌شوند، به حل مسئله جوان دانشجویی که در این مورد به اصطلاح «از دست چپ بیدار شده است» نیز موفق خواهند شد و او را وادار خواهند کرد که اندکی چشمان خود را بمالد.

اندیشه‌های باریک‌بین از آن چه گذشت تصور خواهند کرد که من میل دارم توسعه طلبی ریاضی به صورت یک «قدرت روشنفکرانه پدری» تکامل یابد. از کسانی که چنین می‌اندیشند خواهش می‌کنم که کمی درباره سطور زیر در «خلقت علمی» تألیف «آ.مول» به تفکر پردازند: «از مجرای موارد استعمال فنی است که علم مجبور شده است از برج عاج پدیده‌های محض فرود آید و پیچیدگی را به عنوان یکی از اجزای اصلی جهان نوین بپذیرد و با آن نخست در ساخته‌های مغز بشری و سپس در طبیعت، که در آن در کمال وضوح وجود دارد، مواجه شود...» اما به نظر می‌رسد که هنوز مغز آدمی در جستجوی کمی و کیفی پیچیدگی پیشرفتی نکرده است... هنوز «فلسفه پیچیدگی» به وجود نیامده است و فقدان این ابزار فکری اندک اندک احساس می‌گردد.

یکی از مشخصات طرز فکر علمی کنونی تمایل به دقت است، که حتی در نیروی خلاق تصور دیده می‌شود. تسلط بر

«میان هندسه و زیست‌شناسی اختلافی است ناشی از این واقعیت که خط راست ساخته مجرد طرز تفکر نظری است و در طبیعت زنده همانند کاملی ندارد. چنین استنباط می‌شود که این طبیعت زنده، که در قالبی بسیار سخت که به اندازه آن نیست قرار داده شده عاصی گردیده است و به زودی نشانه‌های رنج روحی در آن ظهور می‌کند». آنچه نوشتیم قسمتی است از یک مقاله دکتر برژ، پزشک روانکاو و رییس «مدرسه والدین» که در تازه‌ترین شماره مجله «دفترهای زندگی» چاپ شده است، و از نوعی طغیان در مقابل طرز تفکر ریاضی، که در تکامل علوم کنونی تأثیر دارد، حکایت می‌کند. بسیاری از دانشمندان، به ویژه زیست‌شناسان، و گاهی هم فیزیکدانان از نوعی توسعه طلبی ریاضی نگران هستند که بیم آن می‌رود که راه پیشرفت علم را در برخی رشته‌ها کج کند و در نتیجه اوضاع و شرایط حیات بشری را منحرف سازد.

در بیشتر مقالات و رسالات زیست‌شناسی و زمین‌شناسی (و همچنین پزشکی و کشاورزی) که از نظر من گذشته است، سطح ریاضیاتی که در آنها به کار رفته است از حدود محاسبات عددی دوره شش ساله ابتدایی تجاوز نمی‌کند. فقط در بعضی رشته‌ها مثلاً «علم توارث» (ژنتیک) ریاضیات به معنی واقعی وارد می‌شود اما همه جا علاقه خاصی به «دقت» به چشم می‌خورد که از هیچ یک از محکمترین استدلالهای ریاضی پای کمی ندارد. راست است که ممکن است این سؤال پیش بیاید که آیا زیست‌شناسان و زمین‌شناسان مجبور نخواهند شد در کارهای پیشرفته‌تر خود با کمال صداقت، ریاضیات و طرز بیان آن را به کار برند؟

نتیجه برای من روشن است: همه جوانانی که خود را برای پیش گرفتن رشته‌های زیست‌شناسی و زمین‌شناسی آماده می‌سازند و حتی «مرد شریف» آینده انواع ظریف مردان قرن بیستم! باید سعی کنند که خود را به دقت (به اصطلاح ریاضی) و به استدلال معتاد سازند و فکر خود را در جهت علمی، یعنی سازنده پرورش دهند آنان نمی‌توانند ریاضیات و فواید آن را نادیده انگارند.



## ادب ریاضی

مشهور است که زرگر متقلبی، که بنا بود تاجی از طلا برای هیرون بسازد، مقداری نقره در آن وارد کرده بود و پادشاه که ثقلب صنعتگر را حدس زده بود، از ارشمیدس خواست که درباره حل این مسأله راه چاره‌ای بیابد.

امروزه هر محصل مدرسه متوسطه می‌داند، که چه‌گونه می‌تواند با تجربه‌ای ساده و با حساب مختصری درباره وزن مخصوصها این مسأله را حل کند و نیز همه مبتدیان جوان و مهندسان بحر پیمایی و کشتی‌سازی موارد استعمال بشمار قانونی را که به اصل ارشمیدس معروف است می‌دانند. اما مردی که برای اولین بار توانست از تجربه‌ای عادی چنین قانونی را نتیجه بگیرد، در مقامی مطلقاً مافوق مشاهده‌کنندگان عادی قرار داشته است.

از این نکته اطلاعی نداریم که بالاخره زرگر را مقصر شناختند یا نه، اما به اتکای افسانه مزبور معمولاً به این سؤال پاسخ مثبت داده می‌شود.

«داوید هیلبرت»

پسچیدگی، که به کار بستن علوم طبیعی موجب بسط آن است، صفت مشخصه دوم است. و نیز صفات متمیزه دیگر وجود دارد: تصور این که «چون دانشجویی در ریاضیات قوی است طرز تفکر علمی دارد» درست نیست. و توزیع دانشجویان بین رشته‌های مختلف علوم بر مبنای ریاضی، و آموختن ریاضی به آنان، برای آن که بهتر بتوان بین آنان فرق قایل شد، راه‌حلی است تنبلا نه، توأم با رنگ بی‌اطلاعی از ارزش تربیتی ریاضیات. منحصر کردن قسمتهای به اصطلاح علمی به معدودی مواد متشکله، که ریاضیات در رأس آنها (حتی اگر علوم طبیعی هم افتخار محسوب شدن جزء این مواد معدود را داشته باشند) از جنبه تربیتی عوام فریبی است:

با این ترتیب فکرها به غلط پرورده خواهد شد و نتایجی را که دکتر برژ از آنها می‌ترسید به بار خواهد آورد. در همین شماره جواب مسأله منطقی شماره قبل را که در آغاز این مقاله آوردیم، چنین می‌خوانیم:

هر یک از آنها چنین استدلال می‌کند: «هر کدام از ما (من، B و C) فکر می‌کند که پیشانی‌ش تمیز می‌باشد. B که خیال می‌کند پیشانی‌ش پاک باقی مانده است از دیدن پیشانی سیاه C به خنده می‌افتد. اما B چنانچه می‌دید که پیشانی من پاک است بایستی از خنده C دچار تعجب شود، زیرا در چنین صورتی برای خنده C علتی وجود نداشت. چون B از خنده C دچار تعجب نشده است چنین استنباط می‌شود که وی خیال می‌کند به خاطر پیشانی سیاه شده من است که C می‌خندد، پیشانی من نیز سیاه شده است.»

با بررسی مطالب این شماره‌ها به این نتیجه‌گیری می‌رسیم که تعداد مقالات توصیفی مجله بسیار کم و در عوض تعداد مسائل امتحانی و مسائل جنب کتاب درسی بسیار زیاد شده است، که البته همراه با آن کیفیت مطالب مجله نیز پایین آمده است.

# در حاشیه تابع و مفهوم تابع

(قسمت دوم)

ریاضی (۳) نظام جدید و حسابان (۱)

◀ حمیدرضا امیری

## ◀ تشخیص تابع بودن یک رابطه:

در شماره قبل دیدیم که اگر رابطه  $f$  از  $A$  در  $B$  یک تابع باشد، نباید هیچ دو زوج مرتب متمایزی با مؤلفه های اول برابر در آن یافت شود؛ به عبارت دیگر این مفهوم را می توان به صورت های زیر تعبیر کرد:

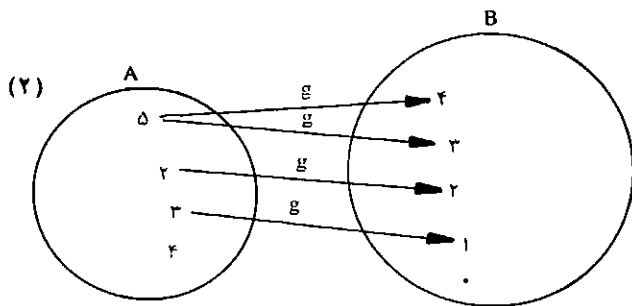
الف) اگر نمودار پیکانی رابطه  $f$  رسم شود (هر عضو دامنه را با یک فلش یا پیکان به عضو متناظرش در بُرد مرتبط کنیم)، و از هر عضو دامنه فقط و فقط حداکثر یک پیکان خارج شود در این صورت رابطه  $f$  تابع می باشد. به مثال های زیر توجه کنید:

$$f(1) = 2$$

$$f(2) = 3$$

$$f(3) = 4$$

$$f(4) = 3$$

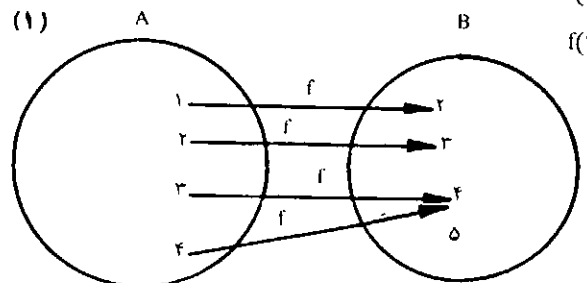


$$D_g = \{5, 2, 3\}$$

$$R_g = \{4, 3, 2, 1\}$$

در این مثال رابطه  $g$  از  $A$  در  $B$ ، یک تابع نیست، زیرا از ۵ که عضو دامنه  $g$  می باشد دو پیکان خارج شده است. در واقع:  $g = \{(5, 4), (5, 3), (2, 2), (3, 1)\}$  در نتیجه،  $g$  تابع نیست.

ب) اگر نمودار مختصاتی رابطه  $f$  را رسم کنیم (به هر زوج مرتب در  $f$  یک نقطه نسبت بدهیم، که مؤلفه اول طول نقطه و مؤلفه دوم عرض آن باشد) و هیچ دو نقطه ای روی خطی موازی با محور  $y$  ها واقع نشوند، رابطه  $f$  تابع است، به مثال های زیر توجه کنید:



(۱) اگر  $f = \{(1, 2), (2, 3), (3, 4), (4, 5)\}$  در این صورت

نمودار مختصاتی رابطه  $f$  به این صورت است.

$$D_f = \{1, 2, 3, 4\}, R_f = \{2, 3, 4, 5\}$$

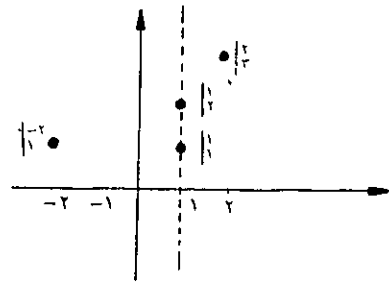
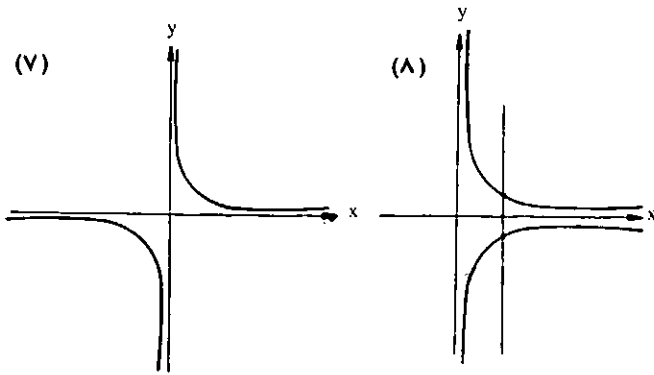
همان طور که مشاهده می کنید دو نقطه از این نقاط روی

$$f = \{(1, 2), (2, 3), (3, 4), (4, 5)\}$$

خطی موازی با محور  $y$  ها قرار دارند (طول نقاط با هم برابر و

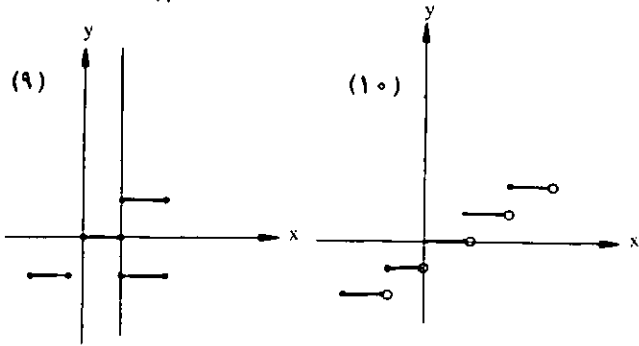
$f$  تابع است.





عرض آنها متمایز است) و لذا  $f$  تابع نیست.

لازم به تذکر است که عکس این مطلب برای تشخیص تابع بودن یک رابطه مورد استفاده قرار می‌گیرد، یعنی اگر نمودار یک رابطه مفروض باشد، برای تشخیص تابع بودن آن کافی است خطوطی موازی با محور  $y$ ها رسم کنیم، اگر حتی یک خط نمودار رابطه را در بیش از یک نقطه قطع کند، رابطه مزبور تابع نیست و اگر هیچ خطی نمودار تابع را در بیش از یک نقطه قطع نکند، آن رابطه تابع است، به مثالهای زیر توجه کنید:



با توجه به این مطالب مشاهده می‌کنید که نمودارهای (۲) و (۳) و (۵) و (۶) و (۸) و (۹) نمی‌توانند نمودار یک تابع باشند، زیرا در هر کدام از آنها می‌توانید خط یا خطوطی موازی با محور  $y$ ها رسم کنید، به طوری که نمودار را در بیش از یک نقطه قطع کند.

ج) اگر بخواهیم تعریفی به زبان ریاضی برای تابع  $f$  بیان کنیم می‌توانیم بنویسیم:

$(x_1, y_1) \in f, (x_1, y_2) \in f \Rightarrow y_1 = y_2$  رابطه  $f$  تابع است و تعریف فوق به این معنی است، که اگر رابطه  $f$  تابع باشد، نباید دو زوج مرتب متمایز با مؤلفه‌های اول برابر داشته باشد، و اگر دو زوج مرتب با مؤلفه‌های اول برابر در  $f$  یافت شود، باید مؤلفه‌های دوم نیز برابر باشند، تا در واقع دو زوج متمایز نباشند. حال اگر  $f$  را با ضابطه‌اش مشخص کنند، با استفاده از

تعریف فوق می‌توان بی‌برد، که آیا  $f$  تابع است یا خیر؟

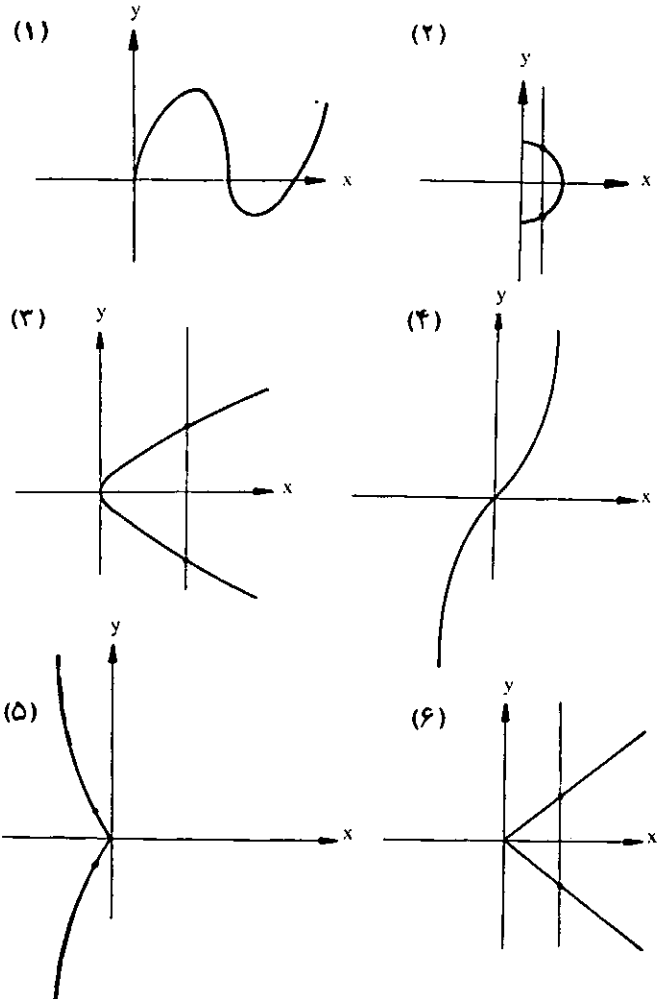
به مثالهای زیر توجه کنید:

$$f: \mathbb{R} \rightarrow \mathbb{R}$$

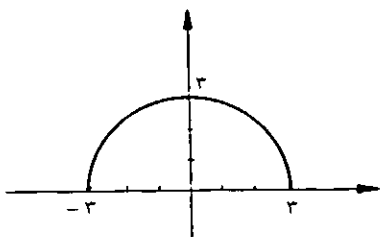
(۱) آیا رابطه  $f$  با ضابطه  $f(x) = x^2$  تابع است؟

$$f(x) = y = x^2 \rightarrow \text{طبق فرض داریم}$$

$$\text{اگر } (x_1, y_1) \in f, (x_1, y_2) \in f \Rightarrow f(x_1) = y_1, f(x_1) = y_2$$

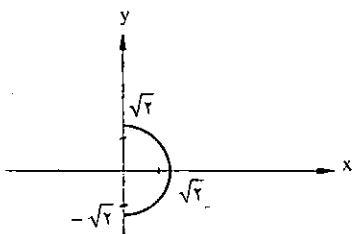


قسمت، عرض مثبت داشته باشند، مطابق شکل زیر:



۶) اگر  $h = \{(x, y) \in \mathbb{R}^+ \times \mathbb{R}^+ \mid x^2 + y^2 = 2\}$ ، آیا رابطه  $h$  یک تابع است؟

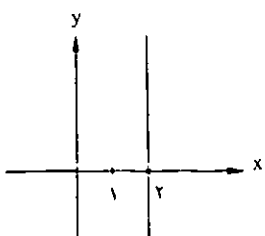
$x^2 + y^2 = 2 \Rightarrow y^2 = 2 - x^2 \Rightarrow y = \pm\sqrt{2 - x^2}$   
مثلاً اگر قرار دهیم  $x = 1$  در این صورت  $y = \pm 1$  یعنی برای  $x = 1$  که عضوی از دامنه است دو عضو از برد  $(y = \pm 1)$  به دست می‌آید لذا  $h$  تابع نیست و نمودار آن به شکل زیر است (قسمتی از دایره به مرکز مبدأ و شعاع  $\sqrt{2}$  که هر نقطه واقع بر آن دارای طول مثبت باشد)، مطابق شکل زیر:



و همان‌طور که مشاهده می‌کنید، می‌توان خطی موازی محور  $y$ ها چنان رسم کرد که نمودار این رابطه را در دو نقطه قطع کند.

۷) اگر  $f = \{(x, y) \in \mathbb{R}^2 \mid x = 2\}$ ، آیا رابطه  $f$  تابع است؟  
در این رابطه  $y$  به  $x$  بستگی ندارد (واضح است که  $y$  تابع متغیر  $x$  نیست) و همواره می‌توان هر مقدار دلخواه برای  $y$  و به ازای هر یک مقدار  $x$ ، در نظر گرفت مثلاً:  $(2, 1) \in f$  و  $(2, 2) \in f$ ، پس  $f$  تابع نیست.

نمودار رابطه  $f$  خطی موازی با محور  $y$ ها و به فاصله ۲ واحد از مرکز، مطابق شکل زیر:



$f$  تابع است  $\Rightarrow y_1 = y_2 \Rightarrow x_1^2 = y_1^2, x_2^2 = y_2^2$

$f: \mathbb{R} \rightarrow \mathbb{R}$

۲) آیا رابطه  $f$  با ضابطه  $y = f(x) = 2x^2 + 1$  تابع است؟

اگر  $(x_1, y_1) \in f, (x_1, y_2) \in f \Rightarrow f(x_1) = y_1, f(x_1) = y_2$   
 $\Rightarrow 2x_1^2 + 1 = y_1, 2x_1^2 + 1 = y_2 \Rightarrow y_1 = y_2$

$f: \mathbb{R} \rightarrow \mathbb{R}$

۳) آیا رابطه  $f$  با ضابطه  $y = f(x) = \pm\sqrt{x}$  تابع است؟

$f(x) = y = \pm\sqrt{x} \Rightarrow f(2) = \pm\sqrt{2}$

$\Rightarrow f(2) = \sqrt{2}, f(2) = -\sqrt{2}$

$\Rightarrow (2, \sqrt{2}) \in f, (2, -\sqrt{2}) \in f \Rightarrow f$  تابع نیست

تذکر مهم: هرگاه ضابطه رابطه  $f$  مفروض باشد برای تشخیص تابع بودن آن با استفاده از ضابطه،  $y$  را بر حسب  $x$  به دست می‌آوریم، اگر برای هر  $x$  حداکثر یک  $y$  حاصل شود، ضابطه یک تابع است و در غیر این صورت تابع نیست.

۴) اگر  $f = \{(x, y) \in \mathbb{R}^2 \mid x^2 + y^2 = 4\}$ ، آیا رابطه  $f$  یک

تابع است؟

$x^2 + y^2 = 4 \Rightarrow y^2 = 4 - x^2 \Rightarrow y = \pm\sqrt{4 - x^2}$

$x = 1$  اگر  $y = \pm\sqrt{3} \Rightarrow (1, \sqrt{3}) \in f$

$(1, -\sqrt{3}) \in f \Rightarrow f$  تابع نیست

تذکر مهم: در مثال (۴) نمودار رابطه  $f$  دایره‌ای است به مرکز مبدأ مختصات و شعاع  $2$ ، و دیدیم که  $f$  تابع نبود، این مطلب را می‌توان به صورت کلی نیز پذیرفت که «نمودار هر رابطه که به شکل یک منحنی یا چند ضلعی بسته باشد، همواره مشخص‌کننده یک تابع نیست» (همواره در هر شکل بسته می‌توان خطی موازی محور  $y$ ها چنان رسم کرد، که منحنی را در بیش از یک نقطه قطع کند).

۵) اگر  $g = \{(x, y) \in \mathbb{R} \times \mathbb{R}^+ \mid x^2 + y^2 = 9\}$ ، آیا رابطه  $g$

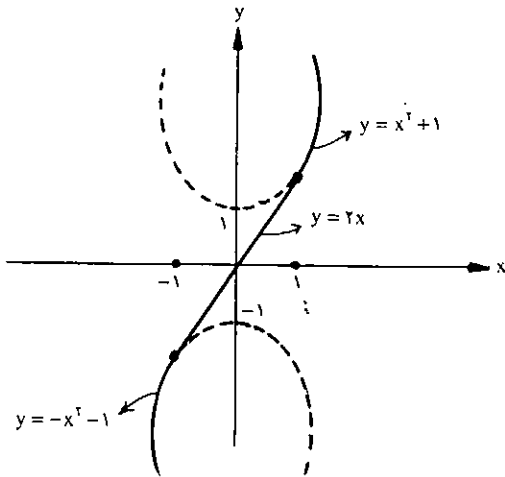
یک تابع است؟

$x^2 + y^2 = 9 \Rightarrow y^2 = 9 - x^2 \Rightarrow y = \pm\sqrt{9 - x^2}, y \geq 0$

$\Rightarrow y = \sqrt{9 - x^2} \Rightarrow g$  تابع است

(توجه دارید، که اگر  $(x, y) \in \mathbb{R} \times \mathbb{R}^+$  در این صورت  $x \in \mathbb{R}$  و  $y \in \mathbb{R}^+$ ) نمودار تابع فوق در واقع قسمتی از دایره به مرکز مبدأ مختصات و شعاع ۳ است، که همه نقاط واقع بر آن

رابطه در دامنه‌هایشان عضو مشترک ندارند و در ضمن در هر قسمت، ضابطه تعریف شده می‌تواند یک تابع را مشخص می‌کند (برای هر مقدار  $x$  فقط یک مقدار برای  $f(x)$  به دست می‌آید). اگر نمودار این رابطه را رسم کنیم به صورت زیر است:



با توجه به شکل واضح است که  $f$  یک تابع است و در واقع به تابع  $f$  یک تابع چند ضابطه‌ای می‌گویند. تساوی دو تابع: دو تابع  $f$  و  $g$  مساوی یکدیگرند، هرگاه هر دو شرط زیر برقرار باشند:

$$D_f = D_g \quad (\text{الف})$$

(ب) برای هر  $x \in D_f = D_g$  همواره  $f(x) = g(x)$   
**مثال ۱)** آیا دو تابع  $f(x) = x + 1$  و  $g(x) = \frac{x^2 - 1}{x - 1}$  مساوی یکدیگرند؟

اگر کمی بی‌توجهی کنیم و مثلاً تابع  $g(x)$  را به صورت

$$g(x) = \frac{(x-1)(x+1)}{(x-1)} = (x+1)$$

بنویسیم شاید گمان ببریم که  $f = g$  است، ولی شرط اول تساوی دو تابع برای این تابعها برقرار نیست، زیرا:  $D_f = \mathbb{R}$  و  $D_g = \mathbb{R} - \{1\}$  و چون  $D_f \neq D_g$  پس دو تابع مساوی نیستند.

**مثال ۲)** آیا دو تابع  $f(x) = \sqrt{x^2}$  و  $g(x) = |x|$  مساوی

یکدیگرند؟

جواب مثبت است، زیرا اولاً:  $D_f = D_g = \mathbb{R}$  و ثانیاً برای

هر  $x \in \mathbb{R}$  همواره:

$$f(x) = \sqrt{x^2} = |x| = g(x)$$

**مثال ۳)** آیا دو تابع  $f(x) = x^2$  و  $g(x) = x|x|$  مساوی

یکدیگرند؟

(خط  $x = 2$ ، خودش موازی با محور  $y$ ها است و بی‌شمار نقطه با طولهای مساوی را در بردارد.)

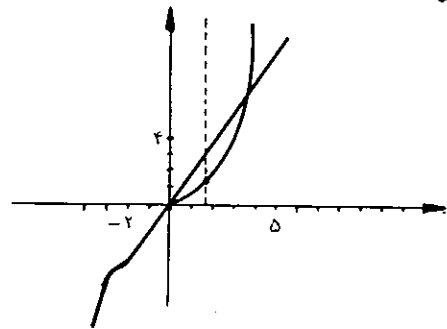
حال قبل از آن که به سراغ تعریف و خواص و کاربردهای انواع تابعها برویم، ابتدا رابطه‌های چند ضابطه‌ای را معرفی می‌کنیم و به بررسی خاصیت‌های آنها می‌پردازیم.

هرگاه دامنه یک رابطه را چند قسمت کنیم (ممکن است این قسمت‌ها با هم اشتراک داشته باشند) و روی هر قسمت ضابطه‌ای مجزا تعریف کنیم، در این صورت یک رابطه چند ضابطه‌ای حاصل می‌شود.

**مثال ۱)** رابطه  $f$  از  $\mathbb{R}$  در  $\mathbb{R}$  به صورت زیر تعریف می‌شود:

$$f(x) = \begin{cases} x^2 & x > 0 \\ 2x & -2 < x < 0 \\ x^2 & x \leq -2 \end{cases}$$

در این مثال و مثالهای مشابه آن همواره در قسمتهایی از دامنه که ضابطه‌ها با هم اشتراک دارند، برای یک مقدار  $x$  دو مقدار برای  $y$  می‌توان یافت که با تعریف تابع تناقض ایجاد می‌شود، در این مثال ضابطه‌های اولی و دومی در دامنه‌شان اشتراک دارند و مثلاً،  $f(1) = 1^2 = 1$  و  $f(1) = 2 \times 1 = 2$  یعنی  $(1, 1) \in f$  و  $(1, 2) \in f$  پس  $f$  تابع نیست، نمودار این رابطه به صورت زیر است:



**مثال ۲)** رابطه  $f$  از  $\mathbb{R}$  در  $\mathbb{R}$  به صورت زیر تعریف شده

آیا این رابطه تابع است؟

$$f(x) = \begin{cases} x^2 + 1 & x > 1 \\ 2x & -1 \leq x \leq 1 \\ -x^2 - 1 & x < -1 \end{cases}$$

همان‌طور که مشاهده می‌کنید ضابطه‌های تعریف در این

برای رسم تابع فوق کافی است نمودار هر ضابطه از تابع را رسم کنیم و روی هر کدام از نمودارها قسمتهایی را که در دامنه‌اشان است، پررنگ کرده و بقیه را پاک کنیم.



## تفریح اندیشه ۲

### بازی چینی

چند سال پیش در یک فیلم گنج‌کننده فرانسوی مردی در راهروهای قصری به این طرف و آن طرف می‌رفت و تمام اشخاص را در یک بازی ساده شکست می‌داد. در این بازی شانزده امتیاز شمار (به طور مثال چوب کبریت) در ردیفهای ۱، ۳، ۵ و ۷ تایی قرار داده شده‌اند. دو بازیکن، به نوبت، می‌توانند از چوب کبریتها هر قدر که بخواهند انتخاب کنند. (چوب کبریتها برای انتخاب شدن نیاز به مجاور بودن ندارند؛ انتخاب آنها از وسط هر ردیف امتیاز نمی‌آورد.) برای بردن باید حریف را وادار کنید تا آخرین امتیاز شمار روی میز را بردارد.

بازی مزبور توسط جتیه‌های باستان اختراع شده، و برنده شدن در آن - اگر راه آن را بدانید - آسان است. برای شروع، آیا ابتدا خود عمل می‌کنید یا این امتیاز را به حریفان می‌دهید؛ یا، این مطلب دارای اهمیت نیست؟ برای بردن چگونه بازی می‌کنید؟

جواب در صفحه ۸۷

خیر، زیرا شرط دوم تساوی بین دو تابع برای این تابعها برقرار نیست، در صورتی که:  $D_f = D_g$ ، ولی مثلاً:

$$f(-1) = 1 \text{ و } g(-1) = -1 \times 1 = -1$$

پس دو تابع مساوی نیستند.  $\Rightarrow f(-1) \neq g(-1) \Rightarrow$

مثال ۴) دو تابع  $f(x) = x^2 - x$  و  $g(x) = x^2 + 3x^2$

مفروض‌اند، با چه شرایطی می‌توان ادعا کرد که  $f = g$ ؟

چون  $D_f = \mathbb{R}$  و  $D_g = \mathbb{R}$  است پس شرط اول تساوی دو تابع برقرار است، لذا می‌بایست برای هر  $x \in \mathbb{R}$  داشته باشیم  $f(x) = g(x)$ ، یعنی باید:

$$x^2 + 3x^2 = x^2 - x \Rightarrow x^2 + 2x^2 + x = 0$$

$$\Rightarrow x(x^2 + 2x + 1) = 0$$

$$\Rightarrow x(x+1)^2 = 0 \Rightarrow x = 0 \text{ یا } x = -1$$

در واقع مقدار دو تابع  $f$  و  $g$  فقط در  $x = 0$  و  $x = -1$  با هم مساوی است، یعنی همواره:

$$f(0) = 0, \quad g(0) = 0, \quad f(-1) = 2, \quad g(-1) = 2$$

پس شرط تساوی این دو تابع آن است، که دامنه‌های آنها را از مجموعه  $\mathbb{R}$  به مجموعه  $D = \{0, -1\}$  محدود کنیم، در واقع این دو تابع در دامنه تعریف خودشان مساوی نیستند و فقط در صورتی که دامنه هر یک را  $\{0, -1\}$  تعریف کنیم با هم مساویند.

## انواع تابعها

۱ - تابع چند ضابطه‌ای: هرگاه دامنه یک تابع را به چند مجموعه جدا از هم تقسیم کنیم، به طوری که اجتماع آن مجموعه‌ها برابر با دامنه باشد و روی هر مجموعه، ضابطه‌ای مجزا تعریف کنیم، در این صورت یک تابع با چند ضابطه یا اصطلاحاً یک تابع چند ضابطه‌ای به دست می‌آید، به مثالهای زیر توجه کنید:

مثال: تابع  $f$  به صورت زیر تعریف شده است، نمودار این تابع را رسم کنید.

$$f: \mathbb{R} \rightarrow \mathbb{R}$$

$$f(x) = \begin{cases} 2x & x > 1 \\ 2 & -1 \leq x \leq 1 \\ -2x & x < -1 \end{cases}$$



(سوم ریاضی نظام جدید و قدیم)

□ حسین ابراهیم زاده قلم

## مبانی کامپیوتر - آشنایی با سخت افزار و نرم افزار

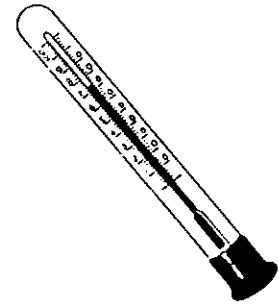
ابزاری گفته می شود که می تواند داده هایی را به عنوان ورودی دریافت کند و سپس یک سری عملیات روی داده ها انجام می دهد، که به آن پردازش می گویند و در پایان نتیجه عملیات انجام شده را در خروجی نشان می دهد. سرعت سنج (کیلومتر شمار) اتومبیل و دماسنج جیوه ای در منازل نمونه هایی از کامپیوتر هستند، زیرا سرعت سنج اتومبیل مقدار مسیر طی شده (داده ورودی) توسط حرکت دورانی چرخ اتومبیل را با ضرب تعداد دورهای چرخ، مثلاً طی یک ساعت در محیط هر چرخ محاسبه می کند (انجام عملیات یا پردازش)، آن را به یک عدد حقیقی تبدیل می کند و عدد به دست آمده را توسط عقربه های سرعت سنج (کیلومتر شمار) روی یک صفحه نشان می دهد (اطلاعات خروجی)، یا دماسنج جیوه ای در منزل، مقدار گرما یا سرمای اتاق را می گیرد (داده ورودی)، با توجه به میزان گرما یا سرما، جیوه درون آن منبسط یا منقبض می شود (انجام عملیات یا پردازش) و در پایان شاخص دماسنج، عددی را به عنوان

امروزه نقش کامپیوتر در زندگی روزمره بر همه روشن شده است. گسترش و فراگیر شدن آن به تنهایی بستر اصلی رشد جامعه بشری را فراهم ساخته است. مخالفت های اولیه با کامپیوتر تبدیل به استفاده همگانی و بیشتر از آن شده است، طوری که کامپیوتر به عنوان بخشی جداناپذیر از زندگی روزانه درآمده است. در پرتو دستاوردهایی که کامپیوتر به همراه داشت، عصر حاضر، عصر انقلاب اطلاعاتی نامیده شده است؛ انقلابی که مانند انقلاب صنعتی تمام ارکان جوامع بشری را دگرگون ساخته است.

در این مقاله سعی می کنیم مطالب نظری مربوط به کامپیوتر را که از اهمیت بیشتری برخوردار است بیان کنیم و به همراه آن با ساختمان فیزیکی و قابل لمس کامپیوتر آشنا شویم، تا بتوانیم از این تکنولوژی معاصر، بهترین استفاده را به عمل آوریم.

در آغاز قبل از هر چیز به این پرسش پاسخ می دهیم که کامپیوتر چیست؟ در تعریف کلی و عام، کامپیوتر به هر وسیله یا

در اختیار ما قرار می‌گیرد (اطلاعات خروجی). داده‌های کامپیوتری را اعداد، ارقام و حروف، تصاویر و صوت تشکیل می‌دهد، روی این داده‌ها عملیاتی انجام می‌شود تا بتواند مورد استفاده قرار گیرد. به این عمل داده‌پردازی یا پردازش داده‌ها می‌گویند.



### مقایسه انسان و کامپیوتر

انسان دارای عیبهای مختلفی به شرح زیر است که می‌توان این عیوب را با استفاده از کامپیوتر برطرف کرد:

- ۱ - انسان فراموش کار است حال آن که فراموشی در کامپیوتر معنی ندارد.
- ۲ - انسان در کارها سرعت عمل ندارد، در حالی که سرعت عمل در کامپیوتر در مقایسه با انسان بسیار بیشتر است.
- ۳ - اشتباه کاری در انسان زیاد است، در حالی که کامپیوتر بدون خطا عمل می‌کند.
- ۴ - انسان توانایی حفظ مقدار محدودی اطلاعات را در ذهن خود دارد، در حالی که کامپیوتر می‌تواند مقدار نامحدودی اطلاعات را ذخیره کند و در مورد آن تصمیم بگیرد.
- ۵ - انسان در انجام محاسبات طولانی و تکراری خستگی‌پذیر است، در حالی که کامپیوتر هیچ‌گاه خسته نمی‌شود.
- ۶ - بازیابی اطلاعات در انسان اکثراً با اشتباه همراه است، در حالی که در کامپیوتر این‌گونه نیست.

اما تنها مزیت انسان نسبت به کامپیوتر، داشتن هوش و قدرت تفکر است، اما کامپیوتر فقط می‌تواند داده‌های ورودی را بگیرد، اما قدرت تجزیه و تحلیل پردازش داده‌ها را ندارد، مگر آن که به کمک دستورهایی که گرفته است، نحوه پردازش خود را مشخص کند و سپس از طریق خروجی، نتیجه پردازش را دریافت کند.

مقدار دمای اتاق به ما نشان می‌دهد (اطلاعات خروجی).

همه این مراحل به صورت دیگر، در کامپیوتر مدرن و الکترونیکی پیش‌بینی شده است و وجود دارد. ایده داشتن سه واحد ورودی، پردازش و خروجی برای نخستین بار در ماشین تفاضلی و تحلیلی چارلز بابیج طراحی شده بود، که به همین خاطر به وی پدر کامپیوترهای نوین می‌گویند.

اما داده چیست؟ داده به هرگونه اطلاعی گفته می‌شود، که در مورد یک چیز داده می‌شود. بیان مشخصات یک چیز، از قبیل اندازه، شکل، وزن و سن به منزله داده‌هایی در مورد آن چیز به شمار می‌روند. به عنوان مثال، نام یک دانش‌آموز، نام خانوادگی، سال تولد، نام مدرسه، نام درسهای اختیار شده توسط دانش‌آموز، شماره شناسنامه، نام پدر و مادر و محل سکونت عبارت از داده‌هایی در مورد آن دانش‌آموز هستند، هر یک از این داده‌ها، اطلاعات خام هستند و به تنهایی ارزشی ندارند. بنابراین به اطلاعات خام، که هیچ پردازشی روی آن انجام نشده باشد، داده می‌گویند.

پردازش یا به بیان صحیح‌تر پردازش داده‌ها به مجموعه عملیاتی گفته می‌شود که روی داده‌ها انجام می‌شود، تا بتوان از داده‌ها برای انجام یک کار معین استفاده و بر روی نتایج آن تصمیم‌گیری کرد. در کامپیوتر بر روی داده‌ها، عملیات ریاضی و منطقی یا مقایسه‌ای انجام می‌شود.

اطلاعات چیست؟ در کامپیوتر به داده‌های پردازش شده اطلاعات می‌گویند.

به مثال زیر که در مورد داده ورودی، پردازش و اطلاعات است توجه کنید: پنبه خامی وارد کارخانه پنبه‌زنی می‌شود (داده ورودی). در کارخانه دانه‌های پنبه و مواد اضافی آن گرفته می‌شود و به عنوان ضایعات از پنبه دور می‌شود (پردازش) و در نهایت پنبه زده شده و تمیز و حتی ضدعفونی شده جهت مصرف



حمل و نقل، امور پزشکی، اجرای قوانین، عرصه هنر، در دانشگاهها و مدارس استفاده می شود.

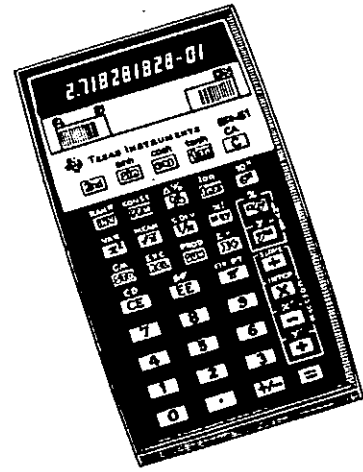
کامپیوترها از نظر اندازه و بزرگی به چهار دسته زیر تقسیم می شوند:

۱ - ابر کامپیوتر (Super Computer). از این کامپیوتر برای محاسبه کارهای پیچیده علمی و فضایی استفاده می شود. این نوع کامپیوترها بسیار سریع عمل می کنند و از گرانترین کامپیوترها به شمار می روند. از ابر کامپیوترها می توان (cray-1) و (cray-2) را نام برد. اخیراً ژاپنیها با استفاده از یک ابر کامپیوتر تصمیم گرفته اند مقدار عدد  $\pi$  را تا شانزده میلیون رقم بعد از اعشار محاسبه کنند. cray نام یک دانشمند کامپیوتر است. سرعت محاسباتی این کامپیوترها ۱۰۰ تا ۱۴۰۰ میلیون دستور در ثانیه است.

۲ - کامپیوترهای بزرگ (Main frame). این نوع کامپیوترها سرعت پردازش و ظرفیت ذخیره سازی کمتری نسبت به ابر کامپیوترها دارند. این نوع کامپیوترها در بیشتر دانشگاهها و وزارتخانه ها برای پردازش اطلاعات مورد استفاده قرار می گیرد. نتیجه کنکور دانشگاهها و اعلام نتایج توسط این نوع کامپیوترها انجام می شود. سرعت پردازش این کامپیوترها بین ۲ تا ۲۰ میلیون دستور در ثانیه است. کامپیوترهای IBM/370، IBM4341 از این نوع کامپیوتر هستند.

۳ - کامپیوترهای کوچک Mini Computer. در مراکزی که حجم اطلاعات و تنوع کارها برای پردازش، متوسط باشد به کار می رود. از این نوع کامپیوتر در مراکز تجاری و دولتی و دانشگاهی استفاده می شود. سرعت پردازش این نوع کامپیوترها بین ۸/۰ تا ۴ میلیون دستور در ثانیه است. برخی از انواع کامپیوترهای PDP از این نوع هستند.

۴ - ریز کامپیوترها Micro Computer. این کامپیوترها ابعاد کوچکی دارند و کم قدرترین کامپیوترهای موجود هستند. میکرو کامپیوترها، کوچکترین و همگانی ترین کامپیوترها هستند. علت نام گذاری آن به میکرو کامپیوتر این است که CPU این نوع کامپیوترها، فقط در یک تراشه یا چپ chip فشرده بنام میکروپروسسور یا ریز پردازنده قرار گرفته است. به



آیا می دانید فرق یک ماشین حساب با کامپیوتر چیست؟ کامپیوتر می تواند دو یا چند چیز را با هم مقایسه کند، ولی ماشین حساب قدرت انجام مقایسه اعداد و حروف را ندارد.

کامپیوترها به سه دسته تقسیم می شوند: ۱ - کامپیوتر عددی ۲ - کامپیوتر قیاسی ۳ - کامپیوتر پیوندی

در کامپیوتر عددی یا رقمی، ورودی از اعداد، حروف، تصویر و صدا تشکیل می شود. خروجی آن نیز اعداد، حروف، تصویر و صدا است. در زندگی روزمره هم که از کامپیوتر صحبت می شود، منظور همین کامپیوتر عددی است. کامپیوترهای عددی مقادیر گسسته را که به صورت عدد هستند اندازه می گیرد.

کامپیوتر قیاسی، شبیه سرعت سنج اتومبیل و آمپرسنج است، که برای حالت های خاص مورد استفاده قرار می گیرند و انعطاف پذیری آنها نسبت به سایر کامپیوترها کمتر است. محاسبه حجم گازها، مقدار و فشار آب سدها توسط کامپیوترهای قیاسی اندازه گیری می شود و نتایج توسط علامت و گاهی اوقات عدد نشان داده می شود. کنتور برق مصرفی در خانه ها نمونه ای از کامپیوتر قیاسی است. به نوع ورودی و پردازش و خروجی کنتور برق توجه کنید. کامپیوترهای قیاسی مقادیر فیزیکی را که به صورت پیوسته است اندازه می گیرد.

کامپیوتر پیوندی یا دورگه ترکیبی از کامپیوتر عددی و قیاسی است. رادار هواپیما چه در برج مراقبت و چه در درون هواپیما نمونه ای از کامپیوتر پیوندی است. کنتور برق نیز نوعی کامپیوتر پیوندی است. چرا؟ از کامپیوتر معمولاً در امور آموزشی، علمی، تحقیقاتی، صنایع، بازرگانی، کتابخانه ها، امور

نرم افزارها به چهار دسته مهم زیر تقسیم می شوند:

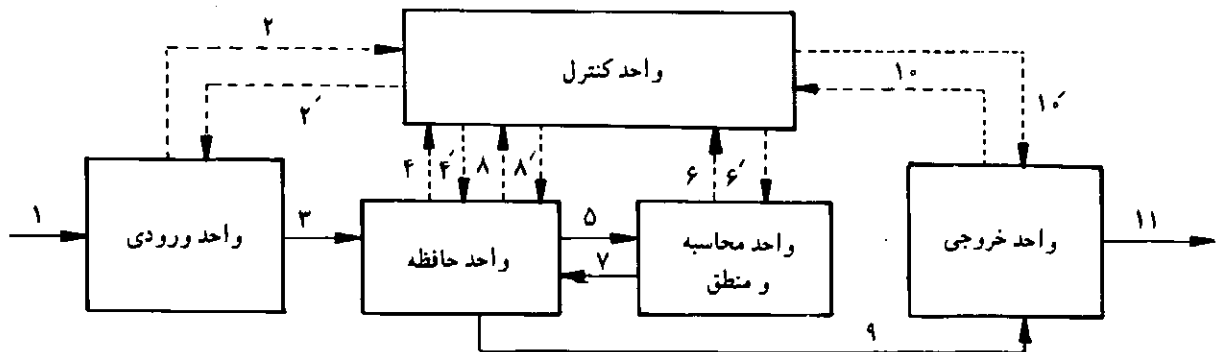
- ۱ - سیستم عامل ها
- ۲ - زبانهای برنامه نویسی
- ۳ - مترجمها
- ۴ - برنامه های کاربردی

جدول زیر چند مثال از سخت افزار و نرم افزار متناظر با آن را نشان می دهد:

نرم افزار	سخت افزار
برنامه ها	کامپیوتر
فیلم و صدا	تلویزیون
صدا	رادیو
فیلم نوار ویدئو	دستگاه ویدئو
روح و جان انسان	انسان
جریان برق	سیم برق
راننده تاکسی	تاکسی

توجه داشته باشید که فیلم سینما نرم افزار نیست، بلکه اطلاعات ذخیره شده در فیلم سینما نرم افزار محسوب می شود. راننده تاکسی! نرم افزار نیست، بلکه اعمالی که روی تاکسی انجام می دهد را می توان نرم افزار به حساب آورد.

ابتدا راجع به سخت افزار و قسمت های مختلف آن توضیح می دهیم. ارتباط بین اجزای سخت افزار را می توان با شکل زیر نشان داد:



دلیل استفاده شخصی از آن، به آنها اغلب کامپیوترهای شخصی PC می گویند. از کامپیوترهای شخصی می توان کامپیوترهای خانواده IBM/AT یا IBM/SX، IBM/DX و پنتیوم Pentium و کامپیوترهای خانواده Apple و همین طور کامپیوترهای خانگی مانند AMIGA و کمودور و کامپیوترهای قابل حمل و کیفی laptop را نام برد.

هنگام کار با کامپیوتر بلافاصله با دو مقوله متفاوت روبرو می شویم که عبارتند از: ۱ - سخت افزار ۲ - نرم افزار به کلیه دستگاههای الکترومکانیکی و الکترونیکی کامپیوتر و دستگاههای جانبی متصل به آن سخت افزار کامپیوتر می گویند. نرم افزار کامپیوتر در مقابل سخت افزار قرار گرفته است. نرم افزار قسمت نامریی و لمس نشدنی کامپیوتر را تشکیل می دهد. به برنامه های کامپیوتری نیز گاهی نرم افزار می گویند. پس نرم افزار به مجموعه اطلاعات یا برنامه هایی گفته می شود که در ذرون سخت افزار کامپیوتر قرار می گیرد و باعث می شود کامپیوتر کار مشخصی را انجام دهد.

سخت افزارها و نرم افزارها خود به اجزای مختلفی تشکیل می شوند. اجزای سخت افزار عبارتند از:

- ۱ - واحد ورودی
- ۲ - واحد محاسبه و منطق
- ۳ - واحد حافظه
- ۴ - واحد کنترل
- ۵ - واحد خروجی

می‌توان صفحه کلید، ماوس، اسکرین، دیجیتایزر، قلم‌نوری، دوربین، میکروفن را جهت دریافت صدا، کارت پانچ، دیسک گردان (Disk Drive) و نوار خوان Tape reader را نام برد. تقریباً تمام وسایل ورودی الکترومکانیکی هستند.

صفحه کلید کامپیوتر با دو استاندارد QWERTY و Dvorak ساخته شده است که در زیر صفحه کلید QWERTY مورد بحث و بررسی قرار می‌گیرد.

از آنجا که صفحه کلید مهم‌ترین و متداول‌ترین وسیله ورودی است، آن را به طور کامل شرح می‌دهیم.

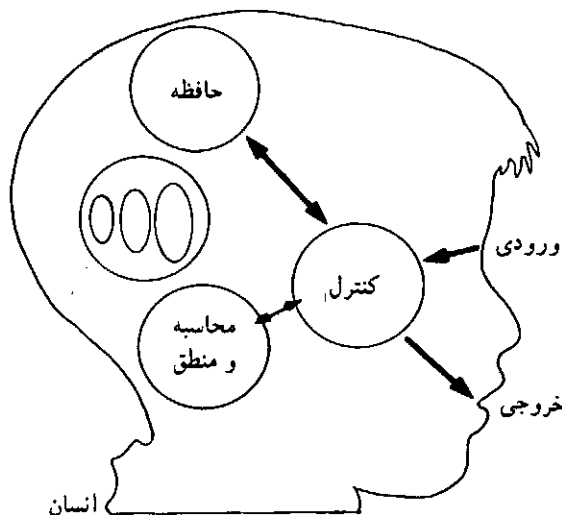
صفحه کلید یک صفحه مستطیل شکل است، که مدل قدیمی آن ۸۳ کلیدی و مدل‌های جدید آن ۱۰۱ کلیدی است. صفحه کلیدها شامل ارقام، حروف و علائم خاص و سایر علائم مورد استفاده در کامپیوتر است. صفحه کلید ۱۰۱ کلیدی یا صفحه کلید پیشرفته به سه قسمت و دو رنگ تقسیم شده است. رنگ سفید White و رنگ خاکستری GRAY. اجزای تشکیل دهنده صفحه کلید پیشرفته عبارتند از: ۱ - کلیدهای ماشین تحریری ۲ - کلیدهای عملیاتی یا تابعی ۳ - کلیدهای عددی یا کلیدهای ماشین حسابی.

۱ - کلیدهای ماشین تحریری: به این کلیدها، کلیدهای حرفی - عددی نیز می‌گویند. در این قسمت از صفحه کلید، تمام حروف الفبای فارسی یا لاتین، ارقام ۰ تا ۹، علائم +، -، \*، /، کلیدهای ESC و Tab، shift، caps lock، Ctrl، Alt و Enter، Space Bar، کلید برگشت Back Space، کلید <، >، ؟، و، ؛، "، '، {، }، [، ]، (، )، % و چند کلید دیگر تعبیه شده است که مجموعاً ۵۹ کلید است. در سمت راست این کلیدها، ۱۰ کلید Insert و Home و Page up و Delete و End و Page Down و ↑ و ← و ↓ و → وجود دارد که ما آن را جزء کلیدهای ماشین تحریری به حساب می‌آوریم. این ۱۰ کلید در ماشین تحریر وجود ندارد. همان‌گونه که ملاحظه می‌کنید، در این قسمت از صفحه کلید، برای راحتی برنامه‌نویس یا تایپیست دو کلید shift، دو کلید ctrl، دو کلید Alt وجود دارد.

اکنون مختصری راجع به کار هر یک از کلیدها توضیح

هر واحد توسط دو جریان الکتریکی با واحد کنترل رابطه دارد که یکی جریان رفت و دیگری جریان برگشت است.

در شکل صفحه قبل اعداد بدون پریم جریان رفت به واحد کنترل یا واحد دیگر را نشان می‌دهد و اعداد پریم دار جریان برگشت از واحد کنترل را نشان می‌دهد. آیا در ساخت کامپیوتر، از انسان الگو گرفته نشده است؟ شکل زیر را ببینید.



آیا چشم یا گوش انسان واحد ورودی وی نیست؟ داده‌های ورودی انسان با مشاهده و شنیدن دریافت می‌شود و با صدا و دهان و با دست به کمک نوشتن به دیگران منتقل می‌شود. در کامپیوتر، به سه واحد حافظه، محاسبه و منطق و واحد کنترل، واحد پردازش مرکزی یا CPU می‌گویند. امروزه واحد حافظه به صورت مستقل و به فاصله بسیار اندکی از واحد کنترل و واحد محاسبه و منطق قرار گرفته است. به این ترتیب گفته می‌شود CPU از دو واحد محاسبه و منطق و واحد کنترل تشکیل می‌شود.

۱ - واحد ورودی INPUT UNIT. اطلاعات و داده‌های مورد نیاز کامپیوتر از طریق واحد ورودی، وارد کامپیوتر می‌شود. داده‌ها به صورت حرف به حرف یا رقم به رقم وارد کامپیوتر می‌شود. مجموعه‌ای از حروف و ارقام، کلمه یا اعداد و مجموعه‌ای از کلمات با معنی دستور و مجموعه‌ای از چند دستور برنامه را تشکیل می‌دهند. از مهمترین وسایل ورودی

shift و یک حرف برای تایپ یک یا چند حرف بزرگ در میان کلمه‌ای که همهٔ حرفهای آن کوچک است استفاده می‌کنیم. کلید **shift** : در صفحه کلید، دو کلید shift وجود دارد که دقیقاً بالای کلید **Ctrl** قرار گرفته است. کلمهٔ shift به صورت تبدیل، مبدله، تغییر وضعیت ترجمه شده است. این کلید به تنهایی کاری انجام نمی‌دهد. اگر چراغ کلید **Caps Lock** روشن نباشد، با فشار همزمان بر روی این کلید و تایپ یک حرف، آن حرف به صورت بزرگ تایپ می‌شود و اگر چراغ کلید **Caps Lock** روشن باشد، با فشار همزمان بر روی کلید shift و تایپ یک حرف، آن حرف به صورت کوچک تایپ می‌شود.

بر روی کلیدهایی که دو علامت دارند مانند کلید **8<sup>\*</sup>**، با فشار بر روی این کلید در حالت پیش فرض و قراردادی، عدد 8 تایپ می‌شود، اما اگر شما کلید shift را فشار دهید و به پایین نگهدارید به دنبال آن کلید **8<sup>\*</sup>** را فشار دهید، علامت ضرب یا \* تایپ می‌شود. از کلید shift در حالت ترکیبی، مثلاً برای تولید Scan code نیز استفاده می‌شود که اندکی بعد راجع به آن توضیح می‌دهیم.

هر یک از دو کلید **shift** برای یک منظور مورد استفاده قرار می‌گیرند. کلید shift سمت چپ برای کار با دست چپ و کلید shift سمت راست برای کار با دست راست جهت راحتی تایپست و ایجاد سرعت در کار طراحی شده‌اند.

با روشن کردن کامپیوتر و راه‌اندازی آن توسط فایل‌های سیستم عامل، پس از مشاهدهٔ پیغام starting Ms - Dos... فشار ممتد بر روی کلید shift مستقیماً به پرامیت Dos می‌رویم. کلید **Ctrl** : مخفف Control است و کلید Ctrl را کلید کنترل می‌خوانند. این کلید در دو طرف کلید Alt و در پایین صفحه کلید قرار دارد. این کلید به تنهایی هیچ کاربردی ندارد. نوع کاربرد کلید **Ctrl** بستگی به نرم‌افزار مورد استفاده دارد. مثلاً در محیط Dos، برای قطع اجرای یک دستور از فشار همزمان دو کلید Ctrl و C یا **Ctrl** و **Break** استفاده می‌شود. علاوه بر این در همین محیط برای دیدن صفحه به صفحه اجرای یک دستور که محتوای آن در چند صفحه است

می‌دهیم :

کلید **Esc** : این کلید در گوشهٔ بالایی و در سمت چپ صفحه کلیدها قرار گرفته است. Esc سه حرف اول Escape به معنی گریز یا فرار یا «انصراف» است. این کلید در ماشین تحریر وجود ندارد. در کامپیوتر معمولاً برای انصراف Cancel از اجرای یک دستور، از کلید **Esc** استفاده می‌کنند.

مکان نما چیست؟ مکان‌نما، خط کوچکی به اندازهٔ خط فاصله یا خط تیره یا گاهی اوقات مربع یا مستطیل توپری به صورت چشمک‌زن است که ستونی از صفحه نمایش را نشان می‌دهد، که قرار است در آن جا یک کاراکتر تایپ شود.

کلید **TAB** : این کلید در سمت چپ کلید Q و بالای کلید **Caps Lock** قرار دارد. TAB سه حرف اول کلمهٔ TABLE به معنی جدول یا پرش است. فشار بر روی این کلید مکان‌نما را یکبار به اندازهٔ چند فاصله مثلاً ۴ یا ۸ یا... به جلو یا سمت راست می‌برد. تعداد فاصله توسط نرم‌افزارها یا در Setup سیستم تعریف می‌شود. فشار همزمان بر روی دو کلید Shift و TAB مکان را به تعداد فاصلهٔ تعریف شده به سمت چپ برمی‌گرداند.

کلید **Caps Lock** : Caps مخفف Capitals به معنی حرف بزرگ یا بزرگ و Lock به معنی «قفل کردن» است. این دو کلمه با کلید **Caps Lock** صفحه کلید را «در حالت تایپ حروف بزرگ» قرار می‌دهد. توجه داشته باشید که در حالت قراردادی default، با صفحه کلید می‌توان حروف کوچک الفبای انگلیسی را تایپ کرد. با فشار بر روی کلید **Caps Lock**، که همزمان چراغ کلید **Caps Lock** در گوشهٔ بالایی و سمت راست روشن شده و به حالت روشن باقی می‌ماند، به راحتی می‌توانید حروف انگلیسی را با حرف بزرگ تایپ کنید. توجه کنید که این کلید فقط برای حروف الفبا به کار می‌رود. به جای استفاده از کلید **Caps Lock** برای تایپ حروف بزرگ، می‌توانید با فشار همزمان دو کلید shift و یک حرف انگلیسی، حرف بزرگ تایپ کنید. از کلید Caps Lock برای تایپ یک متن طولانی یا یک کلمه که همهٔ حرفهای آن با حروف بزرگ است استفاده می‌کنیم اما از فشار همزمان دو کلید

کلید **Space bar**: این کلید از نظر اندازه بزرگترین کلید روی صفحه کلید است و برای ایجاد یک فاصله space یا فضای خالی bolank به کار می‌رود. برای ایجاد یک یا چند فاصله بین نام و نام خانوادگی از کلید Space bar استفاده می‌شود.

کلید **Enter**: این کلید یکی از مهمترین کلیدهای صفحه کلید است. در محیط Dos پس از تایپ هر دستور، با فشار بر روی این کلید، علاوه بر اعلام پایان دستور، به کامپیوتر می‌گوییم دستور را اجرا کند. در محیط نرم افزارهای فارسی یا لاتین و در محیط زبانهای برنامه‌نویسی، فشار بر روی کلید Enter به معنی اعلام پایان خط و باز شدن سطر جدید برای تایپ است. همان طور که از شکل کلید Enter یعنی  $\downarrow$  پیداست، این کلید از دو حرکت  $\downarrow$  و  $\leftarrow$  تشکیل شده است به  $\downarrow$  در کلید Enter، رفتن به خط بعد یا خط خور Line feed = LF و به  $\leftarrow$  در رفتن به سر سطر یا Carriage return = CR می‌گویند.

$\Leftarrow$  Line feed = LF

$\downarrow$   
Carriage return = CR

کد اسکی LF، عدد دهدهی ۱۰ و کد اسکی CR عدد دهدهی ۱۳ است. بعضی از نرم افزارها عدد دهدهی ۱۳ را معادل Enter یا  $\downarrow$  می‌گیرند و از LF صرف نظر می‌کنند.

کلید Enter یا کلیدهای دیگر به صورت ترکیبی هم به کار می‌رود، که تعریف آن به نرم افزار مورد استفاده بستگی دارد.

کلید پس بر یا برگشت **Backspace**: این کلید به صورت  $\leftarrow$  در بالای کلید Enter قرار گرفته است. با هر بار فشار بر روی این کلید، کاراکترهای تایپ شده سمت چپ مکان نما پاک می‌شود و مکان نما را یک ستون به چپ انتقال می‌دهد.

کلیدهای دیگر این قسمت به جزء تایپ حروف و ارقام و علامتهای خاص به تنهایی یا با کلید shift، وظیفه دیگری ندارند که احتیاج به توضیح بیشتر نیست.

کلید **Insert**: Insert به معنی «قرار دادن بین یا درج کردن بین» است. اگر کلید Insert را فشار دهید، مکان نما از حالت

از فشار همزمان دو کلید **Ctrl** و **S** استفاده می‌شود. کلید Ctrl و Z برای ذخیره فایلی که با دستور Copy Con ایجاد می‌شود نیز به کار می‌رود. در محیط پاسکال و C برای کامپایل و اجرای یک برنامه از فشار همزمان دو کلید **Ctrl** و **F9** استفاده می‌شود. در محیط Dos، فشار همزمان دو کلید Ctrl و P، محیط را برای استفاده از چاپگر PRN فراهم می‌آورد. علامت کلید Ctrl به همراه یک حرف، ۸ است مانند C<sup>^</sup>، که از فشار همزمان Ctrl و C ایجاد می‌شود.

کلیدهای **Ctrl** و Alt و Del برای راه اندازی مجدد سیستم یا Reset کردن سیستم به کار می‌رود.

از کلید **Ctrl** به همراه یک کلید دیگر صفحه کلید، برای تولید scan code نیز استفاده زیاد می‌شود.

وجود دو کلید Ctrl در صفحه کلید، به همان تعبیر وجود دو کلید shift است که جهت سهولت و سرعت در کار است.


کلید **Alt**: Alt مخفف Alternate به معنی جانشین و جایگزین و حتی به معنی «حالت دوم» است. این کلید به تنهایی کاربردی ندارد و به صورت ترکیب با کلیدهای دیگر به کار می‌رود. مثلاً فشار همزمان سه کلید **Alt** و ctrl و del باعث راه اندازی مجدد سیستم یا Reset آن می‌شود. کلید **Alt** در دو طرف کلید خط فاصله Space bar قرار دارد. در محیط برنامه نویسی QBASIC، برای برجسته کردن رنگ منیوها menus از کلید Alt استفاده می‌شود، اما در محیط پاسکال و C برای باز شدن منیوها مثلاً فایل، همزمان دو کلید Alt و F فشار داده می‌شود.

کلید Alt به همراه کلیدهای دیگر، scan code مربوط به خود دارد که راجع به آن بعداً توضیح می‌دهیم.

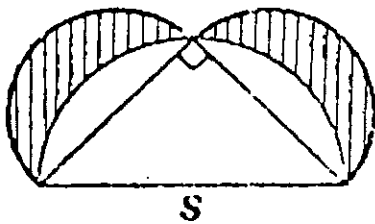
با فشار بر روی کلید Alt و پایین نگهداشتن آن و تایپ یک عدد دو رقمی یا سه رقمی از قسمت عددی صفحه کلید، که در سمت راست آن است، کد اسکی کاراکترهای تعریف شده در صفحه کلید و کاراکترهای گرافیکی و نماد ریاضی یا یونانی ظاهر می‌شود. توجه داشته باشید که پس از تایپ یک عدد دو رقمی یا سه رقمی، کلیدها را آزاد کنید و دست خود را از روی آنها بردارید.

کلید  $\downarrow$  : با فشار بر روی این کلید، در وضعیت یک سطر پایین قرار می‌گیرد.

کلید  $\rightarrow$  : فشار بر روی این کلید شما را از محل مکان‌نما، در وضعیت یک ستون به راست قرار می‌دهد. دو قسمت دیگر صفحه کلید و وظایف هر کلید را در شماره بعد بخوانید :



هریک از نمادایره‌های نمایش داده شده در شکل بر روی ساقها و قاعده یک مثلث قائم‌الزاویه متساوی‌الساقین بنا شده‌اند. مساحت سطوح هاشورخورده را به صورت تابعی از نمایش دهید.



جواب در صفحه ۸۷

خط تیره به صورت مربع توپر یا مستطیل توپر تبدیل می‌شود. در این حالت در محیط Dos، با فشار بر روی یک کلید، کاراکتر آن کلید در همان ستونی که قرار داشت بین حروف کلمه موجود قرار می‌گیرد. اگر یکبار دیگر کلید **Insert** را فشار دهید مکان‌نما به صورت قراردادی یعنی خط تیره تبدیل می‌شود. در این حالت با فشار بر روی یک کلید، کاراکتر تایپ شده جای کاراکتر قبلی در همان ستون قرار می‌گیرد. در محیط QBASIC و پاسکال و C کار این کلید برعکس تعریف بالا است.

کلید **Home** : Home در صفحه کلید به معنی ابتدا یا ابتدای سطر است. در همه محیطها با فشار بر روی کلید Home، مکان‌نما در هر مکانی که باشد در ابتدای آن سطر یا آن خط قرار می‌گیرد.

کلید **Page up** : اگر اطلاعات محیط ویراستارها یا (editor)ها، بیشتر از یک صفحه نمایش جا اشغال کند، فشار بر روی این کلید، شما را به یک صفحه بالاتر می‌برد. مثلاً اگر در صفحه ۳ باشید شما را به صفحه ۲ می‌برد.

کلید **Delete** : Delete به معنی حذف کردن یا پاک کردن است. با فشار بر روی این کلید، کاراکتری که مکان‌نما در زیر آن قرار دارد پاک می‌شود.

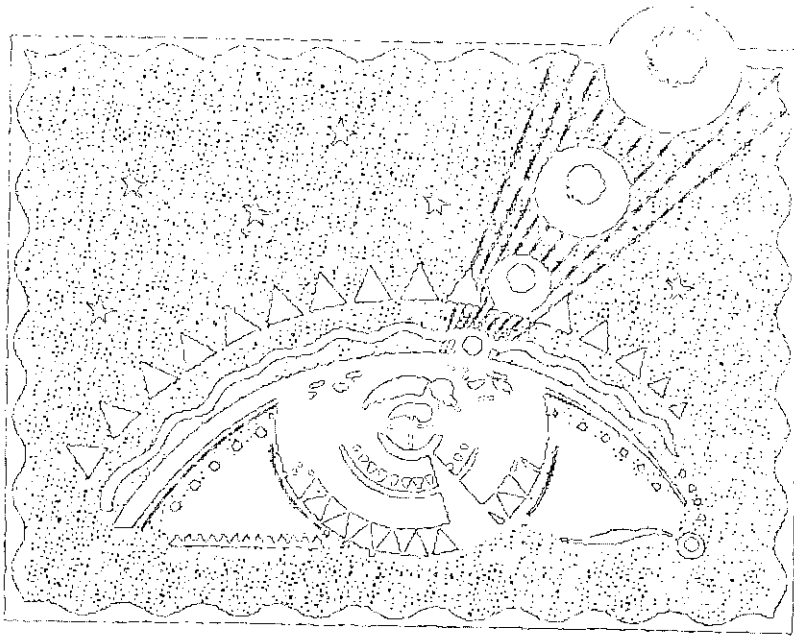
کلید **End** : End در صفحه کلید به معنی انتها یا انتهای سطر است. در همه محیطها با فشار بر روی کلید End، مکان‌نما در هر مکانی که باشد به انتهای آن سطر می‌رود.

کلید **Page Down** : در محیط ویراستار چند صفحه‌ای، فشار بر روی این کلید، شما را در وضعیت مشاهده مطالب صفحه بعد قرار می‌دهد. مثلاً اگر در صفحه ۳ باشید، با فشار بر روی کلید **Page Down**، به صفحه ۴ می‌رود.

کلید  $\uparrow$  : در محیط ویراستارها با فشار بر روی کلید  $\uparrow$ ، یک سطر به بالا می‌روید. در محیط Dos با اجرای Doskey و فشار بر روی کلید  $\uparrow$  دستورات اجرای شده، از آخرین دستور، در پرامپت Dos، در اختیار شما قرار می‌گیرد.

کلید  $\leftarrow$  : فشار بر روی این کلید شما را از محل مکان‌نما، در وضعیت یک ستون به چپ قرار می‌دهد.





دانش آموزان دبیرستان نظام نادیم و جدید

# آموزش ترجمه متون ریاضی (۱۶)

● محمدصادق عسگری

می‌گوئیم  $f(x)$  وقتی  $x$  از چپ به  $b$  نزدیک می‌شود به حد  $L$  میل می‌کند (همگراست) و نوشته می‌شود:  
وقتی  $x \rightarrow b^-$ ،  $f(x) \rightarrow l$  یا به طور دیگر  
 $\lim_{x \rightarrow b^-} f(x) = L$  به شرط اینکه محک زیر برقرار باشد.

به ازای هر  $\epsilon > 0$  بتوانیم  $\delta > 0$  ای را بیابیم به طوری  
که  $|f(x) - L| < \epsilon$  به شرط این که  $b - \delta < x < b$

عدد  $|f(x) - L|$  فاصله بین  $L$  و  $f(x)$  است که ما این عدد را می‌توانیم به عنوان خطای تقریب عدد  $L$  به وسیله  $f(x)$  در نظر بگیریم. تعریف گزاره، وقتی  $x \rightarrow b^-$  آنگاه  $f(x) \rightarrow L$ ، شامل این ادعا است، که ما می‌توانیم خطای تقریب عدد  $L$  به وسیله  $f(x)$  را کوچکتر کنیم وقتی  $x$  به اندازه کافی از سمت چپ به  $b$  نزدیک شود.

## Limits of function

### 8.1 Limits from the left


Suppose that  $f$  is defined on an interval  $(a, b)$ . We say that  $f(x)$  tends (or converges) to a limit  $l$  as  $x$  tends to  $b$  from the left and write

$$f(x) \rightarrow l \text{ as } x \rightarrow b^-$$

or, alternatively,

$$\lim_{x \rightarrow b^-} f(x) = l$$

if the following criterion is satisfied.



Given any  $\epsilon > 0$ , we can find a  $\delta > 0$  such that

$$|f(x) - l| < \epsilon$$

provided that  $b - \delta < x < b$ .

The number  $|f(x) - l|$  is the distance between  $f(x)$  and  $l$ . We can think of it as the error in approximating  $l$  by  $f(x)$ . The definition of the statement  $f(x) \rightarrow l$  as  $x \rightarrow b^-$  then amounts to the assertion that we can make the error in approximating  $l$  by  $f(x)$  as small as we like by taking  $x$  sufficiently close to  $b$  on the left.

## ۸. حدود توابع

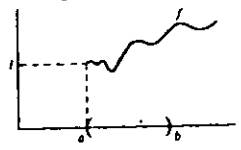
### ۸.۱. حدود از سمت چپ

فرض کنیم تابع  $f$  روی فاصله  $(a, b)$  تعریف شده باشد.

نزدیک می‌شود به حد  $L$  میل می‌کند (همگراست) و نوشته می‌شود وقتی  $x \rightarrow \xi$ ،  $f(x) \rightarrow L$  یا بعبارت دیگر  $\lim_{x \rightarrow \xi} f(x) = L$  در صورتی که محک زیر برقرار باشد.

به ازای هر  $\epsilon > 0$  بتوانیم  $\delta > 0$  ای را بیابیم به طوری که  $|f(x) - L| < \epsilon$  به شرط این که  $|x - \xi| < \delta$

8.2 Limits from the right  
Suppose again that  $f$  is defined on an interval  $(a, b)$ . We say that  $f(x)$  tends (or converges) to a limit  $l$  as  $x$  tends to  $a$  from the right and write  $f(x) \rightarrow l$  as  $x \rightarrow a^+$ .



or, alternatively,  
 $\lim_{x \rightarrow a^+} f(x) = l$   
if the following criterion is satisfied.

Given any  $\epsilon > 0$ , we can find a  $\delta > 0$  such that  $|f(x) - l| < \epsilon$  provided that  $a < x < a + \delta$ .

### لغات و اصطلاحات

- tends گرائیدن - میل کردن
- to Converge همگرا بودن - متقارب بودن
- from the left از طرف چپ - از سمت چپ
- alternately بعبارت دیگر - متناوباً - به طور دیگر
- Criterion معیار - ضابطه - محک
- Satisfied بی‌نیاز - صادق - راضی - متقاعد
- think of در نظر گرفتن
- Amount to سرزدن به - بالغ شدن بر
- Assertion تأیید ادعا - اثبات - تأکید
- We like - میل داریم -
- taking صحبت کردن - گفتگو
- sufficiently به قدر کافی
- Close to نزدیک به
- On the left از سمت چپ
- a gain دوباره - باز
- Provided that = Providing

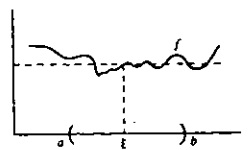
- به شرط اینکه = مشروط بر اینکه
- as وقتی که - چنانکه - به طوری که
- except بجز - مگر
- Possibly شاید - احتمالاً - به هیچ وجه
- Often غالباً - بارها - بیشتر اوقات - کراراً
- useful سودمند - مفید
- note در نظر گرفتن - ذکر کردن
- equivalent هم‌ارزش - هم‌ارز - معادل

### ۸.۲ حدود از سمت راست

باز فرض کنیم تابع  $f$  روی فاصله  $(a, b)$  تعریف شده باشد. در این صورت  $f(x)$  وقتی  $x$  از راست به  $a$  نزدیک می‌شود به حد  $L$  میل می‌کند (همگراست) و نوشته می‌شود وقتی  $x \rightarrow a^+$  یا به بعبارت دیگر  $\lim_{x \rightarrow a^+} f(x) = L$  هرگاه محک زیر برقرار باشد.

به ازای هر  $\epsilon > 0$  بتوانیم  $\delta > 0$  ای را بیابیم به طوری که  $|f(x) - L| < \epsilon$  به شرط این که  $a < x < a + \delta$

8.3  $f(x) \rightarrow l$  as  $x \rightarrow \xi$   
Suppose that  $f$  is defined on an interval  $(a, b)$  except possibly for some point  $\xi \in (a, b)$ . We say that  $f(x)$  tends (or converges) to a limit  $l$  as  $x$  tends to  $\xi$  and write



$f(x) \rightarrow l$  as  $x \rightarrow \xi$   
or, alternatively,  
 $\lim_{x \rightarrow \xi} f(x) = l$   
if the following criterion is satisfied.

Given any  $\epsilon > 0$ , we can find a  $\delta > 0$  such that  $|f(x) - l| < \epsilon$  provided that  $0 < |x - \xi| < \delta$ .

### ۸.۳ وقتی $x \rightarrow \xi$ ، $f(x) \rightarrow L$

فرض کنیم تابع  $f$  روی فاصله  $(a, b)$  جز احتمالاً در نقطه  $\xi \in (a, b)$  تعریف شده باشد می‌گوییم  $f(x)$  وقتی  $x$  به  $\xi$

to say	یعنی - افلاً	thus	بنابراین - پس - بدین معنی که - مثلاً
remark	تبصره - نکته	replace	جای چیزی را گرفتن - عوض کردن
even thought	ولو اینکه		- جانشین شدن
Perfectly	کاملاً - خوب خوب	through out by	سراسر - تماماً - به کلی - از هم جهت
follow	پیروی کردن - فهمیدن - نتیجه بردن	alternativeby	سرتاسر - در تمام مدت عوض شود با



## تفریح اندیشه ۴

### کوتاهترین فاصله

کنیم، کل طول مسیر به هر دو گله‌داری کمتر از هر جای دیگر می‌شود. اگر هزینه هر دو مسیر را به تساوی متقبل شویم هر دو پول کمتری پرداخت خواهیم کرد.

K جواب داد: بسیار خوب، اما این محل کجاست؟

L پاسخ داد: کمی وقت بده تا محاسبه کنم، در حال حاضر نیاز به یادآوری بعضی مطالب ریاضیات عالی دارم.

روز بعد با هم ملاقات کردند و L اقرار کرد که قادر به حل مسأله نشده است. وی گفت: بیا نقشه تو را اجرا کنیم. می‌توانم آن را محاسبه کنم.

K گفت: اصلاً و ابداً. نقشه تو بهتر از نقشه من است و من می‌توانم بدون کمک گرفتن از ریاضیات عالی تو جای پمپ را مشخص کنم.


K چگونه مسأله را حل کرد؟

پس از سالها جنگ و نزاع سخت در مورد حقوق برداشت آب در یک ده، مالکان دو گله‌داری L و K تصمیم به ساختن مخزن آبی با پمپ گرفتند، که به هر دو قسمت آب برساند، و در مورد جمیع جزئیات کار به استثنای مهمترین آنها، یعنی محل مخزن، دوستانه موافقت کردند.

K، که از ریاضیات اطلاع چندانی نداشت، و انجام امور را ساده در نظر می‌گرفت، گفت: بین L، گله‌داری تو در سه مایلی جنوب رودخانه است، مال من در پایین رودخانه به فاصله شانزده مایل از گله‌داری تو و در فاصله نه مایلی جنوب رودخانه است، که به طرف مشرق بین زمینهای ما جاری است، بیا پمپ را در نقطه‌ای از ساحل رودخانه قرار دهیم که فاصله آن از هر دو گله‌داری یکی باشد. در این صورت به آسانی می‌شود محاسبه کرد که هزینه آبرسانی برای هر دو مان برابر می‌شود.

L گفت: راه ارزاتری هم موجود است. محلی در امتداد ساحل وجود دارد که در صورتی که پمپ را در آنجا نصب

جواب در صفحه ۸۷



# رادیکال

(قسمت چهارم)

● سید محمدرضا هاشمی موسوی

## گویا کردن مخرج کسرها

برای گویا کردن مخرج کسرها می توان از اتحادهای زیر و نتایج آنها استفاده کرد:

اتحاد مزدوج (تفاضل مربع دو عبارت)

$$1) (a-b)(a+b) = a^2 - b^2$$

(تفاضل مکعب دو عبارت)

$$2) (a-b)(a^2 + ab + b^2) = a^3 - b^3$$

(مجموع مکعب دو عبارت)

$$3) (a+b)(a^2 - ab + b^2) = a^3 + b^3$$

(اتحاد لاگرانژ)

$$4) (a+b+c)(a^2 + b^2 + c^2 - ab - ac - bc)$$

$$= a^3 + b^3 + c^3 - 3abc$$

با توجه به اتحاد (۴) بدیهی است که اگر  $a+b+c=0$

$$a^3 + b^3 + c^3 = 3abc$$

باشد، آنگاه:

(تفاضل توان  $n$  ام دو عبارت)

$$5) (a-b)(a^{n-1} + a^{n-2}b + a^{n-3}b^2 + \dots + b^{n-1}) = a^n - b^n$$

اگر  $n$  عددی فرد باشد، با تبدیل  $b$  به  $-b$  از اتحاد (۵) به

اتحاد زیر می رسیم:

(مجموع توان  $n$  ام دو عبارت)

$$6) (a+b)(a^{n-1} - a^{n-2}b + a^{n-3}b^2 - \dots + b^{n-1}) = a^n + b^n$$

نتیجه ۱: اگر در اتحادهای (۵) و (۶)،  $a = \sqrt[n]{x}$  و

$$b = \sqrt[n]{y}$$

در حالی که

$n$  زوج باشد،  $x$  و  $y$  نمی توانند منفی باشند:

$$x \geq 0 \text{ و } y \geq 0$$

$$7) (\sqrt[n]{x} - \sqrt[n]{y})(\sqrt[n]{x^{n-1}} + \sqrt[n]{x^{n-2}y} + \sqrt[n]{x^{n-3}y^2} + \dots + \sqrt[n]{y^{n-1}}) = x - y$$

اگر  $n$  فرد باشد، داریم:

$$8) (\sqrt[n]{x} + \sqrt[n]{y})(\sqrt[n]{x^{n-1}} - \sqrt[n]{x^{n-2}y} + \sqrt[n]{x^{n-3}y^2} - \dots + \sqrt[n]{y^{n-1}}) = x + y$$

نتیجه ۲: اگر در اتحاد (۴)،  $a = \sqrt[3]{x}$  و  $b = \sqrt[3]{y}$

$c = \sqrt[3]{z}$  را قرار دهیم، به اتحاد زیر می رسیم.

$$9) (\sqrt[3]{x} + \sqrt[3]{y} + \sqrt[3]{z})(\sqrt[3]{x^2} + \sqrt[3]{y^2} + \sqrt[3]{z^2} - \sqrt[3]{xy} - \sqrt[3]{xz} - \sqrt[3]{yz}) = x + y + z - 3\sqrt[3]{xyz}$$

با توجه به اتحاد (۹)، بدیهی است که اگر

$$x + y + z = 3\sqrt[3]{xyz}$$

نتیجه ۳: اگر در اتحادهای (۲) و (۳)،  $a = \sqrt[3]{x}$  و

$b = \sqrt[3]{y}$  را قرار دهیم، به اتحادهای زیر می رسیم.

(اتحاد (۷) به ازای  $n=3$ )

$$10) (\sqrt[3]{x} - \sqrt[3]{y})(\sqrt[3]{x^2} + \sqrt[3]{xy} + \sqrt[3]{y^2}) = x - y$$

(اتحاد (۸) به ازای  $n=3$ )

$$11) (\sqrt[3]{x} + \sqrt[3]{y})(\sqrt[3]{x^2} - \sqrt[3]{xy} + \sqrt[3]{y^2}) = x + y$$

نتیجه ۴: اگر در اتحاد (۱)،  $a = \sqrt{x}$  و  $b = \sqrt{y}$  (با فرض

منفی نبودن  $x$  و  $y$ ) را قرار دهیم به اتحاد زیر می رسیم.

$$12) (\sqrt{x} - \sqrt{y})(\sqrt{x} + \sqrt{y}) = x - y \quad (x \geq 0, y \geq 0)$$

۱- اگر مخرج کسر فقط شامل یک عبارت رادیکالی به

$$۲) \frac{\sqrt{5}-\sqrt{3}}{\sqrt{5}+\sqrt{3}} \times \frac{\sqrt{5}-\sqrt{3}}{\sqrt{5}-\sqrt{3}} = \frac{(\sqrt{5}-\sqrt{3})(\sqrt{5}-\sqrt{3})}{(\sqrt{5})^2 - (\sqrt{3})^2}$$

$$= \frac{(\sqrt{5}-\sqrt{3})(\sqrt{5}-\sqrt{3})}{5-3} = \sqrt{5}-\sqrt{3}$$

$$۳) \frac{7\sqrt{5}-4}{7\sqrt{5}+4} \times \frac{7\sqrt{5}-4}{7\sqrt{5}-4} = \frac{(7\sqrt{5}-4)^2}{(7\sqrt{5})^2 - 4^2}$$

$$= \frac{(7\sqrt{5}-4)^2}{245-16} = \frac{(7\sqrt{5}-4)^2}{229}$$

$$۴) \frac{3\sqrt{5}+4\sqrt{2}}{3\sqrt{5}-4\sqrt{2}} \times \frac{3\sqrt{5}+4\sqrt{2}}{3\sqrt{5}+4\sqrt{2}}$$

$$= \frac{(3\sqrt{5}+4\sqrt{2})^2}{(3\sqrt{5}-4\sqrt{2})(3\sqrt{5}+4\sqrt{2})}$$

$$= \frac{(3\sqrt{5}+4\sqrt{2})^2}{(3\sqrt{5})^2 - (4\sqrt{2})^2} = \frac{(3\sqrt{5}+4\sqrt{2})^2}{9 \cdot 5 - 16 \cdot 2} \times \frac{9\sqrt{5}+16\sqrt{2}}{9\sqrt{5}+16\sqrt{2}}$$

$$= \frac{(3\sqrt{5}+4\sqrt{2})^2(9\sqrt{5}+16\sqrt{2})}{(9 \cdot 5) - (16 \cdot 2)}$$

$$= \frac{(3\sqrt{5}+4\sqrt{2})^2(9\sqrt{5}+16\sqrt{2})}{-107}$$

روش دوم: می توان مستقیماً از اتحاد زیر که حالت خاصی از اتحاد (۷) می باشد، استفاده کرد.  
 $(\sqrt{x}-\sqrt{y})(\sqrt{x^2}+\sqrt{x^2y}+\sqrt{xy^2}+\sqrt{y^3}) = x-y$   
 $(x \geq 0, y \geq 0)$

$$\frac{3\sqrt{5}+4\sqrt{2}}{3\sqrt{5}-4\sqrt{2}} = \frac{3\sqrt{5}+4\sqrt{2}}{\sqrt{3^2 \cdot 5} - \sqrt{4^2 \cdot 2}}$$

$$= \frac{3\sqrt{5}+4\sqrt{2}}{\sqrt{4 \cdot 5} - \sqrt{5 \cdot 12}} \times \frac{\sqrt{(4 \cdot 5)^2} + \dots + \sqrt{(5 \cdot 12)^2}}{\sqrt{(4 \cdot 5)^2} + \dots + \sqrt{(5 \cdot 12)^2}}$$

$$= \frac{(3\sqrt{5}+4\sqrt{2})(\sqrt{(4 \cdot 5)^2} + \sqrt{(4 \cdot 5)(5 \cdot 12)} + \sqrt{(4 \cdot 5)(5 \cdot 12)^2} + \sqrt{(5 \cdot 12)^2})}{-107}$$

۳- اگر مخرج کسر شامل بیش از دو رادیکال با فرجه های زوج یا شامل چند رادیکال با فرجه زوج و یک عدد گویا باشد از اتحاد مزدوج می توان استفاده کرد.

مثال ۱۹: مخرج کسره های زیر را گویا کنید.

۱)  $\frac{4}{\sqrt{3}+\sqrt{2}+1}$       ۲)  $\frac{\sqrt{18}}{2\sqrt{5}+\sqrt{3}-\sqrt{2}}$

شکل  $\sqrt[n]{a^m}$  باشد به صورت زیر عمل می کنیم.  
 $a \neq 0$  و  $m$  و  $n$  عددهای طبیعی و  $k$  و  $s$  عددهای گویا و  $s \neq 0$  و  $s$  می باشند.

$$\frac{k}{s\sqrt[n]{a^m}} = \frac{k}{s\sqrt[n]{a^m}} \times \frac{\sqrt[n]{a^{n-m}}}{\sqrt[n]{a^{n-m}}} = \frac{k\sqrt[n]{a^{n-m}}}{s\sqrt[n]{a^n}}$$

با فرض این که  $a$  عددی مثبت باشد، داریم:

$$\frac{k}{s\sqrt[n]{a^m}} = \frac{k\sqrt[n]{a^{n-m}}}{sa} \quad (a > 0)$$

مثال: مخرج کسر  $\frac{2}{5\sqrt{2}-4}$  به صورت زیر گویا می شود.

$$\frac{2}{5\sqrt{2}-4} = \frac{-2}{5\sqrt{2}} \times \frac{\sqrt{2}}{\sqrt{2}} = \frac{-2\sqrt{2}}{5\sqrt{2}^2} = \frac{-2\sqrt{2}}{5 \cdot 2} = -\frac{\sqrt{2}}{5}$$

۲- اگر مخرج کسر شامل دو عبارت رادیکالی با فرجه های زوج باشد. برای گویا کردن مخرج کسر به طور مکرر از اتحاد مزدوج (۱) یا (۱۲) استفاده می کنیم. مثال: با فرض  $a > 0$  و  $b > 0$ ، مخرج کسر  $\frac{\sqrt{a}-\sqrt{b}}{\sqrt{a}+\sqrt{b}}$  را گویا کنید.

$$\frac{\sqrt{a}-\sqrt{b}}{\sqrt{a}+\sqrt{b}} \times \frac{\sqrt{a}-\sqrt{b}}{\sqrt{a}-\sqrt{b}} = \frac{(\sqrt{a}-\sqrt{b})^2}{(\sqrt{a})^2 - (\sqrt{b})^2}$$

$$= \frac{(\sqrt{a}-\sqrt{b})^2}{a-b}$$

مثال ۱۸: مخرج کسره های زیر را گویا کنید.

۱)  $\frac{\sqrt{5}}{\sqrt{3}+\sqrt{2}}$       ۲)  $\frac{\sqrt{5}-\sqrt{3}}{\sqrt{5}+\sqrt{3}}$   
 ۳)  $\frac{7\sqrt{5}-4}{7\sqrt{5}+4}$       ۴)  $\frac{3\sqrt{5}+4\sqrt{2}}{3\sqrt{5}-4\sqrt{2}}$

حل: می دانیم دو جمله ایهای « $A+B$ » و « $A-B$ » را مزدوج می گویند. همچنین دو جمله ایهای نظیر: « $a-\sqrt{b}$ » و « $a+\sqrt{b}$ » و « $\sqrt{a}+\sqrt{b}$ » و « $\sqrt{a}-\sqrt{b}$ » و « $\sqrt{a}+\sqrt{b}$ » و « $\sqrt{a}-\sqrt{b}$ » را مزدوج نامند. برای گویا کردن مخرج کسرها می توان صورت و مخرج را در مزدوج مخرج ضرب کرد.

$$۱) \frac{\sqrt{5}}{\sqrt{3}+\sqrt{2}} \times \frac{\sqrt{3}-\sqrt{2}}{\sqrt{3}-\sqrt{2}} = \frac{\sqrt{5}(\sqrt{3}-\sqrt{2})}{(\sqrt{3})^2 - (\sqrt{2})^2}$$

$$= \frac{\sqrt{15}-\sqrt{10}}{3-2} = \frac{\sqrt{15}-\sqrt{10}}{1} = \sqrt{15}-\sqrt{10}$$

$$= \frac{(\sqrt{7} + \sqrt{5} + \sqrt{3} + \sqrt{2})(7 + 2\sqrt{35} + 2\sqrt{6})(28\sqrt{35} - 165)}{215}$$

۴ - اگر مخرج کسر شامل دو رادیکال یا بیش از دو رادیکال با فرجه‌های فرد باشد از اتحاد‌های (۷) و (۸) و (۹) و (۱۰) و (۱۱) استفاده می‌کنیم. اگر مخرج کسر شامل رادیکال‌هایی با فرجه‌های فرد و زوج باشد از اتحاد‌های (۱) و (۲) و (۳) و (۴) و (۵) و (۶) نیز استفاده می‌کنیم.

مثال ۲۰: مخرج کسر  $\frac{a^2 + b^2}{\sqrt[3]{a^2} + \sqrt[3]{b^2}}$  را گویا کنید.

حل: با استفاده از اتحاد (۱۱) داریم:

$$\frac{a^2 + b^2}{\sqrt[3]{a^2} + \sqrt[3]{b^2}} \times \frac{\sqrt[3]{a^4} - \sqrt[3]{a^2b^2} + \sqrt[3]{b^4}}{\sqrt[3]{a^4} - \sqrt[3]{a^2b^2} + \sqrt[3]{b^4}}$$

$$= \frac{(a^2 + b^2)(\sqrt[3]{a^4} - \sqrt[3]{a^2b^2} + \sqrt[3]{b^4})}{a^2 + b^2}$$

$$= a\sqrt[3]{a} - \sqrt[3]{a^2b^2} + b\sqrt[3]{b}$$

مثال ۲۱: مخرج کسر  $\frac{1}{\sqrt[3]{a^2} + \sqrt[3]{ab} + \sqrt[3]{b^2}}$  را گویا کنید.

حل: با استفاده از اتحاد (۱۰) داریم:

$$\frac{1}{\sqrt[3]{a^2} + \sqrt[3]{ab} + \sqrt[3]{b^2}} \times \frac{\sqrt[3]{a} - \sqrt[3]{b}}{\sqrt[3]{a} - \sqrt[3]{b}}$$

$$= \frac{\sqrt[3]{a} - \sqrt[3]{b}}{(\sqrt[3]{a^2} + \sqrt[3]{ab} + \sqrt[3]{b^2})(\sqrt[3]{a} - \sqrt[3]{b})} = \frac{\sqrt[3]{a} - \sqrt[3]{b}}{a - b}$$

مثال ۲۲: مخرج کسر  $\frac{1}{\sqrt[3]{a} - \sqrt[3]{b}}$  را گویا کنید ( $b > 0$ ).

حل: ابتدا از اتحاد (۱) و سپس از اتحاد (۲) استفاده

می‌کنیم:

$$\frac{1}{\sqrt[3]{a} - \sqrt[3]{b}} \times \frac{\sqrt[3]{a} + \sqrt[3]{b}}{\sqrt[3]{a} + \sqrt[3]{b}} = \frac{\sqrt[3]{a} + \sqrt[3]{b}}{\sqrt[3]{a^2} - (\sqrt[3]{b})^2} \quad (b > 0)$$

$$\frac{\sqrt[3]{a} + \sqrt[3]{b}}{\sqrt[3]{a^2} - b} \times \frac{\sqrt[3]{a^4} + b\sqrt[3]{a^2} + b^2}{\sqrt[3]{a^4} + b\sqrt[3]{a^2} + b^2}$$

$$= \frac{(\sqrt[3]{a} + \sqrt[3]{b})(a\sqrt[3]{a} + b\sqrt[3]{a^2} + b^2)}{a^2 - b^2}$$

$$۳) \frac{1}{\sqrt{7} + \sqrt{5} - \sqrt{3} - \sqrt{2}}$$

حل:

$$۱) \frac{4}{\sqrt{3} + \sqrt{2} + 1} = \frac{4}{(1 + \sqrt{2} + \sqrt{3})} \times \frac{(1 + \sqrt{2} - \sqrt{3})}{(1 + \sqrt{2} - \sqrt{3})}$$

$$= \frac{4(1 + \sqrt{2} - \sqrt{3})}{(1 + \sqrt{2})^2 - (\sqrt{3})^2} = \frac{4(1 + \sqrt{2} - \sqrt{3})}{3 + 2\sqrt{2} - 3}$$

$$= \frac{2(1 + \sqrt{2} - \sqrt{3})}{\sqrt{2}} \times \frac{\sqrt{2}}{\sqrt{2}} = \frac{2\sqrt{2}(1 + \sqrt{2} - \sqrt{3})}{2}$$

$$= \sqrt{2} + 2 - \sqrt{6}$$

$$۲) \frac{\sqrt{18}}{(2\sqrt{5} + \sqrt{3} - \sqrt{2})} \times \frac{(2\sqrt{5} + \sqrt{3} + \sqrt{2})}{(2\sqrt{5} + \sqrt{3} + \sqrt{2})}$$

$$= \frac{\sqrt{9 \times 2}(2\sqrt{5} + \sqrt{3} + \sqrt{2})}{(2\sqrt{5} + \sqrt{3})^2 - (\sqrt{2})^2} = \frac{3\sqrt{2}(2\sqrt{5} + \sqrt{3} + \sqrt{2})}{23 + 4\sqrt{15} - 2}$$

$$= \frac{3\sqrt{2}(2\sqrt{5} + \sqrt{3} + \sqrt{2})}{21 + 4\sqrt{15}} \times \frac{21 - 4\sqrt{15}}{21 - 4\sqrt{15}}$$

$$= \frac{3\sqrt{2}(2\sqrt{5} + \sqrt{3} + \sqrt{2})(21 - 4\sqrt{15})}{201}$$

$$= \frac{\sqrt{2}(2\sqrt{5} + \sqrt{3} + \sqrt{2})(21 - 4\sqrt{15})}{67}$$

$$۳) \frac{1}{(\sqrt{7} + \sqrt{5}) - (\sqrt{3} + \sqrt{2})} \times \frac{(\sqrt{7} + \sqrt{5}) + (\sqrt{3} + \sqrt{2})}{(\sqrt{7} + \sqrt{5}) + (\sqrt{3} + \sqrt{2})}$$

$$= \frac{\sqrt{7} + \sqrt{5} + \sqrt{3} + \sqrt{2}}{(\sqrt{7} + \sqrt{5})^2 - (\sqrt{3} + \sqrt{2})^2}$$

$$= \frac{\sqrt{7} + \sqrt{5} + \sqrt{3} + \sqrt{2}}{(7 + 2\sqrt{35} + 2\sqrt{6}) - (3 + 2\sqrt{6})}$$

$$= \frac{(\sqrt{7} + \sqrt{5} + \sqrt{3} + \sqrt{2})(7 + 2\sqrt{35} + 2\sqrt{6})}{(7 + 2\sqrt{35})^2 - (2\sqrt{6})^2}$$

$$= \frac{(\sqrt{7} + \sqrt{5} + \sqrt{3} + \sqrt{2})(7 + 2\sqrt{35} + 2\sqrt{6})}{28\sqrt{35} + 165} \times \frac{28\sqrt{35} - 165}{28\sqrt{35} - 165}$$

$(n \in \mathbb{N}, n \neq 1)$

حل : با استفاده از تساوی  
 $(\sqrt{n} - \sqrt{n-1})(\sqrt{n} + \sqrt{n-1}) = 1$  و یا :

$$\frac{1}{\sqrt{n} + \sqrt{n-1}} = \sqrt{n} - \sqrt{n-1}$$

خواهیم داشت :

$$S = \sqrt{2} - 1 + \sqrt{3} - \sqrt{2} + \sqrt{4} - \sqrt{3} + \dots \\ + \sqrt{n} - \sqrt{n-1} = \sqrt{n} - 1$$

### تبدیل رادیکال مرکب به حاصل جمع چند رادیکال

ساده

اگر بخواهیم یک رادیکال مرکب، مانند :

$$\sqrt[n]{x + a^m y + b^k z + \dots}$$

را به صورت حاصل جمع چند رادیکال ساده بنویسیم، آن را مساوی عبارتی مانند :

$$K + A^m \sqrt[n]{y} + B^k \sqrt[n]{z} + \dots$$

قرار داده و سپس طرفین را به توان  $n$  می‌رسانیم. پس از مساوی قرار دادن اجزای گنگ و گویای مناظر، مقادیر  $K$  و  $A$  و  $B$  و ... را پیدا می‌کنیم. برای مثال، در مورد  $\sqrt{a \pm \sqrt{b}}$  با فرض  $b > 0$ ،  $(a \pm \sqrt{b}) > 0$  داریم :

$$\sqrt{a \pm \sqrt{b}} = \sqrt{x} \pm \sqrt{y} \Rightarrow$$

$$a \pm \sqrt{b} = x + y \pm 2\sqrt{xy} \quad (x > 0, y > 0)$$

$$\Rightarrow \begin{cases} x + y = a \\ \sqrt{b} = 2\sqrt{xy} \end{cases} \Rightarrow \begin{cases} x + y = a \\ xy = \frac{b}{4} \end{cases}$$

$$\Rightarrow \begin{cases} x = \frac{a + \sqrt{a^2 - b}}{2} \\ y = \frac{a - \sqrt{a^2 - b}}{2} \end{cases} \quad (a^2 - b \geq 0)$$

با فرض  $a^2 - b = c^2$  و  $c \geq 0$ ، خواهیم داشت :

$$\sqrt{a \pm \sqrt{b}} = \sqrt{\frac{a+c}{2}} \pm \sqrt{\frac{a-c}{2}} \quad (1)$$

مثال ۲۵ : عبارت  $\sqrt{2} - \sqrt{3}$  را به جمع جبری دو رادیکال ساده تبدیل کنید.

مثال ۲۳ : مخرج کسرهای زیر را گویا کنید.

۱)  $\frac{7}{\sqrt{3} + \sqrt{4}}$       ۲)  $\frac{6 - 3\sqrt{6}}{1 + \sqrt{2} + \sqrt{3}}$

۳)  $\frac{\sqrt{7} + \sqrt{5}}{\sqrt{7} - \sqrt{5}}$       ۴)  $\frac{1}{\sqrt{9} + \sqrt{6} + \sqrt{4}}$

حل : برای گویا کردن کسرهای فوق از اتحادهای (۱۱) و (۱۰) استفاده می‌کنیم :

۱) 
$$\frac{7}{\sqrt{3} + \sqrt{4}} \times \frac{\sqrt{3^2} - \sqrt{3 \times 4} + \sqrt{4^2}}{\sqrt{3^2} - \sqrt{3 \times 4} + \sqrt{4^2}} \\ = \frac{7(\sqrt{9} - \sqrt{12} + \sqrt{16})}{3 + 4} = \frac{7(\sqrt{9} - \sqrt{12} + 2\sqrt{2})}{7} = \sqrt{9} - \sqrt{12} + 2\sqrt{2}$$

۲) 
$$\frac{6 - 3\sqrt{6}}{\sqrt{1} + \sqrt{2} + \sqrt{3}} \times \frac{\sqrt{1} + \sqrt{4} + \sqrt{9} - \sqrt{2} - \sqrt{3} - \sqrt{6}}{\sqrt{1} + \sqrt{4} + \sqrt{9} - \sqrt{2} - \sqrt{3} - \sqrt{6}} \\ = \frac{(6 - 3\sqrt{6})(1 + \sqrt{4} + \sqrt{9} - \sqrt{2} - \sqrt{3} - \sqrt{6})}{(\sqrt{1})^2 + (\sqrt{2})^2 + (\sqrt{3})^2 - 3\sqrt{6}} \\ = \frac{(6 - 3\sqrt{6})(1 + \sqrt{4} + \sqrt{9} - \sqrt{2} - \sqrt{3} - \sqrt{6})}{6 - 3\sqrt{6}} \\ = 1 + \sqrt{4} + \sqrt{9} - \sqrt{2} - \sqrt{3} - \sqrt{6}$$

۳) 
$$\frac{\sqrt{7} + \sqrt{5}}{\sqrt{7} - \sqrt{5}} \times \frac{\sqrt{7^2} + \sqrt{7 \times 5} + \sqrt{5^2}}{\sqrt{7^2} + \sqrt{7 \times 5} + \sqrt{5^2}} \\ = \frac{(\sqrt{7} + \sqrt{5})(\sqrt{49} + \sqrt{35} + \sqrt{25})}{7 - 5} \\ = \frac{1}{2}(\sqrt{7} + \sqrt{5})(\sqrt{49} + \sqrt{35} + \sqrt{25})$$

۴) 
$$\frac{1}{\sqrt{3^2} + \sqrt{3 \times 2} + \sqrt{2^2}} \times \frac{\sqrt{3} - \sqrt{2}}{\sqrt{3} - \sqrt{2}} = \frac{\sqrt{3} - \sqrt{2}}{3 - 2} \\ = \sqrt{3} - \sqrt{2}$$

مثال ۲۴ : حاصل عبارت زیر را پیدا کنید.

$$S = \frac{1}{\sqrt{2} + 1} + \frac{1}{\sqrt{3} + \sqrt{2}} + \frac{1}{\sqrt{4} + \sqrt{3}} + \dots + \frac{1}{\sqrt{n} + \sqrt{n-1}}$$

حل : با استفاده از تساوی (۱) داریم :

$$c^2 = a^2 - b = 2^2 - 3 = 4 - 3 = 1 \Rightarrow c = 1$$

$$\begin{aligned} \sqrt{2-\sqrt{3}} &= \sqrt{\frac{2+1}{2}} - \sqrt{\frac{2-1}{2}} = \sqrt{\frac{3}{2}} - \sqrt{\frac{1}{2}} \\ &= \sqrt{\frac{6}{4}} - \sqrt{\frac{2}{4}} = \frac{\sqrt{6}}{2} - \frac{\sqrt{2}}{2} \Rightarrow \sqrt{2-\sqrt{3}} = \frac{1}{2}(\sqrt{6}-\sqrt{2}) \end{aligned}$$

مثال ۲۶ : حاصل عبارت

$$A = \sqrt{4+\sqrt{7}} - \sqrt{4-\sqrt{7}} - \sqrt{2}$$

را حساب کنید.

حل : ابتدا عبارتهای  $\sqrt{4+\sqrt{7}}$  و  $\sqrt{4-\sqrt{7}}$  را با استفاده از تساوی (۱) ساده می کنیم :

$$c^2 = 4^2 - 7 = 16 - 7 = 9 \Rightarrow c = 3$$

$$\begin{aligned} \sqrt{4+\sqrt{7}} &= \sqrt{\frac{4+3}{2}} + \sqrt{\frac{4-3}{2}} = \sqrt{\frac{7}{2}} + \sqrt{\frac{1}{2}} = \frac{\sqrt{14}}{2} + \frac{\sqrt{2}}{2} \\ \sqrt{4-\sqrt{7}} &= \sqrt{\frac{4+3}{2}} - \sqrt{\frac{4-3}{2}} = \sqrt{\frac{7}{2}} - \sqrt{\frac{1}{2}} = \frac{\sqrt{14}}{2} - \frac{\sqrt{2}}{2} \end{aligned}$$

بنابراین داریم :

$$\begin{aligned} A &= \frac{\sqrt{14}}{2} + \frac{\sqrt{2}}{2} - \frac{\sqrt{14}}{2} + \frac{\sqrt{2}}{2} - \sqrt{2} \\ &= \frac{2\sqrt{2}}{2} - \sqrt{2} = \sqrt{2} - \sqrt{2} = 0 \Rightarrow \boxed{A=0} \end{aligned}$$

مثال ۲۷ : حاصل عبارت  $B = \sqrt{3+\sqrt{4-2\sqrt{3}}} - \frac{\sqrt{6}}{2}$

را حساب کنید.

حل : ابتدا عبارت  $\sqrt{4-2\sqrt{3}}$  یا  $\sqrt{4-\sqrt{12}}$  را با استفاده از تساوی (۱) ساده می کنیم :

$$c^2 = 4^2 - 12 = 16 - 12 = 4 \Rightarrow c = 2$$

$$\begin{aligned} \sqrt{4-2\sqrt{3}} &= \sqrt{4-\sqrt{12}} = \sqrt{\frac{4+2}{2}} - \sqrt{\frac{4-2}{2}} \\ &= \sqrt{3} - \sqrt{1} = \sqrt{3} - 1 \end{aligned}$$

بنابراین داریم :

$$B = \sqrt{3+\sqrt{3}-1} - \frac{\sqrt{6}}{2} = \sqrt{2+\sqrt{3}} - \frac{\sqrt{6}}{2}$$

همچنین عبارت  $\sqrt{2+\sqrt{3}}$  را با استفاده از تساوی (۱)

ساده می کنیم :

$$c^2 = 2^2 - 3 = 4 - 3 = 1 \Rightarrow c = 1$$

$$\sqrt{2+\sqrt{3}} = \sqrt{\frac{2+1}{2}} + \sqrt{\frac{2-1}{2}} = \sqrt{\frac{3}{2}} + \sqrt{\frac{1}{2}} = \frac{\sqrt{6}}{2} + \frac{\sqrt{2}}{2}$$

پس خواهیم داشت :

$$B = \frac{\sqrt{6}}{2} + \frac{\sqrt{2}}{2} - \frac{\sqrt{6}}{2} = \frac{\sqrt{2}}{2} \Rightarrow \boxed{B = \frac{\sqrt{2}}{2}}$$

مسأله های زیر را حل کنید :

۱- به ازای چه مقادیری از x عبارت  $\sqrt[3]{\sqrt[5]{x^3}} - 8$  دارای معنی است؟

۲- عبارت  $\sqrt[3]{7-5\sqrt{4}}$  را به جمع جبری دو عبارت ساده بنویسید.

۳- حاصل عبارت

$$D = \sqrt[5]{2\sqrt[3]{2\sqrt{2}}} + \left(\sqrt[6]{5\sqrt{2}}\right)^9 - 2^{1/3} - \sqrt[3]{64} + \sqrt{4+2\sqrt{3}} - \sqrt{3} - 3\sqrt[3]{3-4}$$

را حساب کنید.

۴- ثابت کنید برای هر  $a \geq 0$  و  $b \geq 0$ ، همواره داریم :

$$\sqrt{ab} = \sqrt{a} \cdot \sqrt{b}$$

۵- با فرض  $a \geq 0$  و  $b \geq 0$ ، عبارت زیر را ساده کنید :

$$P = -\sqrt{a^3} \sqrt{ab^4} + \sqrt[4]{b^2} \sqrt[4]{a^4 b^2}$$

۶- اگر n عدد طبیعی فرد و  $n > 1$  و a و b عددهای حقیقی باشند، ثابت کنید :

$$\sqrt[n]{ab} = \sqrt[n]{a} \cdot \sqrt[n]{b}$$

۷- اگر m عدد طبیعی و  $\sqrt[n]{a}$  یک عدد حقیقی باشد، ثابت کنید :

$$(\sqrt[n]{a})^m = \sqrt[n]{a^m}$$

۸- مخرج کسر زیر را گویا کنید :

$$\frac{2}{\sqrt[3]{2} + \sqrt[5]{2\sqrt[3]{2\sqrt{2}}} + (\sqrt[3]{2})^9 - 2^{1/3} - (\sqrt[3]{8})^2}$$

۹- مخرج کسر زیر را گویا کنید :

$$\frac{14}{\sqrt[6]{4} + 5\sqrt[3]{16} - 7\sqrt[4]{4} + 2\sqrt[3]{16} - \sqrt[3]{54} + 4\sqrt[3]{2} - \sqrt[3]{16}}$$



باشد. این مقادیر در دستگاه صدق می کنند؛ پس:

$$\sqrt[3]{7-5\sqrt{4}} = 1-\sqrt{2}$$

۳- داریم:

$$\begin{aligned} \sqrt[5]{2^2\sqrt{2}\sqrt{2}} &= \sqrt[5]{2^2\sqrt{2^2} \times 2\sqrt{2}} = \sqrt[5]{2^2 \times 2^2 \times 2} = \sqrt[5]{2^6} \\ &= 2^{\frac{6}{5}} = 2^{\frac{3}{5}} = 2^{3/5} \end{aligned}$$

$$\left(\sqrt[6]{5\sqrt{2}}\right)^9 = \left(2^{\frac{1}{2}}\sqrt[6]{5}\right)^9 = 2^{\frac{9}{2}}\sqrt[6]{5^9} = 2^{\frac{9}{2}} \cdot 5^{\frac{3}{2}} = 2^{4.5} \cdot 5^{1.5} = 2^{9/2} \cdot 5^{3/2}$$

$$\sqrt[3]{64} = \sqrt[3]{2^6} = 2^{\frac{6}{3}} = 2^2 = 4$$

$$3^{\frac{3}{2}}\sqrt{3^{-4}} = 3 \times 3^{\frac{-1}{2}} = 3 \times 3^{-1} = 3^{-1} = \frac{1}{3}$$

$$\sqrt{4+2\sqrt{3}} = \sqrt{1+3+2\sqrt{3}} = \sqrt{(1+\sqrt{3})^2} = 1+\sqrt{3}$$

$$\Rightarrow D = 2^{9/2} + 2^{3/2} - 2^{9/2} - 2^{3/2} + 1 + \sqrt{3} - \sqrt{3} - 1$$

$$\Rightarrow D = 0$$

۴- با توجه به فرض:  $a \geq 0$  و  $b \geq 0$ ، می توان نوشت:

$$(\sqrt{ab})^2 = ab \quad (1)$$

و همچنین:

$$(\sqrt{a} \cdot \sqrt{b})^2 = (\sqrt{a})^2 \cdot (\sqrt{b})^2 = ab \quad (2)$$

از تساویهای (۱) و (۲) نتیجه می شود که عبارتهای  $\sqrt{a} \cdot \sqrt{b}$  و  $\sqrt{ab}$  ریشه دوم مثبت  $ab$  می باشند. چون ریشه دوم مثبت یگانه است، پس:

$$\sqrt{ab} = \sqrt{a} \cdot \sqrt{b}$$

۵- با توجه به فرض:  $a \geq 0$  و  $b \geq 0$ ، می توان نوشت:

$$\begin{aligned} P &= -\sqrt{a^3} \sqrt{ab^2} \cdot \sqrt{b^2} \sqrt{a^2 b^2} \\ &= (-\sqrt{a^3})(\sqrt{b^2}) \sqrt{ab^2} \cdot a \sqrt{b^2} \\ &= (-2\sqrt{a^3} b^2) \cdot b^2 \sqrt{a} \cdot \sqrt{b} \\ &= -2\sqrt{a^3} b^4 \sqrt{ab} \end{aligned}$$

۶- با توجه به فرض:  $n$  عدد طبیعی فرد و  $n > 1$  و  $a$  و  $b$

عددهای حقیقی هستند، می توان نوشت:

$$\left(\sqrt[n]{ab}\right)^n = ab \quad (1)$$

۱۰- اگر  $a$  و  $b$  عددهای نامنفی باشند، ثابت کنید:

$$\sqrt{a^2+b^2} \leq a+b$$

۱۱- اگر  $a \geq 0$  و  $b > 0$  و  $n$  عدد طبیعی و  $n > 1$  باشد،

ثابت کنید:

$$\sqrt[n]{\frac{a}{b}} = \frac{\sqrt[n]{a}}{\sqrt[n]{b}}$$

۱۲- معادله های زیر را حل کنید و جوابها را به ساده ترین

صورت بنویسید:

- ۱)  $x^2 + 34 = 152$       ۲)  $3x^4 - 48 = 0$   
 ۳)  $4x^2 = 7$       ۴)  $(x^2)^2 + x^2 = 32$   
 ۵)  $a^7 + 4^{21} = 0$       ۶)  $x^{1375} + y^{1125} = 0$

## حل مسائل

حل:

۱- عبارت را می توان به شکل زیر نوشت:

$$\sqrt[3]{\sqrt[4]{\sqrt[5]{\sqrt{x^2-8}}}} = \sqrt[42]{x^2-8}$$

بنابراین باید داشته باشیم:

$$x^2 - 8 \geq 0 \Rightarrow x^2 \geq 8 \Rightarrow x \geq 2$$

در نتیجه عبارت به ازای هر عدد حقیقی  $x \geq 2$  دارای معنی

است.

۲- عبارت را می توان به شکل زیر نوشت:

$$\sqrt[3]{7-5\sqrt{4}} = \sqrt[3]{7-5\sqrt{2^2}} = \sqrt[3]{7-5\sqrt{2}}$$

در اینجا فرض می کنیم عبارت به شکل زیر تحویل

می شود:

$$\sqrt[3]{7-5\sqrt{2}} = x + y\sqrt{2} \quad (1)$$

دو طرف تساوی (۱) را به توان ۳ می رسانیم:

$$7-5\sqrt{2} = (x+y\sqrt{2})^3 = x^3 + 3x^2y\sqrt{2} + 6xy^2 + 2y^3\sqrt{2}$$

$$7-5\sqrt{2} = x^3 + 6xy^2 + (3x^2y + 2y^3)\sqrt{2}$$

از مقایسه طرفین تساوی، دستگاه زیر حاصل می شود:

$$\begin{cases} x^3 + 6xy^2 = 7 \\ 3x^2y + 2y^3 = -5 \end{cases} \Rightarrow \begin{cases} x(x^2 + 6y^2) = 1 \times 7 \\ y(3x^2 + 2y^2) = (-1) \times 5 \end{cases}$$

اگر  $x$  و  $y$  عددهای درست باشند  $x=1$  و  $y=-1$  می تواند

۱۰- با توجه به فرض:  $a$  و  $b$  عددهای نامنفی هستند، می توان دو طرف نامساوی را به توان ۲ رساند:

$$\sqrt{a^2 + b^2} \leq a + b \Rightarrow (\sqrt{a^2 + b^2})^2 \leq (a + b)^2$$

$$\Rightarrow a^2 + b^2 \leq a^2 + b^2 + 2ab$$

$$\Rightarrow 2ab \geq 0 \Rightarrow ab \geq 0$$

نامساوی  $ab \geq 0$  برای عددهای نامنفی  $a$  و  $b$  همواره درست است. بنابراین:

$$\sqrt{a^2 + b^2} \leq a + b$$

۱۱- راهنمایی: مشابه طریقه حل مسأله ۶ عمل کنید.

۱۲- داریم:

$$۱) x^2 + 34 = 153 \Rightarrow x^2 = 153 - 34 = 119$$

$$\Rightarrow x^2 = 119 \Rightarrow x = \pm\sqrt{119}$$

$$۲) 3x^4 - 48 = 0 \Rightarrow 3x^4 = 48 \Rightarrow x^4 = 16 = 2^4$$

$$\Rightarrow x = \pm 2$$

$$۳) 4x^2 = 7 \Rightarrow x^2 = \frac{7}{4} \Rightarrow x = \pm\sqrt{\frac{7}{4}}$$

$$۴) (x^2)^2 + x^2 = 32 \Rightarrow x^4 + x^2 = 32 \Rightarrow 2x^4 = 32$$

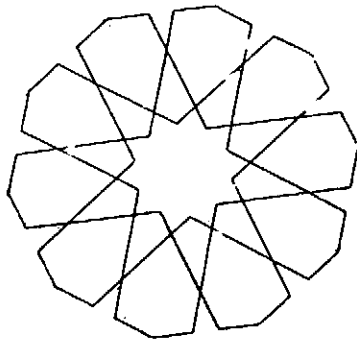
$$\Rightarrow x^4 = 16 = 2^4 \Rightarrow x = \pm 2$$

$$۵) a^7 + 4^{21} = 0 \Rightarrow a^7 = -4^{21}$$

$$\Rightarrow a = -\sqrt[7]{4^{21}} = -4^{\frac{21}{7}} = -4^3 = -64$$

$$۶) x^{1375} + 2^{125} = 0 \Rightarrow x^{1375} = -2^{125}$$

$$x^{11 \times 125} = -2^{125} \Rightarrow x = -\sqrt[11]{2}$$



و همچنین

$$(\sqrt[n]{a} \cdot \sqrt[n]{b})^n = (\sqrt[n]{a})^n \cdot (\sqrt[n]{b})^n = ab \quad (۲)$$

از تساویهای (۱) و (۲) نتیجه می شود که عبارتهای  $\sqrt[n]{ab}$  و  $\sqrt[n]{a} \cdot \sqrt[n]{b}$  ریشه  $n$ ام  $ab$  می باشند. چون ریشه  $n$ ام (در صورتی که  $n$  فرد باشد) یگانه است، پس:

۷- با توجه به فرض:  $m$  عدد طبیعی و  $\sqrt[n]{a}$  عدد حقیقی است، می توان نوشت:

$$(\sqrt[n]{a})^m = \underbrace{\sqrt[n]{a} \cdot \sqrt[n]{a} \cdot \dots \cdot \sqrt[n]{a}}_{m \text{ مرتبه}} = \underbrace{\sqrt[n]{a \cdot a \cdot \dots \cdot a}}_{m \text{ مرتبه}} = \sqrt[n]{a^m}$$

پس:

$$(\sqrt[n]{a})^m = \sqrt[n]{a^m}$$

۸- با توجه به حل مسأله (۳):

$$\sqrt[5]{2^2 \sqrt[3]{2} \sqrt[2]{2}} = 2^{2/5} \cdot 2^{1/3} \cdot 2^{1/2} = 2^{2/5 + 1/3 + 1/2} = 2^{29/30}$$

$$(\sqrt[2]{8})^2 = \sqrt[2]{8^2} = \sqrt[2]{64} = 8 = 2^3$$

پس می توان نوشت:

$$\frac{\sqrt[2]{2} + \sqrt[5]{2^2 \sqrt[3]{2} \sqrt[2]{2}} + (\sqrt[3]{2})^9 - 2^{3/2} - (\sqrt[2]{8})^2}{2} = \frac{\sqrt[2]{2} + 2^{29/30} + 2^3 - 2^{3/2} - 2^3}{2} = \frac{\sqrt[2]{2} + 2^{29/30} - 2^{3/2}}{2}$$

$$= \frac{2}{\sqrt[2]{2}} \times \frac{\sqrt[2]{2}}{\sqrt[2]{2}} = \frac{2\sqrt[2]{2}}{\sqrt[2]{2}} = \frac{2\sqrt[2]{2}}{2} = \sqrt[2]{2}$$

۹- ابتدا مخارج کسر را ساده می کنیم:

$$\sqrt[6]{4} + 5\sqrt[3]{16} - 7\sqrt[2]{4} + 2\sqrt[3]{16} - \sqrt[2]{54} + 4\sqrt[2]{2} - \sqrt[3]{16} =$$

$$\sqrt[6]{2^2} + 5\sqrt[3]{2^3} \times 2 - 7\sqrt[2]{2^2} + 2\sqrt[3]{2^3} \times 2 - \sqrt[2]{3^3} \times 2$$

$$+ 4\sqrt[3]{2} - \sqrt[3]{2^3} \times 2 =$$

$$\sqrt[6]{2} + 10\sqrt[3]{2} - 7\sqrt[2]{2} + 4\sqrt[3]{2} - 2\sqrt[3]{2} + 4\sqrt[3]{2}$$

$$- 2\sqrt[2]{2} = 7\sqrt[3]{2}$$

پس کسر را می توان به شکل زیر نوشت:

$$\frac{14}{\sqrt[6]{2}} \times \frac{\sqrt[6]{2}}{\sqrt[6]{2}} = \frac{14\sqrt[6]{2}}{\sqrt[6]{2}} = \frac{14\sqrt[6]{2}}{14} = \sqrt[6]{2}$$



## مقالات کوتاه از

# مجلات ریاضی معتبر جهان (۱۷)

ترجمه: غلامرضا یاسی پور

## اعداد اول، تجزیه و رمزهای مخفی

(قسمت سوم)

مرکب است. اما این موضوع (توسط خود ادوارد لوکاس) با استفاده از آزمون لوکاس (اکنون لوکاس - لمر) کشف شده بود، که در ضمن این که پاسخی به این سؤال نیز می داد که عدد مرسن مفروضی اول یا مرکب است، اطلاعاتی در مورد عاملهای اعدادی که مرکب بودنشان را مشخص می کرد نمی داد. (این مطلب در مورد آزمون ARCL، چنانکه می توان از طرح قبلاً داده شده این روش دریافت، و در واقع در مورد هر تعداد روش سریع آزمون اول بودن اخیراً در دسترس، صادق است.)

اما چگونه می توان عاملهای عددی را که مرکب بودنش را می دانیم پیدا کرد؟ آزمایش و خطا واضحاً، به همان دلیل که در مورد آزمون اول بودن عملی نیست، کارا نیست. اما در عمل عنصری از تقسیم آزمایشی در جمیع اجراهای جاری روشهای آزمونهای اول بودن و تجزیه موجود است. و به علت سرعت انجام این کار، آغاز کردن عمل با، مثلاً، یک میلیون عدد اول اولیه معقول به نظر می رسد. در این صورت اگر مقسوم علیهی یافت شود، هر دو مسأله اول بودن و تجزیه حل شده اند. و اگر نه، دست کم خواهیم دانست که عدد مورد نظر یا اول است، یا

در همایش اکتبر ۱۹۰۳ی انجمن ریاضی معتبر آمریکایی، نام فردریک نلسون کول<sup>۱</sup> ریاضیدان در فهرست برنامه انجمن به عنوان ارائه دهنده مقاله ای با عنوان متواضعانه «راجع به تجزیه اعداد بزرگ» آمده بود. هنگامی که نام کول را برای سخنرانی خواندند، وی به طرف تخته سیاه رفت و، بدون اظهار کلمه ای، محاسبه ۲ به توان ۶۷ را انجام داد، و بعد از آن ۱ واحد از نتیجه کم کرد، و در حالی که همچنان چیزی نمی گفت به طرف قسمت نوشته نشده ای از تخته سیاه رفت و اعداد زیر را در هم ضرب کرد

۲۸۷ ۲۵۷ ۸۳۸ ۷۶۱ و ۷۲۱ ۷۰۷ ۱۹۳

پاسخهای دو محاسبه یکسان بودند. کول همچنان بی آن که کلمه ای ادا کند به جایش برگشت، و برای اولین و تنها دفعه جمیع حاضران در جلسه انجمن آمریکایی ریاضی به پا خاسته ابراز احساسات کردند.

کاری که کول انجام داده بود (و ظاهراً بیست سال بعد از ظهرهای یکشنبه خود را صرف آن کرد) یافتن عاملهای اول عدد مرسن  $M_{67}$  بود. از ۱۸۷۶ مشخص بود که  $M_{67}$

اگر مرکب است، تنها عاملهای اول بزرگ دارد. کاربرد واقعیت اخیر با روش تجزیه ساده‌ای انجام می‌گیرد که از فرما و به صورت زیر است.

فرض می‌کنیم  $n = uv$ ، که در آن  $u$  و  $v$  هر دو اعداد بزرگ و فرد، با  $u \leq v$  اند. (این وضعیت، از آنجا که فرضمان بر این است که  $n$  تنها عاملهای اول بزرگ دارد، وضعیتی است که هنگامی با آن روبرو می‌شویم که می‌دانیم  $n$  مرکب است و مایل به یافتن عاملهای آنیم.) فرض می‌کنیم

$$x = \frac{1}{2}(u+v) \text{ و } y = \frac{1}{2}(u-v)$$

در این صورت  $0 \leq y < x$ ،  $v = x - y$ ،  $u = x + y$  و بنابراین

$$n = (x+y)(x-y) = x^2 - y^2$$

که می‌تواند به صورت زیر نوشته شود

$$y^2 = x^2 - n \quad (1)$$

برعکس، اگر  $x$  و  $y$  در معادله (۱) صدق کنند، آنگاه

دارای تجزیه زیر می‌شود

$$n = (x+y)(x-y) \quad (2)$$

در نتیجه، تجزیه  $n$  به حاصلضرب دو عدد هم‌ارز یافتن عددهای  $x$  و  $y$  است که در معادله (۱) صدق کنند، و در این حالت تجزیه حاصل توسط معادله (۲) داده می‌شود. (توجه داشته باشید که این کار لزوماً تجزیه اول  $n$  را به دست نمی‌دهد. اما زمانی که عددی به دو عامل تقسیم شود، ممکن است خود آن دو عامل به نوبت خود تجزیه شوند، و این کاری است که بدون استثنا بسیار ساده‌تر است زیرا هر چه عدد کوچکتر باشد تجزیه‌اش آسانتر است.)

برای یافتن  $x$  و  $y$ ، چنان که در معادله (۱) آمده است، با کوچکترین عدد اول  $k$ ، چنان که  $k \geq \sqrt{n}$ ، آغاز می‌کنیم، و سپس، به نوبت، به بررسی مقادیر  $x = k$ ،  $x = k+1$ ،  $x = k+2$ ، ... پرداخته ملاحظه می‌کنیم  $x^2 - n$  مربع کامل است یا خیر. هنگامی که چنین  $x$  را یافتیم، تجزیه به گونه‌ای مؤثر کامل می‌شود. با این شرط که  $n$  دارای دو عامل تقریباً به یک اندازه باشد (و در نتیجه نزدیک به  $\sqrt{n}$  که روشمان را از آن آغاز کردیم)، باید جواب را نسبتاً سریع به دست آوریم. (اگر مایل باشید که در این مرحله خودتان به بررسی این روش بپردازید،

اعداد  $10379$  و  $93343$  مثالهای مناسبی به دست می‌دهند).

طرق گوناگونی در سرعت بخشیدن به فرایند فوق موجودند. به عنوان نمونه، اگر عمل مورد نظر را بدون استفاده از ابزار انجام می‌دهیم نیاز به محاسبه ریشه دوم  $x^2 - n$  برای ملاحظه عدد درست بودن آن، در هر حالت نداریم. از آنجا که هیچ مربع کاملی به یکی از ارقام  $2$ ،  $3$ ،  $7$ ، یا  $8$  ختم نمی‌شود، هرگاه مشخص شود  $x^2 - n$  به یکی از چنین رقمهایی ختم می‌شود آن مقدار  $x$  را می‌توان بلافاصله کنار گذاشت.

خود فرما از این روش برای تجزیه زیر استفاده کرد

$$2027651281 = 44021 \times 46061$$

اجراهای کامپیوتری برای «حذف بلافاصله» مقادیر غیرممکن  $x$  (فرابندی به دلایل آشکار معروف به غربال کردن) از روشهایی کاملاً پیچیده استفاده می‌کنند. در  $1974$ ، ریاضیدانهای دانشگاه کالیفرنیا در برکلی  $SRS - 181$ ، ابزار الکترونیکی به طور اختصاصی طرح شده‌ای را برای غربال کردن اعداد ساختند، که می‌توانست در هر ثانیه  $20$  میلیون عدد را بررسی کند.

### عددهای فرما

$n$ مین عدد فرما<sup>۲</sup> با رساندن  $2$  به توان  $n$ ، سپس با رساندن  $2$  به توان این عدد و افزودن  $1$  به نتیجه، حاصل می‌شود، یعنی،

$$F_n = 2^{2^n} + 1$$

به این ترتیب  $F_0 = 3$ ،  $F_1 = 5$ ،  $F_2 = 17$ ،  $F_3 = 257$ ، و  $F_4 = 65537$  (هم‌اکنون نمو سریع این اعداد نظر به کاربرد مکرر تابع نمایی مربوطه آشکار شده است)

$$F_4 = 2^{16} + 1 = 65537$$

علت توجه به این اعداد ادعایی است که توسط فرما در نامه‌ای که به مرسن در  $1640$  نوشته شده، انجام گرفته است. فرما، با توجه به این که هر یک از اعداد  $F_0$  تا  $F_4$  اول است چنین نوشته است: «دریافته‌ام اعداد به صورت  $2^{2^n} + 1$  همواره عددهایی اول اند» و از آن زمان به بعد صدق این قضیه برای تحلیلگران دارای اهمیت شده است. این موضوع باید به عنوان

توسط اوایلر به اثبات رسید. وی یک عامل اول آن، یعنی ۶۴۱، را نیز محاسبه کرد. مرکب بودن  $F_6$  در ۱۸۸۰ توسط لندری ثابت شد، و بار دیگر عاملی اول به دست آمد:  $F_7 = 274177$ . ماجرای دیگرگونه داشت. مرکب بودن آن در ۱۹۰۵ توسط مورهد و وسترن<sup>۱</sup> به اثبات رسید، اما تجزیه آن تا سال ۱۹۷۱ زمانی که بریلهارت<sup>۲</sup> و موریسون<sup>۳</sup> (مجهز با کامپیوتر IBM.360-91) تجزیه زیر را به دست آوردند میسر نشد

$$F_7 = 2^{128} + 1$$

$$= 340 \ 282 \ 366 \ 920 \ 938 \ 463 \ 463 \ 374 \ 607$$

$$431 \ 768 \ 211 \ 457$$

$$= 59 \ 649 \ 589 \ 127 \ 497 \ 217 \times 5 \ 704 \ 689$$

$$200 \ 685 \ 129 \ 054 \ 721$$

آنها برای انجام این کار از روشی استفاده کردند که مدتها قبل توسط لمر و یاورز<sup>۴</sup> مطرح و شامل کسرهای مسلسل بود. محاسبه ده ساعت و نیم طول کشید. نمونه‌های اصلاح شده روش کسر مسلسل<sup>۵</sup> (آن طور که امروزه نامیده می‌شود) بعضی از روشهای تجزیه اخیراً در دسترس را به دست می‌دهند.

دو نفری که در ۱۹۰۵ مرکب بودن  $F_7$  را نشان دادند، یعنی مورهد و وسترن، مرکب بودن  $F_8$  را نیز در ۱۹۰۹ پیدا کردند. و تنها در ۱۹۸۱ بود که برنت<sup>۶</sup> و پولار<sup>۷</sup> تجزیه آن را یافتند. محاسبه این کار دو ساعت بر کامپیوتر یونیواک<sup>۸</sup> ۱۱۰۰/۲ طول کشید. روش محاسبه، که توسط خود پولار اختراع شده بود، در آن زمان از این لحاظ غیر معمول بود که، برخلاف اغلب روشهای ریاضیات، به دست دادن نتیجه را تضمین نمی‌کرد، و تنها چیزی که می‌توانست از ریاضیات زمینه آن به دست آید این بود که اگر محاسبه مشخصی انجام می‌گرفت، در این صورت احتمال بسیار وجود داشت که تجزیه عدد طی طول معقولی از زمان به دست آید، اما امکان اندکی هم وجود داشت که این واقعه اتفاق نیفتد. بنابراین روش مزبور شبیه تقسیم آزمایشی نبود، که در آن شانس به دست آوردن پاسخ طی یک میلیارد سال اندک است. و گرچه همچنان عنصری از تصادف در روش پولار وجود دارد اما هوشمندانه بودن آن در این است که در آن شانس به مقدار زیادی به نفع تجزیه شدن

اخطاری به تمام کسانی باشد که بر مبنای مبالغ اندکی از اطلاعات به نتیجه‌گیری می‌پردازند. فرما با تمام تواناییهایش در مورد اعداد، در این اظهار به خطا رفته بود. این مطلب اولین بار به طور قاطع توسط لئونهارد اوایلر<sup>۹</sup> ریاضیدان بزرگ سوئیس در ۱۷۳۲ نشان داده شد:  $F_5 = 4294967297$  اول نیست. شگفت اینجاست که گرچه اوایلر این نتیجه را با استفاده از تقسیم آزمایشی به دست آورد. نتیجه‌ای مستقیم با استفاده از خود آزمون فرما موجود است که غیر اول بودن  $F_5$  را مبرهن می‌کند. به یاد بیاورید که آزمون مزبور بر این است که اگر  $P$  اول باشد در این صورت  $3^{P-1} \bmod P = 1$ ، اما در مورد  $P = F_5$  به دست می‌آوریم

$$3^{P-1} \bmod P = 3029026160$$

بنابراین  $F_5$  نمی‌تواند اول باشد.

کارهای بعدی نشان داده که فرما تا چه حد به خطا بوده است. اکنون می‌دانیم  $F_n$  به ازای جمیع مقادیر  $n$  از ۵ تا ۱۶، نیز به ازای مقادیر گوناگون دیگر، مرکب است، و حدس فعلی این است که  $F_n$  به ازای جمیع مقادیر  $n$  بزرگتر از ۴ مرکب است.


اعداد فرما مثالی دیگر از عددهایی را به دست می‌دهند که صورت خاص آنها آزمون اول بودنشان را به طریقی کارا امکانپذیر می‌کند - یکی از روشهای معروف در این مورد قضیه بروث<sup>۱۰</sup> است: عدد فرمای  $F_n$  اول است اگر، و تنها اگر

$$\frac{(F_n - 1)}{3} \bmod F_n = -1$$


این دستاورد آزمون بسیار کارایی برای اول بودن اعداد فرما به دست می‌دهد. (این آزمون، همانگونه که ممکن است حدس زده باشید، رابطه تنگاتنگی با آزمون فرمای قبلاً بحث شده دارد.) اما علاقه ما در این مرحله به آزمون اول بودن اعداد فرما نیست، بلکه به تجزیه اعدادی است که مرکب بودنشان مشخص است، زیرا در این زمینه است که در سالهای اخیر گسترشهای قابل توجهی انجام گرفته است، گسترشهایی که بدون کاربردهایی خارج از قلمرو ریاضیات نیستند. (بعداً بخش مربوط به رمزهای محرمانه را در این فصل ملاحظه کنید.)

همانطور که قبلاً توجه کردیم مرکب بودن عدد فرمای  $F_5$

- 15- Univac  
16- Mont Carlo methods  
17- Karl Friedrich Gauss



دو توده شن داریم. دو بازیکن به نوبت (۱) یکی از توده‌ها را از محل بازی برمی‌دارد و (۲) توده باقی‌مانده را به دو توده تقسیم می‌کند. بازیکنی که نتواند توده‌ای را تقسیم کند (زیرا توده مزبور تنها یک شن دارد) می‌بازد.



جواب در صفحه ۸۸

است.

در سالهای اخیر تعدادی از روشهای موسوم به روشهای مونت کارلو<sup>۱۱</sup>، از قبیل روش تجزیه پولار موجود شده‌اند که ایقان یک نتیجه را با احتمال بالای نتیجه‌ای در زمانی بسیار کمتر تعویض کرده‌اند.

دو عامل اول  $F_8$  (که دارای ۷۸ رقم است) عبارت‌اند از  
۱ ۲۳۸ ۹۲۶ ۳۶۱ ۵۵۲ ۸۹۷

و  
۹۳ ۴۶۱ ۶۳۹ ۷۱۵ ۳۵۷ ۹۷۷ ۷۶۹ ۱۶۳ ۵۵۸  
۱۹۹ ۶۰۶ ۸۹۶ ۵۸۴ ۰ ۵۱ ۲۳۷ ۵۴۱ ۶۳۸  
۱۸۸ ۵۸۰ ۲۸۰ ۳۲۱

از هنگام نوشتن  $F_9$  کسی توانایی تجزیه آن را نداشته است. شاید کارل فردریش گاوس<sup>۱۷</sup>، در صورتی که زنده بود، اکنون که کامپیوترهای سریع در دسترس‌اند، می‌توانست در این مورد کمک کند. وی محققاً شگفت‌آورترین نتیجه‌ها را در مورد اعداد فرما به دست داد، یعنی نتیجه‌ای که آنها را به مسأله‌ای کلاسیک از هندسه یونان متصل می‌کند، این دست‌آورد، همان‌گونه که بسیاری از کشفیات گاوس، شایستگی ورودی استثنائی به یکی از حیرت‌انگیزترین ذهنهای ریاضی‌ای را برپا برد که دنیا تاکنون شناخته است.

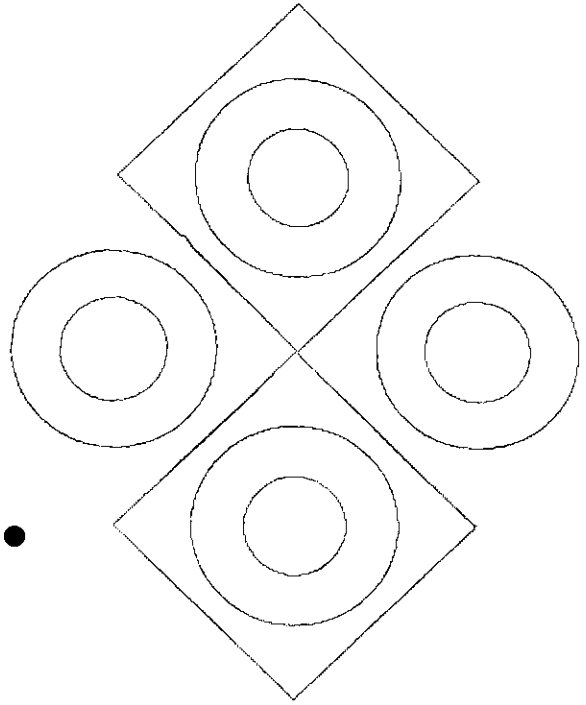
یادداشتها:

- 1- Fredrick Nelson Cole
- 2- On the factorization of large numbers
- 3- Fermat numbers
- 4- Leonhard Euler
- 5- Proth's theorem
- 6- Landry
- 7- Morehead
- 8- Western
- 9- Brillhart
- 10- Morrison
- 11- Powers
- 12- Continued fraction method
- 13- Brent
- 14- Pollard

# اصل ردّ و شمول

(قابل استفاده دانش آموزان دوره پیش دانشگاهی رشته ریاضی)

- امیر منصور خانمحمد و امیر فرزاد از دبیرستان سروش
- ترجمه از کتاب ریاضیات گسسته گریمالدی



## اصل ردّ و شمول

اصل ردّ و شمول بازگشتی به قوانین اساسی شمارش است. هدف از آن توسعه روشهای شمارش در مورد مسائل حل شده توسط نمودار «ون» است. به عنوان مثال یکی از کاربردهای این اصل شمارش تعداد توابع تعریف شده از  $A$  به  $B$  است  $(f: A \rightarrow B)$  به شرط آن که  $N(A) = m$  و  $N(B) = n$  و  $m \geq n$  باشد. از کاربردهای اساسی این اصل حل مسائل مختلف شمارش پرورش غیرمستقیم است.

## بخش اول

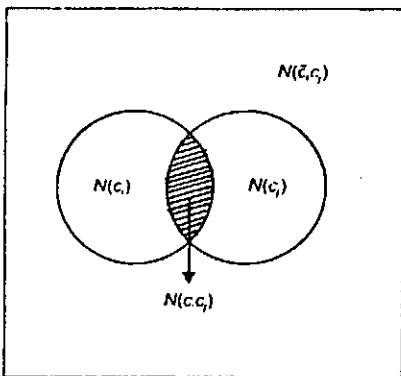
### صورت اصل ردّ و شمول

در این قسمت ما نگاهی جدیدی را تعریف کرده، سپس به خود اصل می پردازیم و در ادامه با بیان مثالهایی آن را توضیح می دهیم. فرض کنید  $S$  مجموعه ای باشد که  $N(S) = m$  و  $C_1, C_2, \dots, C_k$  زیرمجموعه های آن باشند؛ مشخص است که بعضی از آنها بیش از یک عضو دارند.

بدیهی است که  $N(C_1 \cap C_2 \cap \dots \cap C_k)$  تعداد عضوهای  $S$  هستند، که در هیچک از زیرمجموعه های  $C_1, C_2, \dots, C_k$  شرکت ندارند. لازم به تذکر است که این با  $N(C_1 \cap C_2 \cap \dots \cap C_k)'$  متفاوت است.

با توجه به شکل زیر اگر  $N(C_i)$  تعداد اعضای مجموعه سمت چپ و  $N(C_j)$  تعداد اعضای مجموعه سمت راست باشد، محدوده هاشور خورده  $N(C_i \cap C_j)$  خواهد بود (نمودار ون). با توجه به شکل زیر  $N(C_i \cap C_j)$  به این صورت محاسبه می گردد:

$$N(C_i \cap C_j) = N(S) - [N(C_i) + N(C_j)] + N(C_i \cap C_j)$$



(شکل ۱)

(قسمت هاشور خورده در داخل کروشه دو بار کم شده که یک بار آن را اضافه می کنیم).

حالت سه تایی مثال فوق نیز صادق است:

$$N(C_i \cap C_j \cap C_k) = N(S) - [N(C_i) + N(C_j) + N(C_k)] +$$

$$\begin{aligned}
 & + \dots + (-1)^t N(C_1 \cap C_2 \cap C_3 \cap \dots \cap C_t) \\
 \Rightarrow N' &= N(S) - \sum_{i=1}^t N(C_i) + \sum_{1 \leq i < j \leq t} N(C_i \cap C_j) - \\
 & \sum_{1 \leq i < j < k \leq t} N(C_i \cap C_j \cap C_k) + \dots + \\
 & (-1)^t N(C_1 \cap C_2 \cap \dots \cap C_t)
 \end{aligned}$$

اثبات:

عضو دلخواه  $x$  از مجموعه  $S$  را در نظر می‌گیریم:  
 الف) یا این عضو در هیچیک از زیر مجموعه‌ها حضور ندارد؛ در این صورت در سمت چپ تساوی یکبار شمرده می‌شود و در سمت راست نیز فقط یکبار شمرده می‌شود که آن در  $N(S)$  است.

ب) و یا اینکه عضو  $x$  در  $r$  تا از این زیر مجموعه‌ها حضور دارد ( $1 \leq r \leq t$ )؛ با توجه به این مطلب این عضو در طرف راست تساوی:

(۱) یکبار در  $N(S)$  شمرده می‌شود.

(۲)  $r$  بار در  $\sum_{1 \leq i \leq t} N(C_i)$  شمرده می‌شود.

(۳)  $\binom{r}{2}$  بار در  $\sum_{1 \leq i < j \leq t} N(C_i \cap C_j)$  شمرده می‌شود.

⋮

$\binom{r}{r}$  بار در  $\sum_{1 \leq i_1 < i_2 < \dots < i_r \leq t} N(C_{i_1} \cap C_{i_2} \cap \dots \cap C_{i_r})$  شمرده می‌شود.

پس تعداد دفعات شمارش عضو  $x$  در طرف راست تساوی برابر است با:

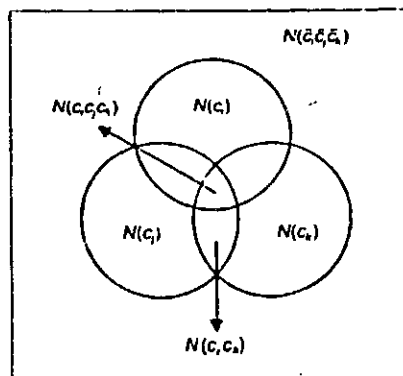
$$1 - r + \binom{r}{2} - \binom{r}{3} + \dots + (-1)^r \binom{r}{r} = [1 + (-1)]^r = 0^r = 0$$

که این صحت اصل را تأیید می‌کند، زیرا این عضو در طرف راست تساوی نیز صفر بار شمرده می‌شود؛ چرا که ما به دنبال اعضای هستیم که اشتراک متمم زیرمجموعه‌ها را برآورده سازند.

نتیجه ۱:

طبق فرض قضیه ۱ نتیجه می‌شود که  $N - N'$  مشخص-کننده تعداد عضوهای است که حداقل در یکی از  $C_i$  ها شرکت

$$\begin{aligned}
 & [N(C_i \cap C_k) + N(C_i \cap C_j) + N(C_j \cap C_k)] - \\
 & N(C_i \cap C_j \cap C_k)
 \end{aligned}$$



(شکل ۲)

قسمتهای مشترک بین دو مجموعه در گروه اول هر کدام دوبار کم شده‌اند، که در گروه دوم این موضوع جبران شده است؛ قسمت مشترک بین هر سه مجموعه سه بار در گروه اول کم شده و سه بار در گروه دوم اضافه شده لذا باید یکبار کم شود.  
 حال به کمک حالت‌های دوتایی و سه‌تایی به بیان اصل می‌پردازیم.

قضیه یک:

یک مجموعه  $n$  عضوی با زیرمجموعه‌های  $C_i$  ( $1 \leq i \leq t$ ) را در نظر بگیرید. تعداد اعضای از این مجموعه  $n$  عضوی ( $S$ ) که در هیچیک از  $C_i$  ها حضور ندارند به صورت زیر نمایش داده می‌شوند:

$$N' = N(C_1' \cap C_2' \cap C_3' \cap \dots \cap C_t') =$$

قضیه رد و شمول بیان می‌دارد:

$$\begin{aligned}
 N' &= N(C_1' \cap C_2' \cap C_3' \cap \dots \cap C_t') = \\
 & N(S) - [N(C_1) + N(C_2) + \dots + N(C_t)] \\
 & + [N(C_1 \cap C_2) + N(C_1 \cap C_3) + \dots + N(C_1 \cap C_t)] + \\
 & N(C_2 \cap C_3) + \dots + N(C_{t-1} \cap C_t) \\
 & - [N(C_1 \cap C_2 \cap C_3) + N(C_1 \cap C_2 \cap C_4) + \dots + \\
 & N(C_{t-2} \cap C_{t-1} \cap C_t)]
 \end{aligned}$$



با بکار بردن اصل ردّ و شمول به دست می‌آید :

$$\begin{aligned} N(C_1 \cap C_2 \cap C_3) &= S_1 - S_2 + S_3 - S_4 \\ &= N(S) - [N(C_1) + N(C_2) + N(C_3)] + \\ &\quad [N(C_1 \cap C_2) + N(C_1 \cap C_3) + N(C_2 \cap C_3)] - \\ &\quad N(C_1 \cap C_2 \cap C_3) \end{aligned}$$

$$= 100 - [50 + 32 + 20] + [16 + 10 + 6] - 3 = 26$$

که این ۲۶ عدد عبارتند از :

$$\begin{aligned} & 41 \quad 27 \quad 21 \quad 29 \quad 23 \quad 19 \quad 17 \quad 13 \quad 7 \quad 1 \\ & 77 \quad 73 \quad 71 \quad 67 \quad 61 \quad 59 \quad 53 \quad 49 \quad 47 \quad 43 \quad 41 \\ & \quad \quad \quad 97 \quad 91 \quad 89 \quad 83 \quad 79 \quad \quad \quad \end{aligned}$$

مثال ۲:

با استفاده از ترکیب با تکرار می‌توانیم تعداد جوابهای صحیح غیرمنفی معادله  $x_1 + x_2 + x_3 + x_4 = 18$  را بیابیم. در اینجا مسأله را طور دیگری مطرح می‌کنیم و برای آن شرط  $x_i \leq 7$  ( $1 \leq i \leq 4$ ) را قرار می‌دهیم. در اینجا  $N(S)$  بر طبق آنچه از مسائل ترکیب با تکرار می‌دانیم برابر است با :

$$N(S) = \binom{4+18-1}{18} = \binom{21}{18}$$

باز هم برای بکارگیری اصل ردّ و شمول چهار زیرمجموعه تعریف می‌کنیم :

زیرمجموعه  $C_i$  ( $1 \leq i \leq 4$ ) در بردارند کلیه جوابهای معادله فوق است وقتی که  $x_i > 7$  یا آنکه  $x_i \geq 8$  باشد. واضح است که جواب مسأله فوق با شرط اضافه شده عبارتست از :

$$N(C_1 \cap C_2 \cap C_3 \cap C_4)$$

اما در این مثال  $N(C_1) = N(C_2) = N(C_3) = N(C_4)$  می‌باشد. بدیهی است که برای شمارش  $N(C_1)$  باید جوابهای معادله  $y_1 + x_2 + x_3 + x_4 = 10$  ( $x_1 = y_1 + 8 \Rightarrow y_1 \geq 0$ ) را بیابیم؛ که طبق توضیح داده شده در این معادله :

$$y_1, x_2, x_3, x_4 \geq 0$$

دارند یعنی :

$$N(C_1 \cup C_2 \cup \dots \cup C_t) = N - N'$$

قبل از حل چند مثال در این باب تعریف می‌کنیم :

$$S_1 = N(S)$$

$$S_1 = [N(C_1) + N(C_2) + \dots + N(C_t)]$$

$$S_2 = [N(C_1 \cap C_2) + N(C_1 \cap C_3) + \dots + N(C_1 \cap C_t) + N(C_2 \cap C_3) + \dots + N(C_{t-1} \cap C_t)]$$

که در حالت کلی داریم :

$$S_k = \sum_{1 \leq k \leq t} N(C_{i_1} \cap C_{i_2} \cap \dots \cap C_{i_k})$$

لازم به تذکر است تعداد جمله‌هایی، که در  $S_k$  با یکدیگر جمع می‌شوند.  $\binom{t}{k}$  است.

مثال ۱:

تعداد اعداد صحیح و مثبت را که بر ۲ و ۳ و ۵ بخش‌پذیر نیستند معین کنید. ( $1 \leq n \leq 100$ )

در اینجا  $S = \{1, 2, 3, \dots, 100\}$  و  $N(S) = 100$  است. برای حل سه زیرمجموعه در  $S$  تعریف می‌کنیم :

الف -  $C_1$  : اعدادی که بر ۲ بخش‌پذیرند.

ب -  $C_2$  : اعدادی که بر ۳ بخش‌پذیرند.

ج -  $C_3$  : اعدادی که بر ۵ بخش‌پذیرند.

بدیهی است که جواب مسأله  $N(C_1 \cap C_2 \cap C_3)$  است.

برای حل این مسأله از تابع جزء صحیح کمک می‌گیریم :

$$N(C_1) = \left[ \frac{100}{2} \right] = 50$$

$$N(C_2) = \left[ \frac{100}{3} \right] = 33$$

$$N(C_3) = \left[ \frac{100}{5} \right] = 20$$

$$N(C_1 \cap C_2) = \left[ \frac{100}{6} \right] = 16$$

$$N(C_1 \cap C_3) = \left[ \frac{100}{10} \right] = 10$$

$$N(C_2 \cap C_3) = \left[ \frac{100}{15} \right] = 6$$

$$N(C_1 \cap C_2 \cap C_3) = \left[ \frac{100}{30} \right] = 3$$

با استفاده از مطالب آنالیز ترکیبی در مبحث ترکیب با تکرار:

$$N(C_i) = \binom{4+10-1}{10} = \binom{13}{10} \quad 1 \leq i \leq 4$$

$$\Rightarrow S_1 = \binom{4}{1} \binom{13}{10}$$

به همین ترتیب  $N(C_1 \cap C_2)$  برابر است با تعداد جوابهای معادله  $y_1 + y_2 + x_3 + x_4 = 2$  که برابر است با:

$$N(C_i \cap C_j) = \binom{5}{2} \Rightarrow S_2 = \binom{5}{2} \binom{4}{2}$$

در حالت  $N(C_1 \cap C_2 \cap C_3)$  ما به دنبال جوابهای معادله  $y_1 + y_2 + y_3 + x_4 = -6$  هستیم، که نتیجه روشن است؛ این معادله جواب ندارد لذا:

$$N(C'_1 \cap C'_2 \cap C'_3 \cap C'_4) = N(S) - S_1 + S_2 - S_3 + S_4 =$$

$$\binom{21}{18} - \binom{4}{1} \binom{13}{10} + \binom{4}{2} \binom{5}{2} - 0 + 0 = 246$$

بنابراین از بین  $1330$  عدد مثبتی که جواب معادله  $x_1 + x_2 + x_3 + x_4 = 18$  هستند فقط  $246$  تا از آنها هستند، که شرط  $x_i \leq 7 (1 \leq i \leq 4)$  را برآورده می‌سازند.

مثال ۳: یافتن تعداد توابع پوشا

مجموعه  $A$  و  $B$  را در نظر می‌گیریم. مجموعه  $S$  را تمام توابع تعریف شده از  $A$  در  $B$  می‌نامیم. و داریم  $N(S) = n^m$  زیرا از هر یک از عناصر دامنه می‌توان  $n$  فلش به سوی عناصر برد خارج نمود و چون عناصر دامنه  $m$  تا هستند بنا به اصل ضرب تعداد توابع تعریف شده از  $A$  در  $B$ ،  $n^m$  خواهد بود.

$$A = \{a_1, a_2, \dots, a_m\}$$

$$B = \{b_1, b_2, \dots, b_n\} \quad (m \geq n)$$

باز هم برای بکارگیری اصل رد و شمول زیر مجموعه‌هایی تعریف می‌کنیم. بازای هر  $1 \leq i \leq n$  زیرمجموعه  $C_i$  از  $S$  را تعریف می‌کنیم بعنوان توابعی که در آن  $b_i$  بعنوان برد تابع تعریف نشده است. بدیهی است که  $N(C'_i)$  تعداد توابعی است که از  $A$  در  $B$  تعریف شده‌اند و  $b_i$  برد آنها است و در حالت کلی تعداد

$f: A \rightarrow B$  برابر خواهد شد با:

$$N(C'_1 \cap C'_2 \cap C'_3 \cap \dots \cap C'_n)$$

برای هر  $1 \leq i \leq n$  واضح است که  $N(C_i)$  برابر خواهد شد با  $(n-1)^m$  چرا که تمام اعضای  $B$  به جز  $b_i$  می‌توانند در برد تابع شرکت جویند؛ با توجه به اینکه  $n$  عضو داریم پس  $S_1$  بصورت زیر محاسبه می‌شود:

$$S_1 = [N(C_1) + N(C_2) + \dots + N(C_n)] =$$

$$n(n-1)^m = \binom{n}{1} (n-1)^m$$

در حالتی دوتایی هم دو عضو  $b_i$  و  $b_j$  نمی‌توانند در برد متقابل شرکت کنند پس داریم:

$$S_2 = [N(C_1 \cap C_2) + N(C_1 \cap C_3) + \dots +$$

$$N(C_1 \cap C_n) + \dots + N(C_{n-1} \cap C_n)] = \binom{n}{2} (n-2)^m$$

در حالت کلی بازای هر  $k$  و  $(1 \leq k \leq n)$  داریم:

$$S_k = \sum_{1 \leq i_1 < i_2 < \dots < i_k \leq n} N(C_{i_1} \cap C_{i_2} \cap \dots \cap C_{i_k}) =$$

$$\binom{n}{k} (n-k)^m$$

پس بنا به اصل رد و شمول داریم:

$$N(C'_1 \cap C'_2 \cap \dots \cap C'_n) = N - S_1 + S_2 - S_3 + \dots +$$

$$(-1)^n S_n$$

$$= n^m - \binom{n}{1} (n-1)^m + \binom{n}{2} (n-2)^m -$$

$$\binom{n}{3} (n-3)^m + \dots + (-1)^n (n-n)^m$$

$$= \sum_{i=0}^n (-1)^i \binom{n}{i} (n-i)^m = \sum_{i=0}^n (-1)^i \binom{n}{n-i} (n-i)^m$$

مثال ۴:

به چند حالت  $26$  حرف الفبای انگلیسی می‌توانند مرتب شوند، به طوری که در این ترتیبها هیچ یک از کلمات زیر درست نشوند.

Car, dog, pun, byte

$C_i (1 \leq i \leq 4)$  را مجموعه‌ای تعریف می‌کنیم که در آن این کلمات کنار هم تشکیل شوند. به عنوان مثال  $C_1$  یعنی ترکیباتی که کلمه Car در آن ساخته شود. در واقع اگر  $S$  را مجموعه کلیه

چهار عامل اول تجزیه می‌گردد، به دست می‌آوریم؛ واضح است که در حالت کلی روش همین خواهد بود.

$$(m = P_1^{a_1} P_2^{a_2} \dots P_r^{a_r})$$

مجموعه  $S = \{1, 2, 3, \dots, m\}$  را در نظر می‌گیریم، بازای  $1 \leq i \leq r$  زیرمجموعه  $C_i$  شامل اعضای  $S$  است که بر  $P_i$  بخش‌پذیرند؛ بنابراین طبق تعریف تابع  $\varphi$  اولر خواهیم داشت:

$$\varphi(m) = N(C_1' \cap C_2' \cap C_3' \cap C_4')$$

برای به دست آوردن اعضای مجموعه  $C_i$  کافیست، که  $m$  را بر عامل اول  $P_i$  تقسیم نمایم و همچنین برای به دست آوردن تعداد اعضای مجموعه  $C_i \cap C_j$  نیز کافیست  $m$  را بر عاملهای اول  $P_i$  و  $P_j$  توأمأ تقسیم نمایم و این برای بقیه ادامه می‌یابد:

$$N(C_i \cap C_j \cap C_k) = \frac{m}{P_i P_j P_k} \quad (1 \leq i < j < k \leq r),$$

$$N(C_1 \cap C_2 \cap C_3 \cap C_4) = \frac{m}{P_1 P_2 P_3 P_4}$$

$$\rightarrow \varphi(m) = S_0 - S_1 + S_2 - S_3 + S_4$$

$$= m - \left[ \frac{m}{P_1} + \frac{m}{P_2} + \frac{m}{P_3} + \frac{m}{P_4} \right] + \left[ \frac{m}{P_1 P_2} + \frac{m}{P_1 P_3} + \dots + \right.$$

$$\left. \frac{m}{P_2 P_3} \right] - \left[ \frac{m}{P_1 P_2 P_3} + \dots + \frac{m}{P_2 P_3 P_4} \right] + \frac{m}{P_1 P_2 P_3 P_4}$$

$$= m \left[ 1 - \left( \frac{1}{P_1} + \dots + \frac{1}{P_4} \right) + \left( \frac{1}{P_1 P_2} + \frac{1}{P_1 P_3} + \dots + \frac{1}{P_2 P_3} \right) - \right.$$

$$\left. \left( \frac{1}{P_1 P_2 P_3} + \dots + \frac{1}{P_2 P_3 P_4} \right) + \frac{1}{P_1 P_2 P_3 P_4} \right]$$

$$= \frac{m}{P_1 P_2 P_3 P_4} [(P_1 - 1)(P_2 - 1)(P_3 - 1)(P_4 - 1)]$$

$$= m \left( \frac{P_1 - 1}{P_1} \right) \left( \frac{P_2 - 1}{P_2} \right) \left( \frac{P_3 - 1}{P_3} \right) \left( \frac{P_4 - 1}{P_4} \right) =$$

$$m \prod_{i=1}^r \left( 1 - \frac{1}{P_i} \right)$$

با توجه به این مثال  $\varphi(n)$  در حالت کلی بشکل زیر محاسبه می‌گردد:

$$\varphi(n) = n \prod_{i=1}^r \left( 1 - \frac{1}{P_i} \right)$$

برای مثال عدد  $23100$  را در نظر می‌گیریم. داریم:

$$\varphi(23100) = \varphi(2^2 \times 3 \times 5^2 \times 7 \times 11) =$$

$$(23100) \left( 1 - \frac{1}{2} \right) \left( 1 - \frac{1}{3} \right) \left( 1 - \frac{1}{5} \right) \left( 1 - \frac{1}{7} \right) \left( 1 - \frac{1}{11} \right) = 4800$$

ترتیبهای ۲۶ حرف بگیریم، هر کدام از مجموعه‌های  $C_i$  یک زیرمجموعه از  $S$  هستند. برای شمردن اعضای هر یک از  $C_i$  ها هر یک از کلمات مطلوب را یک حرف فرض می‌کنیم. در نتیجه خواهیم داشت:

$$N(S) = 26!$$

$$N(C_1) = N(C_2) = N(C_3) = 24! \quad N(C_4) = 23!$$

$$N(C_1 \cap C_2) = N(C_1 \cap C_3) = N(C_2 \cap C_3) = 22!$$

$$N(C_i \cap C_j) = 21! \quad (i \neq j)$$

$$N(C_1 \cap C_2 \cap C_3) = 20! \quad N(C_i \cap C_j \cap C_k) = 19!$$

$$(1 \leq i < j < k \leq 3) \quad N(C_1 \cap C_2 \cap C_3 \cap C_4) = 17!$$

با توجه به اصل ردّ و شمول تعداد ترتیبهای مطلوب برابر خواهد بود با:

$$N(C_1' \cap C_2' \cap C_3' \cap C_4') = 26! - [2(24!) + 23!] +$$

$$[2(22!) + 3(21!)] - [20! + 3(19!)] + 17!$$

مثال بعدی در مورد نظریه اعداد است. در این مثال تابع

فی اولر معرفی و ساخته می‌شود.

### مثال ۵:

عدد صحیح و مثبت  $n$  را در نظر می‌گیریم. تابع  $\varphi(n)$  را به این صورت تعریف می‌نمائیم، که تعداد اعداد کوچکتر از  $n$  را به ما بدهد که نسبت به  $n$  اول هستند. واضح است که اگر  $m$  یکی از این اعداد باشد  $1 \leq m \leq n$  می‌باشد. این تابع به تابع «فی اولر» مشهور است. برای مثال:

$$\varphi(2) = 1, \quad \varphi(3) = 2, \quad \varphi(4) = 2,$$

$$\varphi(5) = 4, \quad \varphi(6) = 2$$

بدیهی است که برای هر عدد اول مثل  $P$ :  $\varphi(P) = P - 1$

زیرا کلیه اعداد کوچکتر از عدد اول  $P$  نسبت به آن اول هستند.

ما به دنبال آن هستیم، که رابطه‌ای بین  $n$  و  $\varphi(n)$  بیابیم و یک

فرمول دقیق برای آن به دست آوریم. کاربرد اصل در این مثال

مانند مثال یک است. می‌دانیم هر عدد صحیح قابل تجزیه به

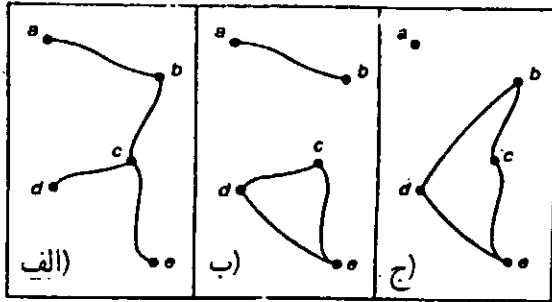
عوامل اول بصورت زیر است:

$$n = P_1^{a_1} P_2^{a_2} \dots P_t^{a_t} \quad (1 \leq i \leq t, a_i \geq 1)$$

ما این رابطه را در حالتی که عدد  $m$  حداکثر به حاصلضرب

مثال ۶:

یک مهندس تصمیم دارد بین ۵ دهکده راههایی ایجاد کند. به چند طریق او می تواند این کار را انجام دهد، به شرطی که در انتهای کار هیچ دهکده ای نباشد که به آن راهی وارد نشود؟ (ایزوله)



(شکل ۳)

برای درک بهتر این مثال به شکلهای زیر توجه کنید. شکلهای «الف» و «ب» مطلوب ما هستند ولی شکل «ج» مورد قبول ما نیست؛ چرا که دهکده a در آن ایزوله شده است.

برای حل این مثال مجموع تمام راههایی را که می توانیم بین این ۵ دهکده ایجاد نماییم با عنوان مجموعه S در نظر می گیریم. تعداد راههای موجود برابر با  $2^{10}$  است. توضیح اینکه بین هر دو دهکده راه واصل می تواند وجود داشته باشد و می تواند موجود نباشد، که با توجه به اصل ضرب و قانون ترکیب تعداد راهها به این صورت محاسبه می شود:

$$N(S) = 2^{\binom{5}{2}} = 2^{10}$$

زیرمجموعه های  $C_i (1 \leq i \leq 5)$  را در نظر می گیریم به طوری که هر یک از  $C_i$  ها مجموعه راههایی هستند، که در آنها یک دهکده ایزوله شده است. واضح است که جواب مسأله برابر است با:

$$N(C_1' \cap C_2' \cap C_3' \cap C_4' \cap C_5')$$

داریم:

$$N(C_1) = 2^6 \Rightarrow S_1 = \binom{5}{1} 2^6$$

$$N(C_1 \cap C_2) = 2^3 \Rightarrow S_2 = \binom{5}{2} 2^3$$

$$N(C_1 \cap C_2 \cap C_3) = 2^1 \Rightarrow S_3 = \binom{5}{3} 2^1$$

$$N(C_1 \cap C_2 \cap C_3 \cap C_4) = 2^0 \Rightarrow S_4 = \binom{5}{4} 2^0$$

$$N(C_1 \cap C_2 \cap C_3 \cap C_4 \cap C_5) = 2^0 \Rightarrow S_5 = \binom{5}{5} 2^0$$

طبق اصل رد و شمول:

$$N(C_1' \cap \dots \cap C_5') = 2^{10} - \binom{5}{1} 2^6 + \binom{5}{2} 2^3 -$$

$$\binom{5}{3} 2^1 + \binom{5}{4} 2^0 - \binom{5}{5} 2^0 = 768$$



تفریح اندیشه ۶

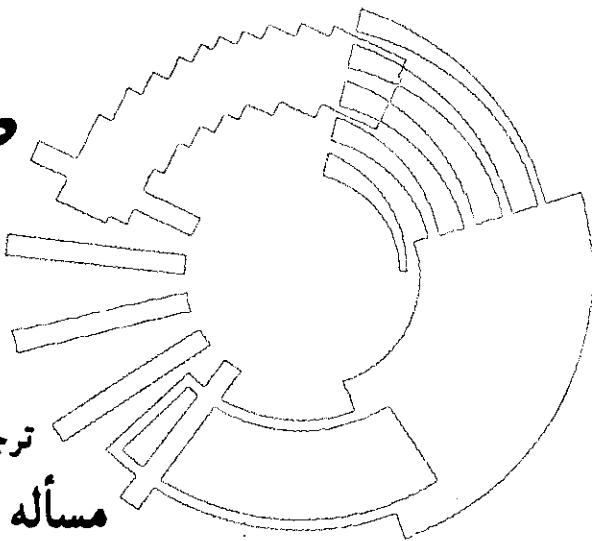
خطهای متقاطع

در صورتی که شش خط در تکه ای کاغذ چنان رسم شوند که هر خط هر خط دیگر را قطع کند و هیچ سه خطی در یک نقطه متقاطع نباشند چند مثلث تشکیل می شود؟  
تبصره: این معما توانایی خواننده را در شمارش روشدار امتحان می کند. در صورتی که در مورد آن عجلوانه عمل کنید، ممکن است گیج شوید.

# طرح و حل مسائل اساسی ریاضی به روشهای مقدماتی (۱۸)

از : 100 Great Problems of Elementary Mathematics

ترجمه: غلامرضا یاسی پور  
مسئله پرگار ماجرونی



نمی‌شود؛ از طرف دیگر  $S_k$  هر اندازه که بخواهیم به  $px_1$  نزدیک می‌شود.

به این ترتیب مجموع  $S_k$  به بینهایت میل کند، به ۱ میل می‌کند. مسئله این است:

$d_1, d_2, d_3, \dots, d_k$  جمله‌های سری عددی

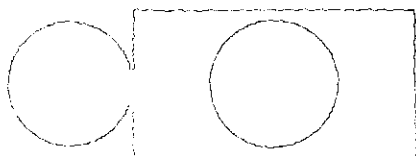
$$d_1 + d_2 + d_3 + \dots$$

را بیاید.

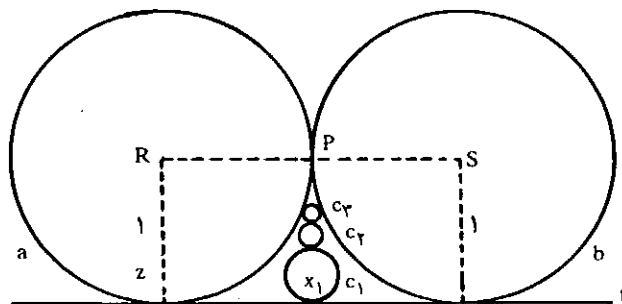
تبصره. اعداد  $d_1, d_2, d_3, d_4, \dots$  و مجموع آنان در مثلث همساز<sup>۲</sup>، الگویی<sup>۱</sup> عددی که توسط لایب‌نیتز<sup>۵</sup> بررسی شده است، مشمول‌اند.

یادداشتها:

1. Geometric constructions
2. Infinite number sequence
3. harmonic triangle
4. Number Pattern
5. Leibnitz



تکرار ترسیمات هندسی<sup>۱</sup> می‌تواند به تعدادی سری جالب منجر شود (شکل).



شکل، دو دایره<sup>۱</sup>  $a$  و  $b$  به شعاع ۱ مماس در نقطه  $P$  را نشان می‌دهد.  $t$  مماس مشترک این دو دایره است که با  $a$  در  $z$  و با  $b$  در  $x_1$  مماس است.  $c_1$  دایره‌ای مماس بر  $a$ ،  $b$  و  $t$  است؛  $c_2$  دایره‌ای مماس بر  $a$ ،  $b$  و  $c_1$  است؛  $c_3$  دایره‌ای مماس بر  $a$ ،  $b$  و  $c_2$  است و  $c_k$  است.

شیوه<sup>۲</sup> ترسیم دواير مماس بر  $a$ ،  $b$  و  $c_k$  و  $k = 1, 2, 3, \dots$  می‌تواند به طور پایان ناپذیر ادامه یابد.  $d_1, d_2, \dots$  قطرهای دواير  $c_1, c_2, \dots$  یک دنباله<sup>۳</sup> عددی نامتناهی<sup>۱</sup> تشکیل می‌دهند. مجموع  $S_k = d_1 + d_2 + \dots + d_k$  چون  $k$  افزایش یابد، بزرگتر می‌شود ( $d_1 < d_1 + d_2 < d_1 + d_2 + d_3 < \dots$ ). واضح است که  $S_k$  هیچگاه از  $px_1$ ، فاصله<sup>۴</sup>  $P$  از  $t$ ، که ۱ است، بیشتر

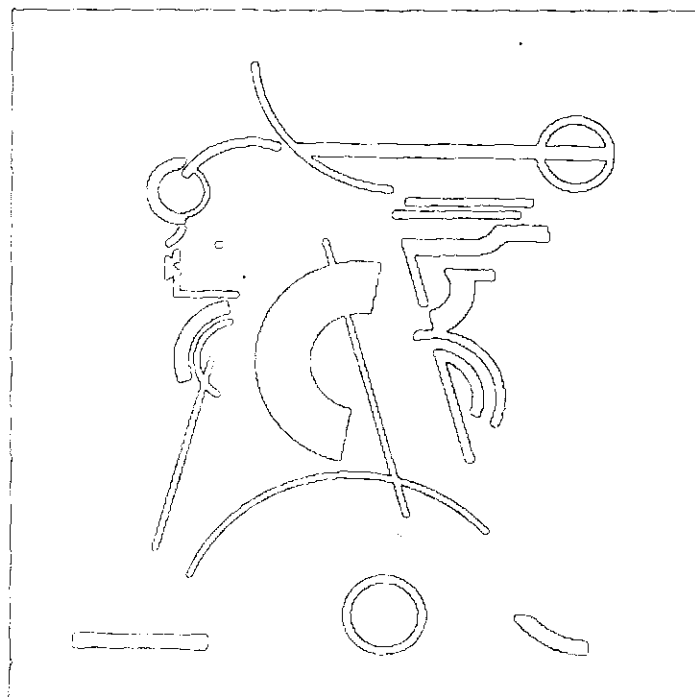
# ریاضیات گسسته

قسمت پنجم

## هم ارزی منطقی قوانین منطق

(سوّم ریاضی و پیش‌دانشگاهی)

ترجمه: غلامرضا یاسی پور



p	q	$\bar{p}$	$\bar{p} \vee q$	$p \rightarrow q$
۰	۰	۱	۱	۱
۰	۱	۱	۱	۱
۱	۰	۰	۰	۰
۱	۱	۰	۱	۱

◀ جدول ۱

ملاحظه می‌کنیم که ارزشهای راستی  $\bar{p} \vee q$  و  $p \rightarrow q$  دقیقاً یکسان‌اند. □

این وضعیت به تعریف زیر منجر می‌شود.

### تعریف ۱

به دو گزاره  $S_1$  و  $S_2$  منطقاً هم‌ارز می‌گوییم، و  $S_1 \Leftrightarrow S_2$  می‌نویسیم، اگر جدولهای ارزش  $S_1$  و  $S_2$  دقیقاً یکسان باشند.

به عنوان نتیجه‌ای از این مفهوم، ملاحظه می‌شود که می‌توانیم رابط استلزام را بر حسب نقیض و ترکیب فصلی بیان کنیم. به همین ترتیب، از نتیجه جدول ۲ داریم:

$$(p \Leftrightarrow q) \Leftrightarrow (p \rightarrow q) \wedge (q \rightarrow p)$$

با استفاده از هم‌ارزی منطقی جدول ۱، می‌توان

$$(p \Leftrightarrow q) \Leftrightarrow (\bar{p} \vee q) \wedge (\bar{q} \vee p)$$

را نیز نوشت. نتیجتاً، اگر چنین اختیار کنیم، می‌توانیم رابطهای  $\rightarrow$  و  $\Leftrightarrow$  را از گزاره‌های مرکب کنار بگذاریم.

با بررسی جدول ۳، درمی‌یابیم که نقیض، همراه با رابطهای

در جمیع زمینه‌های ریاضیات نیاز به دانستن این داریم که چه وقت موجودات مورد بررسیمان مساوی یا اساساً یکسانند، برای مثال، در حساب و جبر می‌دانیم که دو عدد حقیقی و ناصفر، زمانی که دارای یک مقدار و یک علامت باشند مساوی‌اند. در نتیجه، به ازای دو عدد حقیقی و ناصفر  $x, y$  اگر  $|x| = |y|$  و  $xy > 0$  داریم  $x = y$ ، و برعکس (یعنی، اگر  $x = y$ ، آنگاه  $|x| = |y|$  و  $xy > 0$ ). در هندسه، هنگام سروکار داشتن با مثلثها، مفهوم هم‌نهشتی رخ می‌دهد. در این جا مثلث ABC و مثلث DEF هم‌نهشت‌اند اگر، برای مثال، اضلاع نظیر مساوی داشته باشند - یعنی، طول ضلع AB = طول ضلع DE، طول ضلع BC = طول ضلع EF، و طول ضلع CA = طول ضلع FD.

به مطالعه منطقیمان غالباً به صورت جبر گزاره<sup>۱</sup> (در مقابل جبر اعداد حقیقی) اشاره می‌شود. در این جبر، برای مطرح کردن این منظور که چه زمانی دو گزاره اساساً یکسان‌اند، از جداول ارزش گزاره‌ها استفاده می‌کنیم. کارمان را با مثالی آغاز می‌کنیم.

### مثال ۱.

در جدول ۱ جداول ارزش گزاره‌های  $\bar{p} \vee q$  و  $p \rightarrow q$  را داریم. در این جدول

◀ جدول ۴

p	q	$p \wedge q$	$\overline{p \wedge q}$	$\overline{p} \vee \overline{q}$	$p \vee q$	$\overline{p \vee q}$	$\overline{\overline{p \wedge q}}$
۰	۰	۰	۱	۱	۰	۱	۱
۰	۱	۰	۱	۱	۱	۰	۰
۱	۰	۰	۱	۱	۱	۰	۰
۱	۱	۱	۰	۰	۱	۰	۰

۸ و ۷، کل مواردی است که برای جانشینی یای مانع<sup>۳</sup>،  $\vee$ ، به آنها نیاز داریم. در واقع، حتی می‌توان ۸ یا ۷ را حذف کرد. اما، به خاطر کاربردهای مورد بررسی، به ۸ و ۷ نیز نقیض نیاز مندیم.

◀ جدول ۲

p	q	$p \rightarrow q$	$q \rightarrow p$	$(p \rightarrow q) \wedge (q \rightarrow p)$	$p \leftrightarrow q$
۰	۰	۱	۱	۱	۱
۰	۱	۱	۰	۰	۰
۱	۰	۰	۱	۰	۰
۱	۱	۱	۱	۱	۱

در جدول ۴، جدولهای ارزش گزاره‌های  $\overline{p \vee q}$ ،  $\overline{p \wedge q}$ ،  $\overline{p \vee q}$  و  $\overline{\overline{p \wedge q}}$  ستونهای ۴ و ۵ جدول فوق آشکار می‌کنند که  $\overline{p \wedge q} \Leftrightarrow \overline{p \vee q}$ ؛ ستونهای ۷ و ۸ آن نشان می‌دهند که  $\overline{p \vee q} \Leftrightarrow \overline{\overline{p \wedge q}}$ . این نتایج به قوانین دومورگان<sup>۴</sup> معروف‌اند، و شبیه قانون آشنای اعداد حقیقی  $-(a+b) = (-a) + (-b)$

هستند که نشان می‌دهد منفی یک مجموع مساوی مجموع منفیهای جمعه‌وندهای آن است. اما، در این مورد تفاوتی قاطع ظاهر می‌شود: نقیض ترکیب عطفی دو گزاره<sup>۵</sup>  $p$ ،  $q$  به ترکیب فصلی نقیضه‌ایشان،  $\overline{p}$ ،  $\overline{q}$  منجر می‌شود، در حالی که نقیض ترکیب فصلی  $p$ ،  $q$  منطقیاً هم ارز ترکیب فصلی نقیضه‌های  $\overline{p}$ ،  $\overline{q}$  است. □

◀ جدول ۳

p	q	$p \vee q$	$(p \vee q)$	$(p \wedge q)$	$(p \vee q) \wedge (p \wedge q)$
۰	۰	۰	۰	۱	۰
۰	۱	۱	۱	۱	۱
۱	۰	۱	۱	۱	۱
۱	۱	۰	۱	۰	۰

در حساب اعداد حقیقی، اعمال جمع و ضرب هردو در اصل موسوم به قانون توزیع‌پذیری ضرب روی جمع، آمده‌اند؛ به ازای هر سه عدد حقیقی  $a, b, c$ ،

$$a \times (b + c) = (a \times b) + (a \times c)$$

مثال بعدی نشان می‌دهد که قانونی مشابه برای گزاره‌ها وجود دارد. قانون وابسته<sup>۶</sup> دومی نیز برای گزاره‌ها موجود است که مشابهی در حساب اعداد حقیقی ندارد.

مثال ۳.

جدول ۵ شامل جدولهای ارزش گزاره‌های  $p \wedge (q \vee r)$ ،

اکنون از مفهوم هم‌ارزی منطقی در بررسی بعضی از ویژگیهای مهمی که در جبر گزاره‌ها برقرارند استفاده می‌کنیم. به ازای هر دو عدد حقیقی  $a, b$ ، می‌دانیم که  $-(a+b) = (-a) + (-b)$ . آیا نتیجه قابل مقایسه‌ای برای گزاره‌های  $p, q$  موجود است؟  
مثال ۲.

◀ جدول ۵

p	q	r	$p \wedge (q \vee r)$	$(p \wedge q) \vee (p \wedge r)$	$p \vee (q \wedge r)$	$(p \vee q) \wedge (p \vee r)$
۰	۰	۰	۰	۰	۰	۰
۰	۰	۱	۰	۰	۰	۰
۰	۱	۰	۰	۰	۰	۰
۰	۱	۱	۰	۰	۱	۱
۱	۰	۰	۰	۰	۱	۱
۱	۰	۱	۱	۱	۱	۱
۱	۱	۰	۱	۱	۱	۱
۱	۱	۱	۱	۱	۱	۱

از این جدول نتیجه می‌شود که به ازای گزاره‌های دلخواه  $p, q$  و  $r$ ،

قانون توزیعپذیری  $\wedge$  روی  $\vee$

$$p \wedge (q \vee r) \Leftrightarrow (p \wedge q) \vee (p \wedge r)$$

قانون توزیعپذیری  $\vee$  روی  $\wedge$

$$\square p \vee (q \wedge r) \Leftrightarrow (p \vee q) \wedge (p \vee r)$$

قانون توزیعپذیری دوم مشابهی در حساب اعداد حقیقی ندارد. یعنی، راست نیست که به ازای جمیع اعداد حقیقی  $a, b, c$ ،

$$a + (b \times c) = (a + b) \times (a + c)$$

به عنوان نمونه، به ازای  $a=2, b=3, c=5$ ،  
 $a + (b \times c) = 17$  اما  $(a + b) \times (a + c) = 35$ .

پیش از ادامه مطلب، توجه می‌کنیم که، در حالت عمومی، اگر  $S_1$  و  $S_2$  دو گزاره باشند و  $S_1 \Leftrightarrow S_2$  صادق باشد، آنگاه  $S_1$  و  $S_2$  باید دارای جداول ارزش یکسان باشند و  $S_1 \Leftrightarrow S_2$  هنگامی که  $S_1$  و  $S_2$  گزاره‌هایی منطقیاً هم‌ارز باشند (یعنی،  $S_1 \Leftrightarrow S_2$ )، آنگاه گزاره مرکب  $S_1 \Leftrightarrow S_2$  صادق است. تحت این شرایط، این نیز راست است که  $\bar{S}_1 \Leftrightarrow \bar{S}_2$  و  $\bar{S}_1 \Leftrightarrow \bar{S}_2$  صادق است.

اگر  $S_1, S_2$  و  $S_3$  گزاره‌هایی باشند که در آنها  $S_1 \Leftrightarrow S_2$  و  $S_2 \Leftrightarrow S_3$ ، آنگاه  $S_1 \Leftrightarrow S_3$  هنگامی که دو گزاره  $S_1$  و  $S_2$  منطقیاً هم‌ارز نباشند، می‌توانیم برای مشخص کردن این وضعیت بنویسیم  $S_1 \not\Leftrightarrow S_2$ .

با استفاده از مفاهیم هم‌ارزی منطقی، صادق، و کاذب، فهرست قوانین زیر را برای جبر گزاره‌ها بیان می‌کنیم.

## قوانین منطق

به ازای هر گزاره  $p, q, r$

$$\bar{\bar{p}} \Leftrightarrow p \quad ۱ \quad \text{قانون نقیض دوگانه}^۵$$

$$\overline{p \vee q} \Leftrightarrow \bar{p} \wedge \bar{q} \quad ۲$$

$$\overline{p \wedge q} \Leftrightarrow \bar{p} \vee \bar{q}$$

قوانین دومورگان

$$۳ \quad p \vee q \Leftrightarrow q \vee p$$

قوانین تعویضپذیری<sup>۶</sup>

$$p \wedge q \Leftrightarrow q \wedge p$$

$$۴ \quad p \vee (q \vee r) \Leftrightarrow (p \vee q) \vee r$$

قوانین شرکتپذیری<sup>۷</sup>

$$p \wedge (q \wedge r) \Leftrightarrow (p \wedge q) \wedge r$$

$$۵ \quad p \vee (q \wedge r) \Leftrightarrow (p \vee q) \wedge (p \vee r)$$

قوانین توزیعپذیری<sup>۸</sup>

$$p \wedge (q \vee r) \Leftrightarrow (p \wedge q) \vee (p \wedge r)$$

$$۶ \quad p \vee p \Leftrightarrow p$$

قوانین خودنمایی<sup>۹</sup>

$$p \wedge p \Leftrightarrow p$$

$$۷ \quad p \vee F \Leftrightarrow p$$

قوانین همانی<sup>۱۰</sup>

$$p \wedge T \Leftrightarrow p$$

$$۸ \quad p \vee \bar{p} \Leftrightarrow T$$

قوانین تقابل<sup>۱۱</sup>

$$p \wedge \bar{p} \Leftrightarrow F$$

$$۹ \quad p \vee T \Leftrightarrow T$$

قوانین سلطه<sup>۱۲</sup>

$$p \wedge F \Leftrightarrow F$$

$$۱۰ \quad p \vee (p \wedge q) \Leftrightarrow p$$

قوانین جذب<sup>۱۳</sup>

$$p \wedge (p \vee q) \Leftrightarrow p$$

برای اثبات جمیع مطالب فوق، می‌توانیم، همانگونه که در مثالهای ۲ و ۳ انجام دادیم، جدولهای ارزش آنها را نوشته به مقایسه ارزشهای راستی هر حالت پردازیم. اما، جمیع قوانین فوق، غیر از قانون نقیض دوگانه، به طور طبیعی به صورت جفت رخ می‌دهد. این مطلب به مفهوم زیر دلالت می‌کند.

### تعریف ۲

اگر  $S$  گزاره‌ای (تنها شامل  $\neg, \wedge, \vee$ ) باشد، دوگان<sup>۱۴</sup>  $S$ ، به نمایش  $S^d$ ، گزاره‌ای است که با قراردادن  $\vee$  ( $\wedge$ ) به جای هر ظهور  $\wedge$  ( $\vee$ ) در  $S$  و قراردادن  $(T)F$  به جای هر ظهور  $(F)T$  در آن به دست می‌آید.

گزاره‌های  $p \wedge \bar{p}$  و  $p \vee \bar{p}$  دوگان یکدیگرند، همانگونه که



به جای هر ظهور  $q$ ،  $t \rightarrow u$  را قرار دهیم. اکنون، قاعده جانشینی مذکور صادق

$$P_7: \overline{(r \wedge s) \vee (t \rightarrow u)} \leftrightarrow [\overline{(r \wedge s)} \wedge \overline{(t \rightarrow u)}]$$

و هم ارزی منطقی

$$P_7': \overline{(r \wedge s) \vee (t \rightarrow u)} \leftrightarrow \overline{(r \wedge s)} \wedge \overline{(t \rightarrow u)}$$

را به دست می دهد.

(b) قانون دوم سلطه بر این است که، به ازای هر گزاره  $p$ ، گزاره مرکب

$$P: (p \wedge F.) \leftrightarrow F.$$

صادق است. اگر به جای  $p$  گزاره دلخواه  $[ (q \vee r) \rightarrow s ]$  را قرار دهیم، آنگاه همان قاعده اول جانشینی به صادق جدید

$$P_1: [(q \vee r) \rightarrow S] \wedge F. \leftrightarrow F.$$

و هم ارزی منطقی

$$P_1': [(q \vee r) \rightarrow S] \wedge F. \leftrightarrow F.$$

منجر می شود.  $\square$

#### مثال ۵.

(a) برای کاربردی از قاعده دوم جانشینی، فرض می کنیم  $P$  گزاره مرکب  $(p \rightarrow q) \rightarrow r$  را نمایش دهد. از آنجا که  $(p \rightarrow q) \leftrightarrow \overline{p} \vee q$  (چنان که در مثال ۱ و جدول ۱ آمده است)، اگر  $P_1$  نمایشگر گزاره مرکب  $(\overline{p} \vee q) \rightarrow r$  باشد آنگاه  $P_1 \leftrightarrow P$ .

(b) اکنون گزاره مرکب  $p \rightarrow (p \vee q)$  را مطرح می کنیم. از آنجا که  $\overline{p} \leftrightarrow p$ ، گزاره مرکب  $P_1: p \rightarrow (\overline{p} \vee q)$  از  $p$  با قراردادن  $\overline{p}$  به جای ظهور دوم  $p$  (اما نه ظهور اول آن) استخراج می شود. قاعده دوم جانشینی همچنان بر این است که  $P_1 \leftrightarrow P$ . (توجه داشته باشید که  $P_2: \overline{p} \rightarrow (\overline{p} \vee q)$ ، که از قراردادن  $\overline{p}$  به جای هر دو ظهور  $p$  استخراج شده است، نیز منطقاً هم ارز  $P$  است.)  $\square$

مثال بعدی مبرهن می کند که چگونه می توان مفهوم هم ارزی منطقی را همراه با قوانین منطق و قواعد جانشینی به کار برد.

#### مثال ۶.

گزاره مرکب  $(p \vee q) \rightarrow r$  را نقیض و ساده کنید.

$$1. (p \vee q) \rightarrow r \leftrightarrow \overline{(p \vee q)} \vee r$$

جانشینی، زیرا  $(\overline{s} \vee t) \leftrightarrow (s \rightarrow t)$  به ازای هر دو گزاره  $s$ ،  $t$

گزاره های  $p \vee T$  و  $p \wedge F$  چنین اند.

اکنون به بیان و استفاده از قضیه ای، بدون اثبات آن، می پردازیم. اما، در آینده نتیجه ای را که در اینجا آشکار کرده ایم به اثبات می رسانیم.

#### قضیه ۱

(اصل دوگانگی<sup>۱۵</sup>) فرض می کنیم  $s$ ،  $t$  گزاره هایی، چنان که در تعریف ۲ آمده، باشند. اگر  $s \leftrightarrow t$ ، آنگاه  $s^d \leftrightarrow t^d$ .

به عنوان نتیجه ای از این اصل، می توان قوانین ۲ تا ۱۰ فهرستمان را با اثبات یکی از قوانین هر جفت و بعد به استناد اصل مزبور، به اثبات رساند.

می توان با استفاده از قواعد جانشینی<sup>۱۶</sup> زیر، هم ارزیهای منطقی بسیار دیگری را استخراج کرد.

۱. فرض می کنیم  $P$  گزاره مرکبی را که صادق است نمایش دهد. اگر گزاره ای باشد که در  $P$  ظاهر می شود و به جای هر ظهور  $p$  گزاره یکسان  $q$  را قرار دهیم، آنگاه گزاره مرکب  $P_1$  نیز صادق است.

۲. فرض می کنیم  $P$  گزاره مرکبی باشد که گزاره  $p$  در آن ظاهر می شود، و فرض می کنیم  $q$  گزاره ای چنان باشد که  $p \leftrightarrow q$ . فرض می کنیم در  $P$  به جای  $p$ ،  $q$  را قرار دهیم. این جانشینی گزاره مرکب  $P_2$  را به دست می دهد. تحت این شرایط  $P_1 \leftrightarrow P_2$ .

این قواعد را در مثالهای زیر توضیح می دهیم.

#### مثال ۴.

(a) از قانون اول دومورگان می دانیم که، به ازای هر دو گزاره  $p$ ،  $q$ ، گزاره مرکب

$$P: \overline{p \vee q} \leftrightarrow \overline{(\overline{p} \wedge \overline{q})}$$

صادق است. چون به جای هر ظهور  $p$ ،  $r \wedge s$  را قرار دهیم، از قاعده اول جانشینی نتیجه می شود که

$$P_1: \overline{(r \wedge s) \vee q} \leftrightarrow \overline{(\overline{(r \wedge s)} \wedge \overline{q})}$$

نیز صادق است. در توسیع یک مرحله دیگر این نتیجه، می توانیم

صادق است.

است. ستونهای ۵ و ۶، جدول مزبور نشان می دهند که

$$(q \rightarrow p) \Leftrightarrow (\bar{p} \rightarrow \bar{q})$$

گزاره  $q \rightarrow p$  عکس<sup>۱۸</sup>  $p \rightarrow q$  نامیده می شود؛ و  $\bar{p} \rightarrow \bar{q}$  به وارون<sup>۱۹</sup>  $p \rightarrow q$  مصطلح است.

درحالتی که  $p$  و  $q$  گزاره های زیر را نمایش می دهند

$p$ : چهارضلعی ABCD مربع است.

$q$ : چهارضلعی ABCD متساوی الاضلاع است.

به دست می آوریم:

● (استلزام:  $p \rightarrow q$ ) اگر چهارضلعی ABCD مربع باشد،

آنگاه چهارضلعی ABCD متساوی الاضلاع است. (راست)

● (عکس نقیض:  $\bar{q} \rightarrow \bar{p}$ ) اگر چهارضلعی ABCD

متساوی الاضلاع نباشد، آنگاه مربع نیست. (بازهم راست)

● (عکس:  $q \rightarrow p$ ) اگر چهارضلعی ABCD

متساوی الاضلاع است، آنگاه چهارضلعی ABCD مربع است.

(دروغ؛ هر لوزی که متساوی الزوایا نباشد همچنان

متساوی الاضلاع است.)

● (وارون:  $\bar{p} \rightarrow \bar{q}$ ) اگر چهارضلعی ABCD مربع

نباشد، آنگاه متساوی الاضلاع نیست. (باز هم دروغ)

همانگونه که مثال خاص فوق نشان می دهد، باید از

«استدلال با استفاده از عکس» اجتناب کنیم. این حقیقت که

استلزام (یا قضیه) خاص  $p \rightarrow q$  ای راست است بر این نیست

که عکس آن، یعنی،  $q \rightarrow p$ ، نیز باید راست باشد. اما، راستی

عکس نقیض آن، یعنی،  $\bar{q} \rightarrow \bar{p}$ ، را ضروری می کند. □

### ◆ یادداشتها:

- |                             |                              |
|-----------------------------|------------------------------|
| 1. Algebra of propositional | 12. Domination Laws          |
| 2. Logically equivalent     | 13. Absorption Laws          |
| 3. Exclusive or             | 14. Dual                     |
| 4. De Morgan's Laws         | 15. The principle of Duality |
| 5. Law of Double Negation   | 16. Substitution Rules       |
| 6. Commutative Laws         | 17. Contrapositive           |
| 7. Associative Laws         | 18. Converse                 |
| 8. Distributive Laws        | 19. Inverse                  |
| 9. Idempotent Laws          |                              |
| 10. Identity Laws           |                              |
| 11. Inverse Laws            |                              |

۲. با نقیض کردن نتایج مرحله اول، داریم

$$\overline{(p \vee q) \rightarrow r} \Leftrightarrow \overline{(p \vee q)} \vee r$$

۳. از قانون اول دومورگان و قاعده جانشینی اول،

$$\overline{(p \vee q) \vee r} \Leftrightarrow \overline{(p \vee q)} \wedge \bar{r}$$

۴. اکنون قانون نقیض دوگانه و قاعده جانشینی اول می دهد

$$\overline{(p \vee q) \vee r} \Leftrightarrow (p \vee q) \wedge \bar{r}$$

از مراحل ۱ تا ۴ داریم

$$\square \overline{(p \vee q) \rightarrow r} \Leftrightarrow (p \vee q) \wedge \bar{r}$$

مثال ۷.

در تعریف ۲،  $S^d$ ، دوگان گزاره  $S$ ، تنها به ازای گزاره های

شامل نقیض و رابطهای پایه ای  $\wedge$  و  $\vee$  تعریف شده است. در

این صورت چگونه می توان دوگان گزاره ای چون  $S: p \rightarrow q$  را

مشخص کرد؟

از آنجا که  $(p \rightarrow q) \Leftrightarrow \bar{p} \vee q$ ،  $S^d$  منطقیاً هم ارز گزاره

$$(\bar{p} \vee q)^d \text{ است، که } \bar{p} \wedge q \text{ است. } \square$$

در مثال بعد، به بررسی استلزام  $p \rightarrow q$  و گزاره های خاص

وابسته به آن می پردازیم.

مثال ۸.

جدول ۶ جدولهای ارزش گزاره های  $p \rightarrow q$ ،  $\bar{q} \rightarrow \bar{p}$ ،

$q \rightarrow p$  و  $\bar{p} \rightarrow \bar{q}$  را به دست می دهد.

### ◀ جدول ۶

p	q	$p \rightarrow q$	$\bar{q} \rightarrow \bar{p}$	$q \rightarrow p$	$\bar{p} \rightarrow \bar{q}$
۰	۰	۱	۱	۱	۱
۰	۱	۱	۱	۰	۰
۱	۰	۰	۰	۱	۱
۱	۱	۱	۱	۱	۱

ستونهای سوم و چهارم این جدول آشکار می کنند که

$$(p \rightarrow q) \Leftrightarrow (\bar{q} \rightarrow \bar{p})$$

گزاره  $\bar{q} \rightarrow \bar{p}$  به عکس نقیض<sup>۱۷</sup> استلزام  $p \rightarrow q$  موسوم

# سرگرمی برای اندیشه‌ورزی



\* حسن نصیرنیا \* اثر: جورج سامرز

## بازی با منطق\*

آقای احمد گلستان دو خواهر به نامهای بهاره و ستاره دارد. خانم فهیمه برومند، که همکار آقای گلستان است، دو برادر به نامهای داوود و احسان دارد. اطلاعات ما دربارهٔ حرفهٔ اعضای این دو خانواده به شرح زیر است:

### خانواده گلستان:

احمد: دکتر

بهاره: دکتر

ستاره: وکیل

خانواده برومند:

داوود: دکتر

احسان: وکیل

فهیمه: وکیل

بنا به دلیل نامعلومی، یکی از این شش نفر به دست یکی از پنج نفر دیگر به قتل می‌رسد. اطلاعات کلی ما دربارهٔ قاتل و

\* منبع

Summers, George, *Test Your Logic*, Dover Publications Inc. New York.

مقتول به شرح زیر است:

- ۱- اگر قاتل و مقتول خویشاوند باشند، قاتل مرد است.
- ۲- اگر قاتل و مقتول خویشاوند نباشند، قاتل دکتر است.
- ۳- اگر قاتل و مقتول هم شغل باشند، مقتول مرد است.
- ۴- اگر قاتل و مقتول شغل‌های متفاوت داشته باشند، مقتول زن است.

۵- اگر قاتل و مقتول همجنس باشند، قاتل وکیل است.

۶- اگر قاتل و مقتول همجنس نباشند، مقتول دکتر است.

با توجه به اطلاعات مذکور، قاتل کیست؟


(رهنمود: برای دستیابی آسان به حل معما، با بررسی مقدمات (فرضها) و نتایج جمله‌های ششگانه، مشخص کنید که کدام یک از «مجموعه‌های سه تایی» از جمله‌ها ممکن است، درست باشد).

## پاسخ معمای بازی با منطق

با بررسی مقدمات (فرضهای) جمله‌ها درمی‌یابیم که فقط یکی از جمله‌های (۱) و (۲)، یکی از جمله‌های (۳) و (۴) و یکی از جمله‌های (۵) و (۶) درست است. از نتایج این جمله‌ها درمی‌یابیم که امکان ندارد، جمله‌های (۲) و (۵) هر دو درست



پارچه‌فروشی می‌خواهد پارچه‌هایش را با ۴۰٪ سود بفروشد. اما وسیله‌ای که برای اندازه‌گیری به کار می‌برد طول مناسبی ندارد. به همین دلیل متوجه می‌شود که به جای ۴۰٪ سود فقط ۳۹٪ سود عایدش شده است. طول وسیله‌ای را که او برای اندازه‌گیری به کار برده است تعیین کنید.



جواب در صفحه ۸۸

باشند. بنابراین، یکی یا بیش از یکی از جمله‌های زیر درست هستند :

- الف - (۱)، (۴) و (۵)      د - (۱)، (۳) و (۶)  
 ب - (۱)، (۳) و (۵)      هـ - (۲)، (۴) و (۶)  
 ج - (۱)، (۴) و (۶)      و - (۲)، (۳) و (۶)

اگر مجموعه (الف) درست باشد، از نتیجه جمله (۱) درمی‌یابیم که قاتل مرد است؛ از نتیجه جمله (۴) درمی‌یابیم که مقتول زن است و از مقدمه جمله (۵) درمی‌یابیم که قاتل و مقتول همجنس هستند. چون این وضع ناممکن است، مجموعه (الف) نباید درست باشد.

اگر مجموعه (ب) درست باشد، از مقدمات جمله‌ها درمی‌یابیم که قاتل و مقتول خویشاوند، هم شغل و همجنس هستند. چون این وضع با ترکیب هر خانواده تناقض دارد، مجموعه (ب) نباید درست باشد.

اگر مجموعه (ج) درست باشد، از نتایج جمله‌ها درمی‌یابیم که قاتل، مرد و مقتول، دکتر زن است. در این صورت، از مقدمات جمله‌های (۱) و (۴) درمی‌یابیم که قاتل و کیل است و قاتل و مقتول خویشاوندند. چون این وضع با ترکیب هر خانواده تناقض دارد، مجموعه (ج) نباید درست باشد.

اگر مجموعه (د) درست باشد، از نتیجه جمله (۱) درمی‌یابیم که قاتل مرد است؛ از نتیجه جمله (۳) درمی‌یابیم که مقتول مرد است و از مقدمه جمله (۶) درمی‌یابیم که قاتل و مقتول همجنس نیستند. چون این وضع ناممکن است، مجموعه (د) نباید درست باشد.

بنابراین، مجموعه (و) درست است. از نتایج جمله‌های این مجموعه درمی‌یابیم که قاتل دکتر است و مقتول دکتر مرد است. سپس از مقدمه جمله (۶) درمی‌یابیم که قاتل زن است. آن‌گاه، با توجه به ترکیب خانواده مورد نظر درمی‌یابیم که قاتل باید بهاره باشد. مقدمه جمله (۲) نشان می‌دهد که داوود مقتول است. این وضع نشانگر آن است که مقدمه جمله (۳) با نتایج جمله‌های (۲) و (۶) همخوانی دارد.

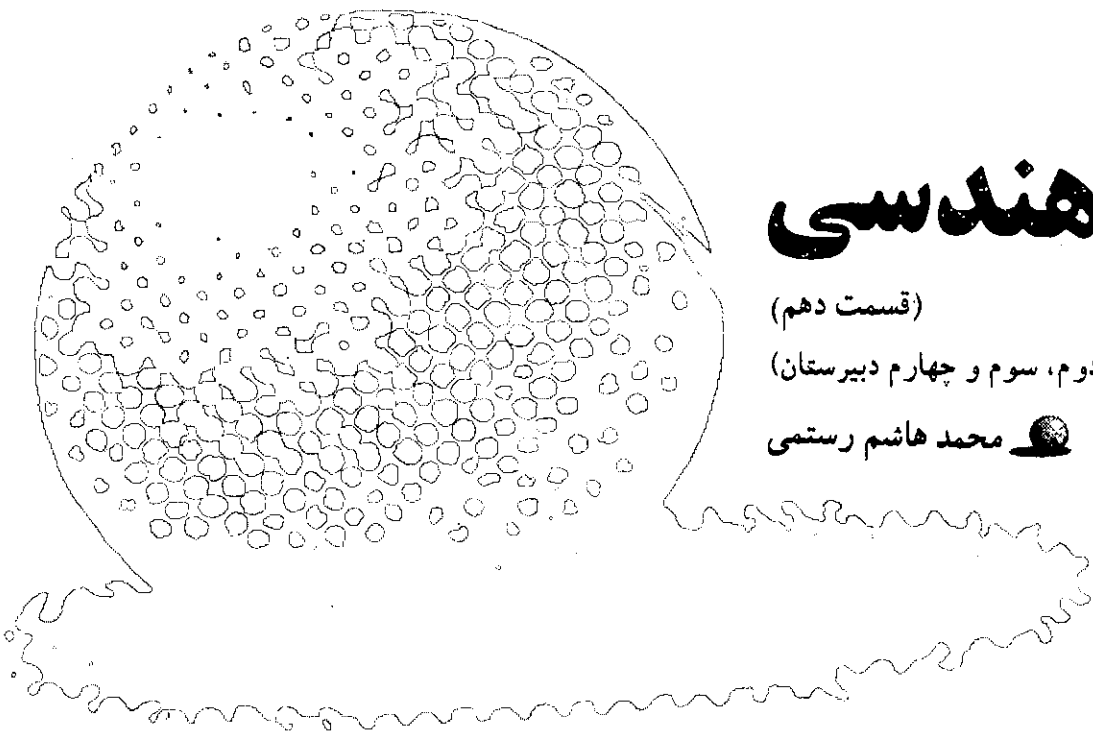


# مکان هندسی

(قسمت دهم)

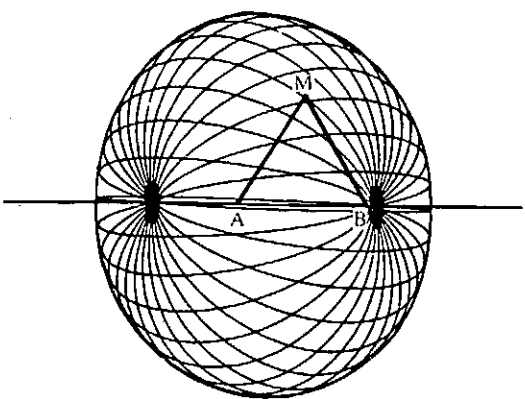
(اول، دوم، سوم و چهارم دبیرستان)

محمد هاشم رستمی

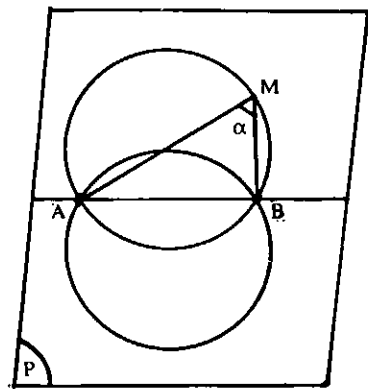


کنیم،  $\widehat{AMB} = \alpha$  است. حال صفحه  $P$  را حول خط راست  $AB$  دوران می‌دهیم. در این صورت از دوران کمان در خور زاویه  $\alpha$  یعنی از دوران کمان  $\widehat{AMB}$  حول خط  $AB$ ، سطحی منحنی (رویه‌ای دوار) به وجود می‌آید که این سطح، مکان هندسی نقطه‌ای از فضا است که از آن نقطه پاره خط  $AB$  به زاویه  $\alpha$  دیده می‌شود.

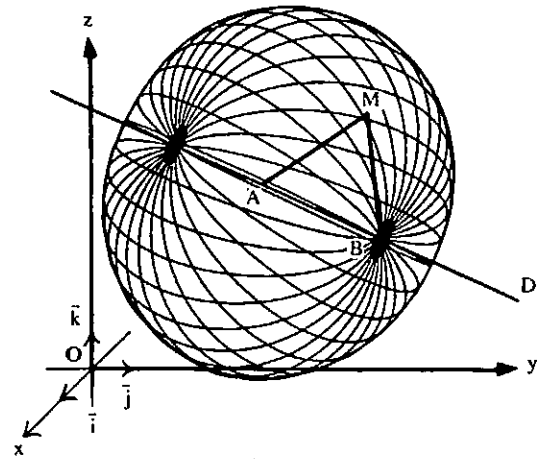
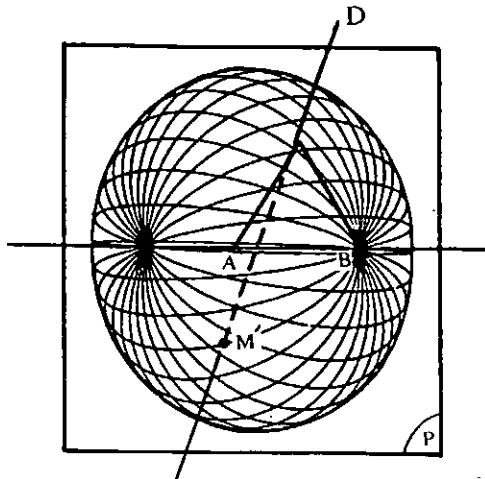
۶- مکان هندسی نقطه‌ای از فضا که از آن نقطه پاره خط  $AB$  به زاویه ثابت  $\alpha$  دیده می‌شود، یک رویه دوار است که از دوران کمان در خور زاویه  $\alpha$  وابسته به پاره خط  $AB$ ، حول خط  $AB$  به وجود می‌آید. اثبات به روش هندسی - پاره خط  $AB$  را در صفحه دلخواه  $P$  در نظر می‌گیریم و مکان هندسی نقطه‌ای از این صفحه را که از آن نقطه پاره خط  $AB$  به زاویه  $\alpha$  رؤیت می‌شود، یعنی کمان در خور زاویه  $\alpha$  وابسته به پاره خط  $AB$  را رسم می‌کنیم.



اثبات به روش تحلیلی - دو نقطه  $A(x_1, y_1, z_1)$  و  $B(x_2, y_2, z_2)$  را در دستگاه مختصات  $O-xyz$  در نظر می‌گیریم. اگر  $M(x, y, z)$  یک نقطه از مکان هندسی مورد



واضح است که اگر نقطه  $M$  را روی این کمان در خور اختیار

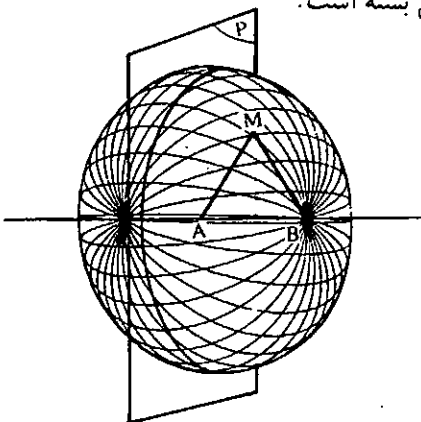


مکان هندسی نقطه‌ای از فضا که از آن نقطه پاره خط AB به زاویه  $\alpha$  رؤیت می‌شود، به دست آید. نقطه برخورد این مکان هندسی با خط D جواب مسأله است و حداکثر دو جواب وجود دارد.

نکته - اگر هر دو نقطه A و B روی خط D قرار داشته باشند، مسأله جواب ندارد.

مثال ۲ - صفحه P و دو نقطه A و B داده شده‌اند. مکان هندسی نقطه‌ای از صفحه P را تعیین کنید که از آن نقطه پاره خط AB به زاویه  $\alpha$  دیده شود.

حل - مکان هندسی نقطه‌ای از فضا را که از آن نقطه پاره خط AB به زاویه  $\alpha$  دیده می‌شود رسم می‌کنیم. فصل مشترک این مکان هندسی با صفحه P جواب مسأله است (منحنی C). در صورتی که صفحه P بر خط AB بگذرد جواب مسأله، کمان در خود زاویه  $\alpha$  وابسته به پاره خط AB واقع در صفحه P است و اگر صفحه P عمود بر خط AB باشد و رویه مکان هندسی را قطع کند، جواب مسأله یک دایره است و اگر صفحه نسبت به خط AB مایل باشد و رویه مکان هندسی را قطع کند، جواب یک منحنی بسته است.



نظر، یعنی نقطه‌ای باشد که  $\widehat{AMB} = \alpha$  است، خواهیم داشت:

$$A(x_1, y_1, z_1), B(x_2, y_2, z_2), M(x, y, z)$$

$$\Rightarrow \vec{AM}(x - x_1, y - y_1, z - z_1)$$

$$\vec{BM}(x - x_2, y - y_2, z - z_2)$$

$$\Rightarrow \cos(\vec{AM}, \vec{BM}) = \cos \alpha =$$

$$\frac{(x - x_1)(x - x_2) + (y - y_1)(y - y_2) + (z - z_1)(z - z_2)}{\sqrt{(x - x_1)^2 + (y - y_1)^2 + (z - z_1)^2} \cdot \sqrt{(x - x_2)^2 + (y - y_2)^2 + (z - z_2)^2}}$$

$$\Rightarrow [(x - x_1)^2 + (y - y_1)^2 + (z - z_1)^2]$$

$$[(x - x_2)^2 + (y - y_2)^2 + (z - z_2)^2] \cos^2 \alpha$$

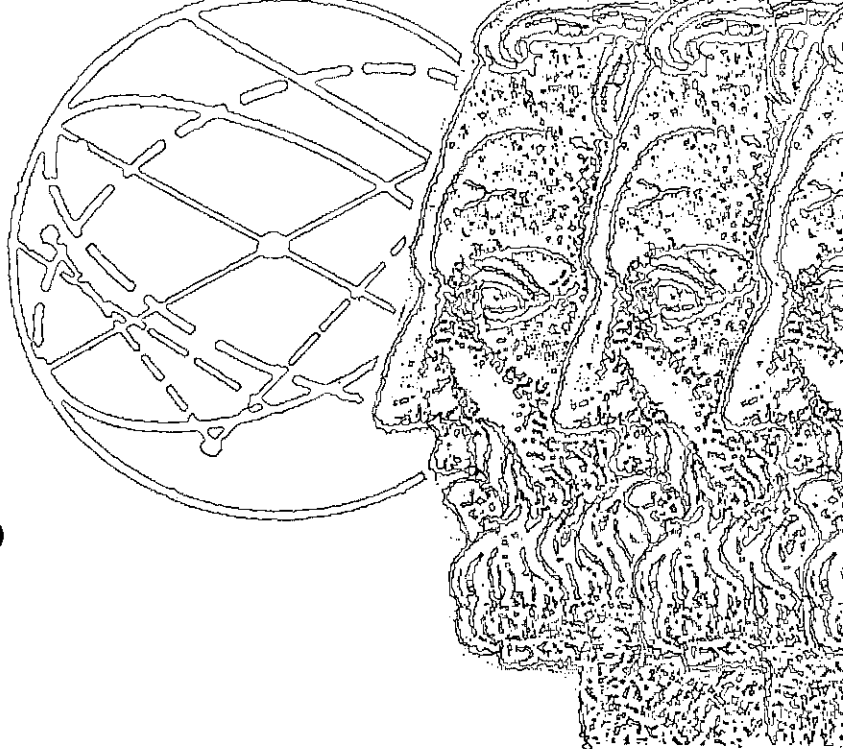
$$= [(x - x_1)(x - x_2) + (y - y_1)(y - y_2) +$$

$$(z - z_1)(z - z_2)]^2 \quad (1)$$

بعکس هر نقطه‌ای از فضا که مختصاتش در معادله (۱) صدق کند، روی کمان در خور زاویه  $\alpha$  وابسته به پاره خط AB قرار دارد. این معادله را با استفاده از ویژگی دوران منحنیها در فضا حول یک خط راست (دوران کمان در خور زاویه  $\alpha$  حول خط AB) نیز می‌توان به دست آورد. برای ساده‌تر شدن محاسبه‌ها، می‌توان خط راست AB را منطبق بر یکی از محورهای دستگاه مختصات  $xyz - O$  اختیار نمود.

مثال ۱ - خط D و دو نقطه A و B غیر واقع در یک صفحه داده شده‌اند. نقطه‌ای روی خط D بیابید که از آن نقطه پاره خط AB به زاویه  $\alpha$  دیده شود.

حل - صفحه دلخواه P را بر خط AB مرور می‌دهیم و کمان در خور زاویه  $\alpha$  وابسته به پاره خط AB را رسم می‌کنیم. سپس، این کمان در خور را حول خط AB دوران می‌دهیم تا



# مشاهیر ریاضی جهان

برگرفته از: فرهنگ ریاضیات آکسفورد

ترجمه: غلامرضا یاسی پور



لاگرانژ، زوزف - لوئی

است. که ذره‌ای که در امتداد آن تحت نیروی ثقل می‌لغزد کمترین زمان را برای رسیدن از نقطه بالایی به نقطه پایینی بگیرد. لاپلاس، پی‌یر - سیمون، مارکی دو<sup>۱</sup> (۱۷۴۹ - ۱۸۲۷). لاپلاس فرانسوی، گرچه در طبقه اشراف متولد نشد اما از شانس‌ی که داشت در سیاست استاد بود. تحت زعامت ناپلئون وزیر داخله شد (بدون توفیق) اما به نظر می‌رسد که با پادشاهی احیا شده نیز به همین ترتیب ساخته باشد. بیشتر به خاطر اثرش در مورد حرکت سیاره‌ای که در مکانیک آسمانی<sup>۲</sup> اش آمده، نیز سهم اساسی‌اش در نظریه احتمال معروف است. این لاپلاس بود که نظریه جاذبه‌ای نیوتن را در بررسی کل منظومه شمسی به

خوارزمی<sup>۱</sup> (حدود ۸۰۰ میلادی). کلمه «الگوریتم» را از نام این ریاضیدان مکتب اسلام استخراج کرده‌ایم. عنوان اثرش، الجبر و المقابله نیز کلمه «جبر» را به ما داده است. لاگرانژ، زوزف - لوئی<sup>۲</sup> (۱۷۳۶ - ۱۸۱۳). لاگرانژ، با اوایلر، شاید بزرگترین ریاضیدانهای قرن هجدهم باشند. گرچه در تورین<sup>۳</sup> تولد یافت، و قسمت اولیه حیات خود را در آنجا گذراند، سرانجام در پاریس اقامت گزید و معمولاً فرانسوی قلمداد می‌شود، اما ممکن است ایتالیاییها این را عادلانه تصور نکنند. غالب کارهای مهمش در برلین، که در آکادمی آن جانشین اوایلر بود، انجام گرفت. آثارش، همراه با آثار مهمترین ریاضیدانهای آن زمان، تمامی برد ریاضیات را در برمی‌گیرد. احتمالاً بیشتر به عنوان پیشرو در توسعه مکانیک نظری<sup>۴</sup> مشهور است. به خصوص اساساً عهده‌دار روشهای حساب تغییرات<sup>۵</sup> و روش لاگرانژی حاصل از آن در مکانیک است. در نظریه ماکسیم - می‌نیم معمولی، باید مقدار  $x$  را که، مثلاً، مقدار  $F(x)$  را می‌نیم می‌کند، به دست آوریم. در صورت مسنایی حساب تغییرات، باید مسأله بسیار مشککتر به دست آوردن تابع<sup>۶</sup>  $f$  را که مقدار انتگرالی چون  $\int_a^b F(x, f(x), f'(x)) dx$  را می‌نیم می‌کند، حل کنیم. یکی از مسائل مشهور این موضوع مسأله یافتن منحنی و اصل دو نقطه مفروض در صفحه قائمی

کامل این قانون در انتظار گاوس بود.

لایب‌نیتز، گوتفرید<sup>۱۴</sup> (۱۶۴۶ - ۱۷۱۶). لایب‌نیتز فیلسوف و ریاضیدان همه فن حریف و مشهور آلمانی است. در ریاضیات، همراه با نیوتن، واضع حساب دیفرانسیل و انتگرال است. نیز سهم عمده‌ای در گسترش منطق علامتی داشت، و این مسیری بود که تا پایان قرن نوزدهم دنبال نشد. در حدود ۱۷۱۲، نزاعی بین المللی، بر سر ادعاهای رقابت‌آمیز مخترع حساب دیفرانسیل و انتگرال بودن، بین نیوتن و لایب‌نیتز در گرفت. رفتار لایب‌نیتز در این برخورد، برخلاف نیوتن، و برخلاف رفتار خودش با اسپینوزا، جوانمردانه بود.



لایب‌نیتز  
گوتفرید

#### □ یادداشتها:

1. al - Khwārizmi
2. algorithm
3. algebra
4. Lagrange, Joseph-Louis
5. Turin
6. theoretical
7. Calculus of Variations
8. function
9. Laplace, Pierre-Simon, Marquis de
10. Mécanique Céleste
11. starting conditions
12. Legendre, Adrien-Marie
13. Law of Quadratic Reciprocity
14. Leibniz, Gottfried



لاپلاس، پی‌یر -  
سیفون، مارکی دو

کار برد. او این نظریه قویاً جبری را که، هنگامی که شرایط آغازی<sup>۱۱</sup> یک دستگاه دینامیکی بسته، نظیر کیهان را بدانیم، تکامل آینده آن کاملاً مشخص می‌شود، گسترش داد.

لژاندر، آدرین - ماری<sup>۱۲</sup> (۱۷۵۲ - ۱۸۳۳). سه ریاضیدان مشهور فرانسوی در ارتباط با دوران انقلاب فرانسه، در ارتباط با این واقعیت که اسامی هر سه شان با L آغاز می‌شود، نیز هستند: لاگرانژ، لاپلاس، لژاندر. لژاندر در قرن نوزدهم به خاطر کتاب درسی هندسه‌اش که با استاندارد آن زمان «کارسره» اقلیدسی‌ای بود، بسیار معروف بود. اثر اساسی‌اش در ارتباط بسیار با حساب دیفرانسیل و انتگرال بود، به این ترتیب که مسئولیت رده‌بندی انتگرال‌های بیضوی را به صورت‌های استانداردشان به عهده داشت. دانشجویان ریاضیات پیشرفته‌تر به زودی با چند جمله‌ای‌های لژاندر، که در میان مهمترین توابع خاص قرار دارند، مواجه می‌شوند. لژاندر در زمینه‌ای کاملاً متفاوت، کاری اساسی در نظریه اعداد انجام داد. قانون تقابل درجه دوم<sup>۱۳</sup> را همراه با اوایلر حدس زد و جزئاً اثبات کرد. اثبات

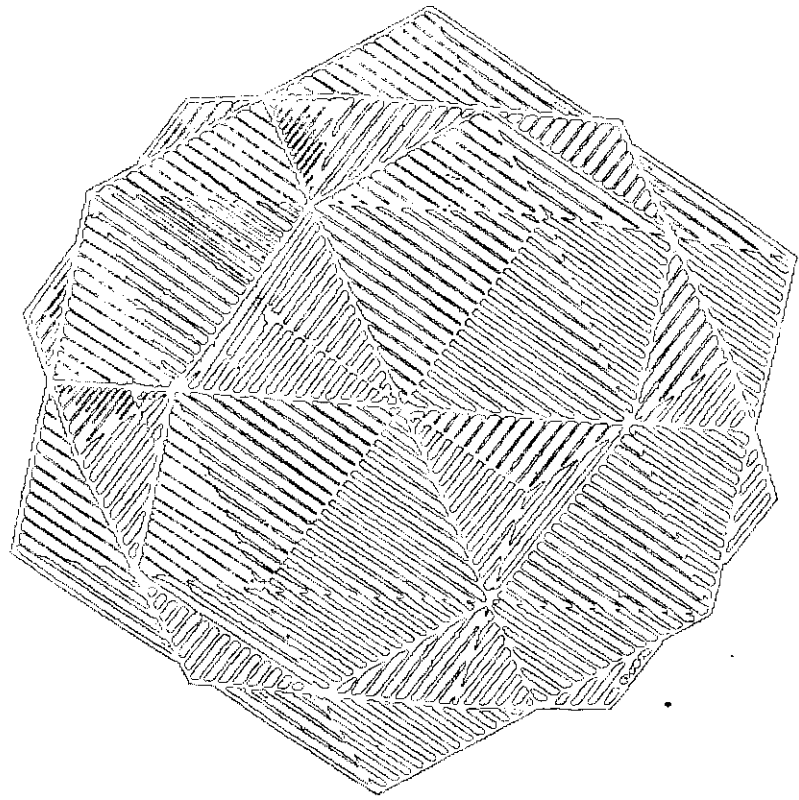


لژاندر، آدرین  
- ماری



# یک خاصیت مثلث قائم الزاویه و کاربرد آن در صنعت

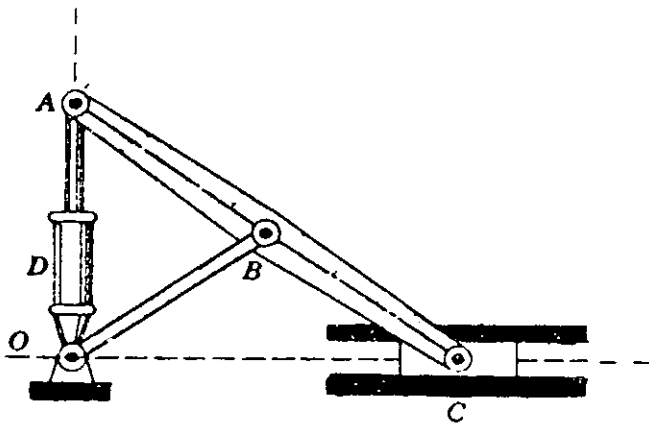
● دکتر احمدشرف الدین



چکیده:

در زیر ابتدا یک خاصیت مثلث قائم الزاویه را ذکر می‌کنیم و سپس کاربرد آن را در صنعت شرح می‌دهیم. در پایان مسئله زیبایی را که ابوالوفای بوزجانی طرح کرده است و با مسئله هندسی یادشده بسیار نزدیک است شرح می‌دهیم.

شکل (۱)



طول میله AC است. میله OB در نقطه B که وسط میله AC است به آن میله لولا شده است. کشو C می‌تواند روی خط راست افقی OL حرکت کند. هنگامی که کشو C حرکت می‌کند نقطه A انتهای میله BA مجبور است روی خط راستی که از نقطه A بر خط راست OL عمود است حرکت کند. این خط عمود را OK می‌نامیم. دستگاه را می‌توان طوری نصب کرد که خط OL افقی باشد و خط OK عمود بر صفحه افق باشد. وقتی کشو C حرکت رفت و برگشت انجام می‌دهد پیستون سیلندر روغنی D روی خط قائم OK بالا و پایین می‌رود.

## ۱ - خاصیت هندسی مورد نظر

الف - قضیه - در مثلث قائم الزاویه طول میانه وارد بر وتر نصف طول وتر است.

ب - عکس قضیه - اگر در مثلثی طول یک میانه نصف طول ضلع مقابل باشد، آن مثلث قائم الزاویه است. دو قضیه یاد شده در بالا در کتابهای هندسه ثابت شده است. از این رو به اثبات آنها نمی‌پردازیم.

## ۲ - کاربرد صنعتی

در زیر کاربرد صنعتی حکم (ب) را شرح می‌دهیم: دستگاهی که در شکل زیر نموده شده است، یک حرکت مستقیم الخط را به یک حرکت مستقیم الخط عمود بر آن تبدیل می‌کند. در این شکل نقطه O نمایش یک پایه ثابت است و میله OB در نقطه O به این پایه لولا شده است. طول میله OB نصف

نقش سیلندر روغنی آن است که حرکت قائم به صورت آهسته و ملایم انجام می گیرد. دستگاه مذکور در بالا برها به کار می رود.

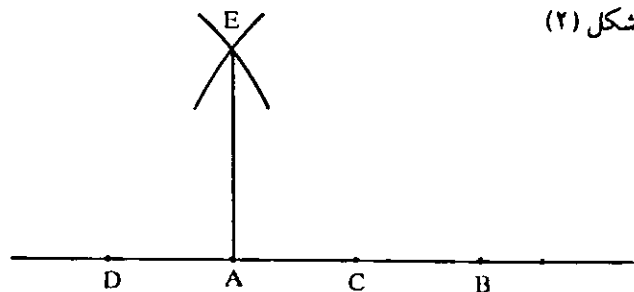
۳ - مسئله ابوالوفای بوزجانی

شکل بالا مسئله ابوالوفای بوزجانی را در خاطر احیا می کند. ابتدا رسم عمود بر یک خط راست از یکی از نقاط آن را شرح می دهیم:

الف - مسئله - از نقطه A واقع بر خط AB عمود بر خط AB رسم کنید.

حل - روی خط AB و در دو طرف نقطه A دو طول مساوی AC و AD جدا می کنیم (با پرگار) سپس دو کمان به مرکزهای C و D و با شعاعی بزرگتر از AC رسم می کنیم. نقطه برخورد دو کمان را E می نامیم. از نقطه E به نقطه A وصل می کنیم. خط EA بر خط AB عمود است.

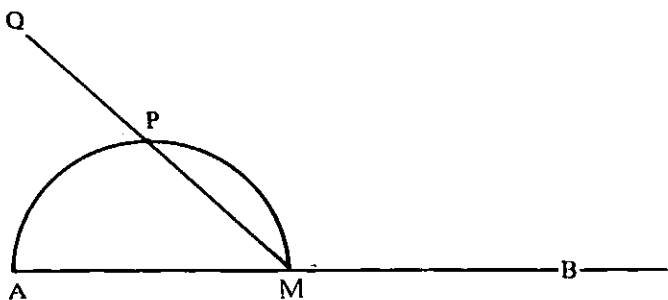
شکل (۲)



ب - مسئله طرح شده ابوالوفای بوزجانی - نقطه A از خط AB بسیار نزدیک به لبه کاغذ است. چگونه از نقطه A بر خط AB عمود رسم کنیم.

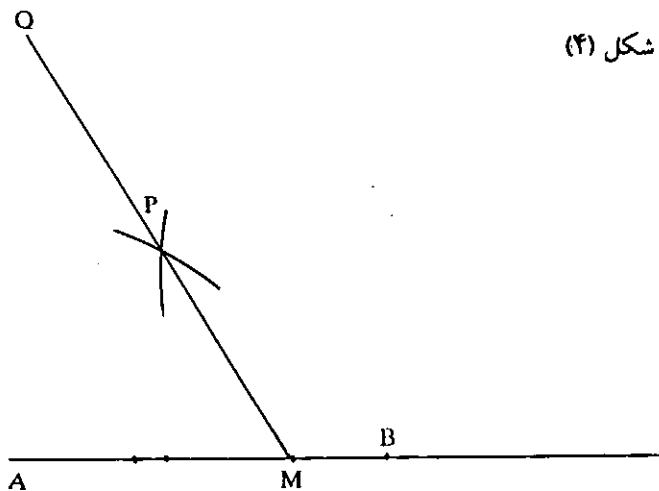
روشی که برای رسم عمود در قسمت (الف) از شماره (۳) ذکر کردیم در مسئله اخیر الذکر به کار نمی آید زیرا بنا به فرض نقطه A به لبه کاغذ بسیار نزدیک است. ابوالوفا حل زیر را عرضه می کند.

نقطه M را روی پاره خط AB اختیار می کنیم و سپس دایره ای به قطر AM رسم می کنیم. از نقطه M به نقطه P وسط کمان AB وصل می کنیم. پاره خط MP را در جهت از M به P به اندازه خود امتداد می دهیم، تا نقطه Q به دست آید. خط QA بر خط AB عمود است.




راه حل ابوالوفا با اندکی تغییری به صورت زیر در می آید: بر پاره خط AB نقطه دلخواه M را اختیار می کنیم و سپس دو کمان به مرکزهای A و M و با شعاعی بزرگتر از نصف پاره خط AM رسم می کنیم. نقطه برخورد این دو کمان را P می نامیم. پاره خط MP را در جهت از M به P به اندازه خود امتداد می دهیم، تا نقطه Q به دست آید. خط AQ بر خط AB عمود است.

شکل (۴)



شکل (۱) که طرح کلی یک بالا بر است، شکل (۴) را که طرز ترسیم خط عمود بر یک خط از یک نقطه آن، به شیوه ابوالوفا است به خاطر می آورد.





# بررسی وضع دو دایره نسبت به هم

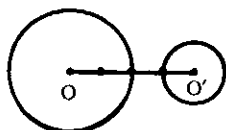
● محمد هاشم رستمی

۳ - مجموع شعاعهای این دو دایره را به دست آورید و با اندازه خط‌المركزین آنها مقایسه کنید. کدام بیشتر است؟ در جاهای خالی زیر، عددها و علامت مناسب بگذارید.  
 $R + R' = \dots + \dots$      $OO' = d = \dots$      $d \dots R + R'$

۴ - این دو دایره چند نقطه مشترک دارند؟  
**تعریف** - دو دایره که اندازه خط‌المركزین آنها از مجموع شعاعهایشان بیشتر باشد، دو دایره برون هم (متخارج)، نامیده می‌شوند.

در فعالیت ۱ دو دایره (C) و (C')، برون هم هستند. در مورد دو دایره برون هم می‌توان گفت:

شرط لازم و کافی برای آن که دو دایره (O و R) و (O' و R') برون هم (متخارج) باشند، آن است که اندازه خط‌المركزین آنها ( $d = OO'$ ) از مجموع شعاعهایشان ( $R + R'$ ) بیشتر باشد.



$$d > R + R' \Leftrightarrow \text{دو دایره برون هم (متخارج)}$$

مثال ۱ - دو دایره (C و O) و (C' و O') مفروضند.

به دلیل محدود بودن صفحه‌های کتابهای درسی، امکان شرح و بسط کافی برای همه مفهومیهای موجود در این کتابها وجود ندارد؛ از جمله این مفهومیها بررسی وضع دو دایره نسبت به هم است، که تنها در یک صفحه از کتاب هندسه سال دوم دبیرستان رشته‌های ریاضی فیزیک و علوم تجربی نظام جدید آموزشی (صفحه ۵۲) به صورت خلاصه آمده است. چون وضع دو دایره نسبت به هم، کاربردهای فراوانی در هندسه دارد، لذا به ارائه آن به صورت مشروحتری پرداخته‌ایم، برای درک بهتر مطلب:

۱ - این مفهوم به صورت فعالیت ارائه شده است، تا دانش‌آموزان با انجام این فعالیتها خود به کشف رابطه‌های مربوط به وضع نسبی دو دایره بپردازند.

۲ - شعاعهای دو دایره ثابت نگاه داشته شده و اندازه خط‌المركزین آنها تغییر یافته است.

**نکته** - در اینجا نیز از اثبات برخی مطالب که نیاز به اطلاعات بیشتری دارد خودداری شده است.

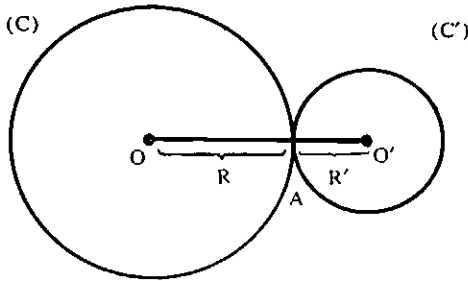
## فعالیت ۱

۱ - پاره خط  $OO'$  را به طول ۴ سانتی متر رسم کنید.

۲ - یک دایره به مرکز O و به شعاع ۲ سانتی متر (دایره C)، و دایره دیگری به مرکز O' و به شعاع ۱ سانتی متر رسم نمایید (دایره C').

در فعالیت ۲ دو دایره مماس برون هستند.  
در مورد دو دایره مماس برون به طور کلی می توان گفت:

شرط لازم و کافی برای آن که دو دایره (O و R) و (O' و R') مماس برون (مماس خارج) باشند، آن است که اندازه خط‌المركزين آنها (d) مساوی مجموع شعاعهايشان (R + R') باشد.



$$d = R + R' \Leftrightarrow \text{دو دایره مماس برون (مماس خارج)}$$

مثال ۱ - اگر دو دایره (O و ۵) و (O' و ۸) مماس برون باشند، اندازه خط‌المركزين آنها چه قدر است.  
حل - شرط آن که دو دایره، مماس برون باشند، آن است که اندازه خط‌المركزين آنها برابر مجموع شعاعهای دو دایره باشد.  
بنابراین داریم:

$$d = OO' = R + R' \Rightarrow OO' = 5 + 8 = 13$$

مثال ۲ - مقدار R را چنان بیابید که دو دایره (O و R) و (O' و ۷) مماس برون باشند، در صورتی که  $OO' = 18$  باشد.

حل - با فرض  $OO' = d$  داریم:

$$d = R + R' \Rightarrow 18 = R + 7 \Rightarrow R = 11$$

مثال ۳ - مقدار m را چنان تعیین کنید که دو دایره به شعاعهای  $R = m + 2$ ،  $R' = m - 2$  با خط‌المركزين  $OO' = 3m - 12$  مماس برون باشند.

حل - با شرط این که نقطه را دایره‌ای به شعاع صفر در نظر بگیریم، مقدار قابل قبول برای m عبارت است از:

$$\begin{cases} m + 2 \geq 0 \\ m - 2 \geq 0 \\ 3m - 12 > 0 \end{cases} \Rightarrow \begin{cases} m \geq -2 \\ m \geq 2 \\ m > 4 \end{cases} \Rightarrow m > 4$$

اگر  $OO' = 14$  باشد، حدود  $R'$  را چنان تعیین کنید که این دو دایره برون هم باشند.

حل - اگر نقطه را دایره‌ای به شعاع صفر در نظر بگیریم، نخست باید  $R' \geq 0$  باشد، آن گاه برای این که دو دایره برون هم باشند، لازم و کافی است،  $d > R + R'$  باشد.

پس:  $14 > 6 + R' \Rightarrow R' < 8 \Rightarrow 0 \leq R' < 8$

مثال ۲ - دو دایره به شعاعهای  $R = a + 3$  و  $R' = 2a - 1$  و خط‌المركزين  $OO' = d = a + 12$  داده شده‌اند. حدود a را چنان تعیین کنید که این دو دایره برون هم باشند.

حل - با در نظر گرفتن نقطه به عنوان دایره‌ای به شعاع صفر، نخست باید:

$$\begin{cases} a + 3 \geq 0 \\ 2a - 1 \geq 0 \\ a + 12 > 0 \end{cases} \Rightarrow \begin{cases} a \geq -3 \\ a \geq \frac{1}{2} \\ a > -12 \end{cases} \Rightarrow a \geq \frac{1}{2}$$

از طرفی شرط برون هم بودن دو دایره آن است که  $d > R + R'$  باشد، یعنی:

$$a + 12 > a + 3 + 2a - 1 \Rightarrow a < 5$$

بنابراین جواب مسأله  $\frac{1}{2} \leq a < 5$  است.

## فعالیت ۲

۱ - پاره خط  $OO'$  را به طول ۳ سانتی متر رسم کنید.

۲ - یک دایره به مرکز O و به شعاع ۲ سانتی متر (دایره C) و دایره دیگری به مرکز O' و به شعاع ۱ سانتی متر (دایره C') رسم نمایید.

۳ - مجموع شعاعهای این دو دایره را به دست آورید و با اندازه خط‌المركزين آنها مقایسه کنید.

نتیجه مقایسه چیست؟

در جاهای خالی زیر، عددها و علامت مناسب بگذارید.

$$R + R' = \dots + \dots \quad OO' = d = \dots \quad d \dots R + R'$$

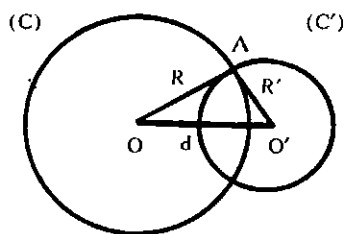
۴ - این دو دایره چند نقطه مشترک دارند؟ ... نقطه. نام این

نقطه مشترک چیست؟

تعریف - دو دایره که اندازه خط‌المركزينشان مساوی مجموع شعاعهايشان باشد، دو دایره مماس برون (مماس خارج) نامیده می شوند.

در مورد دو دایره متقاطع به طور کلی می توان گفت :

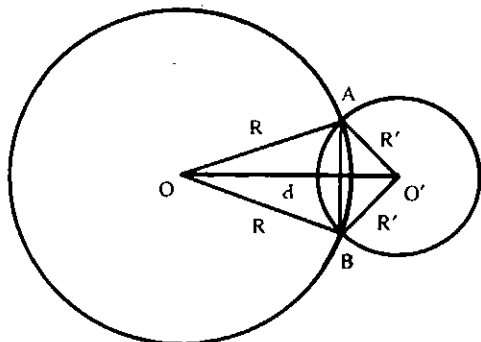
شرط لازم و کافی برای متقاطع بودن دو دایره (R) و C(O) و (R') و C'(O') آن است که اندازه خط مرکزین آنها (d) از مجموع دو شعاع (R + R')، کمتر و از قدر مطلق تفاضل دو شعاع (|R - R'|) بیشتر باشد.



$$|R - R'| < d < R + R' \Leftrightarrow \text{دو دایره متقاطع}$$

زیرا با برقراری شرط بالا، همواره مثلث OAO' که ضلعهای آن OA = R، O'A = R' و OO' = d است، وجود دارد.

نکته: اگر A و B نقطه های برخورد دو دایره متقاطع C(O) و C'(O') باشند، چهار ضلعی OAO'B شبه لوزی است. (چرا؟)، و در نتیجه OO' عمود منصف پاره خط AB است؛ یعنی در دو دایره متقاطع، خط مرکزین، عمود منصف وتر مشترک است.



مثال ۱- اگر R و R' شعاعها و d خط مرکزین دو دایره باشد، تعیین کنید در کدام حالت از حالت های زیر دو دایره متقاطعند.

الف -  $R = 4, R' = 7, d = 14$

ب -  $R = 8, R' = 4, d = 5$

و شرط این که دو دایره مماس برون باشند آن است که :

$$d = R + R' \Rightarrow 3m - 12 = m + 2 + m - 2 \Rightarrow m = 12$$

پس جواب مسأله  $m = 12$  است.

### فعالیت ۳

۱- پاره خط OO' را به طول ۲/۵ سانتی متر رسم کنید.

۲- یک دایره به مرکز O و به شعاع ۲ سانتی متر (دایره C) و دایره دیگری به مرکز O' و به شعاع ۱ سانتی متر (دایره C') رسم کنید.

۳- مجموع شعاع های این دو دایره چه قدر است؟

$$R + R' = \dots + \dots$$

قدر مطلق تفاضل شعاع های این دو دایره چه قدر است؟

$$|R - R'| = \dots$$

اندازه خط مرکزین این دو دایره را با مجموع و تفاضل شعاع های دو دایره مقایسه کنید. چه نتیجه ای به دست می آید؟ جاهای خالی زیر را با عددها و علامتهای مناسب پر کنید.

$$R + R' = \dots + \dots \quad OO' = d = \dots \Rightarrow d \dots R + R'$$

$$|R - R'| = \dots - \dots \quad OO' = d = \dots \Rightarrow d \dots |R - R'|$$

$$\Rightarrow |R - R'| \dots d \dots R + R'$$

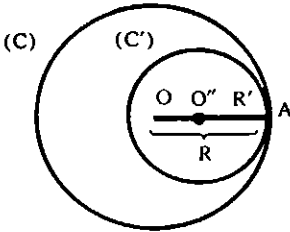
۴- این دو دایره چند نقطه مشترک دارند؟ ... نقطه.

نقطه های مشترک این دو دایره را A و B بنامید.

پاره خط AB را وتر مشترک دو دایره و خط AB را خط شامل وتر مشترک دو دایره و با مسامحه، وتر مشترک دو دایره می نامند.

تعریف - دو دایره که اندازه خط مرکزینشان از مجموع شعاع های دو دایره کمتر و از تفاضل شعاع های آن دو دایره بیشتر باشد، دو دایره متقاطع می نامند. در فعالیت ۳ دو دایره (C) و (C') متقاطعند.

شرط لازم و کافی برای آن که دو دایره (O و R) و (O' و R') مماس درون (مماس داخل) باشند، آن است که اندازه خط‌المركزين آنها (d) مساوی قدرمطلق تفاضل شعاعهايشان باشد. یعنی:



$$d = |R - R'| \Leftrightarrow \text{دو دایره مماس درون (مماس داخل)}$$

نکته: با فرض  $R > R'$  می‌توان نوشت:  $d = R - R'$ .

مثال ۱ - مقدار R را چنان بیابید که دایره (O و R) با دایره (O' و R') مماس درون باشد در صورتی که  $OO' = ۱۵$  خط‌المركزين آنها باشد.

حل - داریم:

$$d = |R - R'| \Rightarrow ۱۵ = |R - ۹| \Rightarrow R = ۲۴$$

مثال ۲ - اگر  $d = ۸$  خط‌المركزين و  $R = a - ۳$  و  $R' = ۲a - ۵$  شعاعهای دو دایره باشند، مقدار a را طوری تعیین کنید که این دو دایره مماس درون باشند.

حل - اگر نقطه را دایره به شعاع صفر در نظر بگیریم داریم:

$$\begin{cases} 2a - 5 \geq 0 \\ a + 3 \geq 0 \end{cases} \Rightarrow \begin{cases} a \geq \frac{5}{2} \\ a \geq -3 \end{cases} \Rightarrow a \geq \frac{5}{2}$$

$$d = |R - R'| \Rightarrow ۸ = |a - ۳ - ۲a + ۵| \Rightarrow$$

$$۸ = |-a + ۲| \Rightarrow a = ۱۰, a = -۶ < ۰$$

جواب  $a = -۶$  قابل قبول نیست.

### فعالیت ۵

- ۱ - پاره خط  $OO'$  را به طول  $۵/۰$  سانتی متر رسم کنید.
- ۲ - به مرکز O و به شعاع ۲ سانتی متر یک دایره (دایره C) و به مرکز O' و به شعاع ۱ سانتی متر دایره دیگری (دایره C') رسم کنید.

ب-  $R = ۹, R' = ۳, d = ۱۲$

ت-  $R = ۶, R' = ۵, d = ۱۲$

حل - در حالت الف، دو دایره برون هم هستند؛ زیرا  $۱۴ > ۴ + ۷$  یعنی  $d > R + R'$  است. در حالت ب، دو دایره متقاطعند؛ زیرا  $۸ + ۴ < ۵ < ۸ + ۴$  یعنی  $|R - R'| < d < R + R'$  است. در حالت پ، دو دایره مماس برون می‌باشند چون  $۱۲ = ۹ + ۳$  یعنی  $d = R + R'$  است. در حالت ت، دو دایره برون هم هستند، زیرا  $۱۲ > ۶ + ۵$  یعنی  $d > R + R'$  است.

مثال ۲ - اگر  $d = ۱۲$  خط‌المركزين دو دایره (O و V) و (O' و R') باشد، حدود  $R'$  را چنان بیابید که این دو دایره متقاطع باشند.

حل - شرط متقاطع بودن دو دایره را نوشته به جای d و R مقدارهای داده شده را قرار می‌دهیم.

$$|R - R'| < d < R + R' \Rightarrow |۷ - R'| < ۱۲ < ۷ + R' \Rightarrow ۸ < R' < ۲۲$$

### فعالیت ۴

- ۱ - پاره خط  $OO'$  را به طول ۱ سانتی متر رسم کنید.
- ۲ - به مرکز O و به شعاع ۲ سانتی متر یک دایره (دایره C) و به مرکز O' و به شعاع ۱ سانتی متر دایره دیگری (دایره C') را رسم کنید.
- ۳ - قدرمطلق تفاضل شعاعهای این دو دایره چه قدر است؟ آیا اندازه خط‌المركزين این دو دایره با قدرمطلق تفاضل شعاعهای آنها برابر است؟ جاهای خالی را با عددها و علامت مناسب پر کنید.

$$|R - R'| = \dots \quad OO' = d = \dots \quad d \dots |R - R'|$$

۴ - این دو دایره چند نقطه مشترک دارند؟ ... نقطه. نام این نقطه چیست؟

تعریف - دو دایره که اندازه خط‌المركزينشان مساوی قدرمطلق تفاضل شعاعهای آن دو دایره باشد، دو دایره مماس درون (مماس داخل) نامیده می‌شوند، در فعالیت ۴ دو دایره (C) و (C') مماس درون هستند.  
در مورد دو دایره مماس در حالت کلی می‌توان گفت:

مثال ۲ - دایره‌های  $C(O, 2m-1)$  و  $C'(O', 2)$  با خط‌المركزين  $OO' = 3$  داده شده‌اند. حدود  $m$  را چنان بیابید که این دو دایره یکی درون دیگری (متداخل) باشد.

حل - داریم:

$$d < |R - R'| \Rightarrow 3 < |2m - 1 - 2| \Rightarrow 3 < |2m - 3|$$

$$\Rightarrow m > 3 \text{ و } m < 0$$

$m < 0$  غیرقابل قبول است زیرا شرط حقیقی بودن  $R$  آن است، که

$$2m - 1 \geq 0 \Rightarrow \boxed{m \geq \frac{1}{2}}$$

### فعالیت ۶

۱ - یک نقطه مانند  $O$  در نظر بگیرید.

۲ - به مرکز نقطه  $O$  و به شعاع ۲ سانتی‌متر یک دایره (دایره  $C$ ) و به مرکز  $O'$  و به شعاع ۱ سانتی‌متر دایره دیگری (دایره  $C'$ ) رسم کنید.

۳ - اندازه خط‌المركزين این دو دایره چه قدر است؟

۴ - این دو دایره چند نقطه مشترک دارند؟

تعریف - دو دایره که اندازه خط‌المركزينشان برابر صفر باشد، یعنی مرکزهایشان برهم منطبق باشند، دو دایره هم‌مرکز نامیده می‌شوند.

در فعالیت ۶ دو دایره هم‌مرکز هستند.

در مورد دو دایره هم‌مرکز می‌توان گفت:

شرط لازم و کافی برای آن که دو دایره هم‌مرکز باشند آن است که اندازه خط‌المركزينشان برابر صفر باشد.

### تمرین

دو دایره  $C(O, R)$  و  $C'(O', R')$  داده شده‌اند. تعیین

کنید که در چه حالت‌هایی دو دایره:

الف - غیرمتقاطع‌اند.

ب - مماس‌اند.

پ - متقاطع‌اند.

۳ - تفاضل شعاع‌های این دو دایره را تعیین کنید. آیا اندازه خط‌المركزين این دو دایره از تفاضل شعاع‌های دایره کمتر است؟

در جاهای خالی عددها و علامت مناسب بگذارید.

$$R - R' = \dots \quad OO' = d = \dots \quad d \dots R - R'$$

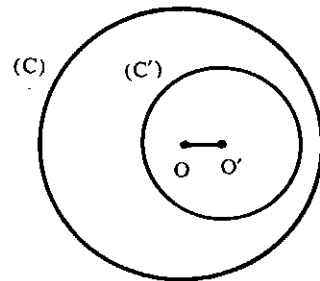
۴ - آیا این دو دایره، نقطه مشترک دارند؟

تعریف - دو دایره که اندازه خط‌المركزينشان کمتر از قدرمطلق تفاضل شعاع‌هایشان باشد، دو دایره متداخل نامیده می‌شوند.

در فعالیت ۵ دو دایره، متداخل هستند.

در مورد دو دایره متداخل در حالت کلی می‌توان گفت:

شرط لازم و کافی برای آن که دو دایره  $C(O, R)$  و  $C'(O', R')$  یکی درون دیگری (متداخل) باشند، آن است که اندازه خط‌المركزين آنها ( $d$ ) از تفاضل شعاع‌های دو دایره  $(R - R')$  کمتر باشد.



یعنی:  $d < R - R' \Leftrightarrow$  دو دایره درون هم (متداخل)

مثال ۱ - پاره خط  $OO'$  به طول ۶ سانتی‌متر خط‌المركزين دو دایره است که شعاع یکی از آنها  $R = 8$  سانتی‌متر است. حدود  $R'$  شعاع دیگری را چنان تعیین کنید، که این دو دایره یکی درون دیگری (متداخل) باشند.

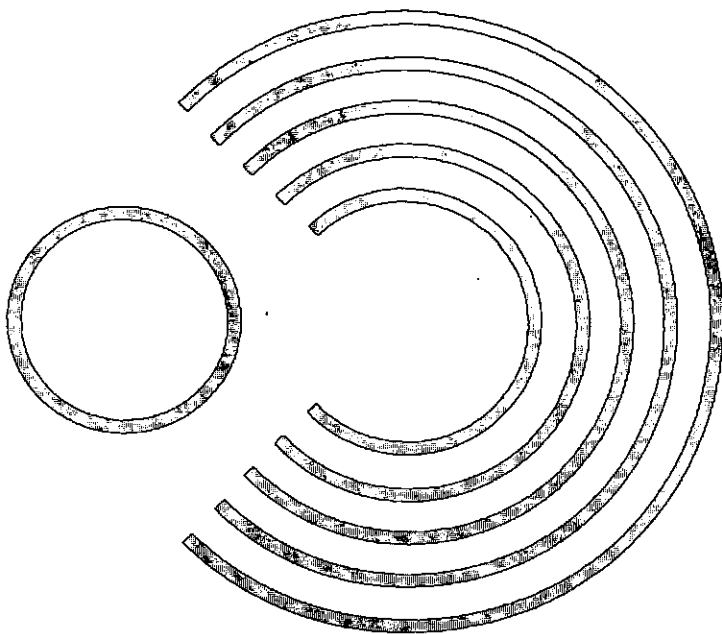
حل - داریم:

$$d < |R - R'| \Rightarrow 6 < |8 - R'|$$

$$\Rightarrow R' < 2 \text{ و } 6 < R' - 8 \Rightarrow R' > 14$$

# محاسبه مساحت دایره

● سیدمحمد رضا هاشمی موسوی



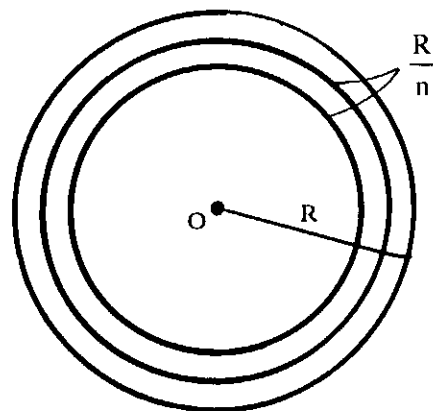
برای محاسبه مساحت دایره‌ای به شعاع  $R$ ، ابتدا آن را مطابق شکل به نوارهای باریکی به عرض  $\frac{R}{n}$  برش می‌دهیم تا حلقه‌های دایره‌ای شکل حاصل شود.

بدیهی است که اگر  $n$  را عددی بسیار بزرگ در نظر بگیریم، نوارهای بریده شده مستطیلهایی به عرض  $\frac{R}{n}$  هستند. از حد مجموع مساحت برشهای حاصله به عرض  $\frac{R}{n}$ ، وقتی  $n$  به سمت عددی طبیعی بی‌نهایت بزرگ میل کند؛ مساحت دایره به دست می‌آید:

$$\begin{aligned} & 2\pi \left( R - \frac{2R}{n} \right) \left( \frac{R}{n} \right) + 2\pi \left( R - \frac{3R}{n} \right) \left( \frac{R}{n} \right) + \dots + \\ & 2\pi \left( R - \frac{nR}{n} \right) \left( \frac{R}{n} \right) \\ &= \frac{2\pi R^2}{n} \left[ \frac{1}{n} + \left( 1 - \frac{1}{n} \right) + \left( 1 - \frac{2}{n} \right) + \left( 1 - \frac{3}{n} \right) + \dots + \left( 1 - \frac{n}{n} \right) \right] \\ &= \frac{2\pi R^2}{n} \left[ \frac{1}{n} + n - \left( \frac{1}{n} + \frac{2}{n} + \frac{3}{n} + \dots + \frac{n}{n} \right) \right] \\ &= \frac{2\pi R^2}{n} \left( \frac{1}{n} + n - \frac{1+2+3+\dots+n}{n} \right) \\ &= \frac{2\pi R^2}{n} \left( \frac{1}{n} + n - \frac{n(n+1)}{2n} \right) \\ &= \frac{2\pi R^2}{n} \left( \frac{1}{n} + n - \frac{n+1}{2} \right) = \frac{2\pi R^2}{n} \left( \frac{1}{n} + \frac{n}{2} - \frac{1}{2} \right) \end{aligned}$$

با فرض این که  $S$  حد مجموع مساحت برشهای حاصله باشد:

$$\begin{aligned} S &= \lim_{n \rightarrow \infty} \frac{2\pi R^2}{n} \left( \frac{1}{n} + \frac{n}{2} - \frac{1}{2} \right) = 2\pi R^2 \lim_{n \rightarrow \infty} \left( \frac{1}{n^2} + \frac{1}{2} - \frac{1}{2n} \right) \\ &= 2\pi R^2 \left( \frac{1}{2} \right) = \pi R^2 \Rightarrow \boxed{S = \pi R^2 \text{ (مساحت دایره)}} \end{aligned}$$

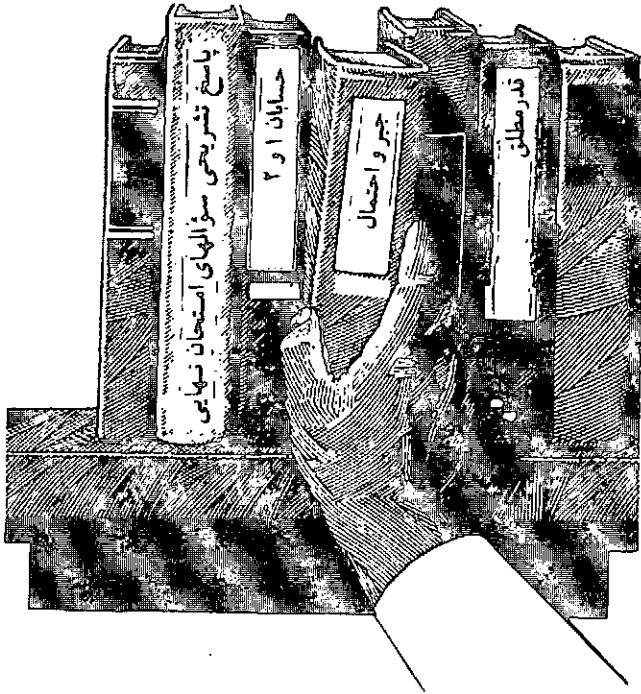


$$S_n = \underbrace{2\pi R}_{\text{طول مستطیل}} \left( \frac{R}{n} \right) + 2\pi \left( R - \frac{R}{n} \right) \left( \frac{R}{n} \right) +$$

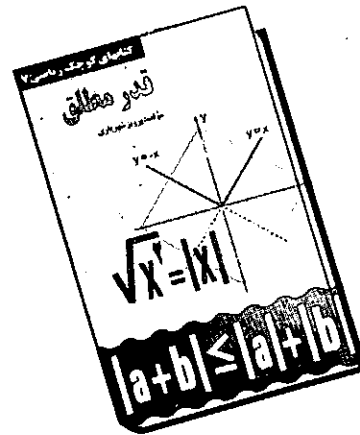
عرض  
مستطیل



# معرفی کتاب



قدر مطلق. فصل چهارم، نمایش تحلیلی شکلهای هندسی. فصل پنجم، یادداشتی درباره دامنه و بُرد. همچنین در آخر کتاب همه مسائل و تمرینهای مطرح شده در متن کتاب به صورت تشریحی حل و راهنمایی شده‌اند. مطالعه این کتاب را به همه دانش آموزان دبیرستانی و دبیران محترم توصیه می‌کنیم.



قدر مطلق  
تألیف: پرویز شهریاری  
ناشر: انتشارات مدرسه  
چاپ اول، زمستان ۱۳۷۵



پاسخ تشریحی سؤالات  
امتحان نهایی ریاضیات  
سال چهارم متوسطه  
(ریاضی فیزیک و علوم  
تجربی) سال ۱۳۷۴ و  
۱۳۷۵

تألیف: حمیدرضا امیری،  
محمد هاشم رستمی،

احمد قندهاری و سید محمد رضا هاشمی موسوی  
ناشر: انتشارات مدرسه

چاپ اول، زمستان ۱۳۷۵

از آنجایی که همواره دانش آموزان سال آخر دوره متوسطه با مسأله‌ای به نام امتحان نهایی مواجه بوده و همواره این عزیزان

این کتاب هفتمین کتاب از سری کتابهای کوچک ریاضی می‌باشد که در آن به موضوع و مفهوم قدر مطلق در مجموعه عددهای حقیقی پرداخته شده است.

مؤلف محترم، در این کتاب سعی بر این داشته‌اند تا دشواریهای ناشی از عدم تمرکز این مفهوم در کتابهای درسی نظام جدید را رفع نموده و دانش آموزان و دبیران محترم همه مطالب مربوط به مفهوم قدر مطلق را در یک کتاب مورد مطالعه و استفاده قرار دهند.

این کتاب شامل پنج فصل به قرار زیر می‌باشد:

فصل اول، تعریف‌ها و قراردادهای. فصل دوم، معادله‌ها و نامعادله‌های شامل قدر مطلق. فصل سوم، نمودار تابع‌های شامل

برای اولین بار در ریاضیات دبیرستانی، شیوه آموزش مفاهیم کتاب درسی از طریق طرح و حل تشریحی تستهای ۴ گزینه‌ای در این کتابها به کار رفته است.

اصولاً آموزش از طریق حل مسأله جزء شیوه‌های شناخته شده در آموزش ریاضیات می‌باشد و در این راستا مسائل ۴ گزینه‌ای با توجه به تنوع در گزینه‌ها شاید به گونه‌ای بهتر و مفیدتر بتوانند، جوابگوی این شیوه باشند.

در این کتابها همه مفاهیم، تعاریف، قضیه‌ها و حتی مثالها و تمرینهای کتاب درسی به صورت تستهای ۴ گزینه مطرح و در حل تشریحی تستها این مفاهیم کاملاً توضیح داده شده و حتی در مواردی نکات پس از بیان، اثبات نیز شده‌اند.

در حل تشریحی تستها فقط به تشریح گزینه مورد نظر اکتفا نشده و حتی الامکان هر ۴ گزینه تشریح شده‌اند تا همه نکات لازم بررسی شده باشند.


فصلهای این دو کتاب دقیقاً منطبق با فصلهای کتاب درسی جبر و احتمال و حسابان ۱ و ۲ است تا خواننده مبحث به مبحث که پیش می‌رود با برنامه درسی فاصله‌ای نداشته باشد.

در ابتدای هر فصل خلاصه‌ای از آنچه دانش آموز برای مطالعه آن فصل نیاز دارد به صورت فهرست وار، آورده شده است و در انتهای هر فصل نیز یک خودآزمایی قرار داده شده که کلید حل خودآزمایی‌ها نیز در انتهای کتاب آمده است. مطالعه این کتاب را به همه دانش آموزان و داوطلبان کنکور سراسری و پیش دانشگاهی توصیه می‌کنیم.

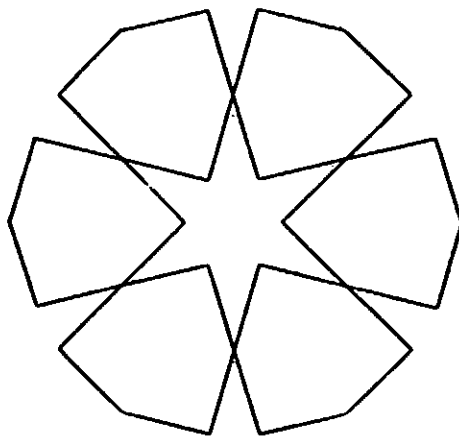
در پی آشنایی بیشتر با نحوه سؤالیهای امتحان نهایی می‌باشند، گروه مؤلفین در صدد در دسترس قرار دادن یک مجموعه کامل از این امتحانها برآمده و به این منظور چند دوره از امتحانهای برگزار شده در سالهای ۱۳۷۴ و ۱۳۷۵ را با حل تشریحی کامل در اختیار علاقه‌مندان قرار داده است.

در این کتاب سعی شده است تا مسائل طرح شده به صورت کاملاً خودآموز و با توضیح کافی حل شده و حتی در بسیاری از موارد از چندین روش برای حل یک مسأله استفاده شده است. از ویژگیهای این کتاب آن است که مؤلفین در حل تشریحی مسائل سعی بر این داشته‌اند که نکات لازم در حل مسائل گنجانده شود و در واقع نوعی آموزش در این میان مورد نظر بوده است.

مطالعه این کتاب را به تمامی دانش آموزان سالهای سوم و چهارم متوسطه و دبیران محترم توصیه می‌کنیم.

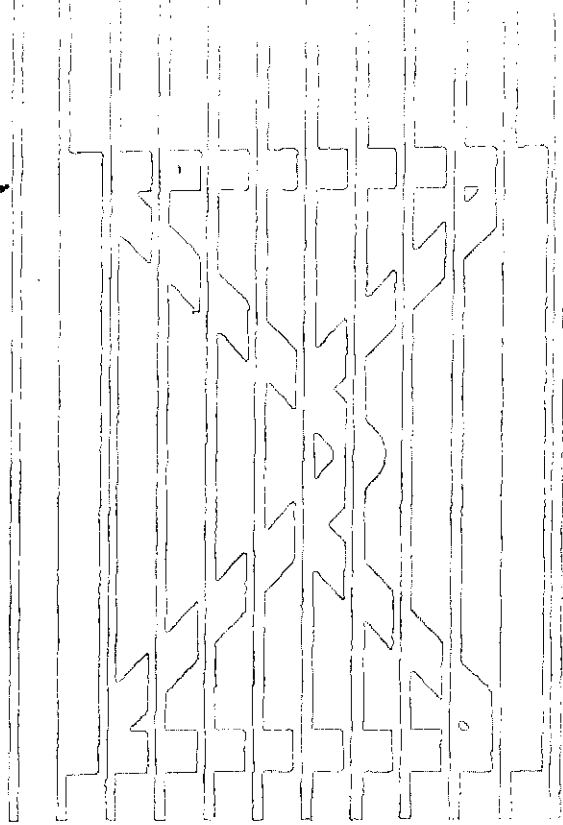


جبر و احتمال  
تألیف: حمیدرضا امیری  
ناشر: محراب قلم  
چاپ اول، زمستان ۱۳۷۵



حسابان ۱ و ۲  
تألیف: احمد قندهاری  
ناشر: محراب قلم  
چاپ اول، زمستان ۱۳۷۵

# جواب نامه‌ها



## ☞ خانم سهیلا جعفری (داراب)

از شما برای ارسال مطالبی پیرامون «قاعده‌ای برای جذر اعداد» و «معادله درجه دوم» متشکریم. البته در شماره‌های قبل برهان می‌توانید مطالب کاملی درباره معادله درجه دوم پیدا کنید. مطالب دیگر شما نیز در صورت لزوم و در جای مناسب چاپ خواهد شد.

## ☞ خانم سکینه سیدبنکدار، دانش آموز رشته تجربی (خوی)

از شما برای ارسال مطالبی پیرامون «محاسبه  $\sin(\alpha+\beta)$ » و «برش طلایی» و یک پارادوکس و گنگ بودن  $\sqrt{2}$ ، متشکریم. در صورت امکان در جای مناسب از آنان استفاده خواهد شد.

## ☞ روجا فرهادی، دانش آموز رشته تجربی (قانمشهر)

از شما برای ارسال مسایلی حل شده متشکریم. در صورت امکان از آنان استفاده خواهیم کرد.

## ☞ آقای رضا عاقلی؛ دانش آموز رشته ریاضی (سیاهکل)

از شما برای ارسال مسایلی همراه با حل متشکریم. در صورت لزوم از آنان استفاده خواهیم کرد.

## ☞ آقای ابراهیم کریمی؛ دانش آموز رشته ریاضی (سقز)

از این که حل تعدادی از مسایل برهان را ارسال کرده بودید، از شما متشکریم اما از این پس فقط حل مسایل مسابقه‌ای برهان را در زمان مقرر شده ارسال کنید.

## ☞ آقای کیوان شهاب لواسانی؛ دانش آموز رشته ریاضی

(تهران)

ضمن تشکر از شما برای ارسال مسایلی همراه با حل به عرض می‌رسانیم که هر مسأله حل شده جالب که برای دانش آموزان مناسب و مفید تشخیص داده شود، را به اسم ارسال کننده به چاپ خواهیم رساند. گرچه ممکن است برخی از مسایل ارسال شده از کتابهای درسی و یا کتابهای کمک آموزشی انتخاب شده باشد. مسایل خوبی که در صورت و یا حل آن اشکالی جزئی وجود داشته باشد در حد امکان اصلاح و به چاپ خواهد رسید. مجله ریاضی برهان همیشه از مسایل و مقالات مفید و مناسب برای دانش آموزان استقبال می‌کند.

## ☞ آقای حمیدرضا داوریان؛ دانش آموز رشته ریاضی

(شوشتر)

از شما برای ارسال حل مسایلی همراه با حل متشکریم. از آنان در شماره‌های آینده استفاده خواهیم کرد.



● محمدصادق عسگری

۱- نشان دهید برای هر عدد حقیقی  $x$  که  $x \neq 0, 1$  داریم،

$$1 < \left( \frac{2^x - 1}{x} \right) < 2$$

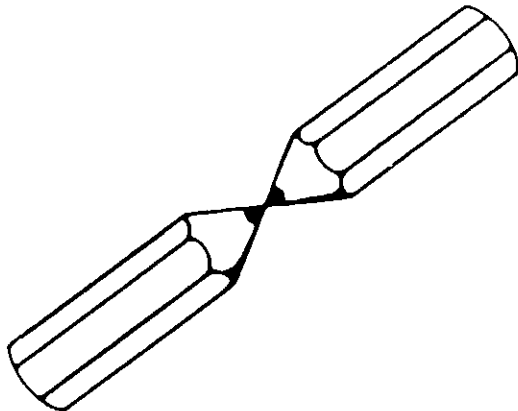
۲- فرض کنیم  $p > 5$  یک عدد اول باشد، قرار می‌دهیم

$$S = \{p \cdot n^2 : n \in \mathbb{Z}^+, n^2 < p\}$$

(برای مثال اگر  $p=31$ ، در این صورت  $S = \{6, 15, 22, 27, 30\}$ )

ثابت کنید  $S$  شامل دو عضو  $a, b$  است به طوری که  $1 < a < b$  و  $a|b$ .

تذکره: حل مسائل مسابقه‌ای برهان ۱۸ که باید در این شماره چاپ می‌شد به شماره بعد موکول گردید.



✎ آقای ابوالفضل بادرستانی، دانش آموز رشته ریاضی (اراک)

از شما برای ارسال یک مسأله همراه با حل متشکریم. در صورت امکان از آن استفاده خواهیم کرد. متذکر می‌شویم که اگر مسایل ارسالی در سطح دانش آموزان باشد و از نکات خوبی برخوردار باشد حتماً به چاپ خواهد رسید.

✎ آقای بهزاد کاظمی (اهواز)

از شما برای ارسال مسایلی همراه با حل متشکریم. از آنان در شماره‌های آینده استفاده خواهیم کرد.

✎ آقای محمدرضا شهرباری، دانش آموز رشته ریاضی (تهران)

از شما برای ارسال مطلبی در رابطه با «حل دستگاه سه معادله و سه مجهولی» متشکریم. متذکر می‌شویم که الگوریتمها و روشهای پیشرفته‌ای مانند روش گاوس، کرامر و... برای حل دستگاههای  $n$  معادله و  $m$  مجهولی وجود دارد که در آینده با آنان آشنا خواهید شد.

✎ آقای بهزاد بهنیا؛ دانش آموز رشته ریاضی (بجنورد)

از شما برای ارسال مسایلی حل شده متشکریم. در شماره‌های آینده از آنان استفاده خواهیم کرد.

✎ آقای حمیدرضا دیرند (یزد)

از شما برای ارسال حل مسایل برهان متشکریم. متذکر می‌شویم که ارسال حل مسایل برهان لزومی ندارد و شما می‌توانید حل مسایل مسابقه‌ای را در زمان معین شده ارسال کنید.

✎ آقای مهدی نامور؛ دانش آموز رشته ریاضی (بجنورد)


از شما برای ارسال مسایلی همراه با حل متشکریم. در صورت لزوم از آنان استفاده خواهیم کرد.

✎ آقای حسن جعفری؛ دانش آموز رشته ریاضی

(سلماس)

از شما برای ارسال یک مسأله همراه با حل متشکریم. در صورت لزوم از آن استفاده خواهیم کرد.

# مسائل برای حل



- محمد هاشم رستمی
- احمد قندهاری
- سید محمد رضا هاشمی موسوی
- حمیدرضا امیری
- حسین ابراهیم زاده قلزم

۶ - عدد اعشاری زیر را به صورت کسر متعارفی بنویسید.  
 $0.16\overline{54}$

۷ - در هر یک از عبارتهای زیر به جای ... عبارتی قرار دهید که هر عبارت مربع کامل شود.

الف :  $9x^2 - 4ax + \dots$

ب :  $4x^2 + 4ax + \dots$

۸ - تقسیم زیر را انجام دهید.

$$(x^4 + 3x^2 - 7x + 1) : (x - 1)$$

۹ - اگر  $x + y = p$  و  $xy = q$  ، مطلوب است تعیین

مقدار :  $x^2 + y^2$

۱۰ - حاصل عبارت زیر را به دست آورید.

$$\frac{a^2 + ac}{a^2c - c^3} - \frac{a^2 - c^2}{a^2c + 2ac^2 + c^3} + \frac{2c}{c^2 - a^2} - \frac{3}{a + c}$$

۱۱ - حاصل عبارتهای زیر را به کمک اتحادها به دست آورید.

الف :  $(a^n - b^2)(a^n + b^2)$

ب :  $(x^2y^2 - 2)^2$

۱۲ - حاصل عبارت زیر را به دست آورید.

$$\left(1 - \frac{1}{3}\right)\left(1 + \frac{1}{9}\right)\left(1 + \frac{1}{81}\right)\left(1 + \frac{1}{6561}\right)$$

سؤالات امتحانی ریاضی (۱) پایان ترم

۱ - مجموعه  $M = \{1, 3, 5, 7, 9, 12\}$  را به عنوان مجموعه مرجع در نظر بگیرید. زیرمجموعه‌های زیر از  $M$  را مشخص کنید.

الف : زیرمجموعه‌ای که اعضای آن اعداد فرد باشد.

ب : زیرمجموعه‌ای که اعضای آن از ۹ بزرگتر باشد.

ج : زیرمجموعه‌ای از آن که مضربی از ۳ باشد.

۲ - طرف دوم تساویهای زیر را بنویسید.

الف :  $A - \emptyset = ?$

ب :  $A - A = ?$

۳ - اعداد زیر را به صورت نماد علمی بنویسید.

الف :  $0.00005$

ب :  $0.0007942$

۴ - با استفاده از ضرب یک جمله‌ایها، مقدار صحیح  $r$  را

در هر یک از تساویهای زیر تعیین کنید.

الف :  $(14)^{2r+5} = 14^{25}$

ب :  $x^{10} \cdot x^{18} = x^{32+r}$

۵ - عبارتهای زیر را ساده کنید.

الف :  $(3x^2y^2)(-7xy) + (xy)(-5x^2y^2)$

ب :  $(x^2 - 3x + 5) + (2x^2 + 5x - 4) - (3x^2 - 2x - 1)$

۱۲ - عبارتهای زیر را به عاملهای اول تجزیه کنید.

$$\text{الف: } x^2 - 8x + 12$$

$$\text{ب: } x^4 y^2 - x^2 y^4$$

$$14 - \text{در صورتی که داشته باشیم: } \begin{cases} A = 3x - 6y + 9z \\ B = -x + y + 2z \\ C = 2x + 3y - z \end{cases}$$

حاصل عبارت  $\frac{A}{3} + 2B - C$  را به دست آورید.

۱۵ - اگر  $a > 1$  و  $a$  عدد گویا باشد، ثابت کنید:

$$1 < \frac{2a}{a+1} < a$$

سوالهای امتحانی ریاضی (۲) پایان ترم

۱ - نقاط  $A(-1, 2)$  و  $B(3, 4)$  مفروضند. مختصات نقطه  $C$  واقع بر محور طولها را طوری بیابید که فاصله آن از  $A$  و  $B$  برابر باشد.

۲ - نقاط  $A \begin{vmatrix} a+b \\ 3a-mb \end{vmatrix}$  و  $B \begin{vmatrix} ma-2b \\ b-2a \end{vmatrix}$  به ازای چه

مقادیری از  $m$  نمی‌توانند نسبت به نقطه  $M \begin{vmatrix} -1 \\ 1 \end{vmatrix}$  قرینه یکدیگر باشند.

۳ - نقاط  $M \begin{vmatrix} -2 \\ 2 \end{vmatrix}$  و  $N \begin{vmatrix} 2 \\ -1 \end{vmatrix}$  و  $P \begin{vmatrix} -1 \\ 4 \end{vmatrix}$  وسط ضلعهای یک مثلث قرار دارند، مختصات رأسهای مثلث را حساب کرده و سپس مجموع فاصله‌های مرکز ثقل مثلث (محل تلاقی میانه‌ها) را از رأسهای مثلث حساب کنید.

۴ - معادله درجه دوم  $x^2 - 3x - 2 = 0$  مفروض است.  
الف) معادله‌ای تشکیل دهید که ریشه‌هایش ۵ واحد کمتر از ریشه‌های معادله مفروض باشد. ب) معادله‌ای تشکیل دهید که ریشه‌هایش عکس قرینه ریشه‌های معادله مفروض باشد. ج) معادله‌ای تشکیل دهید که ریشه‌هایش مجذور ریشه‌های معادله مفروض باشد.

۵ - عبارت  $p(x) = -x^2 - (m+1)x + m$  مفروض است.  
الف) حدود  $m$  را چنان تعیین کنید که  $p(x)$  به ازای جمیع مقادیر  $x$  منفی شود. ب)  $m$  را چنان تعیین کنید که معادله  $p(x) = 0$  دارای ریشه حقیقی باشد.

۶ - اگر  $x_1$  و  $x_2$  ریشه‌های معادله درجه دوم:

۷ - عبارت زیر به ازای چه مقادیری از  $x$  عدد حقیقی است:

$$A = \frac{x_1}{x_2} \sqrt{\frac{x_1}{x_2}} + \frac{x_2}{x_1} \sqrt{\frac{x_2}{x_1}}$$

$$B = x_1^{2n+2} + x_2^{2n+2} + \frac{1}{x_1^{2n+2}} + \frac{1}{x_2^{2n+2}}$$

۸ - در سهمی  $y = 2x^2 + px^{10} + p^{10}x + p^{10}$  مقدار  $p$  را چنان

تعیین کنید که خط  $x = \frac{1}{\sqrt{76}}$  محور تقارن آن باشد.

$$p(x) = \sqrt[2]{\frac{x^2 - 4}{x(x^2 - 1)}} + \sqrt[2]{\frac{x^2 + 1}{-x^2}}$$

۹ - مخرج کسر زیر را گویا کنید:

$$\frac{1}{3\sqrt{8} + 2\sqrt[4]{4} + 2\sqrt[12]{64} + \sqrt[3]{2} - 11\sqrt{2}}$$

۱۰ - نمودار هر یک از معادلات زیر را رسم کنید.

$$\text{الف) } (x^2 - y^2)(x + y - 1) = 0$$

$$\text{ب) } x^2 y^2 + x^2 y = x^2 y$$

۱۱ - درستی تساویهای زیر را تحقیق کنید.

$$\text{الف) } (\sin x + \cos x)(\tan x + \cot x) = \frac{1}{\sin x} + \frac{1}{\cos x}$$

$$\text{ب) } \frac{4 \tan 135^\circ + 2 \sin 33^\circ + \cos 24^\circ + 5 \cot 225^\circ}{20 \sin 21^\circ + \cos 45^\circ - \cot 135^\circ + 10 \tan 225^\circ} = -\frac{1}{2}$$

۱۲ - از برابری زیر مقدار  $\cos x$  را حساب کنید.

$$(x \neq k\pi)$$

$$\left( \frac{\sin x}{1 - \cos x} \right)^{2n-1} + 3 \left( \frac{1 + \cos x}{\sin x} \right)^{2n-1} = \left( \frac{1}{2} \right)^{2n-2}$$

۱۳ - بین دو رابطه زیر پارامتر  $t$  را حذف کنید (معادله

مستقل از  $t$  را بیابید) و سپس نمودار معادله را رسم کنید.

$$x = 2 \sin t - 1, \quad y = 4 \cos^2 t + 1$$

۱۴ - سه عدد متوالی چنان بیابید که حاصلضرب آنان ۵

برابر مجموعشان باشد.

۱۵ - ثابت کنید اگر  $x$  در ناحیه اول یا چهارم باشد،

$$\text{نامساوی زیر برقرار است: } \operatorname{tg} x + \cot x \geq 2$$

سوالهای امتحانی ریاضی (۳) پایان ترم

۱- نقاط  $A(2\beta, \beta)$  و  $B(\beta+3, \beta-4)$  دو رأس مثلث  $ABC$  باشند و معادله میانه نظیر رأس  $C$  خط  $y=5$  مختصات وسط  $AB$  را بدست آورید.

۲- نقاط  $A(2,1)$  و  $B(-2,-1)$  و  $C(-1,-1)$  در صفحه مختصات مفروضند نقطه  $D$  رأس چهارم متوازی الاضلاع  $ABCD$  را بقسمی تعیین کنید که  $AD$  و  $AB$  دو ضلع آن باشند ثانیاً اگر محورهای مختصات را به نقطه  $R$  محل تلاقی اقطار متوازی الاضلاع منتقل کنیم مختصات  $B$  را در دستگاه جدید تعیین کنید.

۳- معادله زیر را حل کنید...

$$\frac{2y}{x+y} - \frac{(x+y)}{(x-y)} + \frac{2x}{x^2-y^2} = 3$$

۴- عبارت زیر را ساده کنید.

(الف)  $\sqrt{3}(\sqrt{2}-2\sqrt{5}+2\sqrt{3})$   
 (ب)  $\sqrt{75} + \sqrt{48} + 2\sqrt{8} + 2\sqrt{32}$   
 (ج)  $\sqrt{3} + \sqrt{6} + \sqrt{3}$

۵- معادله  $(a-3)^2 = (a-3) + 4$  را حل کنید.

۶- کسر زیر را گویا کنید.

$$\frac{3\sqrt{2}}{\sqrt{3}-\sqrt{2}+2\sqrt{5}}$$

۷- تابع با ضابطه  $y=2x^2-3$  روی مجموعه اعداد حقیقی تعریف شده است. نسبت  $\frac{\Delta y}{\Delta x}$  را تشکیل دهید و آن را خلاصه نمایید.

۸- منحنی نمایش  $y=4x^2-2$  را رسم نمایید.

۹- مطلوب است رسم نمودار  $y=[3x+1]$  در فاصله  $[-1, 2]$ .

۱۰- تابع های  $f$  و  $g$  با ضابطه  $f(x)=4x-1$  و  $g(x)=\sqrt{x^2-4}$  در  $R$  تعریف شده اند. اولاً با استفاده از نمودار ثابت کنید که تابع  $f$  یک تابع  $f$  یک به یک است. ثانیاً مقدار عددی  $g(f(2))$  را حساب کنید.

۱۱- لگاریتم زیر را محاسبه کنید.

$$2 \log_7 \sqrt[6]{4} - 4 \log_7^1 + \log_5^{25}$$

۱۲- اگر  $\log 2 = a$  و  $\log 3 = b$  باشد  $\log 12$  را حساب کنید.

۱۳- اگر جمله اول یک تصاعد عددی  $m$  و جمله پنجم آن ۳ برابر جمله سوم باشد قدر نسبت آن را برحسب  $m$  بدست آورید.

۱۴- اگر جمله های دوم و هشتم یک تصاعد هندسی برابر با  $\frac{1}{4}$  و  $\frac{1}{6}$  باشند جمله چهاردهم این تصاعد را حساب کنید.

سوالهای امتحانی ریاضی (۴) پایان ترم

۱- با توجه به اعداد روبرو  $\{7, 11, 7, 8, 9, 8, 12, 11, 8\}$

(الف) میانگین - میانه - مد را مشخص کنید.

(ب) جدول فراوانی و انحراف معیار را مشخص کنید.

۲- حدود  $m$  را به طریقی تعیین کنید که نامساوی زیر به ازای جميع مقادیر  $x$  برقرار باشد.

$$(m+1)x^2 - 8x + (m+1) < 0$$

۳- نامعادله زیر را حل کرده و مجموعه جواب را مشخص کنید.

$$\frac{(5x^2 + 4x + 1)}{(5-x)(-x-x^2+6)} < 0$$

۴- اگر  $\tan(\alpha+\beta) = \frac{-1}{4}$  و  $\tan \alpha = 3$  باشد،  $\tan \beta$  را محاسبه کنید.

۵- اگر  $\vec{OA} = \begin{bmatrix} -3 \\ 2 \end{bmatrix}$  و  $\vec{OB} = \begin{bmatrix} 2 \\ -2 \end{bmatrix}$  و  $\vec{OC} = \begin{bmatrix} -2 \\ 4 \end{bmatrix}$

باشند مطلوبست تعیین  $\vec{OX}$  با شرط  $\vec{AX} = \vec{XB} + 2\vec{AC}$

۶- بردارهای  $\vec{v} = 3\vec{i} - 2\vec{j}$  و  $\vec{u} = 2\vec{i} - 4\vec{j}$  مفروضند،

(الف) طول بردار  $\vec{u} + \vec{v}$  را محاسبه کنید.

(ب) ضرب درونی  $\vec{u} \cdot \vec{v}$  را محاسبه کنید.

۷- به ازای چه مقادیری از  $m$  دستگاه زیر جواب ندارد.

$$\begin{cases} mx - y = 6 \\ -4x + my = 2 \end{cases}$$

۸- اگر  $A = \begin{bmatrix} 1 & 2 \\ 7 & 0 \end{bmatrix}$  و  $f(x) = x^2 - x$  باشند، مطلوبست  $f(A)$ .

۹- اگر  $A = \begin{bmatrix} 2 & 1 \\ 4 & 3 \end{bmatrix}$  و  $B = \begin{bmatrix} 1 & -1 \\ 2 & 3 \end{bmatrix}$  باشند، ثابت کنید:

$$(AB)^{-1} = B^{-1} \cdot A^{-1}$$

۱۰- الف) چند عدد طبیعی چهار رقمی وجود دارد؟

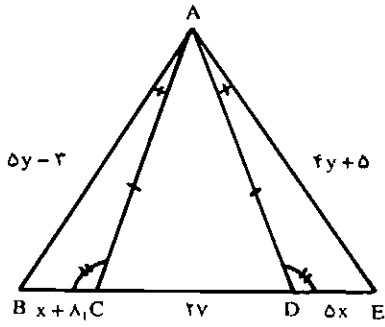
ب) چند عدد چهار رقمی طبیعی با ارقام مختلف وجود دارد؟

ج) چند عدد چهار رقمی که همه ارقامش فرد باشد وجود دارد؟

۱۱- در یک کیسه ۵ مهره سفید و ۶ مهره سیاه موجود است. ۲ مهره به تصادف از کیسه خارج می کنیم مطلوبت احتمال اینکه:

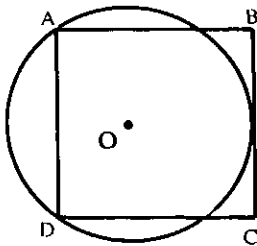
الف) هر دو مهره سیاه باشد.

ب) یک مهره سیاه و یک مهره سفید باشد.



۴- در مثلث ABC، ضلع  $a = x - 1$ ، ارتفاع  $h_a = 2x - 6$  و مساحت مثلث  $S = x^2 - 13$  است. الف- اندازه ضلع  $a$  را به دست آورید. ب- اگر ضلع  $b = 2\sqrt{2}$  باشد، اندازه ضلع  $c$  و دو ارتفاع دیگر را تعیین کنید.

۵- اندازه ضلع مربع ABCD برابر ۸cm است. دایره ای که از رأسهای A و D گذشته بر ضلع BC مماس است.

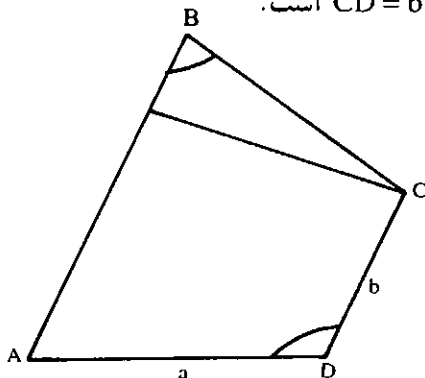


اندازه شعاع این دایره چه قدر است؟

«فرستنده آتوسا علی اکبری از تهران»

۶- در دوزنقه ABCD،  $\hat{D} = 2\hat{B}$  و ساق  $AD = a$  و

قاعده  $CD = b$  است.

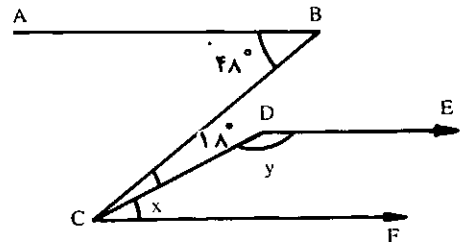


اندازه AB را بر حسب  $a$  و  $b$  تعیین کنید.

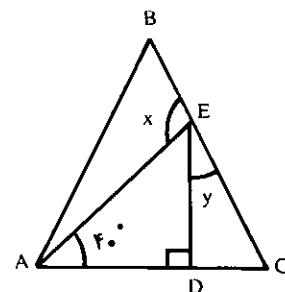
«فرستنده از نیشابور دانش آموز سروری»

مسئله های هندسه ۱ نظام جدید آموزشی

۱- در شکل زیر، پیکانها خطهای موازی را مشخص می کنند. اندازه  $x$  و  $y$  را بیابید.

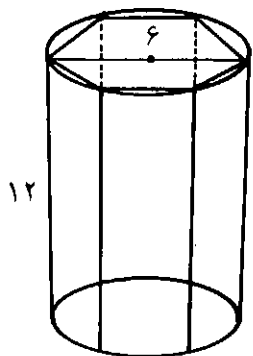


۲- مثلث ABC متساوی الاضلاع است. اندازه  $x$  و  $y$  را تعیین کنید.



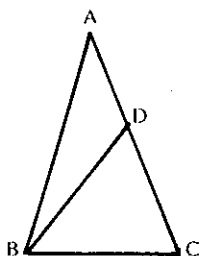
۳- در دو مثلث متساوی ABC و ADE، ضلعها و زاویه های متناظر مشخص شده اند. اندازه  $x$  و  $y$  و محیط مثلث ABE را تعیین کنید.





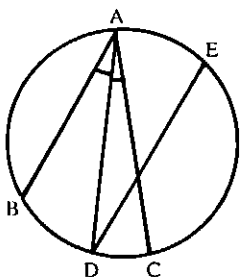
مسأله‌های هندسه ۲، نظام جدید آموزشی

- ۱- ثابت کنید شرط لازم و کافی برای آن که دوزنقه‌ای محاطی باشد، آن است که متساوی الساقین باشد.
- ۲- در مثلث متساوی الساقین  $(AB = AC)ABC$ ، نقطه  $D$  را به نقطه  $A$  که روی ساق  $AC$  (بین دو نقطه  $A$  و  $C$ ) است وصل می‌کنیم. ثابت کنید  $BD > DC$  است.

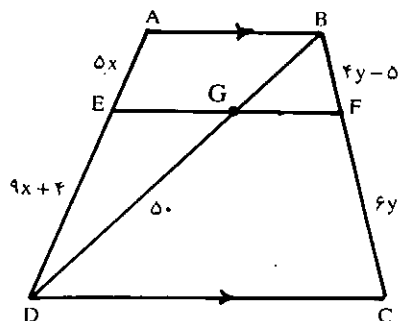


- ۳- حدود  $m$  را به قسمی بیابید که  $2m - 3$  و  $4 - m$  و  $3$  ضلعهای یک مثلث باشند.
- ۴- از مثلثی اندازه سه میانه معلوم است. این مثلث را رسم کنید.

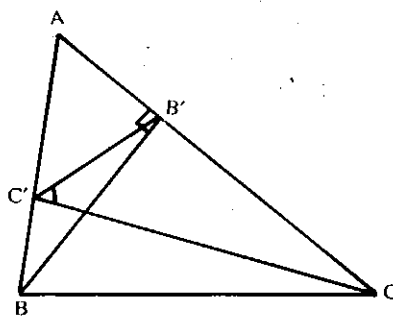
- ۵- زاویه  $BAC$  در یک دایره محاط است. نیمساز این زاویه دایره را در نقطه  $D$  قطع می‌کند. ثابت کنید وتر  $DE$  که



- ۷- با توجه به مقادیر داده شده در دوزنقه  $ABCD$ ، اندازه  $x$  و  $y$  و ساقهای دوزنقه را تعیین کنید.



- ۸- در مثلث  $ABC$  ارتفاعهای  $BB'$  و  $CC'$  را رسم کرده‌ایم:  
الف- ثابت کنید دو مثلث  $ABB'$  و  $ACC'$  متشابه‌اند و رابطه  $AC' \cdot AB = AB' \cdot AC$  برقرار است.



- ب- ثابت کنید مثلث  $AB'C'$  با مثلث  $ABC$  متشابه است.
- ب- مثلثهای دیگری را که از رسم سه ارتفاع پدید می‌آیند و با مثلث  $ABC$  متشابه‌اند، مشخص کنید.

- ۹- حجم مکعب مستطیلی به ابعاد  $a$  و  $b$  و  $c$  برابر  $648$  سانتی متر مکعب و ابعاد آن در رابطه  $\frac{a}{2} = \frac{b}{3} = \frac{c}{4}$  صدق می‌کنند. اندازه قطر این مکعب مستطیل و سطح کل آن را تعیین کنید.

- ۱۰- در استوانه دواری به ارتفاع  $12$  سانتی متر و شعاع قاعده  $8$  سانتی متر منشور شش پهلوئی منتظمی محاط کرده‌ایم. اندازه حجم این منشور و نسبت سطح جانبی منشور به سطح جانبی استوانه را تعیین کنید.

را تحت تبدیل  $T(x, y) = (2x - 1, y + 2)$  به دست آورید. اگر نقطه‌ای به طول ۲ و  $A$  نقطه‌ای به عرض ۳ روی خط باشند، مختصات نقطه‌های  $A'$  و  $B'$  تصویرهای این دو نقطه روی خط  $D'$  را تعیین کنید. طول پاره‌خطهای  $AB$  و  $A'B'$  را محاسبه و با هم مقایسه کنید. آیا این تبدیل یک ایزومتري است؟

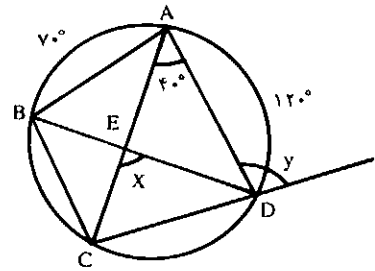


## ادب ریاضی

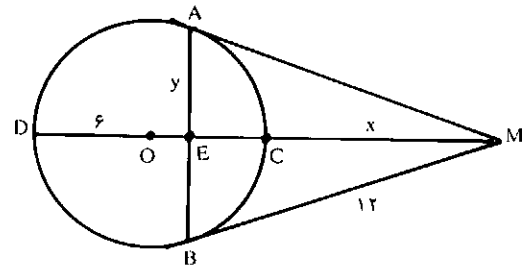
تمام مسائلی از ریاضیات که ذهن بزرگترین ریاضی‌دانان قرن هفدهم را مشغول می‌داشت امروزه در داخل تئوریهای بزرگتری مستهلک شده‌اند و یا وارد اطلاعات عمومی ریاضیات شده‌اند و هر محصل دبیرستانی قادر به درک آنها است، به جز مسائل تئوری اعداد. به طوری که امروزه اطلاعات ما دربارهٔ بسیاری از مسائلی که ذهن فرما را به خود مشغول کرده بود، بیش از آن نیست که در زمان فرما بوده است.

کتاب ریاضی‌دانان نامی،  
یادداشت مترجم

موازی  $AB$  رسم شود، با وتر  $AC$  برابر است.  
۶- اندازه  $x$  و  $y$  را تعیین کنید (چهارضلعی  $ABCD$  محاطی و  $BD$  و  $AC$  قطرهای آن می‌باشند).



۷- در شکل داده شده خطهای  $MA$  و  $MB$  در نقطه‌های  $A$  و  $B$  بر دایره مماسند، با توجه به مقادیر داده شده اندازه  $x$  و  $y$  را تعیین کنید.



۸- دو دایره  $C(O, 5)$  و  $C'(O', 3)$  داده شده‌اند. اگر  $OO' = 10$  باشد، نسبت اندازه مماس مشترک درونی به اندازه مماس مشترک برونی این دو دایره را تعیین کنید.

۹- نقطه‌های  $A = (3, 0)$  و  $B = (-2, 4)$  و  $C = (-1, 2)$  رأسهای مثلث  $ABC$  می‌باشند.

الف - مختصات نقطه  $G$  محل برخورد میانه‌های این مثلث را تعیین کنید (می‌توانید از رابطه‌های  $y_G = \frac{y_A + y_B + y_C}{3}$  و  $x_G = \frac{x_A + x_B + x_C}{3}$  استفاده کنید).

ب - مثلث  $ABC$  و تصویرش را تحت تبدیلی که رأس  $A$  را بر روی نقطه  $G$  تصویر می‌کند رسم کنید.

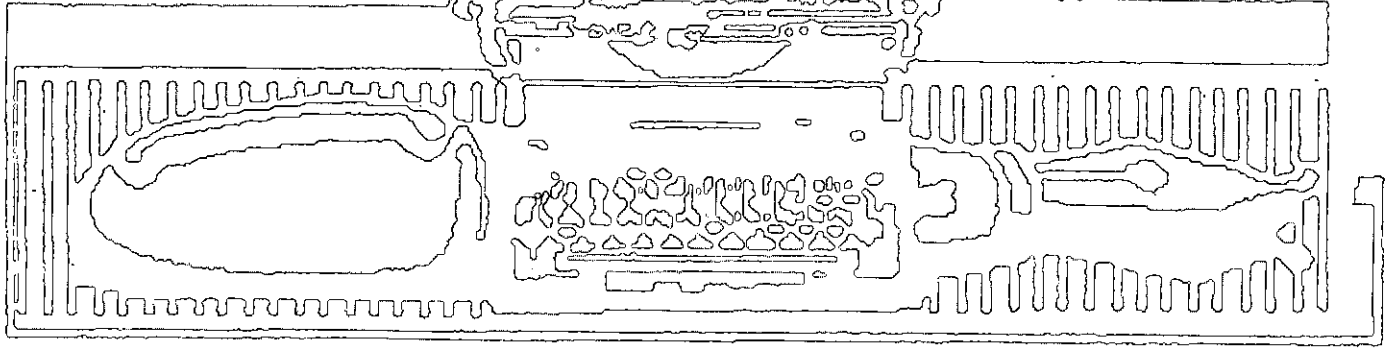
پ - قاعده این نگاشت را بنویسید.

ت - مختصات نقطه‌های تبدیل یافته تحت انتقال بالا (مختصات رأسهای مثلث  $A'B'C'$ ) را به دست آورید.

۱۰- معادله خط  $D'$  تبدیل یافته خط  $D: 2x + y - 3 = 0$

# برهان شماره ۱۹

# حل مسائل



۷- با توجه به شرط  $0 < x < \frac{\pi}{4}$  عبارت را به صورت زیر

$$\begin{aligned} & \sqrt{1 - \sin^2 x} \left[ \frac{\cos x}{1 + \sin x} + \frac{1 + \sin x}{\cos x} \right] \\ &= \sqrt{\cos^2 x} \left[ \frac{\cos^2 x + (1 + \sin x)^2}{\cos x(1 + \sin x)} \right] \\ &= |\cos x| \left[ \frac{\cos^2 x + 1 + 2\sin x + \sin^2 x}{\cos x(1 + \sin x)} \right] \\ & \left( 0 < x < \frac{\pi}{4} \right) \cos x \left[ \frac{2 + 2\sin x}{\cos x(1 + \sin x)} \right] \\ &= \cos x \left[ \frac{2(1 + \sin x)}{\cos x(1 + \sin x)} \right] \\ &= \frac{2 \cos x}{\cos x} \end{aligned}$$

$$(2)$$

۸- با توجه به برابریهای زیر:

$$\begin{aligned} \sin(15^\circ) &= \sin(18^\circ - 3^\circ) = \sin 3^\circ \cos 18^\circ - \cos 3^\circ \sin 18^\circ \\ \cos 12^\circ &= \cos(18^\circ - 6^\circ) = \cos 6^\circ \cos 18^\circ + \sin 6^\circ \sin 18^\circ \end{aligned}$$

$$(y-x)^2 \left(\frac{1}{4}\right)^2 - (x+y)^2 \left(-\frac{1}{4}\right)^2 + xy = 0$$

$$\frac{1}{4}(y^2 - 2yx + x^2) - \frac{1}{4}(x^2 + 2xy + y^2) + xy = 0$$

$$\begin{aligned} \frac{y^2 - 2xy + x^2 - x^2 - 2xy - y^2}{4} + xy &= 0 \\ \Rightarrow \frac{-4xy}{4} + xy &= 0 \end{aligned}$$

$$\Rightarrow m=1 \text{ یا } m=2$$

$$\frac{AM}{BM} = \frac{x_M + 3}{x_M - 4} = \frac{-5}{6} \Rightarrow 6x_M + 18 = -5x_M + 20$$

$$\Rightarrow x_M = \frac{2}{11}$$

۵- با توجه به برابریهای زیر:

$$\sqrt{16} = \sqrt{2 \times 2^2} = 2\sqrt{2} \text{ و } \sqrt{4} = \sqrt{2^2} = \sqrt{2} \text{ و } \sqrt{54} = \sqrt{2 \times 3^2 \times 3} = 3\sqrt{2}$$

$$\frac{2\sqrt{2}}{2 \times 2\sqrt{2} - 2\sqrt{2} + \sqrt{2} + 2 \times 2\sqrt{2} - 3\sqrt{2} - \sqrt{2}} = \frac{2\sqrt{2}}{4\sqrt{2} - 2\sqrt{2} - \sqrt{2} + 4\sqrt{2} - 3\sqrt{2} - \sqrt{2}} = \frac{2\sqrt{2}}{2\sqrt{2}}$$

۶- الف) معادله را به صورت زیر می‌نویسیم:

$$\begin{aligned} 3m^2x - 27x &= m^2 \Rightarrow (3m^2 - 27)x = m^2 \\ \Rightarrow x &= \frac{m^2}{3m^2 - 27} \end{aligned}$$

معادله وقتی جواب ندارد که داشته باشیم:

$$\begin{cases} m^2 \neq 0 \\ 3m^2 - 27 = 0 \\ m^2 = 9 \end{cases} \Rightarrow \begin{cases} m \neq 0 \\ m = \pm 3 \end{cases} \Rightarrow m = \pm\sqrt{9}$$

ب) معادله را به صورت زیر می‌نویسیم:

$$(m^2 - 3m + 2)x = -2m - 1 \Rightarrow x = \frac{-(2m+1)}{m^2 - 3m + 2}$$

معادله وقتی جواب ندارد که داشته باشیم:

$$\begin{cases} 2m+1 \neq 0 \\ m^2 - 3m + 2 = 0 \end{cases} \Rightarrow \begin{cases} m \neq -\frac{1}{2} \\ (m-1)(m-2) = 0 \end{cases} \Rightarrow \begin{cases} m \neq -\frac{1}{2} \\ m = 1 \text{ یا } m = 2 \end{cases}$$

## حل مسایل ریاضیات ۲:

۱- از تلاقی معادلات خطوط دو قطر، مختصات مرکز مربع به دست می‌آید:

$$\begin{cases} y = -2x - 1 \\ y = \frac{1}{2}x + \frac{1}{2} \end{cases} \Rightarrow -2x - 1 = \frac{1}{2}x + \frac{1}{2} \Rightarrow x = -\frac{3}{5}, y = \frac{1}{5}$$

$$OG = \sqrt{\left(-\frac{3}{5}\right)^2 + \left(\frac{1}{5}\right)^2} = \frac{\sqrt{10}}{5}$$

۲- فاصله نقطه  $A(-1, 2)$  از خط  $2x - y + h = 0$  چنین است:

$$AH = \frac{|-2 - 2 + h|}{\sqrt{1+4}} = \frac{|h-4|}{\sqrt{5}}$$

$$AH = \frac{\sqrt{5}}{h} \Rightarrow \frac{|h-4|}{\sqrt{5}} = \frac{\sqrt{5}}{h}$$

$$\Rightarrow h(h-4) = \pm 5 \Rightarrow h^2 - 4h - 5 = 0 \Rightarrow h = 2 \pm \sqrt{4+5}$$

$$\Rightarrow h = 2 \pm \sqrt{9} = 2 \pm 3 \Rightarrow h = 5 \text{ یا } h = -1$$

معادله  $h^2 - 4h + 5 = 0$  ریشه حقیقی ندارد. بنابراین مقدار مثبت  $h$  چنین است:

$$h = 5$$

۳- شیب خطی که از دو نقطه  $A$  و  $B$  می‌گذرد:

$$m = \frac{y_B - y_A}{x_B - x_A} = \frac{2-1}{3+1} = \frac{1}{4} \text{ و } A(-1, 1) \Rightarrow$$

$$y-1 = \frac{1}{4}(x+1) \Rightarrow 4y-4 = x+1 \Rightarrow 4y-x-5=0$$

$$C\left(m, \frac{1}{4}\right) : 3\left(\frac{1}{4}\right) - 4 = m \Rightarrow m = -\frac{11}{4}$$

$$\overline{AM} = x_M - x_A \text{ و } \overline{BM} = x_M - x_B \text{ و } x_A = -2 \text{ و } x_B = 2$$

و در نتیجه:

$$-xy + xy = 0 \quad (2)$$

نساری (2) به ازای هر عدد حقیقی x و y همیشه درست است. بنابراین نساری (1) یک اتحاد است.

۹- معادله محور تقارن سهمی به معادله عمومی  $y = ax^2 + bx + c$  چنین است:

$$x = -\frac{b}{2a}$$

بنابراین معادله محور تقارن سهمی به معادله  $y = x^2 - mx$  چنین است:

$$x = -\frac{-m}{2} = \frac{m}{2} \text{ و } x = 2 \Rightarrow \frac{m}{2} = 2 \Rightarrow \boxed{m = 4}$$

### حل مسایل ریاضیات ۴

۱- مجموعه جوابهای مشترک از حل دستگاه نامعادلات

توأم زیر به دست می آید:

$$\begin{cases} 2x^2 - 6x > 0 \\ -3x^2 - 4x < 1 \end{cases} \Rightarrow \begin{cases} x(x-3) > 0 \\ (x+1)(3x+1) > 0 \end{cases} \quad (1)$$

برای حل دستگاه نامعادلات (1) جدول زیر را تشکیل می دهیم:

x	-∞	-1	-1/3	0	3	+∞
$x(x-3)$	+	+	+	-	-	+
$(x+1)(3x+1)$	+	-	+	+	+	+
جواب		جواب	جواب	جواب	جواب	
		$x < -1$	$-\frac{1}{3} < x < 0$		$x > 3$	

از شرط  $x^2 < \frac{1}{16}$  نتیجه می شود:

$$|x| < \frac{1}{4} \Rightarrow -\frac{1}{4} < x < \frac{1}{4} \quad (2)$$

بنابراین مجموعه جوابهای مشترک نامعادلات (2) چنین است:

$$\{x | x \in \mathbb{R}, -\frac{1}{4} < x < 0\}$$

۲- برای این که عبارت P تعریف شده باشد، باید داشته

باشیم:

$$\begin{cases} x+1 \geq 0 \\ x > 0 \\ x-\sqrt{x} \neq 0 \end{cases} \Rightarrow \begin{cases} x \geq -1 \\ x > 0 \\ x \neq 0, x \neq 1 \end{cases} \Rightarrow x > 0, x \neq 1$$

$$\Rightarrow \boxed{x \in \mathbb{R}^+ - \{1\}}$$

۳- ابتدا ریشه هر یک از عاملها را در صورت وجود به دست می آوریم:

$$-x^2 + 3x - 2 = 0 \Rightarrow x^2 - 3x + 2 = 0$$

$$\Rightarrow (x-1)(x-2) = 0$$

$$\Rightarrow x-1=0 \text{ یا } x-2=0 \Rightarrow x=1 \text{ یا } x=2$$

$$x=0 \text{ و } x^2-1=0 \Rightarrow x^2=1 \Rightarrow x=\pm 1$$

$$x^2+1=0 \Rightarrow x^2=-1 \Rightarrow x=\pm i$$

(ریشه حقیقی ندارد)

اکنون جدول تعیین علامت را تشکیل می دهیم:

x	-∞	-1	0	1	2	+∞
$-x^2 + 3x - 2$	-	-	-	-	+	-
x	-	-	-	+	+	+
$x^2-1$	+	-	-	+	+	+
$x^2+1$	-	+	+	+	+	+
$x^2+1$	+	+	+	+	+	+
علامت P	-	-	+	+	-	-

تعریف نشده P=0 مهم P=0

۴- برای حل نامعادله دو حالت در نظر می گیریم:

$$1) \begin{cases} x-1 \geq 0 \\ \frac{x-1}{x+2} < 1 \end{cases} \quad 2) \begin{cases} x-1 < 0 \\ \frac{-(x-1)}{x+2} < 1 \end{cases}$$

$$1) \begin{cases} x \geq 1 \\ \frac{x-1}{x+2} - 1 < 0 \end{cases} \Rightarrow \begin{cases} x \geq 1 \\ \frac{-x-3}{x+2} < 0 \end{cases} \Rightarrow \begin{cases} x \geq 1 \\ \frac{3}{x+2} > 0 \end{cases}$$

$x+2 > 0 \Rightarrow x > -2$   
 1) از اشتراک  $x \geq 1$  و  $x > -2$  نتیجه می شود:

x	-∞	-2	+∞
$\frac{x-1}{x+2}$	-	-	+
$\frac{3}{x+2}$	+	+	+
جواب		جواب	جواب
		$x > -2$	$x > 1$

تعریف نشده

$$2) \begin{cases} x < 1 \\ \frac{-x-1}{x+2} < 1 \end{cases} \Rightarrow \begin{cases} x < 1 \\ \frac{-2x-1}{x+2} < 0 \end{cases}$$

$-2x-1=0 \Rightarrow x = -\frac{1}{2}$   
 2) از اشتراک  $x < 1$  و  $x > -\frac{1}{2}$  نتیجه می شود:

x	-∞	-1/2	1	+∞
$-2x-1$	+	+	-	-
$\frac{x-1}{x+2}$	-	-	+	+
$\frac{-2x-1}{x+2}$	-	-	+	-
جواب		جواب	جواب	
		$-\frac{1}{2} < x < 1$		

بنابراین مجموعه جواب نامعادله چنین است:

$$\text{مجموعه جواب} = \left\{ x \mid x \in \mathbb{R}, x < -2 \text{ یا } x > -\frac{1}{2} \right\}$$

۵- ابتدا دو طرف نابرابری را در 2 ضرب می کنیم:

$$2a^2 + 2b^2 + 2c^2 \geq 2ab + 2bc + 2ac$$

سپس همه جملات را به طرف اول نابرابری می آوریم:

$$2a^2 + 2b^2 + 2c^2 - 2ab - 2bc - 2ac \geq 0$$

نابرابری بالا را به صورت زیر می نویسیم:

$$(a^2 - 2ab + b^2) + (a^2 - 2ac + c^2) + (b^2 - 2bc + c^2) \geq 0$$

و یا:

$$(a-b)^2 + (a-c)^2 + (b-c)^2 \geq 0$$

طرف اول نابرابری بالا همیشه نامنفی است. بنابراین نابرابری مورد نظر برای هر a و b و c حقیقی همیشه برقرار است.

۶- با استفاده از اتحادهای  $\sin x = 2 \sin \frac{x}{2} \cos \frac{x}{2}$  و  $\cos^2 \frac{x}{2} = \frac{1 + \cos x}{2}$  خواهیم داشت:

$$\operatorname{tg} \frac{x}{2} = \frac{\sin \frac{x}{2}}{\cos \frac{x}{2}} = \frac{2 \sin \frac{x}{2} \cos \frac{x}{2}}{2 \cos^2 \frac{x}{2}} = \frac{\sin x}{1 + \cos x}$$

۷- فرض کنیم:

A:  $x_1, x_2, \dots, x_n$   
 B:  $Kx_1 + b, Kx_2 + b, \dots, Kx_n + b$

می دانیم  $\bar{x} = \frac{\sum_{i=1}^n x_i}{n}$  و  $S^2 = \frac{\sum_{i=1}^n (x_i - \bar{x})^2}{(n-1)}$  بنابراین برای داده های آماری مسأله B داریم:

$$\bar{x}_B = \frac{\sum_{i=1}^n (Kx_i + b)}{n} = \frac{\sum_{i=1}^n Kx_i + \sum_{i=1}^n b}{n} = K \frac{\sum_{i=1}^n x_i}{n} + \frac{nb}{n}$$

$$\Rightarrow \bar{x}_B = K\bar{x}_A + b$$

$$S_B^2 = \frac{\sum_{i=1}^n [(Kx_i + b) - \bar{x}_B]^2}{(n-1)} = \frac{\sum_{i=1}^n [(Kx_i + b) - K\bar{x}_A - b]^2}{(n-1)}$$

$$\Rightarrow S_B^2 = \frac{\sum_{i=1}^n K^2 (x_i - \bar{x}_A)^2}{n-1} = K^2 \frac{\sum_{i=1}^n (x_i - \bar{x}_A)^2}{(n-1)} = K^2 S_A^2$$

$$\Rightarrow S_B^2 = K^2 S_A^2 \Rightarrow S_B = K S_A$$

۸- فرض کنیم  $A = \begin{bmatrix} a & b \\ c & d \end{bmatrix}$  و  $B = \begin{bmatrix} e & f \\ g & h \end{bmatrix}$  و طبق مفروضات مسأله داریم:

$$\begin{cases} a+c = b+d = 2 \\ e+g = f+h = 2 \end{cases}$$

$$A \times B = \begin{bmatrix} ae+bg & af+bh \\ ce+dg & cf+dh \end{bmatrix} \text{ و}$$

$$(ae+bg) + (ce+dg) = (a+c)e + (b+d)g = 2e + 2g = 2(e+g) = 2 \times 2 = 4$$

$$\begin{cases} 4x - 5y = 2 \\ 3x + 2y = 4 \end{cases} \quad A = \begin{bmatrix} 4 & -5 \\ 3 & 2 \end{bmatrix}, \quad X = \begin{bmatrix} x \\ y \end{bmatrix}, \quad B = \begin{bmatrix} 2 \\ 4 \end{bmatrix}$$

$$\Rightarrow AX = B \Rightarrow A^{-1}(AX) = A^{-1}B \Rightarrow (A^{-1}A)X = A^{-1}B$$

$$\Rightarrow X = A^{-1}B \quad (1)$$

$$A^{-1} = \frac{1}{(4 \times 2) - (3 \times -5)} \begin{bmatrix} 2 & 5 \\ -3 & 4 \end{bmatrix}$$

مشتق چپ در  $x=2$   $\Rightarrow yb = f'_-(2)$

$fa + b = yb \Rightarrow fa = b$

چون تابع در  $x=2$  مشتق پذیر است پس این تابع در  $x=2$  پیوسته است پس حد دارد.

$x \rightarrow 2^+ \Rightarrow \lim f(x) = fa + b$

حد راست

$x \rightarrow 2^- \Rightarrow \lim f(x) = fb + f$

حد چپ

$\Rightarrow fa + b = fb + f \Rightarrow fa - fb = f$

$\begin{cases} fa - b = f \\ fa - fb = f \end{cases} \Rightarrow b = -f, a = -1$

$y = \sqrt{1-x^2} \Rightarrow y' = \frac{-2x}{2\sqrt{1-x^2}}$   
 $D_f = R$

$y'' = -\frac{1}{\sqrt{1-x^2}} \times \frac{\sqrt{1-x^2} - \frac{-2x^2}{\sqrt{1-x^2}}}{1-x^2}$

$= -\frac{1}{\sqrt{1-x^2}} \times \frac{\sqrt{1-x^2} + 2x^2}{1-x^2}$

$y'' = -\frac{1}{\sqrt{1-x^2}} \times \frac{\sqrt{1-x^2} + 2x^2}{(1-x^2)\sqrt{1-x^2}}$

علامت  $y''$  به علامت  $(x^2-1)$  بستگی دارد.

$y'' = \frac{2(1+x^2)}{9(x^2-1)\sqrt{1-x^2}}$

$x^2-1=0 \Rightarrow \begin{cases} x=1 \in D_f \Rightarrow m=-\infty \\ x=-1 \in D_f \Rightarrow m=+\infty \end{cases}$

x	$-\infty$	$-1$	$+1$	$+\infty$
$y''$		+	-	+
انتخابی y		عطف	عطف	

$f(x) = nx - [nx] \quad D_f = R, n \in N$

$f(x+T_1) = n(x+T_1) - [n(x+T_1)]$

$= nx + nT_1 - [nx + nT_1]$

$nT_1$  باید عضو N باشد تا بتواند از جزء صحیح خارج شود

و با  $nT_1$  بیرون جزء صحیح حذف شود به این شکل

$f(x+T_1) = nx + nT_1 - [nx] - nT_1$

کوچکترین مقدار  $nT_1$  (۱) است پس

$nT_1 = 1 \Rightarrow T_1 = \frac{1}{n}$

حال این مقدار  $T_1$  را T می نامیم پس

$T = \frac{1}{n}$

$y = \cos^2 x - \cos x \quad 0 \leq x \leq 2\pi$

$y' = -2\sin x \cos x + \sin x = 0$

و دیگری با رقم یکان صفر)

$\Rightarrow A^{-1} = \begin{bmatrix} 2 & 5 \\ 22 & 22 \\ -22 & 22 \end{bmatrix}$

$\Rightarrow \begin{pmatrix} x \\ y \end{pmatrix} = \begin{bmatrix} 2 & 5 \\ 22 & 22 \\ -22 & 22 \end{bmatrix}^{-1} \begin{pmatrix} 26 \\ 22 \\ 22 \end{pmatrix} = \begin{pmatrix} 26 \\ 22 \\ 22 \end{pmatrix}$

$\Rightarrow x = \frac{26}{22}, y = \frac{22}{22}$

۱۰- دستگاه معادلات در صورتی فاقد جواب است که

دترمینان ماتریس ضرایب دستگاه مساوی با صفر باشد پس داریم:

$\begin{cases} -mx + y = f \\ 2x - my = 2 \end{cases} \Rightarrow m^2 - 2 = 0 \Rightarrow m^2 = 2 \Rightarrow m = \pm\sqrt{2}$

$\begin{cases} 2x - my = 1 \\ 2mx + y = 2 \end{cases} \Rightarrow 2 + 2m^2 = 0 \Rightarrow 2m^2 = -2$

و معادله  $2m^2 = -2$  فاقد جواب است.

پس دستگاه مزبور همواره دارای جواب است.

۱۱-

$\begin{bmatrix} 1 & -1 & -3 \\ 0 & 1 & 2 \\ 1 & x & x^2 \end{bmatrix} \begin{pmatrix} 2 \\ 1 \\ 0 \end{pmatrix} = \begin{pmatrix} 6 \\ 1 \\ 0 \end{pmatrix}$

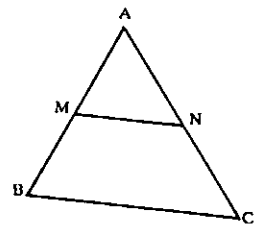
$\Rightarrow \begin{cases} 1+x & 1+x^2 & 1+x^2 \\ 1 & 1 & 1 \end{cases} = \begin{pmatrix} 6 \\ 1 \\ 0 \end{pmatrix}$

$\Rightarrow 2+2x+1+x^2=6 \Rightarrow x^2+2x-3=0 \Rightarrow x=1, x=-3$

۱۲- با توجه به شکل اگر M وسط AB و N وسط AC

باشد، می خواهیم ثابت کنیم  $2MN = BC$

طبق فرض  $BA = 2MA$  و  $AC = 2AN$



$\vec{MA} + \vec{AN} = \vec{MN}$  (۱)

$\vec{BA} + \vec{AC} = \vec{BC}$  (۲)

$(۱) \Rightarrow 2\vec{MA} + 2\vec{AN} = 2\vec{MN} \Rightarrow \vec{BA} + \vec{AC} = 2\vec{MN}$  (۳)

$(۲) \text{ و } (۳) \Rightarrow 2\vec{MN} = \vec{BC}$

۱۳- ارقام ۰، ۱، ۲، ۳، ۴ مفروض می باشند

الف)  $\begin{bmatrix} 3 & 3 & 2 & 1 & 2 \\ 3 & 3 & 2 & 1 & 2 \end{bmatrix} 3 \times 3 \times 2 \times 1 \times 2 = 36$

ب)  $\begin{bmatrix} 4 & 3 & 2 & 1 & 1 \\ 4 & 3 & 2 & 1 & 1 \end{bmatrix} 4 \times 3 \times 2 \times 1 \times 1 = 24$

۶۰ = ۳۶ + ۲۴ = تعداد اعداد زوج ۵ رقمی که زوج هستند

(تعداد زوج را دو دسته کردیم، یکی زوج با رقم یکان ۲ یا ۴

۴ یا ۳

ب)  $\begin{bmatrix} 2 & 4 & 3 & 2 & 1 \\ 2 & 4 & 3 & 2 & 1 \end{bmatrix} 2 \times 4! = 48$

(اعداد بزرگتر از سی هزار، رقم یکان ۴ یا ۳ باید باشد)

ج)  $\begin{bmatrix} 3 & 3 & 2 & 1 & 1 \\ 3 & 3 & 2 & 1 & 1 \end{bmatrix} 3 \times 3! = 18$

(رقم یکان فقط می تواند ۵ باشد تا عدد حاصل مضرب ۵ و فرد باشد)

۱۴- سه دانش آموز سال اول و چهار دانش آموز سال دوم داریم و سه نفر به تصادف انتخاب می کنیم در این صورت:

الف) احتمال آنکه سه نفر همکلاسی باشند  $\frac{\binom{3}{1} + \binom{4}{1}}{\binom{7}{3}}$

ب)  $\frac{\binom{4}{2} \times \binom{3}{1}}{\binom{7}{3}}$  (فقط ۲ نفر از کلاس دوم)

ج)  $\frac{\binom{3}{1} \times \binom{4}{1} + \binom{3}{1} \times \binom{4}{1} + \binom{3}{1} \times \binom{4}{1}}{\binom{7}{3}}$  (لااقل ۱ نفر از کلاس اول باشد)

د)  $\frac{\binom{4}{2} \times \binom{3}{1} + \binom{4}{1} \times \binom{3}{2} + \binom{3}{2} \times \binom{4}{1}}{\binom{7}{3}}$  (حداکثر ۲ نفر از کلاس دوم باشد)

حل مسائل حسابان (۲)

۱-

$f(x) = \begin{cases} ax^2 + bx & x \geq 2 \\ 2bx + 4 & x < 2 \end{cases}$

ابتدا از روی تعریف مشتق، مشتق راست و مشتق چپ را در نقطه  $x=2$  محاسبه می کنیم سپس آنها را مساوی قرار می دهیم.

الف)  $\lim_{x \rightarrow 2^+} \frac{f(x) - f(2)}{x - 2} = \lim_{x \rightarrow 2^+} \frac{ax^2 + bx - 4a - 2b}{x - 2}$

$= \lim_{x \rightarrow 2^+} \frac{a(x^2 - 4) + b(x - 2)}{x - 2}$

$= \lim_{x \rightarrow 2^+} \frac{a(x-2)(x+2) + b(x-2)}{x - 2}$

$= \lim_{x \rightarrow 2^+} \frac{(x-2)(ax + 2a + b)}{x - 2}$

$= \lim_{x \rightarrow 2^+} (ax + 2a + b) = 2a + 2a + b$

مشتق راست در نقطه  $x=2$   $\Rightarrow fa + b = f'_+(2)$

ب)  $\lim_{x \rightarrow 2^-} \frac{f(x) - f(2)}{x - 2} = \lim_{x \rightarrow 2^-} \frac{2bx + 4 - 4b - 4}{x - 2}$

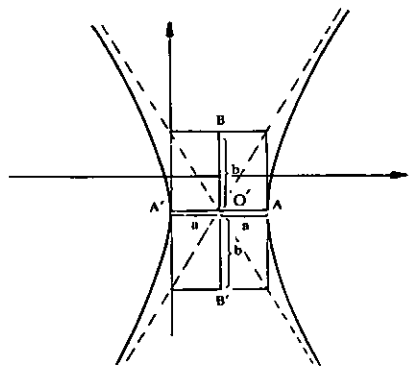
$= \lim_{x \rightarrow 2^-} \frac{2b(x-2)}{x-2} = 2b$

$b^2 = 4 \Rightarrow b = 2$

$c^2 = a^2 + b^2 \Rightarrow c^2 = 5 \Rightarrow c = \sqrt{5}$

$O \begin{cases} k=1 \\ h=-1 \end{cases}$  مرکز هذلولی  
چون  $a^2$  در مخرج کسر  $(x)$  است پس هذلولی افقی است.

معادلات مجانبها  
 $\frac{x-1}{1} = \pm \frac{y+1}{2}$   
 $\Rightarrow y+1 = \pm 2(x-1)$   
 $y = -1 \pm 2(x-1)$



$F \begin{cases} c+k = \sqrt{5}+1 \\ h = -1 \end{cases}$

$F' \begin{cases} c+k = -\sqrt{5}+1 \\ h = -1 \end{cases}$

$\int \frac{dx}{\sqrt{1+x^2}} = \frac{1}{\sqrt{1}} \int \frac{dx}{1+(\frac{x}{1})^2} = \frac{1}{\sqrt{1}} \int \frac{\frac{1}{\sqrt{1}} dx}{1+(\frac{x}{\sqrt{1}})^2} = (\frac{1}{\sqrt{1}} \text{Arctg} \frac{x}{\sqrt{1}})^1$   
 $= (\frac{1}{\sqrt{1}} \text{Arctg} 1) - (\frac{1}{\sqrt{1}} \text{Arctg} 0) = \frac{1}{\sqrt{1}} (\frac{\pi}{4}) - 0 = \frac{\pi}{4}$

$\int \frac{\Lambda dx}{\sqrt{1-x^2}} = \Lambda \int \frac{dx}{\sqrt{1-x^2}} = (\Lambda \text{Arcsin } x)^1$

$= (\Lambda \text{Arcsin} \frac{1}{\sqrt{1}}) - (\Lambda \text{Arcsin} 0) = \Lambda (\frac{\pi}{2}) - 0 = \frac{\sqrt{2}\pi}{2}$

حل مسائل حساب دیفرانسیل و انتگرال (۲)

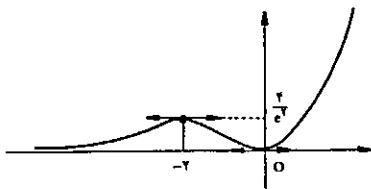
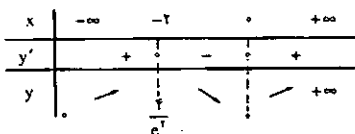
$f(x) = \begin{cases} x-1-1 & x > 1 \\ -1 & x = 1 \\ -x+1-1 & x < 1 \end{cases}$  اگر  
اگر  
اگر

$\Rightarrow f'(x) = \begin{cases} 1 & x > 1 \\ \text{وجود ندارد} & x = 0 \\ -1 & x < 1 \end{cases} \Rightarrow$

این تابع در  $x=1$  مشتق پذیر نیست

شرط مشتق پذیری قضیه رول برقرار نیست لذا نقطه‌ای مانند C بین دو عدد 0 و 2 وجود ندارد که  $f'(c) = 0$  به قضیه رول توجه کنید.

$\Rightarrow x \rightarrow -\infty \Rightarrow y \rightarrow 0 \Rightarrow y=0$  معادله مجانب افقی



$y = e^{\frac{x}{\ln x}} \Rightarrow \text{Ln} y = \frac{x}{\ln x}$  نسبت به x مشتق می‌گیریم.

$\Rightarrow \frac{y'}{y} = \frac{\text{Ln} x + \frac{1}{x} \times x}{(\text{Ln} x)^2} \Rightarrow \frac{y'}{y} = \frac{\text{Ln} x + 1}{(\text{Ln} x)^2}$

$\Rightarrow y'_x = y \times \frac{\text{Ln} x + 1}{(\text{Ln} x)^2} \Rightarrow y'_x = e^{\frac{x}{\text{Ln} x}} \times \frac{\text{Ln} x + 1}{(\text{Ln} x)^2}$

$y = \log \frac{x}{x-1}$

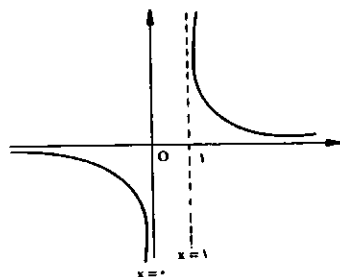
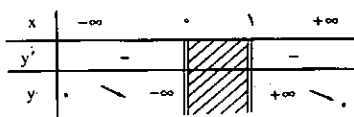
$\frac{x}{x-1} > 0 \Rightarrow D_f = (-\infty, 0) \cup (1, +\infty)$

$y' = \frac{-1}{x(x-1)} \log e = \frac{-1}{x(x-1)} \log e < 0$

$x \rightarrow \pm\infty \Rightarrow y \rightarrow 0 \Rightarrow y=0$  معادله مجانب افقی

$x \rightarrow 0^- \Rightarrow y \rightarrow -\infty \Rightarrow x=0$  معادله مجانب قائم

$x \rightarrow 1^+ \Rightarrow y \rightarrow +\infty \Rightarrow x=1$  معادله مجانب قائم



$\forall x^x - y^y - \lambda x - \tau y - 1 = 0$

$\forall x^x - \lambda x - y^y - \tau y = 1$

$\forall [x^x - \tau x] - [y^y + \tau y] = 1$

$\forall [(x-1)^x - 1] - [(y+1)^y - 1] = 1$

$\forall (x-1)^x - \tau - (y+1)^y + 1 = 1$

$\forall (x-1)^x - (y+1)^y = \tau \Rightarrow \frac{(x-1)^x}{1} - \frac{(y+1)^y}{\tau} = 1$

$u^x = 1 \Rightarrow u = 1$

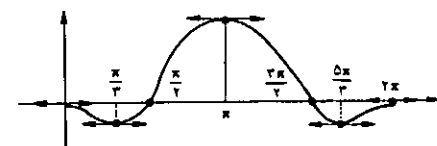
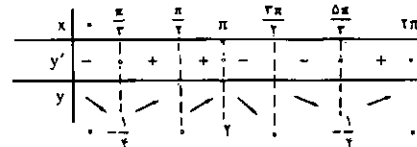
$\sin x(-2 \cos x + 1) = 0$

$\begin{cases} \sin x = 0 \Rightarrow x = k\pi \Rightarrow x = 0, \pi, 2\pi \\ -2 \cos x + 1 = 0 \Rightarrow \cos x = \frac{1}{2} \Rightarrow x = \frac{\pi}{3}, \frac{5\pi}{3} \end{cases}$

$x = 0, \pi, 2\pi \Rightarrow y = 1 - 1 = 0$

$y = 0 \Rightarrow \cos^2 x - \cos x = 0 \Rightarrow \cos x(\cos x - 1) = 0$

$\Rightarrow \begin{cases} \cos x = 0 \Rightarrow x = \frac{\pi}{2}, \frac{3\pi}{2} \\ \cos x = 1 \Rightarrow x = 0, 2\pi \end{cases}$



5- این عبارت به صورت مبهم (0) است

$\lim_{x \rightarrow 1} \frac{\text{Ln}(\pi x)}{\pi x - 1}$  حد

می‌نویسیم

$y = (\pi x - 1) \text{tg} \frac{\pi x}{\pi x - 1}$   
 $\text{Ln} y = \text{tg} \frac{\pi x}{\pi x - 1} \text{Ln}(\pi x - 1) \Rightarrow \lim_{x \rightarrow 1} \text{Ln} y$

$= \lim_{x \rightarrow 1} \text{tg} \frac{\pi x}{\pi x - 1} \text{Ln}(\pi x - 1) = \infty \times 0$

$\text{Ln} y = \frac{\text{Ln}(\pi x - 1)}{\cotg \frac{\pi x}{\pi x - 1}}$

$\lim_{x \rightarrow 1} \frac{\text{Ln}(\pi x - 1)}{\cotg \frac{\pi x}{\pi x - 1}} = \lim_{x \rightarrow 1} \frac{-1}{\pi x - 1} \frac{1}{1 + \cotg \frac{\pi x}{\pi x - 1}} = \frac{-1}{\pi} \frac{1}{1 + \frac{\pi}{\pi x - 1}} = \frac{-1}{\pi} \frac{\pi x - 1}{\pi x - 1 + \pi} = \frac{-1}{\pi} \frac{\pi x - 1}{\pi x - 1 + \pi}$

$\Rightarrow \lim_{x \rightarrow 1} \text{Ln} y = \frac{y}{\pi} \Rightarrow \lim y = e^{\frac{1}{\pi}}$

6-  $y = x^x e^x$

$y' = \tau x e^x + e^x \cdot x^x = x e^x (x + \tau) = 0$

$\Rightarrow \begin{cases} x = 0 \Rightarrow y = 0 \\ x = -\tau \Rightarrow y = \frac{\tau}{e^\tau} \end{cases}$

$x \rightarrow +\infty \Rightarrow y \rightarrow +\infty$

$x \rightarrow -\infty \Rightarrow \lim y = \infty \times 0$

$\Rightarrow \lim y = \lim_{x \rightarrow -\infty} \frac{x^x}{e^{-x}} = \lim_{x \rightarrow -\infty} \frac{\tau x}{e^x} = \lim_{x \rightarrow -\infty} \tau x e^x = \infty \times 0$

$= \lim_{x \rightarrow -\infty} \frac{-\tau x}{e^x} = \lim_{x \rightarrow -\infty} \frac{-\tau}{e^x} = \lim_{x \rightarrow -\infty} \tau e^x = 0$

$$f'(x) = 2x^2 + 12x - 15 = 0 \Rightarrow \begin{cases} x=1 \\ x = -5 \in \left[\frac{1}{4}, 3\right] \end{cases}$$

کران پایین = می نیمم نسبی و مطلق

$$\begin{cases} f(1) = 1 + 6 - 15 + 1 = -7 \\ f(3) = 27 \\ f\left(\frac{1}{4}\right) = \frac{1}{64} \end{cases}$$

کران بالا :

$$-7 \leq \int_{\frac{1}{4}}^3 (x^2 + 6x^2 - 15x + 1) dx \leq 27 \left(3 - \frac{1}{4}\right)$$

$$\Rightarrow -\frac{77}{4} \leq \int_{\frac{1}{4}}^3 (x^2 + 6x^2 - 15x + 1) dx \leq \frac{4-27}{4}$$

الف)  $\int x^{1/4} (x^2 + 2x)^3 (4x^2 + 6x^2) dx$

$$= \int x^{1/4} (x^2 + 2x)^3 (4x^2 + 6x^2) dx$$

$$= \int x^{1/4} (x^2 + 2x)^3 (4x^2 + 6x^2) dx$$

$$= \int (x^2 + 2x)^3 (4x^2 + 6x^2) dx$$

$$= \int (x^2 + 2x)^3 (4x^2 + 6x^2) dx$$

$$u = x^2 + 2x \Rightarrow du = (2x + 2) dx$$

$$= \int u^{3/4} du = \frac{u^{7/4}}{7/4} + c = \frac{4}{7} (x^2 + 2x)^{7/4} + c$$

ب)  $\int \frac{e^{18x} dx}{\cos^2 x (e^{18x} + e)}$   $= \int \frac{(1 + \tan^2 x) e^{18x}}{e^{18x} + e} dx$

$$u = e^{18x} + e \Rightarrow du = (1 + \tan^2 x) e^{18x} dx$$

$$= \int \frac{du}{u} = \ln(u) + c = \ln(e^{18x} + e) + c$$

ج)  $\int \frac{2x^2 + 2x + 2}{(x^2 + 1)(x + 1)} dx \quad x > 0$

ابتدا کسر داخل انتگرال را تجزیه می کنیم.

$$\frac{2x^2 + 2x + 2}{(x^2 + 1)(x + 1)} = \frac{Ax + B}{x^2 + 1} + \frac{C}{x + 1}$$

$$\Rightarrow \frac{2x^2 + 2x + 2}{(x^2 + 1)(x + 1)} = \frac{(A + C)x^2 + (A + B)x + (B + C)}{(x^2 + 1)(x + 1)}$$

$$\Rightarrow \begin{cases} A + C = 2 \\ A + B = 2 \\ B + C = 2 \end{cases} \Rightarrow \begin{cases} C = 2 \\ B = 0 \\ A = 2 \end{cases}$$

$$\Rightarrow \int \frac{2x^2 + 2x + 2}{(x^2 + 1)(x + 1)} dx = \int \frac{2x}{x^2 + 1} dx + \int \frac{2}{x + 1} dx$$

$$= \ln(x^2 + 1) + 2\ln(x + 1) + C$$

د)  $\int \text{Arctg} x dx$

روش جزء به جزء

$$y = u + b = a + \frac{K^2}{u} = \frac{u^2 + K^2}{u}$$

$$y' = \frac{2u^2 - u^2 - K^2}{u^2} = \frac{u^2 - K^2}{u^2} = 0$$

$$\Rightarrow u^2 = K^2 \Rightarrow u = \pm K$$

$$\Rightarrow a = K \Rightarrow b = K$$

$$f(x) = \frac{x-1}{x^2 + 2x}$$

$$x^2 + 2x \neq 0 \Rightarrow x \neq 0, -2$$

$$f'(x) = \frac{x^2 + 2x - (2x + 2)(x - 1)}{(x^2 + 2x)^2}$$

$$= \frac{-x^2 + 2x + 2}{(x^2 + 2x)^2} = 0$$

$$-x^2 + 2x + 2 = 0 \Rightarrow x = 1 \pm \sqrt{3}$$

جدول رفتار تابع چنین است :

x	-2	1-√3	0	1+√3	
y'	-	+	0	-	+
y	-∞	0	+	∞	-∞

این تابع در بازه‌های  $(-\infty, -2)$  و  $(-2, 1-\sqrt{3})$  و  $(1-\sqrt{3}, 0)$  و  $(0, 1+\sqrt{3})$  و  $(1+\sqrt{3}, +\infty)$  اکیداً نزولی و در بازه‌های  $(-2, 1-\sqrt{3})$  و  $(0, 1+\sqrt{3})$  اکیداً صعودی است.  $x = 1 + \sqrt{3}$  یک نقطه بحرانی است و طول ماکزیمم نسبی تابع است و  $x = 1 - \sqrt{3}$  یک نقطه بحرانی است و طول نقطه می نیمم نسبی است.

۶  $\lim_{x \rightarrow 0} \frac{x - \sin x - \frac{x^3}{6}}{x^2} = \frac{0}{0}$

هویتال تابع را با نماد H نشان می دهیم.

$$H_1 : \lim_{x \rightarrow 0} \frac{1 - \cos x - \frac{x^2}{2}}{x^2} = \frac{0}{0}$$

$$H_2 : \lim_{x \rightarrow 0} \frac{\sin x - x}{2 \cdot x^2} = \frac{0}{0}$$

$$H_3 : \lim_{x \rightarrow 0} \frac{\cos x - 1}{6 \cdot x^2} = \frac{0}{0}$$

$$H_4 : \lim_{x \rightarrow 0} \frac{-\sin x}{12 \cdot x} = \lim_{x \rightarrow 0} \frac{-x}{12 \cdot x} = -\frac{1}{12}$$

۷

$$\int_{\frac{1}{4}}^3 (x^2 + 6x^2 - 15x + 1) dx$$

اگر m کران پایین تابع f و M کران بالای آن باشد داریم :

$$f(x) = x^2 + 6x^2 - 15x + 1$$

$$m(b-a) \leq \int_a^b f(x) dx \leq M(b-a)$$

اگر تابع f روی بازه [a, b] پیوسته و روی بازه (a, b) مشتق پذیر باشد و f(a) = f(b) آنگاه حداقل یک نقطه به طول c وجود دارد که  $a < c < b$ .

$$f(x) = \frac{2x}{x^2 + 1} \quad [0, 2]$$

اول قضیه مقدار میانگین را بیان می کنیم : هرگاه تابع f روی بازه [a, b] پیوسته و روی بازه (a, b) مشتق پذیر باشد، حداقل یک نقطه به طول c,  $a < c < b$  وجود دارد که :

$$f'(c) = \frac{f(b) - f(a)}{b - a}$$

حال قضیه مقدار میانگین را در این تابع مورد بررسی قرار

$$\frac{f(b) - f(a)}{b - a} = \frac{f(2) - f(0)}{2 - 0} = \frac{\frac{4}{5} - 0}{2} = \frac{2}{5}$$

$$f'(x) = \frac{2(x^2 + 1) - 4x^2}{(x^2 + 1)^2} = \frac{2 - 2x^2}{(x^2 + 1)^2} = \frac{2(1 - x^2)}{(x^2 + 1)^2}$$

$$f'(x) = \frac{2}{5} \Rightarrow \frac{2(1 - x^2)}{(x^2 + 1)^2} = \frac{2}{5}$$

$$\Rightarrow (x^2 + 1)^2 = 5 - 5x^2 \Rightarrow x^2 + 2x^2 + 1 = 5 - 5x^2$$

$$x^2 + 7x^2 - 4 = 0 \Rightarrow x^2 = \frac{-7 \pm \sqrt{49}}{2}$$

$$\Rightarrow x^2 = \frac{-7 + \sqrt{49}}{2} \Rightarrow x = \pm \sqrt{\frac{-7 + \sqrt{49}}{2}}$$

$$c_1 = \sqrt{\frac{-7 + \sqrt{49}}{2}} \quad \text{و} \quad c_2 = -\sqrt{\frac{-7 + \sqrt{49}}{2}}$$

$$f(x) = x^2(x-2)^2 \quad [-1, 3]$$

$$f'(x) = 2x^2(x-2) + 2x^2(x-2)$$

$$f'(x) = x^2(x-2)(2x-6+2x)$$

$$f'(x) = x^2(x-2)(4x-6) = 0 \Rightarrow \begin{cases} x=0 \\ x=2 \\ x=\frac{3}{2} \end{cases}$$

$f(0) = 0$  یک نقطه بحرانی است  
 $x = 2$  یک نقطه بحرانی است که اکسترم نسبی است

$$f(2) = 0$$

$$x = \frac{3}{2}$$
 یک نقطه بحرانی است که اکسترم نسبی است  
 $f\left(\frac{3}{2}\right) = \frac{2456}{625}$

$$x = -1$$
 یک نقطه بحرانی است که می نیمم مطلق است  
 $f(-1) = -1(-3)^2 = -9$

$$x = 3$$
 یک نقطه بحرانی است که ماکزیمم مطلق است  
 $f(3) = 27(1)^2 = 27$

نوجه : نقطه بحرانی، نقطه ایست که در آن نقطه یا مشتق صفر است یا مشتق وجود ندارد.

۴

آن دو عدد را a و b می نامیم داریم :  $K > 0, a, b = K^2$

$$\Rightarrow b = \frac{K^2}{a}$$

$$FE \parallel BC \Rightarrow \frac{AF}{FC} = \frac{AE}{EB}$$

$$\frac{AD}{DF} = \frac{AF}{FC}$$

$$C_1 = C_2$$

$$\frac{AC}{OC} = \frac{AB}{OD}$$

$$\hat{A}CB - \hat{O}CD \text{ (زوز)} \text{ به حالت (زوز)} \quad \frac{50}{120} = -\frac{30}{x}$$

$$x = \frac{30 \times 120}{50} \quad x = 72$$

$$21 + 12/5 + 10/5 = 45$$

$$\frac{\text{محیط } ABC}{\text{محیط } PQR} = K$$

$$\frac{45}{x} = \frac{10/5}{5} \quad x = 30$$

$$d = \sqrt{a^2 + b^2 + c^2} = \sqrt{9 + 16 + 25} = \sqrt{50}$$

۱۲- فرض کنید قاعده‌های دو شکل بر روی یک خط قرار گرفته باشند اگر هر خطی موازی قاعده‌های دو شکل در آنها نقطه‌هایی با طولهای مساوی ایجاد کند مساحت‌های آن دو شکل برابر است.

$$v_1 = \frac{1}{3} \pi R^2 h$$

$$v_2 = \frac{1}{3} \pi (9R^2) 2h$$

$$\frac{v_2}{v_1} = \frac{\frac{1}{3} \pi \times 9R^2 \times 2h}{\frac{1}{3} \pi \times R^2 \times h} = 18$$

$$\begin{cases} v = 4\pi R^2 = 113/04 \\ R^2 = 9 \Rightarrow R = 3 \end{cases}$$

$$v = \frac{4}{3} \pi R^2 = 113/04$$

$$\text{مساحت مثلث } SQB = \frac{1}{2} bh$$

$$\text{مساحت مثلث } SPQ = \frac{1}{2} ah$$

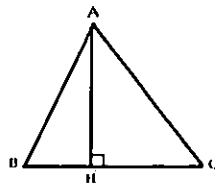
$$\text{مساحت ذوزنقه } SPQB = \frac{1}{2} bh + \frac{1}{2} ah = \frac{1}{2} h(a+b)$$

$$AH^2 = AB^2 - BH^2$$

$$AH^2 = a^2 - \frac{a^2}{4}$$

$$AH = \sqrt{\frac{3a^2}{4}} = \frac{\sqrt{3}}{2} a$$

$$S = a \times \frac{\sqrt{3}}{2} a = \frac{\sqrt{3}}{2} a^2$$



$$-5 \quad \begin{cases} u = \text{Arctg}x \Rightarrow du = \frac{1}{1+x^2} dx \\ dv = dx \Rightarrow v = x \end{cases}$$

$$\int u dv = uv - \int v du$$

$$\int \text{Arctg}x dx = x \text{Arctg}x - \int \frac{x}{1+x^2} dx$$

$$\int \text{Arctg}x dx = x \text{Arctg}x - \frac{1}{2} \ln(1+x^2) + C$$

حل مسائل امتحان درس هندسه ۱ نظام جدید خرداد ۷۵ (بعد از ظهر)

۱- الف: به یک فاصله اند ب: استقرایی ب: استنتاجی

$$B_1 = C_1 = 30$$

$$\hat{O} = 180 - (30 + 30)$$

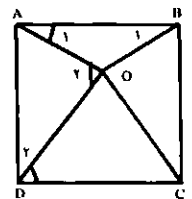
$$\hat{O} = 120$$

$$\hat{D}_1 = 60 \quad \hat{Q}_1 = 150$$

$$\hat{D}_2 = 30$$

$$\hat{A}_2 = \hat{O}_2 = \frac{180 - 30}{2} = 75$$

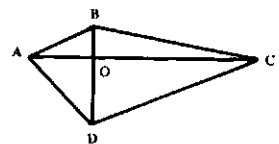
$$\hat{B}_1 = \hat{A}_1 = 15$$



$$\text{مساحت } ABC = \frac{1}{2} AC \times OB$$

$$\text{مساحت } ACD = \frac{1}{2} AC \times OD$$

$$\text{مساحت } ABCD = \frac{1}{2} AC(OB + OD) = \frac{1}{2} AC \times BD$$



-۱۴

$$AD = \sqrt{AQ^2 + QD^2}$$

$$AD = \sqrt{a^2 + b^2 + c^2 + a^2}$$


$$AD = \sqrt{2a^2 + b^2 + c^2}$$

$$2a^2 + b^2 + c^2 = (b+c)^2$$

$$2a^2 + b^2 + c^2 = b^2 + c^2 + 2bc$$

$$a^2 = bc$$

$$DE \parallel FB \Rightarrow \frac{AD}{DF} = \frac{AE}{EB}$$





# جوابهای تفریح اندیشه

جواب ۱:

است و مساحت مثلث قائم الزاویه برابر  $\frac{S^2}{4}$  است. بنابراین مجموع مساحت این دو  $(\frac{S^2}{4})(\pi+2)$  است. سطح نیمدایره بزرگتر برابر

$$\left(\frac{1}{2}\right)\left(\frac{\pi}{4}\right) \times (S\sqrt{2})^2 = \frac{(\pi S^2)}{4}$$

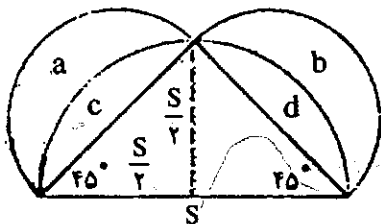
می باشد. چنانچه مجموع آن مساحتها را منهای این مقدار کنیم، دیده می شود که مقدار  $\frac{S^2}{4}$  به دست می آید. راه دیگر:

می دانیم که عموماً قضیه فیثاغورس برای هر شکلی که وابسته به یک مثلث قائم الزاویه بنا شده باشد، قابل تعمیم است. بنابراین مساحت نیمدایره بنا شده روی وتر همواره برابر مجموع مساحتهای هر یک از دو نیمدایره ای است که بر روی قاعده ها واقعند. پس سطح قسمت هائیسور خورده معادل مساحت مثلث قائم الزاویه است.

در اینجا:

$$A = \left(\frac{1}{4}\right)S\left(\frac{S}{2}\right) = \frac{S^2}{4}$$

زیرا  $a+b=e$ ،  $a+b+c+d=c+d+e$



جواب ۴:

گله داری تصویری K را در ۱۸ مایلی شمال گله داری حقیقی او قرار می دهیم، در این صورت ساحل جنوبی رودخانه از وسط آنها می گذرد. توجه داشته باشید که مخزن مزبور بی توجه به قرار گرفتن محل آن در امتداد ساحل جنوبی از گله داری حقیقی و تصویری K دقیقاً به یک فاصله است. به این ترتیب، کل فاصله گله داری L از مخزن و هر یک از دو گله داری حقیقی و تصویری K یکسان است. از آنجا که کوتاه ترین فاصله L از گله داری تصویری K خط راست رسم شده بین آنهاست، مخزن را در محلی قرار می دهیم که این خط

هنگامی که مربع وقتی مورد بحث را سر و ته کنیم باز هم می تواند به عنوان یک مربع وقتی در نظر گرفته شود.

جواب ۲:

بگذارید حریفتان اول بازی کند. اگر ۲ یا بیش از دو چوب کبریت بردارد می توانید همیشه با حرکتی مقابله کنید که ترکیبی برنده از ردیفها را به جا می گذارد. ترکیبات برنده ساده عبارت اند از ۱-۱-۱-۱، ۲-۲-۱-۱، ۳-۱-۱-۱، هر ترکیب از جفتها (۵-۵)، (۴-۴-۱-۱) و غیره) نیز، با اجتنابهای آشکار ۱-۱-۱-۱، ۱-۱-۱-۱-۱-۱ برنده اند.

هنگام به جا گذاشتن ردیفهای جفت دار بسادگی حرکتهای حریفتان را چنان جور می کنید که فرصت به جا گذاشتن آخرین چوب کبریت را برای وی به دست خواهید آورد. به عنوان مثال، اگر ۱-۱-۵-۵ را به جا بگذارید، و ۱ و ۳ چوب کبریت از یک ردیف بردارد، شما ۳ چوب کبریت از ردیف جفتش برداشته ۱-۱-۲-۲ را به جا می گذارید، و بی توجه به حرکت بعدیش می توانید برنده باشید. هر حرکتی که حریفتان بر ترکیبی ۱-۴-۵ می کند می تواند توسط شما به ترکیب ۱-۲-۳ یا ۱-۱-۱، یا ترکیبی جفت دار تبدیل شود. فایده ترکیبهای ۱-۲-۳ یا ۱-۱-۱ آشکار است.

اگر حریف هر بار تنها یک چوب کبریت بردارد، حرکاتش را با برداشتن هر بار یک چوب کبریت از ردیفی دست نخورده، تا زمانی که ۲ یا بیش از ۲ چوب کبریت از هر ردیف منفرد برداشته شود، تنظیم می کنید. وی همواره حرکت سرنوشت ساز را یا در بازی دوم یا در بازی سوم خود انجام می دهد. در این صورت، باز هم با اندکی فکر می توانید ترکیب برنده را یافته تا نتیجه ای موفقیت آمیز بازی کنید. تبصره: آرایه آغازکننده مسأله ۱ و ۳ و ۵ و ۷ - خود ترکیبی برنده است؛ به همین دلیل است که استراتژی بردن در این سرگرمی کوچک می خواهد که دوم بازی کنید.

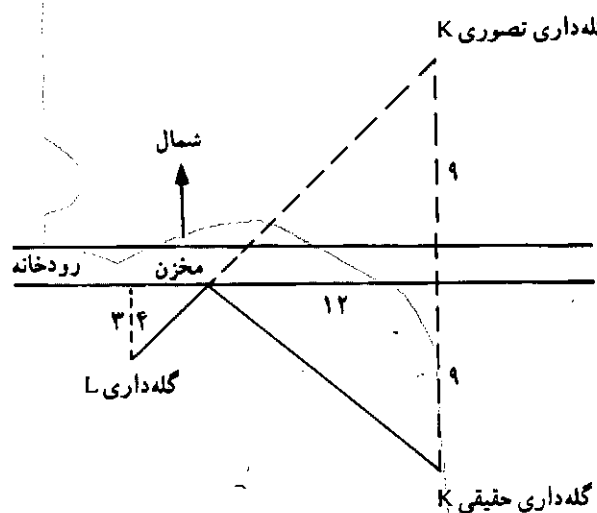
جواب ۳:

$$\frac{S^2}{4} \cdot \frac{\pi S^2}{8}$$

مساحت هر یک از نیمدایره های کوچک برابر  $\frac{\pi S^2}{8}$

ساحل جنوبی را قطع می کند.

از مثلثهای مشابه شکل ملاحظه می شود، که دو مسیر آب زاویه هایی مساوی با رودخانه تشکیل می دهند، و بنابراین مخزن در پایین رودخانه در ۴ مایلی گله داری L قرار دارد و طول کل مسیر ۲۰ مایل است.



جواب ۵:

اگر در مرحله اولیّه هر دو توده «فرد» باشند (یعنی، شامل تعداد فردی شن باشند)، بازیکن اول می بازد، چه، بی توجه به اقدامی که می کند، دو توده، که حداقل یکی از آنها «زوج» است، به جا می گذارد، در این صورت بازیکن دوم می تواند آن را به دو توده فرد تقسیم کرده، توده دیگر را کنار گذاشته، وضعیت اولیّه را برقرار کند. اندکی تأمل نشان می دهد که این کار مستلزم این است که بازیکن دوم همواره می تواند اقدام کند.

اگر در ابتدا حداقل یکی از توده ها زوج باشد، در این صورت بازیکن اول آن را به دو توده فرد تقسیم کرده (با توجه به استدلال

فوق)، وضعیتی بازنده برای بازیکن دوم به وجود می آورد.

جواب ۶:

خطهای مورد بحث، بی توجه به چگونگی رسم آنها، در صورتی که شرایط مسأله را به جا آورند، ۲۰ مثلث تشکیل می دهند.

هر گروه سه خطی یک مثلث تشکیل می دهد. تعداد گروههای حاصل از ۶ خط در صورتی که هر بار ۳ خط آنها در نظر گرفته شود عبارت است از:

$$\frac{6 \times 5 \times 4}{3 \times 2 \times 1} = 20 \text{ گروه}$$

در صورتی که بدون روش سعی در شمارش آنها کنید، احتمالاً بعضی از آنها را به شمارش نمی آورید.

جواب ۷:

فرض کنیم پول خرید یک متر پارچه یک تومان و طول وسیله ای که برای اندازه گیری مورد استفاده قرار گرفته است L باشد. هنگامی که پارچه فروش گمان می کند که یک متر پارچه فروخته است، در واقع L متر فروخته است و قیمت خرید آن L تومان می باشد. پس در واقع این مقدار پارچه را به ۱/۴۰ تومان فروخته است و L - ۱/۴۰ تومان برای L تومان خرید، سود برده است. بنابراین درصد سود او برابر است با:

$$\frac{39}{100} = \frac{1/40 - L}{L} \Rightarrow L = \frac{140}{139} = 1/0.071$$

پس وسیله اندازه گیری او قدری بیشتر از ۷ میلیمتر، بزرگتر از یک متر بوده است.

عزیزانی که مایل به اشتراک ۴ شماره مجله برهان هستند با واریز مبلغ ۹۰۰۰ ریال به حساب جاری ۷۹۱۰/۵ بانک ملت شعبه کریمخان زنده نام مشترکین انتشارات مدرسه، اصل فیش واریزی را همراه با فرم تکمیل شده به آدرس دفتر مرکزی انتشارات مدرسه واقع در خیابان سیهبدرنی، پل کریمخان زند، کرجه شهید حقیقت طلب، پلاک ۳۶ ارسال دارند. ■ لطفاً از ارسال وجه نقد جداً خودداری فرمایید.

در صورت مشترک بودن کد اشتراک خود را حتماً ذکر فرمایید: .....

۱. نام خانوادگی ..... ۲. نام ..... ۳. سال تولد ..... ۴. دختر  پسر
۵. پایه و رشته تحصیلی .....
۶. نشانی: استان ..... شهرستان ..... خیابان ..... کرجه ..... پلاک .....
۷. کدپستی ..... ۸. مبلغ واریزی ..... ۹. شماره فیش ..... ۱۰. تاریخ فیش .....

فرم اشتراک

- ▶ **Licence Holder:** Madrasse Publication
- ▶ **Responsible director:** Mahmood Ebrahimi
- ▶ **Executive Editor** H. R. Amiri
- ▶ **Editorial Board**
- ▶ H. R. Amiri
- ▶ S. M. R Hashemy Moosavi
- ▶ A. Ghandehari
- ▶ M. H. Rostami
- ▶ G. R. Yassipour
- ▶ **Advisors** (P. Shahriari; H. E. Gholzom)

Borhan is a mathematics journal published four times a year by Madrasse Publications. Each issue includes articles related to mathematics and its various topics specifically those concerning highschool education in Iran.

All communications should be sent to the editor at the following address:

Madrasse Publication - No. 36. Haghghat talab Street, Sepahbod gharany Ave, Tehran, Iran

Post code: 14155/1949

**Contents:**

- |   |                                 |
|---|---------------------------------|
| 1. Function and concept of function II                                    | ☛ H.R. Amiri                    |
| 2. A property of right-angled triangle ...                                | ☛ A. Sharafeddin                |
| 3. Variations of curves   | ☛ A. Ghandehari                 |
| 4. Solving of a fundamental problem of mathematics by elementary methods. | ☛ G. R. Yassipour               |
| 5. The principle of Inclusion and Exclusion                               | ☛ A. Khanmohammad and A. Farzad |
| 6. Instruction of translation of mathematics articles.                    | ☛ M. S. Asgari                  |
| 7. You, Too, can be successful in your mathematics lessons.               | ☛ P. Shahriari                  |
| 8. Foundations of computer.   | ☛ H. E. Gholzom                 |
| 9. A brief history of mathematics magazines in Iran.                      |                                 |
| 10. Discrete mathematics.   | ☛ G. R. Yassipour               |
| 11. Contest Problem   |                                 |
| 12. Locus (9)   | ☛ M. H. Rostami                 |
| 13. Radical   | ☛ S. M. R. Hashemi mosavi       |
| 14. Problems.   |                                 |

# روش ابراهیم بن سنان

## ریاضیدان مشهور و مسلمان قرن سوم هجری در رسم سهمی

مورخین غربی تاریخ علم در مورد این دانشمند بزرگ که نوه ثابت بن قره ریاضیدان مشهور و مسلمان، قرن دوم هجری قمری بوده، چنین می‌نویسند:

«گرچه روزگار ابراهیم بن سنان بر اثر یک غده کبیدی در سال ۳۲۵ هجری قمری در ۳۷ سالگی به سر آمد، ولی آثار باقی‌مانده از او شهرتش را به عنوان شخصیتی مهم در تاریخ ریاضیات ثبت می‌کند. روش او در یافتن مساحت یک قطعه سهمی، ساده‌ترین روشی است که از دوره پیش از رنسانس به ما رسیده است.

روش او در رسم سهمی نیز به نوبه خود جالب و به صورت زیر می‌باشد:

روی خط  $AG$  پاره‌خط ثابت  $AB$  را جدا و  $BE$  را عمود بر  $AB$  رسم کنید. اینک بر  $BG$  نقاط  $H, D, Z$  و... را به تعداد دلخواه انتخاب کنید. با شروع از  $H$ ، نیم‌دایره به قطر  $AH$  را رسم، و فرض کنید که عمود  $BE$  آن را در  $T$  قطع کند. از  $T$  خطی به موازات  $AB$  و از  $H$  خطی به موازات  $BE$  رسم کنید. فرض کنید این خطها یکدیگر را در  $K$  قطع کنند.

سپس، نیم‌دایره‌ای به قطر  $AD$  رسم، و فرض کنید که این نیم‌دایره  $BE$  را در  $I$  قطع کند. مانند قبل، خطوطی از  $I$  و  $D$  به ترتیب به موازات  $AG$  و  $BE$  رسم، و فرض کنید که این دو خط یکدیگر را در  $L$  قطع کنند. همین عمل ترسیم را در مورد نقاط باقی‌مانده  $Z$ ، ... انجام دهید تا نقاط متناظر را به دست آورید. در این صورت نقاط  $B, K, L, M$ ، ... روی سهمی به رأس  $B$ ، محور  $BG$ ، و پارامتر  $AB$  قرار دارند. اگر  $K', L', M'$ ، ... بر امتدادهای  $KH, LD, MZ$ ، ... انتخاب شوند به طوری که  $KH=HK', LD=DL', MZ=ZM'$ ، ...، در این صورت آنها هم روی سهمی قرار دارند.

روش ابراهیم بن سنان برای اثبات اینکه  $K$  روی سهمی‌ای است که رسم کرده، چنین است: اگر سهمی از نقطه  $K$  نگذرد فرض کنید از نقطه دیگری روی  $KH$ ، مثلاً  $N$  بگذرد. در این صورت بنا بر خاصیت سهمی،  $NH^2 = AB \cdot BH$ . از سوی دیگر، چون  $TB$  بر قطر نیم‌دایره  $ATH$  عمود است، از قضیه ۱۴ مقاله دوم اصول اقلیدس نتیجه می‌شود که  $TB^2 = AB \cdot BH$ . به علاوه، بنا بر ترسیم،  $TBHK$  متوازی‌الاضلاع است لذا  $TB = KH$ . بنابراین  $KH^2 = TB^2 = AB \cdot BH = NH^2$ ، و لذا  $KH = NH$ ، که یک تناقض است. بنابراین  $K$  روی سهمی‌ای که رسم کردیم قرار دارد، و همین برهان، با تعویض نامهای نقطه‌ها، در مورد  $L, M$ ، ... صادق است و لذا معتبر بودن ترسیم‌رانشان داده‌ایم.

خواننده‌ای که می‌خواهد روش ابراهیم بن سنان را بیازماید، می‌تواند در موقع رسم نیم‌دایره‌های متوالی ماربر  $A$  به جای از پیش معلوم بودن قطرها، آنها را دلخواه بگیرد و این روش را ساده‌تر نماید. در این کار به نصف کردن خطوط  $AH$  و غیره نیازی پیدا نمی‌شود.

