




مجله ریاضی
چهارم
برای دانش آموزان دبیرستان





• صاحب امتیاز: انتشارات مدرسه
• مدیر مسئول: محمود ابراهیمی • سردبیر: حمیدرضا امیری

مطالب این شماره

- ۱ • حرف اول
- ۲ • شما هم می‌توانید در درس ریاضی خود موفق باشید (۱۱) / پرویز شهریاری
- ۹ • معادله درجه دوم / احمد قندهاری
- ۲۲ • آموزش ترجمه متون ریاضی (۷) / حمیدرضا امیری
- ۲۶ • تاریخچه مجلات ریاضی در ایران (۱۰) /
- ۳۲ • اثبات درستی قوانین مقدماتی تسویر / غلامرضا یاسی پور
- ۳۶ • عمل حاصلضرب دکارتی بین مجموعه‌ها /
- طرح و حل مسائل اساسی ریاضی به روشهای مقدماتی (۹) / ۴۱
غلامرضا یاسی پور
- ادامه گزارش بیست و پنجمین کنفرانس ریاضی کشور / ۴۳
- تعیین علامت عبارتهای جبری وحل نامعادلات و دستگاه توأم / ۴۶
سید محمدرضا هاشمی موسوی
- مقالات کوتاه از مجلات ریاضی معتبر جهان (۹) / ۵۳
غلامرضا یاسی پور
- مکان هندسی / محمد هاشم رستمی ۵۷
- مثلث ارتفاعیه / ۶۳
- معرفی کتاب / ۶۹
- جواب نامه‌ها / ۷۱
- حل مسائل مسابقه‌ای برهان (۹) / ۷۵
- مسائل مسابقه‌ای / ۷۵
- مسائل برای حل / ۷۶
- حل مسائل برهان ۱۰ / ۸۲

اعضای هیئت تحریریه:

- آقایان: • حمیدرضا امیری • محمد هاشم رستمی
• احمد قندهاری • سید محمدرضا هاشمی موسوی
• غلامرضا یاسی پور

(با تشکر از همکاری ارزنده آقایان پرویز شهریاری و مهدی قمصری و با تشکر از آقای حسین ابراهیم زاده قلمزم در بخش کامپیوتر مجله)

- مسئول فنی: هوشنگ آشتیانی • صفحه‌آرا و رسام: احمد پیرحسینلو
• حروفچینی: یگانه

سال چهارم، پاییز ۱۳۷۳، شماره اول

- برای** تمامی دبیران محترم و دانش‌آموزان عزیز را در زمینه‌های زیر دعوت به همکاری می‌کند:
- ۱- نگارش مقالات کمک درسی (شرح و بسط و رفع مشکلات مبحث درسی کتب ریاضی دبیرستان)
- ۲- طرح مسائل کلیدی (برای دانش‌آموزان) به همراه حل آن
- ۳- طرح مسائل مسابقه‌ای (برای دانش‌آموزان) به همراه حل آن
- ۴- طرح معماهای ریاضی
- ۵- نگارش یا ترجمه مقالات عمومی ریاضی (مانند تاریخ ریاضیات، زندگی‌نامه علمی و اجتماعی ریاضیدانان، نکته‌های تازه و لطیف ریاضیات، آموزش مسائل کامپیوتر و ...)
- هیئت تحریریه درحک و اصلاح و حذف و اضافه مقالات آزاد است.
- مقالات وارده باید خوانا و حتی الامکان کوتاه باشد.
- مقالات رسیده مسترد نمی‌شود.

برای هر ۳ ماه یک شماره منتشر می‌شود.

ذکر و عنوان هر قسمت از مجله در کتب یا مجلات دیگر منوط به اجازه کتبی از انتشارات مدرسه می‌باشد.

نشانی: تهران، خیابان ابرانشهر شمالی، کوچه بهرام‌جویینی، پلاک ۱۷ تلفن: ۸۸۲۵۹۶۴، ۸۸۲۳۱۴۹، ۵۲ - ۸۸۴۳۹۵۰، فاکس: ۸۸۲۰۵۹۹

حرف اول

با چاپ این شماره از مجله، وارد چهارمین سال انتشار فصلنامه ریاضی «برهان» شده‌ایم از روزی که تصمیم به انتشار این مجله گرفتیم، با امید به توفیقات الهی، هدفی جز خدمت به جامعه فرهنگی و علمی کشور و بالاخص ریاضیات دبیرستانی در سر نداشتیم. در این راه همیشه از پیشنهادات، انتقادات و دلگرمیها و تشویقهای شما عزیزان سود برده و آنها را توشه راهمان ساخته‌ایم. در آغاز چهارمین سال انتشار «برهان» لازم می‌دانم نکاتی را به عرض شما خوانندگان عزیز و دانش‌آموزان گرامی برسانم.

۱ - نظر به اینکه از امسال بخش وسیعی از آموزش متوسطه (دبیرستانی) تحت پوشش نظام جدید آموزش و پرورش قرار می‌گیرد، تصمیم گرفته شد از این به بعد، بخش قابل توجهی از مقالات و مسائل مطرح شده به نظام جدید اختصاص داده شود و مقالات حتی الامکان از میان مباحث و موضوعهایی انتخاب شوند که در کتب نظام جدید و قدیم مشترک باشند.

۲ - نظر به درخواست و پیشنهاد شما عزیزان، بخش مسائل برای حل را گسترش داده و در هر مقطع تعداد مسائل مطرح شده را افزایش می‌دهیم.

۳ - تصمیم گرفته‌ایم که از این شماره، بخش کامپیوتر مجله را در زمینه آموزش مبانی کامپیوتر فعالتر کنیم و مقالات بیشتری به چاپ برسانیم.

۴ - سعی بر این است که از این شماره، مقالات درسی و کمک درسی را افزایش داده و همچنین تعداد صفحات بیشتری را به بخش جواب نامه‌ها اختصاص دهیم.

در انتها و با توجه به فصل بازگشایی مدارس و شروع فعالیتهای تحصیلی شما عزیزان، موفقیت و کامیابی همه شما آینده‌سازان ایران اسلامی را از خداوند خواستاریم و توصیه می‌کنیم از همین امروز و از همین آغاز سال تحصیلی پایه‌های درسی خود را محکم کرده و در شیوه مطالعات کتب درسی و کمک آموزشی، برنامه‌ریزی دقیق و مؤثری داشته باشید تا به موفقیت بیشتری دست یابید. **ان شاء...**

والسلام. سردبیر

شما هم می‌توانید در درس

ریاضی خود موفق باشید (۱۱)

پرویز شهریاری



$$\Delta = (x^2 + 3)^2 - 4(x^2 + x + 2) \\ = x^4 - 4x^2 + 6x^2 - 4x + 1 = (x^2 - 2x + 1)^2$$

یعنی برای a ، دو جواب گویا به دست می‌آید:

$$a = x + 1, a = x^2 - x + 2$$

به این ترتیب $x_1 = a - 1$ و برای دو جواب دیگر، باید این

معادله درجه دوم را حل کنیم:

$$x^2 - x + 2 - a = 0;$$

$$x_{2,3} = \frac{1 \pm \sqrt{4a - 7}}{2}$$

تکلیف ریشه‌های معادله درجه سوم (*) معلوم شد. این معادله

درجه سوم به ازای $a < \frac{7}{4}$ ، تنها یک ریشه حقیقی دارد: $x = a - 1$

به ازای $a = \frac{7}{4}$ ، یک ریشه ساده و یک ریشه مضاعف دارد:

$$x_2 = x_3 = \frac{1}{2}, x_1 = -\frac{11}{4}$$

و به ازای $a > \frac{7}{4}$ ، سه ریشه حقیقی متمایز دارد:

$$x_1 = a - 1, x_2 = \frac{1}{2} + \sqrt{a - \frac{7}{4}}, x_3 = \frac{1}{2} - \sqrt{a - \frac{7}{4}}$$

مثال ۲: در پایان بخش مربوط به بخش پذیر بودن $a^n - b^n$ بر

$a - b$ و $a^n + b^n$ بر $a + b$ (به شرط فرد بودن n)، این تمرین داده

شده است:

چند جمله‌ای زیر را، به تفاضل مجذورهای دو چند جمله‌ای تبدیل کنید:

$$x^8 + x^7 + x^6 + x^2 + 1$$

بی‌تردید به فکر می‌افتید؛ این تمرین، به چه مناسبت در این

فصل داده شده است؟ ... چرا همه توانها زوج است؟ ... خوب، با

فرض $x^2 = y$ ، به عبارت ساده‌تری می‌رسیم:

دربارۀ روش انجام تکلیفها صحبت می‌کردیم. اهمیت موضوع، آن قدر زیاد است که نمی‌توان بسادگی آن را کنار گذاشت.

دو نوع مسأله وجود دارد: (۱) تمرینهای ساده و یکنواختی که برای به‌خاطر سپردن دستورها و تسلط بر قضیه‌ها، به‌طور معمول، در پایان هر فصل کتاب درسی آمده است و، راه حل آنها، کم و بیش از قبل معلوم است و (۲) مسأله‌هایی که برای حل آنها، باید دستورها و قضیه‌های لازم را خودمان و با توجه به داده‌های مسأله، کشف کنیم.

مسأله‌های نوع اول، مسأله‌هایی «بی‌مضمون» هستند و به تفسیر و توضیحی نیاز ندارند. هر جا، در این رشته مقاله‌ها، از مسأله نام می‌بریم منظورمان مسأله‌های نوع دوم، یعنی مسأله‌های «با مضمون» است.

البته، در نوع اول، یعنی در تمرینهای پایان هر بخش کتاب درسی هم، ممکن است مسأله‌هایی گذاشته شده باشد که «اندک مضمونی» داشته باشند. سه مثال از این نوع می‌آوریم:

مثال ۱: در پایان بخش مربوط به معادله درجه دوم، برای تمرین

در استفاده از دستور کلی حل معادله درجه دوم، این معادله، برای حل، داده شده است:

$$x^3 - ax^2 + x + a^2 - 3a + 2 = 0. \quad (*)$$

که معادله‌ای درجه سوم است. ولی، چون در فصل مربوط به معادله درجه دوم آمده است، باید ارتباطی با آن داشته باشد ... چه رابطه‌ای؟ ... بله! این معادله، نسبت به پارامتر a ، از درجه دوم است. آن را نسبت به a منظم می‌کنیم:

$$a^2 - (x^2 + 3)a + x^2 + x + 2 = 0.$$

بنابراین، می‌توان a را برحسب x به دست آورد؛ و اگر ریشه‌ها

(نسبت به مجهول a) عبارتهایی گویا باشند؛ این راه حل، ما را به نتیجه

می‌رساند. مبنی معادله چنین است:

یعنی؛ مثلثها، در یک زاویه مشترکند و ضلعهایی از دو مثلث که مجاور این زاویه‌اند، طولهایی متناسب دارند، پس مثلثها متشابه‌اند. بنابراین، زاویه‌های نظیر در دو مثلث، با هم برابرند:

$$\hat{E}CD = \hat{E}BC = \alpha$$

اکنون، اگر به مثلث CEB توجه کنیم، روشن می‌شود:

$$\alpha + \beta = \hat{A}EC = 45^\circ$$

ولی حتی در این‌گونه مسأله‌ها، که «بی مضمون» هم نیستند، همان‌طور که دیدید، خود درس می‌تواند راهنمایی برای یافتن راه حل باشد. مسأله‌های واقعی «مضمون دارد»، آنهايي هستند که هیچ‌گونه دستور یا قضیهٔ راهنما، چه مستقیم و چه غیر مستقیم، به همراه نداشته باشند. قبول کنید که اغلب مسأله‌های زندگی هم، چنین‌اند.



دو راه برای پی بردن به حل مسأله وجود دارد: راه اول این است که کتاب حل مسأله‌ها را باز کنیم و راه حل آن را ببینیم، یا منتظر جلسهٔ بعدی کلاس بمانیم تا دبیر ریاضی (یا یکی از دانش‌آموزان) آن را حل کند و «کلید حل مسأله» را به ما بدهد (و دریغ، که اغلب همین راه را انتخاب می‌کنند). این، برخورد «غیرفعال» با مسأله است، شیوه‌ای که هرگز ما را برای حل مسأله‌های تازه (چه در ریاضیات و چه در زندگی) آماده نمی‌کند، استفاده از کتابهای حل مسأله یا رونویس کردن آنچه بر تخته سیاه نوشته می‌شود، نقش دو «چوب دستی» را به عهده دارند که بخواهیم تنها به یاری آنها راه برویم و، طبیعی است، اگر به زیر بغل گرفتن «چوب دستیها» عادت کرده باشیم، بتدریج راه رفتن عادی را فراموش می‌کنیم و، بدون «چوب دستیها» به زمین می‌خوریم.

روش دوم؛ «برخورد فعال» با مسأله است. در آینده، دربارهٔ برخورد فعال با مسأله‌های ریاضی، با تفصیل بیشتری صحبت خواهیم کرد و در این‌جا، تنها به جنبه‌ای از آن - که برای همه، اهمیتی جدی دارد - اشاره می‌کنیم.

اندیشه یا تفکر، و بویژه اندیشهٔ علمی، تنها با آگاهیهای پراکنده‌ای که از این‌جا و آن‌جا به دست می‌آوریم، پدید نمی‌آید. اگر ذهن آدمی، فعالیت نداشته باشد و اگر، با تکیه بر آنچه در اختیار دارد و آنچه پیشتر یاد گرفته است، تلاش برای پیدا کردن بستگیهای

$$y^6 + y^3 + y^2 + y + 1$$

و این، خارج قسمت $y^5 - 1$ بر $y - 1$ است. و دیگر، به خودی خود، حل مسأله دنبال می‌شود:

$$y^6 + y^3 + y^2 + y + 1 = \frac{y^5 - 1}{y - 1} = \frac{x^{10} - 1}{x^2 - 1}$$

$$= \frac{(x^5 - 1)(x^5 + 1)}{(x - 1)(x + 1)} = \frac{x^5 - 1}{x - 1} \cdot \frac{x^5 + 1}{x + 1}$$

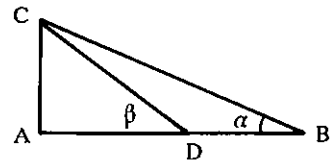
$$= (x^4 + x^3 + x^2 + x + 1)(x^4 - x^2 + x^2 - x + 1)$$

$$= (x^4 + x^2 + 1)^2 - (x^2 + x)^2$$

مثال ۳: در پایان بخش مربوط به تشابه مثلثها، این تمرین داده شده است:

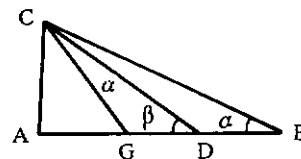
در مثلث قائم الزاویهٔ ABC، می‌دانیم طول ضلع AB، سه برابر طول ضلع AC و طول پاره‌خط راست DB، یک سوم طول ضلع AB است (شکل را ببینید). ثابت کنید، مجموع دو زاویهٔ α و β برابر 45° درجه است.

شکل ۱



کلید حل مسأله این است که از نقطهٔ C به وسط پاره‌خط راست AD وصل کنیم و ثابت کنیم، دو مثلث CED و BCE متشابه‌اند.

شکل ۲



این دو مثلث، در زاویهٔ E (CEB) مشترکند؛ در ضمن داریم (طول ضلع AC را واحد گرفته‌ایم):

$$\frac{|CE|}{|ED|} = \frac{\sqrt{2}}{1} = \sqrt{2};$$

$$\frac{|EB|}{|CE|} = \frac{2}{\sqrt{2}} = \sqrt{2}$$

باز هم نشد. اگر این مجموع به صورت:

$$1 + 11 + 101 + 1001 + \dots + \underbrace{100\dots01}_{n \text{ رقم}}$$

بود، می شد واحدها را جدا کرد، آن وقت بقیه به صورت مجموعی از توانهای متوالی 10 ، یعنی به صورت مجموعی از جمله های یک تصاعد هندسی، درمی آمد و مسأله حل می شد ... عجب! فهمیدم! در این جا، ساده ترین حالت، نمی تواند به ما کمک کند. ولی مجموع زیر، ساده تر ما را به هدف می رساند:

$$9 + 99 + 999 + \dots + \underbrace{99\dots9}_{n \text{ رقم}}$$

زیرا:

$$\underbrace{99\dots9}_{n \text{ رقم}} = 10^n - 1$$

به این ترتیب، برای مجموع مورد نظر داریم:

$$\begin{aligned} A &= \frac{a}{q} \left(\underbrace{99\dots9}_{\text{رقم } k} + \underbrace{99\dots9}_{\text{رقم } (k+1)} + \dots + \underbrace{99\dots9}_{\text{رقم } (k+n-1)} \right) = \\ &= \frac{a}{q} (10^k - 1 + 10^{k+1} - 1 + \dots + 10^{k+n-1} - 1) = \\ &= \frac{a}{q} (10^k + 10^{k+1} + \dots + 10^{k+n-1} - n) = \\ &= \frac{a}{q} \left(\frac{10^{k+n} - 10^k}{9} - n \right) \\ &= \frac{a}{9} (10^{k+n} - 10^k - 9n) \end{aligned}$$

به این ترتیب، برای حل مسأله، ابتدا مجموع مجهول را به صورت

مجموع A نوشتیم، سپس به حالت خاص پرداختیم و در حالت خاص $a = 9$ و $k = 1$ ، کلید حل مسأله را به دست آوردیم؛ بعد این راه حل را تعمیم دادیم و، با استفاده از قانون مجموع در تصاعد هندسی، خود را به جواب مسأله در حالت کلی رساندیم.

اندیشه ما، از حالت کلی مجموع A ، متوجه تصاعد شد؛ سپس خود را به تصاعد هندسی با جمله های $10^0, 10^1, 10^2, \dots, 10^k$ رساند و از آن جا، با این تجزیه و تحلیل و استفاده از مسأله های کمکی، راه را برای حل مسأله (که تعمیمی از مسأله های کمکی بود) باز کرد.

ممکن بین عنصرهای به ظاهر جدا از هم نکند؛ اگر با تجزیه و تحلیل داده ها، به تدریج و گام به گام، راه را برای رسیدن به مقصود نگشاید ...، هرگز رشد نمی کند و استعداد رفع دشواریها را بدست نمی آورد. اندیشه، بویژه اندیشه ریاضی، ضمن جدا کردن و شناختن پدیده ها و حقیقتهای موجود (تجزیه)، جست و جوی بستگیهای بین آنها (ترکیب یا تحلیل) و عبور از حالتی خاص به حالت کلی (تعمیم) پدید می آید و رشد می کند؛ و «برخورد فعال با مسأله» یعنی همین

تجزیه و تحلیل و تعمیم، خمیرمایه هایی هستند که «اندیشه» را بارور می کنند، موجب افزایش آگاهیها و بالا رفتن استعداد کار می شوند و به ما امکان می دهند تا، به کمک اندیشه خود، حلقه مجهول یک موقعیت (یعنی آنچه را که به طور مستقیم به ما نداده اند) پیدا کنیم.

اندیشه، نه از راه به خاطر سپردن و حفظ کردن بلکه از طریق تلاش ذهن و جست و جوی بستگیهای تازه به دست می آید. اندیشه، از ساده ترین آگاهیها آغاز می شود و با فعالیت خود - و بر پایه تجربه های پیشین - آگاهیهای مناسب دیگری را به یاد می آورد، آنها را به هم نزدیک می کند و با ارزیابی موردهای مشابه و توجه به حالت خاص، خود را از «بین بست» خارج می کند. با یکی دو مثال، مطلب را روشنتر می کنیم.

مثال ۱: n عدد طبیعی داریم که همه آنها، با رقم a نوشته شده اند (می تواند یکی از رقمهای $1, 2, \dots, 9$ باشد). کوچکترین عدد، k رقم و، هر عدد بعدی، یک رقم بیشتر از عدد قبل از خود دارد. مجموع این n عدد را پیدا کنید.

مجموع مجهول را می توان این طور نوشت (عددها در عدد - شماری به مبنای 10):

$$A = \underbrace{aa\dots a}_{k \text{ مرتبه}} + \underbrace{aa\dots a}_{(k+1) \text{ مرتبه}} + \dots + \underbrace{aa\dots a}_{(k+n-1) \text{ مرتبه}}$$

باید مجموع n جمله را پیدا کنیم. تنها برای مجموعهایی قاعده کلی داریم که، جمله های آنها، به تصاعد حسابی یا تصاعد هندسی باشند. ولی در این جا، با تصاعد سر و کار نداریم. چه باید کرد؟ ... ساده ترین حالت را، وقتی $a = 1$ و $k = 1$ باشد، در نظر بگیریم:

$$1 + 11 + 111 + 1111 + \dots + \underbrace{11\dots1}_{n \text{ مرتبه}}$$

نسبت به خط راست AP ثابت می‌شود.

حرکت بعدی اندیشه، برای تعیین طول پاره‌خطهای مجهول، دقت در ویژگی‌هایی است که شکل‌های متقارن دارند (برابر بودن پاره‌خطهای راست متناظر، عمود بودن محور تقارن بر پاره خط راستی که دو نقطه متناظر را به هم وصل می‌کند و نصف شدن این پاره‌خط راست به وسیله محور تقارن). در نتیجه:

$$[MK] \perp [AP] \quad \text{و} \quad |MK| = |BC| = |AP|$$

سرانجام، با بررسی مساحت مربع و مثلث، به این نتیجه می‌رسیم که مربع ABPC و مثلث MPK هم‌ارزند (یعنی مساحت‌های برابر دارند) که، از آن‌جا، مساحت مجهول، برابر a^2 واحد مربع می‌شود. اشاره‌ای به یک نکته مهم: مسأله را کامل حل کنید.

وقتی معادله ساده‌ای مثل $mx = a$ روبه روی شماست، برای حل آن و پیدا کردن مقدار مجهول x چه می‌کنید؟ خیلی ساده است: می‌گویید دو طرف معادله را بر m تقسیم می‌کنیم، مقدار x به دست می‌آید:

$$x = \frac{a}{m}$$

آیا حل مسأله تمام شده است؟ نه! می‌دانید، دو طرف برابری را، تنها وقتی می‌توان بر m تقسیم کرد که، m ، برابر صفر نباشد. پس جوابی که به دست آورده‌اید، همیشه قابل قبول نیست و باید آن را این‌طور نوشت:

$$x = \frac{a}{m} \quad \text{اگر } m \neq 0 \text{، آن‌گاه}$$

هنوز کار حل مسأله تمام نشده است؛ زیرا باید به این پرسش هم پاسخ داد که: اگر m برابر صفر باشد، تکلیف x چه می‌شود؟ پاسخ را می‌دانید. بنابراین، تنها وقتی می‌توان حل معادله را کامل دانست که به پرسش اخیر هم، پاسخ داده باشیم:

$$x = \frac{a}{m} \quad \text{اگر } m \neq 0 \text{، آن‌گاه}$$

اگر $m = 0$ و $a = 0$ ، آن‌گاه x می‌تواند هر عدد دلخواه باشد؛

اگر $m = 0$ و $a \neq 0$ ، آن‌گاه معادله ریشه‌ای ندارد.

در برخی متنها و به‌ویژه در برخی کتابهای سطحی «حل المسائل»، این روند کار را به دو بخش تقسیم کرده‌اند: (۱) حل مسأله؛ (۲) بحث. اغلب، در صورت مسأله هم، همین دو بخش را یادآوری می‌کنند: «معادله $mx = a$ را حل و بحث کنید».

که برخوردی سطحی و حتی بی‌معنی با یک مسأله ریاضی است. حل یک مسأله ریاضی، و مثلاً حل یک معادله، به معنای آن است که جواب یا جوابهای ممکن را، در همه حالت‌هایی که پیش می‌آید، پیدا

مثال ۲: روی ضلعهای مثلث قائم الزاویه متساوی‌الساقینی، با ضلع مجاور به زاویه قائمه برابر a ، مربعهای در بیرون مثلث ساخته‌ایم و مرکزهای این مربعها را، با پاره خطهای راست به هم وصل کرده‌ایم. مطلوب است مساحت مثلثی که به این ترتیب به دست می‌آید.

برای به حرکت درآوردن اندیشه، ابتدا عنصرهای صورت مسأله را، مشخص و تعریف هر یک از آنها را مرور می‌کنیم: «مثلث قائم‌الزاویه متساوی‌الساقین»، «ضلع مجاور به زاویه قائمه»، «مربع»، «مرکز مربع». بعد شکل را رسم و داده‌های مسأله را یادداشت می‌کنیم. پاره خطهای راست AB و AC، ضلعهای مجاور به زاویه قائمه؛ $|AB| = |AC|$ ؛

مربع AA_1C_1C و BB_1C_1C ، AA_1B_1B

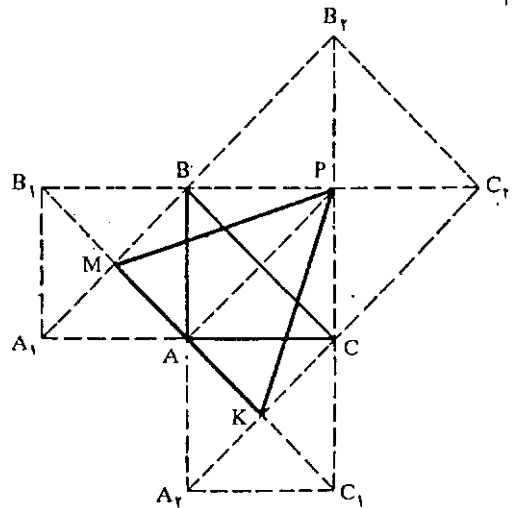
$$|AA_1| = |A_1B_1| = |B_1B| = |AB|$$

$$|BB_1| = |B_1C_1| = |C_1C| = |BC|$$

$$|AC| = |CC_1| = |C_1A_1| = |A_1A|$$

نقطه‌های M، P و K؛ مرکزهای مربعها.

شکل ۳



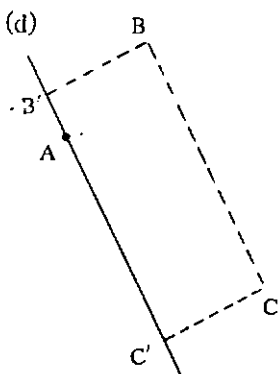
چون باید مساحت مثلث MPK را پیدا کنیم، به‌طور طبیعی اندیشه ما، متوجه تعیین قاعده مثلث و ارتفاع وارد بر این قاعده می‌شود. برای این که حرکت اندیشه را در جست و جوی بستگی‌هایی که بین داده‌ها (ضلعهای مجاور به زاویه قائمه در مثلث ABC) و مجهولها (قاعده و ارتفاع مثلث MPK) وجود دارد، ساده‌تر کنیم، باید آنها را در دستگاهی از بستگیها وارد کنیم که معرف ویژگی مورد نظر ما باشند. در این مسأله، تقارن تمامی شکل و بخشی از آن؛ یعنی مثلث MPK،

برابر، منفی باشند، آن وقت لگاریتم عدد منفی معنا ندارد ... پس عمل لگاریتم گرفتن به شرطی درست است که x ، عددی مثبت باشد. ولی در صورت مسأله، شرطی برای مثبت بودن x وجود ندارد. در واقع $\log|x|$ معنا دارد، ولی $\log x$ ممکن است معنا نداشته باشد.

اگر $\log|x| = \log 2$ ، آن وقت به دست می آید $x = \pm 2$. آیا $x = -2$ در معادله صدق می کند ... بله!

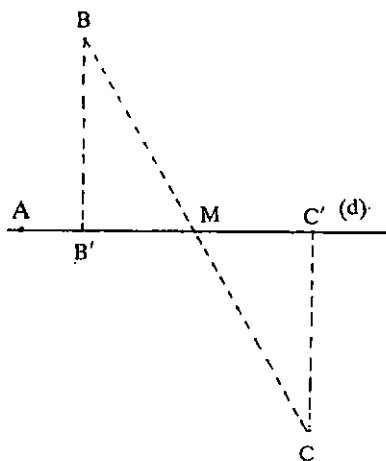
$$(-2)^{-4} = \frac{1}{(-2)^4} = \frac{1}{16} ; (-4)^{-2} = \frac{1}{(-2)^4} = \frac{1}{16}$$

مثال ۲: سه نقطه A ، B و C روی یک صفحه واقعند. از نقطه A خط راستی بگذرانید که، دو نقطه B و C ، از آن به یک فاصله باشند.



شکل ۴

مسأله ساده‌ای است: اگر خط راست مجهول را که از A می‌گذرد، d بنامیم، چون طول عمودهای وارد از B و C بر d با هم برابرند، بنابراین d با خط راست BC موازی است. پس از نقطه A ، خط راستی موازی خط راست BC رسم می‌کنیم، خط راست مجهول به دست می‌آید ... در درستی این جواب شککی نیست. ولی مگر



شکل ۵

کنیم. «بحث» دربارهٔ جواب، جزو حل مسأله است، نه بخشی اضافی و بیرون از حل. اگر از شما بپرسند: x بزرگتر است یا x^2 ؟ چه پاسخی می‌دهید؟ چاره‌ای جز این ندارید که در پاسخ، از همهٔ حالت‌های ممکن نام ببرید:

اگر $x = 0$ یا $x = 1$ ، $x^2 = x$ ، آن‌گاه $x^2 = x$ ؛

اگر $x < 0$ یا $x > 1$ ، $x^2 > x$ ، آن‌گاه $x^2 > x$ ؛

اگر $0 < x < 1$ ، $x^2 < x$ ، آن‌گاه $x^2 < x$.

و روشن است، حذف هر کدام از این حالت‌ها و توجه نکردن به آن، به معنای آن است که پاسخ را کامل نداده‌ایم.

حل یک مسأله در کجا تمام می‌شود؟ وقتی که به این پرسش‌ها، پاسخ داده باشیم، آیا جوابی که به دست آورده‌ایم، قابل قبول است؟ از بین جوابهایی که به دست آورده‌ایم، کدام را باید پذیرفت و کدام را کنار گذاشت؟ آیا جوابی را از دست نداده‌ایم؟ موقعیت جواب، در حالت‌های خاص چه می‌شود؟ ...

قبل از هر کار، باید عملها و استدلالها را بازبینی کرد. بازبینی درستی محاسبه‌ها و دقت در منطقی بودن استدلالها، از بسیاری اشتباهات جلوگیری می‌کند. ولی با گذشتن از این مرحله، باز هم ممکن است، جوابی که به دست آورده‌ایم، قابل قبول نباشد، یا نیاز به تفسیر داشته باشد و یا بجز آن، جواب یا جوابهای دیگری هم وجود داشته باشد و ...

مثال همیشه، موضوع را با مثال روشن می‌کنیم.

مثال ۱: معادله $x^{2x} = (2x)^x$ را حل کنید.

اگر از دو طرف معادله، در مبنای 10 لگاریتم بگیریم، به دست می‌آید:

$$2x \log x = x (\log 2 + \log x) \Rightarrow x \log x - x \log 2 = 0$$

از آن جا $x (\log x - \log 2) = 0$ ، یعنی $x = 2$ یا $x = 0$. ریشهٔ

$x = 0$ قابل قبول نیست (دست کم برای ما).

$x = 2$ به شرطی قابل قبول است که بتوانیم ثابت کنیم:

$$\lim_{x \rightarrow 0} (x^{2x}) = \lim_{x \rightarrow 0} (2x)^x$$

$$x \rightarrow 0 \quad x \rightarrow 0$$

و ما از عهدۀ این محاسبه برنمی‌آییم. $x = 2$ ریشه‌ای از معادله

است و در آن صدق می‌کند، زیرا $4^2 = 2^4$.

آیا مسأله حل شد؟ دوباره جزء به جزء حل را مورد بررسی قرار می‌دهیم ... از دو طرف لگاریتم گرفتیم ... آیا اگر دو عدد برابر باشند، همیشه لگاریتمهای آنها یکی است؟ ... نه! ممکن است دو عدد

حالت، نقطه B بر نقطه H منطبق و مثلث ABC قائم الزاویه می شود. دایره به مرکز D و شعاع برابر m، وقتی خط راست BH (و در حالت انطباق B بر H، خط راست عمود بر AH در نقطه H) را قطع می کند که داشته باشیم: $m \geq \frac{1}{2}h$ ، یا $h < 2m$. به این ترتیب، به حالتی زیر برخورد می کنیم:

(۱) در حالت $h > c$ ، مسأله جواب ندارد.

(۲) در حالت $h < c$: الف) اگر $2m < h$ ، آن وقت مسأله جواب ندارد؛ ب) اگر $2m = h$ ، مسأله یک جواب دارد؛ ج) اگر $2m > h$ ، آن وقت دایره به مرکز D و شعاع برابر m، با خط راست BH، دو نقطه مشترک دارد؛ با وجود این، ممکن است این نقطه مشترک، مثلی را مشخص نکند؛ این وضع، وقتی پیش می آید که نقطه مشترک، منطبق بر B باشد. بنابراین، در این حالت، بازای $c > \frac{1}{2}h$ یا $c < \frac{1}{2}h$ ، مسأله دو جواب و به ازای $c = \frac{1}{2}h$ ، یک جواب دارد. (۳) $h = c$. در این حالت، نقطه های B و H بر هم منطبق می شوند. اگر $2m \leq h$ ، آن وقت مسأله جواب ندارد؛ اگر $2m > h$ مسأله یک جواب دارد (زیرا دو مثلی که به دست می آید، با هم برابرند).

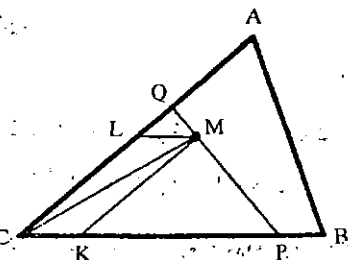


البته، مسأله هایی هستند که، گرچه می توان راه حل آنها را با روشهای مقدماتی دبیرستانی پیدا کرد، بحث درباره حالتی مختلف و تعداد جوابها، از مرز ریاضیات دبیرستانی خارج می شود. در چنین صورتی، که برای شما کمتر پیش می آید (زیرا بی شک مسأله ای را به شما می دهند که از عهده حل کامل آن برآید)، باید توضیح بدهید که حل مسأله ناتمام مانده است. ذکر جمله «ناتمام» در پایان حل مسأله، به معنای درک شما از مفهوم «حل مسأله» است.

برای آشنایی شما، نمونه ای از این گونه مسأله ها را می آوریم.

از نقطه M واقع در درون مثلث ABC، خط راستی رسم کنید که مثلث را به دو بخش هم ارز (با مساحتی برابر) تقسیم کند.

شکل ۷



نمی شود دو نقطه B و C در دو طرف خط راست d و، در ضمن، از آن به یک فاصله باشند؟...

... بله، درست است، اگر خط راست d را از نقطه A و نقطه M (وسط پاره خط راست BC) بگذرانیم، باز هم جوابی از مسأله، به دست می آید. پس مسأله دو جواب دارد: (۱) خط راستی که از A موازی BC رسم شود؛ (۲) خط راستی که از A و وسط پاره خط راست BC عبور کند.

در ضمن، روشن می شود که، اگر A بر M منطبق باشد، مسأله بی نهایت جواب دارد، یعنی هر خط راستی که از M (یعنی A) بگذرد، جواب مسأله است. ولی اگر A روی خط راست BC و در جایی غیر از M باشد، آن وقت مسأله تنها یک جواب دارد: خود خط راست BC.. مسأله به طور کامل حل شد.

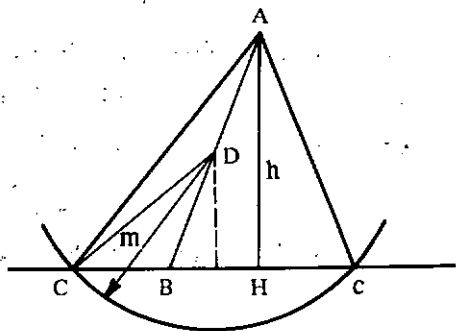
مثال ۳: مطلوب است رسم مثلث ABC، به شرطی که از آن،

طول ضلع AB، طول میانه CD و طول ارتفاع AH معلوم باشد:

$$|AH| = h, |CD| = m, |AB| = c$$

ABC را مثلث مجهول می گیریم. خود مثلث ABC را، بلافاصله، نمی توان ساخت. ولی مثلث قائم الزاویه AHB قابل رسم است، زیرا از آن، طولهای وتر AB و ضلع مجاور به زاویه قائمه AH معلوم است. نقطه D، وسط ضلع AB است و اگر به مرکز D و شعاع برابر

شکل ۶

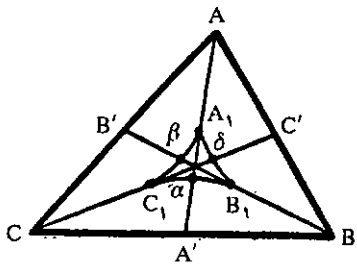


m دایره ای رسم کنیم تا خط راست BH را قطع کند، نقطه C، رأس سوم مثلث ABC به دست می آید (شکل ۶). روی شکل دیده می شود که مسأله، در حالت کلی، دو جواب دارد.

مسأله را حل کردیم و جواب را به دست آوردیم، ولی هنوز حل مسأله کامل نیست. حل را از آغاز مورد بازبینی قرار می دهیم. اول مثلث قائم الزاویه ABH را رسم کردیم. ولی این مثلث، وقتی وجود دارد که داشته باشیم $c > h$. حالت $c = h$ هم قابل قبول است: در این

$|CQ| = y$ را جدا می‌کنیم، خط راست مجهول به دست می‌آید. جواب را با این فرض به دست آوردیم که، خط راست مجهول، ضلعهای CA و CB را قطع کرده باشد. به همین ترتیب، می‌توان دو حالت دیگر را در نظر گرفت و دو جواب دیگر به دست آورد. در نتیجه، در حالت کلی، سه جواب پیدا می‌شود.

همان‌طور که می‌بینیم، مسأله، با روشهای ریاضیات دبیرستانی به جواب رسید. ولی بحث دربارهٔ تعداد جوابها، چه از نظر کمی و چه از نظر کیفی، نسبت به حل کلی مسأله، بغرنجتر است و از محدودهٔ ریاضیات دبیرستانی بیرون می‌رود. نتیجهٔ این بحث را، در این جا می‌آوریم.



شکل ۸

هذلولی $C_1A_1B_1$ را (شکل ۸) مماس بر میانه‌های BB' و CC' ، به ترتیب در نقطه‌های وسط آنها، یعنی B_1 و C_1 رسم می‌کنیم (این هذلولی، روی میانهٔ AA' ، پاره خط راست به طول $|AA'| \frac{\sqrt{2}}{2}$ را جدا می‌کند، مجانبهای این هذلولی، عبارتند از: خطهای راست AC و AB ، به همین ترتیب، هذلولیهای A_1BC_1 و $A_1B_1C_1$ را رسم می‌کنیم. مسأله، وقتی سه جواب دارد که نقطهٔ M ، در درون مثلث منحنی الضلع $A_1B_1C_1$ واقع باشد. اگر M روی محیط مثلث $A_1B_1C_1$ باشد، به شرطی بر یکی از رأسهای مثلث منطبق نشود، مسأله دو جواب دارد. مسأله، در همهٔ حالتها، دیگر، دارای یک جواب است.

تا بعد

در این مسأله حتی پیدا کردن نمونه‌ای از جواب هم، کار چندان ساده‌ای نیست و باید از جبر و مثلثات کمک بگیریم.

خط راست مجهول را PQ فرض می‌کنیم (شکل ۷) که ضلعهای CA و CB را، به ترتیب، در نقطه‌های Q و P قطع کرده است. $|CP| = x$ و $|CQ| = y$ می‌گیریم. بنا بر فرض، باید داشته باشیم:

$$xy = \frac{1}{4} ab \quad (1)$$

برای به دست آوردن مقادیرهای x و y ، به معادلهٔ دیگری هم نیاز داریم. خطهای راست ML و MK را، به ترتیب، موازی ضلعهای CA و CB رسم و M را به C وصل می‌کنیم. $|CK| = k$ و $|CL| = l$ می‌گیریم (چون نقطهٔ M مفروض است، بنابراین طولهای k و l هم، مقادیرهایی معلومند). روشن است که

$$S_{PCQ} = S_{CMQ} + S_{CMP}$$

از طرف دیگر، با توجه به شکل ۷، داریم:

$$S_{CMQ} = \frac{1}{4} |CQ| \cdot |CK| \sin \hat{C} = \frac{1}{4} ky \sin \hat{C};$$

$$S_{CMP} = \frac{1}{4} lx \sin \hat{C}; \quad S_{PCQ} = \frac{1}{4} xy \sin \hat{C}$$

که از آن جا به دست می‌آید:

$$ky + lx = xy \quad (2)$$

اکنون باید، به کمک معادله‌های (۱) و (۲)، راهی برای رسم پاره‌خطهای راست x و y پیدا کرد. این رسم را می‌توان، مثلاً با روش زیر انجام داد. ابتدا، این پاره‌خط راست را می‌سازیم:

$$C = \sqrt{\frac{1}{4} ab}$$

سپس، مجهولهای کمکی u و v را، با توجه به تناسبهای

$$\frac{u}{k} = \frac{c}{x}; \quad \frac{v}{l} = \frac{c}{y} \quad (3)$$

در نظر می‌گیریم. در این صورت، دستگاه معادله‌های (۱) و (۲)، منجر به این دستگاه می‌شود:

$$uv = kl \quad \text{و} \quad u + v = c \quad (4)$$

با توجه به معادله‌های (۴)، می‌توان پاره‌خطهای راست u و v و سپس، با توجه به معادله‌های (۳)، پاره‌خطهای راست x و y را ساخت. اگر $x \leq a$ و $y < b$ باشد، آن وقت پاره‌خطهای راست $|CP| = x$ و

یادداشت. اغلب، ضمن تعریف تابع نمایی به صورت

$$f(x) = e^{ax} \quad (F)$$

شرط $f(x) > 0$ را می‌پذیرند، یعنی دامنهٔ مقادیرهای قابل قبول x ، با شرط $f(x) > 0$ به دست می‌آید. اگر این تعریف را برای تابع نمایی قبول داشته باشیم، آن وقت $x = -2$ نمی‌تواند به عنوان ریشه‌ای از معادلهٔ $(2x)^x = x^{2x}$ پذیرفته شود. با وجود این ضمن تعیین ریشه‌های این معادله، باید به این مطلب اشاره شود: اگر مقادیرهای منفی x را جزو دامنهٔ معادله به حساب آوریم، معادله دو ریشه دارد: $x = \pm 2$ ؛ ولی اگر تنها مقادیرهای مثبت به عنوان دامنهٔ مقادیرهای قابل قبول x پذیرفته شود، آن وقت معادله تنها یک جواب دارد: $x = 2$.

معادله درجه دوم $ax^2 + bx + c = 0$

● احمد قندهاری

m را چنان بیابید تا اولاً: یک ریشه معادله صفر باشد. ثانیاً: هر دو ریشه معادله صفر باشد. ثالثاً: معادله دو ریشه قرینه داشته باشد ضمناً در هر مورد ریشه‌ها را بیابید.

حل: اولاً: باید $c = 0$ ولی باید توجه داشت که $b \neq 0$ بنابراین:

$$m = 3$$

اگر $m = 3 \Rightarrow 3x^2 + (3 - 1)(3 + 1)x = 0$

$$\Rightarrow 3x^2 + 8x = 0 \Rightarrow x(3x + 8) = 0 \Rightarrow \begin{cases} x = 0 \\ x = -\frac{8}{3} \end{cases}$$

ثانیاً: برای آن که هر دو ریشه معادله صفر باشد، باید $b = 0$ و

$$c = 0 \text{ پس: } m = -1$$

اگر $m = -1 \Rightarrow -x^2 = 0 \Rightarrow x^2 = 0 \Rightarrow x \cdot x = 0$

$$\Rightarrow \begin{cases} x = 0 \\ x = 0 \end{cases}$$

ثالثاً: برای آن که معادله دو ریشه قرینه داشته باشد، باید $b = 0$ و a و c مختلف‌العلامه باشد، پس:

$$m = 1$$

اگر $m = 1 \Rightarrow \begin{cases} a = +1 \\ c = -4 \end{cases}$

$$\Rightarrow x^2 - 4 = 0 \Rightarrow x^2 = 4 \Rightarrow x = \pm 2$$

۱- بررسی حالت‌های ناقص معادله:

الف) اگر در معادله درجه دوم $ax^2 + bx + c = 0$ ، $c = 0$ آنگاه یک ریشه معادله صفر و ریشه دیگر $(-\frac{b}{a})$ است.

$$c = 0 \Rightarrow ax^2 + bx = 0 \Rightarrow x(ax + b) = 0$$

$$\Rightarrow \begin{cases} x = 0 \\ x = -\frac{b}{a} \end{cases}$$

ب) اگر در معادله درجه دوم $ax^2 + bx + c = 0$ ، b و c هر دو صفر باشد، آنگاه هر دو ریشه معادله صفر است.

$$b = 0, c = 0 \Rightarrow ax^2 = 0 \Rightarrow x^2 = 0 \Rightarrow x \cdot x = 0$$

$$\Rightarrow \begin{cases} x = 0 \\ x = 0 \end{cases}$$

ج) اگر در معادله درجه دوم $b = 0$ و a و c مختلف‌العلامه باشد، آنگاه معادله دو ریشه قرینه دارد.

$$b = 0 \Rightarrow ax^2 + c = 0 \Rightarrow x^2 = -\frac{c}{a}$$

چون a و c مختلف‌العلامه‌اند، پس کسر $(-\frac{c}{a})$ عددی است مثبت.

$$\Rightarrow x = \pm \sqrt{-\frac{c}{a}}$$

مسأله: معادله $mx^2 + (m-1)(m+1)x + (m-3)(m+1) = 0$ مفروض است.

$$= \frac{5 \pm \sqrt{25 - 16}}{4} = \frac{5 \pm 3}{4}$$

$$\Rightarrow \begin{cases} x'' = \frac{5+3}{4} = 2 \\ x' = \frac{5-3}{4} = \frac{1}{2} \end{cases}$$

$$2) \quad x^2 - (3-\sqrt{3})x + 2-\sqrt{3} = 0 \quad \begin{cases} a=1 \\ b=-(3-\sqrt{3}) \\ c=2-\sqrt{3} \end{cases}$$

$$x = \frac{-b \pm \sqrt{b^2 - 4ac}}{2a}$$

$$= \frac{3-\sqrt{3} \pm \sqrt{(3-\sqrt{3})^2 - 4(1)(2-\sqrt{3})}}{2}$$

$$x = \frac{3-\sqrt{3} \pm \sqrt{9+3-6\sqrt{3}-8+4\sqrt{3}}}{2}$$

$$= \frac{3-\sqrt{3} \pm \sqrt{4-2\sqrt{3}}}{2}$$

$$x = \frac{3-\sqrt{3} \pm \sqrt{3+1-2\sqrt{3}}}{2}$$

$$= \frac{3-\sqrt{3} \pm \sqrt{(\sqrt{3}-1)^2}}{2}$$

$$= \frac{3-\sqrt{3} \pm (\sqrt{3}-1)}{2}$$

$$\Rightarrow \begin{cases} x' = \frac{3-\sqrt{3} + \sqrt{3}-1}{2} \\ x'' = \frac{3-\sqrt{3} - \sqrt{3} + 1}{2} \end{cases}$$

$$= \frac{2}{2} = 1 \Rightarrow \boxed{x' = 1}$$

$$\frac{4-2\sqrt{3}}{2} = \frac{2(2-\sqrt{3})}{2} = 2-\sqrt{3}$$

$$\Rightarrow \boxed{x'' = 2-\sqrt{3}}$$

۲- حل معادله درجه دوم کامل: $ax^2 + bx + c = 0$

طرفین معادله را بر a تقسیم می‌کنیم ($a \neq 0$).

$$\Rightarrow x^2 + \frac{b}{a}x + \frac{c}{a} = 0 \Rightarrow x^2 + \frac{b}{a}x = -\frac{c}{a}$$

به طرفین تساوی عبارت $\frac{b^2}{4a^2}$ را اضافه می‌کنیم.

$$\Rightarrow x^2 + \frac{b}{a}x + \frac{b^2}{4a^2} = \frac{b^2}{4a^2} - \frac{c}{a}$$

$$\Rightarrow \left(x + \frac{b}{2a}\right)^2 = \frac{b^2 - 4ac}{4a^2}$$

از طرفین تساوی ریشه دوم می‌گیریم.

$$\Rightarrow x + \frac{b}{2a} = \pm \frac{\sqrt{b^2 - 4ac}}{2a} \Rightarrow x = -\frac{b}{2a} \pm \frac{\sqrt{b^2 - 4ac}}{2a}$$

$$\Rightarrow \boxed{x = \frac{-b \pm \sqrt{b^2 - 4ac}}{2a}} \Rightarrow \begin{cases} x' = \frac{-b + \sqrt{b^2 - 4ac}}{2a} \\ x'' = \frac{-b - \sqrt{b^2 - 4ac}}{2a} \end{cases}$$

عبارت $(b^2 - 4ac)$ مبین معادله یا دلتای معادله گوئیم و آن را با

نماد (Δ) نشان می‌دهیم.

الف) اگر $\Delta > 0$ یا $b^2 - 4ac > 0$ ، آنگاه x' و x'' وجود دارد،

در این صورت می‌گوئیم معادله دو ریشه حقیقی متمایز دارد.

ب) اگر $\Delta = 0$ یا $b^2 - 4ac = 0$ ، آنگاه x' و x'' مساویند، در

این صورت می‌گوئیم معادله دو ریشه حقیقی مساوی دارد.

$$\boxed{x' = x'' = \frac{-b}{2a}}$$

ج) اگر $\Delta < 0$ یا $b^2 - 4ac < 0$ ، آنگاه معادله دو ریشه غیر

حقیقی دارد که از بحث ما خارج است.

مثال: معادلات زیر را حل کنید:

$$1) \quad 2x^2 - 5x + 2 = 0 \quad \begin{cases} a=2 \\ b=-5 \\ c=2 \end{cases}$$

$$x = \frac{-b \pm \sqrt{b^2 - 4ac}}{2a} = \frac{5 \pm \sqrt{25 - 4(2)(2)}}{4}$$

$$x = \frac{\gamma m^2 \pm \gamma mn}{\gamma m^2} \Rightarrow \begin{cases} x' = \frac{\gamma m^2 + \gamma mn}{\gamma m^2} \\ x'' = \frac{\gamma m^2 - \gamma mn}{\gamma m^2} \end{cases}$$

$$= \frac{\gamma m(m+n)}{\gamma m^2} = \frac{m+n}{m} \Rightarrow \boxed{x' = \frac{m+n}{m}}$$

$$= \frac{\gamma m(m-n)}{\gamma m^2} = \frac{m-n}{m} \Rightarrow \boxed{x'' = \frac{m-n}{m}}$$

تذکره: اگر در معادله درجه دوم $ax^2 + bx + c = 0$ عدد زوج باشد، یا عبارتی شامل مضرب (۲) باشد، نصف آن را (b') می‌نامیم. در این صورت $b = 2b'$.

$$\Rightarrow x = \frac{-b \pm \sqrt{b^2 - 4ac}}{2a} = \frac{-2b' \pm \sqrt{4b'^2 - 4ac}}{2a}$$

$$= \frac{-2b' \pm \sqrt{4(b'^2 - ac)}}{2a} \Rightarrow x = \frac{-2b' \pm 2\sqrt{b'^2 - ac}}{2a}$$

$$\Rightarrow \boxed{x = \frac{-b' \pm \sqrt{b'^2 - ac}}{a}} \quad \text{فرمول } b'$$

نتیجه: اگر b زوج باشد و نصف آن را b' بنامیم، بهتر است معادله را از فرمول (b') حل کنیم.

عبارت $b'^2 - ac$ را مبین معادله گوییم و آن را با نماد (Δ') نشان می‌دهیم.

مثال: معادله $x^2 - 2\sqrt{3}x - (2\sqrt{3} + 1) = 0$ را حل کنید.

$$a = 1 \quad b' = -\sqrt{3} \quad c = -(2\sqrt{3} + 1)$$

$$x = \frac{-b' \pm \sqrt{b'^2 - ac}}{a} = \frac{\sqrt{3} \pm \sqrt{3 + (2\sqrt{3} + 1)}}{1}$$

$$= \frac{\sqrt{3} \pm \sqrt{3 + 1 + 2\sqrt{3}}}{1}$$

$$3)x^2 - 2(m-1)x + (1-2m) = 0$$

$$\Rightarrow \begin{cases} a = 1 \\ b = -2(m-1) \\ c = 1-2m \end{cases}$$

$$x = \frac{-b \pm \sqrt{b^2 - 4ac}}{2a}$$

$$= \frac{2(m-1) \pm \sqrt{4(m-1)^2 - 4(1-2m)}}{2}$$

$$x = \frac{2(m-1) \pm \sqrt{4(m^2 - 2m + 1) - 4 + 8m}}{2}$$

$$= \frac{2(m-1) \pm \sqrt{4m^2 - 8m + 4 - 4 + 8m}}{2}$$

$$x = \frac{2(m-1) \pm \sqrt{4m^2}}{2} = \frac{2(m-1) \pm 2m}{2}$$

$$\Rightarrow \begin{cases} x' = \frac{2(m-1) + 2m}{2} = \frac{2(2m-1)}{2} \\ x'' = \frac{2(m-1) - 2m}{2} = \frac{-2}{2} \end{cases}$$

$$= 2m - 1 \Rightarrow \boxed{x' = 2m - 1}$$

$$= -1 \Rightarrow \boxed{x'' = -1}$$

$$4) m^2 x^2 - 2m^2 x + (m^2 - n^2) = 0 \Rightarrow \begin{cases} a = m^2 \\ b = -2m^2 \\ c = m^2 - n^2 \end{cases}$$

$$x = \frac{-b \pm \sqrt{b^2 - 4ac}}{2a}$$

$$= \frac{2m^2 \pm \sqrt{4m^4 - 4m^2(m^2 - n^2)}}{2m^2}$$

$$= \frac{2m^2 \pm \sqrt{4m^4 - 4m^4 + 4m^2 n^2}}{2m^2}$$

$$= \frac{(-b)^2 - (b^2 - 4ac)}{4a^2} = \frac{4ac}{4a^2} = \frac{c}{a}$$

$$\Rightarrow \boxed{x' + x'' = -\frac{b}{a}}, \quad \boxed{x' \cdot x'' = \frac{c}{a}}$$

توجه: مجموع دو ریشه، یعنی؛ $(x' + x'')$ را با S و حاصل ضرب دو ریشه، یعنی؛ $x' \cdot x''$ را با P هم نشان می‌دهیم.

$$\Rightarrow \boxed{x' + x'' = -\frac{b}{a} = S}, \quad \boxed{x' \cdot x'' = \frac{c}{a} = P}$$

$$|x| = \begin{cases} +x & x \geq 0 \\ -x & x < 0 \end{cases} \quad \text{قدر مطلق:}$$

$$\text{مثال: } \begin{cases} | +5 | = 5 \\ | -5 | = -(-5) = 5 \end{cases} \Rightarrow | -5 | = | 5 |$$

$$|\sqrt{2} - 1| = \sqrt{2} - 1$$

$$|1 - \sqrt{2}| = |\sqrt{2} - 1| = \sqrt{2} - 1$$

قدر مطلق هر عدد برابر است با مقدار مثبت آن عدد.

مثال:

$$a=2, b=5 \Rightarrow |a-b| = |2-5| = |-3| = 3$$

$$x'=4, x''=6 \Rightarrow |x'-x''| = |4-6|$$

$$= |-2| = 2$$

$$x'=-2, x''=-5 \Rightarrow |x'-x''| = |-2+5|$$

$$= |3| = 3$$

$$x'=-1, x''=5 \Rightarrow |x'-x''| = |-1-5|$$

$$= |-6| = 6$$

در سال سوم قدر مطلق را به طور کامل خواهید داشت.

$$1) x' + x'' = -\frac{b}{a} = S$$

$$2) x' \cdot x'' = \frac{c}{a} = P$$

$$x = \sqrt{3} \pm \sqrt{(\sqrt{3}+1)^2} = \sqrt{3} \pm (\sqrt{3}+1)$$

$$\Rightarrow \begin{cases} x' = \sqrt{3} + \sqrt{3} + 1 = 2\sqrt{3} + 1 \\ x'' = \sqrt{3} - \sqrt{3} - 1 = -1 \end{cases}$$

مسأله: به ازای چه مقادیر m معادله $mx^2 + 2(m-1)x + (m+1) = 0$ دو ریشه حقیقی متمایز یا دو ریشه حقیقی مساوی دارد؟

حل: باید مبین معادله مثبت یا صفر باشد، یعنی:

$$b^2 - 4ac \geq 0 \quad \text{یا} \quad b^2 - 4ac \geq 0$$

$$a = m, \quad b^2 = m - 1, \quad c = m + 1$$

$$\Delta^2 \geq 0 \Rightarrow b^2 - 4ac \geq 0 \Rightarrow (m-1)^2 - 4m(m+1) \geq 0$$

$$\Rightarrow m^2 - 2m + 1 - 4m^2 - 4m \geq 0 \Rightarrow -3m^2 - 2m + 1 \geq 0$$

$$\Rightarrow -3m^2 - 2m + 1 \geq 0 \Rightarrow \boxed{m \leq \frac{1}{3}, m \neq 0}$$

زیرا، اگر $m = 0$ ، آنگاه معادله به معادله درجه اول تبدیل می‌شود.

۳- روابط بین ضرایب و ریشه‌ها در معادله درجه دوم $ax^2 + bx + c = 0$ و a و b و c را ضرایب معادله درجه دوم گوئیم و x' و x'' ریشه‌های حقیقی معادله‌اند. روابط بین x' و x'' و a و b و c را روابط بین ریشه‌ها و ضرایب گوئیم.

$$x = \frac{-b \pm \sqrt{\Delta}}{2a} \quad \text{یا} \quad x = \frac{-b \pm \sqrt{b^2 - 4ac}}{2a} \quad \text{داریم:}$$

$$\Rightarrow x' = \frac{-b + \sqrt{b^2 - 4ac}}{2a}, \quad x'' = \frac{-b - \sqrt{b^2 - 4ac}}{2a}$$

$$\text{الف) } x' + x'' = \frac{-b + \sqrt{b^2 - 4ac}}{2a} + \frac{-b - \sqrt{b^2 - 4ac}}{2a}$$

$$= \frac{-2b}{2a} = -\frac{b}{a}$$

$$\text{ب) } x' \cdot x'' = \frac{-b + \sqrt{b^2 - 4ac}}{2a} \times \frac{-b - \sqrt{b^2 - 4ac}}{2a}$$

$$۱۱) x'^{-r} + x''^{-r} = \frac{1}{x'^r} + \frac{1}{x''^r} = \frac{x''^r + x'^r}{x'^r x''^r}$$

$$= \frac{(S^r - rP)^r - rP^r}{P^r}$$

$$۱۲) |x'^r - x''^r| = |(x'^r - x''^r)(x'^r + x''^r)|$$

$$= \left| \frac{\sqrt{\Delta}}{|a|} \cdot S(S^r - rP) \right|$$

$$۱۳) \begin{cases} x' > 0 \\ x'' > 0 \end{cases} \Rightarrow \sqrt{x'} + \sqrt{x''}$$

$$= \sqrt{S + r\sqrt{P}} = \sqrt{x' + x'' + r\sqrt{x'x''}}$$

$$۱۴) \begin{cases} x' > 0 \\ x'' > 0 \end{cases} \Rightarrow |\sqrt{x'} - \sqrt{x''}|$$

$$= \sqrt{x' + x'' - r\sqrt{x'x''}} = \sqrt{S - r\sqrt{P}}$$

$$۱۵) \begin{cases} x' > 0 \\ x'' > 0 \end{cases} \Rightarrow \frac{\sqrt{x'}}{\sqrt{x''}} + \frac{\sqrt{x''}}{\sqrt{x'}} = \frac{x' + x''}{\sqrt{x'x''}} = \frac{S}{\sqrt{P}}$$

مسئله: در معادله درجه دوم $x^2 - 3x + 1 = 0$ اگر x' و x'' ریشه‌های حقیقی معادله باشند، موارد پانزده رابطه‌های فوق را محاسبه کنید.

$$a = 1 \quad b = -3 \quad c = 1$$

$$\Delta = b^2 - 4ac = 9 - 4 = 5$$

$$S = -\frac{b}{a} = -\frac{-3}{1} = 3$$

$$P = \frac{c}{a} = \frac{1}{1} = 1$$

$$۱) x' + x'' = S = 3 \quad ۲) x' \cdot x'' = P = 1$$

$$۳) |x' - x''| = \frac{\sqrt{\Delta}}{|a|} = \frac{\sqrt{5}}{1} = \sqrt{5}$$

$$۴) |x' - x''| = \left| \frac{-b + \sqrt{\Delta}}{2a} - \frac{-b - \sqrt{\Delta}}{2a} \right|$$

$$= \left| \frac{-b + \sqrt{\Delta} + b + \sqrt{\Delta}}{2a} \right| = \left| \frac{\sqrt{\Delta}}{a} \right| = \frac{\sqrt{\Delta}}{|a|}$$

$$۵) x'^r + x''^r = (x' + x'')^r - r x' x''^r$$

$$= (S)^r - rP = S^r - rP$$

$$۶) x'^{-r} + x''^{-r} = \frac{1}{x'^r} + \frac{1}{x''^r} = \frac{x''^r + x'^r}{x'^r x''^r}$$

$$= \frac{x'^r + x''^r}{(x'x'')^r} = \frac{S^r - rP}{P^r}$$

$$۷) |x'^r - x''^r| = |(x' - x'')(x' + x'')|$$

$$= \left| \frac{\sqrt{\Delta}}{|a|} \times S \right|$$

$$۸) x'^r + x''^r = (x' + x'')(x'^r + x''^r - x'x'')$$

$$= S(S^r - rP - P) = S^r - rPS$$

$$۹) x'^{-r} + x''^{-r} = \frac{1}{x'^r} + \frac{1}{x''^r} = \frac{x''^r + x'^r}{x'^r x''^r} = \frac{S^r - rPS}{P^r}$$

$$۱۰) |x'^r - x''^r| = |(x' - x'')(x'^r + x''^r + x'x'')|$$

$$= \left| \left(\frac{\sqrt{\Delta}}{|a|} \right) (S^r - rP + P) \right|$$

$$= \left| \frac{\sqrt{\Delta}}{|a|} (S^r - P) \right|$$

$$۱۱) x'^r + x''^r = (x' + x'')^r - r x' x''^r$$

$$= (S^r - rP)^r - rP^r$$

$$= \sqrt{3 - 2\sqrt{1}} = 1$$

$$۱۵) \frac{\sqrt{x'}}{\sqrt{x''}} + \frac{\sqrt{x''}}{\sqrt{x'}} = \frac{S}{\sqrt{P}} = \frac{3}{\sqrt{1}} = 3$$

مسأله: در معادله $x^2 - 5x + (m+1) = 0$ را چنان بیابید که

$$x'^2 + x''^2 = \frac{17}{16} \quad \text{داشته باشیم:}$$

$$\begin{cases} S = 5 \\ P = m + 1 \end{cases} \quad \text{حل:}$$

$$x'^2 + x''^2 = \frac{S^2 - 2P}{P} = \frac{(5)^2 - 2(m+1)}{(m+1)^2} = \frac{17}{16}$$

$$\frac{25 - 2m - 2}{m^2 + 2m + 1} = \frac{17}{16} \Rightarrow 16m^2 + 34m + 17$$

$$= 368 - 32m \Rightarrow 16m^2 + 66m - 351 = 0$$

$$\Delta' = b'^2 - ac = (33)^2 + 17(351)$$

$$= 1089 + 5967 = (7056) = (84)^2$$

$$m = \frac{-b' \pm \sqrt{b'^2 - ac}}{a} = \frac{-33 \pm 84}{16}$$

$$\Rightarrow \begin{cases} m' = 3 \\ m'' = -\frac{117}{16} \end{cases}$$

۴- چند نکته درباره ریشه‌های معادله درجه دوم $ax^2 + bx + c = 0$

الف) اگر در معادله درجه دوم $ax^2 + bx + c = 0$ مجموع ضرایب صفر باشد، یعنی $a + b + c = 0$ ؛ آنگاه یک ریشه عددی و ریشه دیگر برابر $(-\frac{c}{a})$ است.

$$a + b + c = 0 \Rightarrow c = -(a + b) \quad \text{اثبات:}$$

$$\Rightarrow ax^2 + bx - (a + b) = 0$$

$$\Delta = b^2 + 4a(a + b) = b^2 + 4a^2 + 4ab = (2a + b)^2$$

$$۲) x'^2 + x''^2 = S^2 - 2P = (3)^2 - 2 = 9 - 2 = 7$$

$$۵) x'^2 + x''^2 = \frac{S^2 - 2P}{P^2} = \frac{7}{1} = 7$$

$$۶) |x'^2 - x''^2| = \left| \frac{\sqrt{\Delta}}{|a|} \cdot S \right| = \left| \frac{\sqrt{5}}{|1|} \times 3 \right| = 3\sqrt{5}$$

$$۷) x'^2 + x''^2 = S^2 - 2PS = (3)^2 - 2(1)(3) = 9 - 6 = 3$$

$$۸) x'^2 + x''^2 = \frac{S^2 - 2PS}{P^2} = \frac{3}{1} = 3$$

$$۹) |x'^2 - x''^2| = \left| \frac{\sqrt{\Delta}}{|a|} \cdot (S^2 - P) \right| = \left| \frac{\sqrt{5}}{|1|} (9 - 1) \right| = 8\sqrt{5}$$

$$۱۰) x'^2 + x''^2 = (S^2 - 2P)^2 - 2P^2 = (9 - 2)^2 - 2 = 49 - 2 = 47$$

$$۱۱) x'^2 + x''^2 = \frac{(S^2 - 2P)^2 - 2P^2}{P^2} = \frac{47}{(1)^2} = 47$$

$$۱۲) |x'^2 - x''^2| = \left| \frac{\sqrt{\Delta}}{|a|} \cdot S(S^2 - 2P) \right| = \left| \frac{\sqrt{5}}{|1|} \times 3(9 - 2) \right| = 21\sqrt{5}$$

$$۱۳) \sqrt{x'} + \sqrt{x''} = \sqrt{S + 2\sqrt{P}} = \sqrt{3 + 2\sqrt{1}} = \sqrt{5}$$

$$۱۴) |\sqrt{x'} - \sqrt{x''}| = \sqrt{S - 2\sqrt{P}}$$

حل: در این معادله $a + c = b$ زیرا

$$\sqrt{2} - 1 + \sqrt{2} + 1 = 2\sqrt{2}$$

$$\Rightarrow 2\sqrt{2} = 2\sqrt{2}$$

$$\Rightarrow \begin{cases} x' = -1 \\ x'' = -\frac{c}{a} = -\frac{\sqrt{2}+1}{\sqrt{2}-1} \end{cases}$$

(ج) اگر در معادله درجه دوم $ax^2 + bx + c = 0$ یک ریشه (k)

برابر ریشه دیگر باشد داریم: $\frac{b^2}{ac} = \frac{(k+1)^2}{k}$

اثبات:

$$\begin{cases} x'' = kx' \\ x' + x'' = -\frac{b}{a} \end{cases} \Rightarrow kx' + x' = -\frac{b}{a} \Rightarrow (k+1)x' = -\frac{b}{a}$$

$$\Rightarrow x' = \frac{-b}{a(k+1)}, \quad x'' = \frac{-bk}{a(k+1)}$$

$$x' \cdot x'' = \frac{c}{a} \Rightarrow \frac{-b}{a(k+1)} \times \frac{-bk}{a(k+1)} = \frac{c}{a}$$

$$\Rightarrow \frac{b^2 k}{a^2 (k+1)^2} = \frac{c}{a}$$

$$ab^2 k = a^2 c (k+1)^2 \Rightarrow b^2 k = ac(k+1)^2$$

$$\Rightarrow \boxed{\frac{b^2}{ac} = \frac{(k+1)^2}{k}}$$

مثال: در معادله $x^2 - (m+1)x + 2(m-2) = 0$ اگر

$x'' = 4x'$ باشد، m را بیابید.

حل: $\frac{b^2}{ac} = \frac{(k+1)^2}{k} \Rightarrow \frac{(m+1)^2}{2(m-2)} = \frac{(4+1)^2}{4}$

$$\Rightarrow 2(m+1)^2 = 25(m-2)$$

$$x = \frac{-b \pm \sqrt{\Delta}}{2a} = \frac{-b \pm (\sqrt{2}+b)}{2a}$$

$$\Rightarrow \begin{cases} x' = \frac{-b + \sqrt{2} + b}{2a} = 1 \\ x'' = \frac{-b - \sqrt{2} - b}{2a} = \frac{-2(a+b)}{2a} = -\frac{c}{a} \end{cases}$$

مثال: معادله $2x^2 - (2 - \sqrt{3})x - \sqrt{3} = 0$ را حل کنید.

حل: در این معادله مجموع ضرایب صفر است، زیرا

$$2 - 2 + \sqrt{3} - \sqrt{3} = 0$$

$$\Rightarrow \boxed{x' = 1}, \quad x'' = \frac{c}{a} = \frac{-\sqrt{3}}{2} \Rightarrow \boxed{x'' = -\frac{\sqrt{3}}{2}}$$

(ب) اگر در معادله درجه دوم $ax^2 + bx + c = 0$ ، $a + c = b$ ،

آنگاه یک ریشه -1 و ریشه دیگر $(-\frac{c}{a})$ است.

اثبات: $c = b - a \Rightarrow ax^2 + bx + b - a = 0$

$$x = \frac{-b \pm \sqrt{b^2 - 4a(b-a)}}{2a}$$

$$= \frac{-b \pm \sqrt{b^2 - 4ab + 4a^2}}{2a} = \frac{-b \pm \sqrt{(2a-b)^2}}{2a}$$

$$x = \frac{-b \pm (2a-b)}{2a}$$

$$\Rightarrow \begin{cases} x' = \frac{-b - 2a + b}{2a} = \frac{-2a}{2a} = -1 \\ x'' = \frac{-b + 2a - b}{2a} = \frac{-2(b-a)}{2a} \end{cases}$$

$$= \frac{-2(c)}{2a} = -\frac{c}{a}$$

مثال: معادله $(\sqrt{2}-1)x^2 + 2\sqrt{2}x + (\sqrt{2}+1) = 0$

را حل کنید.

$$۲ \Rightarrow \begin{cases} -\frac{b}{a} > 0 \Rightarrow \begin{cases} x' < 0 < x'' \\ |x''| > |x'| \end{cases} \\ -\frac{b}{a} < 0 \Rightarrow \begin{cases} x' < 0 < x'' \\ |x'| > |x''| \end{cases} \\ -\frac{b}{a} = 0 \Rightarrow x'' = -x' \end{cases}$$

$$۳ \Rightarrow \begin{cases} -\frac{b}{a} > 0 \Rightarrow x' = 0 < x'' \\ -\frac{b}{a} < 0 \Rightarrow x' < 0 = x'' \end{cases}$$

$$۲) \Delta \text{ یا } \Delta' = 0 \Rightarrow x' = x'' = -\frac{b}{2a}$$

معادله دو ریشه حقیقی مساوی دارد.

$$\Rightarrow \begin{cases} -\frac{b}{a} > 0 \Rightarrow -\frac{b}{2a} > 0 \Rightarrow 0 < x' = x'' \\ -\frac{b}{a} < 0 \Rightarrow -\frac{b}{2a} < 0 \Rightarrow x' = x'' < 0 \\ -\frac{b}{a} = 0 \Rightarrow -\frac{b}{2a} = 0 \Rightarrow x' = x'' = 0 \end{cases}$$

مسأله: به ازای مقادیر مختلف m در تعداد ریشه‌ها و علامت ریشه‌های معادله زیر بحث کنید.

$$mx^2 - 2(m+1)x + (m-1) = 0$$

$$\Delta' = b'^2 - ac = (m+1)^2 - m(m-1) = m^2 + 2m + 1 - m^2 + m = 3m + 1 = 0$$

$$\Rightarrow \boxed{m = -\frac{1}{3}}$$

$$\frac{c}{a} = \frac{m-1}{m} = 0 \Rightarrow \boxed{m = 1, 0}$$

$$-\frac{b}{a} = \frac{2(m+1)}{m} = 0 \Rightarrow \boxed{m = -1, 0}$$

$$\Rightarrow 2m^2 - 21m + 52 = 0 \Rightarrow m = \frac{21 \pm \sqrt{25}}{4}$$

$$\Rightarrow \boxed{m = \frac{13}{2}, 4}$$

(د) اگر در معادله درجه دوم $ax^2 + bx + c = 0$ ، $\frac{c}{a} < 0$ ، آنگاه (Δ) خود به خود مثبت و معادله دو ریشه مختلف‌العلامه دارد.

اثبات:

$$\frac{c}{a} < 0 \Rightarrow \text{مختلف‌العلامه‌اند } c, a \Rightarrow ac < 0 \Rightarrow -4ac > 0$$

$$\Delta = b^2 - 4ac$$

معادله دو ریشه حقیقی متمایز دارد. $\Rightarrow b^2 - 4ac > 0$

$$x'.x'' = \frac{c}{a} < 0 \Rightarrow x' < 0 < x''$$

مسأله: حدود m را چنان بیابید تا معادله

$$(2\sqrt{2} + 1)x^2 - 2mx + (2m - 6) = 0$$

دو ریشه مختلف‌العلامه داشته باشد.

$$\text{حل: } \frac{c}{a} < 0 \Rightarrow \frac{2m-6}{2\sqrt{2}+1} < 0 \Rightarrow 2m-6 < 0$$

$$\Rightarrow 2m < 6 \Rightarrow m < 3$$

۵- بحث در تعداد و علامت ریشه‌های معادله درجه دوم

$$ax^2 + bx + c = 0$$

معادله دو ریشه حقیقی متمایز دارد $x' < x''$ یا $\Delta' > 0$

$$\Rightarrow \begin{cases} \frac{c}{a} > 0 \Rightarrow \text{(۱) هر دو ریشه متحدالعلامه‌اند} \\ \frac{c}{a} < 0 \Rightarrow \text{(۲) دو ریشه مختلف‌العلامه‌اند} \\ \frac{c}{a} = 0 \Rightarrow \text{(۳) یک ریشه صفر و ریشه دیگر } (-\frac{b}{a}) \text{ است.} \end{cases}$$

$$۱ \Rightarrow \begin{cases} -\frac{b}{a} > 0 \Rightarrow 0 < x' < x'' & \text{هر دو ریشه مثبت} \\ -\frac{b}{a} < 0 \Rightarrow x' < x'' < 0 & \text{هر دو ریشه منفی} \end{cases}$$

$$\Rightarrow f(x) = ax^2 + bx + c = a \left[x^2 + \frac{b}{a}x + \frac{c}{a} \right]$$

$$= a \left[x^2 - (x' + x'')x + x'x'' \right]$$

$\Rightarrow f(x) = a(x - x')(x - x'')$ این تجزیه را حاصل ضرب دو عامل درجه اول گوئیم.

حالت دوم: فرض می‌کنیم: $\Delta = 0$ پس معادله $ax^2 + bx + c = 0$ دو ریشه حقیقی مساوی دارد.

$$x' = x'' = -\frac{b}{2a}$$

این تجزیه را مربع کامل گوئیم.

$$\Rightarrow f(x) = a(x - x')^2 = a(x - x'')^2 = a \left[x + \frac{b}{2a} \right]^2$$

حالت سوم: فرض می‌کنیم: $\Delta < 0$ پس معادله $ax^2 + bx + c = 0$ ریشه‌های حقیقی ندارد.

$$\Rightarrow f(x) = a \left[x^2 + \frac{b}{a}x + \frac{c}{a} \right]$$

$$= a \left[x^2 + \frac{b}{a}x + \frac{b^2}{4a^2} - \frac{b^2}{4a^2} + \frac{c}{a} \right]$$

$$= a \left[\left(x + \frac{b}{2a} \right)^2 + \frac{c}{a} - \frac{b^2}{4a^2} \right]$$

$$= a \left[\left(x + \frac{b}{2a} \right)^2 + \frac{4ac - b^2}{4a^2} \right]$$

این عبارت را مجموع مربعات دو عبارت گوئیم.

$$\Rightarrow f(x) = a \left[\left(x + \frac{b}{2a} \right)^2 + \left(\frac{\sqrt{4ac - b^2}}{2a} \right)^2 \right]$$

ب - تعیین علامت

حالت اول: داریم: $\Delta > 0$ و $f(x) = a(x - x')(x - x'')$ فرض می‌کنیم:

$$x' < x''$$

$$a(x - x')(x - x'') = (ax - ax')(x - x'') = 0$$

$$\Rightarrow \begin{cases} x_1 = x' \\ x_2 = x'' \end{cases}$$

m	مقادیر کوچکتر			مقادیر بزرگتر	
	از ۱ -	-۱	$-\frac{1}{3}$	۰	از ۱
Δ	-	-	+	+	+
$\frac{c}{a}$	+	+	+	تعریف شده	+
$-\frac{b}{a}$	+	-	-	تعریف نشده	+
	معادله ریشه‌های حقیقی ندارد.			$x' < x'' < 0$	$x' < 0 < x''$
				$ x'' > x' $	

روی خط (۱):

$$\Delta = 0 \Rightarrow x' = x'' = -\frac{b}{2a} = \frac{2(m+1)}{2m} = \frac{-\frac{1}{3} + 1}{-\frac{1}{3}} = -2$$

روی خط (۲):

$$m = 0 \Rightarrow \text{معادله: } -2x - 1 = 0 \Rightarrow x = -\frac{1}{2}$$

روی خط (۳):

$$\frac{c}{a} = 0 \Rightarrow c = 0 \Rightarrow \begin{cases} x' = 0 & \Rightarrow x' = 0 < x'' \\ x'' = -\frac{b}{a} > 0 \end{cases}$$

تمرین: به ازای مقادیر مختلف m، در تعداد و علامت ریشه‌های معادلات زیر بحث کنید:

$$۱) (m - ۱)x^2 + 2mx + (m - 2) = 0$$

$$۱) (m - ۱)x^2 - 2mx + (m - 4) = 0$$

$$۱) (m - ۱)x^2 - 2mx + (m - 6) = 0$$

۶ - تجزیه و تعیین علامت سه جمله‌ای درجه دوم $f(x) + ax^2 + bx + c$

الف - تجزیه:

ریشه‌های معادله $ax^2 + bx + c = 0$ را صفرکننده‌های $f(x)$

می‌نامیم. و Δ یا مبین معادله $ax^2 + bx + c = 0$ را Δ یا مبین $f(x)$

می‌نامیم.

حالت اول: فرض می‌کنیم: $\Delta > 0$ پس معادله $ax^2 + bx + c = 0$

دو ریشه حقیقی متمایز x' و x'' است.

مسأله: به ازای چه مقادیر m ، سه جمله‌ای
 $f(x) = (m-2)x^2 - 2mx + (m-4)$ به صورت مجموع
 مربعات دو عبارت خواهد شد.
 حل: باید $\Delta < 0$ یا $\Delta' < 0$.

$$\Delta' = b'^2 - ac < 0$$

$$\Rightarrow m^2 - (m-2)(m-4) < 0$$

$$\Rightarrow 6m - 8 < 0 \Rightarrow m < \frac{4}{3}$$

۷- تشکیل معادله:

الف) اگر مجموع دو عدد یعنی S و حاصل ضرب دو عدد یعنی P
 معلوم باشد و بخواهیم آن دو عدد را پیدا کنیم معادله درجه
 دومی تشکیل دهیم که ریشه‌هایش، آن دو عدد باشد:
 $ax^2 + bx + c = 0$ طرفین معادله را بر a تقسیم می‌کنیم

$$\Rightarrow x^2 + \frac{b}{a}x + \frac{c}{a} = 0 \quad \begin{cases} S = -\frac{b}{a} \\ P = \frac{c}{a} \end{cases}$$

$$\Rightarrow \boxed{x^2 - Sx + P = 0}$$

در معادله $x^2 - Sx + P = 0$ ، مقادیر S و P را قرار دهیم
 سپس معادله حاصل را حل می‌کنیم.
 مسأله: مجموعه دو عدد حقیقی (-1) و حاصل ضرب آنها
 $(\sqrt{3}-3)$ است. آن دو عدد را بیابید.

$$S = -1 \quad P = \sqrt{3}-3$$

$$x^2 - Sx + P = 0 \Rightarrow x^2 + x + (\sqrt{3}-3) = 0$$

$$x = \frac{-b \pm \sqrt{b^2 - 4ac}}{2a} = \frac{-1 \pm \sqrt{1 - 4(\sqrt{3}-3)}}{2}$$

$$= \frac{-1 \pm \sqrt{(2\sqrt{3}-1)^2}}{2} = \frac{-1 \pm (2\sqrt{3}-1)}{2}$$

x	مقادیر کوچکتر از x'	x'	مقادیر بزرگتر از x' ، x''
$ax - ax'$	مخالف علامت a	a	موافق علامت a
$x - x''$	-	-	+
$f(x)$	مخالف علامت a	a	موافق علامت a

حالت دوم: $\Delta = 0$ و $f(x) = a(x-x')^2$.

عبارت $(x-x')^2$ به ازای $x=x'$ صفر و در بقیه موارد مثبت است.
 پس می‌توان گفت:

عبارت $f(x) = a(x-x')^2$ به ازای $x=x'$ صفر و در بقیه موارد
 موافق علامت a است.

x	مقادیر کوچکتر از x'	x'	مقادیر بزرگتر از x'
$f(x)$	موافق علامت a	a	موافق علامت a

حالت سوم: $\Delta < 0$ و

$$f(x) = a \left[\left(x + \frac{b}{2a} \right)^2 + \left(\frac{\sqrt{4ac - b^2}}{2a} \right)^2 \right]$$

عبارت داخل کروشه همواره مثبت است، پس علامت $f(x)$
 همواره موافق علامت (a) است.

سؤال: یک سه جمله‌ای درجه دوم $f(x) = ax^2 + bx + c$ چه وقت
 همواره مثبت است.

جواب: وقتی که: $\Delta' < 0$ یا $\Delta < 0$ و $a > 0$.

سؤال: یک سه جمله‌ای درجه دوم $f(x) = ax^2 + bx + c$ چه وقت
 همواره منفی است.

جواب: وقتی که $\Delta' < 0$ یا $\Delta < 0$ و $a < 0$.

مسأله: به ازای چه مقادیر m ، سه جمله‌ای
 $f(x) = (m-1)x^2 - 2mx + (m-2)$ همواره منفی است.
 حل:

$$\begin{cases} \Delta' < 0 \\ a < 0 \end{cases} \Rightarrow b'^2 - ac < 0 \Rightarrow m^2 - (m-1)(m-2) < 0$$

$$\Rightarrow 3m - 2 < 0 \Rightarrow m < \frac{2}{3} \quad m - 1 < 0 \Rightarrow m < 1$$

$$\begin{cases} m < \frac{2}{3} \\ m < 1 \end{cases} \Rightarrow \text{اشتراک جوابها} \Rightarrow \boxed{m < \frac{2}{3}}$$

در معادله مفروض قرار می‌دهیم:

ریشه معادله مفروض $x =$

ریشه معادله جدید $y =$

$$\Rightarrow y = x^2 \Rightarrow x = \sqrt[2]{y}$$

طرفین را به توان (۳) می‌رسانیم:

$$\sqrt[3]{y^2} - 4\sqrt[3]{y} - 1 = 0 \Rightarrow \underbrace{\sqrt[3]{y^2}}_a - \underbrace{4\sqrt[3]{y}}_b = 1$$

$$a^3 - b^3 - 3ab(a - b) = 1$$

$$y^2 - 64y - 3\sqrt[3]{y^2} + 12\sqrt[3]{y} = 1$$

$$y^2 - 64y - 12y(1) = 1 \Rightarrow y^2 - 76y - 1 = 0$$

مسئله: معادله $x^2 - 3x - 1 = 0$ مفروض است. اگر x' و x'' ریشه‌های حقیقی معادله باشد، معادله درجه دوم جدیدی بسازید که ریشه‌هایش $4 - 3x' + 2x''$ و $4 - 2x' + 3x''$ باشد.
حل: یکی از روابط را مساوی لا قرار می‌دهیم.

$$y = 2x' + 3x'' - 4 \Rightarrow y = 2x' + 2x'' + x'' - 4$$

$$\Rightarrow y = 2(x' + x'') + x'' - 4$$

$$y = 2\left(-\frac{b}{a}\right) + x'' - 4 \Rightarrow y = 2(3) + x'' - 4$$

$$= y = x'' + 2 \Rightarrow x'' = y - 2$$

در معادله مفروض قرار می‌دهیم.

$$(y - 2)^2 - 3(y - 2) - 1 = 0 \Rightarrow y^2 - y - 3 = 0$$

۸- رابطه S ها در معادله درجه دوم:

معادله درجه دوم $ax^2 + bx + c = 0$ را در نظر می‌گیریم و

قرارداد می‌کنیم که

$$S_1 = x' + x'', S_2 = x'^2 + x''^2, S_3 = x'^3 + x''^3, \dots$$

$$S_n = x'^n + x''^n$$

طرفین معادله را در x^{n-2} ضرب می‌کنیم.

$$ax^n + bx^{n-1} + cx^{n-2} = 0$$

در این معادله یکبار به جای x ، x' و یکبار به جای x ، x'' را قرار

می‌دهیم.

$$\begin{cases} x' = \frac{-1 + 2\sqrt{3} - 1}{2} = \frac{2\sqrt{3} - 2}{2} = \boxed{\sqrt{3} - 1} \\ x'' = \frac{-1 - 2\sqrt{3} + 1}{2} = \frac{-2\sqrt{3}}{2} = \boxed{-\sqrt{3}} \end{cases}$$

(ب) تشکیل معادله درجه دوم وقتی یک ریشه آن معلوم است.

آن ریشه را مساوی x قرار می‌دهیم، سپس طرفین را به توان (۲)

می‌رسانیم.

مسئله: معادله درجه دومی با ضرایب گویا تشکیل دهید که یک ریشه آن $(2 - \sqrt{3})$ باشد.

راه اول:

طرفین را به توان (۲) می‌رسانیم:

$$x = 2 - \sqrt{3} \Rightarrow x - 2 = -\sqrt{3}$$

$$x^2 - 4x + 4 = 3 \Rightarrow x^2 - 4x + 1 = 0$$

راه دوم: اگر بخواهیم معادله درجه دومی با ضرایب گویا تشکیل دهیم که یک ریشه آن $(2 - \sqrt{3})$ باشد، باید ریشه دیگر $(2 + \sqrt{3})$ باشد تا مجموع و حاصل ضرب ریشه‌ها، اعدادی گویا باشند.

$$P = 1, S = 4$$

بنابراین:

$$در نتیجه: $x^2 - Sx + P = 0 \Rightarrow x^2 - 4x + 1 = 0$$$

(ج) تشکیل معادله درجه دوم جدید از روی معادله مفروض تحت

شرایط مسئله

مسئله: معادله درجه دوم $x^2 - 5x - 2 = 0$ مفروض است، اگر x' و x'' ریشه‌های حقیقی این معادله باشد، معادله درجه دوم جدیدی تشکیل دهید که ریشه‌های آن از نصف ریشه‌های این معادله (۲) واحد کمتر باشد.

ریشه معادله مفروض $x =$

ریشه معادله جدید $y =$

$$\Rightarrow y = \frac{x}{2} - 2 \Rightarrow x = 2y - 4$$

در معادله مفروض به جای x ، $(2y - 4)$ را قرار می‌دهیم.

$$(2y - 4)^2 - 5(2y - 4) - 2 = 0 \Rightarrow 4y^2 - 26y + 34 = 0$$

مسئله: معادله $x^2 - 4x - 1 = 0$ مفروض است. اگر x' و x''

ریشه‌های حقیقی این معادله باشد، معادله درجه دوم جدیدی بسازید

که ریشه‌هایش مکعب ریشه‌های این معادله باشد.

ب: هر معادله که به صورت $ax^{2n} + bx^n + c = 0$ باشد، با فرض $y = x^n$ قابل حل است.

مسئله: معادله $16x^4 - 17x^2 + 1 = 0$ را حل کنید.

حل: فرض می‌شود: $x^2 = y$.

$$\Rightarrow 16y^2 - 17y + 1 = 0$$

مجموع ضرایب صفر است

$$\Rightarrow \begin{cases} y = 1 \\ y = \frac{1}{16} \end{cases} \Rightarrow \begin{cases} x^2 = 1 \Rightarrow x = \pm 1 \\ x^2 = \frac{1}{16} \Rightarrow x = \pm \frac{1}{4} \end{cases}$$

ج: معادله $(2 - \sqrt{3})^{1gx} + (2 + \sqrt{3})^{1gx} = 2$ را حل کنید.

حل: فرض می‌شود: $(2 - \sqrt{3})^{1gx} = A$

$$(2 + \sqrt{3})^{1gx} = \left(\frac{(2 + \sqrt{3})(2 - \sqrt{3})}{2 - \sqrt{3}} \right)^{1gx}$$

$$= \left(\frac{1}{2 - \sqrt{3}} \right)^{1gx} = \frac{1}{(2 - \sqrt{3})^{1gx}} = \frac{1}{A}$$

$$\Rightarrow A + \frac{1}{A} = 2 \Rightarrow A^2 - 2A + 1 = 0 \Rightarrow \boxed{A = 1}$$

$$\Rightarrow (2 - \sqrt{3})^{1gx} = 1, (2 - \sqrt{3})^0 = 1 \quad \text{می‌دانیم:}$$

$$\Rightarrow 1gx = 0 \Rightarrow \boxed{x = k\pi}$$

۱- نامعادله درجه دوم: $ax^2 + bx + c > 0$ یا $ax^2 + bx + c < 0$

باید اول معادله $ax^2 + bx + c = 0$ را حل کرد سپس آن را در جدولی تعیین علامت نمود، سپس محدوده جواب را پیدا کرد.

مسئله: نامعادله $2x^2 + 7x + 5 > 0$ را حل کنید.

$$f(x) = 2x^2 + 7x + 5 = 0$$

$$a + c = b \Rightarrow \begin{cases} x' = -1 \\ x'' = -\frac{5}{2} \end{cases}$$

جمع می‌کنیم $\begin{cases} ax^{2n} + bx^{n-1} + cx^{n-2} = 0 \\ ax^{2n} + bx^{n-1} + cx^{n-2} = 0 \end{cases}$

$$a(x^{2n} + x^{2n}) + b(x^{n-1} + x^{n-1}) + c(x^{n-2} + x^{n-2}) = 0$$

$$\Rightarrow \boxed{aS_n + bS_{n-1} + cS_{n-2} = 0}$$

مسئله: اگر در معادله $x^2 - 2x - 1 = 0$ ، S_4 و S_3 را بیابید.

$$n = 5 \Rightarrow aS_5 + bS_4 + cS_3 = 0$$

$$S_5 - 2(34) - 1(14) = 0 \Rightarrow \boxed{S_5 = 82}$$

مسئله: اگر در معادله $x^2 - 3x - 1 = 0$ ، S_3 و S_2 را بیابید.

حل: طرفین را به توان (۳) می‌رسانیم: $S_3 = k \Rightarrow x^{10} + x^{10} = k$
 $= k \quad a + b = k$

$$a^2 + b^2 + 3ab(a+b) = k^2$$

$$x^{10} + x^{10} + 3x^{10}x^{10}(x^{10} + x^{10}) = k^2$$

$$S_3 + 3(x'x'')^1(k) = k^2$$

$$S_3 + 3(-1)^1(k) = k^2 \Rightarrow \boxed{S_3 = k^2 - 3k}$$

۹- معادلات تبدیل پذیر به معادله درجه دوم:

الف) معادله $(x^2 + x - 5)(x^2 + x - 3) = 0$ را حل کنید.

حل: فرض می‌کنیم: $x^2 + x = A$

$$\Rightarrow (A - 5)(A - 3) = 0 \Rightarrow A^2 - 8A + 15 = 0$$

$$\Rightarrow A^2 - 8A + 15 = 0$$

مجموع ضرایب صفر است

$$\Rightarrow \begin{cases} A = 1 \\ A = 7 \end{cases}$$

$$\Rightarrow x^2 + x = 1$$

$$x^2 + x - 1 = 0$$

$$x = \frac{-1 \pm \sqrt{5}}{2}$$

$$x^2 + x = 7$$

$$x^2 + x - 7 = 0$$

$$x = \frac{-1 \pm \sqrt{29}}{2}$$

n	مقادیر کوچکتر از ۱	۱	مقادیر بزرگتر از $\frac{25}{4}$	$\frac{25}{4}$
f(n)	+	-	+	
		جواب		
		$1 < n < \frac{25}{4}$		


x	مقادیر کوچکتر از $-\frac{5}{4}$	$-\frac{5}{4}$	-۱	مقادیر بزرگتر از -۱
f(x)	+	-	+	
	جواب		جواب	
		با $x < -\frac{5}{4}$		$-1 < x$

$n = 2, 3, 4, 5, 6, 7, 8, 9, 10, 11, 12$

پس این نامعادله (۱۱) جواب دارد.

مسأله: اگر $n \in \mathbb{N}$ ، نامعادله $2n^2 - 27n + 25 < 0$ چند جواب دارد.

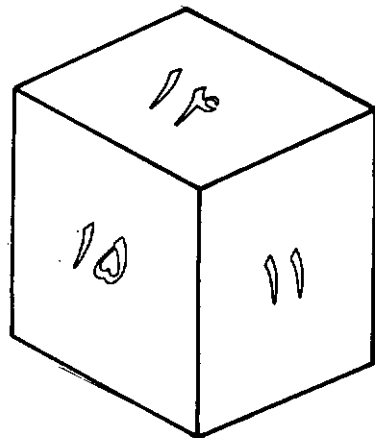
$$f(n) = 2n^2 - 27n + 25 = 0 \Rightarrow \begin{cases} n = 1 \\ n = \frac{25}{2} \end{cases}$$



ناسازگاری میان امور فنی و حکمت، همان گونه که اکنون وجود دارد، در گذشته نیز موجود بوده، و در آن گذشته نیز مانند امروز، گروه فراوانی از مردم نادان بوده‌اند که چیزهای اساسی را فدای چیزهای پیش یا افتاده و بی‌مقدار کرده‌اند.

تاریخ علم. جورج سارتن، احمد آرام

عددهای واقع بر وجه‌های مکعب زیر عددهای درست متوالی‌اند. مجموع‌های دو عدد واقع بر هر یک از سه جفت وجه مقابل آن برابرند. مجموع شش عدد واقع بر این مکعب چه قدر است؟



جواب در صفحه ۸۸

آموزش ترجمه متون ریاضی (۷)

حمیدرضا امیری

This result enables us to find the remainder without carrying out the division. It is known as the *remainder theorem*.

A slightly more general result is obtained by considering division by $(ax + b)$. Then

$$\begin{aligned} P_1(x) &= (ax + b)Q_1(x) + R_1. & (2.5) \\ \Rightarrow P_1(-b/a) &= R_1. & (2.6) \end{aligned}$$

(The value $(-b/a)$ is obtained by setting $ax + b = 0$.)

The remainder theorem

When the polynomial $P(x)$ is divided by the polynomial $\varphi(x)$, it is clear that the remainder $R(x)$ must have degree less than that of $\varphi(x)$. (If this is not so, the division is not complete.)

In particular, if $P(x)$ is of degree n and we divide it by $(x - \alpha)$, then the quotient $Q(x)$ will be a polynomial of degree $(n - 1)$ and the remainder $R(x)$ will be a constant. Thus,

$$P(x) = (x - \alpha)Q(x) + R. \quad (2.3)$$

این نتیجه به ما این امکان را می‌دهد که باقیمانده تقسیم را بدون انجام عمل تقسیم بیابیم و این همان قضیه تقسیم است. در صورتی که (به جای تقسیم $P(x)$ بر $(x - \alpha)$) این تقسیم را بر $(ax + b)$ در نظر بگیریم نتیجه‌ای تا حدودی کلی‌تر به دست می‌آید. بنابراین (خواهیم داشت):

$$\begin{aligned} P_1(x) &= (ax + b) Q_1(x) + R_1 \quad (2.5) \\ \Rightarrow P_1\left(-\frac{b}{a}\right) &= R_1 \quad (2.6) \end{aligned}$$

(مقدار $-\frac{b}{a}$ از حل معادله $ax + b = 0$ حاصل شده است.)

Example 7 Find the remainder when $P(x)$, where $P(x) = 6x^3 - 7x^2 + 12x - 8$, is divided by (a) $(x - 1)$, (b) $(2x - 1)$.

(a) The remainder is $P(1) = 6 - 7 + 12 - 8 = 3$.

(b) The remainder is $P\left(\frac{1}{2}\right) = 6\left(\frac{1}{2}\right)^3 - 7\left(\frac{1}{2}\right)^2 + 12\left(\frac{1}{2}\right) - 8 = -3$.

مثال ۷:

باقیمانده تقسیم $P(x) \equiv 6x^3 - 7x^2 + 12x - 8$ را بر (الف) $(x - 1)$ ، (ب) $(2x - 1)$ پیدا کنید:

$P(1) =$ باقیمانده عبارت است از (الف)

قضیه باقیمانده

هرگاه چند جمله‌ای $P(x)$ را بر چند جمله‌ای $\varphi(x)$ تقسیم کنیم، واضح است که $R(x)$ باقیمانده تقسیم می‌بایست دارای درجه‌ای کمتر از درجه $\varphi(x)$ باشد. (در صورتی که چنین نباشد تقسیم تمام نمی‌شود.)

بویژه، اگر $P(x)$ از درجه n و بر $(x - \alpha)$ تقسیم شود، در این صورت $Q(x)$ خارج قسمت تقسیم از درجه $(n - 1)$ بوده و $R(x)$ باقیمانده تقسیم عددی ثابت خواهد بود. بنابراین:

$$P(x) \equiv (x - \alpha) Q(x) + R \quad (2.3)$$

If we substitute $x = \alpha$, then we see that

$$P(\alpha) = R. \quad (2.4)$$

اگر (در رابطه بالا) قرار دهیم $x = \alpha$ ، در این صورت خواهیم دید که:

$$P(\alpha) = R \quad (2.4)$$

Example 9 Show that $(3x + 1)$ is a factor of $P(x)$, where $P(x) = 6x^3 - x^2 - 19x - 6$.

$$3x + 1 = 0 \Rightarrow x = -\frac{1}{3}$$

We consider, therefore, $P(-\frac{1}{3})$:

$$\begin{aligned} P\left(-\frac{1}{3}\right) &= 6\left(-\frac{1}{3}\right)^3 - \left(-\frac{1}{3}\right)^2 - 19\left(-\frac{1}{3}\right) - 6 \\ &= -\frac{2}{9} - \frac{1}{9} + \frac{19}{3} - 6 = 0. \end{aligned}$$

Therefore, $(3x + 1)$ is a factor.

مثال ۹:

در صورتی که $P(x) \equiv 6x^3 - x^2 - 19x - 6$ ، نشان دهید که

$(3x + 1)$ یک عامل $P(x)$ است:

$$3x + 1 = 0 \Rightarrow x = -\frac{1}{3}$$

بنابراین؛ ما $P\left(-\frac{1}{3}\right)$ را در نظر می‌گیریم:

$$P\left(-\frac{1}{3}\right) = 6\left(-\frac{1}{3}\right)^3 - \left(-\frac{1}{3}\right)^2 - 19\left(-\frac{1}{3}\right) - 6$$

$$= -\frac{2}{9} - \frac{1}{9} + \frac{19}{3} - 6 = 0$$

پس؛ $(3x + 1)$ یک عامل $P(x)$ است.

Example 10 For what value of k is $(x + 3)$ a factor of $P(x)$, where

$$P(x) = x^4 - 3x^2 + k.$$

If $(x + 3)$ is a factor, $P(-3) = 0$.

$$\begin{aligned} P(-3) = 0 &\Rightarrow 81 - 27 + k = 0 \\ &\Rightarrow k = -54. \end{aligned}$$

مثال ۱۰:

هرگاه داشته باشیم؛ $P(x) \equiv x^4 - 3x^2 + k$ ، معین کنید به ازای

چه مقداری برای k ، $(x + 3)$ یک عامل $P(x)$ است.

اگر $(x + 3)$ یک عامل $P(x)$ باشد، $P(-3) = 0$.

$$P(-3) = 0 \Rightarrow 81 - 27 + k = 0 \Rightarrow k = -54$$

Example 11 Given that $(x + 1)$ and $(x - 2)$ are factors of $P(x)$, where

$$P(x) = ax^3 - bx^2 + ax + 6,$$

find the constants a and b .

Since $(x + 1)$ is a factor, $P(-1) = 0$,

$$6 - 7 + 12 - 8 = 3$$

$$P\left(\frac{1}{2}\right) = 6\left(\frac{1}{2}\right)^3 - 7\left(\frac{1}{2}\right)^2 + 12\left(\frac{1}{2}\right) - 8 = -3$$

$$6\left(\frac{1}{2}\right)^3 - 7\left(\frac{1}{2}\right)^2 + 12\left(\frac{1}{2}\right) - 8 = -3$$

The factor theorem

From Equation (2.6) we see that, if $P_1(-b/a) = 0$, then $R_1 = 0$

\Rightarrow there is no remainder when $P_1(x)$ is divided by $ax + b$

$\Rightarrow ax + b$ is a factor of $P_1(x)$.

This is known as the *factor theorem*.

From Equation (2.4) we see the result: 'If $P(a) = 0$, then $(x - a)$ is a factor of $P(x)$.'

قضیه فاکتور (تجزیه)

با توجه به معادله (۲.۶) مشاهده می‌شود که اگر

$$R_1 = 0 \text{، در این صورت } P_1 = \left(-\frac{b}{a}\right) = 0$$

\Leftrightarrow وقتی که $P_1(x)$ بر $(ax + b)$ بخش پذیر باشد باقیمانده‌ای وجود ندارد.

$\Leftrightarrow (ax + b)$ یک فاکتور یا عامل $P_1(x)$ می‌باشد.

این مطالب به قضیه فاکتور (تجزیه) معروف است.

با توجه به معادله (۲.۴) این نتیجه را مشاهده می‌کنیم که:

اگر $P(a) = 0$ ، در این صورت: $(x - a)$ یک عامل یا

فاکتور چند جمله‌ای $P(x)$ است.

Example 8 Show that $(x - 3)$ is a factor of $P(x)$, where

$$P(x) = 2x^3 - 6x^2 + 9x - 27.$$

$$P(3) = 2 \cdot 27 - 6 \cdot 9 + 9 \cdot 3 - 27 = 0.$$

Therefore, $(x - 3)$ is a factor.

مثال ۸:

در صورتی که $P(x) \equiv 2x^3 - 6x^2 + 9x - 27$ ، نشان دهید که

$(x - 3)$ یک عامل $P(x)$ است:

$$P(3) = 2 \times 27 - 6 \times 9 + 9 \times 3 - 27 = 0$$

بنابراین؛ $(x - 3)$ یک عامل $P(x)$ است.

Example 12 Find the factors of $P(x)$, where $P(x) = x^3 - 4x^2 + x + 6$.

The only integer factors of 6 are $\pm 1, \pm 2, \pm 3, \pm 6$ and so these are the values of λ we consider.

Trial factor $(x - \lambda)$	$P(\lambda)$	Comment
(i) $(x - 1)$	$1 - 4 + 1 + 6 = 4$	Not zero, not a factor
(ii) $(x + 1)$	$-1 - 4 - 1 + 6 = 0$	$(x + 1)$ is a factor
(iii) $(x - 2)$	$8 - 16 + 2 + 6 = 0$	$(x - 2)$ is a factor
(iv) $(x + 2)$	$-8 - 16 - 2 + 6 = -10$	Not zero, not a factor
(v) $(x - 3)$	$27 - 36 + 3 + 6 = 0$	$(x - 3)$ is a factor
(vi) $(x + 3)$	$-27 - 36 - 3 + 6 = -60$	Not zero, not a factor

The factors are $(x + 1), (x - 2)$ and $(x - 3)$ and the factorisation of $P(x)$ is

$$P(x) = (x + 1)(x - 2)(x - 3).$$

At stage (ii), having found that $(x + 1)$ is a factor, we could, of course, divide $P(x)$ by $(x + 1)$ and deal with the remaining quadratic $x^2 - 5x + 6$, which immediately factorises into $(x - 2)(x - 3)$.

Also, at stage (iii) we have a factor $(x + 1)(x - 2)$ and the remaining factor can be obtained by dividing out or by inspection.

Stage (vi) is, of course, not necessary, as we have already found three factors of the cubic polynomial. For the same reason we need not consider $\lambda = \pm 6$.

مثال ۱۲:

هرگاه $P(x) \equiv x^3 - 4x^2 + x + 6$ ، در این صورت عاملهای $P(x)$ را پیدا کنید.

تنها عاملهای صحیح عدد ۶ عبارتند از: $\pm 1, \pm 2, \pm 3$ ،

± 6 ، و بنابراین ما می‌بایست این مقادیر را برای λ در نظر

بگیریم.

امتحان عامل $(x - \lambda)$	$P(\lambda)$	نتیجه
(۱) $(x - 1)$	$1 - 4 + 1 + 6 = 4$	مخالف صفر، عامل نمی‌باشد.
(۲) $(x + 1)$	$-1 - 4 - 1 + 6 = 0$	$(x + 1)$ یک عامل است.
(۳) $(x - 2)$	$8 - 16 + 2 + 6 = 0$	$(x - 2)$ یک عامل است.
(۴) $(x + 2)$	$-8 - 16 - 2 + 6 = -10$	مخالف صفر، عامل نمی‌باشد.
(۵) $(x - 3)$	$27 - 36 + 3 + 6 = 0$	$(x - 3)$ یک عامل است.
(۶) $(x + 3)$	$-27 - 36 - 3 + 6 = -60$	مخالف صفر، عامل نمی‌باشد.

عاملهای $P(x)$ عبارتند از: $(x + 1), (x - 2), (x - 3)$ و $(x - 3)$

و تجزیه $P(x)$ به صورت $P(x) \equiv (x + 1)(x - 2)(x - 3)$ می‌باشد.

در مرحله (۲)، $(x + 1)$ به عنوان یک عامل $P(x)$ یافت

می‌شود، پس قطعاً، می‌توانیم $P(x)$ را بر $(x + 1)$ تقسیم کنیم و خارج قسمت، عبارت درجه دوم $x^2 - 5x + 6$ خواهد بود، که

$$\Rightarrow -a - b - a + 6 = 0 \Rightarrow -2a - b + 6 = 0.$$

Since $(x - 2)$ is a factor, $P(2) = 0$,

$$\Rightarrow 8a - 4b + 2a + 6 = 0 \Rightarrow 10a - 4b + 6 = 0.$$

Solving these simultaneous equations, we obtain $a = 1$ and $b = 4$.

مثال ۱۱:

هرگاه $P(x) \equiv ax^2 - bx + ax + 6$ ، با فرض این که $(x + 1)$ و $(x - 2)$ عاملهای $P(x)$ می‌باشند $P(x)$ بر $(x + 1)$ و $(x - 2)$

بخش پذیر است، عددهای ثابت a و b را پیدا کنید.

چون: $(x + 1)$ عامل $P(x)$ است، $P(-1) = 0$.

$$\Rightarrow -a - b - a + 6 = 0 \Rightarrow -2a - b + 6 = 0 \quad (1)$$

چون: $(x - 2)$ عامل $P(x)$ است، $P(2) = 0$.

$$\Rightarrow 8a - 4b + 2a + 6 = 0 \Rightarrow 10a - 4b + 6 = 0 \quad (2)$$

(با توجه به معادلات (۱) و (۲) دستگاه معادلاتی تشکیل می‌شود که) از حل این دستگاه معادلات $a = 1$ و $b = 4$ به دست می‌آید.

Finding factors of polynomials

The factor theorem provides an important aid to finding factors of polynomials. To find linear factors, we seek values of λ such that $(x - \lambda)$ divides $P(x)$. As a consequence of the factor theorem, this is equivalent to finding values of λ for which $P(\lambda) = 0$.

If the polynomial is written in such a way that the coefficients are all integers, then it is suggested that one considers those values of λ which are a factor of the constant term a_0 in the polynomial.

تشخیص عاملهای چندجمله‌ایها

قضیه عامل (تجزیه) جهت تشخیص عاملهای چندجمله‌ایها کمک مهمی است. برای پیدا کردن عاملهای خطی، ما در جستجوی مقادیری برای λ هستیم به طوری که $P(x)$ بر $(x - \lambda)$ بخش پذیر باشد. یکی از نتایج حاصل از قضیه عامل، معادل با تشخیص مقادیر λ است به طوری که $P(\lambda) = 0$.

اگر یک چندجمله‌ای به شکلی نوشته شود که همه ضرایب آن عددهای صحیح باشند، در این صورت پیشنهاد می‌شود مقادیری را برای λ در نظر بگیریم که عدد ثابت چندجمله‌ای یعنی a_0 بر آنها بخش پذیر باشد.

polynomial $P(x)$ in terms of its factors. We will illustrate this by using the polynomial $P(x)$ considered in Example 12 above. We found that

$$P(x) = x^3 - 4x^2 + x + 6 = (x + 1)(x - 2)(x - 3).$$

استفاده از عاملها

شرایط متعددی وجود دارد که توانایی نوشتن یک چندجمله‌ای مانند $P(x)$ را بر حسب عاملهایش، سودمند می‌سازد. این مطلب را با استفاده از چندجمله‌ای $P(x)$ که در مثال ۱۲ در نظر گرفته شده است، توضیح می‌دهیم. ما یافتیم که:

$$P(x) = (x^3 - 4x^2 + x + 6) = (x + 1)(x - 2)(x - 3)$$

بلافاصله به $(x - 2)(x - 3)$ تجزیه می‌شود.

همچنین در مرحله (۳) ما یک عامل $(x - 2)$ را داشته و عامل باقیمانده می‌تواند از طریق تقسیم خارج شود یا با یک بررسی دقیق این کار صورت گیرد. البته، با توجه به این که ما سه عامل برای چندجمله‌ای درجه سوم $P(x)$ یافته‌ایم مرحله (۵) لزومی ندارد. به عنوان مثال: ما، نیازی برای در نظر گرفتن $k = \pm 6$ نداریم.

The use of factors

There are several circumstances where it is advantageous to be able to write a



این فکر بسیار کودکانه است که انسان چنان تصور کند علم با یونان آغاز کرده است؛ بر «معجزه» یونان هزاران سال کار مصر و بین‌النهرین و احتمالاً سرزمینهای دیگر مقدم بوده است، و علم یونان بیشتر جنبه تجدید حیات داشته است تا جنبه اختراع.

تاریخ علم، جورج سارتن، احمد آرام

تاریخچه مجلات ریاضی در ایران (۱۰)

شرکت‌کنندگان پیروی می‌شود. در میان سایر فعالیتهای منظم فوق برنامه‌ای دانش‌آموزان شوروی می‌توان از کلاسهای ریاضی شب برای کلیه دانش‌آموزان و نشریه و روزنامه دیواری ریاضیات نام برد.

بیشتر از فعالیتهای فوق برنامه و بویژه کار در کلوبهای ریاضی براساس کتابهای آموزشی متنوع و فراوانی است که در دسترس شاگردان و معلمان قرار دارد. هر قدر که فعالیتهای فوق برنامه‌ای در ریاضیات زیادت‌تر شود، دامنه تهیه مواد مکمل آموزش ریاضی نیز وسعت می‌یابد و استقبال جوانان شوروی از آن افزون‌تر می‌شود. تیراژ یک میلیونی بعضی از کتابهای علمی عموم‌پسند مؤید این نظر می‌باشد.

برای معلمان نیز جزواتی درباره روش طرح‌ریزی و تشکیلات و اداره کردن کلوبهای ریاضیات و فعالیتهای فوق برنامه از قبیل کلاسهای ریاضیات در شب، چاپ شده در دست‌رسان قرار می‌گیرد. اداره کل امور اداری مدارس در وزارت فرهنگ جمهوری سوسیالیستی روسیه که مرکز پژوهشهای تربیتی در شوروی است، در طرح‌ریزی فعالیتهای فوق برنامه تشریک مساعی می‌کند. یکی از اعضای برجسته بخش ریاضیات انستیتوی روشهای تدریس این آکادمی در نشریه‌ای ضمن بیان مقصد و اهمیت کارهای فوق‌برنامه ریاضی، هدف کار کلوبها را چنین تشریح می‌کند:

۱- بالا بردن معلومات ریاضی شاگردان به وسیله مطالعه جدی و عمیق در رشته‌های مختلف ریاضیات و تاریخ آن و همچنین به وسیله آشنایی با بعضی از مسائل ریاضیات معاصر

مجله «یکان» مجله‌ای ماهانه بود و در هر ماه، یک شماره از آن بر بساط روزنامه‌فروشان ظاهر می‌شد، اما مانند بعضی از مجله‌های علمی دیگر ویژه‌نامه هم داشت.

اولین ویژه‌نامه «یکان» تحت عنوان شماره فوق‌العاده یکان مجله ریاضیات در فروردین ۱۳۴۴ شمسی انتشار یافت.

در این شماره با نویسندگانی چون دکتر محسن هشترودی، احمد بیرشک، جهانگیر شمس‌آوری، جلیل قراگزلو، محمدعلی شیخان، مهدی مدغم، هوشنگ شریف‌زاده، محمدحسن رزاقی خمسی و عبدالحسین مصحفی مواجه می‌شویم.

از کلاس پنجم ابتدایی به بعد شاگردان با استعداد و موفق را برای شرکت در کلوبهای ریاضی کلاسشان تشویق می‌کنند. کلوب کلاس پنجم (سن ۱۱ و ۱۲) معمولاً به نام کلوب ریاضی‌دانان شاد در حدود پانزده نفر عضو دارد و هفته‌ی دو هفته‌ای یکبار، عصرها، تشکیل می‌شود. در این کلوبها دانش‌آموزان نحوه خواندن ریاضیات را به طور مستقل و منتقدانه زیر نظر و راهنمایی معلمان فرا می‌گیرند.

موضوعات ریاضی را به زبان ریاضیات مورد بحث قرار می‌دهند و معلومات کلاسی خود را کامل می‌کنند و بتدریج به وسیله حل مسائل جالب و مشکل رابطه فعالانه‌ای با ریاضیات برقرار می‌کنند. گرچه روش معمولی تدریس در شوروی تا اندازه‌ای خشک و بر طبق سنت دیرین است، اما فرضیه‌های جدید آموزشی در کلوبها تأثیر گذاشته و در آنها از روشی مبتنی بر تبادل آزادانه افکار و بحث میان

و غیره.

۲- توسعه دادن استعدادهای منطقی و تصور فضایی شاگردان به وسیله حل مسائل و معماهای جالب توجه و تجزیه و تحلیل استدلالات سفسطی و قضایای ناصحیح و غیره.

۳- شناختن و جمع کردن گروهی از شاگردان با استعداد و هواخواه با حرارت و جدی ریاضیات به منظور کمک به معلم در کارهای روزانه از قبیل کار کردن با شاگردان کند آموز، تهیه وسایل بصری متنوع، رهبری کارهای مربوط به طرحهای بزرگ، مانند نوشتن روزنامه دیواری ریاضی در مدرسه و غیره.

۴- و بالاخره کشف استعدادهای ریاضی خارق العاده و استثنایی ضمن کار در کلوب.

فعالتهای این کلوبها برای کمک به دانش آموزان جهت بسط استعدادهای طبیعی و کسب مهارتهای لازم برای انجام کارهای جدی علمی در آتیه می باشد.

در سپتامبر ۱۹۵۹ میلادی انستیتوی تربیتی ایوانف یک باب مدرسه ریاضی برای جوانان تأسیس کرده است. این مدرسه شامل سه کلاس مضاعف ۱۵ نفری است که شاگردان کلاسهای هشتم و نهم و دهم مدارس روزانه در آن شرکت می کنند. هر شاگرد باید دو شب در هفته و هر شب در دو کلاس شرکت کند. برنامه این کلاسها شامل جبر، هندسه، مثلثات، هندسه تحلیلی و محاسبات ریاضی (برای سال هشتم) و منطق ریاضی (برای سال دهم) می باشد. همچنین دروس تئوری و طرز کار با ماشینهای محاسبه الکترونیکی نیز جزء برنامه این کلاسها منظور شده است.

برای تعیین کیفیت کار این مدرسه همین بس که گفته شود که منطق ریاضی در سال دهم به وسیله پروفیسور ایوانف مالتف عضو آکادمی علوم شوروی و جبردان برجسته تدریس می شود. مطالب درسی در این مدرسه به طرز نوینی مورد بحث قرار می گیرد و ضمن کار، شاگردان با استعداد در ریاضیات شناخته و تربیت می شوند.

کارانستیتوی تربیتی ایوانف نمونه خوبی برای «اداره مکانیک - ریاضی» دانشگاه مسکو قرار گرفت و این اداره با همکاری جامعه ریاضیات مسکو و بخش تعلیم و تربیت ملی شهرداری مسکو در پاییز ۱۹۵۹ پنج دبیرستان شبانه برای

ریاضی دانان جوان در ۵ ناحیه مختلف مسکو تأسیس کرد. برنامه دو ساله این دبیرستانها شامل جبر و هندسه و آنالیز ریاضی می باشد. هیأت اداره کننده این مدارس از ۵ نفر عضو آموزشی دانشگاه مسکو و ۲۰ داوطلب صلاحیتدار و ۲۰ شاگرد سال پنجم و ۱۶ شاگرد سال چهارم رشته ریاضی تشکیل یافته است. از میان ریاضی دانانی که در تدوین برنامه این مدارس و نظارت بر آن مستقیماً دست دارند می توان از پروفیسور ای. ب. ودین، کین، وج. ای. شلیف، وای. م. یاک لوم نام برد.

یکی از نتایج مستقیم فعالیت بخشهای انجمن ریاضیات به وجود آمدن یک دوره کتاب متحدالشکل به عنوان «کتابخانه انجمن ریاضیات» است. در کتابهای این دوره مطالب بحث شده در بخشها به تفصیل و استادانه نوشته شده است. شیوه نگارش این کتابها همان شیوه تدریس در بخشها است، به این معنی که پس از مقدمه ای بسیار مختصر تعاریف اصلی شرح داده شده و بعد به صورت مسائل مطرح شد، و ضمن حل آنها مستطیب قضیه کشف گشته و تمرینهای متنوع و متعددی به دنبال آن آمده است.

هدف از به کار بردن این روش آن نیست که توجه خواننده منحصرأ به نتیجه نظریه جدیدی که مطرح شده است معطوف شود، بلکه آن است که به رغم یک یکنواختی که در بیان معمولی ریاضیات هست وی را به انجام کاری مستقل و ابتکاری تشجیع کند. این کتابها به این منظور تألیف شده که در خواننده مهارتهایی که لازمه کار تولیدی است به وجود آید. مطالبی که برای تکلیف شاگرد در آنها جمع آوری شده به نحوی است که او را بیشتر از نتایج به دست آمده مجبور به دقت در روشهای به کار رفته می کند.

فکر اساسی که سبب تهیه و تدوین این کتابها گشته آن بوده است که درک واقعی ریاضیات زمانی حاصل می شود که شخص مستقلاً قادر به پاسخ دادن سؤالات ریاضی گردد؛ و هر مسأله و مجموعه مسائلی که مستقلاً حل شود گنجینه روشهایی را که در دسترس خواننده است غنیر می کند. حتی وقتی را که خواننده برای فکر کردن و یافتن راه حل مسأله ای صرف می کند، ولو موقعیتی به دست نیآورده هدر نداده است، چه درصدد فهم علل عدم موفقیت خود برمی آید و در

(۲) یا ممکن است که از نقطه P تعداد خطوط نامحدودی کشید که CD را قطع نکند، که در این حال هندسه هیپربولیک است.

در میان این امکانات حالت میانه‌ای نیز وجود دارد که در آن ممکن است که از نقطه P فقط یک خط کشید که CD را قطع نکند، این حالت با هندسه اقلیدسی معمولی مطابقت دارد.

در هندسه بیضوی مجموع زوایای یک مثلث همیشه بزرگتر از دو قائمه است. هر خط مستقیمی را که امتداد دهیم، وقتی که به طول معینی رسید، مانند خط استوا، باز به نقطه آغاز خود برمی‌گردد. بزرگترین فاصله ممکن میان دو نقطه در روی یک خط، نصف طول این خط است. عمودهایی که از نقاط مختلف یک خط بر آن اخراج می‌شوند، همه در یک نقطه متقاطعتند.

در هندسه هیپربولیک، مجموع سه زاویه مثلث همیشه از دو قائمه کمتر است. به این معنی که هر قدر مساحت مثلث بیشتر باشد، مجموع زوایای آن کمتر است. اگر خط CD و نقطه P را در خارج آن در نظر بگیریم، می‌توانیم دو خط مستقیم از نقطه P رسم کنیم (PA و PB) که بر یک امتداد نباشند و: (۱) هر خط ماربر نقطه P که تماماً خارج زاویه APB است، خط CD را قطع نکند، (۲) هر خط ماربر نقطه P که داخل زاویه APB است، خط CD را در نقطه‌ای به فاصله محدود از P قطع کند، (۳) دو خط PA و PB ، مجانبی وار به یک انتهای خط CD میل کنند، در این حال می‌توان گفت که آنها در بی‌نهایت یکدیگر را قطع می‌کنند و این کم یا بیش شباهتی با موازیهای اقلیدس دارد. در حقیقت به PA و PB موازیهای مرسوم از نقطه P به موازات خط CD گفته می‌شود. دو خط متوازی در همه جا متساوی‌الفاصله نیستند. فاصله بین آنها در سوی یک انتها به سمت صفر و در سوی انتهای دیگر به سمت بی‌نهایت میل می‌کند.

توپولوژی

همان طور که دیدید این عقیده که جهان مادی متشکل از اتمهایی است جاودانی و تغییرناپذیر، از طرف بسیاری از فلاسفه یونان قدیم اظهار شده است. در قرن نوزدهم، این

نتیجه توانایی این را خواهد یافت که استدلال مربوط به روش مخصوص آن مسأله را تشخیص دهد.

علاوه بر بخشهایی که در دانشگاه فعالیت دارند، در سال ۵۷ - ۱۹۵۶ پانزده انجمن به‌وسیله دانشگاه در دبیرستانهای نواحی مسکو تشکیل یافته است. و برحسب تقاضای دبیرستانها و دانشجویان رشته مکانیک - ریاضیات دانشگاه مسکو سخنرانیهای فراوانی در آن انجمنها ایراد و جلسات راهبردی کرده‌اند.

عناوین سخنرانیهایی که در آن سال ایراد گشته چنین بوده است.

چگونه علم، پدیده‌های اتفاقی را بررسی می‌کند.

تئوری اعداد صحیح.

هندسه لباچفسکی.

سرریتر از فکر (درباره ماشینهای محاسبه الکترونیکی).

زنان ریاضی‌دان.

درباره شغل ریاضی‌دان.

اداره مکانیک - ریاضیات (در دانشگاه مسکو).

تاریخ حل معادلات.

مقاله ریاضیات و منطق این شماره از سرادموند تیلور ویتیکر « Sir Edmond Taylor Whittaker » است با ترجمه جهاتگیر شمس‌آوری، که در آن ابتدا از نخستین ریاضی‌دانان یاد شده و از مقام منطق در هندسه ذکری به میان آمده و از کشف اعداد اصم توسط فیثاغورسیان و پارادکسهای زنون و پیدایش هندسه فضایی در مکتب اتمی و اصل توازی و هندسه فضای نجومی و نسبت عمومی مطالبی آورده شده است.

در بخشهای هندسه‌های غیراقلیدسی و توپولوژی این مقاله چنین می‌خوانیم که:

ما اکنون بعضی از مشخصات هندسه‌های غیراقلیدسی را که با انکار اصل توازی در هندسه مسطحه به دست می‌آید شرح می‌دهیم:

اگر خط CD و نقطه P را در خارج آن در نظر بگیریم دو اصل را می‌توانیم بپذیریم.

(۱) یا غیر ممکن است که از نقطه P خط مستقیمی بتوان

کشید که CD را قطع نکند، که در این حال هندسه بیضوی است.

راسل، طرفداران اشراق، احتمالات، آمار، دستگاه حدسی، فلسفه ریاضیات و فلسفه علم.

در قسمتی از مقاله بنیان ریاضیات جدید از دکتر محسن هشترودی چنین آمده است که:

دسته بندی و اجتماع افرادی در یک طبقه همواره به صورت دلخواه ممکن است، اما مجموعه ای که به این صورت به دست می آید مجموعه ای نامشخص و کم یا بیش مبهم است. با تعریفی خاص که شامل کلیه افراد مجموعه گشته و افراد غیر عضو را خارج کند می توان مجموعه رامشخص و معین کرد (توجه شود که در این باره تعریف منطقی جامع و مانع ضروری نیست، هر تعریفی که نتیجه را متضمن باشد کفایت می کند و چنین تعاریفی معادلند). پیدا است می توان مجموعه هایی تعریف کرد که به ظاهر خود مجموعه نیز از افراد مجموعه باشد.

مثلاً، اگر مجموعه کلیه نامهای زبان فارسی را تشکیل دهیم و به این مجموعه نامی دهیم چنین به نظر می رسد که خود مجموعه عضو مجموعه است. بیشتر تعارضات منطقی در نظریه مجموعه ها از این نقطه شروع می شود. رفع چنین مشکلاتی برای ریاضی دانان بود که غلبه بر آن ممتنع می نمود. بعدها روشن شد که این قبیل تعارضات به حوزه ریاضی منحصر نیست و در حوزه منطق نیز روی می دهد، من باب مثال چند مورد از این تعارضات در حوزه منطق در این جا ذکر می شود:

اول تعارض حکم منفرد - این تعارض را از قدیم شناخته اند و از ارسطو منقول است:

غیاث الدین جمشید کاشانی می گوید که «کاشانیان دروغگویند». بدیهی است که این حکم موجب دور می شود، چه این قول از طرف یک کاشانی گفته شده است، پس مشمول خود حکم می شود و آن جمله صحیح نیست یعنی کاشانیان راستگویند. و چون گوینده کاشانی است حکم صحیح خواهد بود و دور بارز می شود.

باید توجه بود که در حقیقت این حکم منفرد نیست و از دو حکم تشکیل شده است: الف - غیاث الدین جمشید اهل کاشان است. ب - او مدعی است که کاشانیان دروغگویند. تعارض از این جهت پیدا می شود و موجب دور می شود که

عقیده به طور کلی مورد قبول فیزیک دانان قرار گرفت و برای توضیح ریاضی آن در ۱۸۸۷، کوششی از جانب ویلیام تامسون (William Thomson)، لردکلونین (Lord Kelvin) پس از مشاهده نمود حلقه های دود در آزمایشگاه، انجام گرفت. وی اظهار داشت که اگر اتمهای ماده لازمه حلقه های پیچدار در یک سیال کامل باشد، بقای ماده را بلادرنگ می توان توضیح و عمل متقابل مابین اتمها را نمایش داد. در ۱۸۷۶ پی. جسی، تیت (Tait)، فیزیک و ریاضی دان اسکاتلندی، با این فکر که ممکن است انواع مختلف اتم مربوط به انواع مختلف حلقه های پیچدار گره خورده باشد. به مطالعه گره ها به عنوان اشکال هندسی پرداخت، این نوع مسأله تازگی داشت. زیرا در این باره هرگز به تشریح دقیق نوع منحنی گره طناب توجه نمی شد و فقط به تعیین ممیزه های اصلی میان انواع گره ها اکتفا می شد. بخصوص تبدیلاتی که موجب تغییر منحنی طناب می شود ولی سیرت اصلی گره را تغییر نمی دهد مورد مطالعه قرار گرفت. روابطی از این نوع یعنی روابطی که با اصطلاحاتی از این قبیل بیان می شوند: «خارج آن»، «راست دست»، «متصل است با»، «مشترک است با»، «محصور است به»، «متصل است با یک راه» اصطلاحات توپولوژیکی هستند و مطالعه این روابط توپولوژیکی، به طور کلی توپولوژی نامیده می شود.

مسأله توپولوژیکی دیگری که در همان اوان عرضه شدن این شاخه از ریاضیات مطرح گشت مربوط به جاری شدن یک جریان الکتریکی به وسیله شبکه خطی هادیها بود. شبکه عبارت است از مجموعه ای از نقاط (رؤوس) که دو به دو به یکدیگر به وسیله هادیها مربوطند. مسأله عبارت از این است که حداکثر تعداد هادیهایی را که می توان از شبکه ای برداشت و رأسهای شبکه به وسیله باقیمانده هادیها در ارتباط خطی باشند چیست. عددی که به دست آمد، در مسأله کلی جریان الکتریکی در شبکه فوق العاده مهم است.

بخشهای دیگر این مقاله عبارتند از: نظرهای تازه ای درباره اصول موضوعه، خطرات اشراق در ریاضیات، طرح یک هندسه دقیق، اعداد، اعداد در ورای حد، تعداد نقاط در فضای سه بعدی، کمیت های موهوم، دستگاه شمار، منطق علامتی، دستگاه علامات پنانو، پیشرفتهای مربوط به وایتهد و راسل، پارادوکس

در نظریه مجموعه‌ها این تعارضها قبلاً مشهود شده بود و تعلق آنها به حوزه منطق بعداً روشن شد. بنا و پایه منطق ریاضی بر اساس حساب احکام و قضایا و حساب طبقات است.

اگر بین افراد مجموعه‌ای (محدود یا نامحدود) روابطی به قسمی وجود داشته باشد که حاصل به کار بستن این روابط برای دو فرد آن مجموعه فرد دیگری از مجموعه را به دست دهد، آن مجموعه را یک سازمان «structure» می‌نامند.

مثلاً، اگر مجموعه اعداد صحیح و عمل جمع را در نظر بگیریم، چون مجموع دو عدد صحیح نیز عددی صحیح است، مجموعه اعداد صحیح را با عمل جمع یک سازمان می‌نامند. بی آن‌که بر کلیات سازمان در ریاضیات اشاره‌ای شود، به همین مختصر اکتفا و به تعادل این سازمان با سازمان حاصل از مجموعه اعداد صحیح با عمل ضرب قناعت می‌کنیم، چه مجموعه اعداد صحیح با عمل ضرب نیز یک سازمان تشکیل می‌دهد. (در عمل جمع سازمان اول، عدد صفر عنوان واحد دارد، چه افزون آن به هر عددی آن عدد را محفوظ نگاه می‌دارد. اما در عمل ضرب سازمان دوم، همین عنوان را عدد یک دارد، چه ضرب کردن آن در هر عددی، آن عدد را محفوظ نگاه می‌دارد.) ممکن است در سازمانی دو رابطه بین افراد مجموعه، قابل تصور باشد (مانند مجموعه اعداد صحیح و اعمال جمع و ضرب)، در این صورت چنین سازمانی را حلقه می‌نامند. تعادل بین حلقه‌ها با سازمان دوگانه جمع و ضرب همواره محقق است. سازمان معادل با رابطه جمع را مدول و سازمان معادل با عمل ضرب را گروه می‌نامند. به این ترتیب حلقه در حقیقت سازمانی است که هم مدول و هم گروه باشد. هیأت اعداد (Corps denombers) مجموعه‌ای است که حاصل اعمال چهارگانه اصلی حساب درباره افراد آن، آن مجموعه را محفوظ نگاه دارد (جز عمل تقسیم بر صفر مدول که استثناء می‌شود). مثلاً، مجموعه اعداد گویا یک هیأت اعداد تشکیل می‌دهد، چه حاصل چهار عمل اصلی درباره اعداد گویا عددی گویا است. مجموعه اعداد موهوم نیز یک هیأت اعداد است. اگر عددی موهوم را که اجزای حقیقی و موهومی آن اعداد صحیحند عدد موهوم صحیح بنامیم، مشاهده می‌شود که مجموعه اعداد موهوم

دروغ گروه تشکیل نمی‌دهد، چه دروغ دروغ معادل راست است نه دروغ، اگر غیاث‌الدین جمشید کاشانی می‌گفت «کاشانیان راست‌گویند» تعارضی رخ نمی‌داد، چه راست راست معادل راست است و گروه تشکیل می‌دهد.

دوم تعارض احکام مستند بر تعریف - برای هر عدد می‌توان هم تعریفی ریاضی ذکر کرد و هم تعریف دیگری داد که بی آن‌که ریاضی باشد آن عدد را مشخص کند. مثلاً عدد (الف) را چنین تعریف می‌کنیم: «کوچکترین عددی که تعریف آن کمتر از ده کلمه لازم داشته باشد» بدیهی است اعدادی که با کمتر از ده کلمه تعریف می‌شوند مجموعه‌ای تشکیل می‌دهند (محدود یا نامحدود) که بین آنها، با مقایسه، کوچکترینشان را تعیین می‌کنیم و عدد «الف» را مشخص می‌شود. فی‌المثل عدد π چنین تعریف می‌شود: «نسبت محیط دایره به قطر آن» این جمله یا (حکم) شش کلمه دارد، یعنی حکمی است که از ده کلمه کمتر است، پس عدد «پی» از این قبیل اعداد است. همچنین عدد ۹ (تعداد سیارات منظومه شمسی) چون حکم «تعداد سیارات منظومه شمسی» کمتر از ده کلمه دارد، از این احکام است. اگر به همین دو عدد قناعت شود، عدد «الف» عدد π خواهد بود که از دو عدد ۹ و π کوچکترین آنها است. به هر حال اگر تعاریف دیگری نیز برای اعدادی از این قبیل ذکر شود، همواره می‌توان عدد «الف» را مشخص ساخت. اکنون ملاحظه می‌کنیم که عدد «الف» خود با جمله «کوچکترین عددی که تعریف آن کمتر از ده کلمه لازم داشته باشد» تعریف شده است که دوازده کلمه دارد. این‌جاست که تعارض رخ می‌دهد، زیرا عدد «الف» باید با جمله‌ای (یا حکمی) که کمتر از ده کلمه داشته باشد تعریف شود؛ یعنی بنا به مدلول تعریف فوق عدد «الف» وجود دارد و بنا بر صورت حکم این عدد جزء مجموعه اعدادی که به موجب این تعریف مشخص می‌شوند نمی‌باشد. با کمی توجه می‌توان دریافت که مجموعه اعدادی که تعریف آنها کمتر از ده کلمه لازم داشته باشد یک رشته عدد است (محدود یا نامحدود، از نظر تعداد) و تعریف عدد «الف» در واقع چنین است: «کوچکترین عدد این مجموعه» و در این صورت تعارضی در کار نخواهد بود، چه حکم اخیر کمتر از ده کلمه دارد.

فهمیده بود؟ در همین شماره مورد بحث آمده است. می‌پردازیم:
برای دوستان خود چنین تعریف می‌کرد:

- راهی طولانی و خطرناک در پیش داشتیم. این راه در میان یکی از صحراهای خشک و بی‌آب عربستان بود. برای سلامت به پایان رساندن این راه ناچار بودیم که با خود آب و بتزین همراه داشته باشیم. در ماشین ما شش ظرف خالی به گنجایش یکی شانزده لیتر و دیگری هیجده لیتر و سومی بیست و دو لیتر و بقیه به ترتیب بیست و سه لیتر، بیست و چهار لیتر و سی و چهار لیتر بود. چند ظرف را از آب پر کردیم و چند ظرف را از بتزین و یکی از ظرفها را خالی نگاه داشتیم، عجیب این بود که مقدار بتزینی که خریدیم و در ظرفها ریختیم دوبرابر تعداد آبی بود که خریدیم و در ظرفها ریختیم. یکی از مستمعان سخن گوینده را قطع کرد و گفت: - من که آن‌جا نبودم، ولی می‌توانم بگویم که شما کدام ظرف را خالی نگاه داشتید و کدامها را از آب و کدامها را از بتزین پر کردید. همه متعجب شدند و تصور کردند که او هم در این مسافرت بوده است و می‌خواهد با دیگران شوخی کند. - یکی پرسید راست می‌گوید؟ او با شما در این مسافرت نبوده است؟ باور کنید که خیر. - پس ادعای او باور نکردنی است. اما وقتی که وی برای دیگران شرح داد که چگونه فهمیده است که کدام ظرف خالی و آب در کدامها و بتزین در کدامها بوده است و تعریف کننده هم حرف او را تصدیق کرد، همه دهانشان از تعجب باز ماند. آیا شما می‌توانید بگویید که چگونه فهمیده بود؟

پاسخ این معما در همین شماره و به صورت زیر است:
چون بتزین دو برابر آب است، گنجایش مجموع ظرفهایی که پر شده باید بر ۳ قابل قسمت باشد. مجموع گنجایشهای شش ظرف عبارت است از: ۱۳۷ لیتر. این عدد ۲ واحد از مضربی از ۳ بیشتر است. تنها ظرفی که گنجایش آن دو واحد از مضربی از ۳ بیشتر است عبارت است از: ظرف به گنجایش ۲۳ لیتر. بنابراین، این ظرف باید خالی مانده باشد و بقیه ظرفها پر باشند. مجموع گنجایش ظرفهای پر عبارت است از ۱۱۴ لیتر. ثلث این مقدار گنجایش ظرفهای مملو از آب است. یعنی گنجایش آن ظرفها برابر ۳۸ لیتر است، بنابراین ظرفهای ۱۶ و ۱۸ لیتر از آب و بقیه از بتزین پر شده‌اند.

صحیح هیأت اعداد نیست و بلکه تنها حلقه است. بدین قسم سازمانهای اصلی نمونه‌بندی ریاضی عبارت است از:

۱- مدول (Module) که به آن گروه جمعی (Groupe additif) نیز گفته می‌شود و همچنین گروه که مراد گروه ضربی است (Groupe multiplicatif) و به طور خلاصه گروه نامیده می‌شود. در صورتی که در چنین سازمانی $a.b = b.a$ باشد، گروه را گروه آبلی (Groupe abélien) می‌نامند. تعادل بین مدول و گروه محقق است یعنی این دو سازمان در حقیقت متوازنند.

۲- حلقه (Anneau یا Ring) سازمانی است که هم مدول است و هم گروه، یعنی اعمال سه‌گانه جمع و تفریق و ضرب در آن میسر است.

۳- هیأت اعداد (Corps de nombres یا field) که اعمال چهارگانه اصلی حساب در آن میسر است.

سازمانها به دو دسته اساسی، سازمانهای جبری (آنچه تاکنون اشاره شد سازمانهای جبری است) و سازمانهای منطقی (structure logique) تقسیم می‌شوند. برای هر سازمان منطقی محاسبه خاصی جبری وجود دارد که سازمان متناظر آن نامیده می‌شود. مثلاً جبر بول (Boole اصول محاسبه سازمان منطقی ارسطو (یعنی منطق دو ارزشی) است. اهمیت این سازمانها در ریاضیات جدید بسیار است و اصول ماشینهای الکترونیکی یا دستگاههای خودکار بر این سازمانها است.

از جمله مطالبی که برای هر مجله علمی و در حالت خاص ریاضی لازم و واجب می‌نماید وجود معماها و چیستانهای ریاضی است.

این معماها طوری مطرح شده‌اند که در عین فرح‌انگیزی با استدلال سروکار دارند و چنان هستند که علاوه بر استدلال گاه‌گاه به هوش و سرعت انتقال نیز نیاز دارند.

مجله یکان، از آوردن این گونه معماها خودداری نکرده و جای جای از معماهای جالب و سروربار سخن به میان آورده است.

حل این معماها، همان گونه که مرسوم است به دانش ریاضی بسیار نیاز ندارد و بیش از آن که طالب معلومات ریاضی باشد در طلب دقت و فایده گرفتن از قوای ذهنی است. در این مورد باید شش دانگ حواس خود را جمع کنیم و به عبارت دیگر تمرکز حواس داشته باشیم. در این‌جا به‌ذکر یکی از معماهای آن، که تحت عنوان چگونه

اثبات درستی قوانین مقدماتی تسویر

غلامرضا یاسی پور

۳. $Hs \Rightarrow Ms$

۱، UI

۴. Ms

۲، ۳، M.P.

۲. تعمیم عمومی (توصیف مقدماتی): قانون بعدیمان را می‌توانیم با شباهتی که با روش ریاضی نسبتاً استاندارد زیر دارد توضیح دهیم. ممکن است هندسه‌دانی اثباتی را با گفتن این که «فرض می‌کنیم: ABC مثلث منتخب دلخواهی باشد» آغاز و بعد اثبات کند که مثلث ABC فلان صفت مشخص را دارد و در آخر نتیجه بگیرد که تمام مثلثها آن صفت را دارند. در این صورت نتیجه نهایی چگونه توجیه می‌شود؟ و چرا از مثلث ABC که خاصیت مشخصی را داراست نتیجه می‌شود که تمام مثلثها دارای آن خاصیت هستند؟ جواب این است که اگر هیچ فرضی جز مثلث بودن در مورد ABC در نظر گرفته نشده باشد، در این صورت عبارت «ABC» می‌تواند برای نمایش هر مثلثی که مایل باشیم در نظر گرفته شود و اگر استدلال بر این قرار باشد که هر مثلث باید دارای صفت مورد بحث باشد، در این صورت نتیجه می‌شود که تمام مثلثها دارای این صفت هستند. اکنون علامتی شبیه علامت این هندسه در اشاره به «هر مثلث منتخب دلخواه» معرفی می‌کنیم، و در این مورد حرف کوچک به کار نرفته « \forall » را برای نمایش دادن هر فرد به طور دلخواه انتخاب شده به کار خواهیم برد. در این استعمال عبارت « $\forall y$ » مثال جانشین تابع گزاره‌ای « $\forall x$ » است، و ادعا می‌کند که هر فرد به طور دلخواه انتخاب شده دارای خاصیت φ است. واضح است که « $\forall y$ » به درستی از « $\forall x$ » توسط UI نتیجه می‌شود، زیرا آنچه که در مورد تمام افراد راست باشد در مورد هر فرد به دلخواه انتخاب شده نیز راست است. این استنتاج به طور مساوی در

برای تشکیل دادن اثباتهای صوری درستی در مورد استدلالاتی که توسط سورها و توابع گزاره‌ای، علامتی شده‌اند؛ باید فهرست قوانین استنتاجمان را افزایش دهیم. برای این منظور چهار قانون حاکم بر تسویر را به فهرست اضافه می‌کنیم و گزارش مقدماتی بسیار ساده‌ای از آنان را در این بخش به دست می‌دهیم، و تنظیم کاملتر را برای بعد می‌گذاریم.

۱. تمثیل عمومی (توصیف مقدماتی): به علت این که تسویر عمومی یک تابع گزاره‌ای اگر و فقط اگر تمام مثالهای جانشین آن تابع گزاره‌ای راست باشند، راست است، می‌توانیم به فهرست قوانین استنتاجمان این اصل را که هر مثال جانشین یک تابع گزاره‌ای را می‌توان به درستی از تسویر عمومی استنتاج کرد، اضافه کنیم. این قانون را می‌توانیم به طور علامتی به صورت:

$(x) \varphi \rightarrow x$

$\therefore \varphi \vee$

که در آن \vee علامت فرد دلخواهی است، بیان کنیم. از آن جا که این قانون اجازه می‌دهد مثالهای جانشین از تسویرهای عمومی استنتاج شوند، به آن به عنوان «اصل تمثیل عمومی»^۱ اشاره، و آن را به صورت «UI» خلاصه می‌کنیم.^۲ به این ترتیب افزودن UI مجازمان می‌کند که اثبات صوری درستی استدلال: «تمام انسانها میرا هستند؛ سقراط انسان است؛ بنابراین سقراط میراست»، را به ترتیب زیر به دست دهیم:

۱. $(x) [Hx \Rightarrow Mx]$

۲. Hs

/ $\therefore Ms$

۴. تمثیل وجودی (توصیف مقدماتی): به یک قانون تسویر دیگر نیاز است. تسویر وجودی یک تابع گزاره‌ای اظهار می‌کند که حداقل یک فرد موجود است که قرار دادن نام آن به جای متغیر «x» در آن تابع گزاره‌ای، مثال جانشین راستی از آن به دست می‌دهد. البته ممکن است که چیز دیگری در مورد آن فرد ندانیم، اما می‌توانیم ثابت فردی دیگری جز «y»؛ مثلاً «W»، که قبلاً در آن زمینه رخ نداده در نظر بگیریم، و آن را برای نمایش دادن آن فرد، یا یکی از افرادی که وجودش توسط آن تسویر وجودی اظهار شده، بکار ببریم. با دانستن این که چنین فردی موجود است، و با موافقت کردن در نمایش آن با «W»، می‌توانیم از تسویر وجودی یک تابع گزاره‌ای مثال جانشین آن تابع گزاره‌ای را نسبت به علامت فردی «W» استنتاج کنیم. به این ترتیب به عنوان آخرین قانون تسویرمان این اصل را بیفزاییم که از تسویر وجودی یک تابع گزاره‌ای، می‌توانیم راستی مثال جانشینش را نسبت به یک ثابت فردی که قبلاً در آن زمینه رخ نداده است، به درستی استنتاج کنیم. این قانون جدید را می‌توانیم به صورت زیر بنویسیم:

$$(\exists x) \varphi x$$

$$\therefore \varphi V$$

که در آن V ثابتی فردی است، جز «y»، که قبلاً در بحث ظاهر نشده است. به این قانون به عنوان «اصل تمثیل وجودی»^۵ اشاره و آن را به صورت «EI» مختصر می‌کنیم.

از دو قانون تسویر اخیر در تشکیل اثبات صوری درستی استدلال: «تمام سگها گوشتخوارند؛ بعضی حیوانات سگ‌اند؛ بنابراین بعضی حیوانات گوشتخوارند» استفاده می‌کنیم.

[A: سگ، D: گوشتخوار، C: حیوان]

$$1. (x) [Dx \Rightarrow Cx]$$

$$2. (\exists x) [Ax \wedge Dx] / \therefore (\exists x) [Ax \wedge Cx]$$

$$3. Aw \wedge Dw \quad 2, EI$$

$$4. Dw \Rightarrow Cw \quad 1, UI$$

$$5. Dw \wedge Aw \quad 3, com.$$

$$6. Dw \quad 5, simp.$$

$$7. Cw \quad 4, 6, M.P.$$

$$8. Aw \quad 3, simp.$$

$$9. Aw \wedge Cw \quad 8, 7, conj.$$

$$10. (\exists x) [Ax \wedge Cx] \quad 9, EG$$

جهت دیگر نیز درست است، زیرا آنچه که در مورد هر فرد به دلخواه انتخاب شده راست است باید در مورد تمام افراد راست باشد. باز هم فهرست قوانین استنتاجمان را، با افزودن این اصل که تسویر عمومی یک تابع گزاره‌ای را می‌توان بدرستی از مثال جانشینش نسبت به علامت «y» استنتاج کرد افزایش می‌دهیم. از آن جا که این قانون استنتاج قضایای کلی که تسویرهای عمومی‌اند را مجاز می‌کند، به آن به عنوان «اصل تعمیم عمومی»^۳ رجوع، و آن را به صورت «UG» مختصر می‌کنیم. عبارت علامتیمان در مورد این قانون تسویر دوم چنین است:

$$\varphi y$$

$$\therefore (x) \varphi x$$

که در آن «y» نمایشگر هر فرد به دلخواه انتخاب شده‌ای است، می‌باشد.

می‌توانیم این علامت جدید و این قانون اضافه یعنی UG را در تشکیل اثبات صوری درستی استدلال زیر بکار ببریم: «هیچ میرایی کامل نیست؛ تمام انسانها میرا هستند؛ بنابراین انسانها کامل نیستند.»

$$1. (x) [Mx \Rightarrow \sim Px]$$

$$2. (x) [Hx \Rightarrow Mx] / \therefore (x) [Hx \Rightarrow \sim Px]$$

$$3. Hy \Rightarrow My \quad 2, UI$$

$$4. My \Rightarrow \sim Py \quad 1, UI$$

$$5. Hy \Rightarrow \sim Py \quad 3, 4, H.S.$$

$$6. (x) [Hx \Rightarrow \sim Px] \quad 5, UG$$

۳. تعمیم وجودی (توصیف مقدماتی): به این علت که

تسویر وجودی یک تابع گزاره‌ای راست است اگر و تنها اگر آن تابع گزاره‌ای دارای حداقل یک مثال جانشین راست باشد، می‌توانیم به فهرست قوانین استنتاجمان این اصل را که تسویر وجودی یک تابع گزاره‌ای را می‌توان به درستی از هر مثال جانشین آن تابع گزاره‌ای استنتاج کرد، بیفزاییم. این قانون، استنتاج قضایای عمومی را که به طور وجودی تسویر یافته‌اند، مجاز می‌کند، بنابراین آن را «اصل تعمیم وجودی»^۴ می‌نامیم و به صورت «EG» مختصر می‌کنیم. تنظیم علامتی این اصل به صورت زیر است:

$$\varphi V$$

$$\therefore (\exists x) \varphi x$$

که در آن V هر علامت فردی است.

هر فرض با برد محدود را می‌توان در یک اثبات شرطی درستی به کاربرد، و بخصوص در گرفتن فرضی به صورت « Py » آزادیم. بدین ترتیب درستی استدلال «تمام دانشجویان سال اول و دوم دانشگاه دعوت شده‌اند و از آنها پذیرایی می‌شود؛ بنابراین تمام دانشجویان سال اول دعوت شده‌اند» با استفاده از اثبات شرطی زیر ثابت می‌شود:

[F: دانشجوی سال اول، S: دانشجوی سال دوم، I: دعوت داشتن W: پذیرایی شدن]

$$1. (x) [(Fx \vee Sx) \Rightarrow (Ix \wedge Wx)] / \therefore (x) [Fx \Rightarrow Ix]$$

$$2. Fy$$

$$3. (Fy \vee Sy) \Rightarrow (Iy \wedge Wy) \quad 1, UI$$

$$4. Fy \vee Sy \quad 2, Add.$$

$$5. Iy \wedge Wy \quad 3, 4, M.P.$$

$$6. Fy \quad 5, simp$$

$$7. Fy \Rightarrow Iy \quad 2-6, C.P.$$

$$8. (x) [Fx \Rightarrow Ix] \quad 7, UG$$

در اثبات درستی استدلال شامل تسویرات، همان طور که در مثال زیر ملاحظه می‌شود می‌توان بیش از یک فرض با برد محدود در نظر گرفت:

$$1. (x) [(Ax \vee Bx) \Rightarrow (Cx \wedge Dx)]$$

$$2. (x) \{ (Cx \vee Ex) \Rightarrow [(Fx \vee Gx) \Rightarrow Hx] \}$$

$$/ \therefore (x) [Ax \Rightarrow (Fx \Rightarrow Hx)]$$

$$3. (Ay \vee By) \Rightarrow (Cy \wedge Dy) \quad 1, UI$$

$$4. (Cy \vee Ey) \Rightarrow [(Fy \vee Gy) \Rightarrow Hy] \quad 2, UI$$

$$5. Fy \Rightarrow Hy$$

$$6. Ay \vee By \quad 5, Add.$$

$$7. Cy \wedge Dy \quad 3, 6, M.P.$$

$$8. Cy \quad 7, simp.$$

$$9. Cy \vee Ey \quad 8, Add.$$

$$10. (Fy \vee Gy) \Rightarrow Hy \quad 4, 9, M.P.$$

$$11. Hy$$

$$12. Fy \vee Gy \quad 10, 11, Add.$$

$$13. Fy \quad 10, 12, M.P.$$

$$14. Ay \quad 11-13, C.P.$$

$$15. Ay \Rightarrow [Fy \Rightarrow Hy] \quad 5-14, C.P.$$

می‌توانیم لزوم محدودیت بیان شده در مورد استفاده از EI را با بررسی استدلال واضحاً نادرست زیر نشان دهیم: «بعضی گربه‌ها حیوان‌اند؛ بعضی سگها حیوان‌اند؛ بنابراین بعضی گربه‌ها سگ‌اند». در این مورد اگر از محدودیت مربوط به EI که مثال جانشین حاصل از آن تنها می‌تواند شامل ثابت فردی که قبلاً در زمینه بحث رخ نداده باشد، صرف نظر کنیم، ممکن است به تشکیل «اثبات» زیر رهنمون شویم:

[گربه: C، حیوان: A، سگ: D]

$$1. (\exists x) [Cx \wedge Ax]$$

$$2. (\exists x) [Dx \wedge Ax] / \therefore (\exists x) [Cx \wedge Dx]$$

$$3. Cw \wedge Aw \quad 1, EI$$

$$4. Dw \wedge Aw \quad 2, EI$$

$$5. Cw \quad 3, simp.$$

$$6. Dw \quad 4, simp.$$

$$7. Cw \wedge Dw \quad 5, 6, conj.$$


$$8. (\exists x) [Cx \wedge Dx] \quad 7, EG$$

در اینجا اشتباه در سطر ۴ رخ داده است. مقدمه دوم اطمینان می‌دهد که حداقل یک شیء موجود است که هم سگ و هم حیوان است. ولی ما مجاز نیستیم که از علامت «w» برای نمایش دادن آن شیء استفاده کنیم زیرا قبلاً «w» را برای نمایش دادن یکی از اشیایی که در مقدمه اول ادعا شده است که هم گربه و هم سگ حیوان‌اند به کار برده‌ایم. برای اجتناب از خطاهایی نظیر این خطا باید از محدودیت مقرر در کاربرد EI پیروی کنیم. باید توجه شود که هرگاه در اثباتی هم EI و هم UI در تمثیل نسبت به یک ثابت فردی به کار رود، باید اول EI را به کار ببریم. (چنین پیشنهاد شده که می‌توانیم از لزوم به کار بردن EI قبل از UI با تغییر محدودیت روی EI به صورت «که در آن U ثابتی فردی، غیر از «y»، است که در زمینه بحث با هیچ یک از استفاده‌های قبلی از EI معرفی نشده است» اجتناب کنیم. اما حتی این صورت نیز جدا از دوری بودن آشکارش از تشکیل «اثبات صوری درستی» خطاآمیز در مورد استدلالی نادرست چون «بعضی انسانها زیبا هستند. سقراط انسان است. بنابراین سقراط زیباست» جلوگیری نمی‌کند.)

چهار قانون تسویر UI، EG، UG، EI را مانند قوانین استنتاج نه گانه قبلاً ذکر شده، می‌توان فقط در مورد سطرهای کامل اثبات به کاربرد.

۲. این قانون و سه قانونی که بعد می آیند قوانین مختلف «قیاس طبیعی» natural deduction اند که در سال ۱۹۳۴ میلادی توسط گرهارد گنتزن Gerhard Gentzen و مستقل از او استانیسلاو یا شکوفسکی Stanislaw Jas'kowski طرح شده اند.

3. Principle of Universal Generalization
4. Principle of Existential Generalization
5. Principle of Existential Instantiation



عدد اصم [alogos] عددی است که نمی توان آنرا به صورت صحیح به وسیله اعداد دیگر تعزیر کرد؛ ابتدای این اکتشاف به صورت هندسی در آن هنگام بود که دریافتند قطر مربع واحد را نمی توان با ضلع یا اجزای آن هر اندازه هم که کوچک اختیار شده باشد اندازه گرفت.

آیا راه اثبات این اصم بودن چگونه است؟ روایتی را که در این باره است ارسطو نقل می کند، و راه اثبات آنرا برهان خلف [reductio ad absurdum] می داند، این برهان به اندازه بی کوتاه و ساده است که ما آنرا عیناً در این جا نقل می کنیم:

اگر مربعی با ضلع a و قطر c در دست باشد، می خواهیم ثابت کنیم که a و c نسبت به یکدیگر اندازه ناپذیرند. فرض کنیم که چنین نباشد و نسبت c/a میان آنها را به ساده ترین صورت با γ/α نمایش دهیم، که بتایر آن $c^2/a^2 = \gamma^2/\alpha^2$ می شود؛ ولی $c^2 = 2a^2$ و در نتیجه $\gamma^2 = 2\alpha^2$ خواهد شد، به این ترتیب بایستی γ^2 و همچنین γ زوج و α فرد باشد. اگر γ زوج باشد می توان چنین نوشت: $\gamma = 2\beta$ و از آن رو: $2\alpha^2 = \gamma^2 = 4\beta^2 = 2\alpha^2$ و نتیجه رابطه اخیر آن است که α^2 و α باید زوج باشد. از این قرار α در آن واحد باید هم زوج باشد و هم فرد و این ممتنع و بالتیجه فرضی که در ابتدا شده بود باطل است، یعنی c/a اندازه ناپذیر است.

تاریخ علم - احمد آرام

۱۶. (x)[Ax \Rightarrow (Fx \Rightarrow Hx)]


۱۵، UG

مرجع:

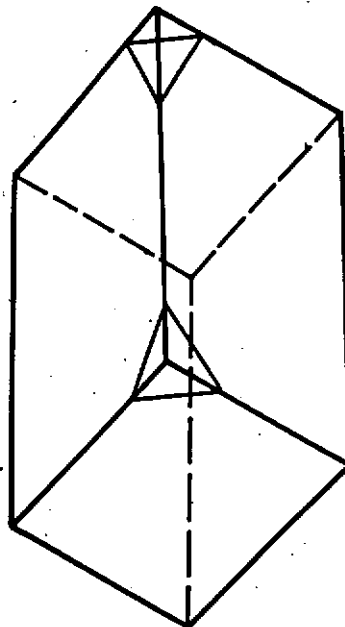
Symbolic Logic
Irving M. Copi

یادداشتها:

1. Principle of Universal Instantiation



هر گوشه منشور مربع القاعده ای را بریده ایم. دوبرش از هشت برش ممکن را نشان داده ایم. شکل جدید دارای چند یال است؟



جواب در صفحه ۸۸

عمل حاصل ضرب دکارتی

بین مجموعه‌ها

مورد استفاده دانش آموزان سال دوم ریاضی و سوم ریاضی نظام جدید

● حمیدرضا امیری

مثال ۱: هرگاه داشته باشیم $(x - y, 2x - 2) = (2y + 3, x + y)$ در این صورت مقادیر x و y را به دست آورید.

حل: با توجه به تعریف فوق و با توجه به تساوی بین دو زوج باید داشته باشیم:

$$\begin{cases} x - y = 2y + 3 \\ 2x - 2 = x + y \end{cases} \Rightarrow \begin{cases} x - 3y = 3 \\ x - y = 2 \end{cases}$$
$$\Rightarrow y = \frac{-1}{2}, \quad x = \frac{5}{2}$$

مثال ۲: در صورتی که داشته باشیم:

$$(\{1, x, z - 1\}, (y - 4, 7)) = (\{4, 1, z\}, (5, t^2))$$

مطلوب است محاسبه مقادیر x, y, z و t .

حل: طبق تعریف می‌بایست مؤلفه‌های اول این دو زوج که هر کدام یک مجموعه ۳ عضوی است با هم برابر باشند و چون همواره $1 \neq z - 1$ پس باید $z = x$ و $z = 4$ یا $z - 1 = 4$ که نتیجه می‌دهد $x = z = 5$ و نیز باید مؤلفه‌های دوم نیز برابر باشند یعنی باید $(y - 4, 7) = (5, t^2)$ که بلافاصله نتیجه می‌شود:

$$\begin{cases} y - 4 = 5 \Rightarrow y = 9 \\ 7 = t^2 \Rightarrow t = \pm\sqrt{7} \end{cases}$$

مثال ۳: مقادیر x و y را چنان تعیین کنید که دو زوج مرتب $(4x, y^2 + 6y + 30)$ و $(2x^2 + 1, 2y^2 - y)$ با هم برابر

در ریاضیات جدید سال اول با سه عمل اجتماع، اشتراک و تفاضل بین مجموعه‌ها آشنا شدید. در این مقاله عمل دیگری به نام حاصل ضرب دکارتی یا کارترین بین هر دو مجموعه دلخواه تعریف کرده و به بررسی خواص و نتایج آن می‌پردازیم - اءن شاء... - در مقاله‌های بعدی خواهید دید که براساس همین تعریف به تعریف رابطه و تابع خواهیم رسید.

ابتدا نیاز داریم زوج مرتب را تعریف کنیم، هر دو شیء مانند x و y تشکیل یک زوج می‌دهند و اگر برای این زوج ترتیب نیز قائل شویم به آنها یک زوج مرتب گفته و به صورت (x, y) نمایش می‌دهیم. بلافاصله از تعریف چنین برمی‌آید که در حالت کلی ممکن است زوج مرتب (x, y) با (y, x) برابر نباشند (زیرا ترتیب قرار گرفتن آنها فرق دارد). لازم به تذکر است در هر مبحث اعضای آن مبحث، اشیای آن بحث می‌باشند مثلاً در مبحث حساب هر عدد یک شیء ریاضی است، یا در بحث مجموعه‌ها، هر مجموعه یک شیء محسوب می‌شود و نیز هر زوج مرتب می‌تواند یک شیء باشد. تذکر دیگر اینکه در زوج مرتب (x, y) ، x مؤلفه اول و y مؤلفه دوم می‌نامیم.

تعریف تساوی بین دو زوج مرتب: دو زوج مرتب با یکدیگر مساوی‌اند اگر و فقط اگر مؤلفه به مؤلفه با هم برابر باشند (مؤلفه‌های نظیر با هم برابر باشند). یا به عبارت دیگر:

$$(x, y) = (z, t) \Leftrightarrow x = z \ \& \ y = t$$

$$A^2 = A \times A = \{(a,a), (a,b), (a,c), (b,a), (b,b), (b,c), (c,a), (c,b), (c,c)\}$$

باشند.

نکته ۲: اگر A یک مجموعه m عضوی و B یک مجموعه k عضوی باشد در این صورت $(A \times B)$ دارای $m \times k$ عضو است، یا به بیان ریاضی،

$$(n(A) = m \wedge n(B) = k) \implies n(A \times B) = mk$$

نکته ۳: عمل حاصل ضرب را می‌توان به صورتهای زیر بین مجموعه‌های متفاوت تعریف کرده و تعمیم دهیم:

الف) $A \times (B \times C) = \{(x, (y, z)) \mid x \in A \wedge (y, z) \in (B \times C)\}$

ب) $(A \times B) \times (C \times D) =$

$$\{(x, y), (z, t) \mid (x, y) \in A \times B \wedge (z, t) \in C \times D\}$$

ج) $A^2 \times A^2 = \{(x, y), (z, t) \mid (x, y) \in A^2 \wedge (z, t) \in A^2\}$

نکته ۴: اگر زوج مرتب (x, y) متعلق به $(A \times B)$ باشد فقط می‌توان نتیجه گرفت که، $x \in A$ و $y \in B$ ایما، در صورتی که (x, y) در $(A \times B)$ نباشد، در سه حالت ممکن است این اتفاق رخ دهد و برعکس، هر کدام از این سه حالت پیش آید بلافاصله نتیجه می‌گیریم که (x, y) در $(A \times B)$ نیست، یعنی:

$$(x, y) \notin (A \times B) \iff \begin{cases} x \notin A \wedge y \in B \\ x \in A \wedge y \notin B \\ x \notin A \wedge y \notin B \end{cases}$$

به عنوان مثال اگر B مجموعه دلخواهی باشد و $A = \{2, 4\}$ در این صورت $(2, x) \notin A \times B$ (به ازای هر x) زیرا $2 \notin A$.
و اگر $(2, t) \notin A \times B$ چون $2 \in A$ پس باید $t \notin B$.

مسأله ۱: ثابت کنید برای هر مجموعه دلخواه مانند A ،

$$A \times \emptyset = \emptyset \times A = \emptyset$$

اثبات: فرض کنیم $A \times \emptyset \neq \emptyset$ (فرض خلف) بنابراین داریم:

$$\exists (x, y) \in (A \times \emptyset) \implies x \in A \wedge y \in \emptyset$$

و گزاره $\emptyset \in \emptyset$ همواره نادرست بوده و تالی گزاره شرطی فوق که از فرض خلف حاصل شده، ارزش نادرست داشته و کلی گزاره شرطی نادرست خواهد شد (مقدم را درست فرض کرده‌ایم)، یعنی نمی‌تواند (x, y) ای در $(A \times \emptyset)$ موجود باشد که با فرض تناقض

حل: شرط تساوی این دو زوج مرتب آن است که:

$$\begin{cases} 3x^2 + 1 = 4x \\ 2y^2 - y = y^2 + 6y + 30 \end{cases} \implies \begin{cases} 3x^2 - 4x + 1 = 0 \\ y^2 - 7y - 30 = 0 \end{cases}$$

$$\implies \begin{cases} 3(x-1)(x-\frac{1}{3}) = 0 \\ (y+3)(y-10) = 0 \end{cases} \implies \begin{cases} x=1 \text{ یا } x=\frac{1}{3} \\ y=-3 \text{ یا } y=10 \end{cases}$$

جوابهای فوق ۴ دسته جواب به صورت

$$\begin{cases} x=\frac{1}{3} \\ y=10 \end{cases} \text{ یا } \begin{cases} x=\frac{1}{3} \\ y=-3 \end{cases} \text{ یا } \begin{cases} x=1 \\ y=10 \end{cases} \text{ یا } \begin{cases} x=1 \\ y=-3 \end{cases}$$

برای ما حاصل می‌کنند، که در هر حالت تساوی بین دو زوج برقرار است.

حال برمی‌گردیم و به سراغ حاصل ضرب دکارتی می‌رویم، $A \times B$ را حاصل ضرب دکارتی A در B نامیده که A و B دو مجموعه دلخواه بوده و حاصل چنین عملی مجموعه‌ای است که به شکل زیر تعریف می‌شود:

$$A \times B = \{(x, y) \mid x \in A \wedge y \in B\}$$

همانطور که از تعریف مشخص است $(A \times B)$ مجموعه‌ای است متشکل از زوجهای مرتب که مؤلفه اول همه آنها متعلق به مجموعه A و مؤلفه دوم آنها متعلق به مجموعه B است.

مثال ۴: اگر $A = \{a, b, c\}$ و $B = \{2, 4, 6\}$ مطلوب است محاسبه $(A \times B)$ و $(B \times A)$.

$$A \times B = \{(a, 2), (a, 4), (a, 6), (b, 2), (b, 4), (b, 6), (c, 2), (c, 4), (c, 6)\}$$

$$B \times A = \{(2, a), (4, a), (6, a), (2, b), (4, b), (6, b), (2, c), (4, c), (6, c)\}$$

نکته ۱: می‌توان حاصل ضرب یک مجموعه را در خودش به صورت زیر نوشت:

$$A \times A = A^2 = \{(x, y) \mid x \in A \wedge y \in A\}$$

در مثال ۴ داریم:

مسأله ۳: ثابت کنید هرگاه $A \neq \emptyset$ آنگاه:

$$(A \times B) \subset (A \times C) \iff B \subset C$$

اثبات:

ابتدا فرض می‌کنیم $B \subset C$ بنابراین:

$$\begin{aligned} [\text{اگر } (x, y) \in (A \times B) \implies x \in A \wedge y \in B \implies \\ x \in A \wedge y \in C \implies (x, y) \in (A \times C)] \implies \\ (A \times B) \subset (A \times C) \end{aligned}$$

حال فرض کنیم $(A \times B) \subset (A \times C)$ ، ثابت می‌کنیم $B \subset C$.
برای نیل به این هدف عضو دلخواهی مانند y از B فرض کرده و ثابت می‌کنیم $y \in C$.

$$\begin{aligned} A \neq \emptyset \implies \exists x \in A \implies x \in A \wedge \underline{y \in B} \implies \\ \underbrace{(x, y) \in (A \times B)}_{(A \times B) \subset (A \times C)} \implies (x, y) \in (A \times C) \implies x \in A \wedge \underline{y \in C} \end{aligned}$$

و چون $y \in B$ دلخواه بوده و ثابت شد $y \in C$ پس باید $B \subset C$.

مسأله ۴: ثابت کنید برای هر چهار مجموعه دلخواه مانند A و B و C و D داریم:

$$(A \times B) \cap (C \times D) = (A \cap C) \times (B \cap D)$$

اثبات:

$$\begin{aligned} \text{تعریف } \cap \\ [(x, y) \in (A \times B) \cap (C \times D) \iff \\ (x, y) \in (A \times B) \wedge (x, y) \in (C \times D) \iff \end{aligned}$$

$$\begin{aligned} \text{جابجایی و شرکت پذیری} \\ (x \in A \wedge y \in B) \wedge (x \in C \wedge y \in D) \iff \\ (x \in A \wedge x \in C) \wedge (y \in B \wedge y \in D) \iff \\ x \in (A \cap C) \wedge y \in (B \cap D) \iff \\ (x, y) \in (A \cap C) \times (B \cap D) \implies \\ (A \times B) \cap (C \times D) = (A \cap C) \times (B \cap D) \end{aligned}$$

نتیجه ۴: با توجه به اینکه:

$$n(E \cup F) = n(E) + n(F) - n(E \cap F)$$

و با توجه به این نکته که $n(A \times B) = n(B \times A)$ و مسأله قبلی داریم:

$$n[(A \times B) \cup (B \times A)] = n(A \times B) + n(B \times A) -$$

$$n[(A \times B) \cap (B \times A)] = n(A \times B) + n(A \times B) -$$

دارد، زیرا فرض کرده بودیم که $A \times \emptyset \neq \emptyset$ ، بنابراین همواره باید $\emptyset \times A = \emptyset$ و به همین ترتیب ثابت می‌شود $\emptyset \times A = \emptyset$.

نتیجه ۱: تنها مجموعه‌ای که حاصل ضرب دکارتی در خودش برابر با خودش خواهد شد، مجموعه تهی است یعنی: $\emptyset \times \emptyset = \emptyset$.

نتیجه ۲: همواره داریم:

$$(A \times B) = \emptyset \iff A = \emptyset \vee B = \emptyset$$

اثبات:

زیرا اگر $A \neq \emptyset$ و $B \neq \emptyset$ پس

$$\exists x \in A \wedge \exists y \in B \implies \exists (x, y) \in (A \times B)$$

و چنین مطلبی با فرض $A \times B = \emptyset$ تناقض دارد پس حکم ثابت است.

نتیجه ۳: همواره داریم:

$$n(A \times B) = 0 \iff A = \emptyset \vee B = \emptyset$$

مسأله ۲: ثابت کنید شرط لازم و کافی برای آنکه $A \times B = B \times A$ آن است که $A = B$ یا $A = \emptyset$ یا $B = \emptyset$.

$$A \times B = B \times A \iff A = B \vee \underbrace{A = \emptyset \vee B = \emptyset}_{n(A \times B) = 0}$$

اثبات:

شرط لازم: اگر $A = B$ واضح است که $A \times B = B \times A$ (به جای A ، B قرار می‌دهیم) اگر $A = \emptyset$ پس:

$$\left. \begin{aligned} A \times B = \emptyset \times B = \emptyset \\ B \times A = B \times \emptyset = \emptyset \end{aligned} \right\} \implies A \times B = B \times A$$

و به همین قیاس اگر $B = \emptyset$ ، حکم ثابت می‌شود.

شرط کافی: حال فرض کنیم $A \times B = B \times A$ ، اگر $A = \emptyset$ یا $B = \emptyset$ که حکم ثابت است (زیرا حکم گزاره‌ای با ترکیب فصلی است) پس فرض می‌کنیم $A \neq \emptyset$ و $B \neq \emptyset$ و ثابت می‌کنیم که $A = B$ باید.

چون A و B ناتهی هستند لذا می‌توان x دلخواهی از A و y دلخواهی از B گرفته و ثابت می‌کنیم x در B و y در A بوده و برعکس.

$$(A \times B) = (B \times A)$$

$$[x \in A \wedge y \in B \iff (x, y) \in (A \times B) \iff$$

$$(x, y) \in (B \times A) \iff x \in B \wedge y \in A] \implies A = B$$

شرکت پذیری و جایابی

$$\Leftrightarrow (x \in A \wedge y \in B) \wedge (x \in A \wedge y \in C)$$

$$\Leftrightarrow (x, y) \in (A \times B) \wedge (x, y) \in (A \times C)$$

$$\Leftrightarrow (x, y) \in [(A \times B) \cap (A \times C)]$$

و چون روابط همگی دوطرفه هستند، تساوی برقرار است.

ج) $(x, y) \in [A \times (B - C)] \Leftrightarrow x \in A \wedge y \in (B - C)$

$$\Leftrightarrow x \in A \wedge (y \in B \wedge y \notin C)$$

$$\Leftrightarrow (x \in A \wedge x \in A) \wedge (y \in B \wedge y \notin C)$$

جایابی و شرکت پذیری

$$\Leftrightarrow (x \in A \wedge y \in B) \wedge (x \in A \wedge y \notin C)$$

$$\Leftrightarrow (x, y) \in (A \times B) \wedge (x, y) \notin (A \times C)$$

$$\Leftrightarrow (x, y) \in [(A \times B) - (A \times C)]$$

و چون روابط دوطرفه هستند، تساوی برقرار است.

مسئله ۷: اگر $A = \{x \in \mathbb{R} \mid 1 \leq x \leq 2\}$ و $B = \{4\}$ در این

صورت $(A \times B)$ چه شکلی را در صفحه مختصات دکارتی تولید می‌کند؟

حل:

$$A \times B = \{(x, y) \mid x \in A \wedge y \in B\}$$

$$= \{(x, y) \mid 1 \leq x \leq 2 \wedge y = 4\}$$

$$= \{(1, 4), \dots, (1/1, 4), (1/0.1, 4), \dots, (2, 4)\}$$

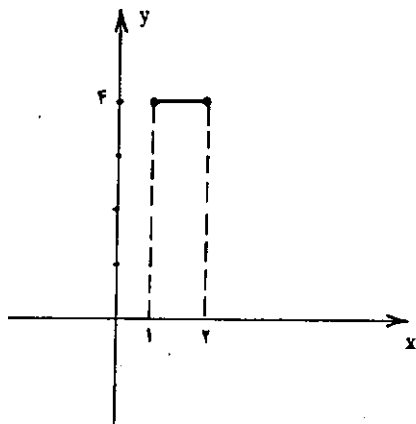
همان‌طور که مشاهده می‌شود مجموعه $(A \times B)$ شامل همه نقاطی از

صفحه مختصات دکارتی است که طول آن نقاط هر عدد حقیقی بین

۱ و ۲ می‌تواند باشد ولی عرض همه نقاط ثابت و برابر ۴ می‌باشد

پس شکل حاصل از وصل این بی‌نهایت نقطه به یکدیگر، پاره خطی

است به طول ۱ و به عرض ۴، از مبدأ، مطابق شکل زیر:



$$\begin{aligned} n[(A \cap B) \times \underbrace{(B \cap A)}_{(A \cap B)}] &= \forall n(A \times B) - n(A \cap B)^2 \\ &= \forall n(A \times B) - n(A \cap B) \times n(A \cap B) \\ &= \forall n(A \times B) - [n(A \cap B)]^2 \end{aligned}$$

مثال ۵: اگر $A = \{2, 4, 6, 8\}$ و $B = \{2, 6, 8, 9\}$ در این صورت:

$$\begin{aligned} n[(A \times B) \cup (B \times A)] &= \forall n(A \times B) - [n(A \cap B)]^2 \\ A \cap B = \{2, 6\} &\Rightarrow n(A \times B) \cup (B \times A) \\ &= (2 \times 16) - 2^2 = 28 \end{aligned}$$

مسئله ۵: هرگاه A و B هر دو زیرمجموعه‌های مجموعه مرجع M باشند ثابت کنید:

$$(A \times B)' = (A' \times B) \cup (A \times B') \cup (A' \times B')$$

اثبات:

با توجه به نکته ۴ و به روش عضوگیری داریم:

$$\begin{aligned} (x, y) \in (A \times B)' &\Leftrightarrow (x, y) \notin (A \times B) \\ &\Leftrightarrow (x \notin A \wedge y \in B) \vee (x \in A \wedge y \notin B) \vee (x \notin A \wedge y \notin B) \\ &\Leftrightarrow (x \in A' \wedge y \in B) \vee (x \in A \wedge y \in B') \vee (x \in A' \wedge y \in B') \\ &\Leftrightarrow (x, y) \in (A' \times B) \vee (x, y) \in (A \times B') \vee (x, y) \in (A' \times B') \\ &\Leftrightarrow (x, y) \in [(A' \times B) \cup (A \times B') \cup (A' \times B')] \end{aligned}$$

و چون عضو دلخواهی را از سمت چپ به سمت راست رسانیدیم و برعکس، بنابراین تساوی برقرار است و اثبات تمام است.

مسئله ۶: ثابت کنید برای هر ۳ مجموعه دلخواه مانند A و B و C داریم:

- الف) $A \times (B \cup C) = (A \times B) \cup (A \times C)$
- ب) $A \times (B \cap C) = (A \times B) \cap (A \times C)$
- ج) $A \times (B - C) = (A \times B) - (A \times C)$

اثبات:

قسمت (ب) و (ج) را اثبات کرده و (الف) را به عنوان تمرین به خواننده واگذار می‌کنیم:

ب) فرض می‌کنیم $(x, y) \in [A \times (B \cap C)] \Leftrightarrow x \in A \wedge y \in (B \cap C)$

$$\Leftrightarrow x \in A \wedge (y \in B \wedge y \in C)$$

چون همواره $P \wedge P \equiv P$ پس $(x \in A \wedge x \in A) \equiv x \in A$ ، بنابراین

$$\Leftrightarrow (x \in A \wedge x \in A) \wedge (y \in B \wedge y \in C)$$

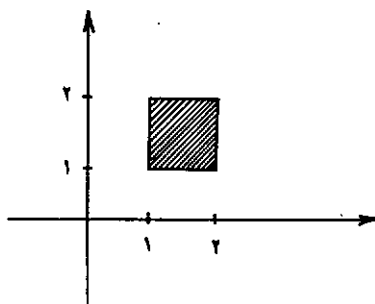
مسأله ۸: با توجه به مسأله ۷ نمودار $(A \times A)$ را مشخص کنید.

حل:

$$A = \{x \in \mathbb{R} \mid 1 \leq x \leq 2\}$$

$$\Rightarrow A \times A = \{(x, y) \mid 1 \leq x \leq 2 \wedge 1 \leq y \leq 2\}$$

در واقع $(A \times A)$ مجموعه نقاطی از صفحه است که طول و عرض این نقاط در داخل و روی مربعی به طول واحد و به شکل زیر، تغییر می‌کنند.



مسأله ۹: اگر $A \subseteq E$ و $B \subseteq E$ ثابت کنید:

$$(A \times E) \cap (E \times B) = (A \times B)$$

اثبات:


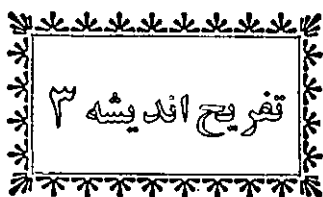
با توجه به مسأله ۴ داریم:

$$(A \times E) \cap (E \times B) = (A \cap E) \times (E \cap B) = A \times B$$

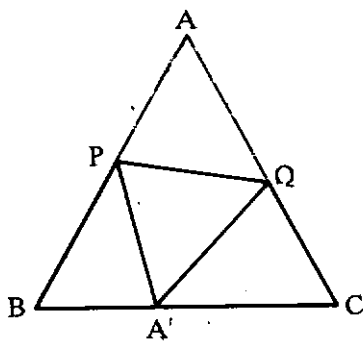
زیرا از $A \subseteq E$ نتیجه می‌گیریم $(A \cap E) = A$ و از $B \subseteq E$ نتیجه می‌شود $(E \cap B) = B$.

در شماره آینده مجله - اهن‌شاء... - راجع به رابطه‌ها و خواص رابطه‌ها نیز مطالبی خواهیم نوشت که امیدواریم مفید واقع شود.

والسلام

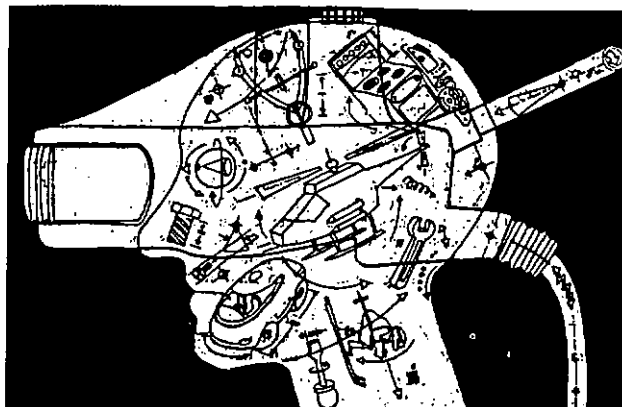


مثلث متساوی‌الاضلاع ABC را طوری تا کرده‌ایم که رأس A ی آن، چنان که در شکل نشان داده شده است، بر \overline{BC} قرار گرفته است. اگر $BA' = 1$ و $A'C = 2$ ، آنگاه طول خط \overline{PQ} ، چه قدر است؟



این که مردمی بی‌شعور قابلیت آن را دارند که بخوبی دستگاه‌های پیچ در پیچ صنعتی و فنی را بفهمند و آنها را به کار بیندازند، امری است که همیشه مایه شگفتی من بوده است، و از آن بیشتر تعجب می‌کنم که چرا این گونه مردم نمی‌توانند مسائل بسیار ساده را درک کنند.

تاریخ علم . جورج سارتن ، احمد آرام



طرح و حل مسائل اساسی

ریاضی به روشهای

مقدماتی (۹)

از کتاب:

Famous Problems

● ترجمه غلامرضا یاسی پور

مسأله دلیان و تثلیث زاویه

۱. قضیه کلی فصل پیشین^۱ را در مورد مسأله دلیان^۲، یعنی، مسأله تضعیف مکعب^۳ به کار می‌بریم. معادله این مسأله آشکارا به صورت زیر است:

$$x^3 = 2$$

این معادله تحویل‌ناپذیر است، زیرا در غیر این صورت $\sqrt[3]{2}$ دارای مقداری گویا خواهد شد. چه، معادله درجه سومی که تحویل‌پذیر است باید عامل خطی گویایی داشته باشد.

گذشته از این، درجه معادله به صورت 2^n نیست؛ در نتیجه، معادله مورد بحث نمی‌تواند به کمک ریشه‌های دوم حل شود، و ترسیم هندسی آن با خط کش نامدرج و پرگار ناممکن است.

۲. بعد به بررسی معادله عمومیتر

$$x^3 = \lambda$$

می‌پردازیم، که λ ی آن پارامتری را، که ممکن است مقداری مختلط به صورت $a + ib$ نیز باشد، نشان می‌دهد. این معادله عبارتهای تحلیلی مربوط به مسأله‌های هندسی تضعیف مکعب و تثلیث زاویه^۴ را به دست می‌دهد.

این سؤال مطرح می‌شود که این معادله تحویل‌پذیر است، یعنی، یکی از ریشه‌های آن می‌تواند به صورت تابعی گویا از λ بیان شود یا خیر.

باید خاطر نشان کرد که تحویل‌ناپذیری یک عبارت همواره به

مقادیر کمیتهایی بستگی دارد که طبق فرض معلومند.

در حالت $x^3 = 2$ ، با کمیتهای عددی سروکار داشتیم، و سؤال این بود که $\sqrt[3]{2}$ می‌تواند مقدار عددی گویایی را داشته باشد یا خیر.

در معادله $x^3 = \lambda$ می‌پرسیم که ریشه‌ای از آن می‌تواند با تابع گویایی از λ نمایش داده شود یا خیر. در حالت اول، حوزه موسوم به حوزه گویا بودن^۵ جامع مجموعه عددهای گویاست؛ در حالت دوم، از تابعهای گویای یک پارامتری تشکیل شده است.

اگر هیچ گونه محدودیتی بر این پارامتر قرار داده نشود بلافاصله ملاحظه می‌کنیم که هیچ عبارتی به صورت $\frac{\phi(\lambda)}{\psi(\lambda)}$ ، که $\phi(\lambda)$ و $\psi(\lambda)$ ی آن چند جمله‌ای‌اند، نمی‌تواند در معادله مان صدق کند.

بنابراین، معادله مورد بحث، تحت فرضمان، تحویل‌ناپذیر است، و از آن جا که درجه آن به صورت 2^n نیست، نمی‌تواند با استفاده از ریشه‌های دوم حل شود.

۳. اکنون تغییرپذیری λ را محدود می‌کنیم. فرض می‌کنیم:

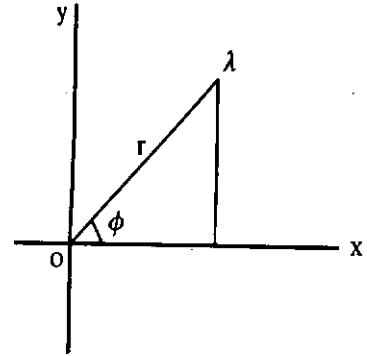
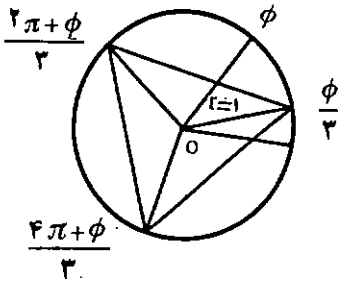
$$\lambda = r (\cos \phi + i \sin \phi)$$

و از آن

$$\sqrt[3]{\lambda} = \sqrt[3]{r} \sqrt{\cos \phi + i \sin \phi}$$

مسأله مان خود را به دو قسمت تجزیه می‌کند، به استخراج ریشه‌های سوم یک عددی حقیقی، نیز استخراج عددی مختلط به

صورت $\cos \phi + i \sin \phi$ ، که هر دو عدد به صورت دلخواه در نظر گرفته شده‌اند. دو حالت مزبور را به طور جداگانه مورد بررسی قرار می‌دهیم.



اگر این معادله تحویل پذیر باشد، حداقل، یکی از ریشه‌های آن می‌تواند به صورت تابعی گویا از $\cos \phi$ و $\sin \phi$ نمایش داده شود، در حالی که مقدار آن با قرار دادن $\phi + 2\pi$ به جای ϕ بی‌تغییر می‌ماند.

اما اگر تبدیل مورد بحث را، با تغییر پیوسته‌ای از زاویه ϕ ، انجام دهیم، ملاحظه می‌کنیم که ریشه‌های x_1 ، x_2 ، x_3 متحمل جایگشتی دوری می‌شوند.

در نتیجه هیچ یک از ریشه‌ها نمی‌تواند به صورت تابعی گویا از $\cos \phi$ و $\sin \phi$ نمایش داده شود. معادله تحت بررسی تحویل ناپذیر است و بنابراین نمی‌تواند به کمک تعدادی متناهی از ریشه‌های دوم حل شود. در نتیجه تثلث زاویه را نمی‌توان با خط کش نامدرج و پرگار انجام داد.

اثبات فوق و قضیه عمومی مورد بحث آشکارا تنها در حالتی که ϕ زاویه‌ای دلخواه است برقرارند؛ اما به ازای مقادیر خاصی از ϕ می‌توان اثبات کرد که ترسیم مورد نظر امکان پذیر است، فی‌المثل وقتی که، $\phi = \frac{\pi}{4}$.

یادداشتها

۱. این قضیه عبارت است از: اگر X ، کمیت مورد ترسیم، تنها به عبارات گویا و ریشه‌های دوم وابسته باشد، در این صورت ریشه معادله تحویل ناپذیر $\phi(x) = 0$ است، که درجه آن همواره توانی از ۲ است.

1. Delian Problem
2. duplication of the cube
3. تضعیف مکعب یعنی ساختن مکعبی که حجم آن دقیقاً دو برابر حجم مکعبی مفروض، و در حالت خاص مکعبی که طول ضلعش واحد باشد.
4. trisection of the angle
5. domain of rationality
6. De Moivre's formula
7. cyclic permutation

I. ریشه‌های معادله $x^3 = r$ عبارتند از:

$$\sqrt[3]{r}, \quad \varepsilon \sqrt[3]{r}, \quad \varepsilon^2 \sqrt[3]{r}$$

که توسط ε و ε^2 ریشه‌های سوم مختلط واحد:

$$\varepsilon = \frac{-1 + i\sqrt{3}}{2}, \quad \varepsilon^2 = \frac{-1 - i\sqrt{3}}{2}$$

نمایش داده شده‌اند.

با در نظر گرفتن مجموعه تابعهای گویای r به عنوان حوزه گویا بودن، بنا به استدلال پیشین می‌دانیم که $x^3 = r$ تحویل پذیر است. در نتیجه مسأله تضعیف مکعب، در حالت عمومی، ترسیم به کمک خط کش نامدرج و پرگار را نمی‌پذیرد.

$$x^3 = \cos \phi + i \sin \phi \quad \text{II. ریشه‌های معادله}$$

بنابه فرمول دوآور^۶ عبارتند از:

$$x_1 = \cos \frac{\phi}{3} + i \sin \frac{\phi}{3} \quad x_2 = \cos \frac{\phi + 2\pi}{3} + i \sin \frac{\phi + 2\pi}{3}$$

$$x_3 = \cos \frac{\phi + 4\pi}{3} + i \sin \frac{\phi + 4\pi}{3}$$

ریشه‌های مزبور از لحاظ هندسی توسط رأسهای مثلث متساوی‌الاضلاعی نمایش داده می‌شود که در دایره‌ای با شعاع واحد و مرکز در جای شکل مبدأ محاط است.

شکل بالا سمت چپ نشان می‌دهد که ریشه x_1 متناظر با آرگومان $\frac{\phi}{3}$ است.

$$x^3 = \cos \phi + i \sin \phi \quad \text{در نتیجه معادله:}$$

عبارت تحلیلی مسأله تثلث زاویه است.

ادامه گزارش بیست و پنجمین

کنفرانس ریاضی کشور

قسمت دوم

در سال ۱۳۲۷ با همکاری بعضی از فرهنگیان، گروه فرهنگی هدف را تأسیس کرد. کار این گروه تا بدان جا رسید که ۱۳ مدرسه روزانه پیدا کرد و تعداد دانش آموزانش متجاوز از ۱۴۰۰۰ نفر شد. از ۱۳۲۷ تا ۱۳۵۶ در گروه فرهنگی هدف به کار پرداخت و از آن پس به ویراستاری کتابهای دانشگاهی و غیر دانشگاهی مشغول است و در فرصتهای مناسب دست به تألیف و ترجمه نیز می‌زند.

استاد بیرشک در حال حاضر مسؤول اداره بنیاد دانشنامه بزرگ فارسی است. آثار ایشان عبارتند از: هشت جلد کتاب ریاضیات دبستانی، چهار و هشت جلد کتاب ریاضیات دبیرستانی، سه جلد کتاب ریاضیات دانشگاهی، و کتابهای ریاضیات عام دیگری از قبیل: ریاضیات نوین، فلسفه ریاضی، فرض و اسطوره در فیزیک، هندسه لباچفسکی، هندسه ناقلیدسی، ریاضیات نو برای معلمان، ریاضیات برای خانمها، و ...

● در شرح حال استاد دکتر علی الفضلی پور از قول خودشان چنین می‌خوانیم:

روز ۲۴ بهمن ۱۲۸۵ شمسی در تهران متولد شدم و در خرداد ۱۳۰۷ گواهینامه دوره دوم دبیرستان را با احراز رتبه اول به دست آوردم.

در مهرماه همان سال، پس از پذیرفته شدن در مسابقه، جزو نخستین گروه دانشجویان ایرانی، برای آموختن ریاضی، به پاریس رفتم.

روز ۲۳ دی ۱۳۱۴ شمسی رساله دکتری خود را در دمگرافی ریاضی گذرانیدم و نخستین دانشجوی ایرانی بودم که به افتخار درجه دکتری در ریاضی نائل شدم.

در این روز از پنج تن از پیشکوتان ریاضی کشور به نامهای استاد احمد بیرشک، استاد دکتر علی الفضلی پور، استاد دکتر اسدالله آل بویه، استاد دکتر بهمن بهری، استاد دکتر مهدی بهزاد تجلیلی شایسته و در خور به عمل آمد.

در جزوه تجلیل از پیشکوتان کنفرانس، که به همین مناسبت انتشار یافته است، با فرازهایی از زندگی استادان مزبور، که مختصری از آنها را در زیر آورده‌ایم، آشنا می‌شویم.

● استاد احمد بیرشک روز جمعه ۱۰ ذیحجه ۱۳۲۴ هجری قمری مقارن با ۴ بهمن ۱۲۸۵ هجری شمسی متولد شد. پدر وی عضو گمرک بود و همه عمر را در مرزهای کشور گذراند؛ به همین علت پسر خانواده نتوانست تحصیلات آموزشی منظمی به دست آورد و همین موجب کشیده شدنش به خودآموزی شد.

او دوره شش ساله دبیرستان را در دو سال و سه ماه (از تیر ۱۳۰۶ تا شهریور ۱۳۰۸) طی کرد و در شهریور ۱۳۰۸ در امتحان کلاس ششم قبول شد و در دارالمعلمین عالی ثبت نام کرد.

در ۱۳۱۱ در رشته ریاضی تحصیل را به پایان برد و وارد مشاغل دولتی شد. در ۱۳۱۵ به ریاست جامعه لیسانسیه‌های دانشسرای عالی رسید و در ۱۳۲۱ به دانشگاه منتقل شد. در این سال از طرف دکتر علی اکبر سیاسی، رئیس دانشگاه و وزیر فرهنگ به تشکیل و گرداندن اداره کارگزینی دانشگاه منصوب شد و تا ۱۳۳۴ در این شغل باقی ماند.

از ۱۳۲۴ تا ۱۳۴۲ در رشته معماری دانشکده هنرهای زیبای تهران، و نیز از ۱۳۲۷ تا ۱۳۳۹ در دانشسرای عالی به تعلیم ریاضی پرداخت، و به سال ۱۳۴۲ بازنشسته شد.

یک جلد هندسه دیفرانسیل شبکه‌های سطح (رساله دکتری ریاضی)، چهار جلد هندسه برای سالهای ۴ - ۱ دبیرستان، دو جلد هندسه برای سالهای ۵ و ۶ دبیرستان، یک جلد هندسه ترسیمی و رقومی برای سال ۶ دبیرستان، یک جلد هندسه عالی برای دانشجویان دوره لیسانس، دو جلد حسابهای هندسی برای دانشجویان دوره لیسانس و فوق لیسانس، یک جلد هندسه‌های گوناگون برای دانشجویان دوره فوق لیسانس، مقالات علمی و فلسفی. علاوه بر اینها استاد دارای دیوانهای شعر، موسوم به دیوان بویه، مجموعاً هشت دفتر، نیز هستند.

● استاد دکتر بهمن مهری در ۲۶ فروردین ۱۳۱۵ هجری شمسی در خانواده‌ای گیلانی در اصفهان متولد شد. دوره ابتدایی را در مدرسه عنصری رشت و دوره دوم را تا ششم متوسطه در دبیرستان البرز تهران در رشته ریاضی گذراند.

در سال ۱۳۳۶ شمسی مدرک لیسانس ریاضی و تعلیم و تربیت از دانشکده علوم ریاضی دانشگاه تهران دریافت کرد. به سال ۱۹۶۰ میلادی وارد دانشگاه مینه سوتا شده و به سال ۱۹۶۳ مدرک فوق لیسانس ریاضی خود را گرفت و بالاخره در سال ۱۹۶۷ با ارائه تری در زمینه معادلات دیفرانسیل درباره «Turning Point» از دانشگاه مدیسین و یسکانسین مدرک دکتری گرفت.

وی از سال ۱۳۴۵ شمسی تاکنون در دانشگاه صنعتی شریف به تدریس مشغول است. از مهمترین شاگردان ایشان؛ دکتر حسام‌الدین ارفعی و دکتر حصارکی (اساتید دانشگاه صنعتی شریف)، دکتر پرویز خواجه خلیلی (استاد یکی از دانشکده‌های آمریکا)، دکتر عشرت ارجمندی و دکتر قائم مقامی (استادان دانشگاه‌های کانادا) را می‌توان نام برد.

استاد مهری موفقیت‌های خود را همواره مدیون پرفسور تقی فاطمی، مرحوم دکتر محمد باقر هوشیار، و پرفسور رودین می‌داند. تاکنون چهار و پنج مقاله در مجلات ریاضی آمریکا، شوروی، مجارستان، ایتالیا، ایران، و ... به چاپ رسانده است. در «تئوری

کنترل» کار کرده است. استاد راهنمای نه نفر در تر فوق لیسانس بوده است، و در حال حاضر با دو دانشجوی دکتری مکانیک کار می‌کند.

پنجمین نفر از پیشکوتان ریاضی منتخب بیست و پنجمین کنفرانس ریاضی کشور استاد دکتر مهدی بهزاد متولد ۲ اردیبهشت ۱۳۱۵ شمسی است. زندگینامه استاد به‌طور خلاصه به‌صورت زیر است:

از بهمن ماه ۱۳۱۴ شمسی خدمت آموزشی خود را در دانشسرای عالی و دانشکده علوم دانشگاه در آن زمان نوبنیاد تهران آغاز کرد.

در سال ۱۳۲۶ شمسی بار دیگر به فرانسه رفت و دوره دو ساله استیتوی آمار دانشگاه پاریس را در یک سال گذراندید در خرداد ۱۳۲۷ دانشنامه تخصص در آمار را به‌دست آوردم.

در مهرماه ۱۳۱۶ شمسی تدریس درس نظریه احتمال و آمار و در مهر ماه ۱۳۱۷ شمسی تدریس درس نظریه آنالیز مختلط به من محول شد.

و بدین سان خدمات آموزشی من در دانشگاه تهران چهل و سه سال از ۱۳۱۴ تا ۱۳۵۳ شمسی ادامه داشته است.

استاد شش بار نماینده رسمی ایران در کنفرانسهای علمی بین‌المللی بوده و تاکنون بیست کتاب (۵۵۰۰ صفحه) به زبانهای فارسی، فرانسوی، و انگلیسی تألیف یا ترجمه کرده که برخی از آنها شامل پژوهشهای ابتکاری خود ایشان در رشته‌های گوناگون ریاضی بوده است.

سی و دو بار در کنفرانسهای علمی ملی و بین‌المللی به فارسی، فرانسوی، و انگلیسی سخنرانی کرده‌اند. در آذر ماه ۱۳۵۳ شمسی به اخذ نشان فرهنگی درجه اول از وزارت آموزش و پرورش نایل، و در بهمن ماه ۱۳۵۶ شمسی به‌عنوان استاد ممتاز دانشگاه تهران برگزیده شده‌اند.

● استاد دکتر اسدالله آل بویه متولد چهارم آبان ۱۲۸۷ شمسی در دیلمان گیلان است.

به سال ۱۳۰۷ شمسی گواهینامه متوسطه را دریافت کرد و در شهریور همان سال به فرانسه اعزام شد. از دانشکده علوم نانسی دانشنامه ریاضیات عمومی و دانشنامه محاسبات دیفرانسیل و انتگرال و دانشنامه مکانیک استدلالی به‌دست آورد. از همین دانشکده دانشنامه فوق لیسانس هندسه عالی و از دانشگاه سوربون (پاریس) دکتری علوم ریاضی را اخذ می‌کند.

در بهمن ۱۳۱۴ شمسی به ایران بازگشت و در فروردین ۱۳۱۵ شمسی با رتبه ۱ دانشیاری استخدام شد. استاد علاوه بر تدریس در دانشکده علوم و دانشسرای عالی و دانشکده فنی به خدمات اداری نیز پرداخت و چندی رئیس کل کارگزینی وزارت دارایی و مدیر کل دبیرخانه دانشگاه و معاون کل وزارت فرهنگ نیز بود. تألیفات علمی استاد عبارتند از:


استاد عضو هیأت تحریریه ژورنال نظریه گراف چاپ آمریکا، عضو هیأت تحریریه بولتن انجمن ریاضی ایران، مدیر مسؤول و ویراستار مجله نشر ریاضی، ویراستار کتابهای ریاضی نشر دانشگاهی، داور مقالات بسیار مجله‌های خارجی و ناقد مقالات بسیار نیز بوده است.

از جمله آثار ایشان عبارتند از: آشنایی با نظریه گرافها (چاپ آمریکا، ۱۹۷۲)، گرافها و دای گرافها (چاپ آمریکا، ۱۹۷۹)، بیش از سی مقاله اصیل ریاضی، ترجمه کتاب حساب دیفرانسیل و انتگرال لیتلهد، ترجمه کتاب حساب دیفرانسیل و انتگرال تامس - فینی، که کتاب برنده سال ۱۳۷۱ است. و به این ترتیب کار تجلیل از استادان پیشکسوت ریاضی به پایان می‌رسد.

تحصیلات: لیسانس ریاضی دانشگاه تربیت معلم (۱۳۳۹)، فوق لیسانس ریاضی دانشگاه ایالتی میشیگان آمریکا (۱۳۴۱)، دکترای ریاضی دانشگاه ایالتی میشیگان آمریکا (۱۳۴۴).


سوابق استخدامی: از مری دانشگاه تربیت معلم آغاز می‌شود و از استادیاری دانشگاه ایالتی وین و دانشیاری دانشگاه شیراز و میشیگان غربی و شهید بهشتی می‌گذرد و به استادی دانشگاه شریف می‌رسد. وی در حال حاضر استاد تمام وقت دانشگاه شهید بهشتی است.

سمت‌های اداری - علمی: دبیر انجمن ریاضی ایران، سرپرست دانشکده ریاضی و علوم کامپیوتر دانشگاه صنعتی شریف، دبیر کل فرهنگستان علوم ایران، قائم مقام و معاون آموزشی - پژوهشی دانشگاه مازندران، رئیس بخش علوم پایه شورای پژوهش‌های علمی کشور، عضو گروه ریاضی فرهنگستان زبان ایران.




شما خود می‌دانید که در ریاضیات تا چه اندازه با اصطلاحاتی از قبیل برهان خلف، شرط لازم، شرط کافی، و غیره سروکار داریم. البته، بدون فهمیدن این گونه مطالب نباید انتظار داشته باشید که ریاضیات را بفهمید، چه رسد به این که بتوانید شخصاً تصرفی در بازیهای ریاضی بکنید. کسی که از منطق بی‌بهره است بین استدلال و مغالطه و تعریف و قضیه و نظایر آنها تمیز نمی‌گذارد، و به آسانی فریب می‌خورد. به عنوان مثال؛ شاید شما کسانی را دیده‌اید که هنوز پس از تعریف کردن قوای طبیعی به وسیله ضرب، رابطه $a^0 = 1$ را برای شاگردان خود ثابت می‌کنند! اینها کسانی‌اند که تعریف عمل ضرب و تفاوت تعریف و قضیه را نمی‌فهمند.

آنانلیز ریاضی، غلامحسین مصاحب



در کشویی مخلوطی از جورابهای قرمز و آبی، حداکثر ۱۹۹۱ عدد کلاً داریم. چنین اتفاق افتاده است که هنگامی که ۲ جوراب به تصادف و بدون برگرداندن انتخاب می‌کنیم، احتمال این که هر دو قرمز یا هر دو آبی باشند، دقیقاً یک دوم است. بزرگترین تعداد ممکن جورابهای قرمز واقع در کشو چیست؟



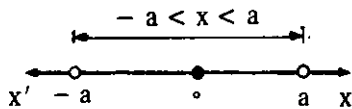
جواب در صفحه ۸۸

تعیین علامت عبارتهای جبری و حل نامعادلات و دستگاه توأم

(مورد استفاده دانش آموزان سال اول و دوم ریاضیات ۴ نظام جدید)

سید محمد رضا هاشمی موسوی

$$v) x^2 < a^2 \text{ و } a > 0 \implies -a < x < a$$

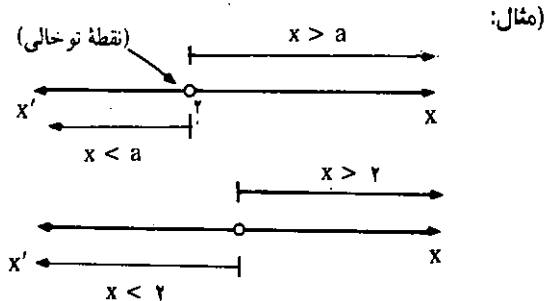
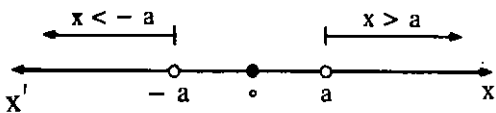


تعریف: هر رابطه با نماد « > » یا « < » در مجموعه عددهای حقیقی را یک نامساوی می‌نامیم. مانند: $b < a$ یا $a > b$.

نامساوی و محور اعداد

به طور کلی می‌نویسیم $x > a$ یا $x < a$ و در این صورت روی محور چنین نمایش می‌دهیم:

$$A) x^2 > a^2 \text{ و } a > 0 \implies x > a \text{ یا } x < -a$$



قوانین و خواص نامساویها

$$9) ab > 0 \implies (a > 0 \text{ و } b > 0) \text{ یا } (a < 0 \text{ و } b < 0)$$

$$10) ab < 0 \implies (a > 0 \text{ و } b < 0) \text{ یا } (a < 0 \text{ و } b > 0)$$

اگر a, b, c, d اعداد حقیقی دلخواهی باشند:

$$\forall a, b, c, d \in \mathbb{R}$$

$$11) a < b, \begin{cases} a > 0, b > 0 \implies \frac{1}{a} > \frac{1}{b} \\ a < 0, b < 0 \implies \frac{1}{a} > \frac{1}{b} \end{cases}$$

داریم:

$$1) a < b \text{ و } b < c \implies a < c$$

$$2) a < b \iff a \pm c < b \pm c$$

$$3) a < b, \begin{cases} c > 0 \implies ac < bc \text{ یا } \frac{a}{c} < \frac{b}{c} \\ c < 0 \implies ac > bc \text{ یا } \frac{a}{c} > \frac{b}{c} \end{cases}$$

$$4) a < b \text{ و } c < d \implies a + c < b + d$$

$$5) 0 < a < b \text{ و } 0 < c < d \implies ac < bd$$

$$6) |a| < |b| \implies a^2 < b^2$$

تعیین علامت دو جمله‌ای درجه اول

دو جمله‌ای درجه اول را به حالت عمومی $(ax + b)$ نمایش

مقادیر x	کوچکتر از $-\frac{b}{a}$	$-\frac{b}{a}$	بزرگتر از $-\frac{b}{a}$
علامت $ax+b$	مخالف علامت a		موافق علامت a

مثال ۱: عبارت $3x + 6$ را تعیین علامت کنید.

حل: ابتدا ریشه عبارت را به دست می آوریم:

$$3x + 6 = 0 \Rightarrow 3x = -6 \Rightarrow x = \frac{-6}{3} \Rightarrow x = -2$$

x	$-\infty$	-2	$+\infty$
$3x+6$	-	0	+

مثال ۲: عبارت $\frac{5x-10}{3-6x}$ را تعیین علامت کنید.

حل: ابتدا ریشه هر یک از عبارتهای صورت و مخرج را به دست می آوریم:

$$5x - 10 = 0 \Rightarrow 5x = 10 \Rightarrow x = \frac{10}{5} = 2 \Rightarrow x = 2$$

$$3 - 6x = 0 \Rightarrow -6x = -3 \Rightarrow x = \frac{-3}{-6} = \frac{1}{2} \Rightarrow x = \frac{1}{2}$$

x	$-\infty$	$\frac{1}{2}$	2	$+\infty$
$5x-10$	-	-	0	+
$-6x+3$	+	0	-	-
$\frac{5x-10}{3-6x}$	-	+	-	-

تعریف نشده

تعیین علامت عبارتهای متشکل از عاملهای درجه اول

اول

مثال ۳: عبارت $P = \frac{-x(3-6x)(x+1)}{(x-1)(2x-3)}$ را تعیین علامت کنید.

حل: برای تعیین عباراتی نظیر عبارت P ابتدا هر یک از عاملهای موجود را برابر صفر قرار می دهیم و ریشه هر کدام از عاملها را به دست می آوریم. سپس جدولی رسم می کنیم و در سطر اول آن مقادیر جوابهای به دست آمده را به ترتیب صعودی از چپ به راست

می دهیم. منظور از علامت دو جمله ای، تعیین مقادیری از x است که به ازای این مقادیر مقدار دو جمله ای مثبت یا منفی و در یک مورد صفر باشد.

مثال: برای دو جمله ای $(2x - 4)$ عددهای مختلف را طبق جدول زیر به x نسبت داده ایم و نظیر هر کدام از آنها را برای عبارت فوق حساب کرده ایم:

x	-4	-2	-2	-1	0	1	2	3	4	5
$2x - 4$	-12	-10	-8	-6	-4	-2	0	2	4	6

از این مثال متوجه می شویم که برای تعیین علامت یک دو جمله ای کافی است دو جمله ای را برابر صفر قرار دهیم، در این صورت با به دست آوردن ریشه دو جمله ای (مقداری که عبارت را صفر می کند) مرز مقادیر منفی و مثبت دو جمله ای مورد نظر به دست خواهد آمد. در نتیجه به ازای مقادیر بزرگتر از ریشه (مرز) دو جمله ای علامتش مثبت و به ازای مقادیر کوچکتر از ریشه، علامت دو جمله ای مفروض منفی خواهد بود. به طور کلی علامت دو جمله ای $(ax + b)$ در دو حالت $a > 0$ و $a < 0$ چنین است:

$$ax + b = 0 \Rightarrow x = \frac{-b}{a}$$

$a > 0$:

x	$-\infty$	$\frac{-b}{a}$	$+\infty$
$ax+b$	-	0	+
		(مخالف علامت a)	(موافق علامت a)

$a < 0$:

x	$-\infty$	$\frac{-b}{a}$	$+\infty$
$ax+b$	+	0	-
	(مخالف علامت a)		(موافق علامت a)

به طور کلی اگر دو جمله ای $(ax + b)$ را به صورت زیر بنویسیم:

$$ax + b = a \left(x + \frac{b}{a} \right) = a \left[x - \left(-\frac{b}{a} \right) \right]$$

ملاحظه می شود که برای $x > -\frac{b}{a}$ مقدار داخل کرشه مثبت و در این صورت علامت دو جمله ای با علامت a یکی بوده و اصطلاحاً گوئیم علامت دو جمله ای موافق علامت a است. برای $x < -\frac{b}{a}$ مقدار داخل کرشه منفی است و در این صورت علامت دو جمله ای مخالف با علامت a است. بنابراین به طور خلاصه داریم:

است که در دامنه معینی از متغیر یا متغیرها، مجموعه جواب نامعادله تهی باشد. اگر برای نامعادله‌ای دامنه متغیر مشخص نشده باشد، دامنه آن را مجموعه عددهای حقیقی (IR) اختیار می‌کنیم. نامعادله را یک مجهولی یا یک متغیری درجه اول گوئیم هرگاه پس از اختصار لازم به یکی از صورتهای زیر برسیم:

$$ax + b \leq 0 \text{ یا } ax + b < 0 \text{ یا } ax + b \geq 0 \text{ یا } ax + b > 0$$

(در نامعادلات اخیر x متغیر و a و b پارامترهای حقیقی می‌باشند.)

حل نامعادله یک مجهولی درجه اول

در حالت کلی نامعادله درجه اول را به شکل $ax + b > 0$ یا $ax + b < 0$ در نظر می‌گیریم. حل یک نامعادله در واقع به دست آوردن مجموعه جواب آن نامعادله است که ممکن است مجموعه جواب آن دارای هیچ و یا تعداد محدودی و یا بی‌شمار عضو داشته باشد. به‌طور کلی حل نامعادلات فوق چنین است:

$$ax + b < 0 \Rightarrow ax + b - b < -b \Rightarrow ax < -b$$

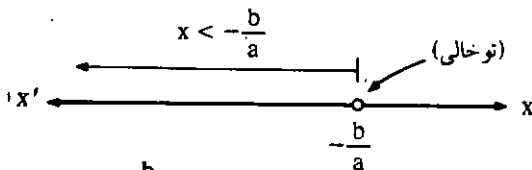
$$ax < -b, \begin{cases} a > 0 \Rightarrow x < -\frac{b}{a} \\ a < 0 \Rightarrow x > -\frac{b}{a} \end{cases}$$

$$a > 0: \{x \mid x < -\frac{b}{a}\} \text{ (مجموعه جواب)}$$

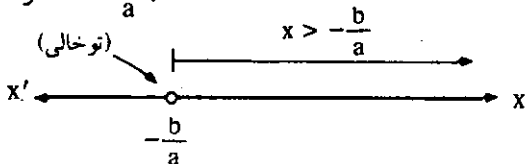
$$a < 0: \{x \mid x > -\frac{b}{a}\} \text{ (مجموعه جواب)}$$

نمایش مجموعه جواب روی محور اعداد

$$a > 0 \text{ و } x < -\frac{b}{a}:$$



$$a < 0 \text{ و } x > -\frac{b}{a}:$$



تبره: اگر نامعادله دارای مساوی باشد خود ریشه نیز جزو مجموعه جواب است و در این صورت نقطه را روی محور توپر نمایش

می‌نویسیم و در هر یک از سطرهای دیگر آن علامت یکی از عاملهای عبارت P را تعیین می‌کنیم. در آخر علامت P برای هر فاصله عددی از ضرب علامتهای واقع در ستون نظیر آن به دست می‌آید.

$$x + 1 = 0 \Rightarrow x = -1$$

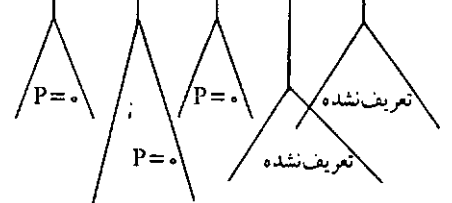
$$-x = 0 \Rightarrow x = 0$$

$$3 - 6x = 0 \Rightarrow x = \frac{1}{2}$$

$$x - 1 = 0 \Rightarrow x = 1$$

$$2x - 3 = 0 \Rightarrow x = \frac{3}{2}$$

x	$-\infty$	-1	0	$\frac{1}{2}$	1	$\frac{3}{2}$	$+\infty$
$x+1$		-	+	+	+	+	+
$-x$		+	+	-	-	-	-
$3-6x$		+	+	+	-	-	-
$x-1$		-	-	-	-	+	+
$2x-3$		-	-	-	-	-	+
P		-	+	-	+	-	+



توجه: از آنجا که به ازای ریشه‌های مخرج عبارت P بی‌معنی است، بنابراین لازم است که در جدول ریشه‌های مخرج را تعریف نشده تلقی کنیم.

* تعیین علامت عبارت‌ها کاربردهای بسیاری دارد که از آن جمله می‌توان حل نامعادلات را نام برد که در اینجا به حل و بحث نامعادلات می‌پردازیم.

نامعادلات

نامعادله: گزاره‌نمایی است به صورت نامساوی بین دو عبارت جبری شامل یک یا چند متغیر. مجموعه جواب نامعادله، مجموعه مقادیری است که در ازای آنها نامعادله به گزاره درست تبدیل می‌شود. ممکن

مثال ۶: نامعادله زیر را حل کنید:

$$\frac{-x(x+2)}{(x+1)(3x-6)} \geq 0$$

حل: طرف اول نامعادله را با P نمایش می‌دهیم:

$$P = \frac{-x(x+2)}{(x+1)(3x-6)}$$

اینک برای حل نامعادله کافی است عبارت P را تعیین علامت کنیم.

$$x+2=0 \Rightarrow x=-2, \quad -x=0 \Rightarrow x=0$$

$$x+1=0 \Rightarrow x=-1, \quad 3x-6=0 \Rightarrow x=2$$

x	$-\infty$	-2	-1	0	2	$+\infty$
x+2	-	0	+	+	+	+
x+1	-	-	0	+	+	+
-x	+	+	+	0	-	-
3x-6	-	-	-	-	0	+
P ≥ 0	///	+	///	+	///	///

تعریف نشده تعریف نشده

توجه: قسمت هاشورخورده جزو جواب نیست.

با توجه به جدول و علامت نامعادله $P \geq 0$ مجموعه جواب را تعیین می‌کنیم:

$$P \geq 0 \Rightarrow \text{مجموعه جواب} = \{x \mid -2 \leq x < -1 \text{ یا } 0 \leq x < 2\}$$

مثال ۷: نامعادله زیر را حل کنید:

$$\frac{2(x-3)}{x} < \frac{-3}{x}$$

حل: ابتدا عبارت سمت راست نامعادله را به سمت چپ آن (با تغییر علامت) می‌آوریم و پس از اختصار لازم طرف چپ را با P نمایش می‌دهیم و برای حل نامعادله کافی است عبارت P را تعیین علامت کنیم:

$$\frac{2(x-3)}{x} + \frac{3}{x} < 0 \Rightarrow \frac{2x-6+3}{x} < 0 \Rightarrow \frac{2x-3}{x} < 0$$

می‌دهیم.

مثال ۴: نامعادله زیر را حل کنید و مجموعه جواب آن را روی محور اعداد نمایش دهید:

$$5(2x+3)^2 > 4(\sqrt{5}x-2)^2$$

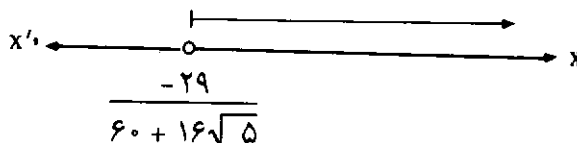
$$5(4x^2 + 12x + 9) > 4(5x^2 - 4\sqrt{5}x + 4) \quad \text{حل:}$$

$$\Rightarrow 60x + 45 > -16\sqrt{5}x + 16$$

$$\Rightarrow (60 + 16\sqrt{5})x > 16 - 45 \Rightarrow x > \frac{-29}{60 + 16\sqrt{5}}$$

$$\text{مجموعه جواب} = \left\{ x \mid x > \frac{-29}{60 + 16\sqrt{5}} \right\}$$

نمایش هندسی:



مثال ۵: نامعادله زیر را حل کنید و نمودار هندسی مجموعه جواب آن را رسم کنید:

$$\frac{5+2x}{3} \leq \frac{-3x+1}{2}$$

حل: برای حل نامعادله ابتدا طرفین نامعادله را در کوچکترین مضرب مشترک مخارج کسرها ضرب می‌کنیم و سپس مجهولات را به یک طرف و معلومات را به طرف دیگر (با تعویض علامت آنان) می‌بریم و از آنجا x را محاسبه می‌کنیم:

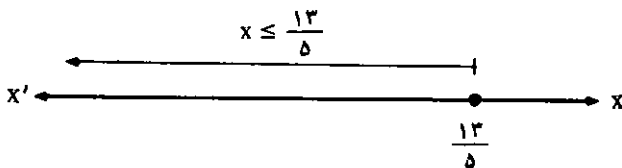
$$-2(5+2x) \leq 3(-3x+1)$$

$$\Rightarrow -10 - 4x \leq -9x + 3 \Rightarrow -4x + 9x \leq 3 + 10$$

$$\Rightarrow 5x \leq 13 \Rightarrow x \leq \frac{13}{5}$$

$$\text{مجموعه جواب} = \left\{ x \mid x \leq \frac{13}{5} \right\}$$

نمودار هندسی:



حل: ابتدا ریشه‌های معادله $P = 0$ را تعیین می‌کنیم:

$$x^2 - 3x + 2 = 0 \Rightarrow (x - 1)(x - 2) = 0 \Rightarrow \begin{cases} x = 1 \\ \text{یا} \\ x = 2 \end{cases}$$

اینک جدول تعیین علامت:

x	$-\infty$	1	2	$+\infty$
$P = x^2 - 3x + 2$	+	-	+	

بنابراین علامت P بین دو ریشه (مخالف علامت 1) منفی است.

مثال ۹: نامعادله $P = \frac{-x^2(x^2 - 1)}{x^2 + x + 1} \geq 0$ را حل کنید.

حل: ابتدا ریشه تمام عاملهای صورت و عبارت مخرج را در صورت وجود به دست می‌آوریم و سپس جدول تعیین علامت عبارت P را رسم می‌کنیم:

$-x^2 = 0 \Rightarrow \Delta = 0$ و $x = 0$ (ریشه مضاعف صفر)

$x^2 - 1 = 0 \Rightarrow \Delta > 0$ و $x = \pm 1$

$x^2 + x + 1 = 0 \Rightarrow \Delta < 0$

x	$-\infty$	-1	0	1	$+\infty$
$-x^2$	-	-	0	-	-
$x^2 - 1$	+	0	-	-	+
$x^2 + x + 1$	+	+	+	+	+
$P \geq 0$	///	+	+	+	///

جواب

$P \geq 0 \Rightarrow$ مجموعه جواب $= \{x \mid -1 \leq x \leq 1\}$

حل دستگاه نامعادلات (نامعادلات مضاعف یا توأم)

نامعادلات توأم عبارت است از دو یا چند نامعادله که باید در عین حال به ازای مقادیر مشترکی از مجهول برقرار باشند.

برای حل نامعادلات توأم کافی است هر یک را جداگانه حل کنیم و جوابهای مشترک را بین همگی آنها به دست آوریم. مجموعه جواب دو یا چند نامعادله توأم عبارت است از اشتراک مجموعه‌های جواب هر یک از آنها، به عبارت دیگر مجموعه جواب مجموعه‌ای است که برای تمام نامعادلات دستگاه صادق می‌باشد.

x	$-\infty$	0	$\frac{3}{2}$	$+\infty$
$2x - 3$	-	-	0	+
x	-	+	+	+
$P < 0$	///	+	-	///

تعریف نشده

$P < 0 \Rightarrow$ مجموعه جواب $= \{x \mid 0 < x < \frac{3}{2}\}$

توجه: قسمت هاشورخورده جزو جواب نیست.

تعیین علامت سه جمله‌ای درجه دوم $(P = ax^2 + bx + c)$ ابتدا عبارت درجه دوم را به شکل زیر می‌نویسیم:

$$P = a(x^2 + \frac{b}{a}x + \frac{c}{a})$$

$$= a \left[x^2 + \frac{b}{a}x + \frac{b^2}{4a^2} - \frac{b^2}{4a^2} + \frac{c}{a} \right]$$

$$= a \left[\left(x + \frac{b}{2a} \right)^2 - \frac{b^2 - 4ac}{4a^2} \right]$$

در اینجا اگر عبارت $\Delta = b^2 - 4ac$ منفی یا برابر صفر باشد، بدیهی است که علامت P همعلامت a می‌باشد. زیرا داخل کروشه در حالت $\Delta < 0$ همواره مثبت و در حالت $\Delta = 0$ $(x = -\frac{b}{2a})$ صفر می‌شود. بنابراین P^2 در حالت $\Delta < 0$ همعلامت a و در حالت $\Delta = 0$ برابر صفر می‌باشد. در حالتی که $\Delta > 0$ باشد سه جمله‌ای، دو ریشه حقیقی متمایز دارد که در این حالت می‌توان نوشت:

$$P = a \left[\left(x + \frac{b - \sqrt{\Delta}}{2a} \right) \left(x + \frac{b + \sqrt{\Delta}}{2a} \right) \right]$$

در این صورت با تشکیل جدول نتیجه می‌شود که علامت P همواره بین دو ریشه مخالف علامت a است و به ازای مقادیر حقیقی x خارج دو ریشه موافق علامت a می‌باشد.

مثال ۸: عبارت درجه دوم $P = x^2 - 3x + 2$ را تعیین علامت کنید.

نامعادلات و قدر مطلق

می دانیم که قدر مطلق عدد حقیقی a عبارت است از $|a|$ به قسمی که:

$$|a| = \begin{cases} a & a \geq 0 \\ -a & a < 0 \end{cases}$$

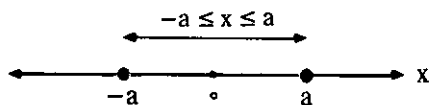
مثلاً: $|5| = 5$ و $|\pm 3| = 3$ و $|\pi| = \pi$ و ...

$$\dots \text{ و } |\sqrt{2}| = \sqrt{2} \text{ و } |-\sqrt{2}| = \sqrt{2} \text{ و } \sqrt{\left(-\frac{3}{2}\right)^2} = \left|-\frac{3}{2}\right| = \frac{3}{2}$$

بنابراین معادله‌ای مثل $|x| = a$ هم‌ارز است با:

$$x = \pm a \text{ (مجموعه نقاط)} \iff \begin{cases} x \geq 0 \\ x = a \end{cases} \text{ یا } \begin{cases} x < 0 \\ x = -a \end{cases}$$

نمایش $|x| \leq a$ چنین است:



به‌طور کلی حل هر معادله و یا نامعادله شامل قدر مطلق مجهول به حل دو یا چند دستگاه از معادله‌ها و نامعادله‌ها تبدیل می‌شود.

مثال ۱۲: معادله $|x - 4| = 3x - 1$ را حل کنید.

حل: برای حل معادله فوق دو حالت در نظر می‌گیریم:

$$(1): \begin{cases} x - 4 \geq 0 \\ 3x - (x - 4) = 1 \end{cases} \text{ یا } (2): \begin{cases} x - 4 < 0 \\ 3x + (x - 4) = 1 \end{cases}$$

پس از اختصار لازم داریم:

$$(1): \begin{cases} x \geq 4 \\ x = -\frac{3}{2} \end{cases} \text{ یا } (2): \begin{cases} x < 4 \\ x = \frac{5}{4} \end{cases}$$

$$(1) \text{ مجموعه جواب } = \{x \mid x \geq 4 \text{ و } x = -\frac{3}{2}\} = \emptyset$$

$$(2) \text{ مجموعه جواب } = \{x \mid x < 4 \text{ و } x = \frac{5}{4}\} = \left\{\frac{5}{4}\right\}$$

$$\text{مجموعه جواب معادله} = \left\{\frac{5}{4}\right\} \cup \emptyset = \left\{\frac{5}{4}\right\}$$

بنابراین تنها جواب معادله $x = \frac{5}{4}$ است.

مثال ۱۳: نامعادله $|x - 2| \leq 1$ را حل کنید.

حل: مانند مثال قبل (۱۱) برای حل نامعادله مفروض کافی است دو

مثال ۱۰: دستگاه دو نامعادله توأم زیر را حل کنید.

$$\begin{cases} 5x - 3 > 2x + 3 \\ 3 - 4x < 1 \end{cases}$$

حل:

$$\begin{cases} 5x - 3 > 2x + 3 \\ 3 - 4x < 1 \end{cases} \Rightarrow \begin{cases} 5x - 2x > 3 + 3 \\ -4x < 1 - 3 \end{cases}$$

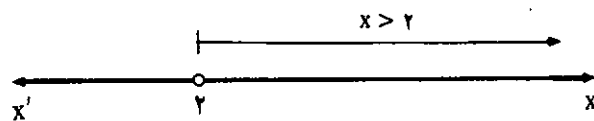
$$\Rightarrow \begin{cases} 3x > 6 \\ -4x < -2 \end{cases} \Rightarrow \begin{cases} x > \frac{6}{3} \\ x > \frac{-2}{-4} \end{cases} \Rightarrow \begin{cases} x > 2 & (1) \\ x > \frac{1}{2} & (2) \end{cases}$$

مجموعه جواب نامعادله (۱) عبارت است از: $\{x \in \mathbb{R} \mid x > 2\}$

مجموعه جواب نامعادله (۲) عبارت است از: $\{x \in \mathbb{R} \mid x > \frac{1}{2}\}$

مجموعه جواب دستگاه مفروض اشتراک دو مجموعه فوق است:

$$\text{مجموعه جواب دستگاه} = \{x \in \mathbb{R} \mid x > 2\}$$



مثال ۱۱: دستگاه زیر را حل کنید:

$$\begin{cases} \frac{2x-1}{3} + \frac{x-3}{2} < \frac{3x-2}{6} & (1) \\ \frac{x+1}{2} - \frac{3x+2}{3} < \frac{x-1}{4} & (2) \end{cases}$$

حل: ابتدا طرفین نامعادله (۱) را در ۶ و طرفین نامعادله (۲) را در ۱۲ ضرب می‌کنیم:

$$\begin{cases} 2(2x-1) + 3(x-3) < 3x-2 \\ 6(x+1) - 4(3x+2) < 3(x-1) \end{cases}$$

$$\Rightarrow \begin{cases} 4x-2+3x-9-3x+2 < 0 \\ 6x+6-12x-8-3x+3 < 0 \end{cases} \Rightarrow \begin{cases} 4x < 9 \\ -9x < -1 \end{cases}$$

$$\Rightarrow \begin{cases} x < \frac{9}{4} \\ x > \frac{1}{9} \end{cases} \Rightarrow \text{مجموعه جواب دستگاه} = \left\{x \mid \frac{1}{9} < x < \frac{9}{4}\right\}$$

حالت در نظر بگیریم:

$$\Rightarrow \begin{cases} -2 \leq x \leq 2 \\ x \geq 2 \text{ یا } x \leq -2 \end{cases} \quad \Rightarrow \quad (\text{از اشتراک مجموعه جوابها})$$

$$\text{مجموعه جواب} = \{-2 \text{ و } 2\}$$

بنابراین عبارت $P(x)$ فقط به ازای $x = -2$ و $x = 2$ تعریف شده است.

مثال ۱۵: عبارت $\sqrt[5]{x^2 - 8} + \sqrt[5]{32 - 2x^2}$ ازای چه مقادیری از x معین است.

حل: عبارت مفروض را می توان چنین نوشت:

$$\sqrt[5]{x^2 - 8} + \sqrt[5]{32 - 2x^2}$$

بنابراین عبارت فوق وقتی تعریف شده و معین است که زیر رادیکالهای با فرجه زوج مثبت یا صفر باشد:

$$\begin{cases} x^2 - 8 \geq 0 \\ 32 - 2x^2 \geq 0 \end{cases} \Rightarrow \begin{cases} x^2 \geq 8 \\ 2x^2 \leq 32 \end{cases} \Rightarrow \begin{cases} x \geq 2 \\ x^2 \leq 16 \Rightarrow -4 \leq x \leq 4 \end{cases}$$

بنابراین از اشتراک مجموعه جوابهای نامعادلات دستگاه داریم:

$$\text{مجموعه جواب} = \{x \mid 2 \leq x \leq 4\}$$

$$(1): \begin{cases} x - 2 \geq 0 \\ x - 2 \leq 1 \end{cases} \quad \text{یا} \quad (2): \begin{cases} x - 2 < 0 \\ -(x - 2) \leq 1 \end{cases}$$

پس از اختصار لازم داریم:

$$(1): \begin{cases} x \geq 2 \\ x \leq 3 \end{cases} \quad \text{یا} \quad (2): \begin{cases} x < 2 \\ x \geq 1 \end{cases}$$

$$(1) \text{ مجموعه جواب} = \{x \mid 2 \leq x \leq 3\}$$


$$(2) \text{ مجموعه جواب} = \{x \mid 1 \leq x < 2\}$$

$$\begin{aligned} \text{مجموعه جواب نامعادله} &= \{x \mid 1 \leq x < 2 \text{ یا } 2 \leq x \leq 3\} \\ &= \{x \mid 1 \leq x \leq 3\} \end{aligned}$$

مثال ۱۴: عبارت $P(x) = \sqrt{4 - x^2} + \sqrt{x^2 - 4}$ به ازای چه مقادیری از x تعریف شده است.

حل: می دانیم زیر رادیکال با فرجه زوج همواره باید مثبت یا صفر باشد بنابراین داریم:

$$\begin{cases} 4 - x^2 \geq 0 \\ x^2 - 4 \geq 0 \end{cases} \Rightarrow \begin{cases} x^2 \leq 4 \\ x^2 \geq 4 \end{cases}$$



یکی از مفاهیم اساسی علوم ریاضی مفهوم عدد است که ساده ترین صورت آن را انسان باستانی هم می توانسته است تصور کند. شاید نخستین ریاضی دان - که بزرگترین نابغه ناشناخته است - کسی است که این فکر و مفهوم را طرح ریخته.

تاریخ علم . جورج سارتن ، احمد آرام



مقالات کوتاه از مجلات

ریاضی معتبر جهان (۹)

William . Watkins and Joel Zeitlin

ترجمه غلامرضا یاسی پور

Polynomial، $T_s(x)$ ، سروکار دارند که به ازای عددهای صحیح

و مثبت S و جمیع عددهای حقیقی θ ، با

$$T_s(\cos \theta) = \cos(s\theta)$$

تعریف می‌شوند. درجه $T_s(x)$ برابر S و ضریب اصلی مربوطه 2^{s-1} است.

قضیه: فرض می‌کنیم $\psi_n(x)$ چند جمله‌ای مینیمال $\cos(2\pi/n)$ باشد و $T_s(x)$ چند جمله‌ای چیشف را نمایش دهد.

(a) اگر $n = 2s + 1$ فرد باشد، آنگاه

$$T_{s+1}(x) - T_s(x) = 2^s \prod_{d|n} \Psi_d(x) \quad (2)$$

و

(b) اگر $n = 2s$ زوج باشد، آنگاه

$$T_{s+1}(x) - T_{s-1}(x) = 2^s \prod_{d|n} \Psi_d(x) \quad (3)$$

پیش از اثبات قضیه فوق، نشان می‌دهیم که چگونه از (۲) و (۳)

می‌توان به همان طریقی که اتحاد (۱) در محاسبه $\phi_n(x)$ به کار رفته

است، در محاسبه $\psi_n(x)$ استفاده کرد. به عنوان مثال؛ در محاسبه

$\psi_8(x)$ (چند جمله‌ای مینیمال $\cos(2\pi/8)$)، در معادله (۲)، با

فرض $S = 4$ و بعد $S = 1$ ، به دست می‌آوریم:

$$T_5(x) - T_4(x) = 16 \psi_1(x) \psi_2(x) \psi_4(x)$$

و:

$$T_4(x) - T_1(x) = 2 \psi_1(x) \psi_2(x)$$

در این صورت:

$$8 \psi_4(x) = \frac{T_5(x) - T_4(x)}{T_4(x) - T_1(x)}$$

محاسبه چهار چند جمله‌ای چیشف فوق آسان است. به عنوان مثال:

چند جمله‌ای مینیمال $\cos(2\pi/n)$

نتیجه‌ای قدیمی است که ریشه n ام اولیه واحد، یعنی،

$$\zeta_n = \cos(2\pi/n) + i \sin(2\pi/n)$$

در چند جمله‌ای گویایی از درجه $\phi(n)$ تعداد عددهای صحیح بین ۱ و n که نسبت به n اولند، صدق می‌کند.

معمولترین طریق محاسبه چند جمله‌ای مینیمال ζ_n موسوم به چند جمله‌ای دایره بڑی «Cyclotomic Polynomial» و نمایش داده شده به $(\phi_n(x))$ از اتحاد:

$$x^n - 1 = \prod_{d|n} \phi_d(x) \quad (1)$$

استفاده می‌کند. در این صورت، به عنوان مثال؛ $\phi_4(x)$ را می‌توان به طریق آشنای زیر محاسبه کرد:

$$x^4 - 1 = \phi_1(x) \phi_2(x) \phi_4(x) \quad x^2 - 1 = \phi_1(x) \phi_2(x)$$

بنابراین:

$$\phi_4(x) = \frac{x^4 - 1}{x^2 - 1} = x^2 + 1$$

اکنون قسمتهای حقیقی و انگاری ζ_n را در نظر می‌گیریم؛ یعنی

$\cos(2\pi/n)$ و $\sin(2\pi/n)$ را. اینها نیز عددهایی جبری هستند، اما

چگونه می‌توان چند جمله‌ایهای مینیمال آنها را محاسبه کرد؟

در ۱۹۳۳ لیمر «D.H. Lehmer» [Leh] و [Niv] با استفاده از

چند جمله‌ایهای دایره‌بری روشی را برای محاسبه این چند جمله‌ایهای

مینیمال مشخص کرد.

در این مقاله، اتحادهایی مشابه (۱)، برای چند جمله‌ای مینیمال

$\psi_n(x)$ از $\cos(2\pi/n)$ ارائه می‌دهیم، که روشی دیگر در محاسبه

$\psi_n(x)$ به دست می‌دهد.

اتحادهای مزبور با چند جمله‌ایهای چیشف «Chebychev»

$$Q(\xi_n) \supseteq Q(\cos(\pi/n)) \supseteq Q$$

برای محاسبه درجه بسط $Q(\cos(\pi/n))$ روی Q ،
ملاحظه می‌کنیم که

$$[Q(\xi_n) : Q] = \phi(n)$$

و:

$$[Q(\xi_n) : Q(\cos(\pi/n))] = ۱ \text{ یا } ۲$$

زیرا ξ_n ریشه‌ای از چند جمله‌ای درجه دوم زیر است:

$$x^2 - (2\cos(\pi/n))x + 1$$

اکنون اگر $n \geq 3$ ، ξ_n حقیقی نیست و بنابراین:

$$[Q(\xi_n) : Q(\cos(\pi/n))] = ۲$$

به این ترتیب داریم:

$$\deg \Psi_n(x) = \begin{cases} ۱ & n = ۱, ۲ \text{ اگر} \\ \phi(n)/۲ & n \geq ۳ \text{ اگر} \end{cases}$$

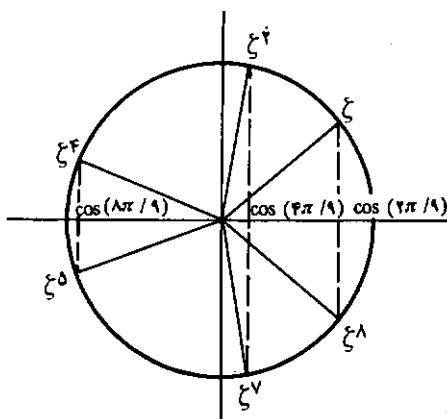
(درجه = deg)

برای پیشرفت بیشتر، نیاز به یافتن جميع ریشه‌های $\psi_n(x)$ ، یعنی، مزدوجهای $\cos(\pi/n)$ داریم. $\cos(\pi/n)$ به ازای $n = ۱, ۲, ۳, ۴, ۶$ گویا و بنابراین $\psi_n(x)$ خطی است و دقیقاً یک ریشه دارد.

اما به ازای مقدارهای دیگر n ، $\phi(n)/۲ \geq ۲$ و به این ترتیب $\psi_n(x)$ بیش از یک ریشه دارد. این ریشه‌ها کدام هستند؟ برای به دست دادن مثالی خاص، ریشه‌های چند جمله‌ای درجه سوم زیر کدام هستند؟

$$۸\psi_9(x) = ۸x^3 - 6x + 1$$

البته ریشه‌های $\phi^9(x)$ عبارت است از آن که در آن $\xi^9 = \xi$.



$$\begin{aligned} T_5(\cos\theta) &= \cos(5\theta) \\ &= \operatorname{Re} \left[(\cos\theta + i\sin\theta)^5 \right] \quad (\operatorname{Re} = \text{قسمت اصلی}) \\ &= \cos^5\theta - 10\cos^3\theta\sin^2\theta + 5\cos\theta\sin^4\theta \\ &= \cos^5\theta - 10\cos^3\theta(1 - \cos^2\theta) + 5\cos\theta(1 - \cos^2\theta)^2 \\ &= 16\cos^5\theta - 20\cos^3\theta + 5\cos\theta \end{aligned}$$

بنابراین:

$$T_5(x) = 16x^5 - 20x^3 + 5x$$

به همین ترتیب:

$$T_3(x) = 4x^3 - 3x$$

$$T_2(x) = 2x^2 - 1$$

و:

$$T_1(x) = x$$

به این ترتیب:

$$۸\psi_9(x) = \frac{T_5(x) - T_3(x)}{T_2(x) - T_1(x)} = ۸x^3 - 6x + 1$$

در ضمن قضیه مورد نظر بر این است که یا:

$$T_{s+1}(x) - T_{s-1}(x) \quad \text{یا} \quad T_{s+1}(x) - T_s(x)$$

(بسته به این که n فرد یا زوج باشد) به ازای $\cos(\pi/n)$ چند جمله‌ای گویایی نیست شونده است. اما، چند جمله‌ای نیست شونده آشکارتری به ازای $\cos(\pi/n)$ عبارت است از: $T_n(x) - 1$ زیرا:

$$T_n(\cos(\pi/n)) = \cos(n\pi) = ۱$$

چند جمله‌ایهای مورد بحث توسط اتحاد‌های زیر مرتبط هستند:

$$[\text{Riv, P.5}]$$

$$(x-1)(T_{2s+1}(x)-1) = (T_{s+1}(x)-T_s(x))^2$$

$$2(x^2-1)(T_{2s}(x)-1) = (T_{s+1}(x)-T_{s-1}(x))^2$$

به این ترتیب $\cos(\pi/n)$ ، هنگامی که $n > ۲$ ، ریشه دوگانه $T_n(x) - 1$ است.

برای آغاز اثبات قضیه مورد نظر، به حقایق چند در مورد درجه مزدوجهای $\cos(\pi/n)$ روی عددهای گویای Q نیازمندیم. از آن جا که

$$\cos(\pi/n) = (\xi_n + \xi_n^{-1})/۲$$

داریم:

$$\begin{aligned} & T_{s+1}(\cos(\frac{2\pi k}{n})) - T_s(\cos(\frac{2\pi k}{n})) \\ &= \cos(\frac{2\pi k(s+1)}{n}) - \cos(\frac{2\pi ks}{n}) \\ &= \cos(\frac{\pi k(n+1)}{n}) - \cos(\frac{\pi k(n-1)}{n}) \\ &= \cos(\frac{\pi k + \pi k}{n}) - \cos(\frac{\pi k - \pi k}{n}) \\ &= 0 \end{aligned}$$

بنابراین، $\cos(\frac{2\pi k}{n})$ نیز ریشه‌ای از سمت چپ (۲) است. اکنون از آن جا که ضریب اصلی $T_{s+1}(x)$ عبارت است از: 2^s ، اتحاد (۲) به اثبات می‌رسد.

اثبات قسمت (b) به همین ترتیب است، اما در این حالت درجه سمت راست (۳) به طریق زیر محاسبه می‌شود:

$$\begin{aligned} \sum_{d|n} \deg(\Psi_d(x)) &= \deg(\Psi_1(x)) + \deg(\Psi_\gamma(x)) \\ &+ \frac{1}{\gamma} \sum_{d|n, d>\gamma} \phi(d) = \gamma + \frac{1}{\gamma}(n - \gamma) = s + 1 \end{aligned}$$

که با درجه سمت چپ (۳) در توافق است.

باز هم چند جمله‌ایهای واقع بر سمت راست و سمت چپ (۳) دقیقاً دارای $s + 1$ ریشه:

$$\cos(\frac{2\pi k}{n}), 0 \leq k \leq s$$

و ضریب اصلی یکسان هستند. برای ملاحظه این که $\cos(\frac{2\pi k}{n})$ ریشه سمت چپ (۳) است، به محاسبه‌های زیر می‌پردازیم:

$$\begin{aligned} & T_{s+1}(\cos(\frac{2\pi k}{n})) - T_{s-1}(\cos(\frac{2\pi k}{n})) \\ &= \cos(\frac{2\pi k(s+1)}{n}) - \cos(\frac{2\pi k(s-1)}{n}) \\ &= \cos(\frac{\pi k(n+2)}{n}) - \cos(\frac{\pi k(n-2)}{n}) \\ &= \cos(\frac{\pi k + 2\pi k}{n}) - \cos(\frac{\pi k - 2\pi k}{n}) \\ &= 0 \end{aligned}$$

تیسره. وگنر «K.W. Wegner» [Weg] فهرستی از چند جمله‌ایهای مینیمال (جمعاً از درجه‌های کمتر از هشت) را در مورد تابعهای مثلثاتی زاویه‌های مشخص به دست داده است، که ضریبهای گویای 2π هستند. نیون «I.Niven» در گزارش خود به نام عددیهای گنگ «Irrational Numbers [Niv, P.39]»، فرمولی در مورد درجه چند جمله‌ای مینیمال تانژانت هر مضرب گویای 2π به دست داده است.

ریشه‌های مزبور در جفتهای:

$$\cos(\frac{2\pi k}{n}) \pm i \sin(\frac{2\pi k}{n}) \quad k = 1, 2, \dots, \frac{n}{2}$$

تنها با سه جزء حقیقی متمایز:

$$\cos(\frac{2\pi}{n}), \cos(\frac{4\pi}{n}), \cos(\frac{6\pi}{n})$$

رخ می‌دهند. سه کسینوس مزبور ریشه‌های $\psi_n(x)$ هستند. حالت عمومی مورد فوق عبارت است از:

لم. اگر $n \geq 3$ ، به ازای $0 \leq k \leq s$ و $1 = (k, n)$ ، چون در قضیه مورد بحث تعریف شده است.

لم فوق بسادگی از این حقیقت نتیجه می‌شود که $-Q$ خود ریخت $\sigma(\xi_n)$ داده شده توسط $\sigma(\xi_n) = \xi_n^k$ ، به ازای $1 = (k, n)$ ، $\pi \cos(\frac{2\pi}{n})$ را به $\cos(\frac{2\pi k}{n})$ می‌فرستد:

$$\begin{aligned} \sigma(\cos(\frac{2\pi}{n})) &= \sigma(\frac{\xi_n + \xi_n^{-1}}{2}) \\ &= \frac{\xi_n^k + \xi_n^{-k}}{2} = \cos(\frac{2\pi k}{n}) \end{aligned}$$

به این ترتیب:

$$\begin{aligned} 0 &= \sigma(\Psi_n(\cos(\frac{2\pi}{n}))) = \Psi_n(\sigma(\cos(\frac{2\pi}{n}))) \\ &= \Psi_n(\cos(\frac{2\pi k}{n})) \end{aligned}$$

و بنابراین $\phi(n) / 2$ عدد از $\cos(\frac{2\pi k}{n})$ ها، که در آنها $1 = (k, n)$ و $0 \leq k \leq s$ ریشه‌های $\psi_n(x)$ هستند.

اکنون برای اثبات قسمت a ی قضیه $n = 2s + 1$ فرد است، کافی است که نشان دهیم دو طرف (۲) دارای ریشه‌های یکسان و ضریب اصلی یکسان هستند. درجه سمت راست (۲) عبارت است از:

$$\begin{aligned} \sum_{d|n} \deg(\Psi_d(x)) &= \deg(\Psi_1(x)) + \frac{1}{2} \sum_{d|n, d \neq 1} \phi(d) \\ &= 1 + \frac{1}{2}(n - 1) = s + 1 \end{aligned}$$

که با درجه سمت چپ (۲) سازگار است. سمت چپ و سمت راست (۲) دقیقاً دارای $s + 1$ ریشه است: $\cos(\frac{2\pi k}{n}), 0 \leq k \leq s$ ، که جمیع آنها متمایز هستند.

برای ملاحظه این مطلب فرض می‌کنیم: $g = (k, n)$ ، بنابراین: $k = k'g, n = dg, (k', d) = 1$

در این صورت از لم فوق:

$$\cos(\frac{2\pi k}{n}) = \cos(\frac{2\pi k'}{d})$$

ریشه‌ای از $\psi_d(x)$ است، که عاملی از عبارت سمت راست (۲) است. در سمت چپ (۲)،

[Van] B.L. Van der Waerden , Modern Algebra (English Translation) , 2nd ed. ,Ungar , New York , 1953.

[Weg] Kenneth W. Wegner Equations with trigonometric Values as roots , *American Mathematical Monthly* , 66 (1959) 52 - 53

Department of Mathematics


California State University , Northridge

Northridge , CA 91330

[Leh] D.H. Lehmer , A note on trigonometric algebraic numbers , *American Mathematical Monthly* , 40 (1933) 165 - 166.

[Niv] Ivan Niven , *Irrational Numbers* , MAA , Washington , D.C. , 1956.

[Riv] T.J. Rivlin , *Chebyshev Polynomials From Approximation Theory to Algebra and Number Theory* , 2nd ed. , Wiley , New York , 1990



— بابلیان سالهای ۲۰۰۰ - ۲۲۰۰ پیش از میلاد می توانستند مربع و مستطیل و مثلث متساوی الساقین را مساحت کنند؛ اطلاعی درباره قضیه فیثاغورس داشتند، و می دانستند که زاویه حاوی نصف دایره زاویه راست است.

می توانستند حجم متوازی السطوح و استوانه قائم و مخروط ناقص و هرم ناقص مربع القاعده را پیدا کنند. راهی که برای تعیین حجم هرم ناقص مربع القاعده داشتند کمی باره مصریان اختلاف داشت و آن را می توان چنین بیان کرد:

$$V = h \left[\left(\frac{a+b}{2} \right)^2 + \frac{1}{3} \left(\frac{a-b}{2} \right)^2 \right]$$

تاریخ علم . جورج سارتن ، احمد آرام



مکان هندسی

(قسمت سوم)

محمد هاشم رستمی

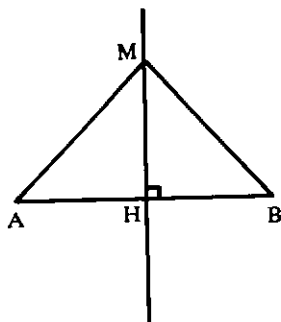
این مقاله، یک مقاله تحقیقی است. به این جهت از دانش آموزان و دانشجویان ارجمند، اساتید محترم دانشگاهها، و دیگر ریاضیدانان و صاحب نظران درخواست می شود، مطالب و نظریات خود را که برای تکمیل و یا تصحیح این مقاله می تواند مؤثر و مفید باشد، همچنین کتابی که در مورد مکان هندسی در اختیار دارند و یا مشخصات آن کتاب را به نشانی مجله ریاضی برهان ارسال فرمایند، که قبلاً از این لطف و همکاری، صمیمانه سپاسگزاری می شود.

مثلاً در مسأله سه نقطه ثابت وجود داشته باشد، و یا سه خط ثابت، و یا یک نقطه و یک صفحه ثابت و... که فعلاً از ذکر آنها خودداری می کنیم.

اینک به معرفی مکانهای هندسی مهم و ذکر کاربردهایی از آنها می پردازیم و مسأله هایی در ارتباط با مکانهای هندسی مطرح می کنیم.

۱- مکان هندسی نقطه ای که از دو سر پاره خط مفروض AB به یک فاصله باشد، عمود منصف آن پاره خط است.

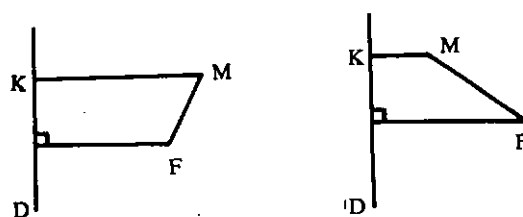
یعنی: اگر نقطه M روی عمود منصف پاره خط AB قرار داشته باشد، فاصله اش از دو نقطه A و B به یک اندازه است ($MA = MB$). و به عکس هر نقطه ای که به یک فاصله از دو نقطه A و B باشد، روی عمود منصف پاره خط AB واقع است.



۵- در مسأله یک نقطه ثابت مانند F و یک خط ثابت مانند D وجود دارد.

الف- اگر نقطه متحرک M در صفحه چنان حرکت کند که فاصله اش از نقطه ثابت F مساوی فاصله اش از خط ثابت Δ باشد، ($MF = MK$)، مکان هندسی نقطه M یک سهمی به کانون F و خط هادی Δ است.

ب- اگر نقطه متحرک M در صفحه چنان حرکت کند که نسبت فاصله اش از نقطه F به فاصله اش از خط Δ مقدار ثابت 1 باشد ($\frac{MF}{MK} = 1$)، مکان هندسی نقطه M بنابر آنکه $e < 1$ یا $e > 1$ باشد، به ترتیب بیضی یا هذلولی است.



تصوره: در تعیین مکانهای هندسی حالتی دیگری نیز وجود دارد

$$m/AB = \frac{y_2 - y_1}{x_2 - x_1} \quad \text{و} \quad m/\Delta = -\frac{x_2 - x_1}{y_2 - y_1} \Rightarrow$$

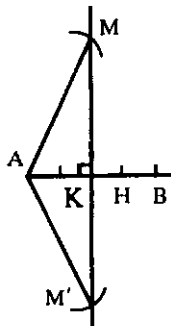
$$m/AB \cdot m/\Delta = \frac{y_2 - y_1}{x_2 - x_1} \times -\frac{x_2 - x_1}{y_2 - y_1} = -1 \Rightarrow \Delta \perp AB$$

به عکس ثابت می شود هر نقطه ای که مختصاتش در معادله (۱) صدق می کند، از دو نقطه A و B به یک فاصله می باشد.
 پس: مکان هندسی نقطه ای که از دو نقطه A و B به یک فاصله است عمودمنصف پاره خط AB است.

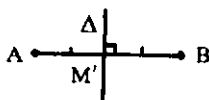
تبصره: باید توجه داشت که کمترین فاصله نقطه های واقع بر عمود منصف یک پاره خط، یا بر صفحه عمودمنصف یک پاره خط، از دو سر آن پاره خط همواره برابر $\frac{AB}{2}$ است. یعنی برای هر نقطه M از مکان فوق داریم $MA \geq \frac{AB}{2}$.

مثال ۱: پاره خط AB به طول ۸ سانتی متر مفروض است. چند نقطه روی عمود منصف پاره خط AB وجود دارد که:
 الف - از دو نقطه A و B به فاصله ۶ سانتی متر باشد.
 ب - از دو نقطه A و B به فاصله ۴ سانتی متر باشد.
 ج - از دو نقطه A و B به فاصله ۳ سانتی متر باشد.

حل - چون $\frac{AB}{2} = \frac{8}{2} = 4$ است. پس:
 الف - چون $\frac{AB}{2} = 4 < 6 = MA = MB$ ، پس دو نقطه روی عمودمنصف پاره خط AB وجود دارد که از نقاط A و B به فاصله ۶ سانتی متر واقع اند.

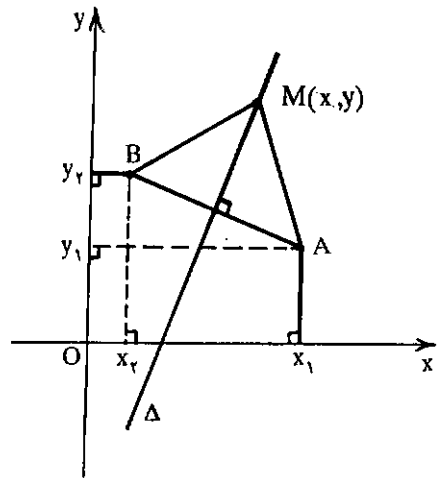


ب - چون $\frac{AB}{2} = 4 = MA = MB$ است، پس فقط یک نقطه روی عمودمنصف پاره خط AB قرار دارد که از نقاط A و B



اثبات به روش تحلیلی:

فرض می کنیم A (x_۱ و y_۱) و B (x_۲ و y_۲) باشد. اگر M (x و y) را یک نقطه از مکان هندسی فوق در نظر بگیریم، داریم: MA = MB



پس:

$$\sqrt{(x - x_1)^2 + (y - y_1)^2} = \sqrt{(x - x_2)^2 + (y - y_2)^2}$$

$$\Rightarrow 2(x_2 - x_1)x + 2(y_2 - y_1)y$$

$$+ x_1^2 + y_1^2 - x_2^2 - y_2^2 = 0 \quad (1)$$

معادله بالا، معادله یک خط راست مانند Delta است که:

اولاً - از نقطه $M \left(\frac{x_1 + x_2}{2}, \frac{y_1 + y_2}{2} \right)$ وسط پاره خط AB می گذرد زیرا مختصات نقطه M در این معادله صدق می کند.

$$M \left(\frac{x_1 + x_2}{2}, \frac{y_1 + y_2}{2} \right) \rightarrow (1) \Rightarrow$$

$$2(x_2 - x_1) \left[\frac{x_1 + x_2}{2} \right] + 2(y_2 - y_1) \left[\frac{y_1 + y_2}{2} \right] +$$

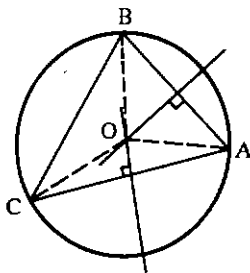
$$x_1^2 + y_1^2 - x_2^2 - y_2^2 = 0$$

$$\Rightarrow x_2^2 - x_1^2 + y_2^2 - y_1^2 + x_1^2 + y_1^2 - x_2^2 - y_2^2 = 0$$

$$\Rightarrow \boxed{0 = 0}$$

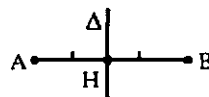
ثانیاً - بر خط AB عمود است، چون:

مسئله است زیرا داریم: $OA = OB = OC$. می‌دانیم که نقطه O مرکز دایره محیطی مثلث است.



به فاصله ۴ سانتی‌متر واقع است و این تنها نقطه، نقطه M وسط پاره‌خط AB است.

ج - چون $\frac{AB}{4} = 3 < MA = MB = 3$ پس هیچ نقطه‌ای روی عمودمنصف پاره‌خط AB وجود ندارد که از نقاط A و B به فاصله ۳ سانتی‌متر باشد.



مسئله ۴: دو نقطه $A(-3, 1)$ و $B(1, +2)$ مفروضند. معادله عمودمنصف پاره‌خط AB را تعیین کنید.

حل: راه اول - اگر $M(x, y)$ نقطه‌ای از عمودمنصف پاره‌خط AB باشد، داریم:

$$MA = MB \Rightarrow$$

$$\sqrt{(x+3)^2 + (y-1)^2} = \sqrt{(x-1)^2 + (y-2)^2}$$

$$\Rightarrow \cancel{x^2} + 6x + 9 + \cancel{y^2} - 2y + 1 = \cancel{x^2} - 2x + 1 + \cancel{y^2} - 4y + 4 \Rightarrow$$

$$\boxed{8x + 2y + 5 = 0}$$

معادله عمودمنصف پاره‌خط AB

راه دوم -

$$M\left(\frac{-3+1}{2}, \frac{1+2}{2}\right) \Rightarrow M\left(-1, \frac{3}{2}\right)$$

$$m/AB = \frac{y_2 - y_1}{x_2 - x_1} = \frac{2-1}{1+3} = \frac{1}{4} \Rightarrow m = -4$$

$$y - y_1 = m(x - x_1) \Rightarrow y - \frac{3}{2} = -4(x + 1) \Rightarrow$$

$$\boxed{8x + 2y + 5 = 0}$$

معادله عمودمنصف پاره‌خط AB

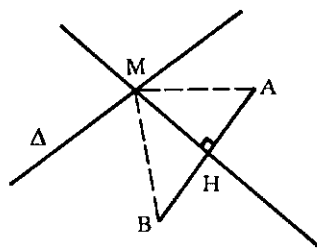
مسئله ۵: نقطه‌ای روی منحنی به معادله $y = x^2 - 2x - 3$ پیدا کنید که از دو نقطه $A(0, 4)$ و $B(-2, 0)$ به یک فاصله باشد.

حل: نقطه تقاطع عمودمنصف پاره‌خط AB با منحنی فوق را پیدا می‌کنیم.

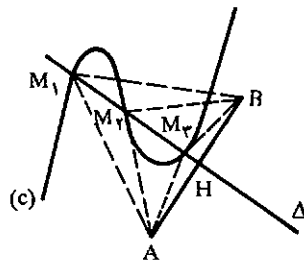
$$M(x, y), MA = MB \Rightarrow$$

$$\sqrt{(x-0)^2 + (y-4)^2} = \sqrt{(x+2)^2 + (y-0)^2}$$

مسئله ۲: خط Δ (یا منحنی C) و دو نقطه A و B در یک صفحه مفروضند. نقطه‌ای روی خط Δ (یا منحنی C) پیدا کنید که از دو نقطه A و B به یک فاصله باشد.



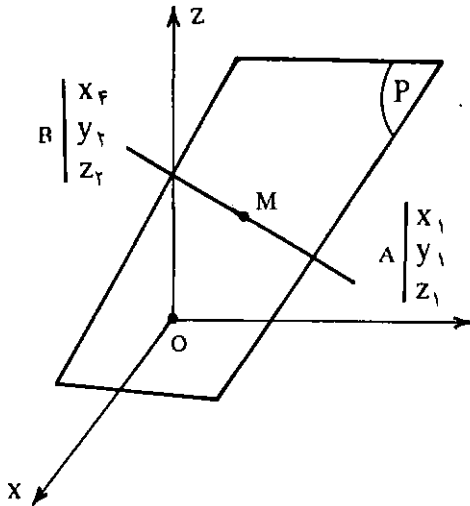
حل - عمودمنصف پاره‌خط AB را رسم می‌کنیم. نقطه‌های تقاطع این عمودمنصف با خط Δ (یا منحنی C) جواب مسئله است. تعداد جوابهای مسئله بستگی به تعداد نقاط برخورد دارد.



مسئله ۳: سه نقطه A و B و C غیر واقع بر یک خط راست در یک صفحه مفروضند. نقطه‌ای تعیین کنید که از سه نقطه A و B و C به یک فاصله باشد.

حل - نقاط A و B و C را به هم وصل می‌کنیم آنگاه عمودمنصف پاره‌خط AB همچنین عمودمنصف پاره‌خط AC را رسم می‌نماییم، نقطه برخورد این دو عمودمنصف نقطه O جواب

صفحة عمودمنصف پاره خط AB، فرض می کنیم $M(x, y, z)$ باشد، در این صورت خواهیم داشت:



$$\Rightarrow x^2 + y^2 + 16 - 8y = x^2 + 4x + 4 + y^2 \Rightarrow 4x + 8y - 12 = 0 \Rightarrow x + 2y - 3 = 0$$

معادله عمود منصف پاره خط AB

$$\begin{cases} y = x^2 - 2x - 3 \\ x + 2y - 3 = 0 \end{cases}$$

$$x + 2x^2 - 4x - 6 - 3 = 0 \Rightarrow 2x^2 - 3x - 9 = 0 \Rightarrow x = 3 \text{ و } x = -\frac{3}{2}$$

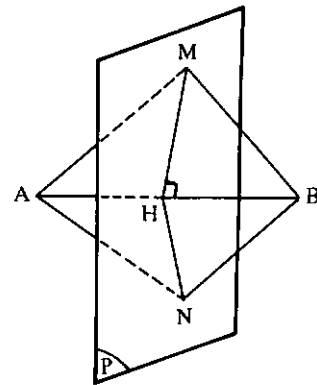
$$\Rightarrow x = 3 \Rightarrow y = 0 \text{ و } x = -\frac{3}{2} \Rightarrow y = \frac{9}{4} \Rightarrow M_1(3, 0, 0) \text{ و } M_2(-\frac{3}{2}, \frac{9}{4}, 0)$$

نقاط جواب مسئله

۲- مکان هندسی نقطه ای از فضا که از دو نقطه ثابت \bar{A} و \bar{B} به یک فاصله باشد، صفحه عمودمنصف پاره خط AB است. (صفحه ای که از نقطه H وسط پاره خط می گذرد و بر AB عمود است.)

$$MA = MB \Rightarrow \sqrt{(x - x_1)^2 + (y - y_1)^2 + (z - z_1)^2} = \sqrt{(x - x_2)^2 + (y - y_2)^2 + (z - z_2)^2}$$

$$\Rightarrow 2(x_2 - x_1)x + 2(y_2 - y_1)y + 2(z_2 - z_1)z + x_1^2 + y_1^2 + z_1^2 - (x_2^2 + y_2^2 + z_2^2) = 0 \quad (1)$$



معادله (۱) معادله صفحه ای است که از نقطه $M(\frac{x_1 + x_2}{2}, \frac{y_1 + y_2}{2}, \frac{z_1 + z_2}{2})$ وسط پاره خط AB می گذرد (مختصات نقطه M در معادله (۱) صدق می کند)، و بر بردار $\vec{AB}(x_2 - x_1, y_2 - y_1, z_2 - z_1)$ عمود است. بنابراین معادله صفحه عمودمنصف پاره خط AB است. به عکس به سادگی ثابت می شود هر نقطه ای که مختصاتش در رابطه (۱) صدق کند از دو نقطه A و B به یک فاصله است.

زیرا اگر M نقطه ای از صفحه عمودمنصف پاره خط AB باشد و از M به نقاط A و B وصل کنیم، در مثل MAB، پاره خط MH عمودمنصف پاره خط AB است پس مثل MAB متساوی الساقین و در نتیجه $MA = MB$ است.

به عکس هر نقطه ای مانند N که به یک فاصله از دو نقطه A و B باشد، روی صفحه عمودمنصف پاره خط AB قرار دارد. زیرا اگر از N به H وصل کنیم، در مثل متساوی الساقین NAB، پاره خط NH میانه نظیر قاعده است. پس عمودمنصف قاعده نیز می باشد. در نتیجه نقطه N روی صفحه ای قرار دارد که در نقطه H بر پاره خط AB عمود گردیده است یعنی روی صفحه عمودمنصف پاره خط AB واقع است.

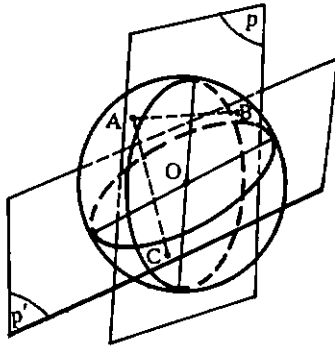
مثال ۱: دو نقطه A و B و خط Δ غیر واقع در یک صفحه مفروضند. روی خط Δ نقطه ای مانند C چنان بیابید که مثلث ABC در رأس C متساوی الساقین باشد.

اثبات به روش تحلیلی:

حل - چون $CA = CB$ است پس نقطه O روی صفحه

اگر $A(x_1, y_1, z_1)$ و $B(x_2, y_2, z_2)$ باشد، برای نوشتن معادله

مسأله ۵ - سه نقطه A و B و C روی یک کره واقع اند. نقطه ای از این کره را بیابید که از سه نقطه A و B و C به یک فاصله باشد.



حل - صفحه عمود منصف پاره خط AB را رسم می کنیم. این صفحه کره را در دایره عظیمه (C) قطع می کند. صفحه عمود منصف پاره خط AC را نیز رسم می کنیم. این صفحه کره را در دایره عظیمه (C') تلاقی می نماید. نقطه های برخورد این دو دایره (C) و (C'). جوابهای مسأله اند (دو جواب). اگر یکی از این دو نقطه را M بنامیم، داریم $MA = MB = MC$.

مثال ۴: اگر (۰ و -۲ و ۱) و A و (-۱ و ۱ و ۰) و B باشد معادله صفحه عمود منصف پاره خط AB را بنویسید.

حل: راه اول - در معادله (۱) به جای مختصات نقاط A و B مقدار می گذاریم:

$$2(0 - 1)x + 2(1 + 2)y + 2(-1 - 0)z + 1 + 4 + 0 - (0 + 1 + 1) = 0 \Rightarrow -2x + 6y - 2z + 3 = 0$$

راه دوم - فرض می کنیم $M(x, y, z)$ یک نقطه از صفحه عمود منصف پاره خط AB باشد. در این صورت داریم:

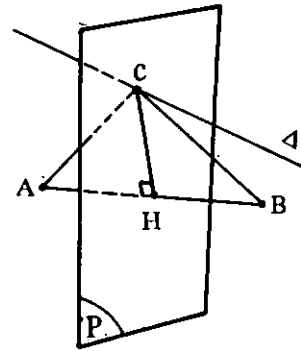
$$MA = MB \Rightarrow \sqrt{(x-1)^2 + (y+2)^2 + (z-0)^2} = \sqrt{(x-0)^2 + (y-1)^2 + (z+1)^2}$$

$$\Rightarrow \cancel{x^2} - 2x + \cancel{1} + \cancel{y^2} + 4y + \cancel{4} + \cancel{z^2} = \cancel{x^2} + \cancel{y^2} - 2y + \cancel{1} + \cancel{z^2} + 2z + \cancel{1}$$

$$\Rightarrow -2x + 6y - 2z + 3 = 0 \text{ معادله صفحه عمود منصف پاره خط AB}$$

راه سوم - مختصات نقطه M وسط پاره خط AB (x_1, y_1, z_1)

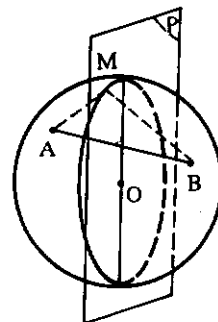
عمود منصف پاره خط AB واقع است. بنابراین برای حل مسأله، صفحه عمود منصف پاره خط AB را رسم می کنیم. نقطه برخورد این صفحه با خط Δ ، نقطه C جواب مسأله است.



بحث: اگر صفحه عمود منصف پاره خط AB خط Δ را در یک نقطه قطع کند (و این در صورتی است که خط Δ عمود بر امتداد AB نباشد)، مسأله تنها یک جواب دارد. اگر صفحه عمود منصف پاره خط AB موازی خط Δ باشد (و این در صورتی است که خط Δ عمود بر امتداد AB باشد)، مسأله جواب ندارد. اگر صفحه عمود منصف پاره خط AB شامل خط Δ باشد (خط Δ روی صفحه عمود منصف واقع شود)، مسأله بی شمار جواب دارد.

مثال ۲: دو نقطه A و B روی یک کره واقع اند. مکان هندسی نقاطی از سطح این کره را پیدا کنید که از دو نقطه A و B به یک فاصله باشند.

حل - صفحه عمود منصف پاره خط AB را رسم می کنیم. این صفحه از مرکز کره می گذرد و کره را در یک دایره عظیمه قطع می کند که این دایره عظیمه جواب مسأله است.



معادله صفحه عمود منصف پاره خط AB $-8x + 2z - 3 = 0$

$$\begin{cases} \frac{x-1}{2} = \frac{y+2}{-2} = \frac{z-3}{3} = t \\ -8x + 2z - 3 = 0 \end{cases} \Rightarrow$$

$$x = 2t + 1, y = -2t - 2, z = 3t + 3 \Rightarrow$$

$$-8(2t+1) + 2(3t+3) - 3 = 0 \Rightarrow -10t - 5 = 0 \Rightarrow$$

$$t = -\frac{1}{2} \Rightarrow M(x=0 \text{ و } y=-1 \text{ و } z=+\frac{3}{2})$$



با وجود نبوغ بارزی که داشت مقامات مدرسه‌ای او را آرام نمی‌گذاشتند تا بتواند از میدان وسیع و بارور اکتشافات خود بهره‌برداری کند. به عکس از به کار بردن هر وسیله‌ای برای خشمگین ساختن او خودداری نمی‌کردند. یا او را به کار و کوشش بیهوده وامی‌داشتند و یا با مواعظ حکیمانه و تنبیهات متوالی خود روح عصیان را در وی شدت می‌بخشیدند و با همه احوال نمی‌توانستند هیچ‌گونه ایرادی بر او وارد آورند مگر عزت نفس بسیار و اراده‌ای آهنین برای این که ریاضی‌دانی بزرگ شود. در واقع در آن هنگام وی ریاضی‌دانی بزرگ بود اما آنان از این نکته غافل بوده‌اند. دو بدبختی دیگر که در سال هیجدهم زندگی برایش پیش آمد آخرین ضربات را بر خلق و خوی گالوا وارد آورد. در این سال برای بار دوم داوطلب امتحان ورودی پلی تکنیک شد و مردانی که حق لیاقت تراشیدن مدادهای او را نداشتند می‌بایست درباره کفایت او قضاوت کنند و نتیجه همان شد که می‌بایست انتظار داشت: گالوا بار دیگر رد شد و این آخرین شانس او بود و بعد از این درهای این مدرسه برای همیشه به روی او بسته می‌شد.

ریاضیدانهای نامی - حسن صفاری

و تصاویر بردار نرمال صفحه عمود منصف پاره خط AB (c و b و a) را که می‌تواند تصاویر بردار \vec{AB} باشد به دست می‌آوریم و در معادله $a(x-x_1) + b(y-y_1) + c(z-z_1) = 0$ قرار می‌دهیم.

$$M \begin{cases} x = \frac{x_A + x_B}{2} = \frac{1 + 0}{2} = \frac{1}{2} \\ y = \frac{y_A + y_B}{2} = \frac{-2 + 1}{2} = -\frac{1}{2} \\ z = \frac{z_A + z_B}{2} = \frac{0 - 1}{2} = -\frac{1}{2} \end{cases}$$

$$\vec{AB} \begin{cases} a = x_B - x_A = 0 - 1 = -1 \\ b = y_B - y_A = 1 + 2 = 3 \\ c = z_B - z_A = -1 - 0 = -1 \end{cases}$$

$$a(x-x_1) + b(y-y_1) + c(z-z_1) = 0$$

$$-1(x - \frac{1}{2}) + 3(y + \frac{1}{2}) - 1(z + \frac{1}{2}) = 0 \Rightarrow$$

$$-x + 3y - z + \frac{3}{2} = 0 \Rightarrow \boxed{-2x + 6y - 2z + 3 = 0}$$

مثال ۵: روی خط $\frac{x-1}{2} = \frac{y+2}{-2} = \frac{z-3}{3}$ نقطه‌ای بیابید که از دو نقطه $A(2, 1, 1)$ و $B(-2, 1, 2)$ به یک فاصله باشد.

حل: معادله صفحه عمود منصف پاره خط AB را می‌نویسیم و نقطه برخورد این صفحه با خط D را به دست می‌آوریم.

$$M(x, y, z), A(2, 1, 1), B(-2, 1, 2), MA = MB$$

$$\Rightarrow \sqrt{(x-2)^2 + (y-1)^2 + (z-1)^2} =$$

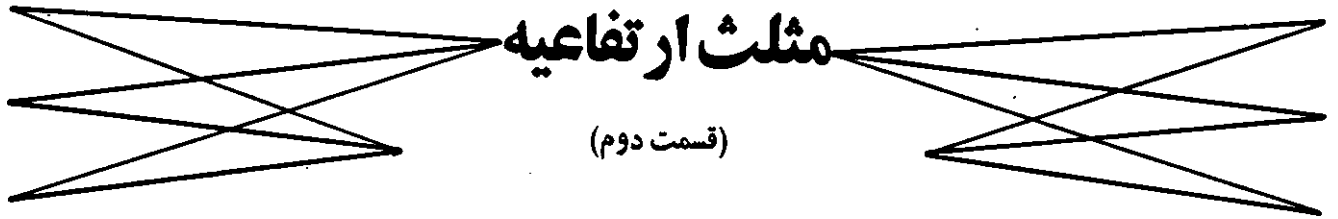
$$\sqrt{(x+2)^2 + (y-1)^2 + (z-2)^2}$$

$$\Rightarrow (x-2)^2 + (y-1)^2 + (z-1)^2 =$$

$$(x+2)^2 + (y-1)^2 + (z-2)^2$$

مثلث ارتفاعیه

(قسمت دوم)



● ساسان اسماعیلی شاهرودی (دیبرستان سروش)

R شعاع دایره محیطی مثلث ABC و R' شعاع دایره محیطی مثلث ارتفاعیه است

$$\frac{KL}{\sin \hat{H}} = \frac{HL}{\sin \hat{K}} = \frac{HK}{\sin \hat{L}} = 2R'$$

$$\Rightarrow \frac{KL}{\sin 2\hat{B}} = \frac{HL}{\sin 2\hat{C}} = \frac{HK}{\sin 2\hat{A}} = R$$

$$HK = R \sin 2\hat{A} \quad KL = R \sin 2\hat{B} \quad HL = R \sin 2\hat{C}$$

ویژگی دهم:

اگر K مساحت مثلث ABC و P_h نصف محیط مثلث ارتفاعیه باشد داریم:

$$P_h = \frac{S}{R}$$

$$P_h = \frac{1}{2} (HK + LK + LH)$$

$$= \frac{R}{2} (\sin 2\hat{A} + \sin 2\hat{B} + \sin 2\hat{C})$$

$$\sin \hat{P} + \sin \hat{Q} = 2 \sin \left[\frac{\hat{p} + \hat{q}}{2} \right] \cdot \cos \left[\frac{\hat{p} - \hat{q}}{2} \right] \quad \text{طبق رابطه}$$

خواهیم داشت:

$$\sin 2\hat{A} + \sin 2\hat{B} = 2 \left[\frac{2\hat{A} + 2\hat{B}}{2} \right] \cos \left[\frac{2\hat{A} - 2\hat{B}}{2} \right]$$

$$= 2 \sin (\hat{A} + \hat{B}) \cos (\hat{A} - \hat{B})$$

لذا:

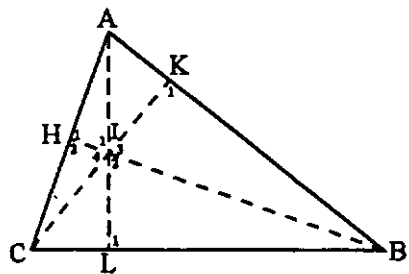
ویژگی هشتم:

در هر مثلث، حاصل ضرب دو قطعه‌ای که توسط مرکز ارتفاعیه بر روی ارتفاعها جدا می‌شوند با هم برابرند یعنی:

$$AL \cdot LI = BL \cdot HI = CL \cdot KI$$

$$\begin{cases} \hat{H}_1 = \hat{L}_1 = \frac{\pi}{2} \\ I_1 = I_2 \end{cases} \Rightarrow \triangle AIH \sim \triangle BIL \Rightarrow \frac{AI}{BI} = \frac{HI}{LI}$$

$$\Rightarrow AI \cdot LI = BI \cdot HI \quad (I)$$



$$\begin{cases} \hat{K}_1 = \hat{H}_2 = \frac{\pi}{2} \\ I_1 = I_2 \end{cases} \Rightarrow \triangle HIC \sim \triangle KIB$$

$$\Rightarrow BI \cdot HI = CI \cdot KI \quad (II)$$

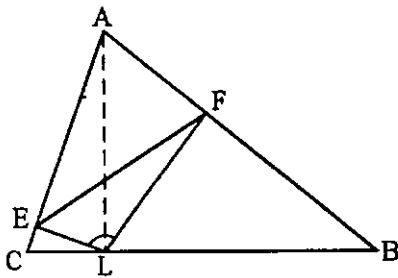
$$(I), (II) \Rightarrow AI \cdot LI = BI \cdot HI = CI \cdot KI$$

ویژگی نهم:

طول اضلاع مثلث ارتفاعیه به صورت زیر به دست می‌آید:

$$\frac{a}{\sin \hat{A}} = \frac{b}{\sin \hat{B}} = \frac{c}{\sin \hat{C}} = 2R \quad \text{طبق قضیه سینوسها:}$$

$$\frac{S_{\triangle ABC}}{R} = AL \cdot \sin \hat{A}$$



اگر شعاع R_1 دایره محیطی مثلث EFL باشد خواهیم داشت:

$$EF = \gamma R_1 \sin \hat{L} = \gamma R_1 \sin (\pi - \hat{A}) = \gamma R_1 \sin \hat{A}$$

از طرفی شعاع دایره محیطی چهارضلعی محاطی EAFL نیز R_1 می‌شود، پس خواهیم داشت:

$$AL = \gamma R_1 \Rightarrow EF = AL \cdot \sin \hat{A}$$

(چهارضلعی محاطی EAFL است)

$$\frac{S_{\triangle ABC}}{R} = AL \cdot \sin \hat{A} \Rightarrow EF = P_h$$

$$\frac{S_{\triangle ABC}}{R} = P_h$$

اگر L را رأس مثلث ارتفاعیه در نظر بگیریم به عبارت دیگر AL بر BC عمود نباشد نیز رابطه $EF = AL \cdot \sin A$ صادق می‌باشد. حال چون $\sin \hat{A}$ عدد ثابتی است کمترین مقدار برای EF وقتی به دست می‌آید که AL عمود بر BC باشد پس با تغییر نقطه L بر روی ضلع BC خواهیم داشت:

$$EF \geq P_h$$

ویژگی دوازدهم:

در هر مثلث حاد الزاویه بین تمامی مثلثهای محاط در آن، مثلث ارتفاعیه کمترین محیط را داراست. مثلث دلخواه MNL را محاط در مثلث ABC در نظر می‌گیریم. E و D به ترتیب قرینه نقطه L نسبت به اضلاع AC و AB می‌باشند. حال H_1 را به H_2 و H_3 را به D وصل می‌کنیم.

$$P_h = \frac{R}{\gamma} \left[\gamma \sin (\hat{A} + \hat{B}) \right]$$

$$\cos (\hat{A} - \hat{B}) + \gamma \sin \hat{C} \cos \hat{C}$$

$$P_h = R \left[\sin \hat{C} \cos (\hat{A} - \hat{B}) + \gamma \sin \hat{C} \cos \hat{C} \right]$$

طبق رابطه:

$$\cos \hat{p} + \cos \hat{q} = \gamma \cos \left(\frac{\hat{p} + \hat{q}}{\gamma} \right) \cdot \cos \left(\frac{\hat{p} - \hat{q}}{\gamma} \right)$$

خواهیم داشت:

$$P_h = R \sin \hat{C} \left[\gamma \cos \frac{\hat{A} - \hat{B} + \hat{C}}{\gamma} \cdot \cos \frac{\hat{A} - \hat{B} - \hat{C}}{\gamma} \right]$$

$$P_h = \gamma R \sin \hat{C} \cos \left(\frac{\pi - \gamma \hat{B}}{\gamma} \right) \cos \left(\frac{\gamma \hat{A} - \pi}{\gamma} \right)$$

$$P_h = \gamma R \sin \hat{A} \sin \hat{B} \sin \hat{C} \quad (I)$$

از طرفی در هر مثلث داریم:

$$S_{\triangle ABC} = \frac{abc}{\gamma R} = \frac{\gamma R^3 \sin \hat{A} \sin \hat{B} \sin \hat{C}}{\gamma R}$$

$$S_{\triangle ABC} = \gamma R^2 \sin \hat{A} \sin \hat{B} \sin \hat{C} \quad (II)$$

$$(I), (II) \Rightarrow P_h = \frac{S}{R}$$

از طرفی از رابطه (I) می‌توان نتیجه گرفت:

$$\gamma P_h = \gamma R \sin \hat{A} \sin \hat{B} \sin \hat{C} \quad (\text{محیط مثلث ارتفاعیه})$$

ویژگی یازدهم:

اگر از یک رأس مثلث ارتفاعیه دو عمود بر دو ضلع مثلث ABC فرود آوریم آنگاه طول پاره‌خطی که این دو نقطه را به هم وصل می‌کند برابر نصف محیط مثلث ارتفاعیه می‌باشد.

$$S_{\triangle ABC} = \frac{AL \cdot BC}{\gamma} = \frac{AL \cdot \gamma R \sin \hat{A}}{\gamma} = R \cdot AL \cdot \sin \hat{A}$$

$$(I), (II), (III) \Rightarrow \hat{H}_r = \hat{I}_1 \Rightarrow EH = EI$$

$$\begin{cases} \hat{I}_1 + \hat{C}_1 = \frac{\pi}{2} \\ \hat{H}_1 + \hat{H}_r = \frac{\pi}{2} \\ \hat{H}_r = \hat{I}_1 \end{cases} \Rightarrow \hat{H}_1 = \hat{C}_1 \Rightarrow$$

$$\begin{aligned} EH = EC \\ EH = EI \end{aligned} \Rightarrow EC = EI$$

یعنی نقطه E وسط CI است.

برای دو حالت دیگر نیز به همین روش اثبات می‌کنیم.

(تذکره: دایره محیطی مثلث ارتفاعیه همان دایره نه نقطه مثلث ABC است.)

ویژگی چهاردهم:

مساحت مثلث ارتفاعیه به صورت زیر به دست می‌آید:
در هر مثلث داریم:

$$S_{\triangle ABC} = \frac{1}{2} \sin(\text{زاویه بین دو ضلع}) \cdot (\text{حاصل ضرب دو ضلع})$$

$$S_{\triangle HKL} = \frac{1}{2} R \sin \hat{B} R \sin \hat{C} \sin \hat{A}$$

$$S_{\triangle HKL} = \frac{1}{2} R^2 \sin \hat{A} \sin \hat{B} \sin \hat{C}$$

ویژگی پانزدهم:

در هر مثلث حاد الزاویه مساحت مثلث ارتفاعیه از ربع مساحت مثلث ABC کوچکتر یا مساوی آن است.
در هر مثلث داریم:

$$\sin \hat{A} \sin \hat{B} \sin \hat{C} \leq \sin \hat{A} \sin \hat{B} \sin \hat{C}$$

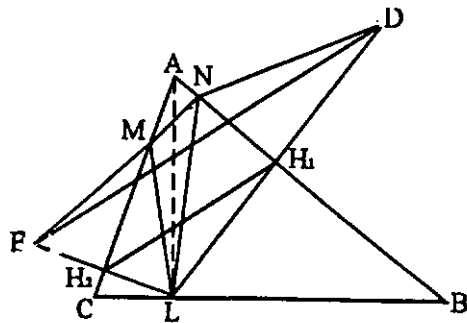
پس:

$$2R^2 \sin \hat{A} \sin \hat{B} \sin \hat{C} \leq 2R^2 \sin \hat{A} \sin \hat{B} \sin \hat{C}$$

$$2S_{\triangle HKL} \leq S_{\triangle ABC} \Rightarrow S_{\triangle HKL} \leq \frac{S_{\triangle ABC}}{4}$$

حالت تساوی مربوط به وقتی است که: $\hat{A} = \hat{B} = \hat{C} = \frac{\pi}{3}$

$$\begin{aligned} EH_r = LH_r &\Rightarrow H_1 H_r \parallel ED, H_1 H_r = \frac{ED}{2} \\ DH_1 = LH_1 & \end{aligned}$$



طول خط شکسته EMND از طول خط ED بیشتر است، از طرفی طول خط شکسته EMND برابر محیط مثلث MND است و همچنین:

ED وقتی به حداقل خود می‌رسد که $H_1 H_2$ به حداقل خود برسد و در ویژگی قبل دیدیم وقتی $H_1 H_2$ به حداقل خود می‌رسد که L پای عمود باشد پس حداقل اندازه ED می‌تواند برابر محیط مثلث ارتفاعیه باشد لذا اگر L پای عمود نباشد داریم: $ED > 2P_h$

از طرفی داریم: $ED < P_{MND}$ نتیجه می‌شود: $2P_h < P_{MND}$

ویژگی سیزدهم:

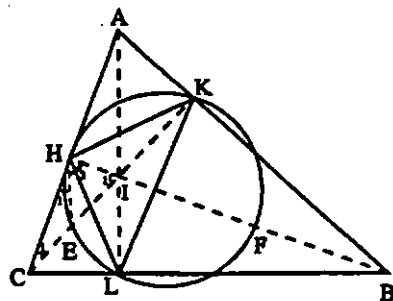
دایره محیطی مثلث ارتفاعیه از وسط AI، BI و CI می‌گذرد.

$$\hat{H}_r = \frac{1}{2} (EL + LF) \quad (I)$$

$$\hat{I}_1 = \frac{1}{2} (HE + KF) \quad (II)$$

طبق ویژگی اول خواهیم داشت:

$$KF = LF \text{ و } EL = HE \quad (III)$$



ویژگی شانزدهم:

در هر مثلث حاد الزاویه، محیط مثلث ارتفاعیه از نصف محیط مثلث اصلی کوچکتر یا مساوی آن است.
در هر مثلث داریم:

$$\sin \hat{A} \sin \hat{B} + \sin \hat{B} \sin \hat{C} + \sin \hat{C} \sin \hat{A} \leq \frac{9}{4} \quad (I)$$

و در بحث نامساویها داریم:

$$(a + b + c) \left[\frac{1}{a} + \frac{1}{b} + \frac{1}{c} \right] \geq 9 \quad (II)$$

$$(I), (II) \Rightarrow \sin \hat{A} + \sin \hat{B} + \sin \hat{C} \geq 4 \sin \hat{A} \sin \hat{B} \sin \hat{C}$$

$$2R \sin \hat{A} + 2R \sin \hat{B} + 2R \sin \hat{C} \geq 2 \times 4R \sin \hat{A} \sin \hat{B} \sin \hat{C}$$

طبق ویژگی دهم خواهیم داشت:

$$P_{\triangle ABC} \geq 4P_h \Rightarrow 2P_h \leq \frac{P_{\triangle ABC}}{2}$$

$$\hat{A} = \hat{B} = \hat{C} = \frac{\pi}{3} \quad \text{تساوی مربوط به وقتی است که:}$$

ویژگی هفدهم:

در هر مثلث رابطه روبه‌رو برقرار است:

$$\frac{AI}{bc} + \frac{BI}{ac} + \frac{CI}{ab} = \frac{1}{R}$$

$$S_{\triangle ABC} = \frac{abc}{4R} \Rightarrow abc = 4R \cdot S_{\triangle ABC}$$

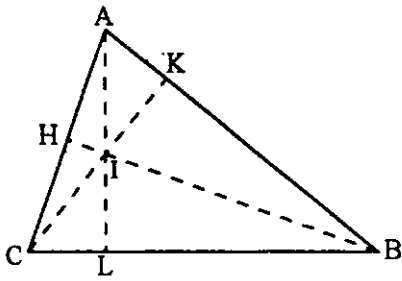
$$\frac{AI}{bc} + \frac{BI}{ac} + \frac{CI}{ab}$$

$$= \frac{a \cdot AI + b \cdot BI + c \cdot CI}{abc}$$

$$= \frac{a(AL - IL) + b(BH - IH) + c(CK - IK)}{4R \cdot S_{\triangle ABC}}$$

$$= \frac{2S_{\triangle ABC} - 2S_{\triangle IBC} + 2S_{\triangle ABC} - 2S_{\triangle IAC} + 2S_{\triangle ABC} - 2S_{\triangle IAB}}{4R \cdot S_{\triangle ABC}}$$

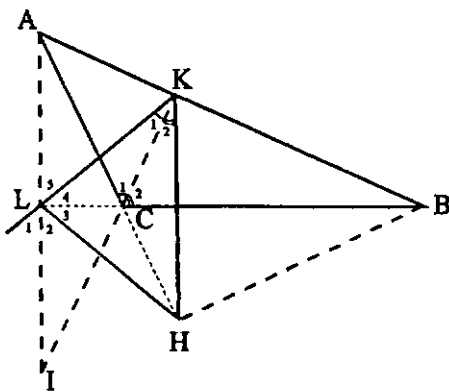
$$= \frac{4S_{\triangle ABC}}{4R \cdot S_{\triangle ABC}} = \frac{1}{R}$$



ویژگی هجدهم:

در هر مثلث با یک زاویه منفرجه مرکز ارتفاعیه بر مرکز یکی از دایره محاطی خارجی مثلث ارتفاعیه منطبق است.

$$\begin{cases} \hat{L}_r = \hat{L}_r \\ \hat{L}_r + \hat{L}_o = \frac{\pi}{2} \\ \hat{L}_r + \hat{L}_r = \frac{\pi}{2} \end{cases} \Rightarrow \begin{cases} \hat{L}_o = \hat{L}_r \\ \hat{L}_o = \hat{L}_1 \end{cases} \Rightarrow \hat{L}_1 = \hat{L}_r, \hat{K}_1 = \hat{K}_r$$



پس محل تلاقی نیمساز خارجی زاویه L و نیمساز داخلی زاویه K که مرکز دایره محاطی خارجی مثلث HKL می‌باشد، بر مرکز ارتفاعیه $\triangle ABC$ منطبق است.

ویژگی نوزدهم:

شعاع دایره محاطی مثلث ارتفاعیه از رابطه روبه‌رو

$$r' = 2R \cos \hat{A} \cos \hat{B} \cos \hat{C}$$

به دست می‌آید:

ابتدا ثابت می‌کنیم در هر مثلث رابطه روبه‌رو صادق است:

ویژگی بیستم:

الف) اگر l, h و k اضلاع مثلث ارتفاعیه باشند داریم:

$$\frac{l}{a^2} + \frac{h}{b^2} + \frac{k}{c^2} = \frac{a^2 + b^2 + c^2}{2abc}$$

$$= \frac{R \sin \hat{A}}{2R^2 \sin^2 \hat{A}} + \frac{R \sin \hat{B}}{2R^2 \sin^2 \hat{B}} + \frac{R \sin \hat{C}}{2R^2 \sin^2 \hat{C}}$$

$$= \frac{\cos \hat{A}}{a} + \frac{\cos \hat{B}}{b} + \frac{\cos \hat{C}}{c}$$

با توجه به رابطه کسینوسها در هر مثلث داریم:

$$a^2 = b^2 + c^2 - 2bc \cos \hat{A} \Rightarrow bc \cos \hat{A} = \frac{b^2 + c^2 - a^2}{2}$$

$$\frac{l}{a^2} + \frac{h}{b^2} + \frac{k}{c^2} = \frac{bc \cos \hat{A} + ac \cos \hat{B} + ab \cos \hat{C}}{abc}$$

$$= \frac{(a^2 + b^2 - c^2) + (a^2 + c^2 - b^2) + (c^2 + b^2 - a^2)}{2abc}$$

$$= \frac{a^2 + b^2 + c^2}{2abc}$$

ب)

$$\frac{(b^2 - c^2)l}{a^2} + \frac{(c^2 - a^2)h}{b^2} + \frac{(a^2 - b^2)k}{c^2} = 0$$

$$\frac{(b^2 - c^2)l}{a^2} + \frac{(c^2 - a^2)h}{b^2} + \frac{(a^2 - b^2)k}{c^2}$$

$$= \frac{(b^2 - c^2)R \sin \hat{A}}{2R^2 \sin^2 \hat{A}} + \frac{(c^2 - a^2)R \sin \hat{B}}{2R^2 \sin^2 \hat{B}}$$

$$+ \frac{(a^2 - b^2)R \sin \hat{C}}{2R^2 \sin^2 \hat{C}}$$

$$r = \frac{S_{\triangle ABC}}{P_{\triangle ABC}}$$

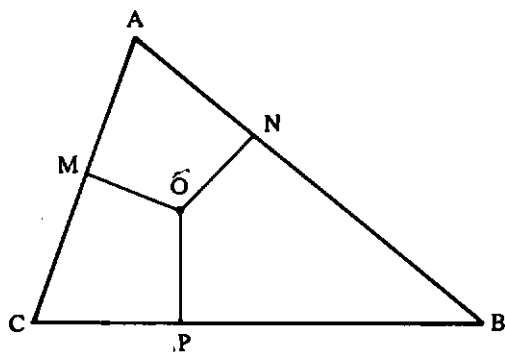
($P_{\triangle ABC}$ را نصف محیط $\triangle ABC$ می‌گیریم و r شعاع دایره محاطی داخلی مثلث ABC است.)

$$S_{\triangle ABC} = S_{\triangle OCB} + S_{\triangle OAB} + S_{\triangle OAC}$$

$$= \frac{OM \cdot AC + OP \cdot BC + ON \cdot AB}{2}$$

$$= \frac{r(BC + AC + AB)}{2}$$

$$= \frac{2r \cdot P_{\triangle ABC}}{2}$$



و در مثلث ارتفاعیه داریم:

$$r = \frac{S_{\triangle ABC}}{P_{\triangle ABC}}$$

$$r' = \frac{S_{\triangle HKL}}{P_h} = \frac{\frac{1}{2} R^2 \sin \hat{A} \sin \hat{B} \sin \hat{C}}{2R \sin \hat{A} \sin \hat{B} \sin \hat{C}}$$

$$= 2R \cos \hat{A} \cos \hat{B} \cos \hat{C}$$

$$= \frac{(b^2 - c^2) \cdot bc \cdot \cos \hat{A} + (c^2 - a^2) \cdot ac \cdot \cos \hat{B} + (a^2 - b^2) \cdot ab \cdot \cos \hat{C}}{abc}$$

با استفاده از رابطه کسینوسها در مثلث نتیجه می گیریم:

$$\frac{(b^2 - c^2) l}{a^2} + \frac{(c^2 - a^2) h}{b^2} + \frac{(a^2 - b^2) k}{c^2}$$

$$= \frac{(b^2 + c^2 - a^2)(b^2 - c^2) + (a^2 + c^2 - b^2)(c^2 - a^2) + (a^2 + b^2 - c^2)(a^2 - b^2)}{2abc}$$

$$= \frac{b^4 + b^2c^2 - a^2b^2 - b^2c^2 - c^4 + a^2c^2 + a^2c^2 + c^4 - b^2c^2 - a^4 - a^2c^2 + a^2b^2 + a^4 + a^2b^2 - a^2c^2 - a^2b^2 - b^4 + b^2c^2}{2abc}$$

= ۰

منابع:

- ۱) پرویز شهریاری کتاب آشنایی با ریاضیات، ج ۲۷. (انتشارات فردوس).
- ۲) ه کوکس تیروس. گریتر بازآموزی و بازشناخت هندسه - ترجمه: عبدالحسین مصحفی. (انتشارات مدرسه).
- ۳) جلیل الله فراگوزلو کتاب مثلثات پایه. (انتشارات فاطمی)
- ۴) مجله شماره هشت دوره چهارم از سری مجلات یکان.
- ۵) مجله شماره هشت دوره هفتم از سری مجلات یکان
- ۶) کتاب هندسه سال دوم ریاضی.
- ۷) کتاب مثلثات سال سوم ریاضی.

بنابه عقیده رئیس بانک، چشمان خاکستری داشته، بلند بوده، جلیقه به تن داشته، اما بی کلاه بوده است. بعداً مشخص شد که هر یک از گواهان تنها یکی از چهار توصیف را به طور صحیح بیان کرده است و هر یک از جزئیات توسط حداقل یک گواه به درستی توصیف شده است.




بعد از سرقت، چهار کارمند بانک مشخصات سارق را به دست داده اند.

- بنابه عقیده نگهبان بانک، سارق چشمانی آبی داشته، بلند بوده، و کلاه به سر و جلیقه به تن داشته است.
- بنابه نظر مسؤول گیشه، چشمان سیاه داشته، کوتاه بوده و جلیقه و کلاه به تن و سر داشته است.
- بنابه نظر منشی، چشمان سبز داشته، متوسط القامه بوده، و بارانی و کلاه داشته است.

توصیفهای مربوطه را در جدولی می آوریم:

کلاه	پوشش	قد	چشم	
بله	جلیقه	بلند	آبی	نگهبان
بله	جلیقه	کوتاه	سیاه	مسؤول گیشه
بله	بارانی	متوسط	سبز	منشی
نه	جلیقه	بلند	خاکستری	رئیس بانک

معرفی کتاب



■ جبر و آنالیز

تألیف: محمد رجیبی طرخورانی، علی اکبر واحدی آملی

انتشارات مدرسه، چاپ اول، زمستان ۱۳۷۲

استاد ریاضیات دانشگاه تهران و دارای تألیفات عدیده در زمینه ریاضیات بودند. از استاد مرحوم دو فرزند پسر به جا مانده است که امیدواریم راه پدر را در پیش گیرند و در دنیای علم بار آور شوند.

مؤلف دیگر کتاب استاد ارجمند آقای علی اکبر واحدی آملی اند که ایشان نیز از اساتید ریاضی دانشگاه تهران و صاحب تألیفات متعدد می باشند، طول عمر استاد را از خداوند خواستاریم.

■ معادله و نامعادله

ترجمه: پرویز شهریاری

انتشارات مدرسه، چاپ اول، زمستان ۱۳۷۲

کتاب معادله و نامعادله کتابی است برای دانش آموزان و دبیران، که روشهای درست استدلال در حل مسأله های ریاضی را می آموزد و بنا به مقدمه آن این ادعا را دارد که کسی که مثالها، تکلیفها و تمرینهای آن را دنبال کند، می تواند مطمئن شود که نه تنها بر موضوع مورد بحث کتاب مسلط شده است، بلکه روش درست اندیشیدن را نیز فرا گرفته است.

سه فصل کتاب، به ترتیب، عبارتند از: معادله ها و نامعادله های هم ارز، معادله های شامل یک مجهول، و نامعادله های با یک مجهول. یکی از مثالهای فصل اول را در نظر می گیریم: اگر در معادله

$$2 = \frac{x^2 - 1}{x - 1}$$
 صورت و مخرج کسر سمت چپ را به عامل مشترک $x - 1$ ساده کنیم، به معادله $2 = x + 1$ می رسیم که هم ارز معادله مفروض نیست. در واقع، عدد ۱ تنها ریشه معادله دوم (یعنی) نتیجه

در مقدمه کتاب چنین آمده است که: «مفاهیم تابع، حد، پیوستگی، مشتق و انتگرال، که در این کتاب مورد بحث قرار گرفته اند، از مفاهیم اساسی ریاضیات هستند، و توجه دقیق به آنها برای هر کسی که بخواهد ریاضی بخواند ضروری است. در این کتاب سعی شده تا آنجا که ممکن است مفاهیم و تعاریف و همچنین قضایا به طور دقیق بیان و اثبات شوند.»

فصلهای کتاب عبارتند از: توابع، حد توابع، پیوستگی توابع، مشتق و کاربردهای آن، رسم نمودار توابع حقیقی، معادلات درجه سوم و معادلات پارامتری، دیفرانسیل توابع، انتگرال نامعین یا تابع اولیه، انتگرال معین و کاربردهای آن.

مطالب کتاب چنان تنظیم شده اند که مفاهیم و تعاریف و قضایا را به طور دقیق بیان و اثبات کند، ولی این تنظیم بنا به مقدمه کتاب چنان است که افرادی را که تمایل زیادی به اثبات قضایا ندارند و آنها را نمی خوانند از خواندن مثالها و تمرینهای کتاب ممانعت نمی کند.

بعضی از تمرینها و مسائل کتاب از مسائل امتحانات نهایی انتخاب شده اند و به این ترتیب خواننده را با این نوع مسائل نیز آشنایی می دهند.

دکتر محمد رجیبی طرخورانی یکی از دو مؤلف کتاب است که متأسفانه در اسفند ماه ۱۳۷۲ دعوت حق را لیک گفت و از سرای فانی به جهان باقی شتافت رحمة الله رحمة واسعة. مرحوم دکتر رجیبی

است، درحالی که در معادله اصلی صدق نمی‌کند.

مثال دیگر: آیا این معادله‌ها هم ارزند؟

$x^2 - 4 = 4x - 7$ و $\log(x^2 - 4) = \log(4x - 7)$
مجموعه همه ریشه‌های معادله دوم، شامل دو عدد $x_1 = 3$ و $x_2 = 1$ است. ولی عدد ۱، ریشه معادله اول نیست، بنابراین معادله‌های مفروض هم ارز نیستند.

مثالی دیگر: نامعادله $0 \leq 5^{2+x} - 5^x$ را حل کنید.

چون $5^{2+x} = 25 \times 5^x$ ، بنابراین نامعادله مفروض هم ارز است با نامعادله

$$0 \leq (x^2 - 25) \cdot 5^x$$

و چون $5^x > 0$ ، نامعادله اخیر، هم ارز است با نامعادله

$$0 \leq x^2 - 25 \Leftrightarrow -5 \leq x \leq 5$$

بازه $[-5, 5]$ مجموعه جوابهای نامعادله اصلی را تشکیل

می‌دهد.

مثالهای فوق برای آشنا شدن خواننده با مطالب کتاب کافی است.

پاسخهای تکلیفها و تمرینهای کتاب در پایان کتاب آورده

شده‌اند.

کتاب همانطور که قبلاً هم اشاره شد هم برای دانش‌آموزان و هم

برای دبیران نوشته شده است و هر دو گروه را به کار می‌آید.

■ هندسه‌های جدید

جیمز آر. اسمارت، ترجمه: غلامرضا یاسی پور

انتشارات مدرسه، چاپ اول، زمستان ۱۳۷۲

کتاب هندسه‌های جدید چنان‌که از نامش برمی‌آید درباره

هندسه‌های جدیدی است که تا سال ۱۹۸۸ - سال سومین پرداخته آن

- پا به عرصه وجود نهاده‌اند. کتاب بنا به گواهی مقدمه‌اش بررسی

هندسه‌های متفاوت به جای هندسه‌ای واحد است، و در سراسر خود،

بر کاربردهای عملی و تازه هندسه‌های جدید تأکید دارد، و از

جدیدترین فصول آن فصل مهم گرافیکهای کامپیوتری است.

کتاب هم برای زبردستان و هم برای زبردستان ریاضی طرح شده

است، و هم مناسب دانشجویانی است که از نظرگاه هنرهای آزاد به

ریاضیات شوق می‌آورند و هم مناسب آنانی که سودای معلم

ریاضیات شدن را در سر می‌دارند.

بعضی از بخشهای کتاب عبارت‌اند از:

هندسه‌های متاهی، هندسه‌های چهارخطی و چهار نقطه‌ای،

هندسه‌های متاهی فانو و یانگ، هندسه‌های متاهی پاپوس و دزارگ،

گروههای تبدیلات، موارد استعمال تبدیلات در گرافیکهای

کامپیوتری، خواص گروه حرکات اقلیدسی، مجموعه‌های محدب و

خطوط پشتیبان، پهنای مجموعه، دایره نه نقطه و هندسه ترکیبی اوایل

قرن نوزدهم، مزدوجهای هم زاویه، ترسیمات و اثباتهای عدم امکان

هندسه تحلیلی انعکاس، مبنای اصل موضوعی هندسه تصویری،

مخروطیات، تبدیلات توپولوژیک، مدخل توپولوژی سطوح،

هندسه هذلولوی، نقاط انگاری و مثلثهای امگا، هندسه بیضوی.

کتاب دارای چند ضمیمه نیز هست که از آن جمله‌اند:

آکسیومهای هیلبرت، اصول موضوع برکهوف، مفاهیمی منتخب از

منطق.

کتاب هندسه‌های جدید کتابی است که خواننده را با مطالب قدیم

و جدید هندسه آشنا می‌کند. از مطالب قدیم برای آماده کردن

خواننده برای موضوعات جدید سخن به میان می‌آورد و همانگونه که


قبلاً خاطر نشان شد از موارد کاربرد نیز غفلت ندارد.

دانش‌آموزی که قدم به عرصه ریاضیات می‌گذارد و دبیری که

میدانهای این عرصه را در نور دیده است، هر دو، از خواندن این

کتاب ناگزیرند و به همین مناسبت است که خواندن آن به هر دو طایفه

توصیه می‌شود.



بدون تردید تمام توسعه ریاضیات دارای ریشه‌هایی روانی

درخواستها و فعالیت‌های عملی بشر است اما بعد از این که یکبار فشار

ضرورت عملی موجب ایجاد آن شد به صورتی اجتناب ناپذیر از

نفس خود فایده برمی‌گیرد و از حدود فواید بلافاصله عروج می‌کند.

ریاضیات چیست؟ ریچارد کورانت

ترجمه: حسن صفاری

جواب نامه‌ها

$$= 9(9n^2 + 16n + 7) + 1 \stackrel{9}{\equiv} 1 \Rightarrow M^2 \stackrel{9}{\equiv} 1$$

آقای هادی جمشیدی کارگر؛ دانش آموز رشته ریاضی (بجنورد)

از مسائل ارسالی شما متشکریم. در صورت لزوم و در جای مناسب از آنان استفاده خواهیم کرد.

خانم لیلامدیری؛ دانش آموز رشته تجربی (کرج)

ضمن تشکر از شما، برای ارسال دو راه حل مسأله‌ای از برهان شماره ۵ به عرض می‌رسانیم که ارسال حل مسأله‌های مندرج در مجله برهان بجز مسائل مسابقه‌ای لزومی ندارد. زیرا حل تمام مسائل در انتهای شماره بعدی مجله آورده می‌شود. موفقیت روزافزون شما را خواستاریم.

آقای ناصر آذری؛ دانش آموز رشته ریاضی (قائم‌شهر)

از مطلب شما در رابطه با لگاریتمی کردن یک عبارت متشکریم. امید است در شماره‌های آینده از آن استفاده شود. ضمناً متذکر می‌شویم که مسائل باید همراه با حل ارائه شوند.

آقای امید شکری؛ دانش آموز رشته ریاضی (پولادشهر)

ضمن تشکر از نامه شما به عرض می‌رسانیم که مسائلی را که حل آنان را خواستار بودید می‌توانید حل آنان را در شماره‌های قبلی مجله برهان مشاهده کنید.

آقای ارشام برومند سعید (دانشگاه شهید باهنر کرمان)

با تشکر از شما به عرض می‌رسانیم که مطلب شما در حد یک مقاله نیست و برای اطلاع عموم نتایج آن را عیناً و به طور خلاصه در این جا می‌آوریم:

الف) مجموع ارقام عدد حاصل از ضرب هر عدد در ۹ برابر ۹ یا مضربی از ۹ است، مانند:

$$4 \times 9 = 36 \quad \text{و} \quad 3 + 6 = 9$$

$$127 \times 9 = 1143 \quad \text{و} \quad 1 + 1 + 4 + 3 = 9$$

$$7863291 \times 9 = 70769619 \quad \text{و}$$

$$7 + 0 + 7 + 6 + 9 + 6 + 1 + 9 = 45 = 5 \times 9$$

و ...

ب) تفاضل هر عدد از مجموع ارقام آن، مضربی از ۹ است، مانند:

$$7863291 - (7 + 8 + 6 + 3 + 2 + 9 + 1) =$$

$$7863291 - 36$$

$$7863255 = 873695 \times 9$$

ج) اگر عددی در تقسیم بر ۹ به باقیمانده ۱ یا ۸ برسد مجذور

آن عدد در تقسیم بر ۹ باقیمانده‌ای برابر یک خواهد داشت.

البت:

$$\text{فرض اول: } M = 9n + 1 \Rightarrow M^2 \stackrel{9}{\equiv} 1$$

$$M^2 = 81n^2 + 18n + 1$$

$$= 9(9n^2 + 2n) + 1 \stackrel{9}{\equiv} 1 \Rightarrow M^2 \stackrel{9}{\equiv} 1$$

$$\text{فرض دوم: } M = 9n + 8 \Rightarrow M^2 \stackrel{9}{\equiv} 8$$

$$M^2 = 81n^2 + 144n + 64$$

جالب عدد ۷ در تقسیم» به عرض می‌رسانیم؛ در صورت امکان و در جای مناسب از آن استفاده خواهیم کرد.

آقای امیر هوشنگ فرهودی مقدم؛ دانش آموز رشته تجربی (تهران)

ضمن تشکر از مقاله شما تحت عنوان «بررسی تابع قدر مطلق» به عرض می‌رسانیم؛ امید است از آن در جای مناسب استفاده کنیم.

آقای رضا بردباری؛ دانش آموز رشته ریاضی (شیراز)

ضمن تشکر از ارسال یک مسأله حل شده شما به عرض می‌رسانیم؛ در صورت لزوم و در جای مناسب از آن استفاده خواهیم کرد.

آقای امید قطره سامانی؛ دانش آموز (اصفهان)

از تستهای حل شده ارسالی شما متشکریم. در صورت لزوم و در جای مناسب از آنان استفاده خواهیم کرد.

خانم مرضیه اسکندری؛ دانش آموز رشته ریاضی (تهران)

ضمن تشکر از مطلب ارسالی شما به عرض می‌رسانیم؛ اثبات رابطه شرط ریشه مشترک بین دو معادله درجه دوم را می‌توانید در آخرین قسمت مقاله مربوط به حل معادلات درجه اول و دوم مندرج در برهان ۲ مشاهده کنید.

آقای فرهاد صنوبری کشی؛ دانش آموز رشته ریاضی (رامسر)

ضمن تشکر از مطالب و مسائل ارسالی شما به عرض می‌رسانیم؛ در صورت لزوم از آنان استفاده خواهیم کرد.

آقای امیر غفوری نژاد؛ دانش آموز رشته ریاضی (بوکان)

از مسائل ارسالی شما متشکریم. در صورت لزوم از آنان استفاده خواهیم کرد.

آقای سیدرضا حسینی تهرانی؛ دانش آموز رشته ریاضی (شهریار)

با تشکر از مقاله شما تحت عنوان «چگونه زاویه‌های گوناگون را بسازیم و به نسبت‌های مختلف تقسیم کنیم»؛ ان شاء الله در شماره‌های

آقای مانا سپهوند؛ دانش آموز رشته ریاضی (خرم آباد)

از مقاله ارسالی شما متشکریم.

آقای یوسف خمسه؛ دانش آموز رشته ریاضی (کرج)

با تشکر از مسائل ارسالی شما به عرض می‌رسانیم که در صورت لزوم از مسائل شما استفاده خواهد شد.

آقای کیانوش یزدی؛ دانش آموز رشته ریاضی (لنگرود)

ضمن تشکر از مسائل ارسالی شما به عرض می‌رسانیم که مسائل باید با حل کامل ارائه شوند.

آقای بختیار آبیاری؛ دانش آموز رشته ریاضی (اسد آباد)

ضمن تشکر از شما برای ارسال مسأله‌ای حل شده، به عرض می‌رسانیم؛ سعی کنید مسائل تکراری نباشند و همچنین در سطح مطلوبتر و جدیدتری ارائه شوند. مسأله ارسالی شما در کتاب جبر و آنالیز سال چهارم ریاضی موجود است.

آقای رضا جعفرزاده؛ دانش آموز رشته ریاضی (بابل)

از تست ارسالی شما متشکریم. در جای مناسب و در صورت لزوم از آن استفاده خواهیم کرد.

آقای محمد مهدی ولی الهی (بابل)

ضمن تشکر از دو مسأله حل شده ارسالی شما به عرض می‌رسانیم؛ مسائل جدیدتری در سطح مطلوب ارائه دهید.

آقای فریدون عبدی؛ دانش آموز رشته ریاضی (کامیاران)

با تشکر از مطلب ارسالی شما، پیروزی و موفقیت بیشتر شما را آرزو مندیم.

آقای علیرضا گلشاهی؛ دانش آموز (تهران)

با تشکر از مسأله ارسالی شما، در صورت لزوم از آن استفاده خواهیم کرد.

آقای مهدی حبیبی معینی؛ دانش آموز رشته ریاضی (لاهیجان)

ضمن تشکر از شما برای ارسال مطلبی در رابطه با «خاصیت‌های

بعدی از آن استفاده خواهیم کرد.

آقای وحید عالی پور؛ دانش آموز رشته ریاضی (مسجد سلیمان)

از مسائل ارسالی شما متشکریم. در صورت لزوم از آنان استفاده خواهیم کرد.

آقای احمد رضا صادقی نیا؛ دانش آموز رشته ریاضی (تهران)

ضمن تشکر از شما برای ارسال چند مسأله همراه با حل آن؛ به عرض می‌رسانیم؛ سعی کنید مسائل را در سطح مطلوبتری ارائه دهید و همچنین تکراری نیز نباشند. برای دریافت مجله نیز فرم اشتراک را به طور کامل پر کنید و همراه با فیش بانکی ارسال کنید.

آقای خلیل دولتیاری؛ دانش آموز رشته ریاضی (کرج)

ضمن تشکر از مقاله ارسالی شما تحت عنوان «روشی برای محاسبه مساحت بعضی از سطوح» به عرض می‌رسانیم که در صورت امکان و در جای مناسب از آن استفاده خواهیم کرد.

آقای محمدمهدی دیزج خلیلی؛ دانش آموز رشته ریاضی (تهران)

ضمن تشکر از مسائل و مقاله ارسالی شما، تحت عنوان «حذف پارامترها در مثلثات» به عرض می‌رسانیم؛ امید است بتوانیم آن را در شماره‌های بعدی درج کنیم.

آقای سعیدرضا گوودرزی؛ دانش آموز رشته تجربی (شیراز)

با تشکر از شما برای ارسال نامه‌ای محتوی «ساخت اعداد طبیعی فقط با ارقام ۱۳۷۲ و با استفاده از علائم ریاضی» به عرض می‌رسانیم، امید است که امکان درج آن در شماره‌های آینده در جای مناسب به وجود آید.

آقای پیمان عالی‌باف؛ دانش آموز رشته ریاضی (هرند)

ضمن تشکر از مسائل حل شده ارسالی شما به عرض می‌رسانیم که سعی کنید مسائل جدیدتر و در سطح مطلوبتری ارائه دهید. باید توجه داشته باشید که تنها مسائلی که همراه با حل کامل باشند و نیز تکراری نباشند برای ما ارسال کنید.

آقای برات قربانزاده؛ دانش آموز رشته ریاضی (شیروان)

ضمن تشکر از شما برای ارسال مسائل و مقاله‌ای تحت عنوان «اثبات قضیه اشتایتر - لموس» به عرض می‌رسانیم که در صورت تأیید، امید است در یکی از شماره‌های آتی به چاپ برسد.

خانم ندا شهیدی؛ دانش آموز رشته ریاضی (اراک)

ضمن تشکر از مسائل حل شده ارسالی شما به عرض می‌رسانیم؛ امید است در شماره‌های آینده مجله از آنان استفاده کنیم.

آقای حسن اسماعیلی؛ دانشجوی رشته ریاضی (زنجان)

ضمن تشکر از شما جهت ارسال مقاله‌ای تحت عنوان «گذری چند بر زندگی ملامحمدباقر یزدی» و جدول تاریخی اسامی ریاضی‌دانان دوره اسلامی ۸۰ تا ۹۶۰ شمسی (۷۱۰ تا ۱۵۸۰ میلادی) به عرض می‌رسانیم که در صورت امکان در جای مناسب از آنان استفاده خواهیم کرد.

آقای مهرداد ناصنزاد؛ دانش آموز رشته ریاضی (آمل)

ضمن تشکر از نامه شما به عرض می‌رسانیم؛ معادله سیال $x^n + y^n = z^n$ مربوط به آخرین حکم فرما است که برای توانهای خاصی امتناع آن در سیستم اعداد صحیح ثابت شده است و در رابطه

آقای ابوالفضل والازاده (گورگان)

با تشکر از شما برای ارسال مقاله‌ای تحت عنوان «نکاتی از کتاب مراسم الانساب فی علم الحساب» و مطالبی در رابطه با ادب ریاضی، در صورت لزوم از آنان در جای مناسب استفاده می‌کنیم.

با حل دستگاه
$$\begin{cases} x^2 - 5 = y^2 \\ x^2 + 5 = z^2 \end{cases}$$
 باید بگوییم که این یک مسأله

آقای رسول شمشادی (رشت)

ضمن تشکر از تستهای ارسالی شما به عرض می‌رسانیم که مسائل

مسابقه‌ای تاریخی است که فیونانچی نیز در آن مسابقه شرکت داشته است و حل آن را نیز ارائه داده است. برای اطلاع بیشتر می‌توانید به کتاب «اندیشه ریاضی»، ترجمه آقای «پرویز شهرباری» مراجعه کنید.


آقای رامین آمویی؛ دانش آموز رشته ریاضی (مسجد سلیمان)

از ارسال مسائل حل شده شما متشکریم. در صورت لزوم از آنان استفاده خواهد شد.

آقای امید خاتین زاده؛ دانش آموز رشته ریاضی (اهواز)
از مطالب ارسالی شما تشکر می‌کنیم. در صورت امکان در جای مناسب از آن استفاده خواهد شد.

آقای محسن نجفی؛ دانش آموز رشته ریاضی (گناباد)
از نامه ارسالی شما تشکر می‌کنیم.

آقای علی عمیدی؛ دانش آموز رشته ریاضی (گرمسار)
ضمن تشکر از شما برای ارسال مسائلی حل شده؛ در صورت لزوم از مسائل غیر تکراری آن استفاده خواهد شد.



ریاضیات به عنوان یکی از تراوشات ضمیر آدمی منعکس کننده اراده فعال، سیر معنوی عقل و استدلال و علاقه‌مندی به کمال زیبایی است. عواملی که مبنای آن را تشکیل می‌دهند عبارتند از: منطق و اشراق، تحلیل و سازندگی، وحدت و کلیت. با وجود این که ستهای متفاوت در ریاضیات ممکن است توجه خود را به جنبه‌های مختلف عوامل مزبور معطوف سازند باید گفت که فقط برخورد این نیروهای متخالف و کوشش در راه ترکیب آنهاست که حیات واقعی و فایده عملی و کمال ارزش دانش ریاضی را به وجود می‌آورد.

ریاضیات چیست؟ ریچارد کورانت

ترجمه: حسن صفاری

یا تستها باید همراه با جواب کامل ارائه شوند.

آقای رامین آمویی؛ دانش آموز رشته ریاضی (مسجد سلیمان)
با تشکر از مسائل حل شده ارسالی شما به عرض می‌رسانیم که در صورت نیاز از آن استفاده خواهد شد.

آقای علی حسین زاده؛ دانش آموز رشته ریاضی (کاشان)
ضمن تشکر از مقاله ارسالی شما تحت عنوان «تابع جزء کسری» به عرض می‌رسانیم که توابع جزء صحیح بنا بر نیازی که موجود بوده است تعریف و ساخته شده‌اند، بدیهی است در صورتی که نیازی به توابع با جزء غیر صحیح (اعشاری یا کسری) نیز به وجود آید می‌توان آن را به شکلی عمومیتر از آن که شما به آن اشاره کرده‌اید، تعریف کرد و قوانین کلیتری در این مورد ارائه داد. در هر صورت توجه و حس نوآوری شما در ریاضیات تحسین آمیز است.

آقای حسین سبزو (تهران)
ضمن تشکر از مقاله ارسالی شما تحت عنوان «معرفی فرمولی برای به دست آوردن سه تاییهای فیثاغورثی» به اطلاع می‌رسانیم که برای به دست آوردن تمام سه تاییهای فیثاغورثی از اتحاد زیر می‌توان استفاده کرد:

$$\forall K, U, V \in \mathbb{Z} : a^2 + b^2 = c^2 \Rightarrow \begin{cases} a = K(U^2 - V^2) \\ b = 2KUV \\ c = K(U^2 + V^2) \end{cases}$$

بدیهی است به ازای $K=1$ و با شرط $(U, V) = 1$ تمام سه تاییهای فیثاغورثی اصلی حاصل می‌شوند زیرا اتحاد زیر برقرار است:

$$(K(U^2 - V^2))^2 + (2KUV)^2 = (K(U^2 + V^2))^2$$

واضح است که فرمول $K = \sum_{i=1}^{n-1} i$ با شرط $K \geq 3$

را که ارائه داده‌اید تمام سه تاییهای فیثاغورثی اصلی را به دست نمی‌دهد.

خانم سیده صدیقه حسینی؛ دانش آموز رشته ریاضی (لنگرود)

ضمن تشکر از شما برای ارسال مسائلی حل شده؛ امید است از مسائل شما در شماره‌های بعدی مجله استفاده شود.

حل مسائل مسابقه‌ای

برهان ۹

- ۹ - آقای مرتضی بیات
 ۱۰ - آقای محسن علیجانپانزاده
 ۱۱ - آقای فرشاد داوودی فرد
 ۱۲ - آقای شهاب اردلان
 ۱۳ - آقای کامیار گردنپان
 ۱۴ - آقای ارسلان چوپانی
 ۱۵ - آقای امین سعیدفر
 ۱۶ - آقای مسعود معمارزاده زواره
 ۱۷ - آقای یدالله نیک بخت
 ۱۸ - آقای محمد صادق عبیدی
 ۱۹ - آقای اکبر ترابی
 ۲۰ - آقای حمیدرضا داوریان
 ۲۱ - آقای محمدرضا ساطعی

تعداد بسیاری از شما عزیزان دانش آموز جواب صحیح برای مسأله مسابقه‌ای برهان ۹ ارسال داشته‌اید و اسامی نفراتی که دقیق‌تر و کامل‌تر پاسخ داده بودند در ذیل آمده است. در ضمن از بین این نفرات راه حل آقای حسین علمدار دانش آموز سال سوم ریاضی از نیشابور انتخاب شده است.

صورت مسأله: آیا می‌توانید مجموعه‌ای همراه با دو عمل جمع و ضرب اسکالر روی \mathbb{R}^2 معرفی کنید که همه شرایط فضای برداری به جز شرط $V = 1 \cdot V$ را دارا باشد؟

حل: در مجموعه \mathbb{R}^2 اعمال جمع و ضرب اسکالر را به صورت زیر تعریف می‌کنیم.

$$(x_1, y_1) + (x_2, y_2) = (x_1 + x_2, y_1 + y_2)$$

$$\forall \lambda \in \mathbb{R}, \lambda \cdot (x, y) = (\lambda x, 0)$$

اولاً واضح است که $(\mathbb{R}^2, +)$ یک گروه آبلی است و ثانیاً به راحتی قابل بررسی است که همه شرایط فضای برداری به جز شرط مزبور برقرار است.

$$\forall (x, y) \in \mathbb{R}^2, 1 \cdot (x, y) = (1x, 0)$$

$$= (x, 0) \neq (x, y) \implies 1 \cdot V \neq V$$

■ اسامی نفراتی که پاسخ مسأله مسابقه‌ای شماره ۹ را کامل و دقیق بیان کرده‌اند.

- ۱ - آقای علیرضا همایونفر
 ۲ - آقای ساسان کمیلی‌زاده
 ۳ - آقای آمر عبدالرحیم
 ۴ - آقای محمد حسین حدادی
 ۵ - آقای مصطفی صفوی
 ۶ - آقای علی مبرهن کسمایی
 ۷ - آقای نادر مطیع
 ۸ - آقای مهدی نارنگی

مسائل مسابقه‌ای

۱- ثابت کنید اگر $K < 1$ باشد آنگاه عدد:

$$P = K^2(2K^2 + 2K^2 - K^2 - 2K - 1)$$

بر ۳۶ بخش پذیر است.

۲- ثابت کنید عدد $A = 3^{20} - 1$ بر عدد $B = 296880$ بخش پذیر است.

۳- بزرگترین و کوچکترین عدد صحیحی را که می‌توان در یک حافظه n بیتی و $2n$ بیتی ذخیره نمود با محاسبه به دست آورد.

(این مسأله مسابقه‌ای، کامپیوتری است)

- هندسه: محمد هاشم رستمی
- ریاضیات جدید: حمید رضا امیری
- جبر و مثلثات: احمد قندهاری -
- محمد رضا هاشمی - مهدی قمصری

۳- اگر ارزش گزاره $(p \vee q) \wedge (\sim p \wedge q)$ درست باشد، ارزش گزاره $(p \vee q)$ را تعیین کنید. اگر گزاره فوق نادرست باشد ارزش $(p \vee q)$ چه خواهد بود؟ در کل چه نتیجه‌ای می‌گیرید.

۴- ارزش گزاره سوری زیر را تعیین کنید:

$$(\forall x \in \mathbb{R}, \frac{x+1}{2x-1} \in \mathbb{R}) \Leftrightarrow [(r \Rightarrow p) \Rightarrow (p \Rightarrow p)]$$

۵- اگر $A_k = [-k, k]$ مطلوب است محاسبه:

الف) $A_1 \cap A_2 \cap \dots \cap A_n \cap \dots$

ب) $A_1 \cup A_2 \cup \dots \cup A_n$

ج) $A_1 \cup A_2 \cup \dots \cup A_n$

$$A_k = [-k, k]$$

توجه کنید که:

$$= \{x \in \mathbb{R} \mid -k \leq x \leq k\}$$

$$A_1 = [-1, 1], A_2 = [-2, 2], \dots$$

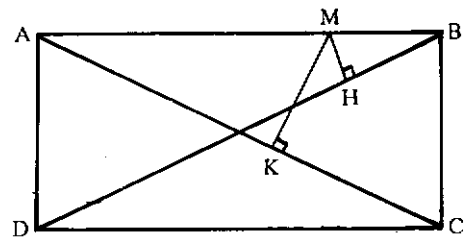
۶- اگر $(A \cup B) = \phi$ ثابت کنید $A = \phi$ و $B = \phi$ با

استفاده از آن ثابت کنید، اگر $(A \cap B) = M$ آنگاه $A = M$ و $B = M$

۷- حاصل عبارت $\frac{(2)^{1/5}}{1 + \sqrt{2 + (3)^{1/3}}} + 9^{0.25} - \frac{1}{2^{-1/2}}$ بیابید.

● مسائل ریاضیات سال اول

۱- مستطیل ABCD مفروض است. اگر M نقطه‌ای دلخواه از ضلع AB باشد، ثابت کنید که مجموع فاصله‌های نقطه M از قطرهای AC و BD $(MH + MK)$ ، مقدار ثابتی است.

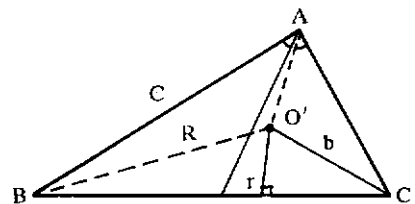


و این مقدار ثابت را تعیین کنید.

(فرستنده: آقای رضا نصیری دانش آموز دبیرستان نمونه روزبه زنجان)

۲- ثابت کنید که مجموع اضلاع مجاور به زاویه قائمه در یک مثلث قائم‌الزاویه، برابر است با مجموع قطرهای دایره‌های محاطی داخلی و محیطی مثلث.

$$\hat{A} = 90^\circ \Rightarrow b + c = 2R + 2r$$



۳- روی مجموعه {۱ و ۲ و ۳} رابطه‌ای بنویسید که

(الف) فقط خاصیت بازتابی داشته باشد (ب) فقط خاصیت تعدی داشته باشد

۴- ثابت کنید، اگر $(A \times B) = (C \times D)$ آنگاه $B = D$ و $A = C$

۵- رابطه زیر روی \mathbb{R} تعریف شده آیا این رابطه تراگذری است؟

$$xRy \iff 2x + 3y = 6$$

۶- تابعی از \mathbb{R}^2 به \mathbb{R}^2 مثال بزنید که:

(الف) یک به یک و پوششی باشد.

(ب) یک به یک باشد ولی پوششی نباشد.

(ج) یک به یک نباشد ولی پوششی باشد.

(د) نه یک به یک و نه پوششی باشد.

۷- فرض می‌کنیم $G = \{a_0, a_1, \dots, a_n\}$ و عمل * را به شکل زیر تعریف می‌کنیم:

$$\forall a_i, a_j \in G, a_i * a_j = \begin{cases} a_{i+j} & i+j < n \\ a_{i+j-n} & i+j \geq n \end{cases}$$

ثابت کنید (* و G) یک گروه آبدلی است.

۸- معادله $(x+1)(x+2)(x+3)(x+4) = 25$ را حل کنید.

۹- چهار عدد تصاعد هندسی می‌سازند. مجموع دو عدد اولی و چهارمی $(\frac{25}{4})$ و مجموع دو عدد دومی و سومی $(\frac{15}{4})$ است. قدر نسبت این تصاعد را بیابید.

۱۰- از دستگاه مقابل x و y را بیابید.

$$\begin{cases} \log_x^y + \log_y^x = \frac{5}{v} \\ x \cdot y = 256 \\ x > y > 1 \end{cases}$$

۱۱- از معادله $a \cos^2 x + a \sin^2 x = a + 1$ مقدار x را حساب کنید.

۸- از دستگاه مقابل مقدار m را بیابید.

$$\begin{cases} 2x + 3y - 4z = 29 \\ x + y + t = m + 4 \\ 4x + y + z = 15 \\ x + 3y + 2z = 19 \end{cases}$$

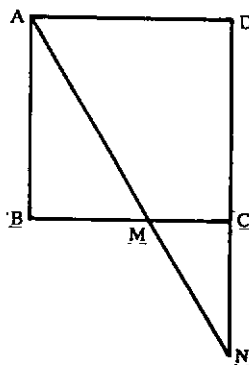
۹- ثابت کنید اگر $a, b, c \neq 0$ ، آنگاه

$$(a^2 + b^2 + c^2) \left(\frac{1}{a^2} + \frac{1}{b^2} + \frac{1}{c^2} \right) \geq 9$$

مسائل ریاضیات سال دوم ریاضی

۱- از رأس A در مربع ABCD به ضلع a، خطی رسم می‌کنیم تا ضلع BC را در نقطه M و امتداد ضلع CD را در نقطه N قطع کند.

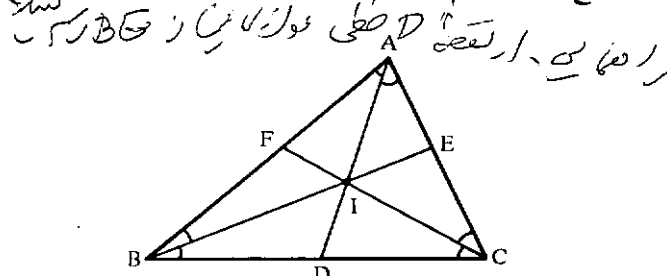
ثابت کنید که $\frac{1}{AM^2} + \frac{1}{AN^2} = \frac{1}{a^2}$



(فرستنده: آقای رضا، شاه اکبری دانش آموز سوم ریاضی از نیشابور)

۲- اگر نقطه I مرکز دایره محاطی داخلی مثلث ABC و خطهای AD، BE، CF نیمسازهای زوایای درونی مثلث باشند، تعیین کنید

که نقطه I پاره خطهای AD، BE و CF را به چه نسبتی (بر حسب اضلاع مثلث) تقسیم می‌کند.



۱۲- شرط لازم برای آنکه دستگاه

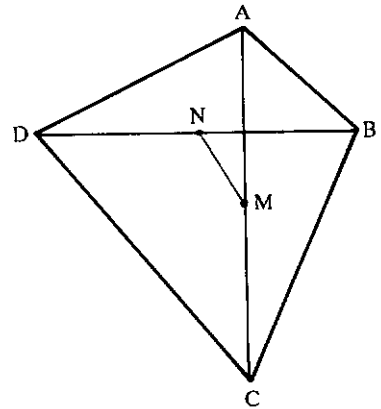
$$\begin{cases} \sqrt{2} \sin x = \sin y \\ b \cos x = \cos y \end{cases}$$

دارای جواب باشد، چیست؟

● مسائل ریاضیات سال سوم ریاضی

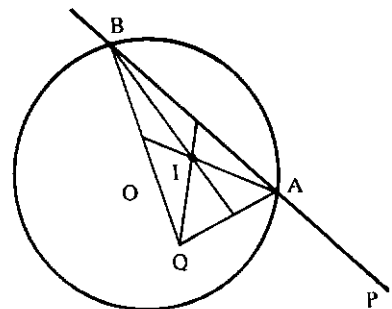
۱- اگر l_1 اندازه مجموع مربعات اضلاع یک چهار ضلعی و l_2 مجموع مربعهای قطرهای همان چهارضلعی، و نقاط N و M وسطهای قطرهای چهار ضلعی باشند، ثابت کنید که:

$$MN = \frac{1}{4} \sqrt{l_1 - l_2} \quad (l_1 > l_2)$$



(فرستنده: آقای بهروز بیرامی دانش آموز سوم ریاضی از نرده)

۲- دایره‌ای به مرکز O و دو نقطه P و Q مفروضند. از نقطه P خطی رسم می‌کنیم تا دایره را در نقاط A و B قطع کند. از نقطه Q به نقاط A و B وصل می‌کنیم. مکان هندسی نقطه برخورد میان‌های مثلث QAB را وقتی قاطع AB حول نقطه P حرکت می‌کند، تعیین کنید.



۳- نشان دهید در یک فضای برداری جابجایی جمع را می‌توان از سایر اصول نتیجه گرفت.

۴- فرض کنیم V_1 و V_2 و \dots و V_n بردار در فضای برداری V باشند ثابت کنید، شرط لازم و کافی برای آنکه n بردار وابسته خطی باشند آن است که، حداقل یکی از این بردارها را بتوان بر حسب یک ترکیب خطی از بقیه بردارها نوشت.

۵- ۶ نفر قرار است در یک کنفرانس سخنرانی کنند به چند طریق این امر امکان پذیر است، هرگاه بخواهیم:
الف) شخص B بعد از شخص A سخنرانی کند.
ب) شخص B بلافاصله بعد از A سخنرانی کند.

۶- درستی تساوی زیر را ثابت کنید:

$$xyz + x(x' + y) + y(x' + y') + xy'z + xz' = x + y$$

۷- اگر باقیمانده تقسیم $P(x)$ بر $(x-1)$ و $(x-2)$ و $(x-3)$ به ترتیب ۲ و ۷ و ۱۳ باشد، باقیمانده تقسیم $P(x)$ را بر $(x^3 - (x-2)(x-1)(x-3))$ بیابید.

۸- منحنی تابع به معادله $y = 27 - x^2$ مفروض است. خط $y = m > 0$ منحنی این تابع را در نقاط A و B قطع می‌کند. ماکزیمم مساحت مستطیل $ABCD$ را بیابید به طوری که ضلع CD روی محور x ها باشد.

۹- نمودارهای سه تابع به معادلات $y_1 = x^2 - 2x$ و $y_2 = 3x^2 - 3x + 2$ را در یک دستگاه رسم کنید.

۱۰- درستی تساوی زیر را اثبات کنید:

$$\operatorname{tg}^2 2^\circ + \operatorname{tg}^2 4^\circ + \operatorname{tg}^2 8^\circ = 33$$

۱۱- حاصل عبارت زیر را به دست آورید.

$$S_n = \operatorname{tg}^2 \frac{a}{\gamma} \operatorname{tg} a + 2 \operatorname{tg}^2 \frac{a}{\gamma^2} \operatorname{tg} \frac{a}{\gamma} + \dots$$

$$+ 2^{n-1} \operatorname{tg}^2 \frac{a}{\gamma^n} \operatorname{tg} \frac{a}{\gamma^{n-1}}$$

سپس مقدار $\lim_{n \rightarrow \infty} S_n$ را حساب کنید.

(فرستنده مسائل ۱۰ و ۱۱: ایلیا پرجمی دانش آموز رشته ریاضی تبریز)

۷- مجموع دو عدد صحیح مثبت ۲۲۴ و تعداد مقسوم علیه‌های مثبت و مشترک آنها ۱۲ است مطلوب است محاسبه آن دو عدد.

۸- اگر $A = \begin{bmatrix} \cos \alpha + \sin \alpha & \sqrt{2} \sin \alpha \\ -\sqrt{2} \sin \alpha & \cos \alpha - \sin \alpha \end{bmatrix}$

$A^n = \begin{bmatrix} \cos n\alpha + \sin n\alpha & \sqrt{2} \sin n\alpha \\ -\sqrt{2} \sin n\alpha & \cos n\alpha - \sin n\alpha \end{bmatrix}$ نشان دهید

۹- با توجه به آنکه هر ماتریس در معادله سرشتنمایی خود صدق می‌کند، ثابت کنید وارون هر ماتریس پایین مثلثی، ماتریسی پایین مثلثی است.

۱۰- تابع به معادله $y = x\sqrt{x} + 3x + 3\sqrt{x} - 5$ مفروض است.

اولاً: بدون استفاده از مشتق ثابت کنید تابع در $x \geq 0$ یک‌به‌یک است. ثانیاً: معادله تابع معکوس را بیابید.

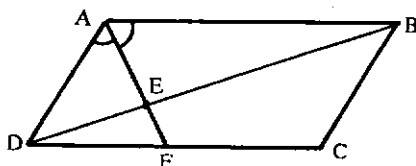
۱۱- معادله درجه سوم $x^3 - 3\sqrt{3}x^2 - 3x + \sqrt{3} = 0$ را حل کنید.

۱۲- با فرض $-\frac{\pi}{2} < x < \frac{\pi}{2}$ مطلوب است محاسبه

$I = \int \frac{\sqrt{2} dx}{\cos x \sqrt{\sin 2x}}$

● مسائل ریاضیات سال دوم تجربی

۱- متوازی الاضلاع ABCD مفروض است. نیمساز زاویه درونی A را رسم می‌کنیم تا قطر BD را در نقطه E وضع CD را در نقطه F قطع کند. نسبت $\frac{EA}{EF}$ را بر حسب اضلاع متوازی الاضلاع محاسبه کنید.



● مسائل ریاضیات چهارم ریاضی

۱- دو بردار \vec{OA} و \vec{OB} و بردار \vec{OC} ، حاصل ضرب برونمی آنها را در نظر می‌گیریم. اگر حجم متوازی السطوحی که سه پاره خط OA و OB و OC سه یال یک رأس آن می‌باشند ۳۶ سانتی متر مکعب باشد، اندازه $|\vec{OC}|$ را حساب کنید.

(از آقای م-۱- گیتی زاده دبیر ریاضی)

۲- دو خط $D: \begin{cases} x = 2t - 1 \\ y = 3 + t \\ z = 5 - 3t \end{cases}$ و

$D': ax + 1 = (b + 1)y - 2 = 3z$ مفروضند. اگر

$D \parallel D'$ باشد، مقادیر a و b را تعیین کنید.

۳- نقاط $A(3, 2, -1)$ و $B(1, 1, 0)$ و $C(2, 0, 1)$ ، رئوس مثلث ABC مفروضند. الف- معادله مکان هندسی نقطه‌ای را که از سه رأس مثلث به یک فاصله می‌باشند تعیین کنید.

ب- مختصات نقطه‌هایی از کره $x^2 + (y-1)^2 + z^2 = 12$ را که از سه نقطه A و B و C به یک فاصله می‌باشند به دست آورید.

۴- آیا بحث زیر معتبر است (چرا؟)

$[(p \Rightarrow q) \wedge r] \Rightarrow q \wedge$

$\sim p \quad \wedge$

$q \Rightarrow s \quad \wedge$

$\sim s$

$\therefore r \Rightarrow p$

۵- در میدان F هر گاه $x, y \in F$ و داشته باشیم $x + y = 1$

و $x^{-1} + y^{-1} = 1$ ثابت کنید $x = y^{-1}$.

۶- اگر a عددی صحیح باشد ثابت کنید: a و $(a + 1)$ و

$(2a + 1)$ دو به دو نسبت به هم اولند و سپس نشان دهید که اعداد

$(2a + 1)$ و $\frac{a(a + 1)}{2}$ نیز نسبت به هم اولند.

۱- حاصل عبارت زیر را به دست آورید.

$$\frac{\sin^2 x + \cos^2 x}{1 - 4 \sin^2 x \cos^2 x + 2 \sin^2 x \cos^2 x} - 2 \sin^2 x \cos^2 x = ?$$

(فرستنده: آقای نیما شاهنده دانش آموز رشته ریاضی بابل)

۱- معادله زیر را حل کنید.

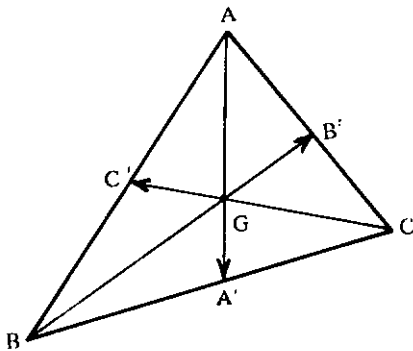
$$\sin 2x - 12 (\sin x - \cos x) + 12 = 0$$

(فرستنده: میثم سبانی دانش آموز رشته ریاضی شادگان)

• مسائل ریاضیات سال سوم تجربی

۱- نقطه G محل برخورد میانه‌های مثلث ABC و نقاط A' و B' و C' به ترتیب وسطهای اضلاع BC و AC و AB می‌باشند.

مطلوب است محاسبه: $\vec{GA'} + \vec{GB'} + \vec{GC'}$



۱

۲- مساحت صفحه قطری مکعبی $16\sqrt{2}$ سانتیمتر مربع است. حجم این مکعب را حساب کنید.

۳- حجم یک قاج کروی به زاویه 60° در کره‌ای را که اندازه سطحش برابر 108π سانتی متر مربع است محاسبه کنید.

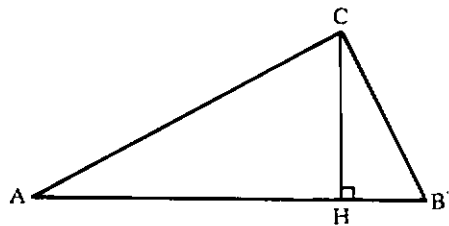
۴- معادله زیر را حل کنید.

$$|x - 2| + |x + 1| = 5$$

۳

(فرستنده: آقای امیر هوشنگ فرهودی مقدم دانش آموز رشته تجربی تهران)

۲- در مثلث قائم‌الزاویه ABC ($\hat{C} = 90^\circ$) ارتفاع CH را رسم می‌کنیم. در صورتی که $AH = m + 4$ و $BH = m + 1$ و $CH = m + 2$ باشد. اندازه اضلاع و مساحت مثلث را محاسبه کنید.



۳- عبارت زیر را به حاصل ضرب عاملها تجزیه کنید.

$$a^3 - a - a^2b - ab^2 - b + b^3$$

(فرستنده: آقای کیوان شجاعی منش دانش آموز رشته تجربی اراک)

۴- اگر m و n ریشه‌های معادله درجه دوم $x^2 - ax + b = 0$ باشند که در آن $a > 0$ و $b > 0$ آنگاه حاصل عبارت $\sqrt{m} + \sqrt{n}$ را حساب کنید. ($m > 0$ و $n > 0$)

(فرستنده: آقای اسماعیل قیصری دیلمه ریاضی فیزیک سقز)

۵- دستگاه دو معادله دو مجهولی زیر را حل کنید.

$$\begin{cases} \sqrt{x} + y = 11 \\ x + \sqrt{y} = 7 \end{cases}$$

(فرستنده: آقای عبدالجلیل توماج دانش آموز شهرستان بندر ترکمن)

۶- قطر زمین مستطیل شکلی برابر ۱۳ متر و $\frac{3}{4}$ محیط این زمین برابر ۵۱ متر است، طول و عرض زمین را حساب کنید.

(فرستنده: آقای محسن چلوبی دانش آموز رشته ریاضی قم)

۷- مجموع زیر را حساب کنید.

$$S_n = 4 + 24 + 224 + 2224 + \dots + \underbrace{222 \dots 24}_{n \text{ مرتبه}}$$

(فرستنده: آقای غلامرضا تهرانی دانش آموز رشته ریاضی الیگودرز)

۸- اگر $6 \log 3 = \log x^2 = 9 \log x$ باشد، مقدار $|x|$ را حساب کنید.

۲

۳- به ازای چه مقداری از m خط مفروض
 $4mx + m^2y + 4 = 0$ قائم بر دایره به معادله
 $12 = 12 - 6x + 3y^2 + 3x^2$ است؟

۴- مطلوب است معادله بیضی که قطرهای آن روی
 خطهای $2x - 6 = 0$ و $3y + 12 = 0$ واقع و بر محورهای
 مختصات مماس باشد.

۵- معادله خط مماس بر هذلولی به معادله $8x^2 - 18y^2 = 72$
 در نقطه‌ای به طول $x = 3$ واقع بر آن را بنویسید.

۶- مکان هندسی نقطه $M(\sin \alpha, \operatorname{tg} \alpha)$ را، تغییر α در
 صفحه محورها مختصات به دست آورید ($\alpha \neq k\pi$)

(فرستنده: آقای علی بلوکی دانش آموز رشته ریاضی تبریز)

۷- سطح محصور بین منحنی به معادله $y = 4 \sin x$ و محور x ها
 و دو خط $x = \frac{\pi}{4}$ و $x = \frac{3\pi}{4}$ را حول محور x ها دوران می‌دهیم،
 حجم حادث را به دست آورید.

۸- به ازای چه مقادیری از m معادله زیر جواب حقیقی ندارد.

$$2m(\sin x + \cos x) = m(\sin x - \cos x) + \sqrt{5}$$

۹- در مثلث ABC ، اگر یک زاویه α و زاویه دیگر 2α و
 اضلاع روبرو به این زوایا به ترتیب c و b و ضلع سوم آن برابر a
 فرض شود، مقدار $\cos 2\alpha$ را به دست آورید.

۵- حد عبارت $\frac{x^n + x^2 + 73}{mx^7 + 2x^2 + 74}$ وقتی $x \rightarrow \pm \infty$
 برابر $\frac{3}{4}$ است، مقدار m و n را تعیین کنید.

۶- اگر تابع دو ضابطه‌ای $f(x) = \begin{cases} kx^2 + s & x < -1 \\ kx^2 + 4 & x \geq -1 \end{cases}$
 نقطه $M(-1, 3)$ پیوسته باشد مقدار عبارت

$$\frac{f'(-3)f''(-3)}{f(0)}$$

را حساب کنید.

۷- تابع با ضابطه $f(x) = \sqrt{x^2 + d}$ مفروض است، در
 صورتی که $f'(1) = 1$ مقادیر d را تعیین کنید.

۸- به ازای چه مقداری از a خط مماس بر منحنی تابع به معادله
 $f(x) = x^2 + ax + 5$ در نقطه‌ای به طول -1 بر خط به معادله
 $9x + 3y + 2 = 0$ عمود است.

۹- ثابت کنید:

$$S = \cos \frac{\pi}{11} \cos \frac{2\pi}{11} \cos \frac{3\pi}{11} \cos \frac{4\pi}{11} \cos \frac{5\pi}{11} = \frac{1}{32}$$

(فرستنده: آقای قاسم اکسیری فرد دانش آموز رشته ریاضی جهرم)

$$\begin{cases} \cos \alpha + \cos \beta = m \\ \sin \alpha + \sin \beta = n \end{cases} \text{ و } mn \neq 0 \text{ اگر } 1-0$$

$$\text{ثابت کنید: } \operatorname{cosec}(\alpha + \beta) = \frac{m^2 + n^2}{2mn}$$

(فرستنده: آقای بهروز بیرامی دانش آموز رشته ریاضی (نقده))

مسائل ریاضیات سال چهارم تجربی

۱- فاصله نقطه $A(-1, 2)$ از خط $2y - 4x - 2m = 0$
 برابر $\frac{\sqrt{20}}{2m}$ است، مقدار مثبت m را تعیین کنید.

۲- به ازای چه مقادیری از m تابع با ضابطه مفروض

$$y = \frac{3mx - 6}{m - 2x}$$

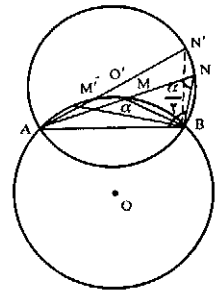
همواره صعودی است؟



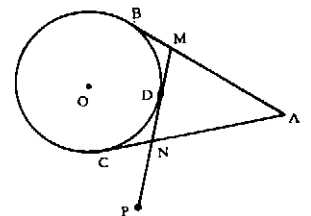
حل مسائل برهانی ۱۰

● حل مسائل ریاضیات سال اول

۱- نقطه دلخواه M را روی کمان \widehat{AB} در نظر گرفته پاره خط AM را به اندازه $MN = MB$ امتداد می دهیم و از N به B وصل می کنیم.
 زاویه \widehat{AMB} زاویه خارجی مثلث متساوی الساقین MBN است. پس $\widehat{AMB} = 2\widehat{ANB}$. بنابراین اگر اندازه زاویه \widehat{AMB} را که مقدار ثابتی است به α نمایش دهیم، داریم $\widehat{ANB} = \frac{1}{2}\alpha = Cte$. پس مکان هندسی نقطه N کمان در خود زاویه $\frac{\alpha}{2}$ مقابل به پاره خط AB است از طرفی داریم $MA + MB = MA + MN = AN$. بنابراین $MA + MB$ وقتی ماکزیم مقدار خود را داراست که AN ماکزیم مقدار ممکن را داشته باشد. و ماکزیم مقدار AN است که AN قطر دایره O' (مکان نقطه N) باشد. در این صورت $\widehat{ABN'} = 90^\circ$ و نقطه M' وسط پاره خط AN' و همچنین وسط کمان AB است. پس نقطه M' وسط کمان AB جواب مسئله است.



۲- می دانیم که مماسهای مرسوم از یک نقطه بر یک دایره با هم برآیند بنابراین اگر نقطه تماس MN با دایره را نقطه D بنامیم داریم $MB = MD$ و $ND = NC$.
 AMN محیط مثلث $\Rightarrow AM + MD + DN + AN$
 AMN محیط مثلث $\Rightarrow AM + MB + NC + NA = AB + AC$
 AMN محیط مثلث $\Rightarrow 2AB = Cte$



۳- گزاره $(p \vee q) \Rightarrow (p \wedge q)$ گزاره ای شرطی است که برای اثبات درستی آن دو حالت در نظر می گیریم.
 ۱) اگر مقدم گزاره یعنی $(p \wedge q)$ نادرست باشد در این صورت کلی

-۸

$$2x + y = a, y + z = b, x + 2z = c$$

$$\begin{cases} \frac{14}{a} + \frac{y}{b} = 2 \\ \frac{21}{b} + \frac{z}{c} = 5 \\ \frac{10}{c} + \frac{y}{a} = 2 \end{cases} \Rightarrow \begin{cases} \frac{21}{b} + \frac{z}{c} = 5 \\ -\frac{20}{c} - \frac{14}{a} = -2 \end{cases} \Rightarrow \frac{21}{b} - \frac{14}{a} = 1$$

$$\frac{21}{b} - \frac{14}{a} = 1 \Rightarrow \frac{21a}{b} = 2 \Rightarrow 21a = 2b \Rightarrow \frac{a}{b} = \frac{2}{21}$$

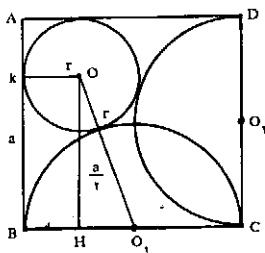
$$\frac{14}{a} + \frac{y}{b} = 2 \Rightarrow \frac{14}{a} = 2 \Rightarrow 2a = 14 \Rightarrow \frac{a}{b} = \frac{1}{2}$$

$$\frac{10}{c} + \frac{y}{a} = 2 \Rightarrow \frac{10}{c} = 1 \Rightarrow \frac{c}{a} = 10$$

$$\begin{cases} 2x + y = a \\ y + z = b \\ x + 2z = c \end{cases} \Rightarrow \begin{cases} -2y - 2z = -14 \\ x + 2z = 10 \end{cases} \Rightarrow \begin{cases} x - 2y = -4 \\ x + 2z = 10 \end{cases}$$

● حل مسائل ریاضیات سال دوم ریاضی

۱- مرکز دایره مورد نظر را O و شعاع آن r را مرکز دایره به قطر BC را O_1 می نامیم. از O عمود OH را بر ضلع BC فرود می آوریم. اگر ضلع مربع را a بنامیم داریم:



$$OO_1 = \frac{a}{2} + r, OH = a - r, O_1H = \frac{a}{2} - r$$

در مثلث قائم الزاویه HOO₁ می توان نوشت:

$$OO_1^2 = OH^2 + O_1H^2 \Rightarrow \left(\frac{a}{2} + r\right)^2 = (a - r)^2 + \left(\frac{a}{2} - r\right)^2$$

$$\Rightarrow r^2 - 2ar + a^2 = 0 \Rightarrow r = a(2 \pm \sqrt{3})$$

چون $r < a$ است، پس جواب قابل قبول $r = a(2 - \sqrt{3})$ است.

۲- نقطه تقاطع AD و BC را M می نامیم. مثلث MCD در راست

گزاره به انتهای مقدم درست خواهد بود.
 II) اگر مقدم گزاره یعنی $(p \wedge q)$ درست باشد، در این صورت گزاره های p و q هر دو درست بوده و در نتیجه $(p \vee q)$ که تالی مقدم و تالی گزاره داده شده درست است.

۴- واضح است که مجموعه $\{a, \{a\}, \{a, \{a\}\}\}$ دارای سه عضو و در نتیجه دارای $2^3 = 8$ زیر مجموعه است. ثانیاً اگر مجموعه $\{a, \{a\}\}$ را B در نظر بگیریم B \subset A بوده و داریم $\{a\} \in B$.

۵- طبق فرض داریم:

$$\begin{aligned} A - (B - C) &= (A - B) - C \Rightarrow A \cap (B \cap C)' = (A \cap B) \cap C' \\ &\Rightarrow A \cap (B' \cup C) = (A \cap B') \cap C' \\ &\Rightarrow (A \cap B') \cup (A \cap C) = C' \cap (A \cap B) \\ &\Rightarrow (A \cap C) \cap [(A \cap B') \cup (A \cap C)] \\ &= (A \cap C) \cap [C' \cap (A \cap B)] \\ &\stackrel{\text{جذب}}{\Rightarrow} (A \cap C) = [(A \cap C) \cap C'] \cap (A \cap B) = (A \cap C) \cap \emptyset = \emptyset \end{aligned}$$

۶- داریم:

$$\begin{aligned} \left(x + \frac{1}{x^2}\right) \left(x^2 + \frac{1}{x^2}\right) &= x^3 + \frac{1}{x} + x + \frac{1}{x^3} \\ \Rightarrow x^3 + \frac{1}{x^3} &= \left(x^2 + \frac{1}{x^2}\right) \left(x + \frac{1}{x}\right) - \left(x + \frac{1}{x}\right) \\ x^2 + \frac{1}{x^2} &= \left(x + \frac{1}{x}\right)^2 - 2x \cdot \frac{1}{x} \left(x + \frac{1}{x}\right) = A^2 - 2A \\ x^2 + \frac{1}{x^2} &= \left[x + \frac{1}{x}\right]^2 - 2 = \left[\left(x + \frac{1}{x}\right)^2 - 2\right]^2 - 2 \\ &= (A^2 - 2)^2 - 2 = A^4 - 4A^2 + 2 \\ \Rightarrow x^3 + \frac{1}{x^3} &= (A^4 - 4A^2 + 2)(A^2 - 2A^2 + 2) - A \end{aligned}$$

-۲

$$\begin{aligned} &\sqrt{(\sqrt{3}-1)^2} + \sqrt{(2-\sqrt{2})^2} + \sqrt{9} + \\ &\sqrt{0.5} + \sqrt{0.1} \\ &\sqrt{3}-1 + 2 - \sqrt{2} + 3 + 0.7 + 0.3 \\ &-1 + 2 + 3 + 0.7 + 0.3 = 5 \end{aligned}$$

$$\Rightarrow x^2 - 8x - 6x(1) = 1$$

ریشه‌های این معادله x^2 و $x^{\sqrt{2}}$ است. $\Rightarrow x^2 - 14x - 1 = 0$.
حال دوباره معادله جدیدی می‌سازیم که ریشه‌هایش مکعب
ریشه‌های این معادله باشد.

$$x \rightarrow \sqrt[3]{x} \Rightarrow \sqrt[3]{x^2} - 14\sqrt[3]{x} - 1 = 0$$

طرفین را به توان (۳) می‌رسانیم: $\sqrt[3]{x^2} - 14\sqrt[3]{x} - 1 = 0$

$$x^2 - 2744x - 42x(\sqrt[3]{x^2} - 14\sqrt[3]{x}) = 1$$

$$x^2 - 2744x - 42x(1) = 1$$

ریشه‌های این معادله x^2 و $x^{\sqrt{2}}$ است. $\Rightarrow x^2 - 2786x - 1 = 0$.

$$x^{\sqrt{2}} + x^{\sqrt{2}} = (x^{\sqrt{2}} + x^{\sqrt{2}})^2 - 2x^{\sqrt{2}}x^{\sqrt{2}}$$

$$= \left(-\frac{b}{a}\right)^2 - 2x \frac{c}{a}$$

$$x^{\sqrt{2}} + x^{\sqrt{2}} = (2786)^2 - 2(-1) = 7761798$$

-A

$$\operatorname{tg}_a \operatorname{tg}_a \sqrt[n]{\sqrt[n]{\dots \sqrt[n]{a}}} = \operatorname{tg}_a \operatorname{tg}_a a^{\frac{1}{n^2}}$$

$$= \operatorname{tg}_a \operatorname{tg}_a (a)^{\frac{1}{n^2}} = \operatorname{lg}_a \frac{1}{a^n} \operatorname{lg}_a a$$

$$= \operatorname{lg}_a \frac{1}{a^n} = \operatorname{lg}_a a^{-n} = -n \operatorname{lg}_a a = -n$$

۹- از فرض داریم:

$$\operatorname{asin}^2 x - \operatorname{bcos}^2 x = a - b \Rightarrow a(1 - \cos^2 x) - \operatorname{bcos}^2 x = a - b$$

$$\Rightarrow a - \operatorname{acos}^2 x - \operatorname{bcos}^2 x = a - b \Rightarrow \operatorname{cos}^2 x = \frac{b}{a+b} \quad (1)$$

همچنین داریم:

$$\operatorname{asin}^2 x - b(1 - \sin^2 x) = a - b \Rightarrow \operatorname{asin}^2 x - b + \operatorname{bsin}^2 x = a - b$$

$$\Rightarrow \operatorname{sin}^2 x = \frac{a}{a+b} \quad (2)$$

از روابط (۱) و (۲) نتیجه می‌شود:

$$\begin{cases} \operatorname{sin}^2 x = \frac{a}{a+b} \\ \operatorname{cos}^2 x = \frac{b}{a+b} \end{cases} \Rightarrow \begin{cases} \frac{\operatorname{sin}^2 x}{a} = \frac{1}{a+b} \\ \frac{\operatorname{cos}^2 x}{b} = \frac{1}{a+b} \end{cases} \quad (3) \quad (4)$$

از جمع روابط (۳) و (۴) داریم:

$$\frac{\operatorname{sin}^2 x}{a} + \frac{\operatorname{cos}^2 x}{b} = \frac{1}{a+b} + \frac{1}{a+b} = \frac{2}{a+b}$$

۱۰- به ترتیب داریم:

$$\sqrt[4]{\operatorname{sin}^2 \alpha} - \sqrt[4]{\operatorname{cos}^2 \alpha} = \sqrt[4]{\sqrt{2}} \Rightarrow \sqrt[4]{\operatorname{sin}^2 \alpha} - \sqrt[4]{1 - \operatorname{sin}^2 \alpha} = \sqrt[4]{\sqrt{2}}$$

$$\Rightarrow \sqrt[4]{\operatorname{sin}^2 \alpha} - \frac{\sqrt{2}}{\sqrt[4]{\operatorname{sin}^2 \alpha}} = \sqrt[4]{\sqrt{2}}$$

با فرض $x = \sqrt[4]{\operatorname{sin}^2 \alpha}$ می‌توان نوشت:

$$x - \frac{\sqrt{2}}{x} = \sqrt[4]{\sqrt{2}} \Rightarrow x^2 - \sqrt{2}x - \sqrt{2} = 0$$

$$\Rightarrow x = \frac{\sqrt{2} \pm \sqrt{2 + 16}}{2}$$

$$x = \frac{\sqrt{2} \pm 2\sqrt{2}}{2} \Rightarrow$$

$$x_1 = \frac{\sqrt{2} + 2\sqrt{2}}{2} = \frac{3\sqrt{2}}{2} = 2\sqrt{2}$$

$$x_2 = \frac{\sqrt{2} - 2\sqrt{2}}{2} = \frac{-\sqrt{2}}{2} = -\frac{\sqrt{2}}{2} \quad (\text{غیرقابل قبول})$$

$$a^{a-1} \Rightarrow e = e \quad \text{عضو خنثی}$$

$$\forall a * a' = a' * a = e = e$$

$$a * a' = e \Rightarrow aa' + a + a' = e \Rightarrow a'(a+1) = -a$$

$$\Rightarrow a' = \frac{-a}{a+1} \quad \text{ضابطه عضو متقابل}$$

بنابراین مجموعه $\{IR - \{-1\}\}$ و عمل * تشکیل یک گروه

می‌دهند و چون داریم:

$$a * b = ab + a + b = ba + b + a = b * a$$

پس یک گروه آبدی است.

برای حل معادله $(3 * 2) = (4 * x)$ با استفاده از ضابطه

عضو متقابل داریم:

$$2' = \frac{-2}{2+1} = \frac{-2}{3}$$

$$(3 * 2') = 3 * \frac{-2}{3} = 3 * \frac{-2}{3} + 3 + \frac{-2}{3} = -2 + 3 + \left(\frac{-2}{3}\right)$$

$$= 1 - \frac{2}{3} = \frac{1}{3}$$

$$(4 * x) = (4x + 4 + x) = \frac{-(4x + 4 + x)}{(4x + 4 + x) + 1} = \frac{-4x - 4 - x}{4x + 5}$$

$$= \frac{-4x - 4}{4x + 5}$$

$$(3 * 2') = (4 * x) \Rightarrow \frac{1}{3} = \frac{-4x - 4}{4x + 5}$$

$$\Rightarrow -15x - 15 = 4x + 5 \Rightarrow -20x = 20 \Rightarrow x = \frac{-20}{-20} = 1$$

-6

معادله خطی که از مبدأ می‌گذرد:

$$y = mx \Rightarrow m = 2$$

$$\Rightarrow y = 2x \quad \text{معادله OA}$$

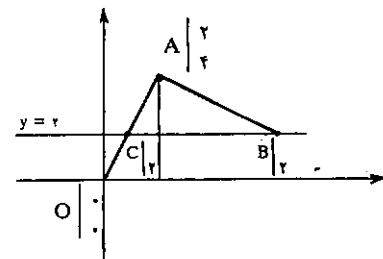
$$y_C = 2 \Rightarrow 2 = 2x \Rightarrow x = 1 \Rightarrow \begin{bmatrix} C \\ 1 \\ 2 \end{bmatrix}$$

$$A \begin{bmatrix} 2 \\ 4 \end{bmatrix} \text{ و } m_{AB} = -\frac{1}{2} \Rightarrow y - y_1 = m(x - x_1)$$

$$\Rightarrow y - 4 = -\frac{1}{2}(x - 2) \quad \text{معادله AB}$$

$$y_B = 2 \Rightarrow 2 - 4 = -\frac{1}{2}(x - 2) \Rightarrow -2 = -\frac{1}{2}(x - 2)$$

$$\Rightarrow 4 = x - 2 \Rightarrow x = 6 \Rightarrow \begin{bmatrix} B \\ 6 \\ 2 \end{bmatrix}$$



۷- ابتدا معادله درجه دوم جدیدی تشکیل می‌دهیم که

ریشه‌هایش مکعب ریشه‌های معادله $x^2 - 2x - 1 = 0$ برای این کار کافی است $x \rightarrow \sqrt[3]{x}$ و در معادله قرار می‌دهیم.

طرفین را به توان (۳) می‌رسانیم:

$$\sqrt[3]{x^2} - 2\sqrt[3]{x} - 1 = 0 \Rightarrow \sqrt[3]{x^2} - 2\sqrt[3]{x} = 1$$

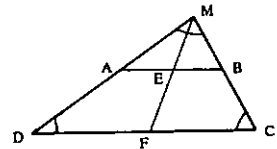
$$x^2 - 8x - 6x(\sqrt[3]{x^2} - 2\sqrt[3]{x}) = 1$$

M قائم الزاویه است زیرا $\hat{A} + \hat{C} = 90^\circ$ است. بنابراین خط EF

از نقطه M می‌گذرد. در مثلثهای قائم الزاویه MAB و MCD

و MF میانه‌های وارد بر وتراند. پس $ME = \frac{AB}{2}$ و $MF = \frac{CD}{2}$

$$EF = MF - ME = \frac{CD}{2} - \frac{AB}{2} = \frac{CD - AB}{2} \quad \text{لذا:}$$



۳- به روش عضوگیری دلخواه مسأله را اثبات می‌کنیم:

$$(x, y) \in [(A \times C) \cap (B \times D)]$$

عریف اشتراک

$$\Leftrightarrow (x, y) \in (A \times C) \wedge (x, y) \in (B \times D)$$

$$\Leftrightarrow (x \in A \wedge y \in C) \wedge (x \in B \wedge y \in D)$$

بسیاری در شرکت پذیری

$$\Leftrightarrow (x \in A \wedge x \in B) \wedge (y \in C \wedge y \in D)$$

$$\Leftrightarrow x \in (A \cap B) \wedge y \in (C \cap D)$$

$$\Leftrightarrow (x, y) \in [(A \cap B) \times (C \cap D)]$$

بنابراین چون روابط برگشت پذیر هستند، تساوی برقرار است.

۴- طبق فرض رابطه روی IR $\forall x, y \in IR$ در صورت زیر تعریف شده:

$$(x, y) R (z, t) \Leftrightarrow (y - t) = 2(x - z)$$

$$1) \forall (x, y) \in IR^2 : (y - y) = 2(x - x) \Rightarrow (y - y) = 2(x - x)$$

$$\Rightarrow (x, y) R (x, y) \quad \text{بازتابی است}$$

$$2) (x, y) R (z, t) \Rightarrow (y - t) = 2(x - z)$$

دستی غریبی کنیم

$$\Rightarrow (t - y) = 2(z - x) \Rightarrow (z, t) R (x, y) \quad \text{تقارنی است}$$

$$3) (x, y) R (z, t) \wedge (z, t) R (e, f)$$

$$\Rightarrow (y - t) = 2(x - z) \wedge (t - f) = 2(z - e)$$

$$\Rightarrow (y - t) = 2(x - 2z) \wedge (t - f) = 2(2z - e)$$

$$\Rightarrow (y - t) = (2x - 2z) \wedge (t - f) = (2z - 2e)$$

طرفین نام مساوی

$$\Rightarrow (y - f) = (2x - 2e) \Rightarrow (y - f) = 2(x - e)$$

$$\Rightarrow (x, y) R (e, f) \quad \text{خاصیت تعدی دارد}$$

بنابراین R یک رابطه هم‌ارزی است.

برای تشکیل کلاس هم‌ارزی $\{(2, 1)\}$ طبق تعریف داریم:

$$[(2, 1)] = \{(x, y) \in IR^2 \mid (x, y) R (2, 1)\}$$

$$= \{(x, y) \in IR^2 \mid (y - 1) = 2(x - 2)\}$$

$$= \{(x, y) \in IR^2 \mid y = 2x - 3\}$$

۵- به بررسی خواص گروه می‌پردازیم:

$$1) a * (b * c) = a * (bc + b + c) = a(bc + b + c) + (a + bc + b + c)$$

$$= abc + ab + ac + bc + a + b + c \quad (1)$$


$$(a * b) * c = (ab + a + b) * c = (ab + a + b)c + (ab + a + b) + c$$

$$= abc + ac + bc + ab + a + b + c \quad (2)$$

شرکت پذیری برقرار است $\Rightarrow (1) \text{ و } (2)$

$$2) a * e = e * a = a$$

$$a * e = a \Rightarrow ac + a + e = a \Rightarrow c(a + 1) = 0$$



-۷

$$A = (2 \times 1111)^{1111} + (3 \times 1111)^{1111} =$$

$$(2^{1111} \times 1111^{1111}) + (3^{1111} \times 1111^{1111})$$

$$A = (2^2)^{1111} \times 1111^{1111} + (3^2)^{1111} \times 1111^{1111}$$

$$A = 1111^{1111} \times (4^{1111} + 9^{1111}) =$$

$$1111^{1111} \times (4444^{1111} + 9^{1111})$$

$$A = 1111^{1111} \times (4444 + 9) \times (4444^{1111} - 4444^{1110} + \dots + 4^{1111})$$

$$A = 1111^{1111} \times (4447) \times k = (1111)^{1111} \times (13 \times 7 \times 9) \times k$$

برای A بخش پذیر است

توجه: ضمایم این عدد بر ۲۳ و ۲۹ هم بخش پذیر است.

۸- هر تابع هموگرافیکی را می توان به صورت مقابل نشان داد.

$$y = \frac{mx + n}{x + k}$$

مجاوب قائم: $x + k = 0 \Rightarrow y + k = 0 \Rightarrow k = -y$

مجاوب افقی: $y = \frac{m}{1} \Rightarrow 1 = \frac{m}{1} \Rightarrow m = 1$

$$A \left| \frac{1}{4} \right. \Rightarrow \frac{1}{p} = \frac{n}{k} \Rightarrow \frac{1}{p} = \frac{n}{-y} \Rightarrow n = -\frac{y}{p}$$

تابع مورد نظر $\Rightarrow y = \frac{x - \frac{1}{p}}{x - y} \Rightarrow y = \frac{yx - 1}{yx - y}$

۹- با فرض $\cos \alpha = \frac{b}{a} < 1$ داریم:

$$p = \frac{a \left(1 + \frac{b}{a} \right)}{a \left(1 - \frac{b}{a} \right)} = \frac{1 + \frac{b}{a}}{1 - \frac{b}{a}} = \frac{1 + \cos \alpha}{1 - \cos \alpha} =$$

$$\frac{2 \cos^2 \frac{\alpha}{2}}{2 \sin^2 \frac{\alpha}{2}} = \operatorname{tg}^2 \frac{\alpha}{2} \Rightarrow p = \operatorname{tg}^2 \frac{\alpha}{2}$$

۱۰- با توجه به اتحاد مثلثاتی

داریم: $\operatorname{tg} 2\alpha = \operatorname{tg} \alpha \operatorname{tg} (60^\circ - \alpha) \operatorname{tg} (60^\circ + \alpha)$

$$\alpha = 5^\circ: \operatorname{tg} 2\alpha \cdot 5^\circ = \operatorname{tg} 5^\circ \operatorname{tg} (60^\circ - 5^\circ) \operatorname{tg} (60^\circ + 5^\circ)$$

$$\Rightarrow \operatorname{tg} 10^\circ = \operatorname{tg} 5^\circ \operatorname{tg} 55^\circ \operatorname{tg} 65^\circ$$

بنابراین می توان نوشت:

$$\operatorname{tg} 5^\circ \operatorname{tg} 55^\circ \operatorname{tg} 65^\circ \operatorname{tg} 65^\circ = \operatorname{tg} 10^\circ \operatorname{tg} 65^\circ = \operatorname{tg} 10^\circ \operatorname{ctg} 10^\circ = 1$$

۱۱- اگر در معادله فوق عبارت $\cos^2 \left(\frac{\pi}{3} - x \right)$ را بسط دهیم، معادله به یک معادله کلاسیک نوع سوم تبدیل می شود:

۱) $f_1, f_2 \in W \Rightarrow f_1(\delta) = 0, f_2(\delta) = 0$

$$\Rightarrow (f_1 + f_2)(\delta) = f_1(\delta) + f_2(\delta) = 0 + 0 = 0$$

$$\Rightarrow (f_1 + f_2) \in W$$

۲) فرض کنیم $r \in \mathbb{R}, f_1 \in W \Rightarrow f_1(\delta) = 0$

$$\Rightarrow (r \cdot f_1)(\delta) = r \cdot f_1(\delta) = r \cdot 0 = 0 \Rightarrow (r \cdot f_1) \in W$$

۴- تعداد خودکارهای سالم برابر است با $9 \times 15 = 135$ پس:

الف) $P(A) = \frac{\binom{9}{1} \binom{15}{1}}{\binom{24}{2}}$

ب) $\frac{\binom{6}{1} \times \binom{9}{2} + \binom{6}{2} \times \binom{9}{1} + \binom{6}{2} \times \binom{9}{1} + \binom{6}{1} \times \binom{9}{2}}{\binom{15}{2}}$

حد اکثر یکی خراب $= P(B)$

ج) $\frac{\binom{6}{2} \times \binom{9}{1} + \binom{6}{1} \times \binom{9}{2} + \binom{6}{1} \times \binom{9}{2} + \binom{6}{2} \times \binom{9}{1}}{\binom{15}{2}}$

حد اکثر ۳ عدد خراب $= P(C)$

۵- وقتی سکه ای را ۶ بار پرتاب می کنیم در هر مرتبه پیشامد مستقل از دفعات بعدی یا قبلی اش می باشد. بنابراین:

$$P(\text{ر, د, ر, د, ر, د}) = P(\text{پ}) \times \dots \times P(\text{ر})$$

$$= \frac{1}{2} \times \frac{1}{2} \times \frac{1}{2} \times \frac{1}{2} \times \frac{1}{2} \times \frac{1}{2} = \left(\frac{1}{2}\right)^6 = \frac{1}{64}$$

-۶

$$\left[\frac{y+y}{2} \right] + \left[\frac{-x+y}{2} \right] = 0 \Rightarrow \left[\frac{y}{2} \right] + \left[\frac{-x}{2} \right] = -2$$

$$-2 \leq \frac{-x}{2} < -1 \Rightarrow 1 < \frac{x}{2} \leq 2 \Rightarrow 2 < x \leq 4$$

$$\left[\frac{y}{2} \right] - 2 = -2 \Rightarrow \left[\frac{y}{2} \right] = 0$$

$$\Rightarrow 0 \leq \frac{y}{2} < 1 \Rightarrow 0 \leq y < 2$$

$$-1 \leq \frac{x}{2} < 0 \Rightarrow 0 < \frac{x}{2} \leq 1 \Rightarrow 0 < x \leq 2$$

$$\left[\frac{y}{2} \right] - 1 = -2 \Rightarrow \left[\frac{y}{2} \right] = -1 \Rightarrow -1 \leq \frac{y}{2} < 0$$

$$\Rightarrow -2 \leq y < 0$$

$$0 \leq \frac{-x}{2} < 1 \Rightarrow -1 < \frac{x}{2} \leq 0 \Rightarrow -2 < x \leq 0$$

$$\left[\frac{y}{2} \right] = -2 \Rightarrow -2 \leq \frac{y}{2} < -1 \Rightarrow -4 \leq y < -2$$

$$1 < -\frac{x}{2} \leq 2 \Rightarrow -2 < \frac{x}{2} \leq -1 \Rightarrow -4 < x \leq -2$$

$$\left[\frac{y}{2} \right] = -3 \Rightarrow -3 \leq \frac{y}{2} < -2 \Rightarrow -6 \leq y < -4$$

دو شکل AD و DC شامل شکل نیستند و این مطلب در مورد سایر مربعها نیز صادق است.

مقدار $2^{\sin \alpha}$ همواره مثبت است، لذا داریم:

$$\Rightarrow x' = 2^{\sin \alpha} = 2\sqrt{2}$$

● حل مسائل ریاضیات سال سوم ریاضی

۱- مساحت مثلثهای PBC_1 و PCB_1 را به ترتیب S_1 و S_2 و محیطهای این دو مثلث را $2P_1$ و $2P_2$ فرض می کنیم و ارتفاعهای نظیر رأس P در این دو مثلث را h_1 و h_2 و شعاع دایره های محاطی داخلی آنها را r_1 و r_2 می نامیم. بنا به فرض مسئله داریم:

$$\begin{cases} S_1 = S_2 \\ 2P_1 = 2P_2 \end{cases} \Rightarrow r_1 P_1 = r_2 P_2 \Rightarrow$$

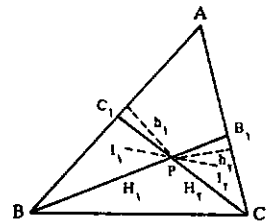
$$r_1 = r_2 \Rightarrow I_1 H_1 = I_2 H_2$$

بنابراین دو مثلث قائم الزامه $PI_1 H_1$ و $PI_2 H_2$ با هم برابرند. در نتیجه $PH_1 = PH_2$ است. لذا:

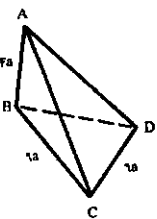
$$\begin{cases} PH_1 = P_1 - BC_1 \\ PH_2 = P_2 - B_1 C \end{cases} \Rightarrow P_1 - BC_1 = P_2 - B_1 C$$

$$P_1 = P_2 \Rightarrow BC_1 = B_1 C$$

از طرفی: $S_1 = \frac{1}{2} BC_1 \cdot h_1$ و $S_2 = \frac{1}{2} B_1 C \cdot h_2$ و $S_1 = S_2$ نتیجه می شود که $h_1 = h_2$ یعنی نقطه P از دو ضلع AC و AB یک فاصله است. لذا روی نیمساز زاویه درونی A قرار دارد.



۲- مثلثهای ABC و BCD هر کدام یک زاویه قائمه دارند، زیرا $AB \perp BC$ و $BC \perp CD$ است. پس قائم الزامه اند. مثلث ABD نیز در رأس B قائم الزامه است زیرا $AB \perp BC$ و $BC \perp CD$ پس $AB \perp CD$ و در نتیجه بر صفحه BCD عمود است.



در این مثلثهای قائم الزامه داریم: $AD = 2\sqrt{2}a$ و $BD = 2\sqrt{2}a$ و $AC = 2\sqrt{2}a$ پس مثلث ACD نیز در رأس C قائم الزامه است چون $CD^2 = 2a^2$ و $AC^2 = 8a^2$ و $AD^2 = 8a^2$ و وجهی چهار وجهی همه مثلثهای قائم الزامه اند. اما حجم چهار وجهی برابر است با:

$$\text{حجم چهار وجهی} = \frac{1}{3} S_{BCD} \times AB = \frac{1}{3} \times \frac{2\sqrt{2}a^2}{2} \times 2a = \frac{2\sqrt{2}a^3}{3}$$

۳- برای اثبات زیر فضا بودن W کافی است ثابت کنیم مجموعه W نسبت به جمع و ضرب اسکالر بسته است.

-۸

$$\text{داریم} \begin{cases} 1+2+3+\dots+n = \frac{n(n+1)}{2} & n \in \mathbb{N} \\ 1+2+3+\dots+n^2 = \frac{n^2(n^2+1)}{3} & n \in \mathbb{N} \end{cases}$$

$$\text{حد} \left(\frac{1}{n^2} + \frac{2}{n^2} + \frac{3}{n^2} + \dots + \frac{n^2}{n^2} \right) = \lim_{n \rightarrow +\infty} \frac{1+2+3+\dots+n^2}{n^2} = \lim_{n \rightarrow +\infty} \frac{\frac{n^2(n^2+1)}{3}}{n^2} = \frac{1}{3}$$

$$\text{حد} \frac{n^2}{n^2} = \frac{1}{1} = 1$$

-۹

$$y' = \frac{-x^2+3}{(x^2+x+3)^2} \Rightarrow y'' = \frac{x^2-9x-3}{(x^2+x+3)^3}$$

$$y = 0 \Rightarrow x^2-9x-3 = 0 \Rightarrow \Delta = 9^2+12 = 81+12 = 93 > 0$$

چون در معادله درجه سوم $y'' = 0$ ، $\Delta < 0$ پس این معادله سه ریشه حقیقی متمایز دارد و علامت y'' در طرفین هر یک از ریشه‌ها متفاوت است پس منحنی این تابع سه نقطه عطف دارد.

$$\int \frac{dx}{a^2 \sin^2 x + b^2 \cos^2 x} = \int \frac{dx}{b^2 \cos^2 x \left(1 + \frac{a^2}{b^2} \tan^2 x \right)}$$

$$\frac{1}{b^2} \int \frac{(1+\tan^2 x) dx}{1 + \frac{a^2}{b^2} \tan^2 x}$$

$$U = \frac{a}{b} \tan x \Rightarrow du = \frac{a}{b} (1+\tan^2 x) dx$$

$$\Rightarrow \int \frac{du}{1+u^2} = \frac{1}{ab} \int \frac{bdu}{1+u^2} = \frac{1}{ab} \text{Arctg} u + c$$

$$= \frac{1}{ab} \text{Arctg} \left(\frac{a}{b} \tan x \right) + c$$

حل مسائل ریاضیات سال دوم تجربی

۱- در مثلث قائم‌الزاویه ABC ($\hat{A} = 90^\circ$) داریم:

$$a^2 = b^2 + c^2 \Rightarrow$$

اما بنا به فرض سؤال، $4a = 5b$ ، پس $a = \frac{5}{4}b$ ، و از آنجا:

$$\left(\frac{5}{4}b\right)^2 = b^2 + c^2 \Rightarrow \frac{9}{16}b^2 = c^2$$

$$\Rightarrow \frac{3}{4}b = c \text{ یا } c = \frac{3}{4}b$$

لذا اضلاع مثلث بر حسب b برابرند با:

$$\frac{5}{4}b, b, \frac{3}{4}b$$

و یا 5b و 4b و 3b که تشکیل تصاعد عددی با قدر نسبت b

$$\Rightarrow y^2 + 4y + 4 = 0 \Rightarrow (y+2)^2 = 0 \Rightarrow$$

نقطه مطلوب $y = -2 \Rightarrow M(0, -2)$
 نکته ۱- از معادله دو دایره داده شده، مشخص است که محور اصلی دو دایره محور y ها یعنی $x=0$ است.

نکته ۲- چون معادله تلاقی محور اصلی دو دایره و بیضی ریشه مضاعف دارد پس محور اصلی، بر بیضی مماس است.

-۲

۱) $p \Rightarrow (q \vee r) \wedge$

۲) $(q \vee s) \Rightarrow t \wedge$

۳) $(\sim t \wedge p)$

از ۳ و حذف عاطف $\sim t$

از ۳ و حذف عاطف p

از ۱ و ۵ و انتزاع $(q \vee r)$

از ۲ و ۴ و نفیض انتزاع $(\sim q \wedge \sim s) \equiv (\sim q \wedge \sim s)$

از ۷ و حذف عاطف $\sim q$

از ۶ و ۸ و رفع مؤلفه $\sim s$

۵- مجموعه $A = \{x, x+2, x+2^2, \dots, x+2^n\}$

تشکیل یک دسته کامل مانده‌ها به متغیر x داده و این را می‌توان با یک مثال نقض نشان داد. زیرا کافی است دو عضو A به بیانه \vee با هم، هم‌نهشت باشند و داریم:

$$x + 2^n \equiv x + 2^1$$

۶- ابتدا ماتریس تعارن نسبت به خط $y = 2x$ را یافته و سپس توسط آن فریبه یک نقطه دلخواه از خط داده شده را نسبت به خط $y = 2x$ محاسبه کرده و در معادله خط داده شده اعمال می‌کنیم.

$$y = 2x \Rightarrow \text{tg } \theta = 2 \Rightarrow \cos^2 \theta = \frac{1}{5}, \sin^2 \theta = \frac{4}{5}$$

$$\Rightarrow A = \begin{bmatrix} \cos^2 \theta & \sin^2 \theta \\ \sin^2 \theta & -\cos^2 \theta \end{bmatrix} = \begin{bmatrix} \frac{1}{5} & \frac{4}{5} \\ \frac{4}{5} & -\frac{1}{5} \end{bmatrix}$$

$$\begin{bmatrix} \frac{1}{5} & \frac{4}{5} \\ \frac{4}{5} & -\frac{1}{5} \end{bmatrix} \begin{bmatrix} x \\ y \end{bmatrix} = \begin{bmatrix} X \\ Y \end{bmatrix} \Rightarrow$$

$$x = \frac{4Y - 2X}{5}, y = \frac{2X + 3Y}{5}$$

$$y, x \text{ در معادله داده شده} \Rightarrow 2\left(\frac{4Y - 2X}{5}\right) + 2\left(\frac{2X + 3Y}{5}\right) = 1$$

$$\Rightarrow 18Y - X = 20 \leftarrow \text{فریبه خط مزبور}$$

-۷

$$\begin{vmatrix} a & x-t & ay+az \\ a & y-t & ax+az \\ a & z-t & ax+ay \end{vmatrix} = axa \begin{vmatrix} 1 & x-t & y+z \\ 1 & y-t & x+z \\ 1 & z-t & x+y \end{vmatrix}$$

$$\begin{vmatrix} 1 & x-t & x+y+z-t \\ 1 & y-t & x+y+z-t \\ 1 & z-t & x+y+z-t \end{vmatrix} = a^2$$

$$a^2 = (x+y+z-t) \begin{vmatrix} 1 & x-t & 1 \\ 1 & y-t & 1 \\ 1 & z-t & 1 \end{vmatrix} = 0$$

$$\cos^2 x + \cos^2\left(\frac{\pi}{2} - x\right) = \frac{2}{3} \Rightarrow$$

$$\cos^2 x + (\cos^2 \frac{\pi}{2} \cos x + \sin^2 \frac{\pi}{2} \sin x)^2 = \frac{2}{3}$$

$$\cos^2 x + \frac{1}{4} \cos^2 x + \frac{3}{4} \sin^2 x + \frac{\sqrt{3}}{2} \sin x \cos x = \frac{2}{3}$$

$$5\cos^2 x + 3\sin^2 x + 2\sqrt{3} \sin x \cos x = 6$$

طرفین معادله را بر $\cos^2 x$ تقسیم می‌کنیم:

$$5 + 3\text{tg}^2 x + 2\sqrt{3} \text{tg} x = 6 + 6\text{tg}^2 x$$

$$\Rightarrow 3\text{tg}^2 x - 2\sqrt{3} \text{tg} x + 1 = 0$$

$$\Rightarrow (\sqrt{3} \text{tg} x - 1)^2 = 0 \Rightarrow \sqrt{3} \text{tg} x - 1 = 0$$

$$\Rightarrow \text{tg} x = \frac{\sqrt{3}}{3} = \text{tg} \frac{\pi}{6} \Rightarrow \boxed{x = k\pi + \frac{\pi}{6}}$$

حل مسائل ریاضیات سال چهارم ریاضی

۱- مثلثهای قائم‌الزاویه ACC' و ABB' که یک زاویه حاده برابر دارند، متشابهند. همچنین دو مثلث قائم‌الزاویه DBB' و DCC' نیز متشابه می‌باشند. پس:

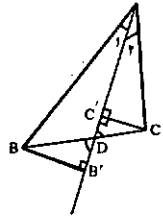
$$\frac{AB}{AC} = \frac{AB'}{AC'} = \frac{BB'}{CC'} \quad (1)$$

$$\frac{DB}{DC} = \frac{DB'}{DC'} = \frac{BB'}{CC'} \quad (2)$$

از مقایسه روابط (۱) و (۲) داریم:

$$\frac{AB'}{AC'} = \frac{DB'}{DC'} \text{ بنابراین } (ADB'C')$$

و یا می‌توان نوشت $\frac{AB'}{AC'} = \frac{DB'}{DC'}$ یک تقسیم توانقی است.



۲- معادله دسته صفحه گذرنده بر فصل مشترک دو صفحه را می‌نویسیم و از صفحات این دسته، معادله صفحه‌ای را به دست می‌آوریم، که از نقطه A بگذرد.

$$\alpha(x + 2y - z - 1) + \beta(2x - y + 3z + 2) = 0 \Rightarrow$$

$$\boxed{(\alpha + 2\beta)x + (2\alpha - \beta)y + (3\beta - \alpha)z - \alpha + 2\beta = 0}$$

معادله دسته صفحه

در معادله دسته صفحه $A(2, -1, 3) \Rightarrow 2\alpha + 2\beta - 2\alpha + \beta + 9\beta - 2\alpha - \alpha + 2\beta = 0$

در معادله دسته صفحه $\Rightarrow -4\alpha + 16\beta = 0 \Rightarrow \boxed{\alpha = 4\beta}$

$$6\beta x + 7\beta y - \beta z - 2\beta = 0 \Rightarrow \boxed{6x + 7y - z - 2 = 0}$$

معادله صفحه مطلوب

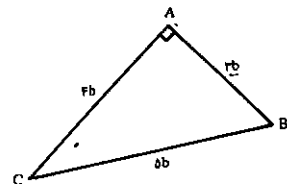
۳- نقطه تقاطع محور اصلی دو دایره را بیضی، جواب سؤال است.

$$\begin{cases} C: x^2 + y^2 - 2x - 1 = 0 \\ C': x^2 + y^2 + 2x - 1 = 0 \end{cases} \Rightarrow C - C' = 0 \Rightarrow \boxed{x = 0}$$

معادله محورها اصلی دو دایره

$$\begin{cases} 2x^2 + y^2 - 4x + 2y + 2 = 0 \\ x = 0 \end{cases}$$

می دهند.



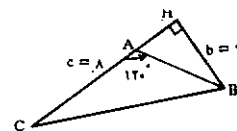
۲- می دانیم که اگر در مثلث ABC، اندازه زاویه A برابر ۱۲۰° باشد، داریم:

$$a^2 = b^2 + c^2 + bc$$

پس (۱):

$$a^2 = ۳۶ + ۶۴ + ۴۸ = ۱۴۸ \Rightarrow a = \sqrt{۱۴۸}$$

(۲) در مثلث CAH زاویه CAH = ۶۰° است لذا



$$CH = hc = c \sin 60 = ۶ \times \frac{\sqrt{۳}}{۲} = ۳\sqrt{۳}$$

$$S_{ABC} = \frac{1}{2} AB \cdot CH = \frac{1}{2} \times ۸ \times ۳\sqrt{۳} = ۱۲\sqrt{۳} \quad (۳)$$

-۳

$$S = x' + x'' = \frac{-b}{a}, P = x'x'' = \frac{c}{a}, K = ?$$

$$۲x'x'' = ۲x' - ۲x'' \Rightarrow ۲P = ۲(x' - x'') \Rightarrow x' - x'' = \frac{P}{۲}$$

$$x' - x'' = \frac{۳}{۲} \times \frac{۱}{۲} = ۱ \Rightarrow x' - x'' = ۱$$

از طرفی داریم:

$$|x' - x''| = \frac{\sqrt{\Delta}}{|a|} = \frac{\sqrt{K^2 - ۲۴}}{۳} = ۱$$

$$\Rightarrow \sqrt{K^2 - ۲۴} = ۳ \Rightarrow K^2 - ۲۴ = ۹$$

$$\Rightarrow K^2 = ۳۳ \Rightarrow K = \pm\sqrt{۳۳}$$

-۴ به ترتیب داریم:

$$x^2 + ۲x \cos \alpha + ۱ = x^2 + ۲x(1 - \sqrt{2} \sin \frac{\alpha}{۲}) + ۱$$

$$= x^2 + ۲x + ۱ - ۲\sqrt{2}x \sin \frac{\alpha}{۲}$$

$$(cos \alpha = 1 - \sqrt{2} \sin \frac{\alpha}{۲}) \quad (\text{می دانیم:})$$

$$= (x^2 + ۱) - ۲\sqrt{2}x \sin \frac{\alpha}{۲}$$

$$= (x^2 + ۱ - \sqrt{2}x \sin \frac{\alpha}{۲})(x^2 + ۱ + \sqrt{2}x \sin \frac{\alpha}{۲})$$

۵- معادله زیر را حل کنید:

$$۳^x + \sqrt{x^2 - ۲} = ۵ \times ۳^{-1 + \sqrt{x^2 - 2}} = ۶$$

فرض $۳^x + \sqrt{x^2 - 2} = y$ داریم:

$$y^2 - \frac{5}{۳}y - ۶ = 0 \Rightarrow y = ۴ \text{ یا } y = -\frac{۳}{۲}$$

بنابراین حل معادله مفروض به حل معادلات زیر تحویل می یابد:

$$۳^x + \sqrt{x^2 - 2} = ۴ \quad \text{یا} \quad ۳^x + \sqrt{x^2 - 2} = -\frac{۳}{۲}$$

از آنجا که همواره داریم: $۳^x + \sqrt{x^2 - 2} > ۰$ ، بنابراین معادله

دوم فاقد جواب است. و از معادله اول داریم:

$$۳^x + \sqrt{x^2 - 2} = ۴ \Rightarrow x + \sqrt{x^2 - 2} = ۴$$

$$\sqrt{x^2 - 2} = ۴ - x \Rightarrow x^2 - 2 = ۱۶ - ۸x + x^2 \Rightarrow x = \frac{۳}{۲}$$

-۶

$$\frac{1}{۲} \text{Arccos}(\frac{y}{r}) = \alpha \Rightarrow \text{Arc cos}(\frac{y}{r}) = ۲\alpha \Rightarrow \cos ۲\alpha = \frac{y}{r}$$

$$\text{tg}^2 \alpha = \frac{1 - \cos ۲\alpha}{1 + \cos ۲\alpha} = \frac{1 - \frac{y}{r}}{1 + \frac{y}{r}} = \frac{1}{5} \Rightarrow$$

$$\text{tg}^2 \alpha = \frac{1}{5} \Rightarrow \text{tg}^2 \left(\frac{1}{۲} \text{Arccos}(\frac{y}{r}) \right) = \frac{1}{5}$$

۷- به ترتیب داریم:

$$\cos^2 x \sin x = ۱ \Rightarrow \cos^2 x \sin x \cos x = ۱ \Rightarrow \cos^2 x \left(\frac{1}{2} \sin 2x \right) = ۱$$

$$\cos^2 x \sin 2x = ۲$$

از آنجا که طرف اول همواره عددی بین -۱ و ۱ یا مساوی آنان

می باشد و طرف دوم عدد ثابت ۲ است نتایج فوق به ازای هیچ

مقدار x ممکن نیست و در نتیجه معادله جواب ندارد.

حل مسائل ریاضیات سال سوم تجربی

۱- ابتدا مختصات مرکز ثقل مثلث را به دست می آوریم.

می دانیم که:

$$G \begin{cases} x_G = \frac{x_A + x_B + x_C}{۳} \\ y_G = \frac{y_A + y_B + y_C}{۳} \end{cases} \Rightarrow G \begin{cases} x = \frac{-۱ + ۲ + ۱}{۳} = ۰ \\ y = \frac{۲ + ۴ + ۰}{۳} = ۲ \end{cases}$$

حال بردار مکان نقطه G یعنی اندازه یاره مخت OG را محاسبه می کنیم.

$$OG = \sqrt{x^2 + y^2} = \sqrt{۰ + ۴} = \sqrt{۴} \Rightarrow \boxed{OG = \sqrt{۴}}$$

$$(۳\vec{AB}) \cdot (-۲\vec{AC}) = -۱۲(\vec{AB} \cdot \vec{AC}) \quad \text{داریم:}$$

$$|\vec{AB}| = ۶ \text{ و } |\vec{AC}| = ۸ \text{ و } \hat{BAC} = ۶۰^\circ$$

$$-۱۲(\vec{AB} \cdot \vec{AC}) =$$

$$-۱۲ \times |\vec{AB}| \times |\vec{AC}| \cos(\hat{AB} \text{ و } \hat{AC})$$

$$\Rightarrow -۱۲(\vec{AB} \cdot \vec{AC}) = -۱۲ \times ۶ \times ۸ \times \cos 60^\circ = -۲۸۸$$

۳- با شرایط داده شده حجم استوانه ۳ برابر حجم مخروط است.

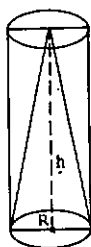
زیرا اگر شعاع قاعده مشترک استوانه و مخروط را R و ارتفاع مشترک آنها را h بنامیم داریم:

$$\text{حجم استوانه} = \pi R^2 h$$

$$\text{حجم مخروط} = \frac{1}{3} \pi R^2 h$$

$$\Rightarrow \text{حجم استوانه} = ۳ \times \text{حجم مخروط} \Rightarrow ۱۴۴\pi \text{ cm}^3$$

$$\Rightarrow ۱۴۴\pi = \pi(۴)^2 \times h \Rightarrow ۱۶\pi h = ۱۴۴\pi \Rightarrow \boxed{h = ۹ \text{ cm}}$$



راه دیگر: ارتفاع مخروط را محاسبه می کنیم. همان مقدار ارتفاع استوانه است.

$$\text{حجم مخروط} = \frac{1}{3} \times \pi(۴)^2 h \Rightarrow \text{ارتفاع} = \frac{۳ \times \text{حجم مخروط}}{\pi(۴)^2}$$

$$\Rightarrow \text{ارتفاع} = \frac{۱ \times \pi h}{\pi} \Rightarrow \boxed{h = ۹}$$

-۲

$$\lim_{x \rightarrow -y} \left(\frac{\sin x + \sin y}{\text{tg} x + \text{tg} y} \right) = \lim_{x \rightarrow -y} \left(\frac{y \sin \frac{x+y}{y} \cos \frac{x-y}{y}}{\frac{\sin(x+y)}{\cos x \cos y}} \right)$$

$$= \lim_{x \rightarrow -y} \left(\frac{y \sin \frac{x+y}{y} \cos \frac{x-y}{y}}{y \sin \frac{x+y}{y} \cos \frac{x-y}{y}} \right)$$

$$= \lim_{x \rightarrow -y} \left(\frac{\cos \frac{x-y}{y}}{\cos \frac{x+y}{y}} \cdot \cos x \cos y \right)$$

$$= \frac{\cos \frac{-y-y}{y}}{\cos \frac{-y+y}{y}} \cdot \cos(-y) \cos(y)$$

$$= \frac{\cos(-y)}{1} \cdot \cos(-y) \cos y = \cos^2 y$$

-۵

$$y = \sqrt{\sin x + \sqrt{\sin x + \sqrt{\dots}}}$$

طریقی را به توان ۲ می رسانیم:

$$y^2 = \sin x + \sqrt{\sin x + \sqrt{\sin x + \sqrt{\dots}}} \Rightarrow y^2 = \sin x + y$$

$$\Rightarrow y^2 - y = \sin x \Rightarrow ۲yy' - y' = \cos x$$

$$\Rightarrow y'(2y - 1) = \cos x \Rightarrow y' = \frac{\cos x}{2y - 1}$$

$$\Rightarrow y' = \frac{\cos x}{-1 + 2\sqrt{\sin x + \sqrt{\sin x + \sqrt{\dots}}}}$$

۶- نقطه تقاطع خط با محور طولها: $A(-۱, ۰)$ $\Rightarrow y+x = -۱$

$$f(x) = \frac{۳x^2}{5\sqrt{(۲x^2 + ۲)}} \Rightarrow m = f'(-۱)$$

$$= \text{tg} \alpha \Rightarrow \alpha = ۹۰^\circ$$

(خط بر محور طولها عمود است)

بنابراین خطی که عمود بر محور طولها است و از نقطه A می گذرد،

خط مطلوب است:

$$\text{معادله خط مماس} \quad x + ۱ = ۰ \quad \text{یا} \quad x = -۱$$

حل مسائل ریاضیات سال چهارم تجربی

۱- به ترتیب داریم:

$$f(x) = x^2 - 2x + 4 \Rightarrow f'(x) = 2x - 2 \Rightarrow f'(x) = 2x - 2 = 0$$

$$\Rightarrow 2x - 2 = 0 \Rightarrow x = 1 \text{ و } f(1) = 2 \Rightarrow A(1, 2)$$

(مختصات نقطه عطف)

$$m = f'(1) = -2 \Rightarrow m' = \frac{1}{-2}$$

(ضریب زاویه خط قائم)

۲- در توابع همگرافیک با ضابطه عمومی $y = \frac{ax+b}{cx+d}$ (c ≠ 0)

خط $cx + d = 0$ مجانب قائم و خط $y = \frac{a}{c}$ مجانب افقی است، پس

داریم:

$$\begin{cases} x+n=0 \\ x=-2 \end{cases} \Rightarrow -2+n=0 \Rightarrow \boxed{n=2}$$

از طرفی چون منحنی محور x ها را در $x = -1$ قطع می‌کند پس

نقطه $A(-1, 0)$ متعلق به منحنی است:

$$y = \frac{nx+m}{x+n} \Rightarrow \frac{y(-1)+m}{(-1)+2} = 0 \Rightarrow m-2=0 \Rightarrow \boxed{m=2}$$

۳- مختصات مرکز تقارن تابع همگرافیک با ضابطه عمومی

$$I \begin{pmatrix} -\frac{d}{c} \\ \frac{a}{c} \end{pmatrix} \quad y = \frac{ax+b}{cx+d} \text{ چنین است:}$$

پس داریم:

$$y = \frac{x \sin^2 t - 2}{x - \cos^2 t} \Rightarrow I \begin{cases} x = \cos^2 t \\ y = \sin^2 t \end{cases} \Rightarrow x + y = 1$$

(مادل‌سکان)

۴- در حالت عمومی $F(\alpha, \beta + c)$ و $F(\alpha, \beta - c)$ مختصات

کانونهای بیضی به معادله $\frac{(x-\alpha)^2}{b^2} + \frac{(y-\beta)^2}{a^2} = 1$ می‌باشند.

همچنین می‌دانیم:

$$b^2 + c^2 = a^2 \text{ و } b = \frac{a}{2}$$

بنابراین می‌توان نوشت:

$$\left(\frac{a}{2}\right)^2 + c^2 = a^2 \Rightarrow$$

$$c^2 = a^2 - \frac{a^2}{4} = \frac{3a^2}{4} \Rightarrow c = \frac{a\sqrt{3}}{2}$$

$$\Rightarrow \begin{cases} a = 2\sqrt{5} \\ b = \sqrt{5} \end{cases}$$

$$\Rightarrow \frac{(x-2)^2}{5} + \frac{(y-2)^2}{20} = 1$$

۵- ابتدا ضابطه تابع را ساده می‌کنیم:

$$f(x) = \frac{2x}{\sqrt{2x-1}} = \frac{2x-1+1}{\sqrt{2x-1}}$$

$$= \frac{2x-1}{\sqrt{2x-1}} + \frac{1}{\sqrt{2x-1}}$$

$$\Rightarrow f(x) = \sqrt{2x-1} + \frac{1}{\sqrt{2x-1}} \Rightarrow$$

$$f(x) = (2x-1)^{\frac{1}{2}} + (2x-1)^{-\frac{1}{2}} \Rightarrow$$

$$f(x) = \frac{1}{2} (2x-1)^{\frac{3}{2}} + \frac{1}{2} (2x-1)^{-\frac{3}{2}}$$

$$f(x) = \frac{1}{4} \sqrt{(2x-1)^3} + \frac{1}{4} \sqrt{2x-1}$$

۶- ضابطه تابع را می‌توان به شکل زیر نوشت:

$$f(x) = \cos x (2 \operatorname{tg} x - \sqrt{3})$$

$$\Rightarrow f(x) = 2 \sin x - \sqrt{3} \cos x \Rightarrow y = 0 \Rightarrow$$

$$2 \sin x - \sqrt{3} \cos x = 0 \Rightarrow \operatorname{tg} x$$

$$= \frac{\sqrt{3}}{2} \Rightarrow x = k\pi + \frac{\pi}{6}$$

طولهای نقاط برخورد منحنی با محور x ها در فاصله $[0, 2]$ چنین

است:

$$x = \frac{\pi}{6} \text{ و } x = \frac{5\pi}{6}$$

$$S_{\frac{\pi}{6}}^{\frac{5\pi}{6}} = \int_{\frac{\pi}{6}}^{\frac{5\pi}{6}} (2 \sin x - \sqrt{3} \cos x) dx =$$

$$(-2 \cos x - \sqrt{3} \sin x) \Big|_{\frac{\pi}{6}}^{\frac{5\pi}{6}}$$

$$= \left[-2 \cos \frac{5\pi}{6} - \sqrt{3} \sin \frac{5\pi}{6} \right] - \left[-2 \cos \frac{\pi}{6} - \sqrt{3} \sin \frac{\pi}{6} \right]$$

$$= -2 \left[\frac{-\sqrt{3}}{2} \right] - \sqrt{3} \left[\frac{1}{2} \right] - \left[-2 \left[\frac{\sqrt{3}}{2} \right] - \sqrt{3} \left[\frac{1}{2} \right] \right]$$

$$= \frac{2\sqrt{3}}{2} + \frac{\sqrt{3}}{2} + \frac{2\sqrt{3}}{2} + \frac{\sqrt{3}}{2} = \frac{4\sqrt{3}}{2} = 2\sqrt{3}$$

$$\Rightarrow S_{\frac{\pi}{6}}^{\frac{5\pi}{6}} = 2\sqrt{3} \text{ (واحد سطح)}$$

$$\sin^2 70^\circ = \sin^2(90^\circ - 20^\circ) = \cos^2 20^\circ$$

لذا داریم:

$$\text{طرف اول} = 4(\sin^2 70^\circ + \cos^2 40^\circ) = 4(\cos^2 20^\circ + \cos^2 40^\circ)$$

$$= 4(\cos^2 20^\circ + \cos^2 40^\circ)(\cos^2 20^\circ + \cos^2 40^\circ - \cos^2 20^\circ \cos^2 40^\circ)$$

$$= 4(\cos^2 20^\circ \cos^2 40^\circ) \left(\frac{1 + \cos^2 40^\circ}{2} + \frac{1 + \cos^2 20^\circ}{2} \right)$$

$$- \frac{1}{4}(\cos^2 60^\circ + \cos^2 20^\circ)$$

$$= 4\sqrt{3} \cos 10^\circ \left[\frac{2 + \cos^2 40^\circ + \cos^2 20^\circ}{2} - \frac{1 + \cos^2 20^\circ}{2} \right]$$

$$= 4\sqrt{3} \cos 10^\circ \left[\frac{2 + \cos^2 40^\circ + \cos^2 20^\circ - 1 - \cos^2 20^\circ}{2} \right]$$

$$= 4\sqrt{3} \cos 10^\circ \left[\frac{1 + \cos^2 40^\circ - \cos^2 20^\circ}{2} \right]$$

$$= 4\sqrt{3} \cos 10^\circ \left[\frac{2}{2} \right] = 2\sqrt{3} \cos 10^\circ$$

$$\sec^2 \left(\frac{\pi}{4} - x \right) + \sin \left(2x - \frac{\pi}{4} \right) = 2$$

$$\frac{1}{\cos \left(\frac{\pi}{4} - 2x \right)} + \sin \left(2x - \frac{\pi}{4} \right) = 2$$

$$\Rightarrow \frac{1}{\sin \left(\frac{\pi}{4} - 2x \right)} + \sin \left(2x - \frac{\pi}{4} \right) = 2$$

$$\Rightarrow \frac{1}{\sin \left(-\frac{\pi}{4} + 2x \right)} + \sin \left(2x - \frac{\pi}{4} \right) = 2 \Rightarrow$$

$$\sin \left(2x - \frac{\pi}{4} \right) = A \text{ و } \frac{1}{A} + A = 2$$

$$\Rightarrow A^2 - 2A + 1 = 0$$

$$\Rightarrow (A-1)^2 = 0 \Rightarrow A = 1$$

$$\Rightarrow \sin \left(2x - \frac{\pi}{4} \right) = 1$$

$$\Rightarrow 2x - \frac{\pi}{4} = 2k\pi + \frac{\pi}{2}$$

$$2x = 2k\pi + \frac{\pi}{2} + \frac{\pi}{4} \Rightarrow 2x = 2k\pi + \frac{3\pi}{4}$$

$$\Rightarrow x = \frac{2k\pi + \frac{3\pi}{4}}{2}$$

-۷

-۸

$$P = \cos \frac{\pi}{8} \cos \frac{\pi}{8} \cos \frac{\pi}{8}$$

طرفین را در $\sin \frac{\pi}{8}$ ضرب می‌کنیم:

$$P \sin \frac{\pi}{8} = \cos \frac{\pi}{8} \sin \frac{\pi}{8} \cos \frac{\pi}{8} \cos \frac{\pi}{8}$$

$$= \frac{1}{2} \sin \frac{\pi}{4} \cos \frac{\pi}{8} \cos \frac{\pi}{8}$$

$$= \frac{1}{2} \sin \frac{\pi}{4} \cos \frac{\pi}{8} \cos \frac{\pi}{8}$$

$$= \frac{1}{2} \sin \frac{\pi}{4}$$

$$= \frac{1}{2} \times \frac{1}{2} = \frac{1}{4} \Rightarrow P = \frac{1}{16 \sin \frac{\pi}{8}}$$

۹- طرف اول تساوی را در $\sin \alpha$ ضرب و بر آن تقسیم می‌کنیم:

$$\text{طرف اول} = \frac{1 \sin \alpha \cos \alpha \cos \alpha \cos \alpha \cos \alpha}{\sin \alpha}$$

$$= \frac{\sin \alpha \cos \alpha \cos \alpha \cos \alpha}{\sin \alpha}$$

$$= \frac{\sin \alpha \cos \alpha \cos \alpha}{\sin \alpha}$$

$$= \frac{\sin \alpha \cos \alpha}{\sin \alpha} = \cos \alpha$$

$$= \frac{\sin \left(\pi - \frac{\pi}{4} \right) \cos \frac{\pi}{4}}{\sin \alpha} = \frac{\sin \frac{3\pi}{4} \times \frac{1}{\sqrt{2}}}{\sin \alpha}$$

$$= \frac{\frac{1}{\sqrt{2}}}{\sin \alpha} = \frac{1}{\sqrt{2} \sin \alpha}$$

$$\operatorname{tg}(x' + x'') = \operatorname{tg}(\operatorname{Arc} \operatorname{tg}(-\lambda)) = -\lambda$$

$$\frac{\operatorname{tg}x' + \operatorname{tg}x''}{1 - \operatorname{tg}x' \operatorname{tg}x''} = \frac{-\lambda}{1 - \frac{\lambda}{\lambda}} = \frac{-\lambda}{\lambda - 1} = \frac{-\lambda}{\lambda - 1} = \lambda m = -\lambda$$

$$\Rightarrow \lambda m = -\lambda \Rightarrow m = \frac{-\lambda}{\lambda} = -1 \Rightarrow \boxed{m = -1}$$

$$\Rightarrow m^2 \geq 12 \Rightarrow \begin{cases} m \geq 2\sqrt{3} \\ m \leq -2\sqrt{3} \end{cases}$$

بنابراین اگر $m \geq 2\sqrt{3}$ یا $m \leq -2\sqrt{3}$ باشد، معادله دارای جواب است:

$$x' + x'' = \operatorname{Arc} \operatorname{tg}(-\lambda) \quad \text{و} \quad \begin{cases} \operatorname{tg}x' + \operatorname{tg}x'' = \frac{-\lambda}{\lambda} \\ \operatorname{tg}x' \operatorname{tg}x'' = \frac{\lambda}{\lambda} \end{cases}$$

$\lambda = 1$ الف) به ترتیب می‌توان نوشت:

$$(m + 1)\sin^2 x + m \sin 2x + (m + 2)\cos^2 x = m - 2$$

$$(m + 1)\sin^2 x + 2m \sin x \cos x + (m + 2)\cos^2 x = m - 2$$

طرفین معادله را بر $\cos^2 x$ تقسیم می‌کنیم:

$$(m + 1)\operatorname{tg}^2 x + 2m \operatorname{tg} x + (m + 2) = (m - 2)(1 + \operatorname{tg}^2 x)$$

$$\Rightarrow 2 \operatorname{tg}^2 x + 2m \operatorname{tg} x + 4 = 0 \Rightarrow \Delta' = m^2 - 12 \geq 0$$



جوایمای تفریح اندیشه

که نشان می‌دهد که تعداد کل جوایمهای واقع در کشور مربع کامل است.

فرض می‌کنیم: $n = R - B$ ، بنابراین: $n^2 = R + B$. در این صورت: $R = (n^2 + n) / 2$.

از آن جا که $1991 \leq R + B \leq 1991$ ، باید داشته باشیم $1991 < |n| \leq 1991$. به این ترتیب ملاحظه می‌کنیم که بیشترین مقدار ممکن R هنگامی رخ می‌دهد که $n = 44$ ، و به ازای مقدار R برابر ۹۹۰ است.

جواب ۵

در مورد هر یک از جزئیات فوق بیش از یک گواه نمی‌تواند سخن درست گفته باشد، یا باید توصیفی که هیچ گواهی راجع به آن گواهی درست نداده موجود باشد. بنابراین سارق، کلاه بر سر نداشته است و رئیس بانک در این مورد راست گفته و در موارد دیگر به خطا بوده است، بنابراین سارق مورد بحث جلیقه نداشته، بلند نبوده و چشمان خاکستری نداشته است. تنها اطلاعی که نگاهبان می‌تواند در مورد آن سخن باشد چشمان آبی است. مورد صحیح مسؤول گیشه این است که سارق کوتاه بوده، و از آن متشی این که بارانی به تن داشته است.

بنابراین، سارق چشم آبی و کوتاه بوده، بارانی به تن داشته، و سربره بوده است.

فرض می‌کنیم: $x = AP = A'P'$ و $y = QA = QA'$. در این صورت:

$$\frac{A'P'}{QA'} = \frac{A'B}{QC} = \frac{PB}{A'C}$$

یا: $\frac{x}{y} = \frac{1}{\lambda - y} = \frac{\lambda - x}{\lambda}$ که از حل آن $x = \lambda / 5$ و $y = \lambda / 4$ به دست می‌آید. بعد قانون کسینوسها را در $\triangle PAQ$ به کار می‌بریم:

$$PQ^2 = x^2 + y^2 - 2xy \cos 60^\circ = \frac{\lambda^2}{25} + \frac{\lambda^2}{16} - \frac{\lambda^2}{20} = \frac{\lambda^2}{400}$$

که به $PQ = (\frac{\lambda}{20})\sqrt{21}$ منجر می‌شود.

جواب ۲

۹۹۰. فرض می‌کنیم R و B ، به ترتیب، تعداد جوایمهای قرمز و آبی واقع در کشور را نشان دهند. از آن جا که احتمال به دست آوردن یک جفت جوایم ناچیز یک دوم است، داریم:

$$\frac{RB}{(R+B)^2} = \frac{1}{2}$$

برآمد فوق منجر به:

$$(R+B)(R+B-1) = 2RB$$

می‌شود، که می‌تواند به صورت $(R+B)^2 = R+B$ نوشته شود،

جواب ۱

۱. ۸۱، زیر ۱۱، ۱۲، ۱۳، و ۱۵ بر پنج وجه آن ظاهر می‌شوند، و عدد واقع بر وجه باقی مانده باید ۱۰ یا ۱۶ باشد. در نمونه اول، ۱۰ باید بر وجه مقابل وجه ۱۵ باشد، که غیر ممکن است زیرا $25 = 10 + 15$ اجبار می‌کند که ۱۴ و ۱۱ بر وجه‌های مقابل باشند.

بنابراین، ۱۶ مقابل ۱۱، ۱۲ مقابل ۱۵، ۱۴ مقابل ۱۳ است. مجموع هر جفت وجه مقابل برابر ۲۷، و مجموع مطلوب $3 \times 27 = 81$ است.

جواب ۲

۳۶. منشور اصلی دارای ۱۲ یال است. هر گوشه بریده شده سه یال اضافی به دست می‌دهد، بنابراین شکل جدید مجموعاً $36 + (8 \times 3) = 120$ یال دارد.

جواب ۳

$\frac{\sqrt{21}}{20}$. از آن جا که: $\angle BA'P + \angle A'PB + 60^\circ = 180^\circ = \angle BA'P + 60^\circ + \angle QA'C$ نتیجه می‌شود که $\angle A'PB = \angle QA'C$ و به این ترتیب: $\triangle A'PB \sim \triangle QA'C$

هزیرانی که مایل به اشتراک ۲ شماره مجله برهان هستند با واریز مبلغ ۷۰۰ ریال به حساب جاری ۷۹۱۰/۵ بانک ملت شعبه گرمخان زند به نام مشترکین انتشارات مدرسه، اصل فیش واریزی را همراه با فرم تکمیل شده به آدرس دفتر مرکزی انتشارات مدرسه واقع در خیابان ایرانشهر شمالی، کوچه بهرام چوبینی پلاک ۱۷ ارسال دارند.

لطفاً از ارسال وجه نقد جداً خودداری فرمایید.

در صورت مشترک بودن کد اشتراک خود را حتماً ذکر فرمایید:

۱. نام خانوادگی ۲. نام ۳. سال تولد ۴. دختر پسر

۵. پایه و رشته تحصیلی

۶. نشانی: استان شهرستان خیابان کوچه پلاک

۷. کد پستی ۸. مبلغ واریزی ۹. شماره فیش ۱۰. تاریخ فیش

فرم اشتراک

In the name of God

Borhān

VOL. 4. No. 1
Serial numbers ; 11
Autumn 1994

● Executive Editor H.R. Amiri

● Editorial Board

● H.R. Amiri

● S.M.R Hashemy Moosavi

● A. Ghandehāri

● M.H. Rostami

● G.R. Yassipour

● Advisors(M.Ghamsari; P.Shahryāri)

Borhan is a mathematics journal published four times a year by Madrasse Publications. Each issue includes articles related to mathematics and its various topics specifically those concerning highschool education in Iran.

All communications should be sent to the editor at the following address:

Madrasse Publication - No. 268 , Iranshahr - e - Shomali Ave. Tehran , Iran Post code: 15875

Contents:


1. The first word
 2. You, too, can be successful in your mathematics lessons
 3. Quadratic equation
 4. Instruction of translation of mathematics articles
 5. A brief history of mathematics magazin in Iran
 6. Quantifications laws
 7. Cartesian product operation between two sets
 8. Solving of a fundamental problem of mathematics by elementary methods
 9. Some reports of 25th Annual Iranian Mathematics Conference (cont.)
 10. Algebraic expression sign and inequalities and simultaneous equations
 11. Short articles of authentic mathematics journals
 12. Locus
 13. Orthic triangle
 14. Introduction to some books
 15. Answers to letters
 16. Solutions of contest problems (No. 9)
 17. Contest problems
 18. Problems
 19. Solutions and hints of problems
- Parviz Shahriari
□ Ahmad Ghandehari
□ Hamid Reza Amiri
□ G. R. Yassipour
□ Hamid Reza Amiri
□ Gholam Reza Yassipour
□ M. R. Hashemi Moosavi
□ G. R. Yassipour

پیکار جویی!


از مجله :

MICROMATH


Summer 1992



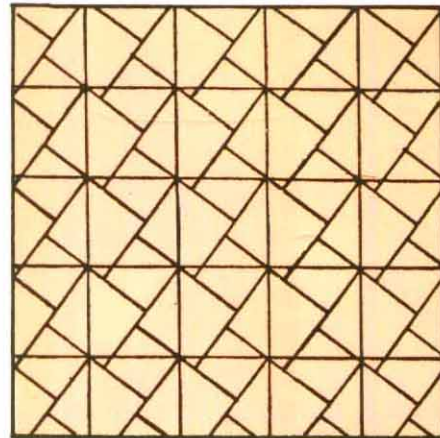
با مربعها می توان شکلهای جالبی ساخت ...




مربعها




کاشیکاری فوق از هفت مربع متفاوت استفاده کرده است. آیا می توانید با هشت مربع چنین کنید؟



کاشیکاری فوق، اختراع نیریزی حدود ۹۰۰ میلادی، می تواند در اثبات قضیه فیثاغورس به کار رود.



آیا می توانید با استفاده از شکلهای فوق آنها را بازسازی کنید؟
چه نمونه های مربعی دیگری را می توانید کشف کنید؟ در مورد چند ضلعیهای دیگر چه؟



طرح فوق سه مربع مختلف را به کار برده است. از کاشیکاریهایی چنین چند نوع موجودند؟